



図を使って  
考えよう！

● 買った数は何こ？



日にち：            月            日

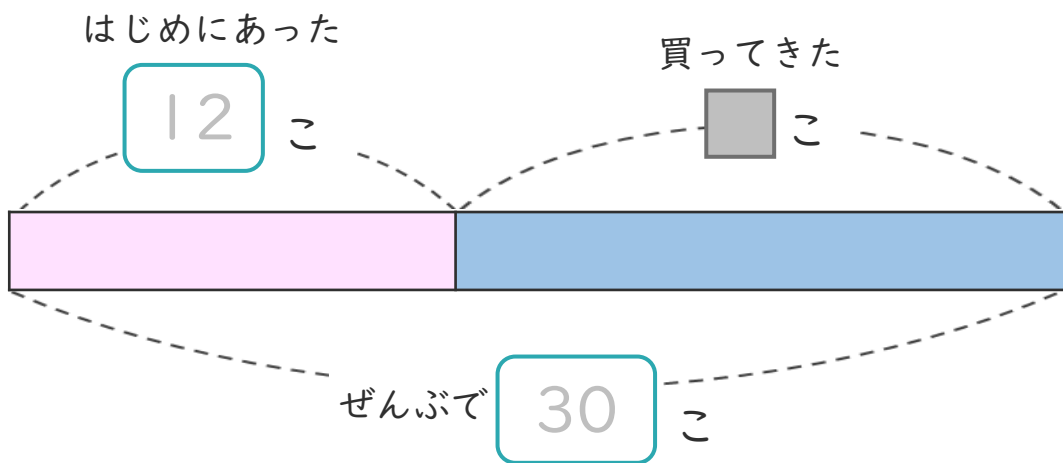
名まえ \_\_\_\_\_

・ たまごが 12こ あります。

何こか 買って きたので、ぜんぶで 30こ になりました。

(うすい字はなぞりましょう。)

① 下の 図の □ に あう 数 を 書 け ます。



② 買った たまご は 何こ ですか。

しき と 答え を 書 け ます。

しき  $\left( 30 - 12 = \right)$

答え  $\left( \quad \text{こ} \right)$

<筆算スペース>





図を使って  
考えよう！

● 買った数は何こ？



日にち：            月            日

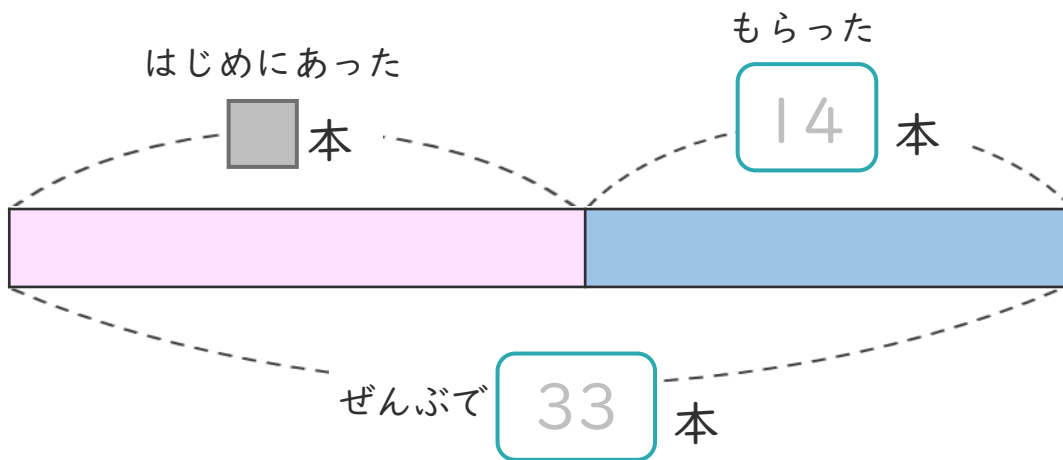
名まえ \_\_\_\_\_

・ 花を 何本か もっていました。

友だちから14本 もらったので、ぜんぶで 33本 になりました。

(うすい字はなぞりましょう。)

① 下の図の □ にあう 数を書きましょう。




② 花ははじめに何本 ありましたか。

しきと 答えを書きましょう。

しき  $( 33 - 14 = )$

答え  $( )$

<筆算スペース>





図を使って  
考えよう！

● 買った数は何こ？



日にち：            月            日

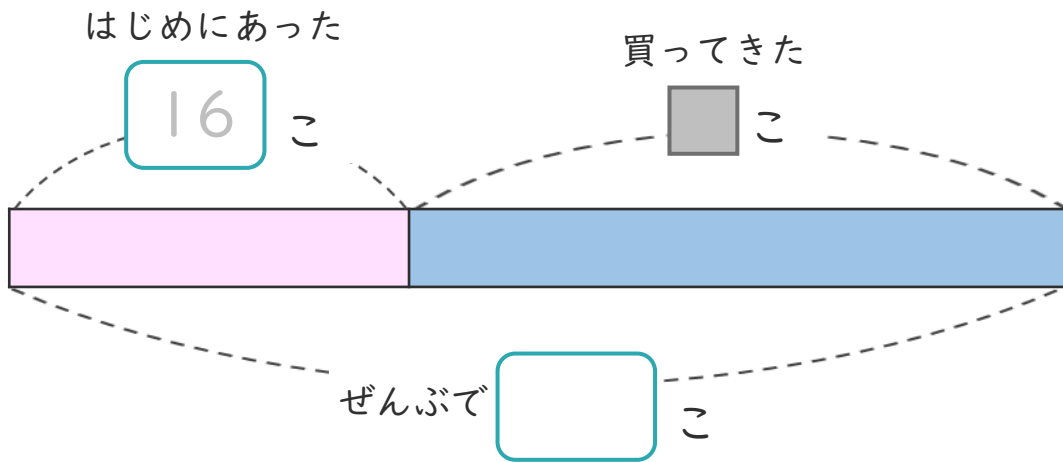
名まえ \_\_\_\_\_

・ たまごが 16こ あります。

何こか 買って きたので、ぜんぶで 42こ になりました。

(うすい字はなぞりましょう。)

① 下の 図の □ に あう 数 を 書 け ます。




② 買って きた たまご は 何 こ ですか。

しき と 答え を 書 け ます。

しき (            -            =            )

答え (            )

<筆算スペース>






























図を使って  
考えよう！

15

● 買った数は何こ？

めざせ100点!

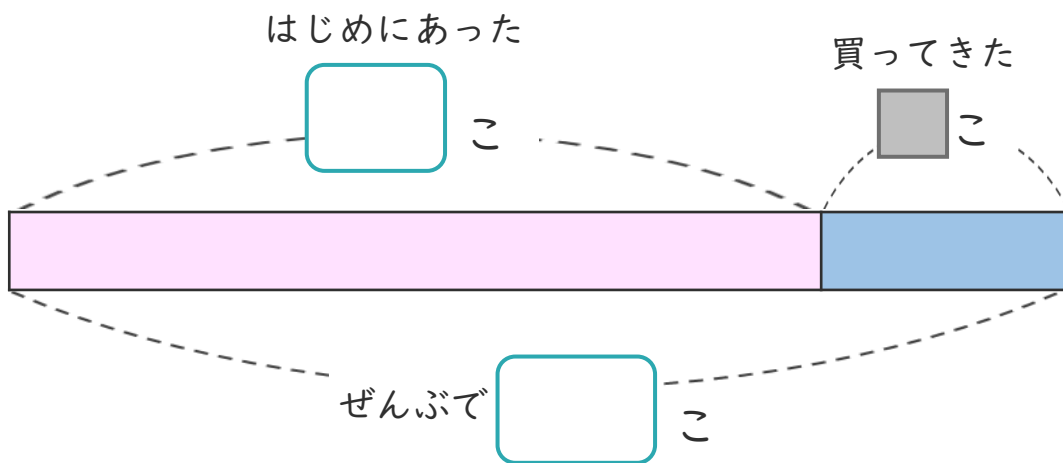


名まえ \_\_\_\_\_

・ゼリーが18こあります。

何こか買ってきたので、ぜんぶで24こになりました。

① 下の図の□にあう数を書きましょう。(各25点)




② 買ってきたゼリーは何こですか。

しきと答えを書きましょう。(各25点)

しき ( )

答え ( )

<筆算スペース>









図を使って  
考えよう！

● 買った数は何こ？



日にち：            月            日

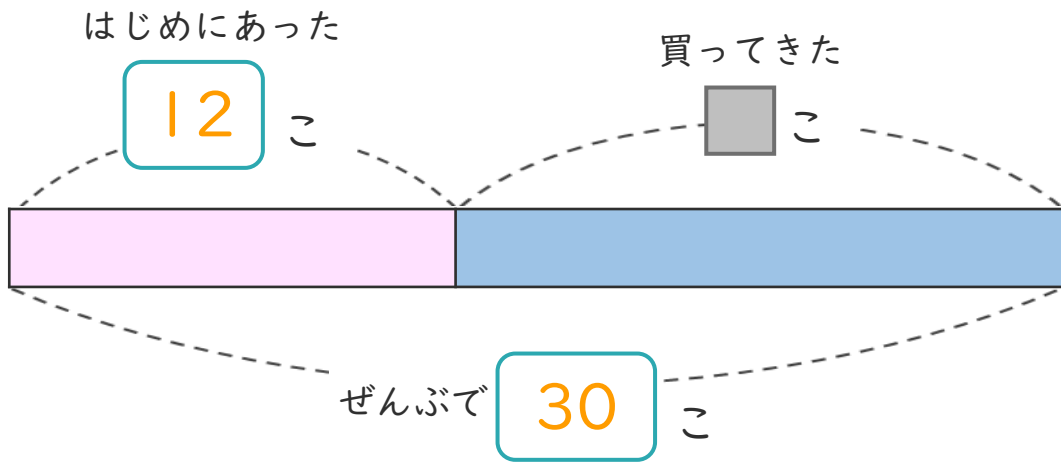
名まえ \_\_\_\_\_

・ たまごが 12こ あります。

何こか 買って きたので、ぜんぶで 30こ になりました。

(うすい字はなぞりましょう。)

① 下の 図の □ に あう 数 を 書 け ます。




② 買って きた たまご は 何 こ ですか。

しき と 答え を 書 け ます。

しき  $\left( 30 - 12 = 18 \right)$

答え  $\left( 18 \text{こ} \right)$

<筆算スペース>





図を使って  
考えよう！

● 買った数は何こ？



日にち：            月            日

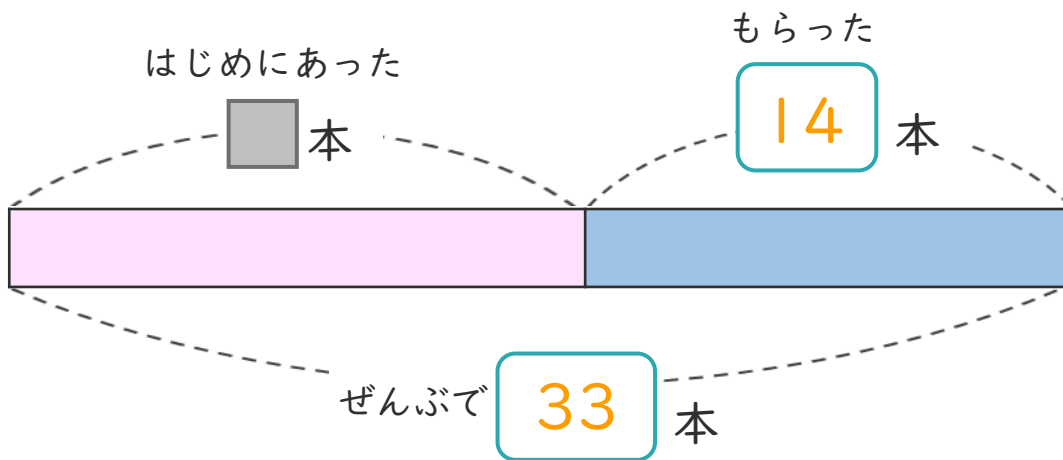
名まえ \_\_\_\_\_

・ 花を何本かもっていました。

友だちから14本もらったので、ぜんぶで33本になりました。

(うすい字はなぞりましょう。)

① 下の図の □ にあう数を書きましょう。




② 花ははじめに何本ありましたか。

しきと答えを書きましょう。

しき  $\left( 33 - 14 = 19 \right)$

答え  $\left( 19 \text{本} \right)$

<筆算スペース>





図を使って  
考えよう！

● 買った数は何こ？



日にち：            月            日

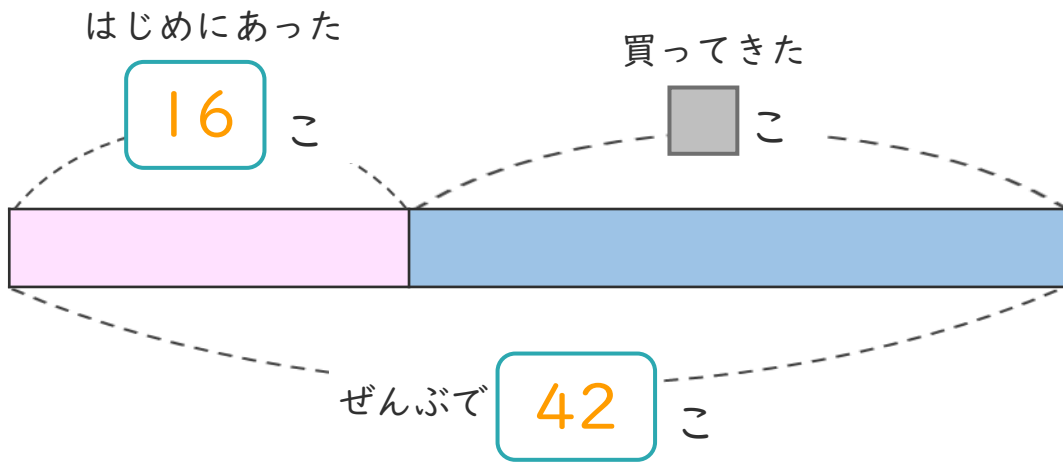
名まえ \_\_\_\_\_

・ たまごが 16こ あります。

何こか 買って きたので、ぜんぶで 42こ になりました。

(うすい字はなぞりましょう。)

① 下の 図の □ に あう 数 を 書 け ます。




② 買った たまご は 何こ ですか。

しき と 答え を 書 け ます。

しき  $\left( 42 - 16 = 26 \right)$

答え  $\left( 26 \text{こ} \right)$

<筆算スペース>





図を使って  
考えよう！

● 買ってきた数は何こ？



日にち：            月            日

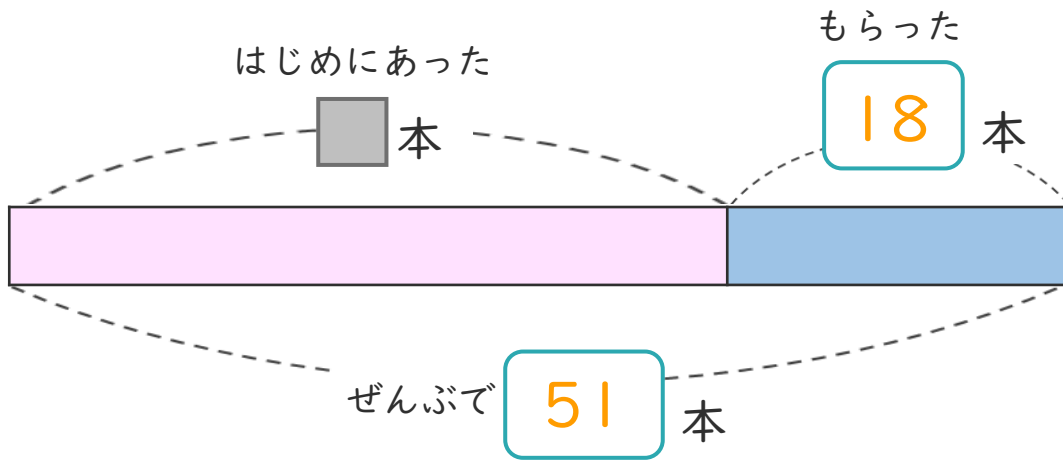
名まえ \_\_\_\_\_

・ 花を 何本か もって いました。

友だちから 18本 もらったので、ぜんぶで 51本 になりました。

(うすい字はなぞりましょう。)

① 下の図の □ にあう 数を書きましょう。




② 花ははじめに何本 ありましたか。

しきと 答えを書きましょう。

しき  $\left( 51 - 18 = 33 \right)$

答え  $\left( 33 \text{本} \right)$

<筆算スペース>





図を使って  
考えよう！

● 買った数は何こ？



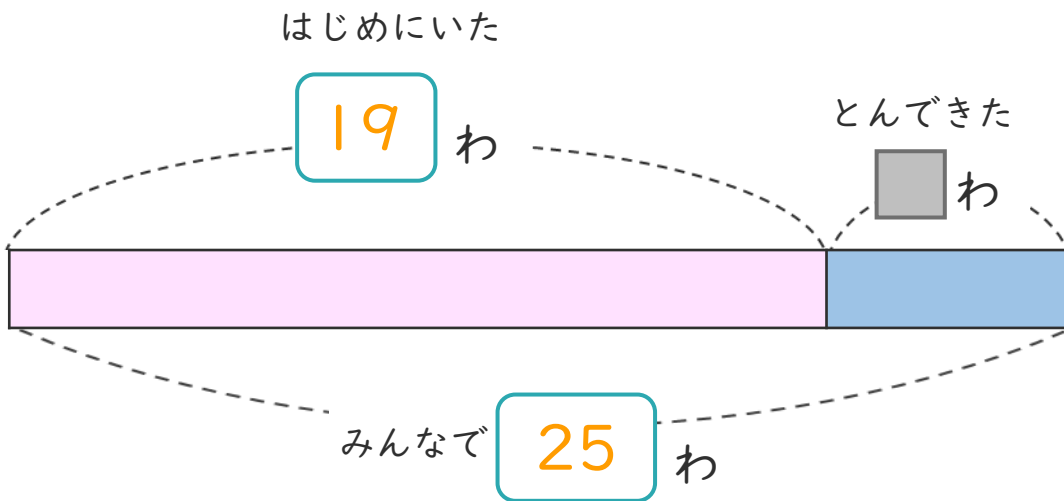
日にち：            月            日

名まえ \_\_\_\_\_

・ はじめにはとが 19わ いました。

そこへ 何わか とんで きたので、みんなで 25わ になりました。  
(うすい字はなぞりましょう。)

① 下の図の □ にあう 数を書きましょう。




② とんで きた はとは 何わ ですか。

しきと 答えを書きましょう。

しき  $\left( 25 - 19 = 6 \right)$

答え  $\left( 6\text{わ} \right)$

<筆算スペース>





図を使って  
考えよう！

● 買った数は何こ？



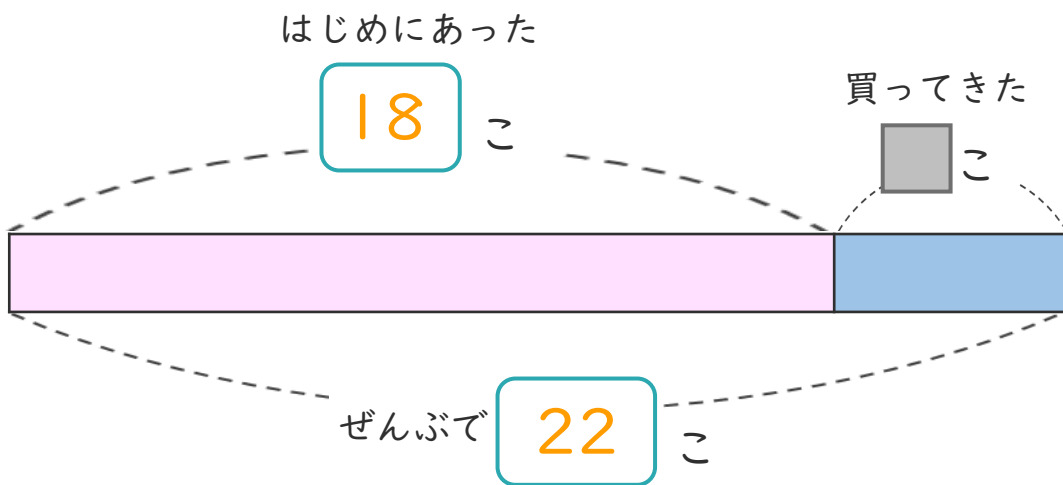
日にち：            月            日

名まえ \_\_\_\_\_

・ ゼリーが 18こ あります。

何こか 買って きたので、ぜんぶで 22こ になりました。

① 下の 図の □ に あう 数 を 書 け ます。




② 買って きた ゼリー は 何こ ですか。

しき と 答 え を 書 け ます。

しき  $\left( 22 - 18 = 4 \right)$

答 え  $\left( 4こ \right)$

<筆算スペース>







図を使って  
考えよう！

● 買った数は何こ？



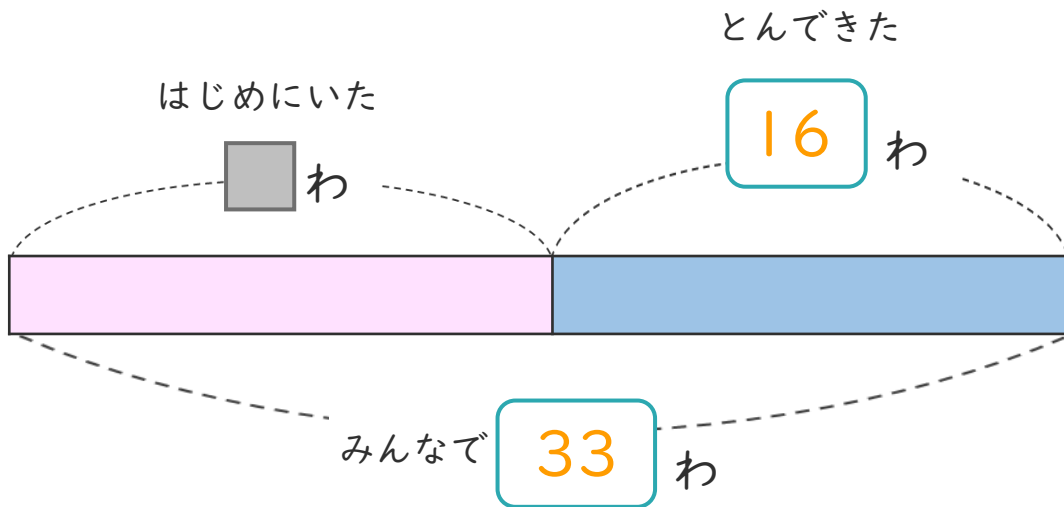
日にち：            月            日

名まえ \_\_\_\_\_

・ はとが何わかいました。

そこへ16わとんできたので、みんなで33わになりました。

① 下の図の□にあう数を書きましょう。



② はじめにいた はとは何わですか。

しきと 答えを書きましょう。

しき  $\left( 33 - 16 = 17 \right)$

答え  $\left( 17 \text{ わ} \right)$

<筆算スペース>









図を使って  
考えよう！

● 買った数は何こ？

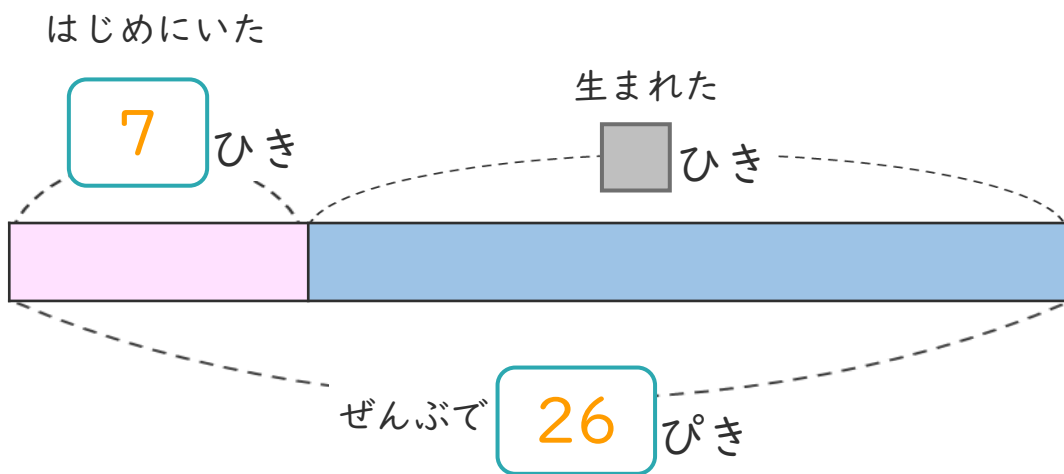


日にち：            月            日

名まえ \_\_\_\_\_

- ・ 水そうに めだかが 7ひき いました。  
何ひきか 生まれたので、ぜんぶで 26ひき になりました。

① 下の 図の □ に あう 数 を 書 け ます 。




② 生まれた めだか は 何ひき ですか。

しき と 答え を 書 け ます 。

しき  $\left( 26 - 7 = 19 \right)$

答え  $\left( 19 \text{ひき} \right)$

< 筆算スペース >





図を使って  
考えよう！

● 買った数は何こ？



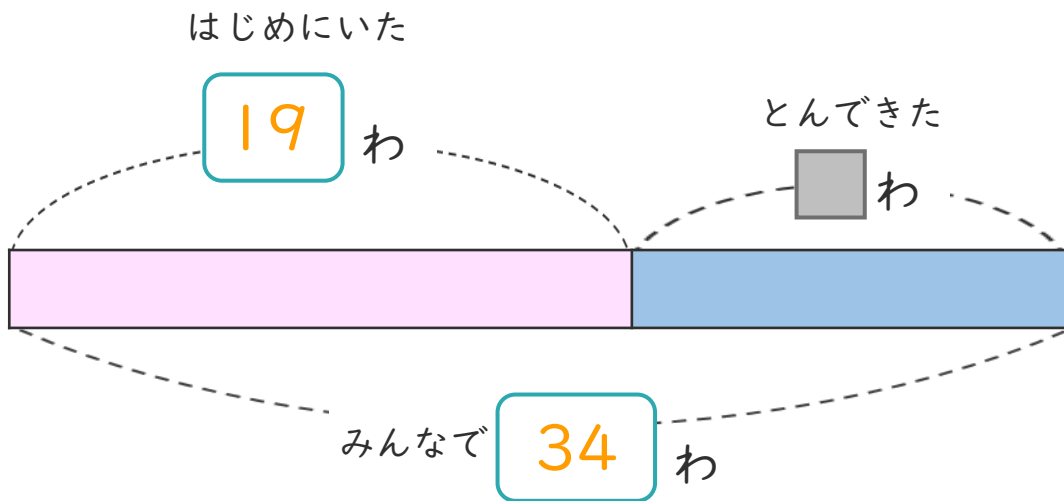
日にち：            月            日

名まえ \_\_\_\_\_

・ はじめにはとが19わ いました。

そこへ 何わか とんで きたので、みんなで 34わ になりました。

① 下の 図の □ に あう 数 を 書 け ます。



② とんで きた は とは 何 わ ですか。

しき と 答 え を 書 け ます。

しき  $\left( 34 - 19 = 15 \right)$

答 え  $\left( 15 \text{ わ} \right)$

< 筆算スペース >





図を使って  
考えよう！

● 買った数は何こ？

12

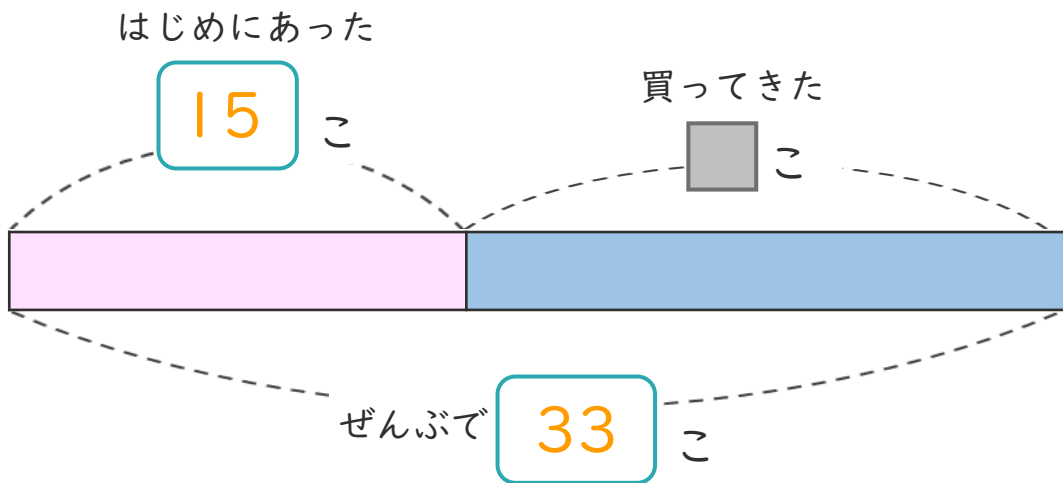
日にち： 月 日

名まえ \_\_\_\_\_

・ ゼリーが 15こ あります。

何こか 買って きたので、ぜんぶで 33こ になりました。

① 下の 図の □ に あう 数 を 書 け ます。



② 買って きた ゼリー は 何こ ですか。

しき と 答え を 書 け ます。

しき  $\left( 33 - 15 = 18 \right)$

答え  $\left( 18 \text{こ} \right)$

<筆算スペース>







図を使って  
考えよう！

● 買った数は何こ？

14

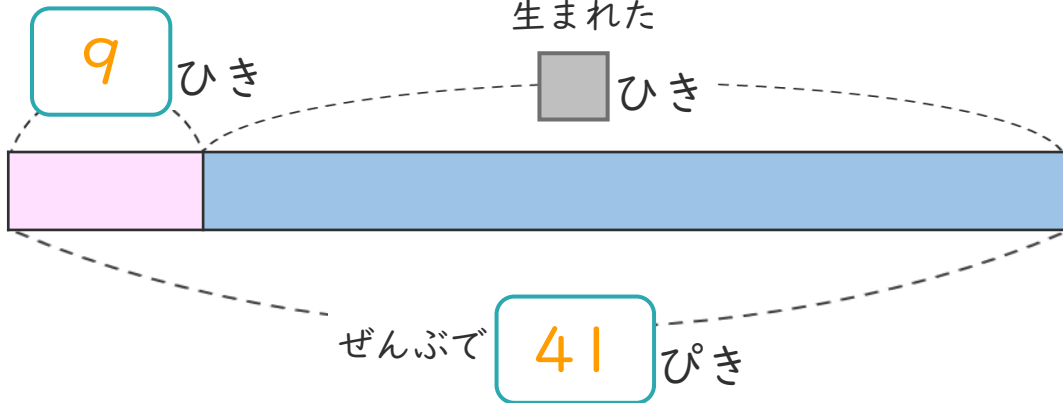
日にち：      月      日

名まえ \_\_\_\_\_

- ・ 水そうに めだかが 9ひき いました。  
何ひきか 生まれたので、ぜんぶで 41ひき になりました。

① 下の図の □ にあう 数を書きましょう。

はじめにいた




② 生まれた めだかは 何ひきですか。

しきと 答えを書きましょう。

しき  $\left( 41 - 9 = 32 \right)$

答え  $\left( 32 \text{ひき} \right)$

<筆算スペース>






図を使って  
考えよう！

● 買った数は何こ？

15

めざせ100点!

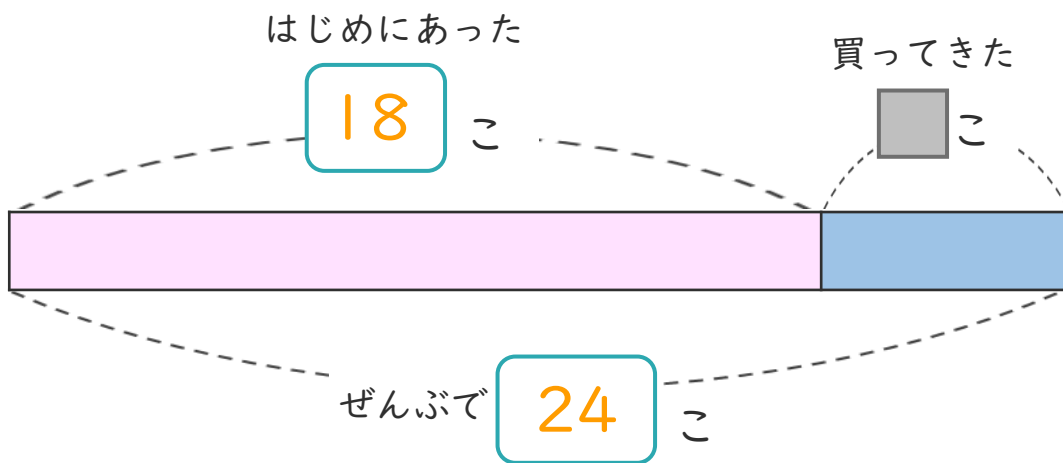


名まえ

・ゼリーが18こあります。

何こか買ってきたので、ぜんぶで24こになりました。

① 下の図の□にあう数を書きましょう。(各25点)




② 買ってきたゼリーは何こですか。

しきと答えを書きましょう。(各25点)

しき  $\left( 24 - 18 = 6 \right)$

答え  $\left( 6こ \right)$

<筆算スペース>





図を使って  
考えよう！

● 買った数は何こ？

16

めざせ100点!

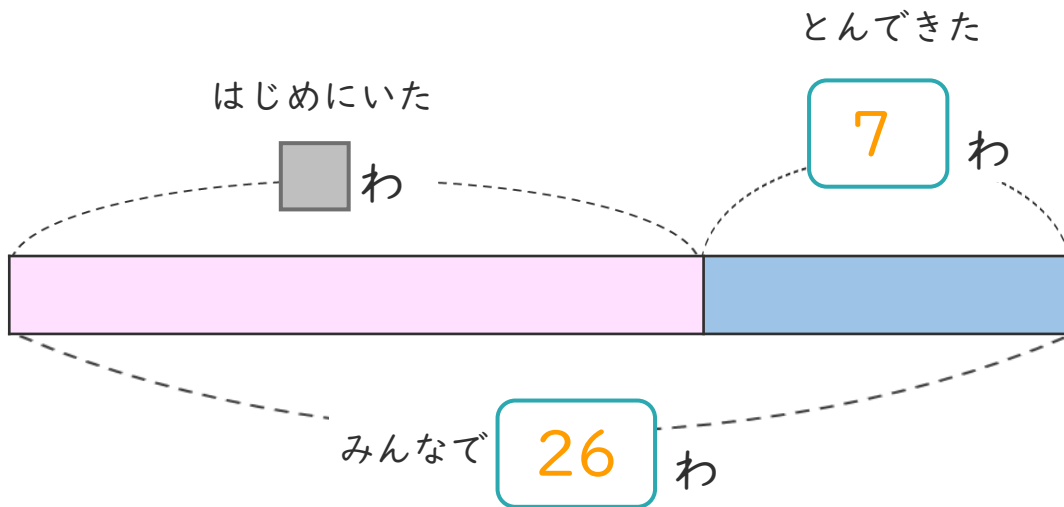


名まえ \_\_\_\_\_

・ はとが何わかいました。

そこへ7わとんできたので、みんなで26わになりました。

① 下の図の  にあう数を書きましょう。(各25点)



② はじめにいた はとは何わですか。

しきと 答えを書きましょう。(各25点)

しき  $\left( 26 - 7 = 19 \right)$

答え  $\left( 19 \text{わ} \right)$

<筆算スペース>

