



時と時間 5

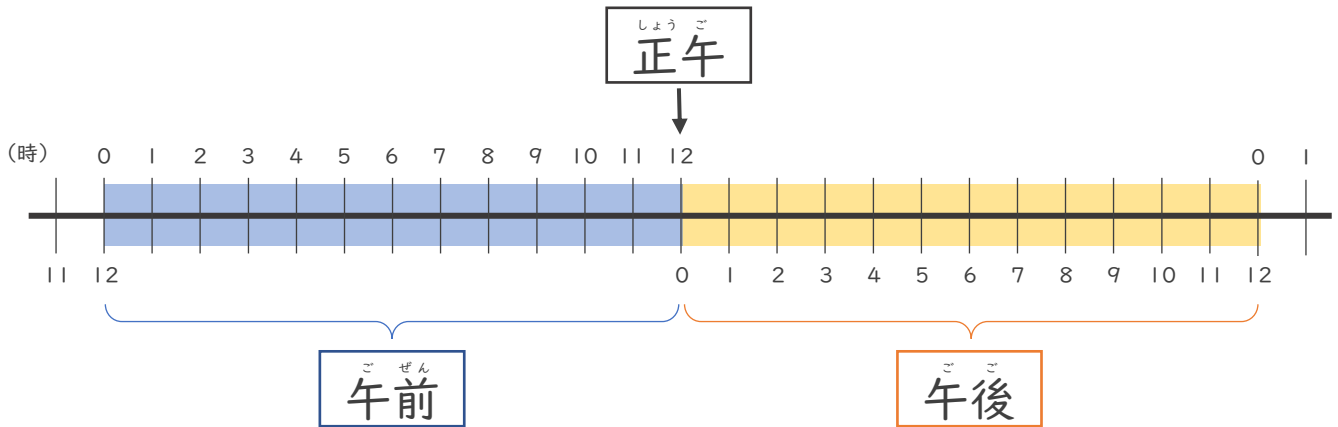


午前と午後

日にち： 月 日

名まえ _____

つぎの絵をみて答えましょう。



① 午前、午後はそれぞれ何時間ですか？

午前 () ・ 午後 ()

② □ にあう数をかきましょう。

1日 = □ 時間



時と時間 5

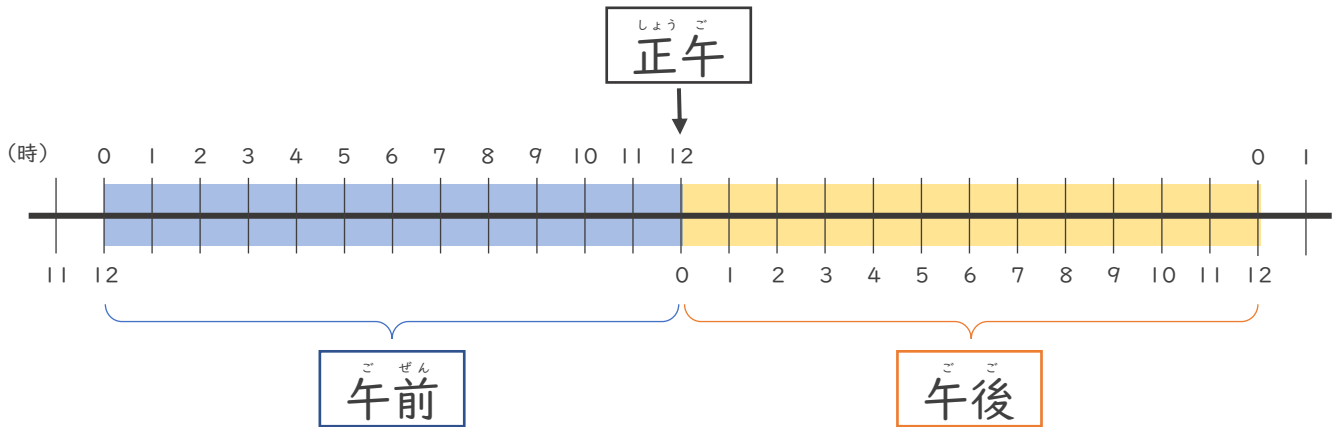
午前と午後



日にち： 月 日

名まえ _____

つぎの絵をみて答えましょう。(うすい字はなぞりましょう。)



① 午前、午後はそれぞれ何時間ですか？

午前 (12時間) ・ 午後 (12時間)

② 1日は何時間ですか？

1日 (24時間)



時と時間 5

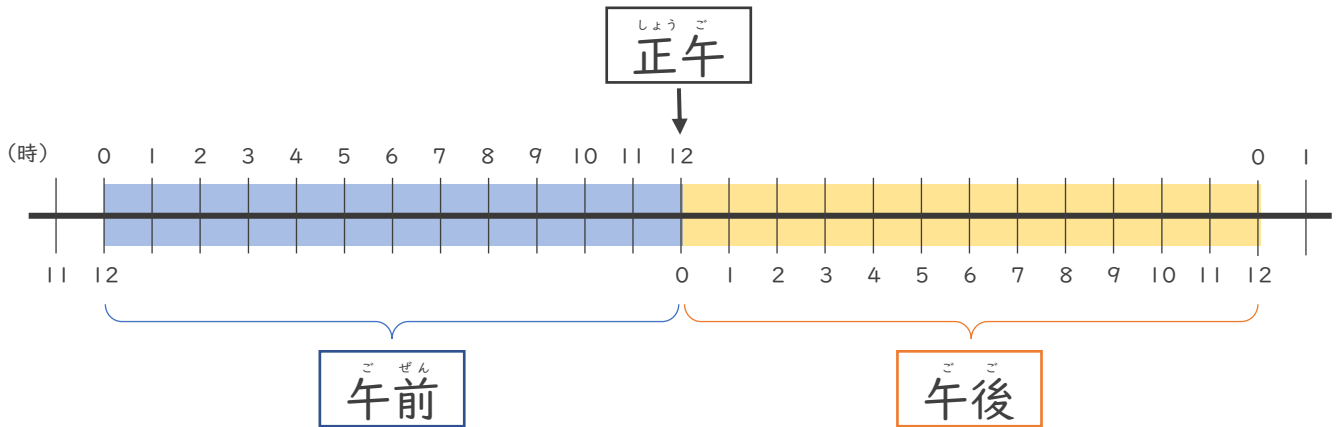
午前と午後



日にち： 月 日

名まえ _____

つぎの絵をみて答えましょう。



① 午前、午後はそれぞれ何時間ですか？

午前 (12時間) ・ 午後 (12時間)

② □ にあう数をかきましょう。

1日 = 24 時間

