



# 時こくと時間 6

◎ 1日のできごとの時こく



日にち：            月            日

名まえ \_\_\_\_\_

・時計の時こくを、午前か午後をつけて書きましょう。  
(うすい字はなぞりましょう。)

① 朝おきた時こく



( 午前7時5分 )

② 1時間目がはじまる時こく



( 午前 )

③ 2時間目がはじまる時こく



( )

④ 夜ねた時こく



( )





# 時ごとと時間 6



◎ 1日のできごとの時ごとく

日にち： 月 日

名まえ \_\_\_\_\_

・時計の時ごとくを、午前か午後をつけて書きましょう。  
(うすい字はなぞりましょう。)

① 朝 <sup>あさ</sup>おきた時ごとく



( 午前6時50分 )

② 5時間目 <sup>じ かん め</sup>がはじまる時ごとく



( )

③ 夕食 <sup>ゆうしょく</sup>を食べはじめた時ごとく



( )

④ 朝食 <sup>ちょうしょく</sup>を食べ終わった時ごとく



( )



# 時こくと時間 6



◎ 1日のできごとの時こく

日にち： 月 日

名まえ \_\_\_\_\_

・時計の時こくを、午前か午後をつけて書きましょう。  
(うすい字はなぞりましょう。)

① お昼休みがはじまる時こく



( 午後 1 時 )

② 1時間目がはじまる時こく



( )

③ 2時間目がはじまる時こく



( )

④ 夜ねた時こく



( )





# 時こくと時間 6

● 1日のできごとの時こく

4

日にち： 月 日

名まえ \_\_\_\_\_

・時計の時こくを、午前か午後をつけて書きましょう。

(うすい字はなぞりましょう。)

① 5時間目がはじまる時こく



(午後1時40分)

② 朝おきた時こく



( )

③ 夜ねた時こく



( )

④ 夕食を食べ終わった時こく



( )





# 時こくと時間 6

① 1日のできごとの時こく

5

日にち： 月 日

名まえ

・時計の時こくを、午前か午後をつけて書きましょう。

① 朝 おきた時こく



( )

② お昼休みが始まる時こく



( )

③ 5時間目が始まる時こく



( )

④ 夜ねた時こく



( )





# 時こくと時間 6

◎ 1日のできごとの時こく



日にち： 月 日

名まえ \_\_\_\_\_

・時計の時こくを、午前か午後をつけて書きましょう。

① 朝食を食べ終わった時こく



( )

② 2時間目がはじまる時こく



( )

③ 3時間目がおわる時こく



( )

④ 夜ねた時こく



( )







# 時こくと時間 6

8

● 1日のできごとの時こく

日にち：            月            日

名まえ \_\_\_\_\_

・時計の時こくを、午前か午後をつけて書きましょう。

① 朝 あさ おきた 時こく



(                                      )

② お昼休み ひる が おわる 時こく



(                                      )

③ 3時間目 じかんめ が はじまる 時こく



(                                      )

④ 夜 よる ねた 時こく



(                                      )







# 時こくと時間 6

◎ 1日のできごとの時こく



日にち： 月 日

名まえ \_\_\_\_\_

・時計の時こくを、午前か午後をつけて書きましょう。

① 朝食を食べ終わった時こく



( )

② 2時間目がはじまる時こく



( )

③ 夕食を食べはじめた時こく



( )

④ 朝おきた時こく



( )







# 時こくと時間 6

● 1日のできごとの時こく



日にち： 月 日

名まえ \_\_\_\_\_

1 時計の時こくを、午前か午後をつけて書きましょう。

① 夜ねた時こく



( )

② 1時間目がはじまる時こく



( )

2 つぎの時間は何時間ですか。時計をみてこたえましょう。

① 本をよんでいた時間



よみはじめた時こく



よみ終わった時こく

こたえ

( )





# 時こくと時間 6

● 1日のできごとの時こく



日にち： 月 日

名まえ \_\_\_\_\_

1 時計の時こくを、午前か午後をつけて書きましょう。

① ひるねをはじめた時こく



( )

② 朝食を食べはじめの時こく



( )

2 つぎの時間は 何時間ですか。時計をみて 答えましょう。

① サッカーの練習をしていた時間



はじめた時こく



終わった時こく

答え

( )





# 時こくと時間 6

1日のできごとの時こく

13

日にち： 月 日

名まえ \_\_\_\_\_

1 時計の時こくを、午前か午後をつけて書きましょう。

① 1時間目がはじまる時こく



( )

② 夕食を食べはじめる時こく



( )

2 つぎの時間は何時間ですか。時計をみてこたえましょう。

① 公園にいた時間



ついた時こく



帰った時こく

こたえ

( )





# 時こくと時間 6

● 1日のできごとの時こく

14

日にち： 月 日

名まえ \_\_\_\_\_

1 時計の時こくを、午前か午後をつけて書きましょう。

① 朝 おきた時こく



( )

② お昼休みがおわった時こく



( )

2 つぎの時間は 何時間ですか。時計をみて 答えましょう。

① 山をのぼるのに かかった時間



のぼりはじめた時こく



ちょうど上についた時こく

こたえ

( )






# 時こくと時間 6

● 1日のできごとの時こく

# 15

めざせ100点!



名まえ \_\_\_\_\_

1 時計の時こくを、午前か午後をつけて書きましょう。(各35点)

① 朝おきた時こく



( ) ( )

② 夕食を食べ終わった時こく



2 つぎの時間は何時間ですか。時計をみてこたえましょう。(30点)

① 本を読んでいた時間



読みはじめた時こく



読み終わった時こく

こたえ

( )






# 時こくと時間 6

● 1日のできごとの時こく

# 16

めざせ100点!



名まえ \_\_\_\_\_

1 時計の時こくを、午前か午後をつけて書きましょう。(各35点)

① 夜ねた時こく



( )

② 1時間目がはじまる時こく



( )

2 つぎの時間は 何時間ですか。時計をみてこたえましょう。(30点)

① 公園にいた時間



ついた時こく



帰った時こく

こたえ

( )







# 時こくと時間 6

◎ 1日のできごとの時こく



日にち：            月            日

名まえ \_\_\_\_\_

・ 時計の時こくを、午前か午後をつけて書きましょう。  
(うすい字はなぞりましょう。)

① 朝おきた時こく



( 午前 7 時 5 分 )

② 1時間目がはじまる時こく



( 午前 8 時 5 0 分 )

③ 2時間目がはじまる時こく



( 午前 9 時 4 0 分 )

④ 夜ねた時こく



( 午後 9 時 )





# 時こくと時間 6

◎ 1日のできごとの時こく



日にち： 月 日

名まえ \_\_\_\_\_

・時計の時こくを、午前か午後をつけて書きましょう。

(うすい字はなぞりましょう。)

① 朝おきた時こく



( 午前 6 時 5 0 分 )

② 5時間目がはじまる時こく



( 午後 2 時 )

③ 夕食を食べはじめた時こく



( 午後 6 時 3 0 分 )

④ 朝食を食べ終わった時こく



( 午前 7 時 1 5 分 )





# 時こくと時間 6



◎ 1日のできごとの時こく

日にち：            月            日

名まえ \_\_\_\_\_

・時計の時こくを、午前か午後をつけて書きましょう。  
(うすい字はなぞりましょう。)

① お昼休みひるやすが始まる時こく



( 午後 1 時 )

② 1時間目じかんめが始まる時こく



( 午前 8 時 5 5 分 )

③ 2時間目じかんめが始まる時こく



( 午前 9 時 4 5 分 )

④ 夜よるねた時こく



( 午後 9 時 2 0 分 )





# 時こくと時間 6

◎ 1日のできごとの時こく



日にち：            月            日

名まえ \_\_\_\_\_

・ 時計の時こくを、午前か午後をつけて書きましょう。  
(うすい字はなぞりましょう。)

① 5時間目がはじまる時こく



( 午後 1 時 4 0 分 )

② 朝おきた時こく



( 午前 6 時 )

③ 夜ねた時こく



( 午後 9 時 3 0 分 )

④ 夕食を食べ終わった時こく



( 午後 7 時 2 5 分 )





# 時こくと時間 6

◎ 1日のできごとの時こく



日にち：            月            日

名まえ \_\_\_\_\_

・時計の時こくを、午前か午後をつけて書きましょう。

① 朝 おきた時こく



( 午前 6 時 3 0 分 )

② お昼休みがはじまる時こく



( 午後 1 時 )

③ 5時間目がはじまる時こく



( 午後 1 時 4 0 分 )

④ 夜ねた時こく



( 午後 9 時 1 0 分 )





# 時こくと時間 6

● 1日のできごとの時こく



日にち：            月            日

名まえ \_\_\_\_\_

・時計の時こくを、午前か午後をつけて書きましょう。

① 朝食を食べ終わった時こく



( 午前 6 時 4 5 分 )

② 2時間目がはじまる時こく



( 午前 9 時 3 5 分 )

③ 3時間目がおわる時こく



( 午前 1 1 時 2 5 分 )

④ 夜ねた時こく



( 午後 1 0 時 3 0 分 )





# 時こくと時間 6

◎ 1日のできごとの時こく



日にち： 月 日

名まえ \_\_\_\_\_

・時計の時こくを、午前か午後をつけて書きましょう。

① 5時間目がおわる時こく



( 午後 2 時 2 5 分 )

② 朝の会が始まる時こく



( 午前 8 時 2 0 分 )

③ 夜ねた時こく



( 午後 9 時 1 5 分 )

④ 朝おきた時こく



( 午前 6 時 )





# 時こくと時間 6

◎ 1日のできごとの時こく



日にち：            月            日

名まえ \_\_\_\_\_

・時計の時こくを、午前か午後をつけて書きましょう。

① 朝 おきた 時こく



( 午前 6 時 2 0 分 )

② お昼休みがおわる 時こく



( 午後 1 時 1 5 分 )

③ 3時間目がはじまる 時こく



( 午前 1 0 時 4 0 分 )

④ 夜ねた 時こく



( 午後 9 時 3 0 分 )







# 時こくと時間 6

● 1日のできごとの時こく



日にち：            月            日

名まえ \_\_\_\_\_

・時計の時こくを、午前か午後をつけて書きましょう。

① 朝食を食べ終わった時こく



( 午前 7 時 4 5 分 )

② 2時間目がはじまる時こく



( 午前 9 時 5 0 分 )

③ 夕食を食べはじめた時こく



( 午後 7 時 3 0 分 )

④ 朝おきた時こく



( 午前 7 時 5 分 )





# 時こくと時間 6

◎ 1日のできごとの時こく



日にち： 月 日

名まえ \_\_\_\_\_

1 時計の時こくを、午前か午後をつけて書きましょう。

① 朝 おきた 時こく



( 午前 6 時 3 0 分 )

② お昼休みが 始まった 時こく



( 午後 1 時 )

2 つぎの 時間は 何時間ですか。時計をみて 答えましょう。

① 山を のぼるのにかかった 時間



のぼりはじめた 時こく



ちょうどについた 時こく

こたえ

( 4 時間 )





# 時こくと時間 6

● 1日のできごとの時こく



日にち： 月 日

名まえ \_\_\_\_\_

1 時計の時こくを、午前か午後をつけて書きましょう。

① 夜ねた時こく



( 午後 8 時 4 5 分 )

② 1時間目がはじまる時こく



( 午前 9 時 )

2 つぎの時間は 何時間ですか。時計をみてこたえましょう。

① 本をよんでいた時間



よみはじめた時こく



よみ終わった時こく

こたえ

( 1 時間 )





# 時こくと時間 6

● 1日のできごとの時こく



日にち：            月            日

名まえ \_\_\_\_\_

1 時計の時こくを、午前か午後をつけて書きましょう。

① ひるねをはじめた時こく



( 午後 2 時 5 0 分 )

② 朝食を食べはじめの時こく



( 午前 7 時 2 5 分 )

2 つぎの時間は 何時間ですか。時計をみてこたえましょう。

① サッカーの練習をしていた時間



はじめた時こく



終わった時こく

こたえ

( 2 時間 )





# 時こくと時間 6

◎ 1日のできごとの時こく

13

日にち： 月 日

名まえ \_\_\_\_\_

1 時計の時こくを、午前か午後をつけて書きましょう。

① 1時間目がはじまる時こく



( 午前 8 時 5 5 分 )

② 夕食を食べはじめる時こく



( 午後 7 時 5 分 )

2 つぎの時間は 何時間ですか。時計をみてこたえましょう。

① 公園にいた時間



ついた時こく



帰った時こく

こたえ

( 2 時間 )





# 時こくと時間 6

● 1日のできごとの時こく

14

日にち： 月 日

名まえ \_\_\_\_\_

1 時計の時こくを、午前か午後をつけて書きましょう。

① 朝 おきた時こく



( 午前 7 時 1 5 分 )

② お昼休みがおわった時こく



( 午後 1 時 2 0 分 )

2 つぎの時間は 何時間ですか。時計をみてこたえましょう。

① 山をのぼるのに かかった時間



のぼりはじめた時こく



ちょうど上についた時こく

こたえ

( 4 時間 )






# 時こくと時間 6

● 1日のできごとの時こく

15

めざせ100点!



名まえ

1 時計の時こくを、午前か午後をつけて書きましょう。(各35点)

① 朝 おきた 時こく



( 午前 6 時 3 0 分 )

② 夕食を 食べおわった 時こく



( 午後 7 時 2 0 分 )

2 つぎの 時間は 何時間ですか。時計をみて 答えましょう。(30点)

① 本を 読んでいた 時間



読みはじめた 時こく



読みおわった 時こく

こたえ

( 2 時間 )






# 時こくと時間 6

● 1日のできごとの時こく

16

めざせ100点!



名まえ

1 時計の時こくを、午前か午後をつけて書きましょう。(各35点)

① 夜<sup>よる</sup>ねた時こく



( 午後 8 時 4 5 分 )

② 1時間目<sup>じかんめ</sup>がはじまる時こく



( 午前 9 時 )

2 つぎの時間<sup>じかん</sup>は何時間<sup>なんじかん</sup>ですか。時計<sup>とけい</sup>をみてこたえましょう。(30点)

① 公園<sup>こうえん</sup>にいた時間



ついた時こく



かえ帰った時こく

こたえ

( 2 時間 )

