

日にち： 月 日

名まえ _____

・ つぎの水とうに入る水のかさをくらべましょう。

(うすい字はなぞりましょう。)

ア



イ



① アの水とうはコップ何ばい分ですか。


答え： 3ばい分

② イの水とうはコップ何ばい分ですか。

答え： _____

③ 水が多く入るのは、どちらの水とうですか。

答え： _____



日にち： 月 日

名まえ _____

・ つぎの水とうに入る水のかさをくらべましょう。

(うすい字はなぞりましょう。)

ア



イ



① アの水とうはコップ何ばい分ですか。

答え： 4はい分

② イの水とうはコップ何ばい分ですか。

答え： _____

③ 水が多く入るのは、どちらの水とうですか。


答え： _____



日にち： 月 日

名まえ _____

・ つぎの水とうに入る水のかさをくらべましょう。



① アの水とうはコップ何ばい分ですか。

答え： _____

② イの水とうはコップ何ばい分ですか。

答え： _____

③ 水が多く入るのは、どちらの水とうですか。

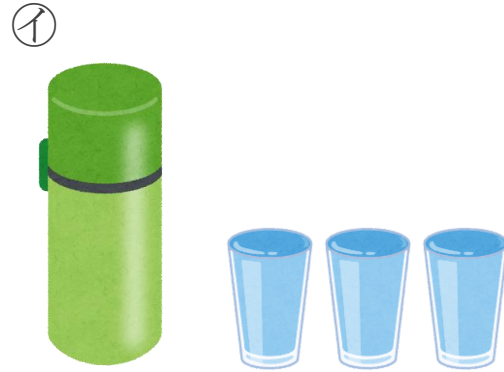
答え： _____



日にち： 月 日

名まえ _____

・ つぎの水とうに入る水のかさをくらべましょう。



① アの水とうはコップ何ばい分ですか。

答え： _____

② イの水とうはコップ何ばい分ですか。

答え： _____

③ 水が多く入るのは、どちらの水とうですか。

答え： _____



日にち： 月 日

名まえ _____

・ つぎの水とうに入る水のかさをくらべましょう。

(うすい字はなぞりましょう。)

ア



イ



① アの水とうはコップ何ばい分ですか。

答え： 3ばい分

② イの水とうはコップ何ばい分ですか。

答え： 4ばい分

③ 水が多く入るのは、どちらの水とうですか。

答え： イ




日にち： 月 日

名まえ _____

・ つぎの水とうに入る水のかさをくらべましょう。

(うすい字はなぞりましょう。)

ア



イ



① アの水とうはコップ何ばい分ですか。


答え： 4はい分

② イの水とうはコップ何ばい分ですか。

答え： 2はい分

③ 水が多く入るのは、どちらの水とうですか。

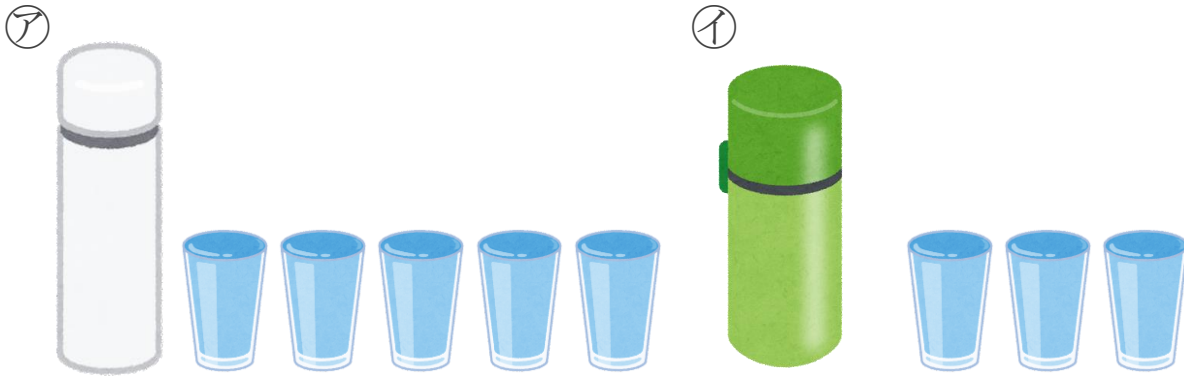
答え： ア



日にち： 月 日

名まえ _____

・ つぎの水とうに入る水のかさをくらべましょう。



① ②の水とうはコップ何ばい分ですか。

答え： 5ばい分

② ①の水とうはコップ何ばい分ですか。

答え： 3ばい分

③ 水が多く入るのは、どちらの水とうですか。

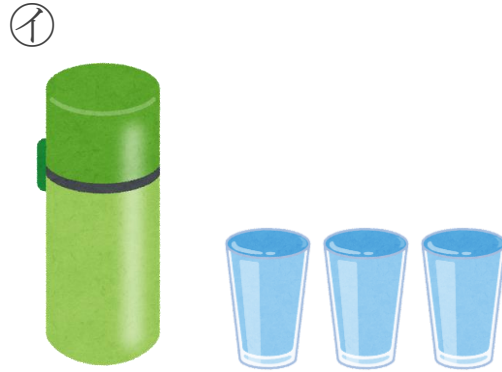
答え： ア



日にち： 月 日

名まえ _____

・ つぎの水とうに入る水のかさをくらべましょう。



① アの水とうはコップ何ばい分ですか。

答え： 2ばい分

② イの水とうはコップ何ばい分ですか。

答え： 3ばい分

③ 水が多く入るのは、どちらの水とうですか。

答え： イ