



# 水のかさ 16

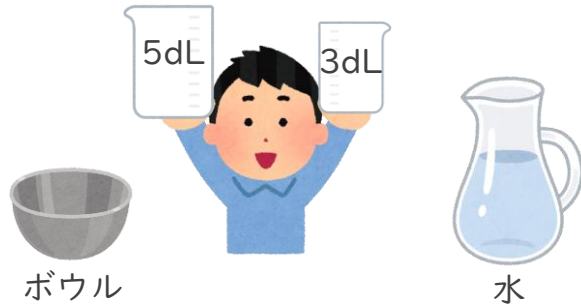
水の デシデシクイズ



日にち： 月 日

名まえ \_\_\_\_\_

1 5dLと 3dLの ますをつかって、ボウルに 7dLの水を入れるには どうすれば よいですか。  に <sup>かず</sup> 数 を <sup>か</sup> 書 け ます。 (うすい字は なぞり ませう)



ボウル

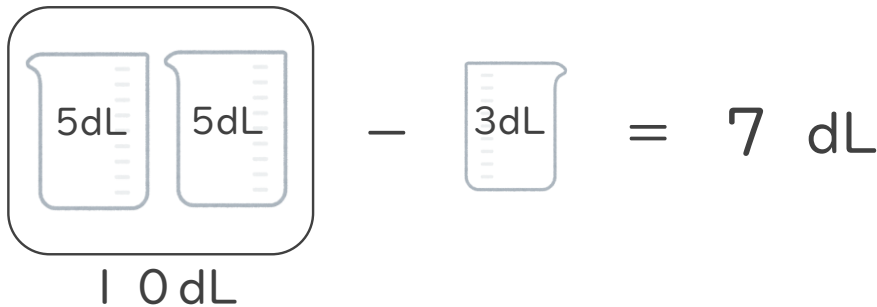
水

5 dLの ますで

はい 入れ る と 10 dLに なる ね

10 dLから 3 dLの ますで

ぱい 出 す と 7 dLだ よ



答 え :

5 dLの ますで  はい 入れ、

そ こ から 3 dLの ますで  ぱい 出 す。



# 水のかさ 16


水の デシデシクイズ



日にち： 月 日

名まえ \_\_\_\_\_

- 1 5dLと 2dLの ますをつかって、ボウルに 8dLの水を入れるにはどうすればよいですか。  に <sup>かず</sup>数を <sup>か</sup>書きましょう。  
(うすい字はなぞりましょう)



こたえ： 5dLの ますで  はい入れ、  
そこから 2dLの ますで  はい 出す。

- 2 5dLと 4dLの ますをつかって、ボウルに 2dLの水を入れるにはどうすればよいですか。  に <sup>かず</sup>数を <sup>か</sup>書きましょう。  
(うすい字はなぞりましょう)

こたえ： 5dLの ますで  はい入れ、  
そこから 4dLの ますで  はい 出す。



# 水のかさ 16


水の デシデシクイズ

3

日にち： 月 日

名まえ \_\_\_\_\_

- 1 6 dLと 5 dLの ますをつかって、ボウルに 2 dLの水を入れるにはどうすればよいですか。 に <sup>かず</sup>数を <sup>か</sup>書きましょう。  
(うすい字はなぞりましょう)



こた  
答え：

6 dLの ますで はい入れ、  
そこから 5 dLの ますで はい 出す。

- 2 5 Lと 3 dLの ますをつかって、ボウルに 7 dLの水を入れるにはどうすればよいですか。 に <sup>かず</sup>数を <sup>か</sup>書きましょう。  
(うすい字はなぞりましょう)

こた  
答え：

5 dLの ますで はい入れ、  
そこから 3 dLの ますで はい 出す。



# 水のかさ 16


水の デシデシクイズ

4

日にち： 月 日

名まえ \_\_\_\_\_

- 1 10dLと3dLのますをつかって、ボウルに4dLの水を入れるにはどうすればよいですか。  に <sup>かず</sup>数 を <sup>か</sup>書 きましょう。  
(うすい字はなぞりましょう)



こた  
答え：

10dLのますで  はい入れ、  
そこから3dLのますで  はい出す。

- 2 5dLと4dLのますをつかって、ボウルに2dLの水を入れるにはどうすればよいですか。  に <sup>かず</sup>数 を <sup>か</sup>書 きましょう。  
(うすい字はなぞりましょう)

こた  
答え：

5dLのますで  はい入れ、  
そこから4dLのますで  はい出す。



# 水のかさ 16


水の デシデシクイズ



日にち： 月 日

名まえ

1 5dLと 3dLの ますをつかって、ボウルに 7dLの水を入れるには どうすれば よいですか。  に <sup>かず</sup> 数 を <sup>か</sup> 書 け ます。 (うすい字は なぞり ませう)



ボウル

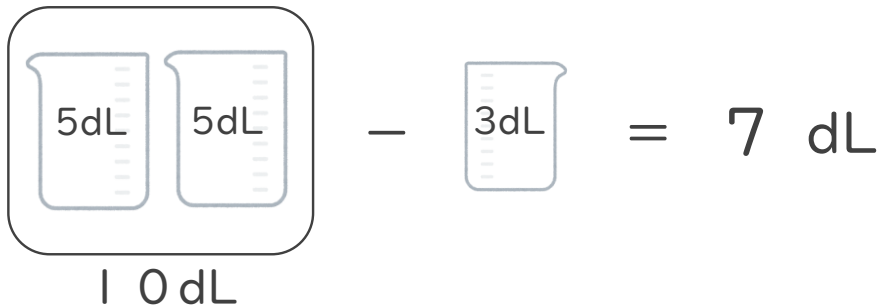
水

5 dLの ますで

はい 入れ る と 10 dLに なる ね

10 dLから 3 dLの ますで

はい 出 す と 7 dLだ よ



こたえ :

5 dLの ますで  はい 入れ、

そ こ から 3 dLの ますで  はい 出 す。



## 水のかさ 16


水の デシデシクイズ

2

日にち： 月 日

名まえ \_\_\_\_\_

- 1 5dLと 2dLのますをつかって、ボウルに 8dLの水を入れるにはどうすればよいですか。  に <sup>かず</sup>数を <sup>か</sup>書きましょう。  
(うすい字はなぞりましょう)



こた  
答え：

5 dLのますで  はい入れ、  
そこから 2 dLのますで  ぱい出す。

- 2 5dLと 4dLのますをつかって、ボウルに 2dLの水を入れるにはどうすればよいですか。  に <sup>かず</sup>数を <sup>か</sup>書きましょう。  
(うすい字はなぞりましょう)

こた  
答え：

5 dLのますで  はい入れ、  
そこから 4 dLのますで  はい出す。



# 水のかさ 16


水の デシデシクイズ

3

日にち： 月 日

名まえ \_\_\_\_\_

- 1 6 dLと 5 dLの ますをつかって、ボウルに 2 dLの水を入れるにはどうすればよいですか。  に <sup>かず</sup>数を <sup>か</sup>書きましょう。  
(うすい字はなぞりましょう)



こた  
答え：

6 dLの ますで  はい入れ、

そこから 5 dLの ますで  はい出す。

- 2 5 Lと 3 dLの ますをつかって、ボウルに 7 dLの水を入れるにはどうすればよいですか。  に <sup>かず</sup>数を <sup>か</sup>書きましょう。  
(うすい字はなぞりましょう)

こた  
答え：

5 dLの ますで  はい入れ、

そこから 3 dLの ますで  はい出す。



# 水のかさ 16


水の デシデシクイズ

4

日にち： 月 日

名まえ \_\_\_\_\_

- 1 10dLと3dLのますをつかって、ボウルに4dLの水を入れるにはどうすればよいですか。  に <sup>かず</sup>数を書きましょう。  
(うすい字はなぞりましょう)



こた  
答え：

10dLのますで  はい入れ、  
そこから3dLのますで  はい出す。

- 2 5dLと4dLのますをつかって、ボウルに2dLの水を入れるにはどうすればよいですか。  に <sup>かず</sup>数を書きましょう。  
(うすい字はなぞりましょう)

こた  
答え：

5dLのますで  はい入れ、  
そこから4dLのますで  はい出す。