



水のかさ 16


水の デシデシクイズ



日にち： 月 日

名まえ _____

1 5dLと3dLのますをつかって、ボウルに7dLの水を入れるにはどうすればよいですか。 に ^{かず} ^か 数を書きましょう。
(うすい字はなぞりましょう。)



5 dLのますで

はい入れると10dLになるね

10dLから3dLのますで

ぱい出すと7dLだよ



こた
答え：

5dLのますで はい入れ、

そこから3dLのますで ぱい出す。



水のかさ 16


● 水の デシデシクイズ

2

日にち： 月 日

名まえ _____

- 1 5dLと 2dLの ますをつかって、ボウルに 8dLの水を入れるにはどうすればよいですか。 に ^{かず} 数 を ^か 書きましょう。
(うすい字は なぞりましょう。)



答え： 5dLの ますで はい入れ、
そこから 2dLの ますで はい 出す。

- 2 5dLと 4dLの ますをつかって、ボウルに 2dLの水を入れるにはどうすればよいですか。 に ^{かず} 数 を ^か 書きましょう。

答え： 5dLの ますで はい入れ、
そこから 4dLの ますで はい 出す。



水のかさ 16

● 水の デシデシクイズ

3

日にち： 月 日

名まえ _____

- 1 6 dLと 5 dLの ますをつかって、ボウルに 2 dLの水を入れるにはどうすればよいですか。 に ^{かず} 数 を ^か 書きましょう。



答え：

6 dLの ますで はい入れ、
そこから 5 dLの ますで はい 出す。

- 2 5 Lと 3 dLの ますをつかって、ボウルに 7 dLの水を入れるにはどうすればよいですか。 に ^{かず} 数 を ^か 書きましょう。

答え：

5 dLの ますで はい入れ、
そこから 3 dLの ますで ぱい 出す。





水のかさ 16

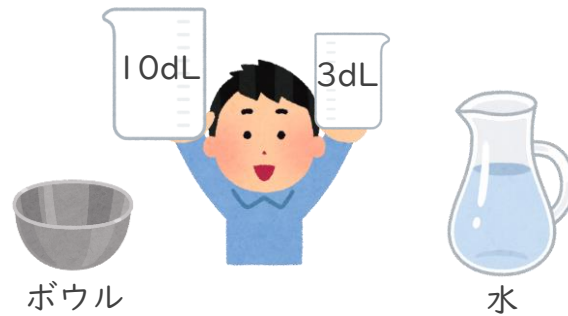
● 水の デシデシクイズ

4

日にち： 月 日

名まえ _____

- 1 10dLと3dLのますをつかって、ボウルに4dLの水を入れるにはどうすればよいですか。 に ^{かず} 数 を ^か 書きましょう。



答え： 10dLのますで はい入れ、
そこから3dLのますで はい出す。

- 2 5dLと4dLのますをつかって、ボウルに2dLの水を入れるにはどうすればよいですか。 に ^{かず} 数 を ^か 書きましょう。

答え： 5dLのますで はい入れ、
そこから4dLのますで はい出す。



水のかさ 16


水の デシデシクイズ



日にち： 月 日

名まえ _____

1 5dLと3dLのますをつかって、ボウルに7dLの水を入れるにはどうすればよいですか。□に ^{かず} ^か 数を書きましょう。
(うすい字はなぞりましょう。)



ボウル

水

5 dLのますで

2 はい入れると10dLになるね

10dLから3dLのますで

1 ぱい出すと7dLだよ



こた
答え：

5dLのますで **2** はい入れ、

そこから3dLのますで **1** ぱい出す。



水のかさ 16


水の デシデシクイズ

2

日にち： 月 日

名まえ _____

- 1 5dLと 2dLの ますをつかって、ボウルに 8dLの水を入れるにはどうすればよいですか。 に ^{かず}数を ^か書きましょう。
(うすい字は なぞりましょう。)



答え： 5dLの ますで はい入れ、
そこから 2dLの ますで ぱい 出す。

- 2 5dLと 4dLの ますをつかって、ボウルに 2dLの水を入れるにはどうすればよいですか。 に ^{かず}数を ^か書きましょう。

答え： 5dLの ますで はい入れ、
そこから 4dLの ますで はい 出す。



水のかさ 16


● 水の デシデシクイズ

3

日にち： 月 日

名まえ _____

- 1 6 dLと 5 dLの ますをつかって、ボウルに 2 dLの水を入れるにはどうすればよいですか。 に ^{かず} 数 ^か を書きましょう。



答え：
6 dLの ますで はい入れ、
そこから 5 dLの ますで はい 出す。

- 2 5 Lと 3 dLの ますをつかって、ボウルに 7 dLの水を入れるにはどうすればよいですか。 に ^{かず} 数 ^か を書きましょう。

答え：
5 dLの ますで はい入れ、
そこから 3 dLの ますで ぱい 出す。





水のかさ 16

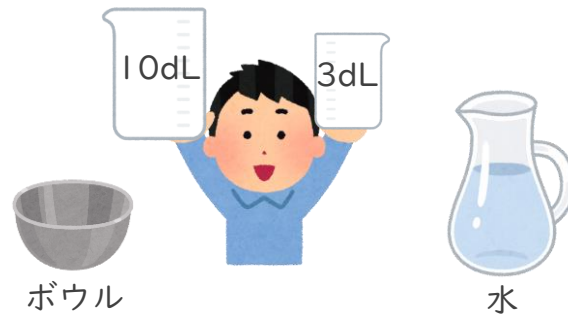
● 水の デシデシクイズ

4

日にち： 月 日

名まえ _____

- 1 10dLと3dLのますをつかって、ボウルに4dLの水を入れるにはどうすればよいですか。 に ^{かず}数を ^か書きましょう。



答え：

10dLのますで はい入れ、
そこから3dLのますで はい出す。

- 2 5dLと4dLのますをつかって、ボウルに2dLの水を入れるにはどうすればよいですか。 に ^{かず}数を ^か書きましょう。

答え：

5dLのますで はい入れ、
そこから4dLのますで はい出す。

