



# 水のかさ 3

● リットル



日にち： 月 日

名まえ \_\_\_\_\_

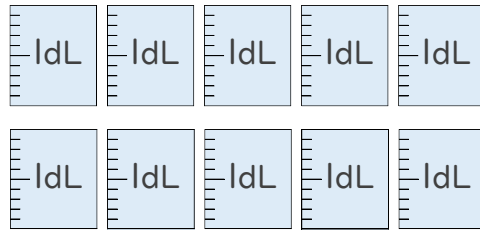
1 大きな かさを あらわすときは、リットルという たんいをつかいます。  
リットルは L と書き、1L は 10dL です。

L の書き方を れんしゅうしましょう。(うすい字はなぞりましょう。)

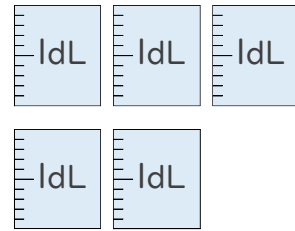
L L

2 つぎの ペットボトルに入る 水のかさを しらべましょう。

(うすい字はなぞりましょう。)



1 L



① ペットボトルに入る 水のかさは、何dLですか。

答え： 15dL

② ペットボトルに入る 水のかさは、何L何dLですか。

1 L = 10dL だよ！



答え： 1 L 5 dL





# 水のかさ 3



● リットル

日にち： 月 日

名まえ \_\_\_\_\_

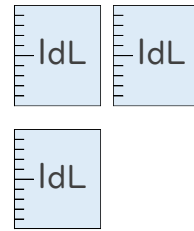
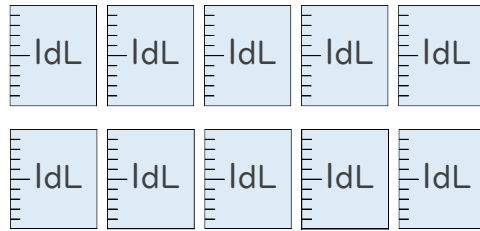
1 大きな かさを あらわすときは、リットルという たんいをつかいます。  
リットルは L と書き、1L は 10dL です。

L の書き方を れんしゅうしましょう。(うすい字はなぞりましょう。)

L L

2 つぎの ペットボトルに入る 水のかさを しらべましょう。

(うすい字はなぞりましょう。)



1 L

① ペットボトルに入る 水のかさは、何dLですか。

答え： 13dL

② ペットボトルに入る 水のかさは、何L何dLですか。

1 L = 10dL だよ！



答え： 1 L 3 dL





# 水のかさ 3

● リットル



日にち： 月 日

名まえ \_\_\_\_\_

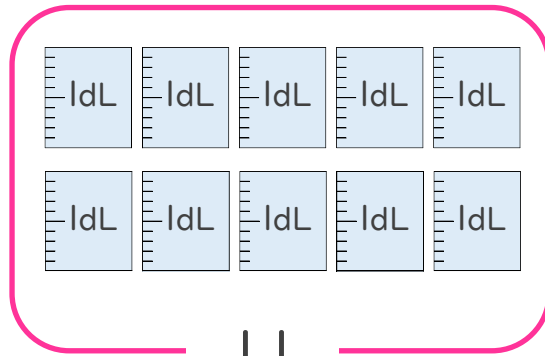
1 大きな かさを あらわすときは、リットルという たんいをつかいます。  
リットルは L と書き、1L は 10dL です。

L の書き方を れんしゅうしましょう。(うすい字はなぞりましょう。)



2 つぎの ペットボトルに入る 水のかさを しらべましょう。

(うすい字はなぞりましょう。)



① ペットボトルに入る 水のかさは、何dLですか。

答え： \_\_\_\_\_ dL

② ペットボトルに入る 水のかさは、何L何dLですか。

1 L = 10dL だよ！



答え： \_\_\_\_\_ L dL



# 水のかさ 3

● リットル



日にち： 月 日

名まえ \_\_\_\_\_

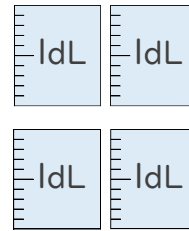
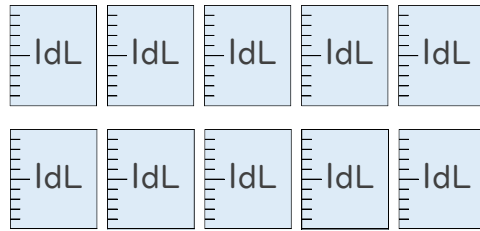
1 大きな かさを あらわすときは、リットルという たんいをつかいます。  
リットルは L と書き、1L は 10dL です。

L の書き方を れんしゅうしましょう。(うすい字はなぞりましょう。)

L L

2 つぎの ペットボトルに入る 水のかさを しらべましょう。

(うすい字はなぞりましょう。)



1 L

① ペットボトルに入る 水のかさは、何dLですか。

答え： \_\_\_\_\_ dL

② ペットボトルに入る 水のかさは、何L何dLですか。

1 L = 10dL だよ！



答え： \_\_\_\_\_ L dL





# 水のかさ 3

# 5

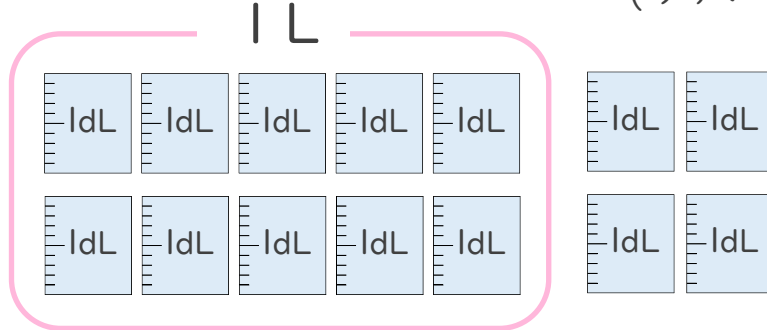
● リットル

日にち： 月 日

名まえ \_\_\_\_\_

1 つぎの ペットボトルに入る 水のかさを しらべましょう。

(うすい字はなぞりましょう。)



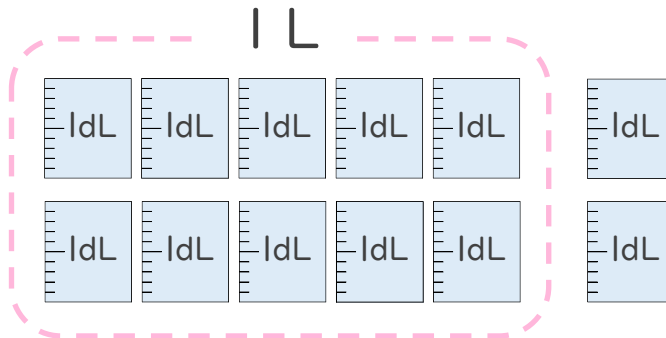
① ペットボトルに入る 水のかさは、何dLですか。

答え： 14dL

② ペットボトルに入る 水のかさは、何L何dLですか。

答え： 1 L 4 dL

2 つぎの ペットボトルに入る 水のかさを しらべましょう。



① ペットボトルに入る 水のかさは、何dLですか。

答え： \_\_\_\_\_

② ペットボトルに入る 水のかさは、何L何dLですか。

答え： \_\_\_\_\_



# 水のかさ 3

# 6

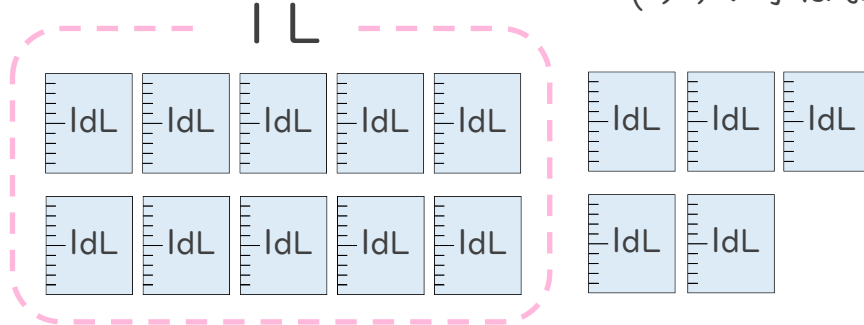
● リットル

日にち： 月 日

名まえ \_\_\_\_\_

1 つぎのペットボトルに入る水のかさをしらべましょう。

(うすい字はなぞりましょう。)



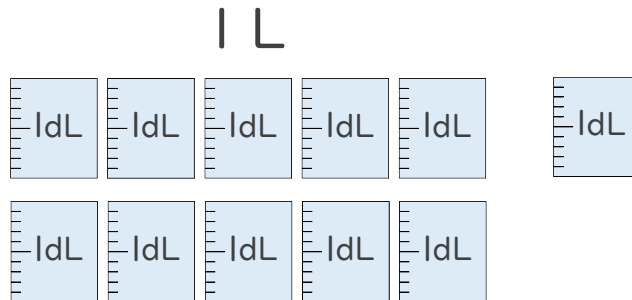
① ペットボトルに入る水のかさは、何dLですか。

答え： \_\_\_\_\_ dL

② ペットボトルに入る水のかさは、何L何dLですか。

答え： \_\_\_\_\_ L \_\_\_\_\_ dL

2 つぎのペットボトルに入る水のかさをしらべましょう。



① ペットボトルに入る水のかさは、何dLですか。

答え： \_\_\_\_\_

② ペットボトルに入る水のかさは、何L何dLですか。

答え： \_\_\_\_\_



# 水のかさ 3



リットル

日にち： 月 日

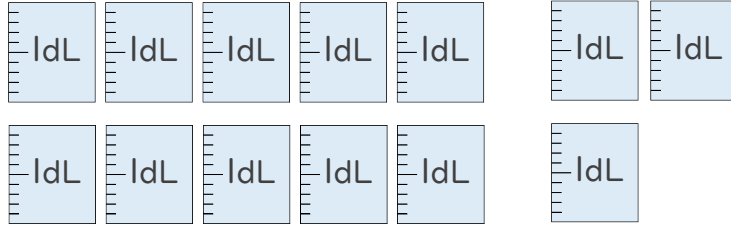
名まえ \_\_\_\_\_

1 つぎのペットボトルに入る水のかさをしらべましょう。

(うすい字はなぞりましょう。)



1 L



① ペットボトルに入る水のかさは、何dLですか。

答え： \_\_\_\_\_ dL

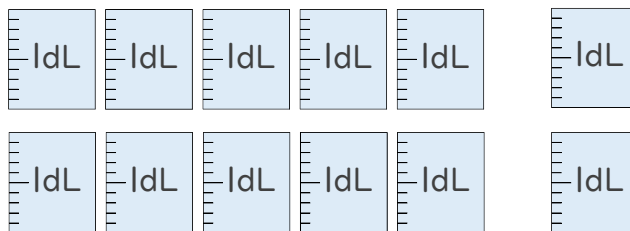
② ペットボトルに入る水のかさは、何L何dLですか。

答え： \_\_\_\_\_ L \_\_\_\_\_ dL

2 つぎのペットボトルに入る水のかさをしらべましょう。



1 L



① ペットボトルに入る水のかさは、何dLですか。

答え： \_\_\_\_\_

② ペットボトルに入る水のかさは、何L何dLですか。

答え： \_\_\_\_\_



# 水のかさ 3

● リットル



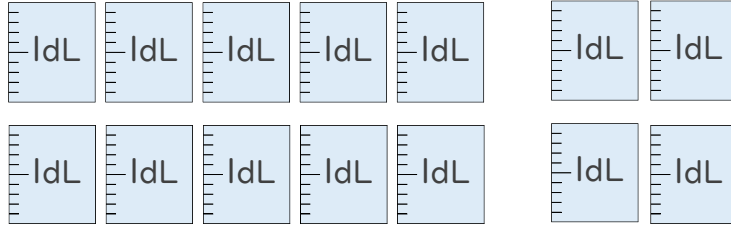
日にち： 月 日

名まえ \_\_\_\_\_

1 つぎのペットボトルに入る水のかさをしらべましょう。



1 L



① ペットボトルに入る水のかさは、何dLですか。

答え： \_\_\_\_\_

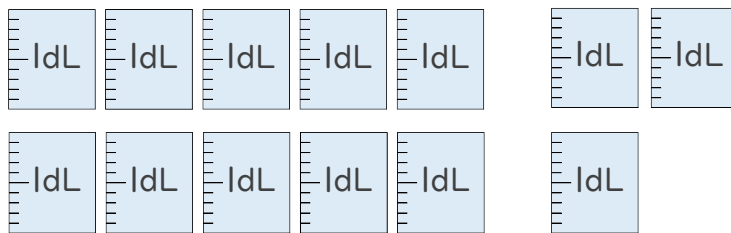
② ペットボトルに入る水のかさは、何L何dLですか。

答え： \_\_\_\_\_

2 つぎのペットボトルに入る水のかさをしらべましょう。



1 L



① ペットボトルに入る水のかさは、何dLですか。

答え： \_\_\_\_\_

② ペットボトルに入る水のかさは、何L何dLですか。

答え： \_\_\_\_\_







# 水のかさ 3



● リットル

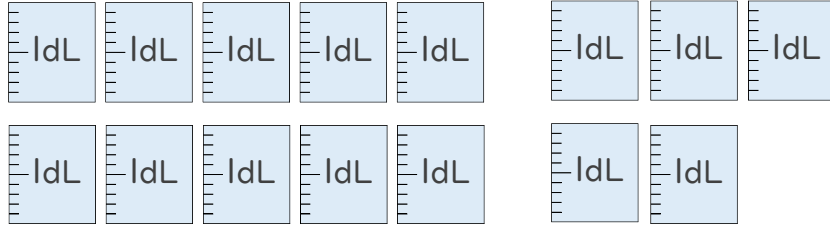
日にち： 月 日

名まえ \_\_\_\_\_

1 つぎのペットボトルに入る水のかさをしらべましょう。



1 L



① ペットボトルに入る水のかさは、何dLですか。

答え： \_\_\_\_\_

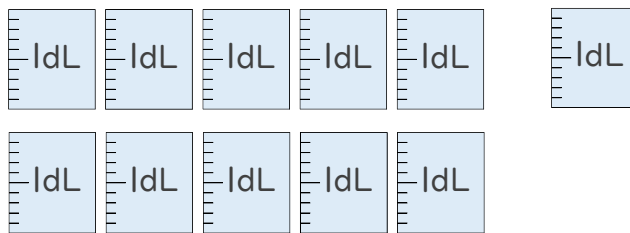
② ペットボトルに入る水のかさは、何L何dLですか。

答え： \_\_\_\_\_

2 つぎのペットボトルに入る水のかさをしらべましょう。



1 L



① ペットボトルに入る水のかさは、何dLですか。

答え： \_\_\_\_\_

② ペットボトルに入る水のかさは、何L何dLですか。

答え： \_\_\_\_\_



# 水のかさ3

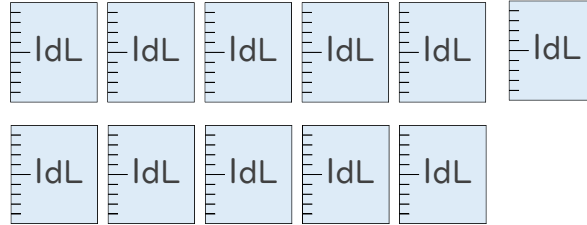
10

● リットル

日にち： 月 日

名まえ \_\_\_\_\_

1 つぎのペットボトルに入る水のかさをしらべましょう。



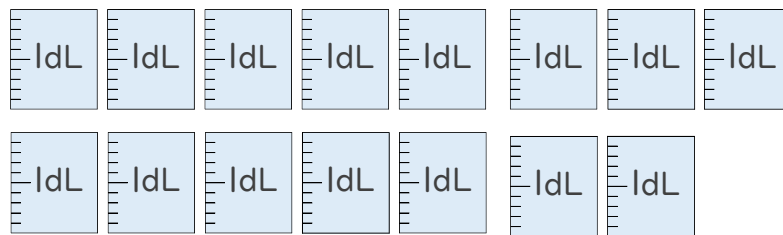
① ペットボトルに入る水のかさは、何dLですか。

答え： \_\_\_\_\_

② ペットボトルに入る水のかさは、何L何dLですか。

答え： \_\_\_\_\_

2 つぎのペットボトルに入る水のかさをしらべましょう。



① ペットボトルに入る水のかさは、何dLですか。

答え： \_\_\_\_\_

② ペットボトルに入る水のかさは、何L何dLですか。

答え： \_\_\_\_\_



# 水のかさ3

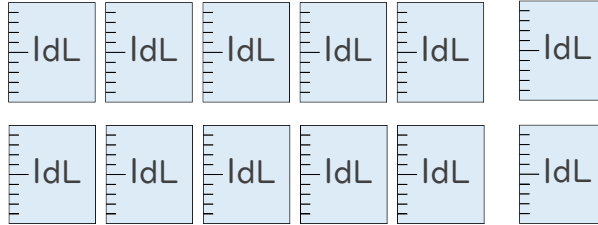
● リットル



日にち： 月 日

名まえ \_\_\_\_\_

1 つぎのペットボトルに入る水のかさをしらべましょう。



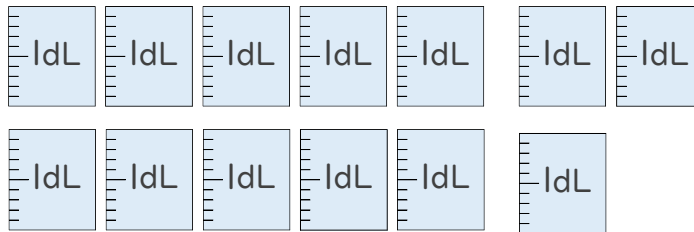
① ペットボトルに入る水のかさは、何dLですか。

答え： \_\_\_\_\_

② ペットボトルに入る水のかさは、何L何dLですか。

答え： \_\_\_\_\_

2 つぎのペットボトルに入る水のかさをしらべましょう。



① ペットボトルに入る水のかさは、何dLですか。

答え： \_\_\_\_\_

② ペットボトルに入る水のかさは、何L何dLですか。

答え： \_\_\_\_\_



# 水のかさ3

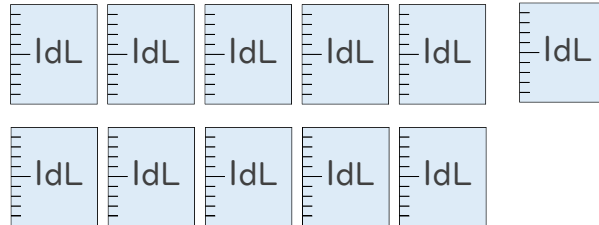
12

● リットル

日にち： 月 日

名まえ \_\_\_\_\_

1 つぎのペットボトルに入る水のかさをしらべましょう。



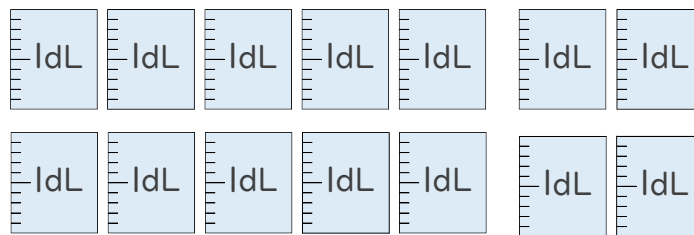
① ペットボトルに入る水のかさは、何dLですか。

答え： \_\_\_\_\_

② ペットボトルに入る水のかさは、何L何dLですか。

答え： \_\_\_\_\_

2 つぎのペットボトルに入る水のかさをしらべましょう。



① ペットボトルに入る水のかさは、何dLですか。

答え： \_\_\_\_\_

② ペットボトルに入る水のかさは、何L何dLですか。

答え： \_\_\_\_\_



# 水のかさ3

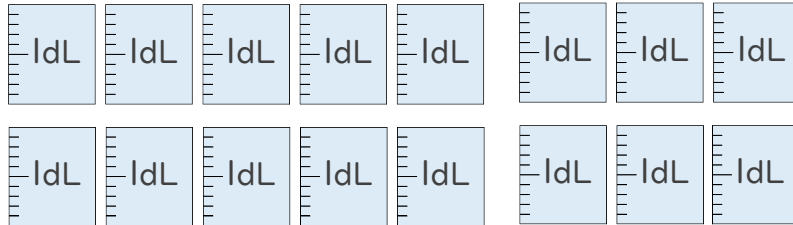
13

● リットル

日にち： 月 日

名まえ \_\_\_\_\_

1 つぎのペットボトルに入る水のかさをしらべましょう。



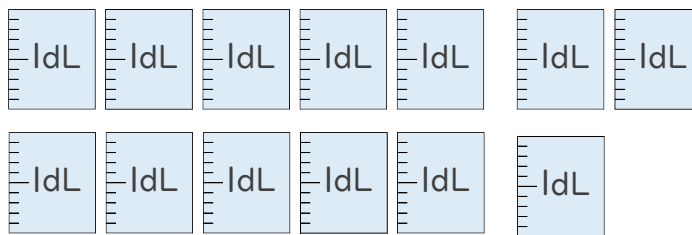
① ペットボトルに入る水のかさは、何dLですか。

答え： \_\_\_\_\_

② ペットボトルに入る水のかさは、何L何dLですか。

答え： \_\_\_\_\_

2 つぎのペットボトルに入る水のかさをしらべましょう。



① ペットボトルに入る水のかさは、何dLですか。

答え： \_\_\_\_\_

② ペットボトルに入る水のかさは、何L何dLですか。

答え： \_\_\_\_\_



# 水のかさ3

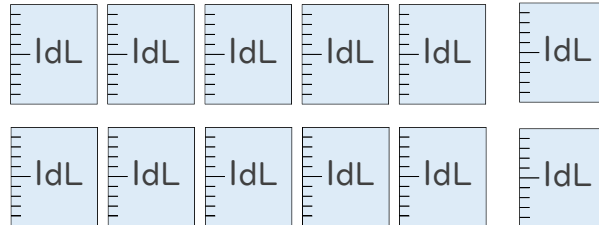
14

● リットル

日にち： 月 日

名まえ \_\_\_\_\_

1 つぎのペットボトルに入る水のかさをしらべましょう。



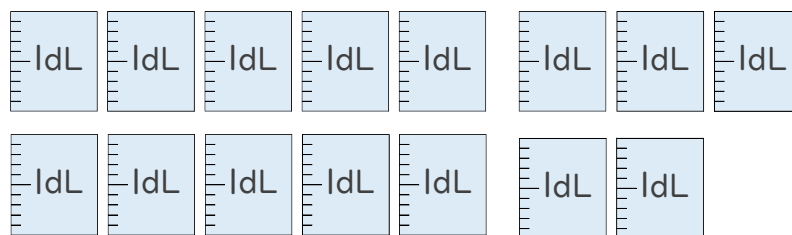
① ペットボトルに入る水のかさは、何dLですか。

答え： \_\_\_\_\_

② ペットボトルに入る水のかさは、何L何dLですか。

答え： \_\_\_\_\_

2 つぎのペットボトルに入る水のかさをしらべましょう。



① ペットボトルに入る水のかさは、何dLですか。

答え： \_\_\_\_\_

② ペットボトルに入る水のかさは、何L何dLですか。

答え： \_\_\_\_\_




# 水のかさ 3

● リットル

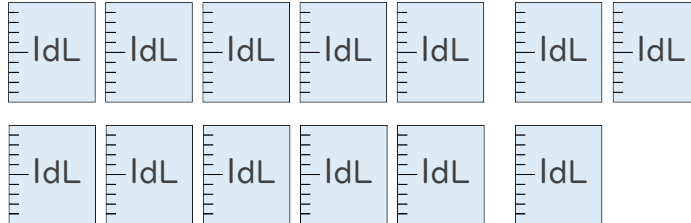
15

目指せ75点!



名まえ

1 つぎの ペットボトルに入る 水のかさを しらべましょう。(各25点)



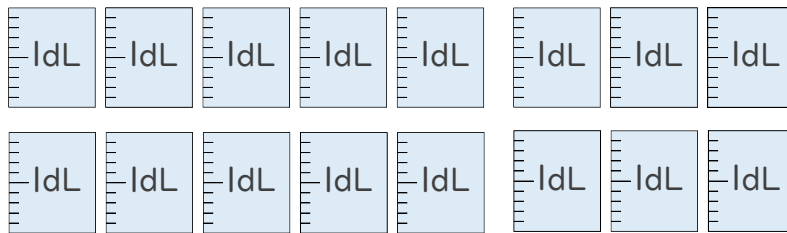
① ペットボトルに入る 水のかさは、何dLですか。

答え：

② ペットボトルに入る 水のかさは、何L何dLですか。

答え：

2 つぎの ペットボトルに入る 水のかさを しらべましょう。(各25点)



① ペットボトルに入る 水のかさは、何dLですか。

答え：

② ペットボトルに入る 水のかさは、何L何dLですか。

答え：






# 水のかさ3

16

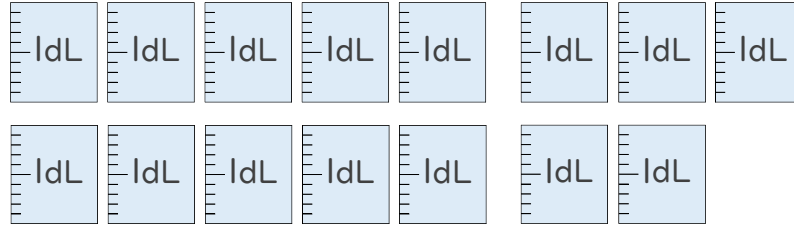
● リットル

目指せ75点!



名まえ

1 つぎのペットボトルに入る水のかさをしらべましょう。(各25点)



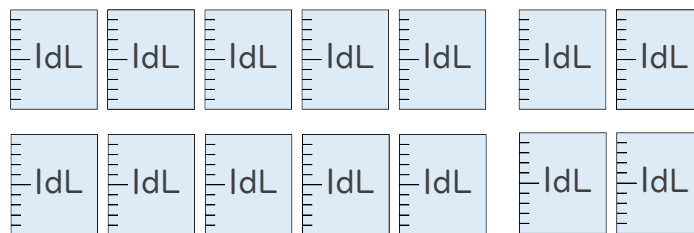
① ペットボトルに入る水のかさは、何dLですか。

答え：

② ペットボトルに入る水のかさは、何L何dLですか。

答え：

2 つぎのペットボトルに入る水のかさをしらべましょう。(各25点)



① ペットボトルに入る水のかさは、何dLですか。

答え：

② ペットボトルに入る水のかさは、何L何dLですか。

答え：





# 水のかさ 3

● リットル



日にち： 月 日

名まえ \_\_\_\_\_

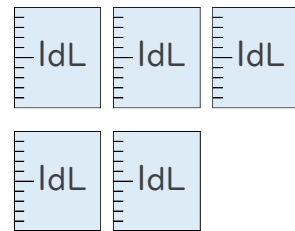
1 大きな かさを あらわすときは、リットルという たんいをつかいます。  
リットルは L と書き、1L は 10dL です。

L の書き方を れんしゅうしましょう。(うすい字はなぞりましょう。)



2 つぎの ペットボトルに入る 水のかさを しらべましょう。

(うすい字はなぞりましょう。)



1 L

① ペットボトルに入る 水のかさは、何dLですか。

答え： 15dL

② ペットボトルに入る 水のかさは、何L何dLですか。

1 L = 10dL だよ！



答え： 1 L 5 dL





# 水のかさ 3

● リットル




日にち： 月 日

名まえ \_\_\_\_\_

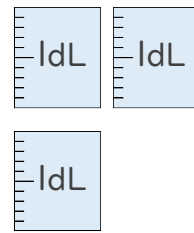
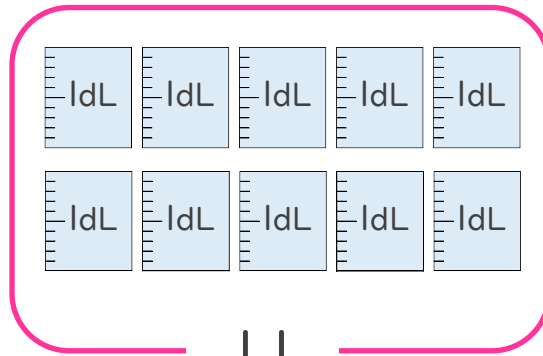
1 大きな かさを あらわすときは、リットルという たんいをつかいます。  
リットルは L と書き、1L は 10dL です。

L の書き方を れんしゅうしましょう。(うすい字はなぞりましょう。)



2 つぎの ペットボトルに入る 水のかさを しらべましょう。

(うすい字はなぞりましょう。)



① ペットボトルに入る 水のかさは、何dLですか。

答え： 13dL

② ペットボトルに入る 水のかさは、何L何dLですか。

1L = 10dL だよ！



答え： 1L3dL

② 確認 答え



すらすらぷりんと



# 水のかさ 3

● リットル



日にち： 月 日

名まえ \_\_\_\_\_

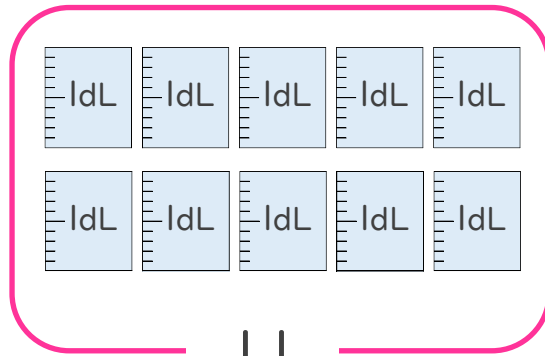
1 大きな かさを あらわすときは、リットルという たんいをつかいます。  
リットルは L と書き、1L は 10dL です。

L の書き方を れんしゅうしましょう。(うすい字はなぞりましょう。)



2 つぎの ペットボトルに入る 水のかさを しらべましょう。

(うすい字はなぞりましょう。)



① ペットボトルに入る 水のかさは、何dLですか。

答え： 11dL

② ペットボトルに入る 水のかさは、何L何dLですか。

1L = 10dL だよ！



答え： 1L 1dL

③ 確認 答え



すらすらぷりんと



# 水のかさ3

● リットル



日にち： 月 日

名まえ \_\_\_\_\_

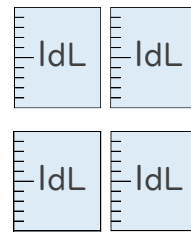
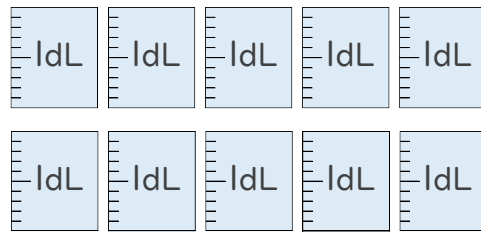
1 大きな かさを あらわすときは、リットルという たんいをつかいます。  
リットルは L と書き、1L は 10dL です。

L の書き方を れんしゅうしましょう。(うすい字はなぞりましょう。)



2 つぎの ペットボトルに入る 水のかさを しらべましょう。

(うすい字はなぞりましょう。)



1 L

① ペットボトルに入る 水のかさは、何dLですか。

答え： 14dL

② ペットボトルに入る 水のかさは、何L何dLですか。

1 L = 10dL だよ！



答え： 1 L 4 dL





# 水のかさ 3

# 5

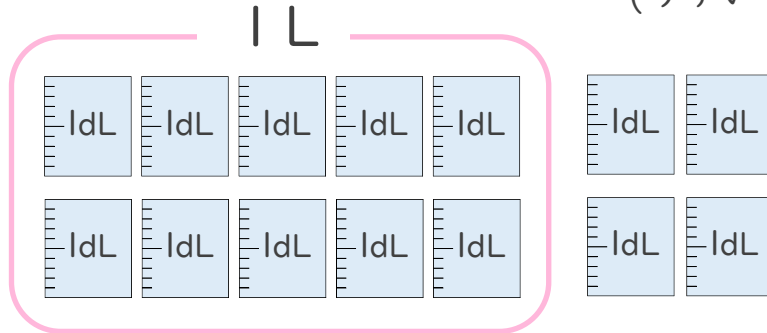
● リットル

日にち： 月 日

名まえ \_\_\_\_\_

1 つぎのペットボトルに入る水のかさをしらべましょう。

(うすい字はなぞりましょう。)



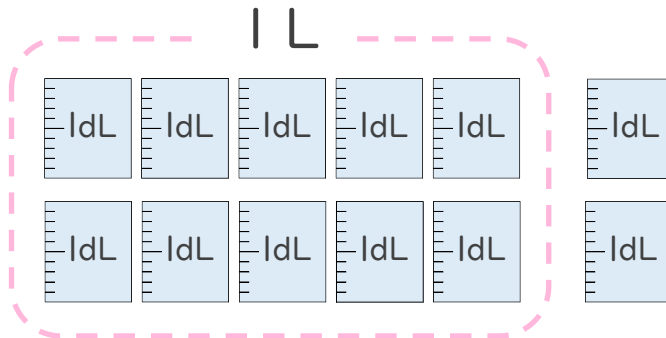
① ペットボトルに入る水のかさは、何dLですか。

答え： 140dL

② ペットボトルに入る水のかさは、何L何dLですか。

答え： 1L40dL

2 つぎのペットボトルに入る水のかさをしらべましょう。



① ペットボトルに入る水のかさは、何dLですか。

答え： 20dL

② ペットボトルに入る水のかさは、何L何dLですか。

答え： 1L20dL



# 水のかさ 3

# 6

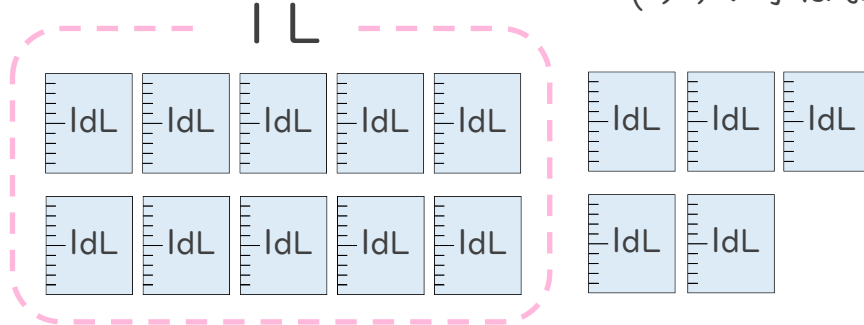
● リットル

日にち： 月 日

名まえ \_\_\_\_\_

1 つぎのペットボトルに入る水のかさをしらべましょう。

(うすい字はなぞりましょう。)



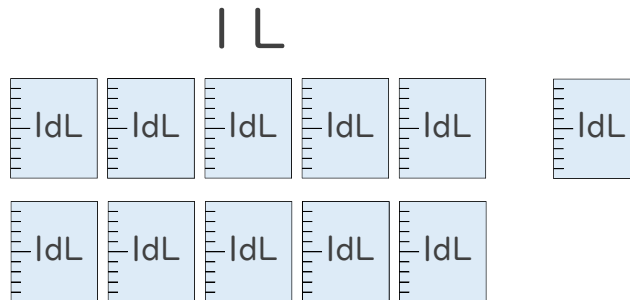
① ペットボトルに入る水のかさは、何dLですか。

答え： 15dL

② ペットボトルに入る水のかさは、何L何dLですか。

答え： 1L5dL

2 つぎのペットボトルに入る水のかさをしらべましょう。



① ペットボトルに入る水のかさは、何dLですか。

答え： 11dL

② ペットボトルに入る水のかさは、何L何dLですか。

答え： 1L1dL



# 水のかさ 3

● リットル



日にち： 月 日

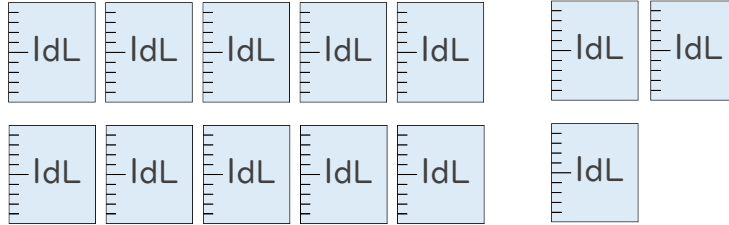
名まえ \_\_\_\_\_

1 つぎの ペットボトルに入る 水のかさを しらべましょう。

(うすい字はなぞりましょう。)



1 L



① ペットボトルに入る 水のかさは、何dLですか。

答え： 33 dL

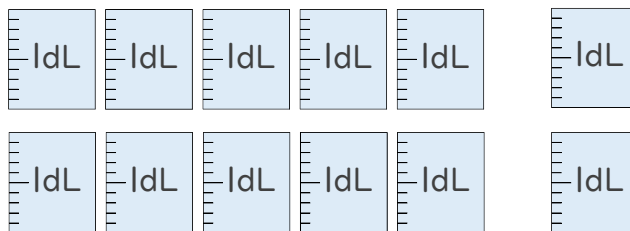
② ペットボトルに入る 水のかさは、何L何dLですか。

答え： 0 L 33 dL

2 つぎの ペットボトルに入る 水のかさを しらべましょう。



1 L



① ペットボトルに入る 水のかさは、何dLですか。

答え： 20 dL

② ペットボトルに入る 水のかさは、何L何dLですか。

答え： 0 L 20 dL



# 水のかさ 3

● リットル



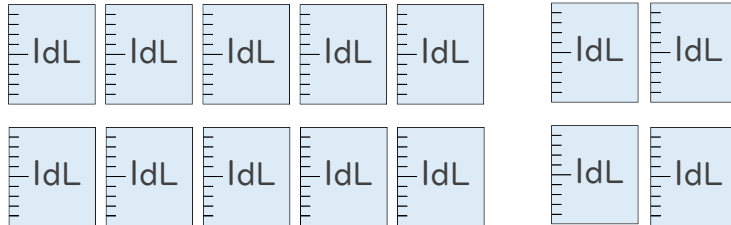
日にち： 月 日

名まえ \_\_\_\_\_

1 つぎのペットボトルに入る水のかさをしらべましょう。



1 L



① ペットボトルに入る水のかさは、何dLですか。

答え： 44dL

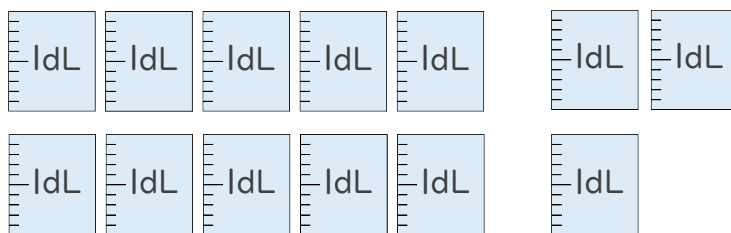
② ペットボトルに入る水のかさは、何L何dLですか。

答え： 0 L 44 dL

2 つぎのペットボトルに入る水のかさをしらべましょう。



1 L



① ペットボトルに入る水のかさは、何dLですか。

答え： 33dL

② ペットボトルに入る水のかさは、何L何dLですか。

答え： 0 L 33 dL





# 水のかさ 3



● リットル

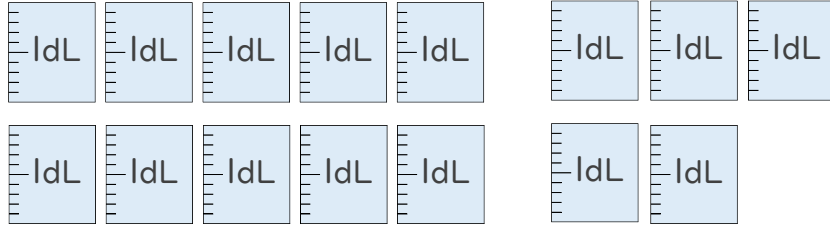
日にち： 月 日

名まえ \_\_\_\_\_

1 つぎの ペットボトルに入る 水のかさを しらべましょう。



1 L



① ペットボトルに入る 水のかさは、何dLですか。

答え： 15dL

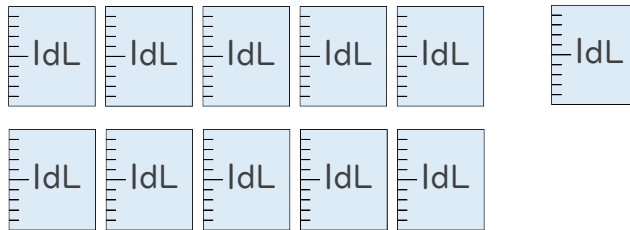
② ペットボトルに入る 水のかさは、何L何dLですか。

答え： 1 L 5 dL

2 つぎの ペットボトルに入る 水のかさを しらべましょう。



1 L



① ペットボトルに入る 水のかさは、何dLですか。

答え： 11dL

② ペットボトルに入る 水のかさは、何L何dLですか。

答え： 1 L 1 dL





# 水のかさ 3

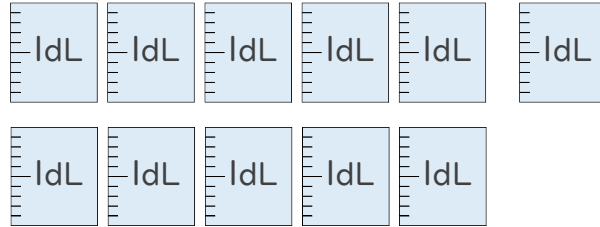
10

● リットル

日にち： 月 日

名まえ \_\_\_\_\_

1 つぎの ペットボトルに入る 水のかさを しらべましょう。



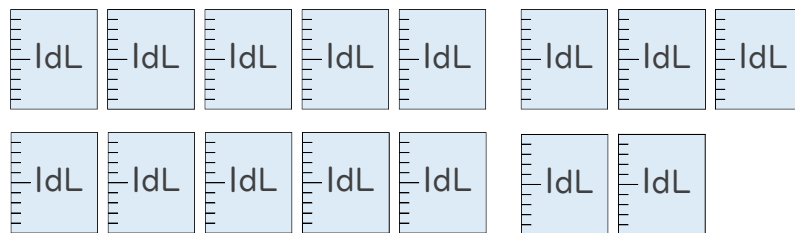
① ペットボトルに入る 水のかさは、何dLですか。

答え： 11dL

② ペットボトルに入る 水のかさは、何L何dLですか。

答え： 1L1dL

2 つぎの ペットボトルに入る 水のかさを しらべましょう。



① ペットボトルに入る 水のかさは、何dLですか。

答え： 15dL

② ペットボトルに入る 水のかさは、何L何dLですか。

答え： 1L5dL





# 水のかさ3

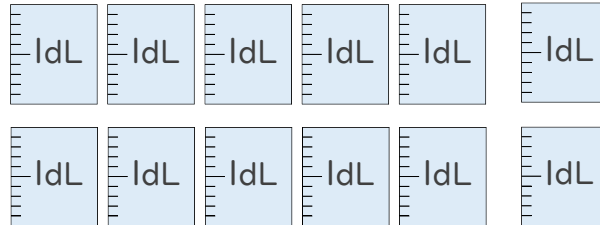
● リットル



日にち： 月 日

名まえ \_\_\_\_\_

1 つぎのペットボトルに入る水のかさをしらべましょう。



① ペットボトルに入る水のかさは、何dLですか。

答え： 12dL

② ペットボトルに入る水のかさは、何L何dLですか。

答え： 1L2dL

2 つぎのペットボトルに入る水のかさをしらべましょう。



① ペットボトルに入る水のかさは、何dLですか。

答え： 13dL

② ペットボトルに入る水のかさは、何L何dLですか。

答え： 1L3dL





# 水のかさ3

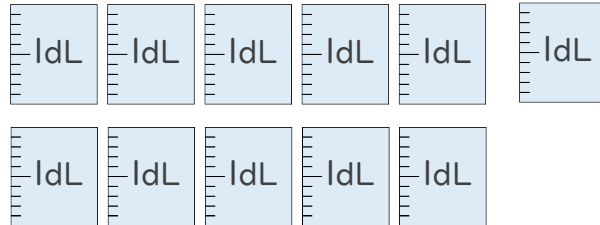
12

● リットル

日にち： 月 日

名まえ \_\_\_\_\_

1 つぎのペットボトルに入る水のかさをしらべましょう。



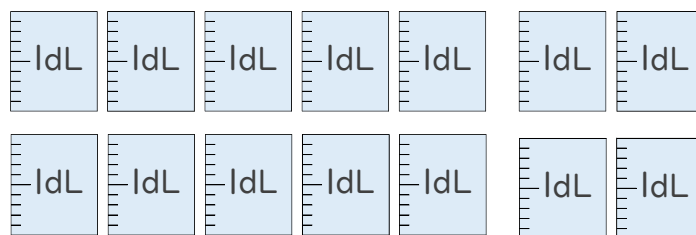
① ペットボトルに入る水のかさは、何dLですか。

答え： 11dL

② ペットボトルに入る水のかさは、何L何dLですか。

答え： 1L1dL

2 つぎのペットボトルに入る水のかさをしらべましょう。



① ペットボトルに入る水のかさは、何dLですか。

答え： 14dL

② ペットボトルに入る水のかさは、何L何dLですか。

答え： 1L4dL



# 水のかさ 3

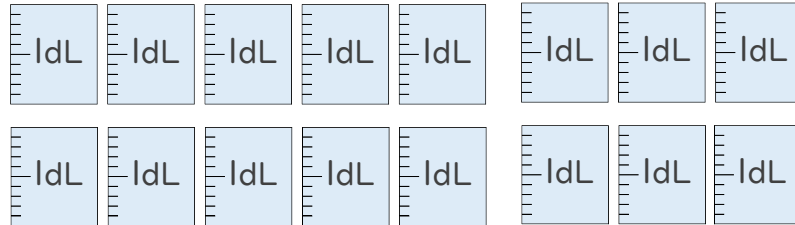
13

● リットル

日にち： 月 日

名まえ \_\_\_\_\_

1 つぎの ペットボトルに入る 水のかさを しらべましょう。



① ペットボトルに入る 水のかさは、何dLですか。

答え： 16dL

② ペットボトルに入る 水のかさは、何L何dLですか。

答え： 1L6dL

2 つぎの ペットボトルに入る 水のかさを しらべましょう。



① ペットボトルに入る 水のかさは、何dLですか。

答え： 13dL

② ペットボトルに入る 水のかさは、何L何dLですか。

答え： 1L3dL



# 水のかさ 3

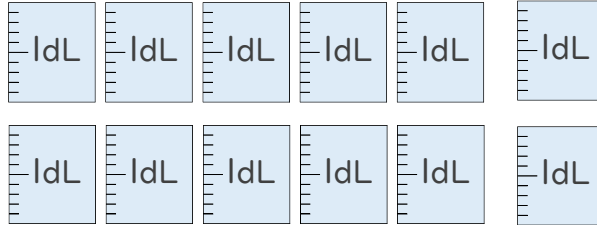
14

● リットル

日にち： 月 日

名まえ \_\_\_\_\_

1 つぎのペットボトルに入る水のかさをしらべましょう。



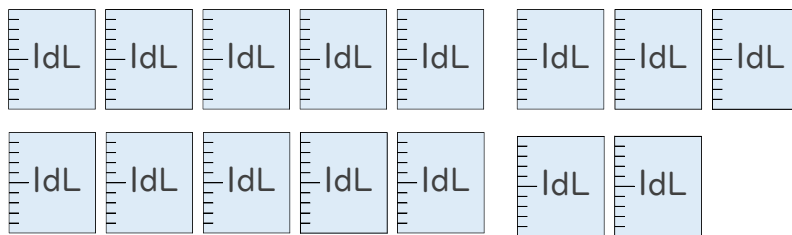
① ペットボトルに入る水のかさは、何dLですか。

答え： 12dL

② ペットボトルに入る水のかさは、何L何dLですか。

答え： 1L2dL

2 つぎのペットボトルに入る水のかさをしらべましょう。



① ペットボトルに入る水のかさは、何dLですか。

答え： 15dL

② ペットボトルに入る水のかさは、何L何dLですか。

答え： 1L5dL




# 水のかさ 3

# 15

● リットル

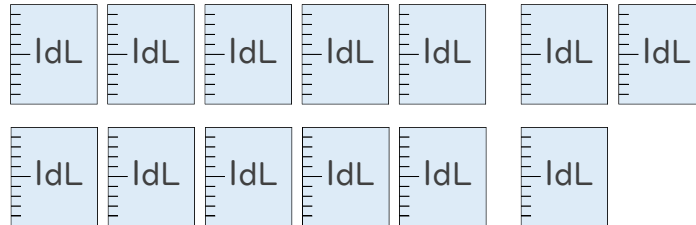
目指せ75点!



名まえ

---

1 つぎの ペットボトルに入る 水のかさを しらべましょう。(各25点)



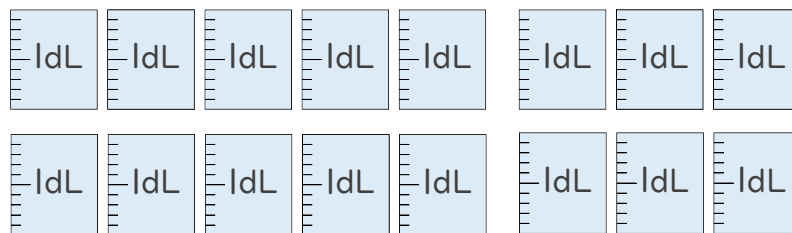
① ペットボトルに入る 水のかさは、何dLですか。

答え： 1 3dL

② ペットボトルに入る 水のかさは、何L何dLですか。

答え： 1 L 3 dL

2 つぎの ペットボトルに入る 水のかさを しらべましょう。(各25点)



① ペットボトルに入る 水のかさは、何dLですか。

答え： 1 6dL

② ペットボトルに入る 水のかさは、何L何dLですか。

答え： 1 L 6 dL



# 水のかさ3

16

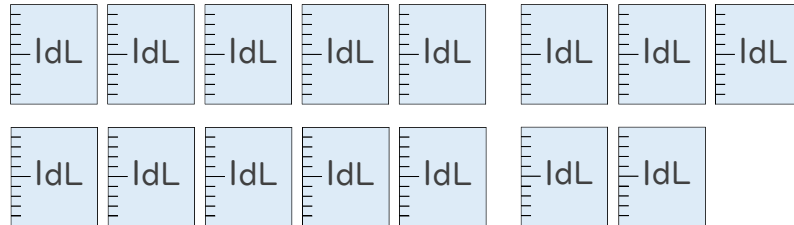
● リットル

目指せ75点!



名まえ

1 つぎのペットボトルに入る水のかさをしらべましょう。(各25点)



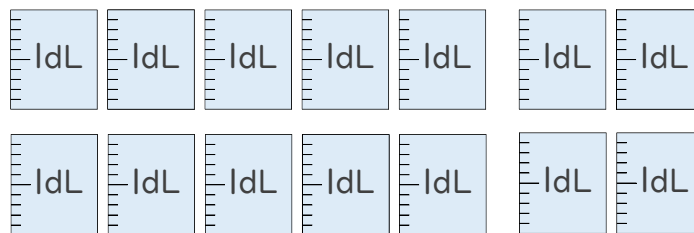
① ペットボトルに入る水のかさは、何dLですか。

答え： 15dL

② ペットボトルに入る水のかさは、何L何dLですか。

答え： 1L5dL

2 つぎのペットボトルに入る水のかさをしらべましょう。(各25点)



① ペットボトルに入る水のかさは、何dLですか。

答え： 14dL

② ペットボトルに入る水のかさは、何L何dLですか。

答え： 1L4dL