



水のかさ4

● リットルとデシリットル



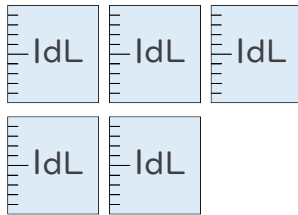
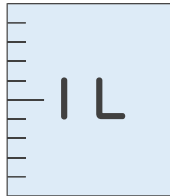
日にち： 月 日

名まえ _____

- 水のかさはどれだけですか。
それぞれのたんいであらわしましょう。

(うすい字はなぞりましょう。)

①



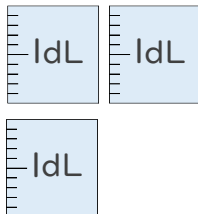
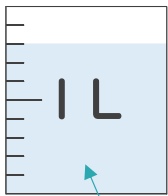
(1 L 5 dL)

(dL)

1 L = 10 dL だよ！



②



(1 L 1 dL)

(11 dL)

1 目もり 1 dL だから

8 dL

いっぱいになっていないマスに
ちゅういしよう！





水のかさ4

● リットルとデシリットル



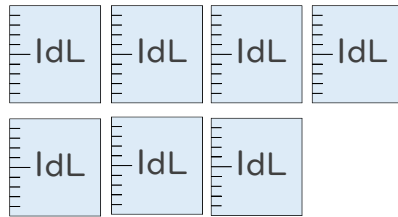
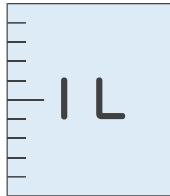
日にち： 月 日

名まえ _____

- 水のかさはどれだけですか。
それぞれのたんいであらわしましょう。

(うすい字はなぞりましょう。)

①



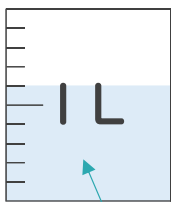
(1 L 7 dL)

(17 dL)

1 L = 10 dLだよ!



②



(1 L 1 dL)

(dL)

1 目もり 1 dLだから

6 dL

いっぱいになっていないマスに
ちゅういしよう!





水のかさ4

● リットルとデシリットル



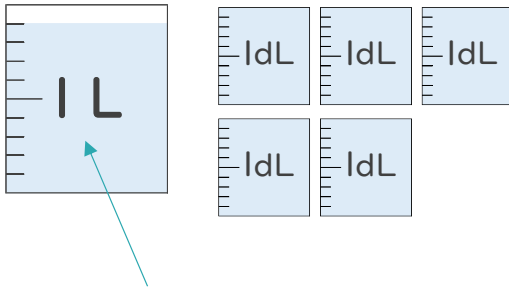
日にち： 月 日

名まえ _____

- ・ 水のかさはどれだけですか。
それぞれのたんいであらわしましょう。

(うすい字はなぞりましょう。)

①



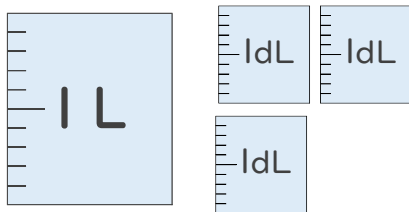
(1 L 4 dL)

(dL)

1目もり 1 dLだから

9 dL

②



(L dL)

(dL)

1 L = 10 dLだよ!



いっぱいになっていないマスに
ちゅういしよう!





水のかさ4

● リットルとデシリットル



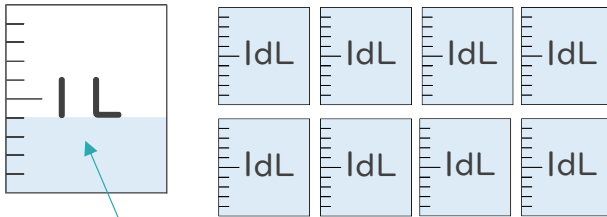
日にち： 月 日

名まえ _____

- 水のかさはどれだけですか。
それぞれのたんいであらわしましょう。

(うすい字はなぞりましょう。)

①



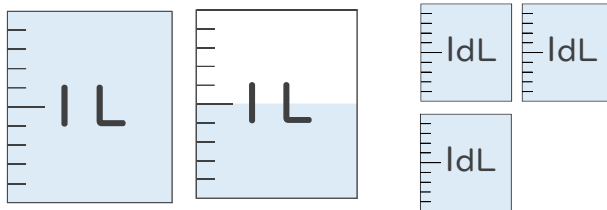
(1 L 2 dL)

(dL)

1 目もり 1 dLだから

dL

②



(1 L 8 dL)

(dL)

1 L = 10 dLだよ!



いっぱいになっていないマスに
ちゅういしよう!





水のかさ4

● リットルとデシリットル



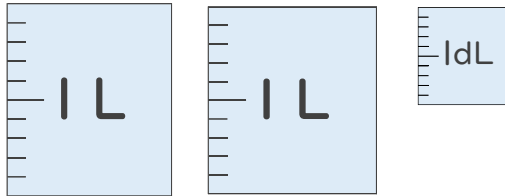
日にち： 月 日

名まえ _____

- 水のかさはどれだけですか。
それぞれのたんいであらわしましょう。

(うすい字はなぞりましょう。)

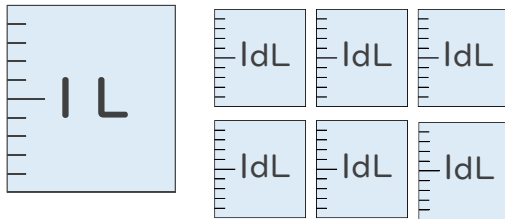
①



(2 L 1 dL)

(21 dL)

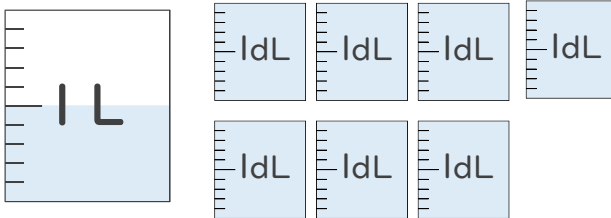
②



(L dL)

(dL)

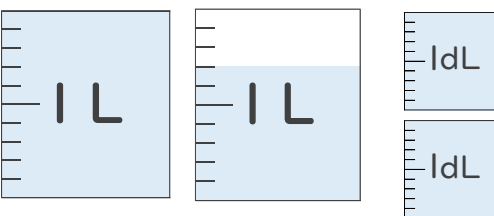
③



(L dL)

(dL)

④



(1 L 9 dL)

(19 dL)



水のかさ4

● リットルとデシリットル



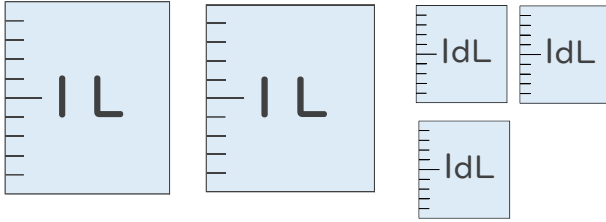
日にち： 月 日

名まえ _____

- 水のかさはどれだけですか。
それぞれのたんいであらわしましょう。

(うすい字はなぞりましょう。)

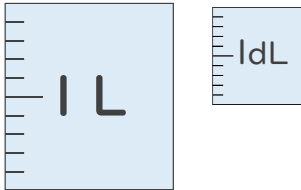
①



(2 L 3 dL)

(23 dL)

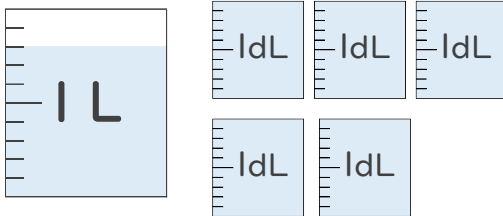
②



(L dL)

(dL)

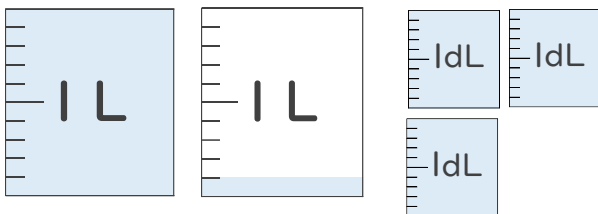
③



(L dL)

(dL)

④



(1 L 4 dL)

(dL)



水のかさ4

リットルとデシリットル



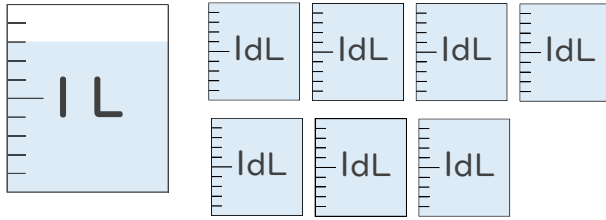
日にち： 月 日

名まえ _____

- 水のかさはどれだけですか。
それぞれのたんいであらわしましょう。

(うすい字はなぞりましょう。)

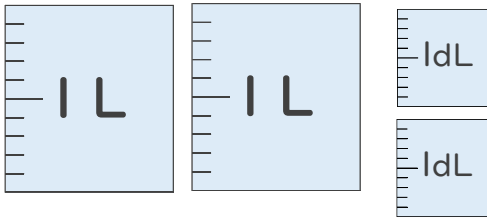
①



(1 L 5 dL)

(dL)

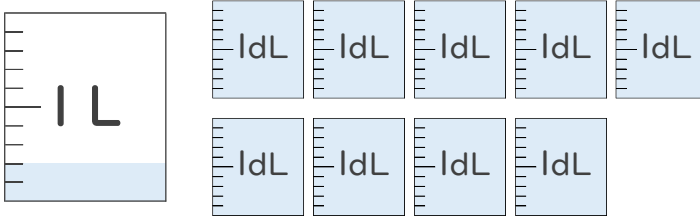
②



(2 L 2 dL)

(dL)

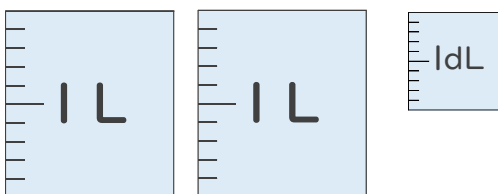
③



(L dL)

(dL)

④



(L dL)

(dL)



水のかさ4

リットルとデシリットル

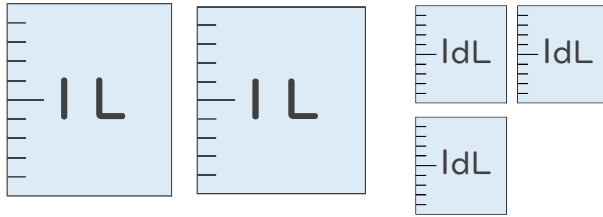


日にち： 月 日

名まえ _____

- 水のかさはどれだけですか。
それぞれのたんいであらわしましょう。

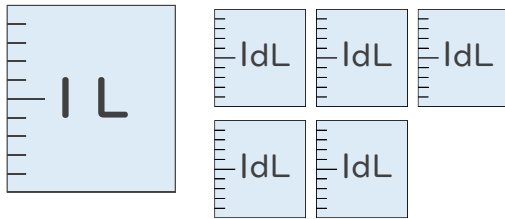
①



(L dL)

(dL)

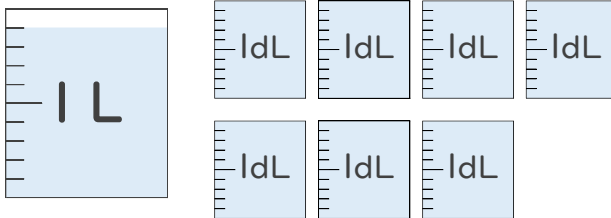
②



(L dL)

(dL)

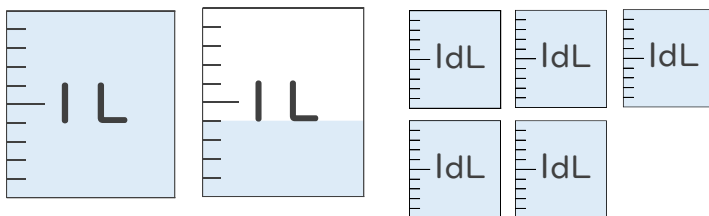
③



(L dL)

(dL)

④



(L dL)

(dL)



水のかさ4

● リットルとデシリットル

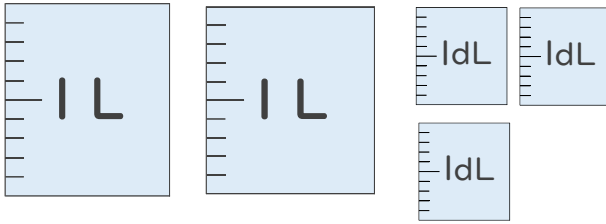


日にち： 月 日

名まえ _____

- 水のかさはどれだけですか。
それぞれのたんいであらわしましょう。

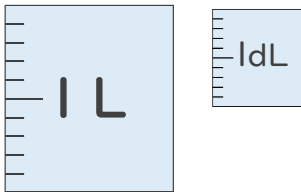
①



(L dL)

(dL)

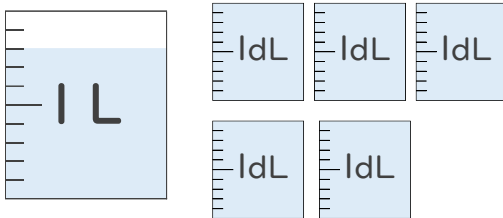
②



(L dL)

(dL)

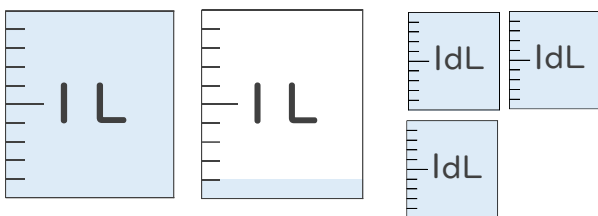
③



(L dL)

(dL)

④



(L dL)

(dL)



水のかさ4

リットルとデシリットル

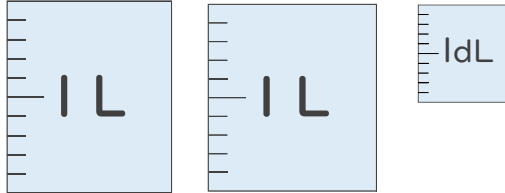


日にち： 月 日

名まえ _____

1 水のかさはどれだけですか。
それぞれのたんいであらわしましょう。

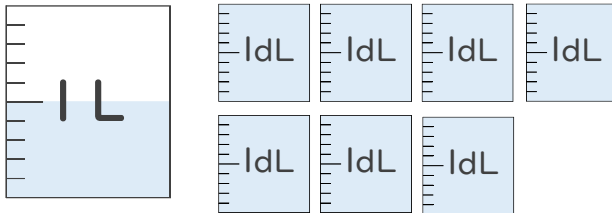
①



(1 L 1 dL)

(2 L 1 dL)

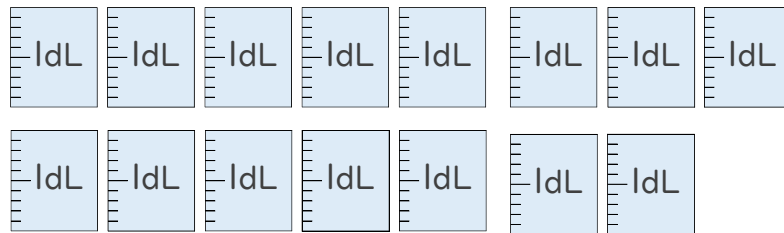
②



(1 L 7 dL)

(1 L 7 dL)

2 つぎのペットボトルに入る水のかさをしらべましょう。



① ペットボトルに入る水のかさは、何dLですか。

答え： _____

② ペットボトルに入る水のかさは、何L何dLですか。

答え： _____





水のかさ4

● リットルとデシリットル

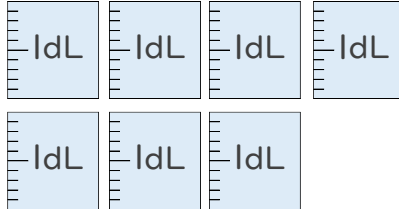


日にち： 月 日

名まえ _____

1 水のかさはどれだけですか。
それぞれのたんいであらわしましょう。

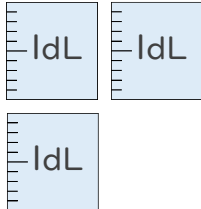
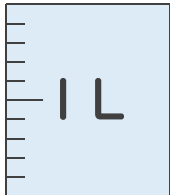
①



(L dL)

(dL)

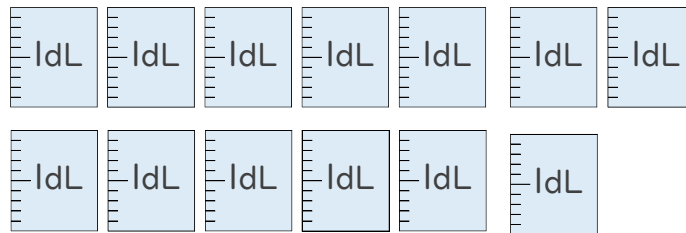
②



(L dL)

(dL)

2 つぎのペットボトルに入る水のかさをしらべましょう。



① ペットボトルに入る水のかさは、何dLですか。

答え： _____

② ペットボトルに入る水のかさは、何L何dLですか。

答え： _____





水のかさ4

● リットルとデシリットル

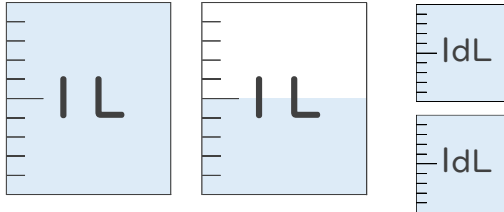
12

日にち： 月 日

名まえ _____

1 水のかさはどれだけですか。
それぞれのたんいであらわしましょう。

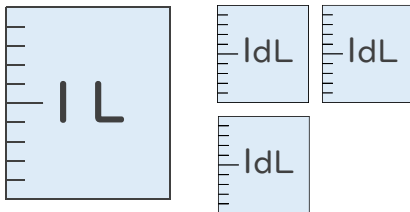
①



(L dL)

(dL)

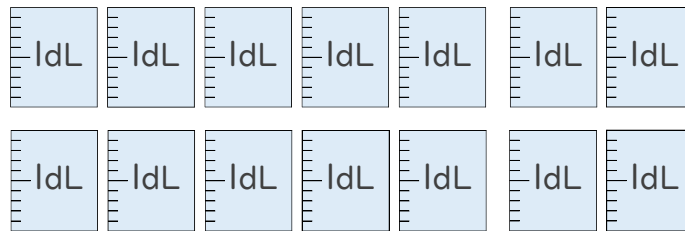
②



(L dL)

(dL)

2 つぎのペットボトルに入る水のかさをしらべましょう。



① ペットボトルに入る水のかさは、何dLですか。

答え： _____

② ペットボトルに入る水のかさは、何L何dLですか。

答え： _____





水のかさ4

リットルとデシリットル

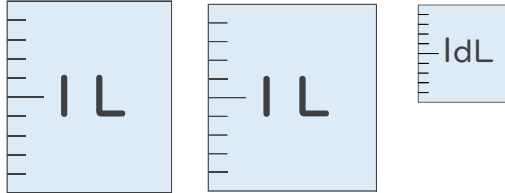


日にち： 月 日

名まえ

1 水のかさはどれだけですか。
それぞれのたんいであらわしましょう。

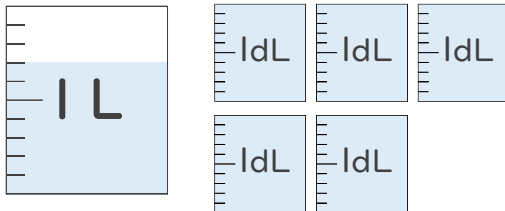
①



(1 L 1 dL)

(2 L 1 dL)

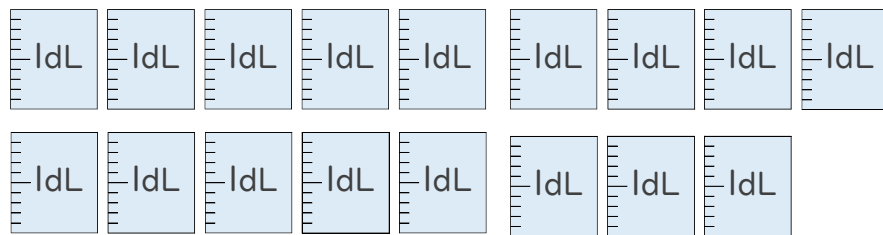
②



(1 L 5 dL)

(1 L 5 dL)

2 つぎのペットボトルに入る水のかさをしらべましょう。



① ペットボトルに入る水のかさは、何dLですか。

答え：

② ペットボトルに入る水のかさは、何L何dLですか。

答え：





水のかさ4

● リットルとデシリットル

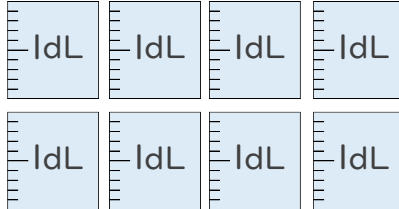


日にち： 月 日

名まえ _____

1 水のかさはどれだけですか。
それぞれのたんいであらわしましょう。

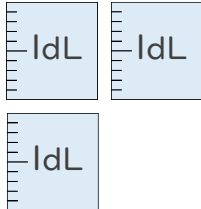
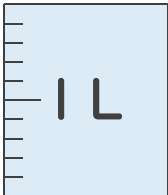
①



(L dL)

(dL)

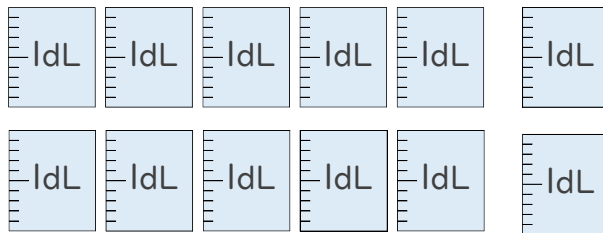
②



(L dL)

(dL)

2 つぎのペットボトルに入る水のかさをしらべましょう。



① ペットボトルに入る水のかさは、何dLですか。

答え： _____

② ペットボトルに入る水のかさは、何L何dLですか。

答え： _____





水のかさ4

リットルとデシリットル

15

目指せ90点!

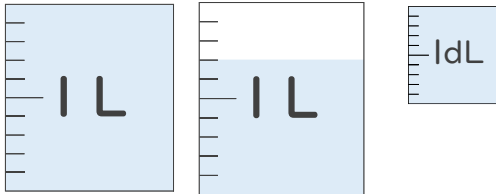


名まえ

1 水のかさはどれだけですか。

それぞれのたんいであらわしましょう。(各20点)

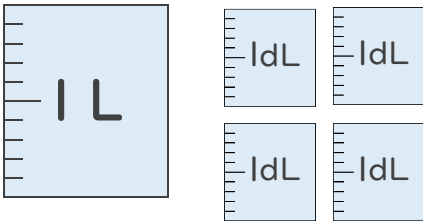
①



(L dL)

(dL)

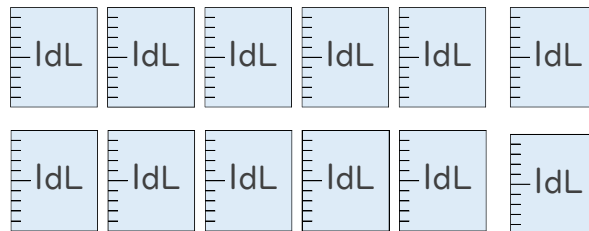
②



(L dL)

(dL)

2 つぎのペットボトルに入る水のかさをしらべましょう。(各10点)



① ペットボトルに入る水のかさは、何dLですか。

答え：

② ペットボトルに入る水のかさは、何L何dLですか。

答え：





水のかさ4

リットルとデシリットル

16

目指せ90点!

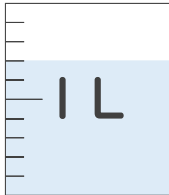


名まえ

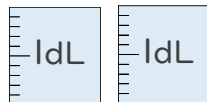
1 水のかさはどれだけですか。

それぞれのたんいであらわしましょう。(各20点)

①

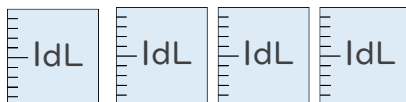
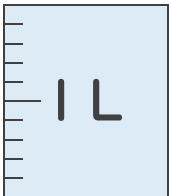


(L dL)

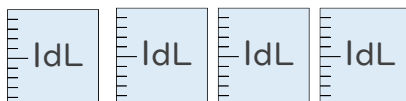


(dL)

②

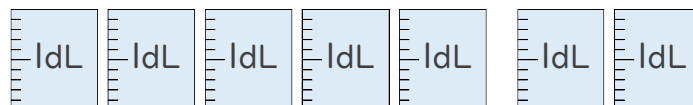


(L dL)



(dL)

2 つぎのペットボトルに入る水のかさをしらべましょう。(各10点)



① ペットボトルに入る水のかさは、何dLですか。

答え：

② ペットボトルに入る水のかさは、何L何dLですか。

答え：





水のかさ4

● リットルとデシリットル



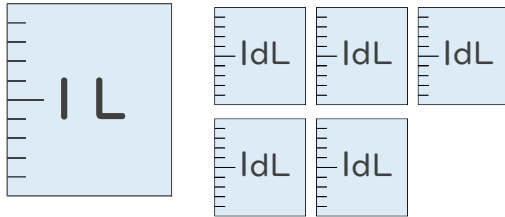
日にち： 月 日

名まえ _____

- 水のかさはどれだけですか。
それぞれのたんいであらわしましょう。

(うすい字はなぞりましょう。)

①



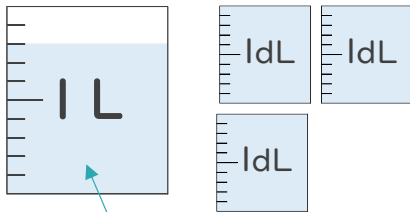
(1 L 5 dL)

(15 dL)

1 L = 10 dL だよ！



②



(1 L 1 dL)

(11 dL)

1 目もり 1 dL だから

8 dL

いっぱいになっていないマスに
ちゅういしよう！





水のかさ4

● リットルとデシリットル



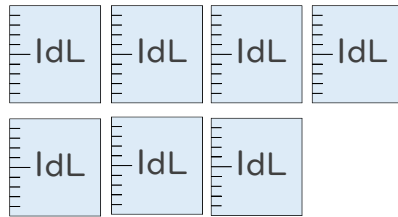
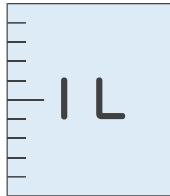
日にち： 月 日

名まえ _____

- 水のかさはどれだけですか。
それぞれのたんいであらわしましょう。

(うすい字はなぞりましょう。)

①



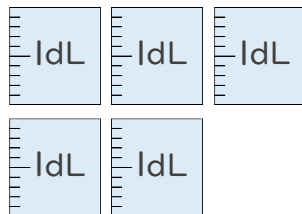
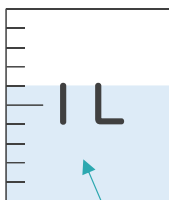
(1 L 7 dL)

(17 dL)

1 L = 10 dLだよ!



②



(1 L 1 dL)

(11 dL)

1 目もり 1 dLだから

6 dL

いっぱいになっていないマスに
ちゅういしよう!





水のかさ4

● リットルとデシリットル



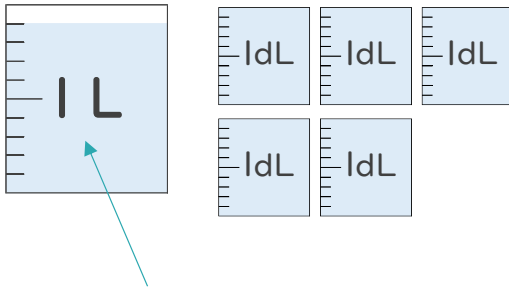
日にち： 月 日

名まえ _____

- 水のかさはどれだけですか。
それぞれのたんいであらわしましょう。

(うすい字はなぞりましょう。)

①



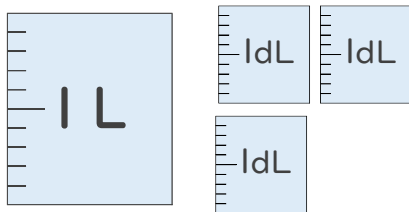
(1 L 4 dL)

(14 dL)

1 目もり 1 dL だから

9 dL

②



(3 L 3 dL)

(33 dL)

1 L = 10 dL だよ!



いっぱいになっていないマスに
ちゅういしよう!





水のかさ4

● リットルとデシリットル



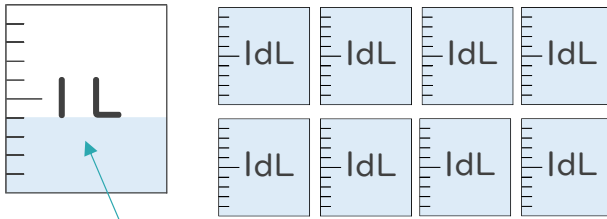
日にち： 月 日

名まえ _____

- 水のかさはどれだけですか。
それぞれのたんいであらわしましょう。

(うすい字はなぞりましょう。)

①



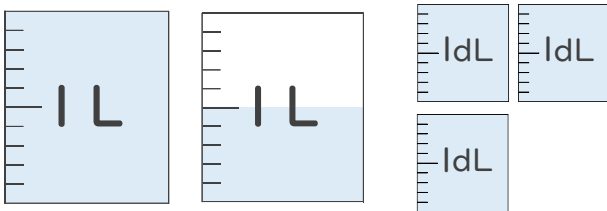
(1 L 2 dL)

(12 dL)

1 目もり 1 dLだから

4 dL

②



(1 L 8 dL)

(18 dL)

1 L = 10 dLだよ!



いっぱいになっていないマスに
ちゅういしよう!





水のかさ4

● リットルとデシリットル

5

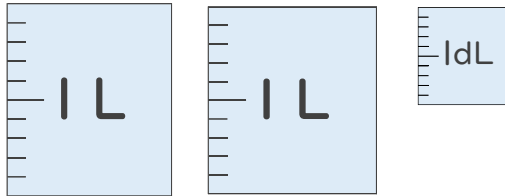
日にち： 月 日

名まえ _____

- 水のかさはどれだけですか。
それぞれのたんいであらわしましょう。

(うすい字はなぞりましょう。)

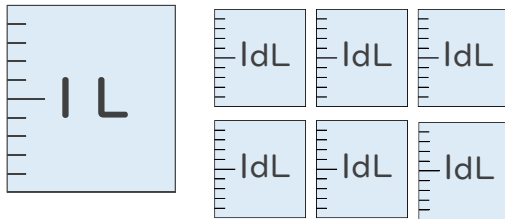
①



(2 L 1 dL)

(2 l dL)

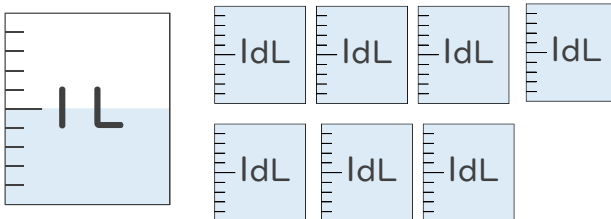
②



(1 L 6 dL)

(16 dL)

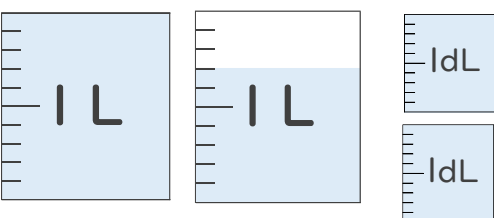
③



(1 L 2 dL)

(12 dL)

④



(1 L 9 dL)

(19 dL)



水のかさ4

● リットルとデシリットル



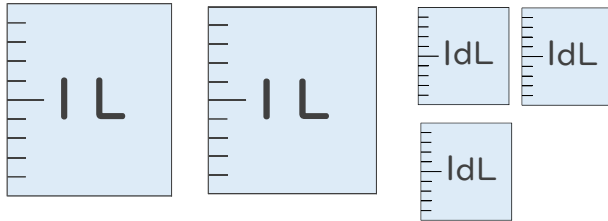
日にち： 月 日

名まえ _____

- 水のかさはどれだけですか。
それぞれのたんいであらわしましょう。

(うすい字はなぞりましょう。)

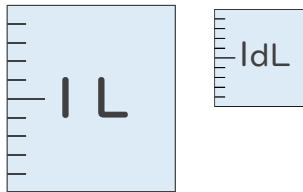
①



(2 L 3 dL)

(23 dL)

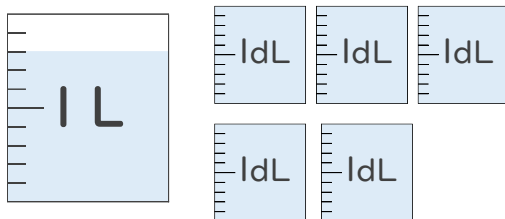
②



(1 L 1 dL)

(11 dL)

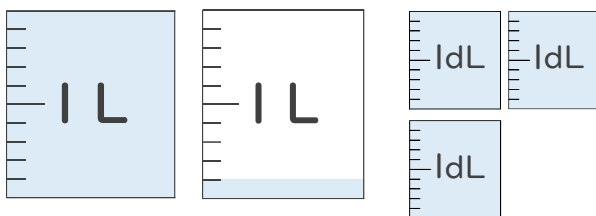
③



(1 L 3 dL)

(13 dL)

④



(1 L 4 dL)

(14 dL)



水のかさ4

リットルとデシリットル



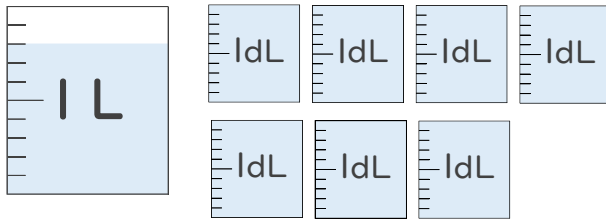
日にち： 月 日

名まえ _____

- 水のかさはどれだけですか。
それぞれのたんいであらわしましょう。

(うすい字はなぞりましょう。)

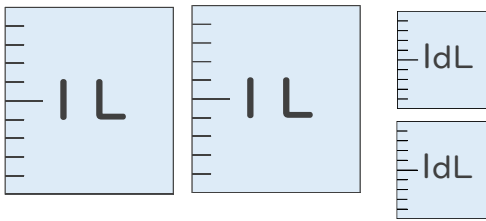
①



(1 L 5 dL)

(15 dL)

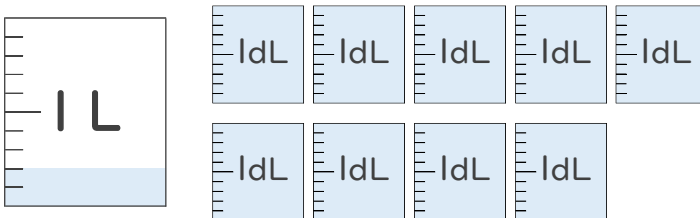
②



(2 L 2 dL)

(22 dL)

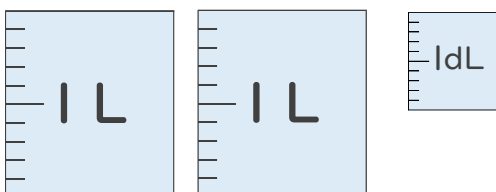
③



(1 L 1 dL)

(11 dL)

④



(2 L 1 dL)

(21 dL)



水のかさ4

リットルとデシリットル

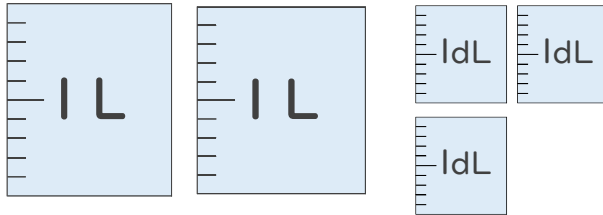


日にち： 月 日

名まえ _____

- 水のかさはどれだけですか。
それぞれのたんいであらわしましょう。

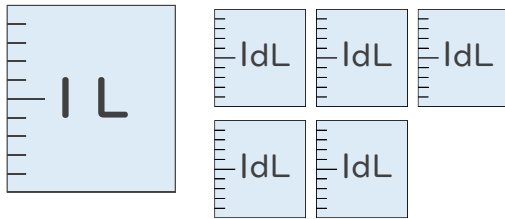
①



(2 L 3 dL)

(23 dL)

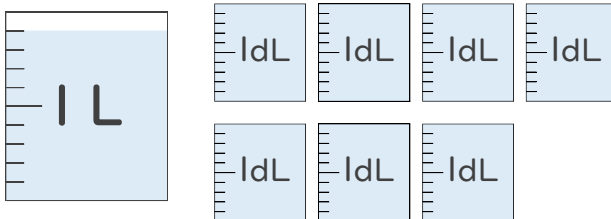
②



(1 L 5 dL)

(15 dL)

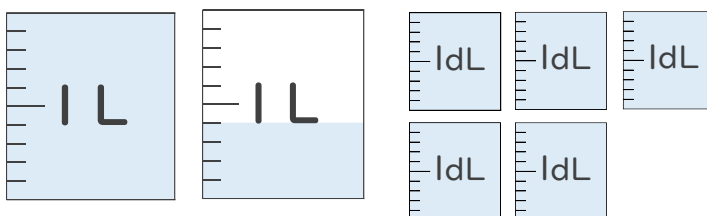
③



(1 L 6 dL)

(16 dL)

④



(1 L 9 dL)

(19 dL)



水のかさ4

● リットルとデシリットル

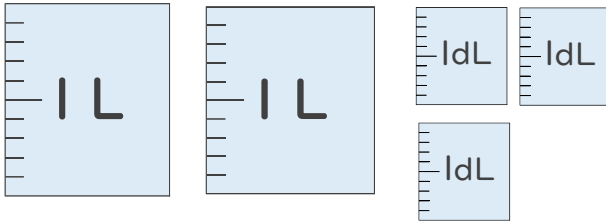


日にち： 月 日

名まえ _____

- 水のかさはどれだけですか。
それぞれのたんいであらわしましょう。

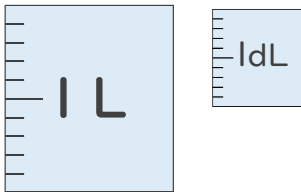
①



(2 L 3 dL)

(23 dL)

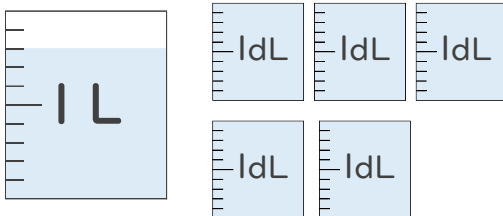
②



(1 L 1 dL)

(11 dL)

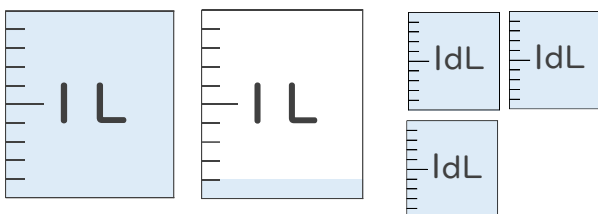
③



(1 L 3 dL)

(13 dL)

④



(1 L 4 dL)

(14 dL)



水のかさ4

リットルとデシリットル

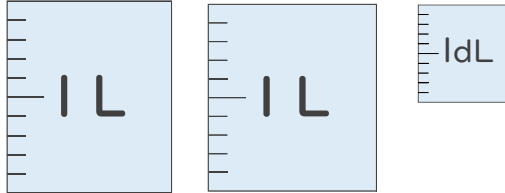


日にち： 月 日

名まえ _____

1 水のかさはどれだけですか。
それぞれのたんいであらわしましょう。

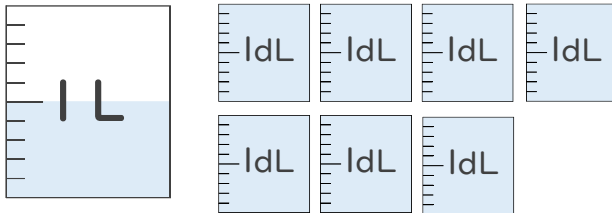
①



(2 L 1 dL)

(21 dL)

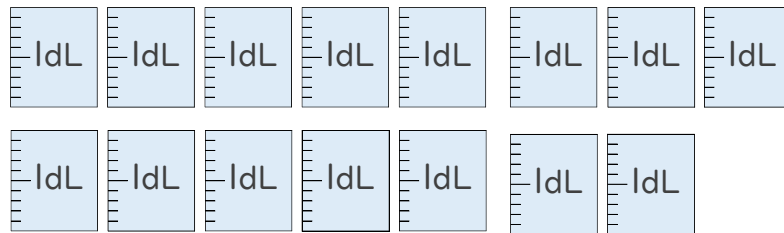
②



(1 L 2 dL)

(12 dL)

2 つぎのペットボトルに入る水のかさをしらべましょう。



① ペットボトルに入る水のかさは、何dLですか。

答え： 15dL

② ペットボトルに入る水のかさは、何L何dLですか。

答え： 1 L 5 dL





水のかさ4

● リットルとデシリットル

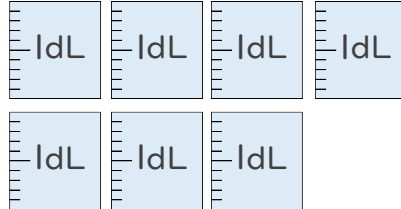
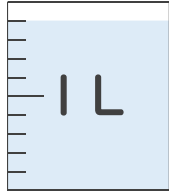


日にち： 月 日

名まえ _____

1 水のかさはどれだけですか。
それぞれのたんいであらわしましょう。

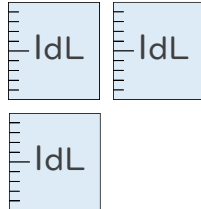
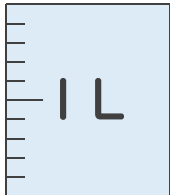
①



(1 L 6 dL)

(16 dL)

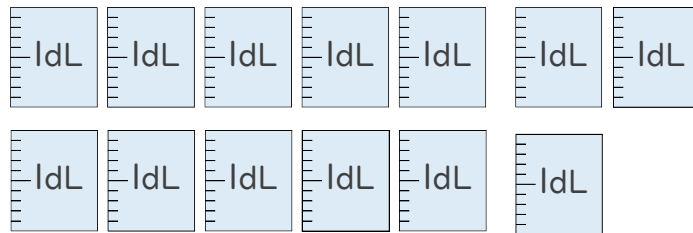
②



(1 L 3 dL)

(13 dL)

2 つぎのペットボトルに入る水のかさをしらべましょう。



① ペットボトルに入る水のかさは、何dLですか。

答え： 13 dL

② ペットボトルに入る水のかさは、何L何dLですか。

答え： 1 L 3 dL





水のかさ4

● リットルとデシリットル

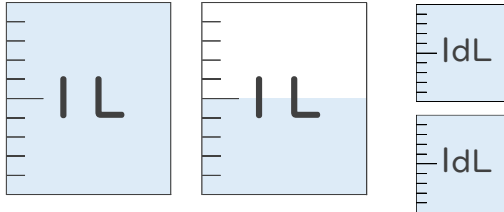
12

日にち： 月 日

名まえ

1 水のかさはどれだけですか。
それぞれのたんいであらわしましょう。

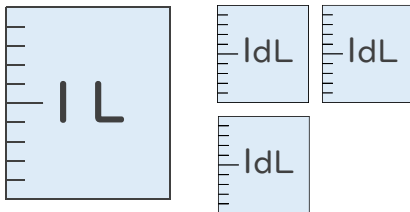
①



(1 L 7 dL)

(17 dL)

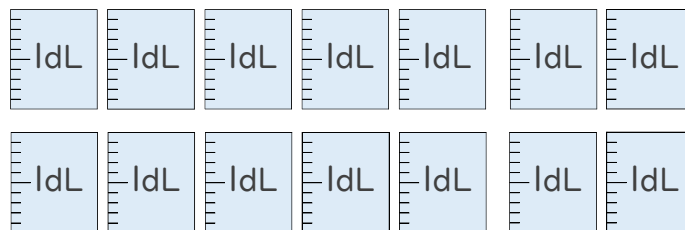
②



(1 L 3 dL)

(13 dL)

2 つぎのペットボトルに入る水のかさをしらべましょう。



① ペットボトルに入る水のかさは、何dLですか。

答え： 14 dL

② ペットボトルに入る水のかさは、何L何dLですか。

答え： 1 L 4 dL





水のかさ4

リットルとデシリットル

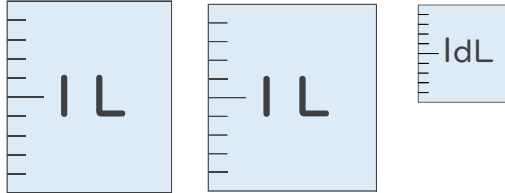
13

日にち： 月 日

名まえ _____

1 水のかさはどれだけですか。
それぞれのたんいであらわしましょう。

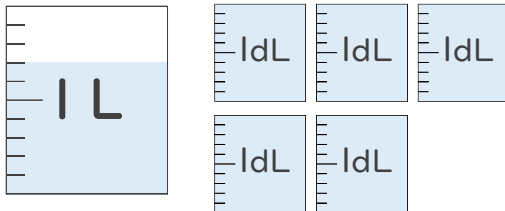
①



(2 L 1 dL)

(21 dL)

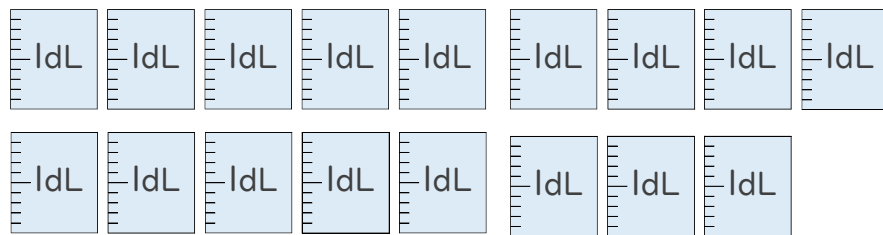
②



(1 L 2 dL)

(12 dL)

2 つぎのペットボトルに入る水のかさをしらべましょう。



① ペットボトルに入る水のかさは、何dLですか。

答え： 17dL

② ペットボトルに入る水のかさは、何L何dLですか。

答え： 1 L 7 dL





水のかさ4

● リットルとデシリットル

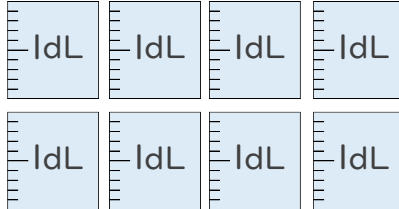


日にち： 月 日

名まえ _____

1 水のかさはどれだけですか。
それぞれのたんいであらわしましょう。

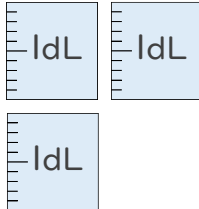
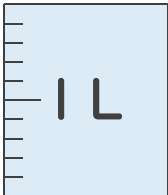
①



(1 L 4 dL)

(14 dL)

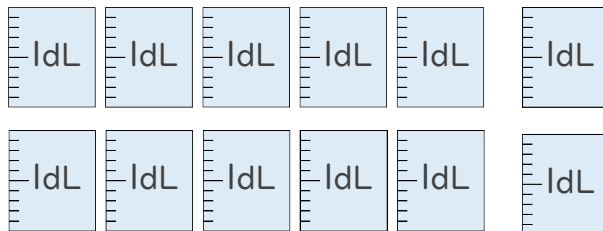
②



(1 L 3 dL)

(13 dL)

2 つぎのペットボトルに入る水のかさをしらべましょう。



① ペットボトルに入る水のかさは、何dLですか。

答え： 12dL

② ペットボトルに入る水のかさは、何L何dLですか。

答え： 1L2dL





水のかさ4

リットルとデシリットル

15

目指せ90点!

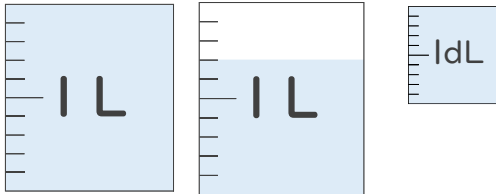


名まえ

1 水のかさはどれだけですか。

それぞれのたんいであらわしましょう。(各20点)

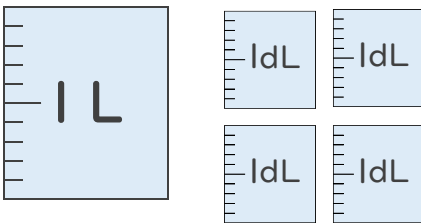
①



(1 L 8 dL)

(18 dL)

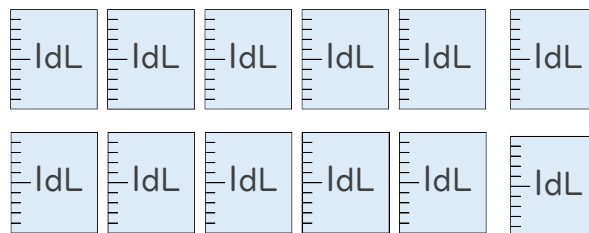
②



(1 L 4 dL)

(14 dL)

2 つぎのペットボトルに入る水のかさをしらべましょう。(各10点)



① ペットボトルに入る水のかさは、何dLですか。

答え： 12dL

② ペットボトルに入る水のかさは、何L何dLですか。

答え： 1L2dL





水のかさ4

リットルとデシリットル

16

目指せ90点!


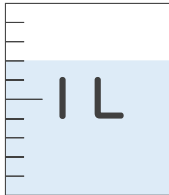


名まえ

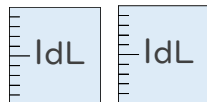
1 水のかさはどれだけですか。

それぞれのたんいであらわしましょう。(各20点)

①

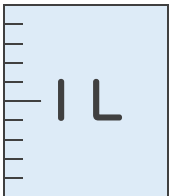


(1 L 2 dL)



(12 dL)

②

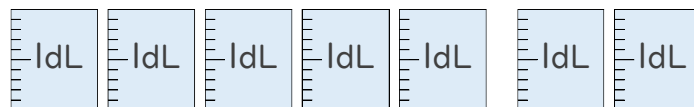


(1 L 8 dL)



(18 dL)

2 つぎのペットボトルに入る水のかさをしらべましょう。(各10点)



① ペットボトルに入る水のかさは、何dLですか。

答え： 15dL

② ペットボトルに入る水のかさは、何L何dLですか。

答え： 1 L 5 dL

