



たし算と
ひき算のひっ算！

◎ 百のくらいへくり上がり
(図でかんがえる)

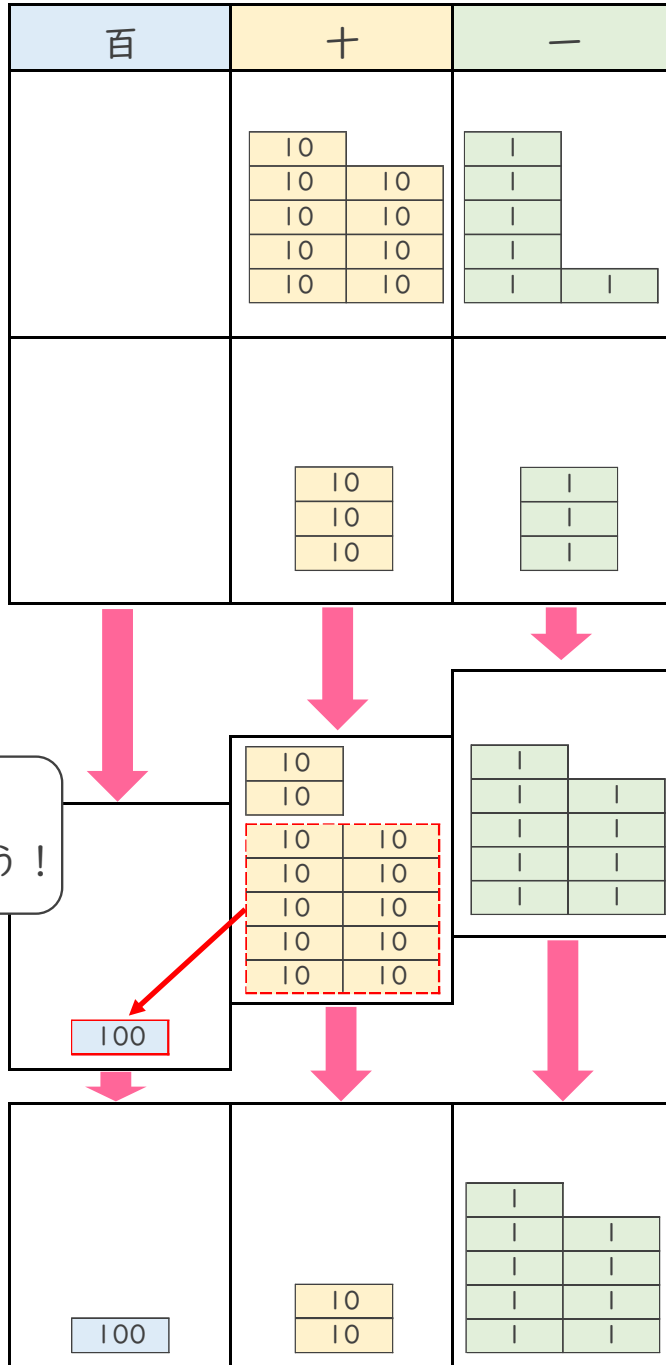


日にち： 月 日

名まえ _____

- ・ るいさんのクラスでは、きのうまでに花かざりを96こ作りました。
今日は、33こ作りました。花かざりは、ぜんぶで何こできましたか。
(うすい字はなぞりましょう。)

しき： $96 + 33 = 129$



百のくらいに
1くり上げよう！



答え： 129こ





たし算と
ひき算のひっ算！

● 百のくらいへくり上がり
(図でかんがえる)

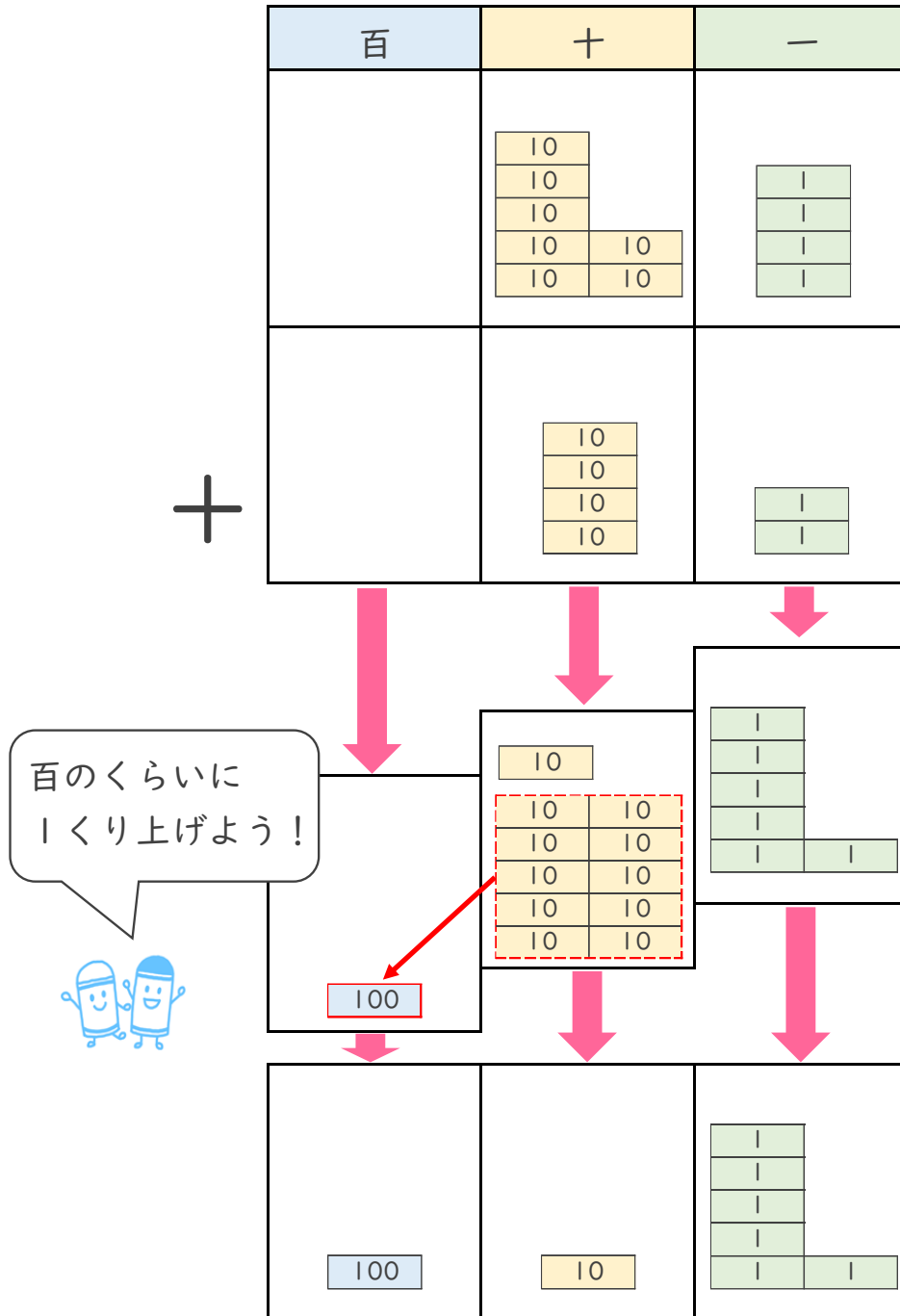


日にち： 月 日

名まえ _____

- ・ しほさんのクラスでは、きのうまでにメダルを74こ作りました。
今日は、42こ作りました。メダルは、ぜんぶで何こできましたか。
(うすい字はなぞりましょう。)

しき： $74 + 42 = 116$



答え：

こ





たし算と
ひき算のひっ算！

● 百のくらいへくり上がり
(図でかんがえる)

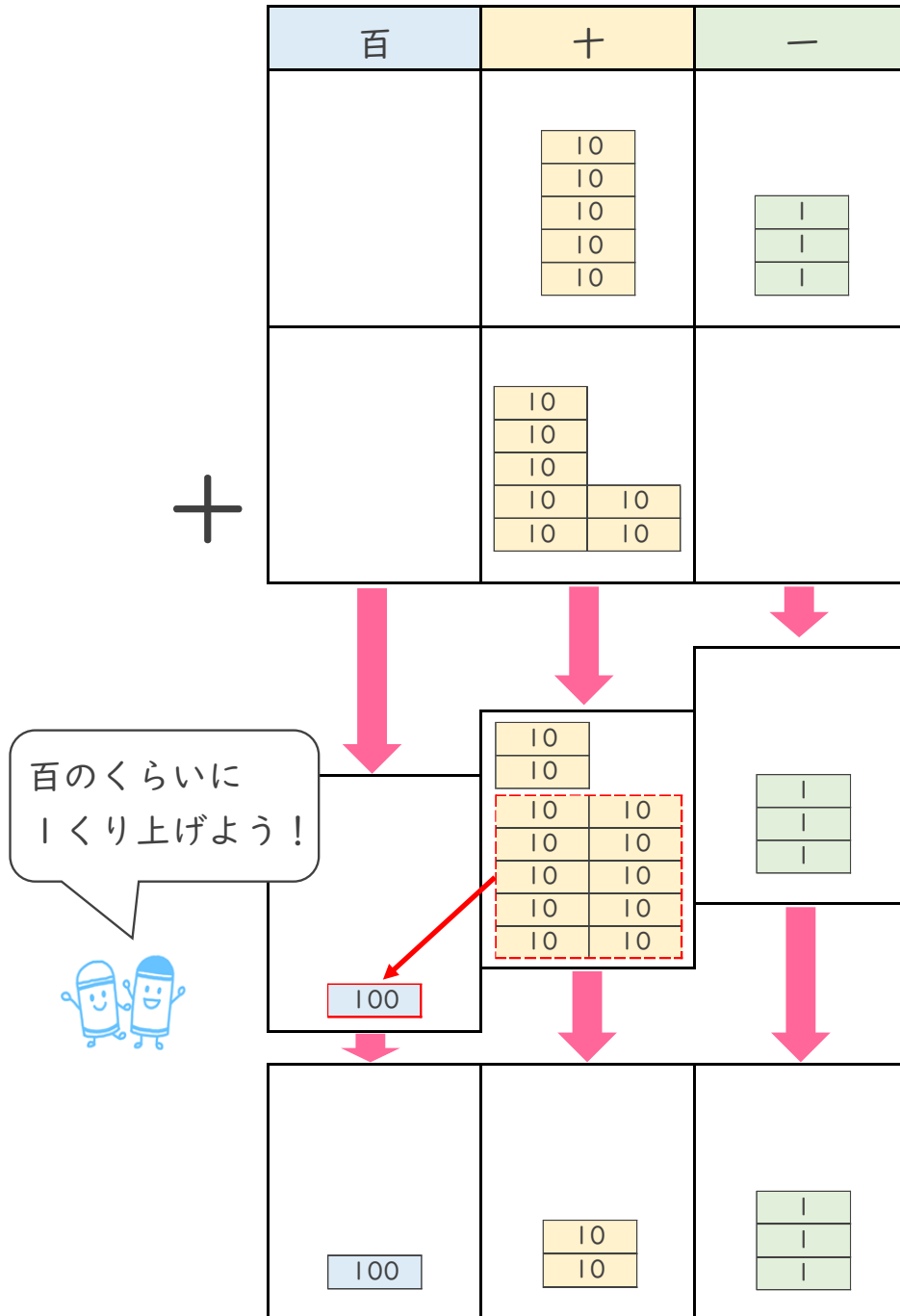


日にち： 月 日

名まえ _____

- ひなさんのクラスでは、きのうまでに花かざりを 53こ 作りました。今日は、70こ 作りました。花かざりは、ぜんぶで何こ できましたか。

しき： $53 + 70 =$



答え： _____





たし算と
ひき算のひっ算！

◎ 百のくらいへくり上がり
(図でかんがえる)

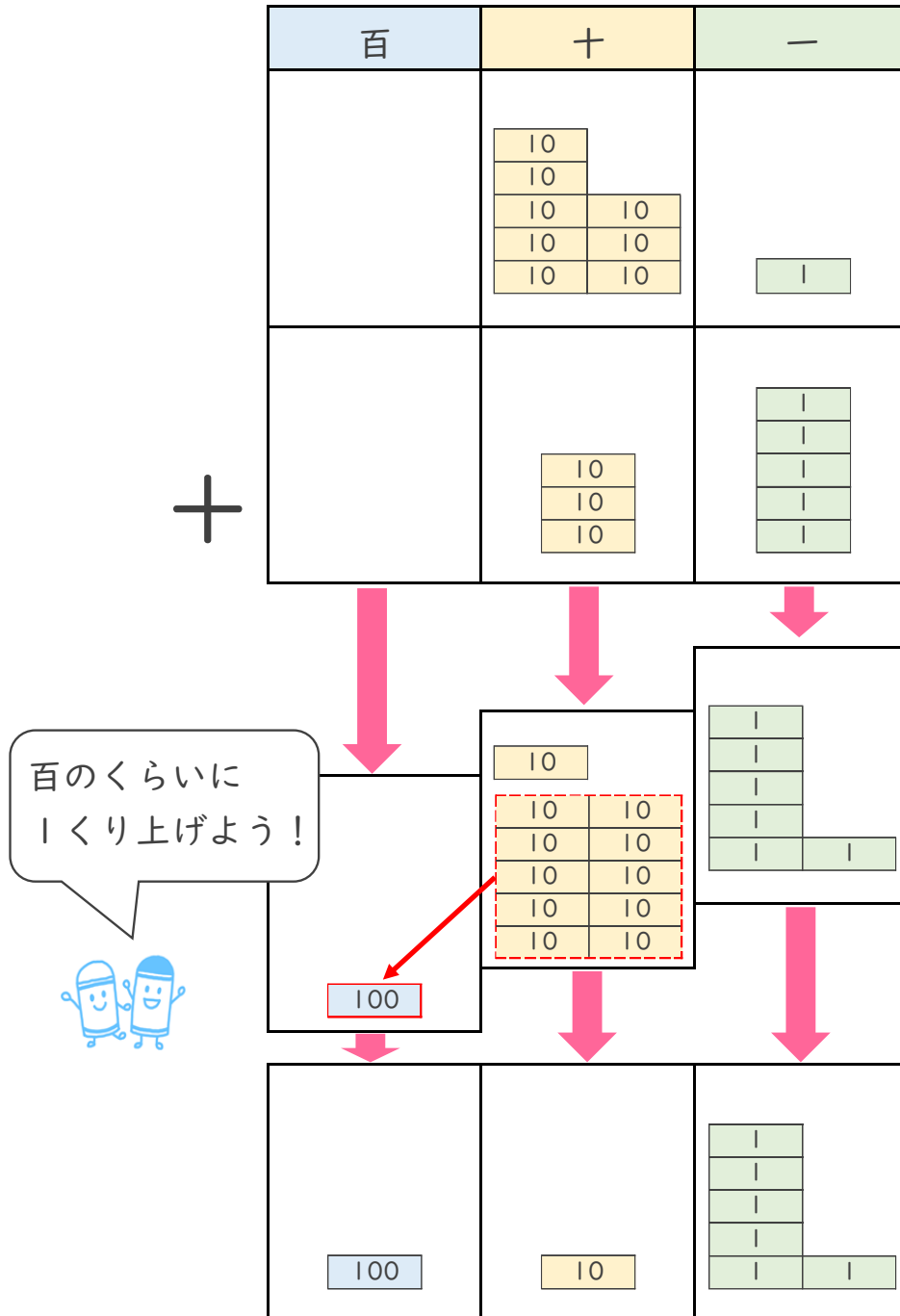


日にち： 月 日

名まえ _____

- ・ かいさんのクラスでは、きのうまでにメダルを81こ作りました。
今日は、35こ作りました。メダルは、ぜんぶで何こできましたか。

しき： $81 + 35 =$



百のくらいに
1くり上げよう！



答え： _____





たし算と
ひき算のひっ算！

● 百のくらいへくり上がり
(図でかんがえる)

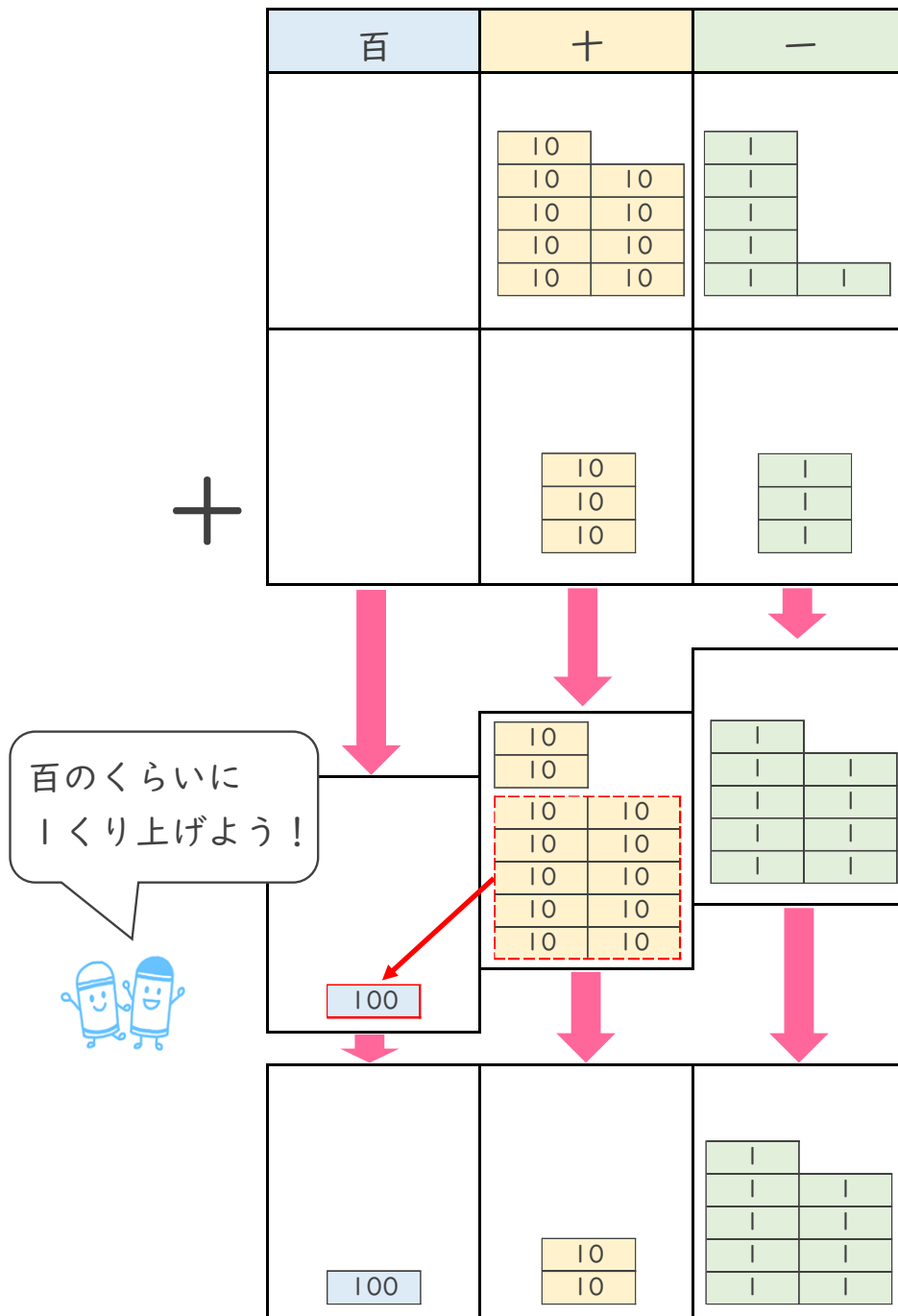


日にち： 月 日

名まえ _____

- ・ るいさんのクラスでは、きのうまでに花かざりを96こ作りました。
今日は、33こ作りました。花かざりは、ぜんぶで何こできましたか。
(うすい字はなぞりましょう。)

しき： $96 + 33 = 129$



答え： 129こ





たし算と
ひき算のひっ算！

● 百のくらいへくり上がり
(図でかんがえる)

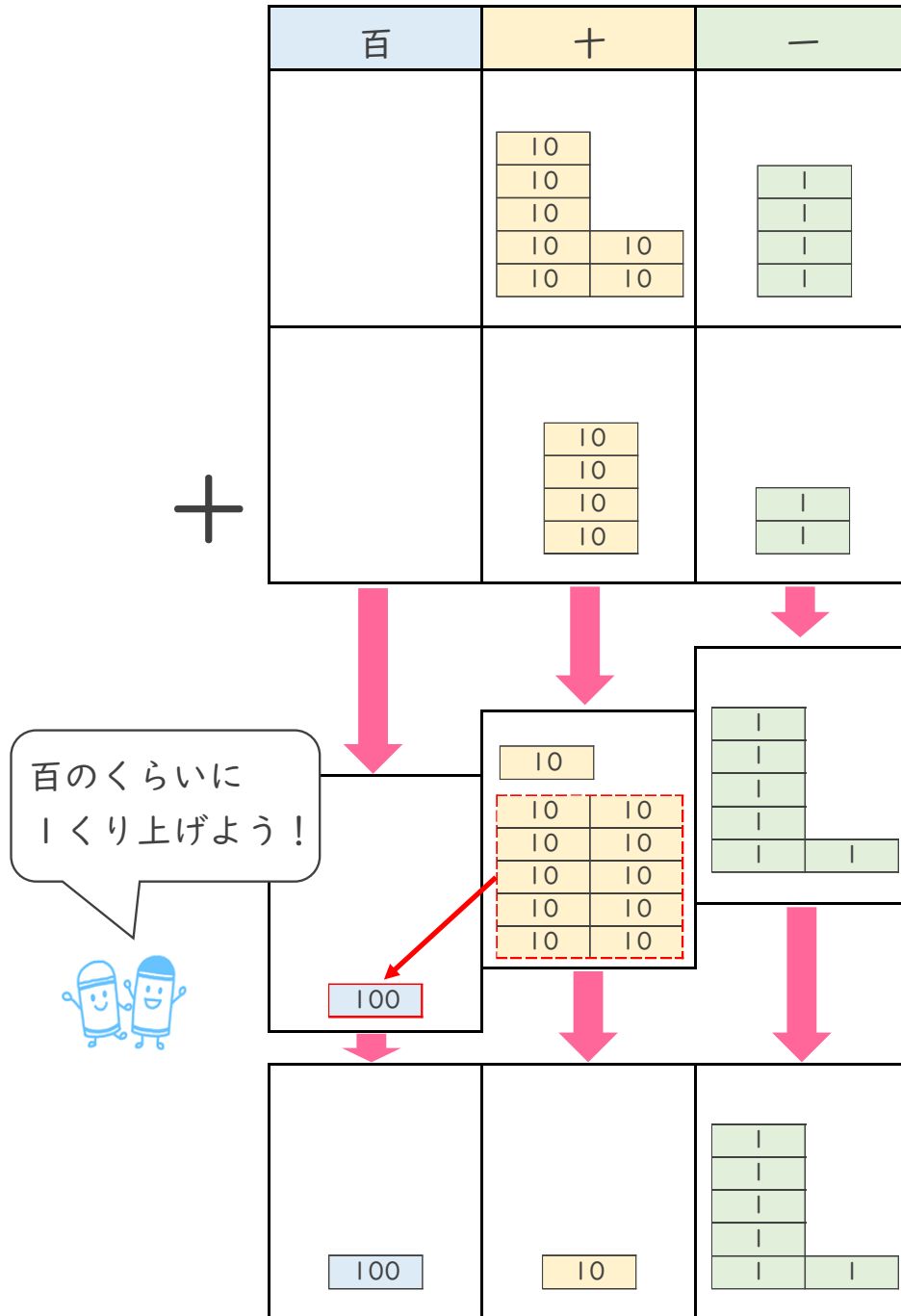


日にち： 月 日

名まえ _____

- ・ しほさんのクラスでは、きのうまでにメダルを74こ作りました。
今日は、42こ作りました。メダルは、ぜんぶで何こできましたか。
(うすい字はなぞりましょう。)

しき： $74 + 42 = 116$



答え： 116こ





たし算と
ひき算のひっ算！

● 百のくらいへくり上がり
(図でかんがえる)

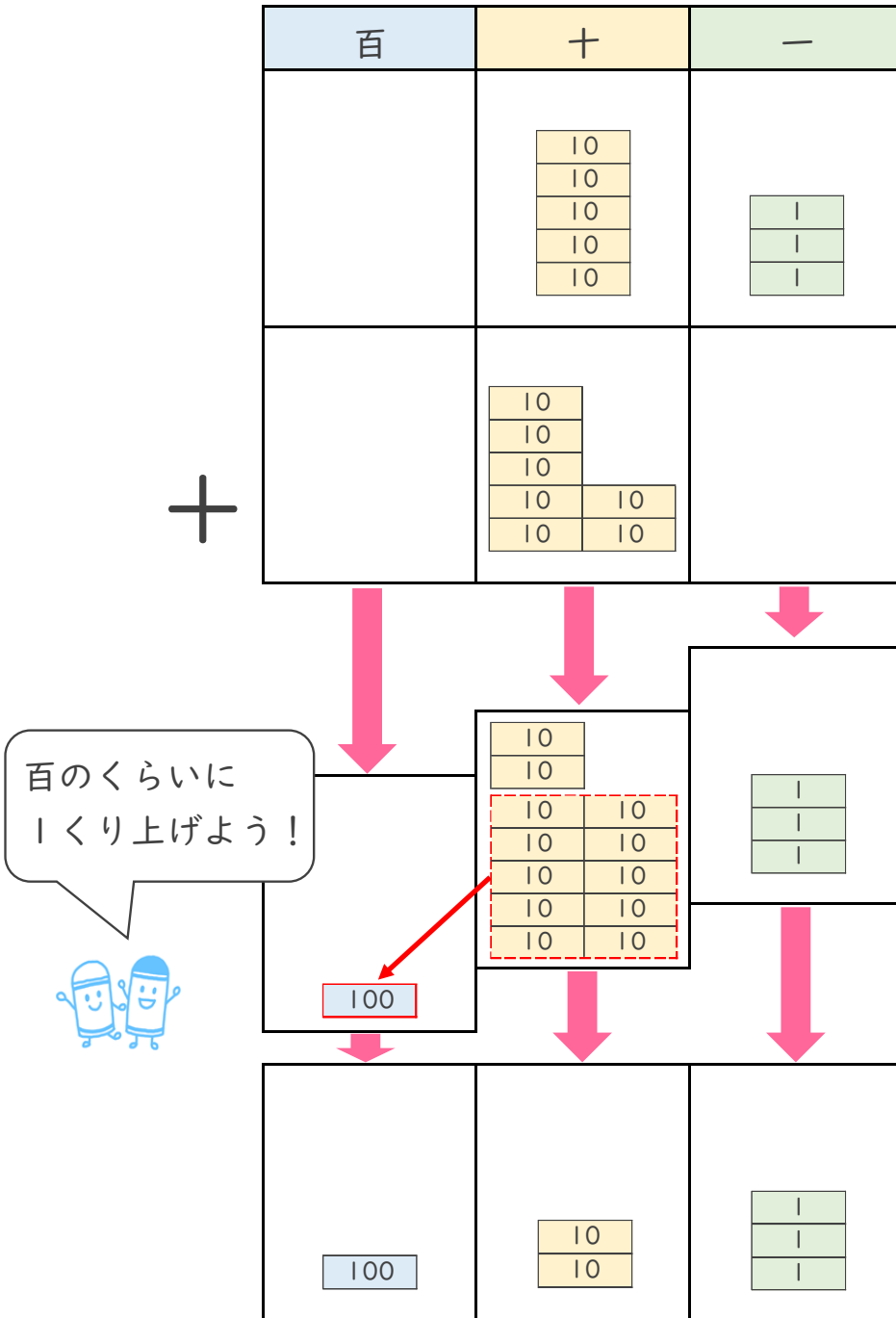


日にち： 月 日

名まえ _____

- ひなさんのクラスでは、きのうまでに花かざりを 53こ 作りました。今日は、70こ 作りました。花かざりは、ぜんぶで何こ できましたか。

しき： $53 + 70 = 123$



答え： 123こ





たし算と
ひき算のひっ算！

● 百のくらいへくり上がり
(図でかんがえる)

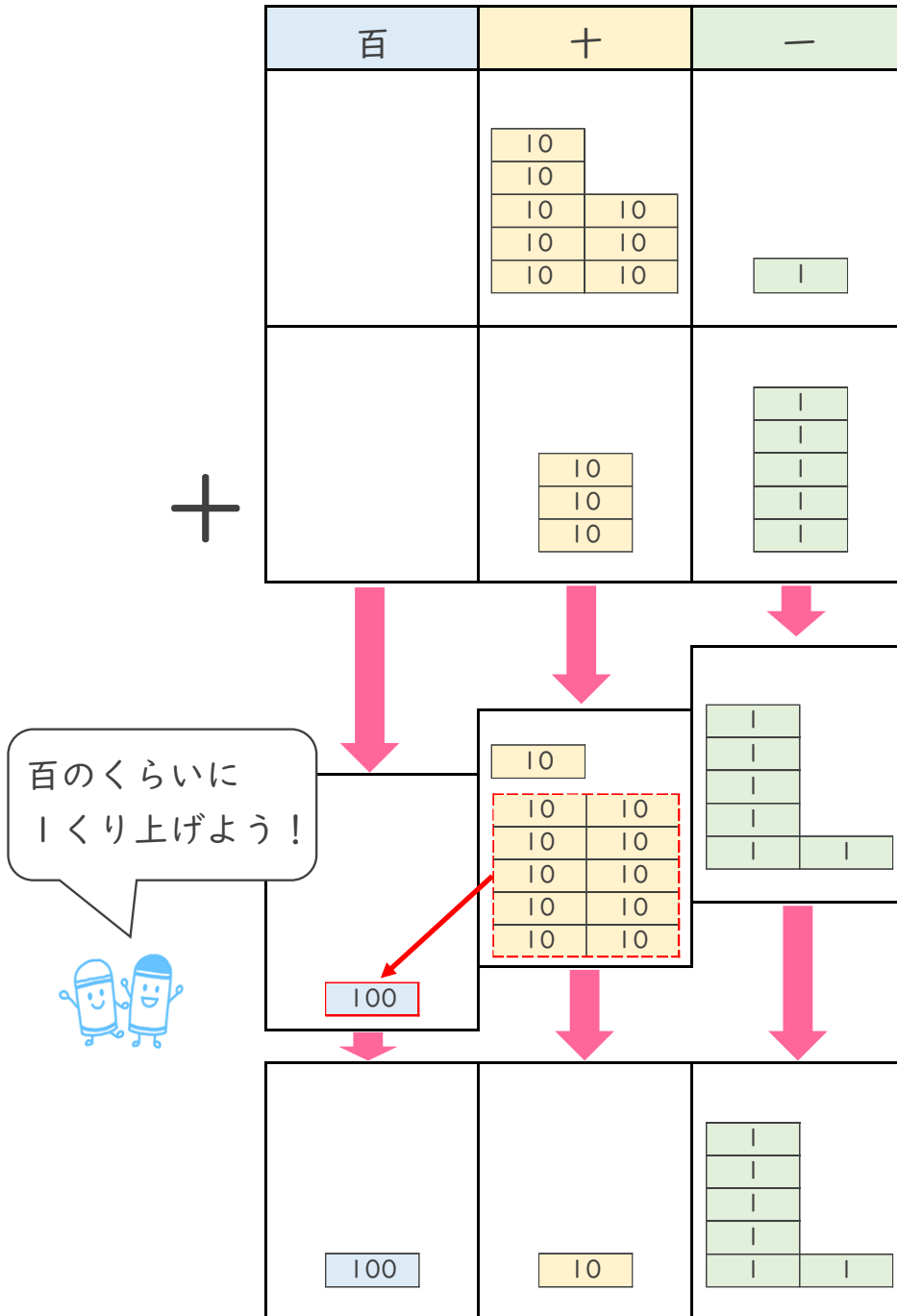


日にち： 月 日

名まえ _____

- ・ かいさんのクラスでは、きのうまでにメダルを81こ作りました。
今日は、35こ作りました。メダルは、ぜんぶで何こできましたか。

しき： $81 + 35 = 116$



答え： 116こ

