



・つぎの問いに 答えましょう。(うすい字はなぞりましょう。)

- ① 画用紙が、79まい あります。後から 45まい 買いました。
画用紙は、ぜんぶで 何まい になりましたか。

しき： $79 + 45 =$

7	9
+	45
<hr/>	

答え： まい

- ② りさんは 82円の けしゴムを1つと 67円の えんぴつを1本
買いました。 だいは いくら になりますか。

しき： + =

--

答え：

- ③ 公園に 赤い花が 53本、黄色い花が 47本 さいています。
花は あわせて 何本 さいていますか。

しき：

--

答え：



・ つぎの問いに 答えましょう。(うすい字はなぞりましょう。)

- ① はなさんの クラスでは、きのうまでに メダルを 93こ 作りました。
今日は、9こ 作りました。メダルは、ぜんぶで 何こ できましたか。

しき： $93 + 9 =$

+

答え： _____ こ

- ② まことさんは 87円 もっています。お母さんから 50円 もらいました。
お金は あわせて いくら になりますか。

しき： _____ + _____ = _____

--

答え： _____

- ③ ゆきさんは 95円の ドーナツを 1つと 57円の あめを 1つ
買いました。 だいき金は いくら になりますか。

しき： _____

--

答え： _____



たし算と
ひき算のひっ算 5
● 百のくらいへくり上がり
(文しょうだい)



日にち： 月 日

名まえ _____

・ つぎの問いに 答えましょう。(うすい字はなぞりましょう。)

- ① 東小学校の 1 年生は 96 人です。2 年生は 85 人です。
1 年生と 2 年生は あわせて 何人ですか。

しき： $96 + 85 =$

	9	6
+	8	5
<hr/>		

答え：

- ② ゆうきさんは カードを 72 まいもっています。お兄さんから 33 まい
もらいました。カードは あわせて 何まいになりましたか。

しき： + =

--	--	--

答え：

- ③ 青いおはじきが 64 こ、赤いおはじきが 58 こあります。
おはじきは あわせて 何こ ありますか。

しき：

--	--	--

答え：



・つぎの問いに 答えましょう。(うすい字はなぞりましょう。)

- ① みかさんは なわとびを 93回 とびました。かなさんは みかさんより 8回 多く とびました。かなさんは なわとびを 何回 とびましたか。

しき： + =

答え： _____

- ② 花だんに 白い花が 42本、赤い花が 65本 さいています。
花は あわせて 何本 さいていますか。

しき：

答え： _____

- ③ あいさんの クラスでは、きのうまでに メダルを 44こ 作りました。
今日は、67こ 作りました。メダルは、ぜんぶで 何こ できましたか。

しき：

答え： _____



たし算と
ひき算のひっ算5
◎百のくらいへくり上がり
(文しょうだい)



日にち： 月 日

名まえ _____

・ つぎの問いに 答えましょう。(うすい字はなぞりましょう。)

- ① 色紙が、37まい あります。後から 80まい 買いました。
色紙は、ぜんぶで 何まい になりましたか。

しき： + =

答え： _____

- ② あいさんは 83円の けしゴムを1つと 67円の えんぴつを1本
買いました。 だいは いくら になりますか。

しき：

答え： _____

- ③ 公園に 赤い花が 56本、黄色い花が 51本 さいています。
花は あわせて 何本 さいていますか。

しき：

答え： _____



たし算と
ひき算のひっ算5
◎ 百のくらいへくり上がり
(文しょうだい)



日にち： 月 日

名まえ _____

・ つぎの問いに 答えましょう。

- ① さとしさんはカードを 82まいもっています。お兄さんから 25まいもらいました。カードは あわせて 何まいになりましたか。

しき：

答え：

- ② 西小学校の 1年生は 98人 です。2年生は 89人 です。
1年生と 2年生は あわせて 何人ですか。

しき：

答え：

- ③ さらさんは なわとびを 96回 とびました。えみさんは さらさんより 7回 多く とびました。えみさんは なわとびを 何回 とびましたか。

しき：

答え：



たし算と
ひき算のひっ算5
◎百のくらいへくり上がり
(文しょうだい)



日にち： 月 日

名まえ _____

・ つぎの問いに 答えましょう。

- ① ゆうたさんは 94円 もっています。お母さんから 60円 もらいました。
お金は あわせて いくらになりますか。

しき：

答え：

- ② なみさんは 37円の チョコレートを1つと 83円の クッキーを1つ
買いました。 だいは いくらになりますか。

しき：

答え：

- ③ かいさんの クラスでは、きのうまでに メダルを 61こ 作りました。
今日は、53こ 作りました。メダルは、ぜんぶで 何こ できましたか。

しき：

答え：



たし算と
ひき算のひっ算5
◎ 百のくらいへくり上がり
(文しょうだい)



日にち： 月 日

名まえ _____

・ つぎの問いに 答えましょう。

- ① つばささんは 86円の けしゴムを 1つと 73円の えんぴつを 1本 買いました。 だいは いくらになりますか。

しき：

答え：

- ② まりさんは なわとびを 90回 とびました。 ゆきさんは 85回 とびました。 二人は あわせて 何回 とびましたか。

しき：

答え：

- ③ 色紙が、97まい あります。 後から 9まい 買いました。 色紙は、ぜんぶで 何まい になりましたか。

しき：

答え：



たし算と
ひき算のひっ算5
◎ 百のくらいへくり上がり
(文しょうだい)



日にち： 月 日

名まえ

・ つぎの問いに 答えましょう。

- ① 黄色のおはじきが42こ、青色のおはじきが58こ あります。
おはじきは あわせて 何こ ありますか。

しき：

答え：

- ② みほさんは シールを 76まいもっています。お姉さんから 32まい
もらいました。シールは あわせて 何まいになりましたか。

しき：

答え：

- ③ れんさんは なわとびを 94回 とびました。まきさんは れんさんより
9回 多く とびました。まきさんは なわとびを 何回 とびましたか。

しき：

答え：



たし算と
ひき算のひっ算5

◎ 百のくらいへくり上がり
(文しょうだい)



日にち： 月 日

名まえ _____

1 つぎの問いに 答えましょう。

- ① 公園に 赤い花が 56本、黄色い花が 51本 さいています。
花は あわせて 何本 さいていますか。

しき：

答え：

- ② 色紙が、76まい あります。後から 48まい 買いました。
色紙は、ぜんぶで 何まい になりましたか。

しき：

答え：

2 つぎの計算を ひっ算で しましょう。

① $92 + 8$

② $53 + 92$

③ $34 + 73$



たし算と
ひき算のひっ算5

◎ 百のくらいへくり上がり
(文しょうだい)



日にち： 月 日

名まえ _____

1 つぎの問いに 答えましょう。

- ① まことさんは 87円 もっています。お母さんから 50円もらいました。
お金は あわせて いくらになりますか。

しき：

答え：

- ② 青い おはじきが 64こ、赤い おはじきが 78こ あります。
おはじきは あわせて 何こ ありますか。

しき：

答え：

2 つぎの計算を ひっ算で しましょう。

① $33 + 79$

② $6 + 97$

③ $45 + 84$



たし算と
ひき算のひっ算5

◎ 百のくらいへくり上がり
(文しょうだい)



日にち： 月 日

名まえ _____

1 つぎの問いに 答えましょう。

- ① 西小学校の 1 年生は 98 人です。2 年生は 89 人です。
1 年生と 2 年生は あわせて 何人ですか。

しき：

答え：

- ② あいさんの クラスでは、きのうまでに メダルを 44 こ 作りました。
今日は、67 こ 作りました。メダルは、ぜんぶで 何こ できましたか。

しき：

答え：

2 つぎの計算を ひっ算で しましょう。

① $34 + 66$

② $63 + 71$

③ $97 + 6$



たし算と
ひき算のひっ算5

◎ 百のくらいへくり上がり
(文しょうだい)



日にち： 月 日

名まえ _____

1 つぎの問いに 答えましょう。

- ① さらさんは なわとびを 96回 とびました。えみさんは さらさんより 7回 多く とびました。えみさんは なわとびを 何回 とびましたか。

しき：

答え：

- ② さとしさんは カードを 82まいもっています。お兄さんから 25まい もらいました。カードは あわせて 何まいになりましたか。

しき：

答え：

2 つぎの計算を ひっ算で しましょう。

① $97 + 3$

② $64 + 58$

③ $45 + 93$



たし算と
ひき算のひっ算5

◎ 百のくらいへくり上がり
(文しょうだい)



日にち： 月 日

名まえ _____

1 つぎの問いに 答えましょう。

- ① まりさんは なわとびを 90回 とびました。ゆきさんは 85回 とびました。二人は あわせて 何回 とびましたか。

しき：

答え：

- ② なみさんは 37円の チョコレートを1つと 83円の クッキーを1つ 買いました。 だいは いくらになりますか。

しき：

答え：

2 つぎの計算を ひっ算で しましょう。

① $46 + 92$

② $58 + 87$

③ $4 + 97$




たし算と
ひき算のひっ算5

◎ 百のくらいへくり上がり
(文しょうだい)

15

目指せ90点!



名まえ _____

1 つぎの問いに 答えましょう。(各35点)

- ① あいさんは 83円の けしゴムを1つと 67円の えんぴつを1本
買いました。 だいは いくらになりますか。

しき：

答え：

- ② 色紙が、94まい あります。 後から 9まい 買いました。
色紙は、ぜんぶで 何まい になりましたか。

しき：

答え：

2 つぎの計算を ひっ算で しましょう。(各10点)

① $5 + 95$

② $64 + 73$

③ $45 + 89$




たし算と
ひき算のひっ算5

◎ 百のくらいへくり上がり
(文しょうだい)

16

目指せ90点!



名まえ _____

1 つぎの問いに 答えましょう。(各35点)

- ① れんさんは なわとびを 94回 とびました。まきさんは れんさんより 9回 多く とびました。まきさんは なわとびを 何回 とびましたか。

しき：

答え：

- ② 黄色の おはじきが 52こ、青色の おはじきが 58こ あります。
おはじきは あわせて 何こ ありますか。

しき：

答え：

2 つぎの計算を ひっ算で しましょう。(各10点)

① $26 + 95$

② $98 + 7$

③ $54 + 92$



・ つぎの問いに 答えましょう。(うすい字はなぞりましょう。)

- ① 画用紙が、79まい あります。後から 45まい 買いました。
画用紙は、ぜんぶで 何まい になりましたか。

しき： $79 + 45 = 124$

1	1	
	7	9
+	4	5
<hr/>		
1	2	4

答え：124まい

- ② りささんは 82円の けしゴムを1つと 67円の えんぴつを1本
買いました。 だいきんは いくら になりますか。

しき： $82 + 67 = 149$

1		
	8	2
+	6	7
<hr/>		
1	4	9

答え：149円

- ③ 公園に 赤い花が 53本、黄色い花が 47本 さいています。
花は あわせて 何本 さいていますか。

しき： $53 + 47 = 100$

1	1	
	5	3
+	4	7
<hr/>		
1	0	0

答え：100本



・ つぎの問いに 答えましょう。(うすい字はなぞりましょう。)

- ① はなさんの クラスでは、きのうまでに メダルを 93こ 作りました。
今日は、9こ 作りました。メダルは、ぜんぶで 何こ できましたか。

しき： $93 + 9 = 102$

$$\begin{array}{r} | \quad | \\ 93 \\ + \quad 9 \\ \hline 102 \end{array}$$

答え：102こ

- ② まことさんは 87円 もっています。お母さんから 50円 もらいました。
お金は あわせて いくら になりますか。

しき： $87 + 50 = 137$

$$\begin{array}{r} | \\ 87 \\ + 50 \\ \hline 137 \end{array}$$

答え：137円

- ③ ゆきさんは 95円の ドーナツを 1つと 57円の あめを 1つ
買いました。 だいきんは いくら になりますか。

しき： $95 + 57 = 152$

$$\begin{array}{r} | \quad | \\ 95 \\ + 57 \\ \hline 152 \end{array}$$

答え：152円



・ つぎの問いに 答えましょう。(うすい字はなぞりましょう。)

- ① 東小学校の 1年生は 96人 です。2年生は 85人 です。
1年生と 2年生は あわせて 何人ですか。

しき： $96 + 85 = 181$

	9	6
+	8	5
<hr/>		
	8	1

答え：181人

- ② ゆうきさんは カードを 72まいもっています。お兄さんから 33まい
もらいました。カードは あわせて 何まいになりましたか。

しき： $72 + 33 = 105$

	7	2
+	3	3
<hr/>		
	0	5

答え：105まい

- ③ 青いおはじきが64こ、赤いおはじきが58こあります。
おはじきは あわせて 何こ ありますか。

しき： $64 + 58 = 122$

	6	4
+	5	8
<hr/>		
	2	2

答え：122こ



・ つぎの問いに 答えましょう。(うすい字はなぞりましょう。)

- ① みかさんは なわとびを 93回 とびました。かなさんは みかさんより 8回 多く とびました。かなさんは なわとびを 何回 とびましたか。

しき： $93 + 8 = 101$

	9	3
+		8
<hr/>		
	0	1

答え：101回

- ② 花だんに 白い花が 42本、赤い花が 65本 さいています。
花は あわせて 何本 さいていますか。

しき： $42 + 65 = 107$

	4	2
+	6	5
<hr/>		
	0	7

答え：107本

- ③ あいさんの クラスでは、きのうまでに メダルを 44こ 作りました。
今日は、67こ 作りました。メダルは、ぜんぶで 何こ できましたか。

しき： $44 + 67 = 111$

	4	4
+	6	7
<hr/>		

答え：111こ



・ つぎの問いに 答えましょう。(うすい字はなぞりましょう。)

- ① 色紙が、37まい あります。後から 80まい 買いました。
色紙は、ぜんぶで 何まい になりましたか。

しき： $37 + 80 = 117$

$$\begin{array}{r} | \\ 37 \\ + 80 \\ \hline 117 \end{array}$$

答え：117まい

- ② あいさんは 83円の けしゴムを1つと 67円の えんぴつを1本
買いました。 だいは いくら になりますか。

しき： $83 + 67 = 150$

$$\begin{array}{r} | \quad | \\ 83 \\ + 67 \\ \hline 150 \end{array}$$

答え：150円

- ③ 公園に 赤い花が 56本、黄色い花が 51本 さいています。
花は あわせて 何本 さいていますか。

しき： $56 + 51 = 107$

$$\begin{array}{r} | \\ 56 \\ + 51 \\ \hline 107 \end{array}$$

答え：107本



たし算と
ひき算のひっ算5
◎ 百のくらいへくり上がり
(文しょうだい)



日にち： 月 日

名まえ _____

・ つぎの問いに 答えましょう。

- ① さとしさんはカードを 82まいもっています。お兄さんから 25まいもらいました。カードはあわせて何まいになりましたか。

しき： $82 + 25 = 107$

答え：107まい

$$\begin{array}{r} | \\ 82 \\ + 25 \\ \hline 107 \end{array}$$

- ② 西小学校の1年生は98人です。2年生は89人です。1年生と2年生はあわせて何人ですか。

しき： $98 + 89 = 187$

答え：187人

$$\begin{array}{r} | \quad | \\ 98 \\ + 89 \\ \hline 187 \end{array}$$

- ③ さらさんはなわとびを96回とびました。えみさんはさらさんより7回多くとびました。えみさんはなわとびを何回とびましたか。

しき： $96 + 7 = 103$

答え：103回

$$\begin{array}{r} | \\ 96 \\ + \quad 7 \\ \hline 103 \end{array}$$



・ つぎの問いに 答えましょう。

- ① ゆうたさんは 94円 もっています。お母さんから 60円 もらいました。
お金は あわせて いくらになりますか。

しき： $94 + 60 = 154$

答え：154円

$$\begin{array}{r} | \\ 94 \\ + 60 \\ \hline 154 \end{array}$$

- ② なみさんは 37円の チョコレートを1つと 83円の クッキーを1つ
買いました。 だいは いくらになりますか。

しき： $37 + 83 = 120$

答え：120円

$$\begin{array}{r} | \quad | \\ 37 \\ + 83 \\ \hline 120 \end{array}$$

- ③ かいさんの クラスでは、きのうまでに メダルを 61こ 作りました。
今日は、53こ 作りました。メダルは、ぜんぶで 何こ できましたか。

しき： $61 + 53 = 114$

答え：114こ

$$\begin{array}{r} | \\ 61 \\ + 53 \\ \hline 114 \end{array}$$



・ つぎの問いに 答えましょう。

- ① つばささんは 86円の けしゴムを1つと 73円の えんぴつを1本 買いました。 だいは いくらになりますか。

しき： $86 + 73 = 159$

答え：159円

$$\begin{array}{r} | \\ 86 \\ + 73 \\ \hline 159 \end{array}$$

- ② まりさんは なわとびを 90回 とびました。 ゆきさんは 85回 とびました。 二人は あわせて 何回 とびましたか。

しき： $90 + 85 = 175$

答え：175回

$$\begin{array}{r} | \\ 90 \\ + 85 \\ \hline 175 \end{array}$$

- ③ 色紙が、97まい あります。 後から 9まい 買いました。 色紙は、 ぜんぶで 何まい になりましたか。

しき： $97 + 9 = 106$

答え：106まい

$$\begin{array}{r} | \quad | \\ 97 \\ + \quad 9 \\ \hline 106 \end{array}$$



・ つぎの問いに 答えましょう。

- ① 黄色のおはじきが42こ、青色のおはじきが58こ あります。
おはじきは あわせて 何こ ありますか。

しき： $42 + 58 = 100$

答え：100こ

	4	2
+	5	8
<hr/>		
	0	0

- ② みほさんは シールを 76まいもっています。お姉さんから 32まい
もらいました。シールは あわせて 何まいになりましたか。

しき： $76 + 32 = 108$

答え：108まい

	7	6
+	3	2
<hr/>		
	0	8

- ③ れんさんは なわとびを 94回 とびました。まきさんは れんさんより
9回 多く とびました。まきさんは なわとびを 何回 とびましたか。

しき： $94 + 9 = 103$

答え：103回

	9	4
+		9
<hr/>		
	0	3



たし算と
ひき算のひっ算5

◎ 百のくらいへくり上がり
(文しょうだい)



日にち： 月 日

名まえ _____

1 つぎの問いに 答えましょう。

- ① 公園に 赤い花が 56本、黄色い花が 51本 さいています。
花は あわせて 何本 さいていますか。

しき： $56 + 51 = 107$

答え：107本

$$\begin{array}{r} | \\ 56 \\ + 51 \\ \hline 107 \end{array}$$

- ② 色紙が、76まい あります。後から 48まい 買いました。
色紙は、ぜんぶで 何まい になりましたか。

しき： $76 + 48 = 124$

答え：124まい

$$\begin{array}{r} | \quad | \\ 76 \\ + 48 \\ \hline 124 \end{array}$$

2 つぎの計算を ひっ算で しましょう。

① $92 + 8$

$$\begin{array}{r} | \quad | \\ 92 \\ + 8 \\ \hline 100 \end{array}$$

② $53 + 92$

$$\begin{array}{r} | \\ 53 \\ + 92 \\ \hline 145 \end{array}$$

③ $34 + 73$

$$\begin{array}{r} | \\ 34 \\ + 73 \\ \hline 107 \end{array}$$



たし算と
ひき算のひっ算5

◎ 百のくらいへくり上がり
(文しょうだい)



日にち： 月 日

名まえ _____

1 つぎの問いに 答えましょう。

- ① まことさんは 87円 もっています。お母さんから 50円もらいました。
お金は あわせて いくらになりますか。

しき： $87 + 50 = 137$

答え：137円

	8	7
+	5	0
<hr/>		
	1	37

- ② 青い おはじきが 64こ、赤い おはじきが 78こ あります。
おはじきは あわせて 何こ ありますか。

しき： $64 + 78 = 142$

答え：142こ

	6	4
+	7	8
<hr/>		
	1	42

2 つぎの計算を ひっ算で しましょう。

① $33 + 79$

	3	3
+	7	9
<hr/>		
	1	12

② $6 + 97$

		6
+	9	7
<hr/>		
	1	03

③ $45 + 84$

	4	5
+	8	4
<hr/>		
	1	29



たし算と
ひき算のひっ算 5

◎ 百のくらいへくり上がり
(文しょうだい)



日にち： 月 日

名まえ _____

1 つぎの問いに 答えましょう。

- ① 西小学校の 1 年生は 98 人です。2 年生は 89 人です。
1 年生と 2 年生は あわせて 何人ですか。

しき： $98 + 89 = 187$

答え：187 円

$$\begin{array}{r} | \quad | \\ \quad 9 \quad 8 \\ + 8 \quad 9 \\ \hline | \quad 8 \quad 7 \end{array}$$

- ② あいさんの クラスでは、きのうまでに メダルを 44 こ 作りました。
今日は、67 こ 作りました。メダルは、ぜんぶで 何こ できましたか。

しき： $44 + 67 = 111$

答え：111 こ

$$\begin{array}{r} | \quad | \\ \quad 4 \quad 4 \\ + 6 \quad 7 \\ \hline | \quad 1 \quad 1 \end{array}$$

2 つぎの計算を ひっ算で しましょう。

① $34 + 66$

$$\begin{array}{r} | \quad | \\ \quad 3 \quad 4 \\ + 6 \quad 6 \\ \hline | \quad 0 \quad 0 \end{array}$$

② $63 + 71$

$$\begin{array}{r} | \\ \quad 6 \quad 3 \\ + 7 \quad 1 \\ \hline | \quad 3 \quad 4 \end{array}$$

③ $97 + 6$

$$\begin{array}{r} | \quad | \\ \quad 9 \quad 7 \\ + \quad 6 \\ \hline | \quad 0 \quad 3 \end{array}$$



たし算と
ひき算のひっ算5

◎ 百のくらいへくり上がり
(文しょうだい)



日にち： 月 日

名まえ _____

1 つぎの問いに 答えましょう。

- ① さらさんは なわとびを 96回 とびました。えみさんは さらさんより 7回 多く とびました。えみさんは なわとびを 何回 とびましたか。

しき： $96 + 7 = 103$

$$\begin{array}{r} | \quad | \\ 96 \\ + \quad 7 \\ \hline 103 \end{array}$$

答え：103回

- ② さとしさんは カードを 82まいもっています。お兄さんから 25まい もらいました。カードは あわせて 何まいになりましたか。

しき： $82 + 25 = 107$

$$\begin{array}{r} | \quad | \\ 82 \\ + \quad 25 \\ \hline 107 \end{array}$$

答え：107まい

2 つぎの計算を ひっ算で しましょう。

① $97 + 3$

$$\begin{array}{r} | \quad | \\ 97 \\ + \quad 3 \\ \hline 100 \end{array}$$

② $64 + 58$

$$\begin{array}{r} | \quad | \\ 64 \\ + \quad 58 \\ \hline 122 \end{array}$$

③ $45 + 93$

$$\begin{array}{r} | \quad | \\ 45 \\ + \quad 93 \\ \hline 138 \end{array}$$



たし算と
ひき算のひっ算5

◎ 百のくらいへくり上がり
(文しょうだい)



日にち： 月 日

名まえ _____

1 つぎの問いに 答えましょう。

- ① まりさんは なわとびを 90回 とびました。ゆきさんは 85回 とびました。二人は あわせて 何回 とびましたか。

しき： $90 + 85 = 175$

$$\begin{array}{r} | \\ 90 \\ + 85 \\ \hline 175 \end{array}$$

答え：175回

- ② なみさんは 37円の チョコレートを1つと 83円の クッキーを1つ 買いました。 だいは いくらになりますか。

しき： $37 + 83 = 120$

$$\begin{array}{r} | \quad | \\ 37 \\ + 83 \\ \hline 120 \end{array}$$

答え：120円

2 つぎの計算を ひっ算で しましょう。

① $46 + 92$

$$\begin{array}{r} | \\ 46 \\ + 92 \\ \hline 138 \end{array}$$

② $58 + 87$

$$\begin{array}{r} | \quad | \\ 58 \\ + 87 \\ \hline 145 \end{array}$$

③ $4 + 97$

$$\begin{array}{r} | \quad | \\ 4 \\ + 97 \\ \hline 101 \end{array}$$




たし算と
ひき算のひっ算 5

◎ 百のくらいへくり上がり
(文しょうだい)



目指せ90点!



名まえ _____

1 つぎの問いに 答えましょう。(各35点)

- ① あいさんは 83円のけしゴムを1つと 67円のえんぴつを1本
買いました。 だいはいはいくらになりますか。

しき： $83 + 67 = 150$

$$\begin{array}{r} | \quad | \\ 83 \\ + 67 \\ \hline 150 \end{array}$$

答え：150円

- ② 色紙が、94まいあります。後から9まい買いました。
色紙は、ぜんぶで何まいになりましたか。

しき： $94 + 9 = 103$

$$\begin{array}{r} | \quad | \\ 94 \\ + 9 \\ \hline 103 \end{array}$$

答え：103まい

2 つぎの計算を ひっ算で しましょう。(各10点)

① $5 + 95$

$$\begin{array}{r} | \quad | \\ 5 \\ + 95 \\ \hline 100 \end{array}$$

② $64 + 73$

$$\begin{array}{r} | \\ 64 \\ + 73 \\ \hline 137 \end{array}$$

③ $45 + 89$

$$\begin{array}{r} | \quad | \\ 45 \\ + 89 \\ \hline 134 \end{array}$$




たし算と
ひき算のひっ算5

◎ 百のくらいへくり上がり
(文しょうだい)

16

目指せ90点!



名まえ _____

1 つぎの問いに 答えましょう。(各35点)

- ① れんさんは なわとびを 94回 とびました。まきさんは れんさんより 9回 多く とびました。まきさんは なわとびを 何回 とびましたか。

しき： $94 + 9 = 103$

$$\begin{array}{r} | \quad | \\ \quad 9 \quad 4 \\ + \quad \quad 9 \\ \hline 1 \quad 0 \quad 3 \end{array}$$

答え：103回

- ② 黄色のおはじきが52こ、青色のおはじきが58こ あります。おはじきは あわせて 何こ ありますか。

しき： $52 + 58 = 110$

$$\begin{array}{r} | \quad | \\ \quad 5 \quad 2 \\ + \quad 5 \quad 8 \\ \hline 1 \quad 1 \quad 0 \end{array}$$

答え：110こ

2 つぎの計算を ひっ算で しましょう。(各10点)

① $26 + 95$

$$\begin{array}{r} | \quad | \\ \quad 2 \quad 6 \\ + \quad 9 \quad 5 \\ \hline 1 \quad 2 \quad 1 \end{array}$$

② $98 + 7$

$$\begin{array}{r} | \quad | \\ \quad 9 \quad 8 \\ + \quad \quad 7 \\ \hline 1 \quad 0 \quad 5 \end{array}$$

③ $54 + 92$

$$\begin{array}{r} | \\ \quad 5 \quad 4 \\ + \quad 9 \quad 2 \\ \hline 1 \quad 4 \quad 6 \end{array}$$