



たし算と
ひき算のひっ算 6

◎ 百のくらいからくり下がり
(図でかんがえる)



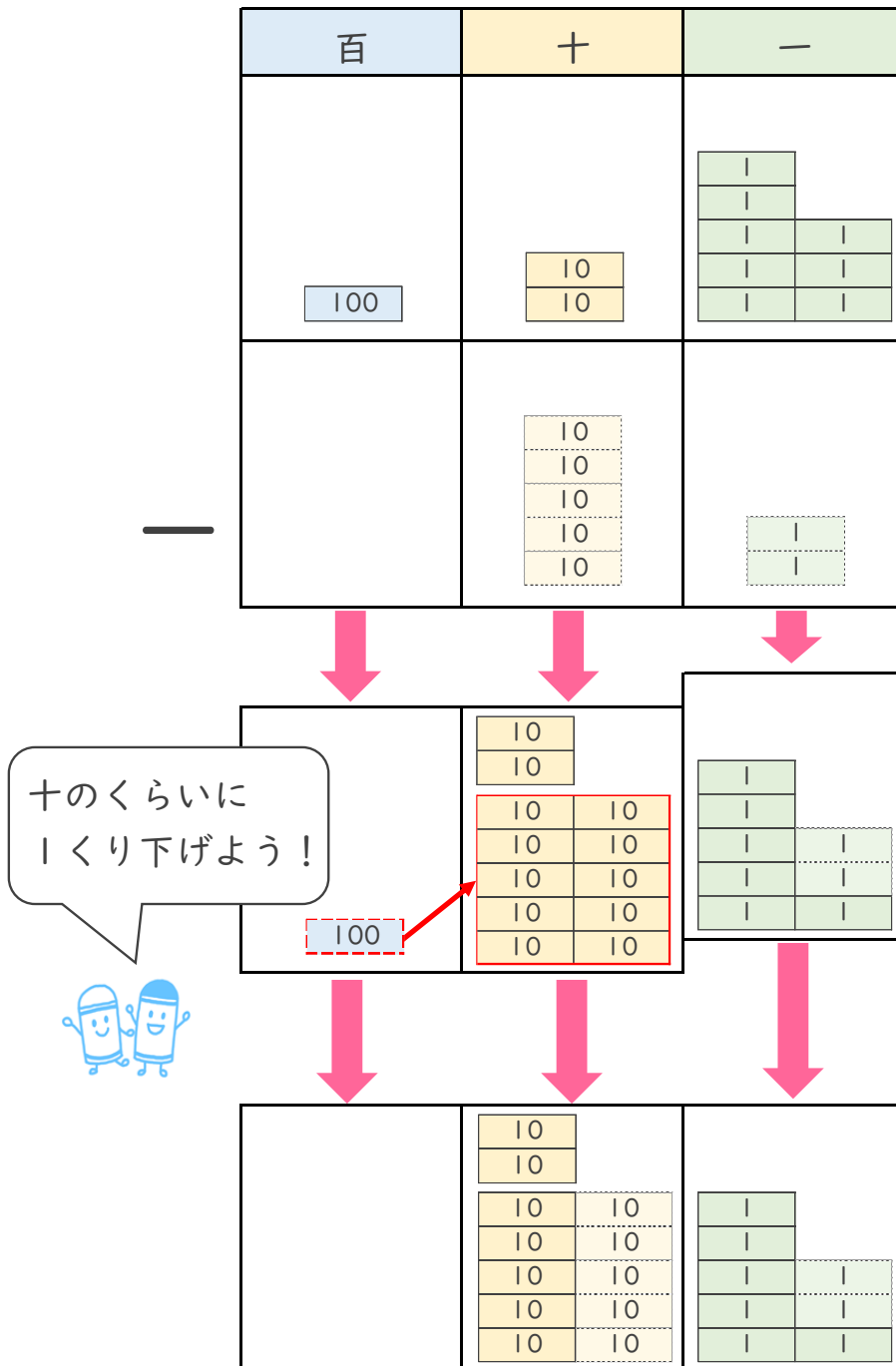
日にち： 月 日

名まえ _____

・ 花かざりを、ぜんぶで 128こ 作りました。

52こ つかうと、のこりは 何こですか。(うすい字は なぞりましょう。)

しき： $128 - 52 = 76$



答え： 76こ





たし算と ひき算のひっ算 6

◎ 百のくらいからくり下がりがり
(図でかんがえる)



日にち： 月 日

名まえ _____

・ メダルを、ぜんぶで 137こ 作りました。

62こ くばると、のこりは 何こですか。(うすい字は なぞりましょう。)

しき： $137 - 62 = 75$

百	十	一
100	10 10 10	1 1 1 1 1
—	10 10 10 10 10 10	1 1

十のくらいに
1くり下げよう！



	10 10 10	1 1 1 1 1
100	10 10 10 10 10 10 10 10	1 1 1 1
	10 10 10 10 10 10 10 10 10	1 1 1 1 1

答え： _____





たし算と
ひき算のひっ算 6

● 百のくらいからくり下がりがり
(図でかんがえる)



日にち： 月 日

名まえ _____

・ 花かざりを、ぜんぶで115こ 作りました。

84こ つかうと、のこりは 何こですか。

しき： $115 - 84 =$

百	十	一
100	10	5
	10 10 10 10 10 10 10 10	4

十のくらいに
1くり下げよう！



	10	5
100	10 10 10 10 10 10 10 10 10	4
	10	5

答え： _____





たし算と
ひき算のひっ算 6

● 百のくらいからくり下がりがり
(図でかんがえる)



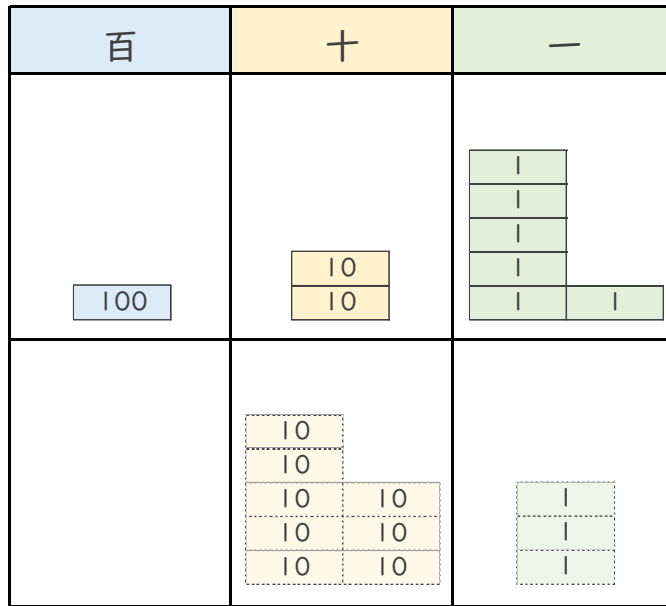
日にち： 月 日

名まえ _____

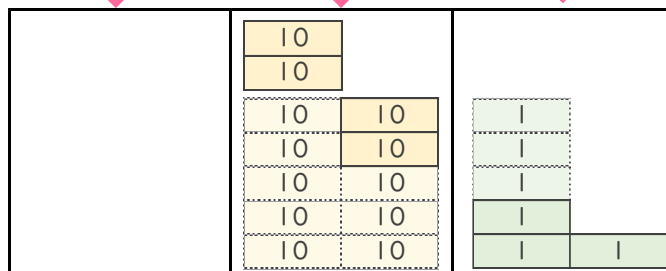
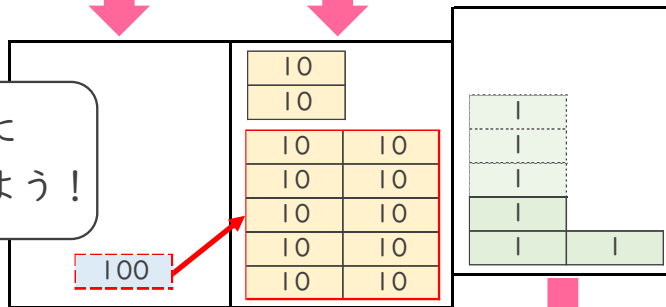
・ メダルを、ぜんぶで126こ 作りました。

83こ くばると、のこりは 何こですか。

しき： $126 - 83 =$



十のくらいに
1くり下げよう！



答え： _____





たし算と
ひき算のひっ算 6

● 百のくらいからくり下がり
(図でかんがえる)



日にち： 月 日

名まえ _____

・ 花かざりを、ぜんぶで 128こ 作りました。

52こ つかうと、のこりは 何こですか。(うすい字は なぞりましょう。)

しき： $128 - 52 = 76$

百	十	一
100	10 10	1 1 1 1 1
—	10 10 10 10 10	1 1

十のくらいに
1くり下げよう！



	10 10	1 1 1 1 1
100	10 10 10 10 10	1 1 1 1 1
	10 10 10 10 10	1 1 1 1 1

答え： 76こ





たし算と
ひき算のひっ算 6

● 百のくらいからくり下がりがり
(図でかんがえる)



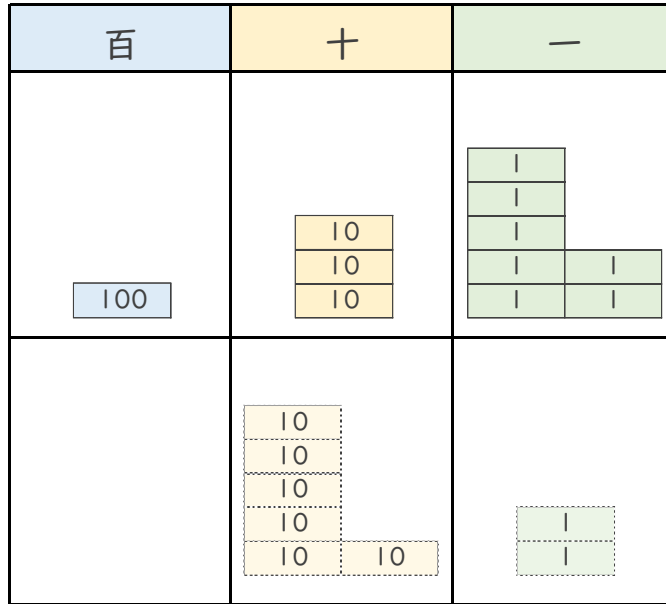
日にち： 月 日

名まえ _____

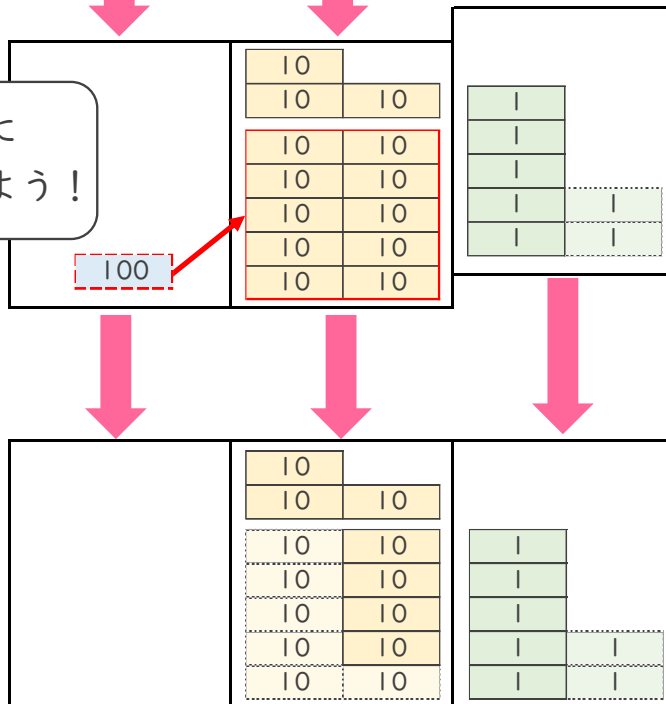
・ メダルを、ぜんぶで 137こ 作りました。

62こ くばると、のこりは 何こですか。(うすい字は なぞりましょう。)

しき： $137 - 62 = 75$



十のくらいに
1くり下げよう！



答え： 75こ





たし算と
ひき算のひっ算 6

◎ 百のくらいからくり下がりがり
(図でかんがえる)



日にち： 月 日

名まえ _____

・ 花かざりを、ぜんぶで115こ 作りました。

84こ つかうと、のこりは 何こですか。

しき： $115 - 84 = 31$

百	十	一
100	10	5
	10 10 10 10 10 10 10 10	4

十のくらいに
1くり下げよう！



	10	5
100	10 10 10 10 10 10 10 10	4

	10	5
	10 10 10 10 10 10 10 10	4

答え： 31こ





たし算と
ひき算のひっ算 6

● 百のくらいからくり下がりがり
(図でかんがえる)



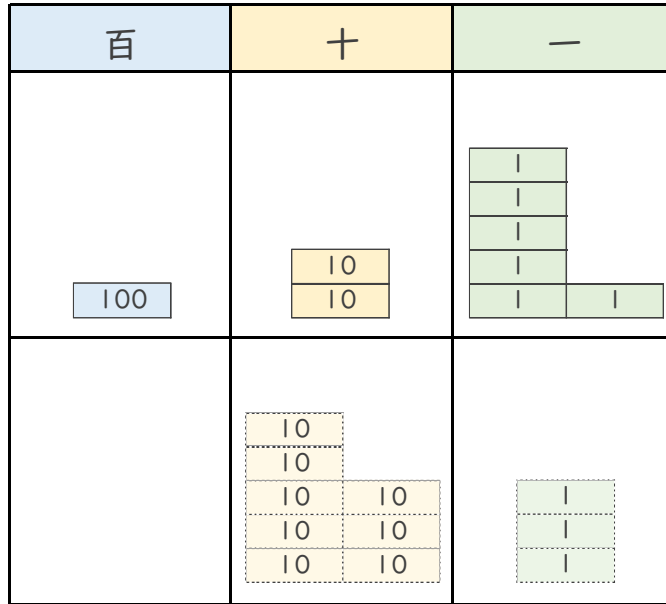
日にち： 月 日

名まえ _____

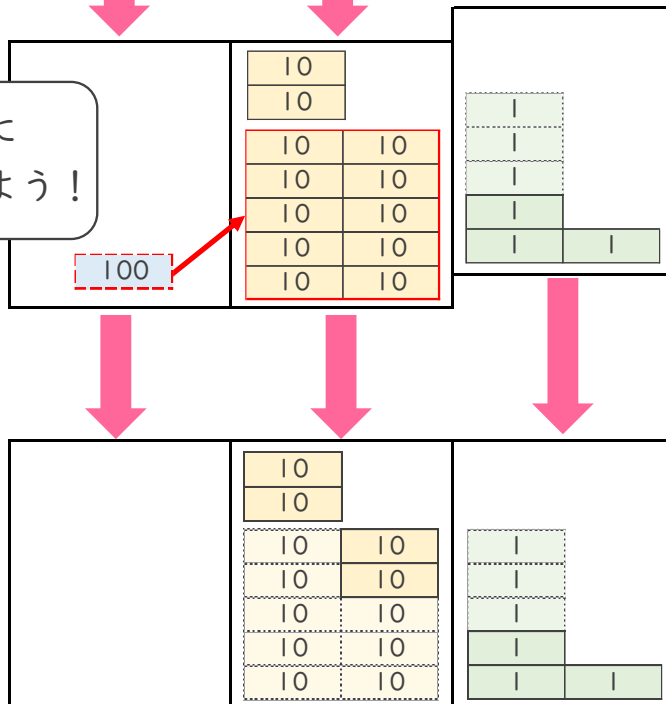
・ メダルを、ぜんぶで126こ 作りました。

83こ くばると、のこりは 何こですか。

しき： $126 - 83 = 43$



十のくらいに
1くり下げよう！



答え： 43こ

