



長いものの長さ3

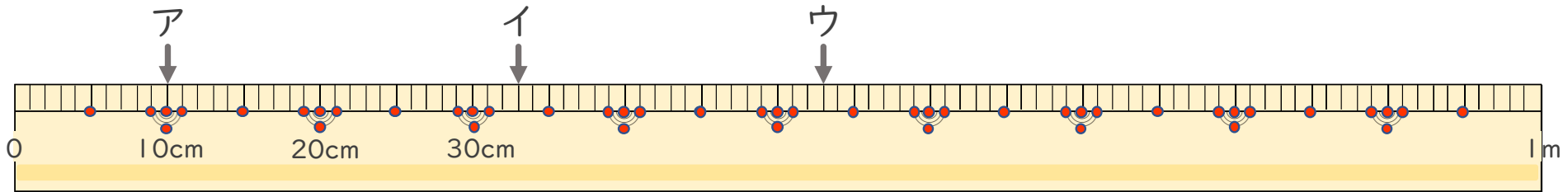
● 1メートルものさしの読みかた



日にち： 月 日

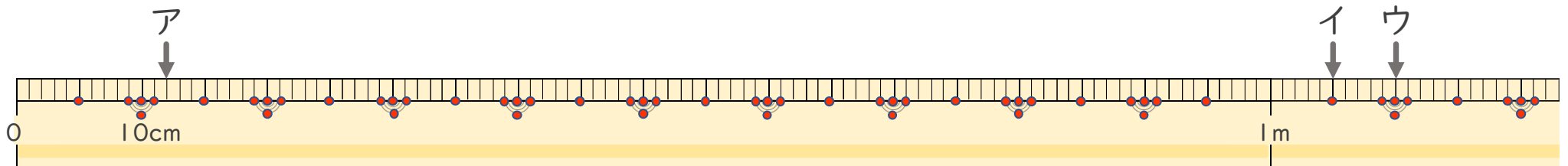
名まえ _____

1 左はしからア、イ、ウ、までの長さ^{なが}はそれぞれどれだけですか。（うすい字はなぞりましょう。）



ア (10 cm) イ (33 cm) ウ (cm)

2 左はしからア、イ、ウ、までの長さ^{なが}はそれぞれどれだけですか。（うすい字はなぞりましょう。）



ア (cm) イ (m cm) ウ (m cm)



長いものの長さ3

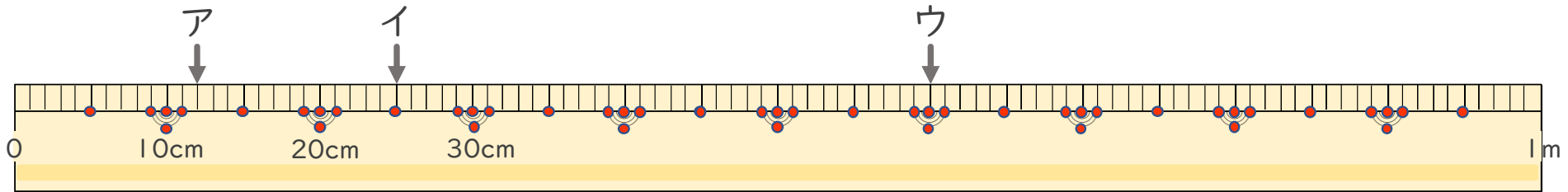
● 1メートルものさしの読みかた



日にち： 月 日

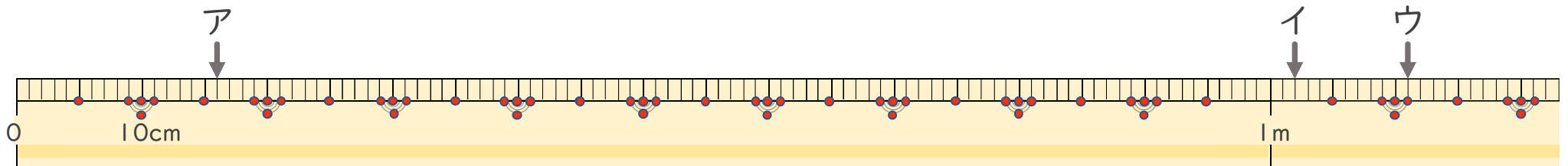
名まえ _____

1 左はしからア、イ、ウ、までの長さ^{なが}はそれぞれどれだけですか。（うすい字はなぞりましょう。）



ア (12 cm) イ (cm) ウ ()

2 左はしからア、イ、ウ、までの長さ^{なが}はそれぞれどれだけですか。（うすい字はなぞりましょう。）



ア () イ (m cm) ウ ()



長いものの長さ 3

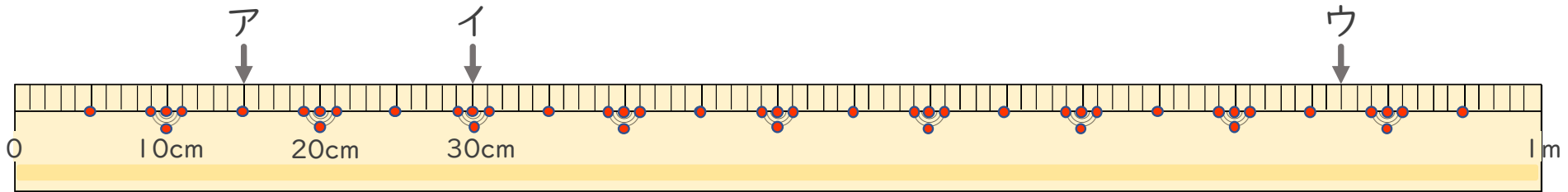
● 1メートルものさしの読みかた



日にち： 月 日

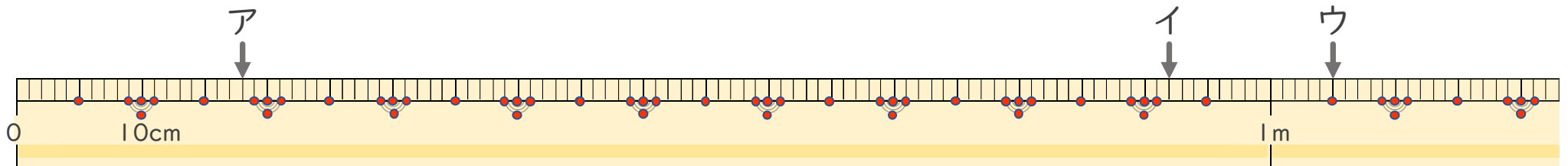
名まえ _____

1 左はしからア、イ、ウ、までの長さながはそれぞれどれだけですか。（うすい字はなぞりましょう。）



ア (15cm) イ () ウ ()

2 左はしからア、イ、ウ、までの長さながはそれぞれどれだけですか。



ア () イ () ウ ()



長いものの長さ3

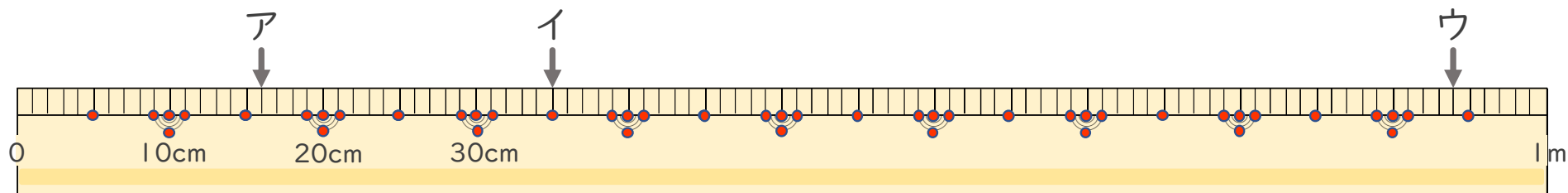
● 1メートルものさしの読みかた



日にち： 月 日

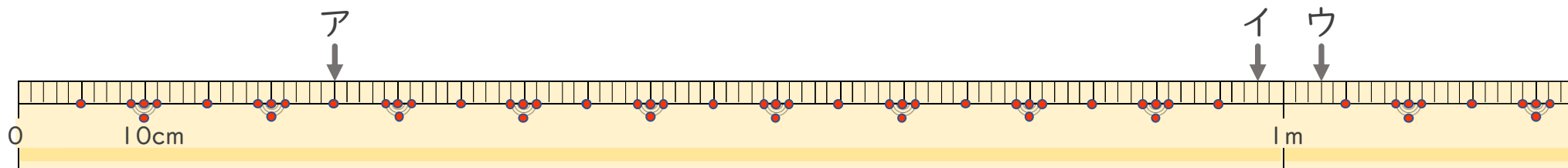
名まえ _____

1 左はしからア、イ、ウ、までの長さながはそれぞれどれだけですか。（うすい字はなぞりましょう。）



ア（ 16cm ） イ（ ） ウ（ ）

2 左はしからア、イ、ウ、までの長さながはそれぞれどれだけですか。



ア（ ） イ（ ） ウ（ ）



長いものの長さ3

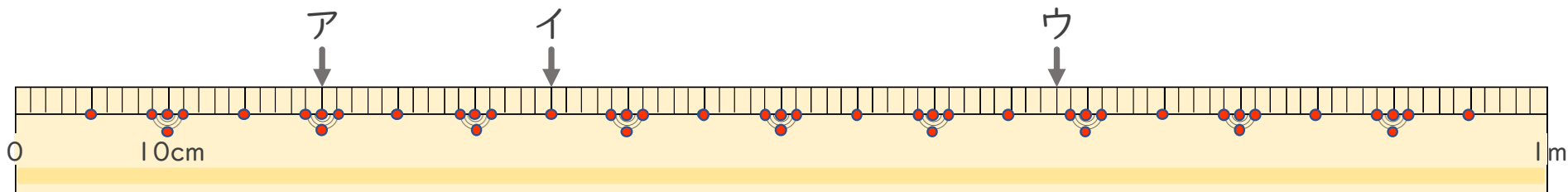
● 1メートルものさしの読みかた



日にち： 月 日

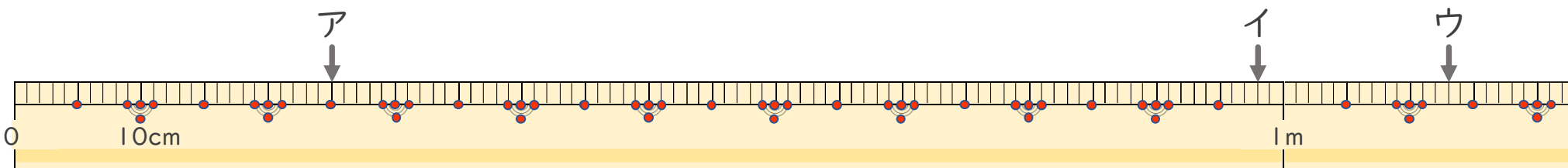
名まえ _____

1 左はしからア、イ、ウ、までの長さ^{なが}はそれぞれどれだけですか。



ア () イ () ウ ()

2 左はしからア、イ、ウ、までの長さ^{なが}はそれぞれどれだけですか。



ア () イ () ウ ()



長いものの長さ 3

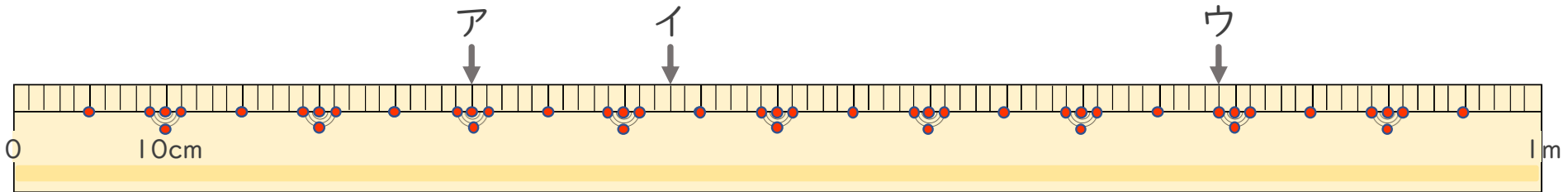
● 1メートルものさしの読みかた



日にち： 月 日

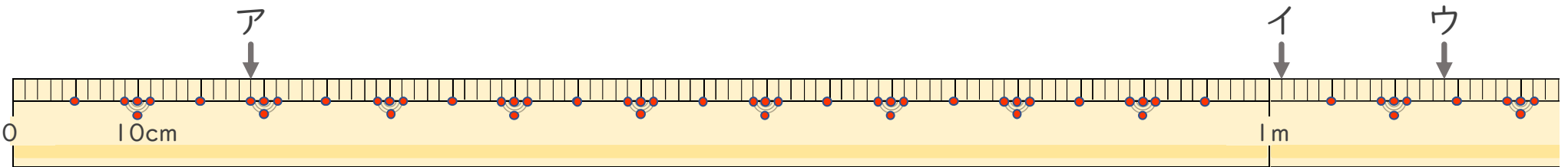
名まえ _____

1 左はしからア、イ、ウ、までの長さながはそれぞれどれだけですか。



ア () イ () ウ ()

2 左はしからア、イ、ウ、までの長さながはそれぞれどれだけですか。



ア () イ () ウ ()



長いものの長さ3

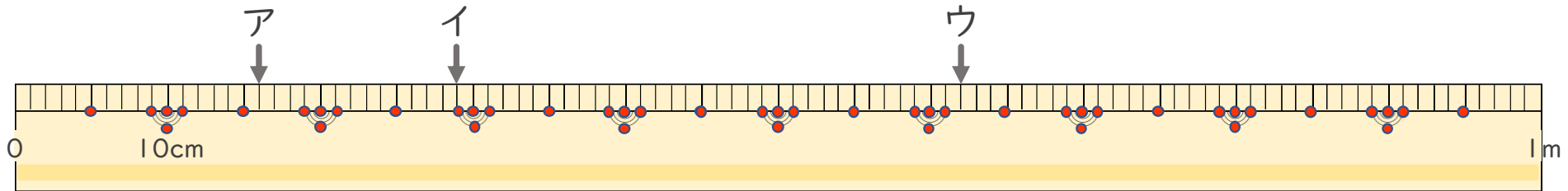
● 1メートルものさしの読みかた



日にち： 月 日

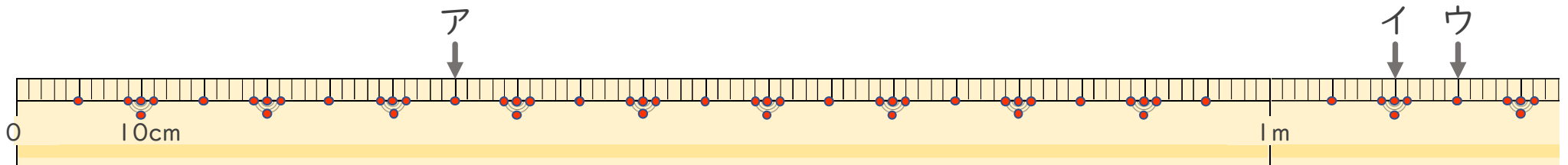
名まえ _____

1 左はしからア、イ、ウ、までの長さながはそれぞれどれだけですか。



ア () イ () ウ ()

2 左はしからア、イ、ウ、までの長さながはそれぞれどれだけですか。



ア () イ () ウ ()



長いものの長さ3

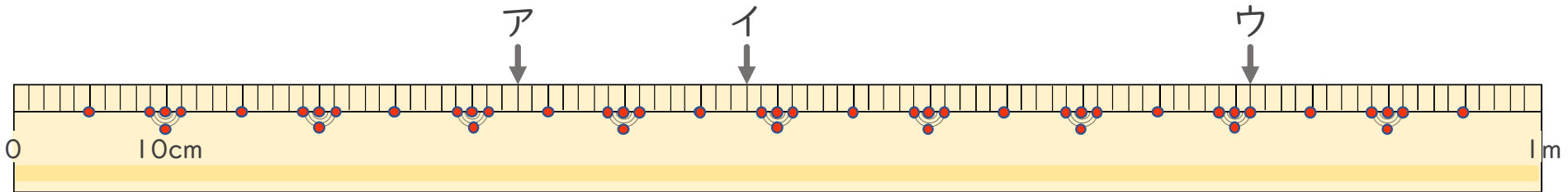
● 1メートルものさしの読みかた



日にち： 月 日

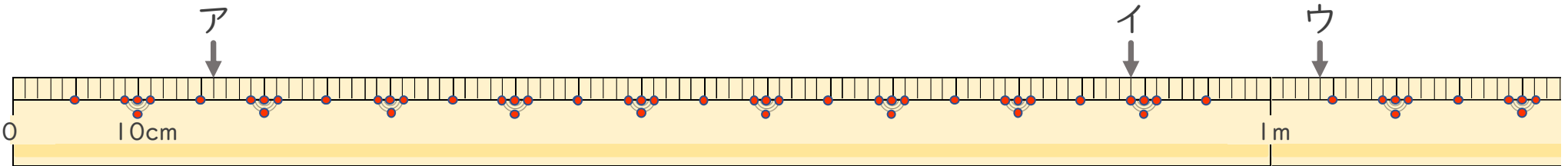
名まえ _____

1 左はしからア、イ、ウ、までの長さながはそれぞれどれだけですか。



ア () イ () ウ ()

2 左はしからア、イ、ウ、までの長さながはそれぞれどれだけですか。



ア () イ () ウ ()



長いものの長さ 3

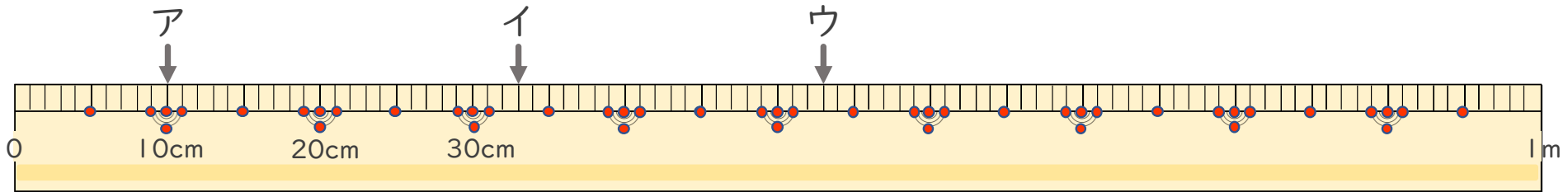
● 1メートルものさしの読みかた



日にち： 月 日

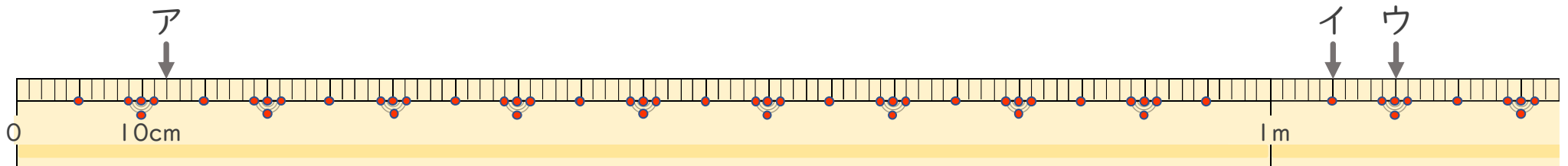
名まえ _____

1 左はしからア、イ、ウ、までの長さ^{なが}はそれぞれどれだけですか。（うすい字はなぞりましょう。）



ア (10 cm) イ (33 cm) ウ (53 cm)

2 左はしからア、イ、ウ、までの長さ^{なが}はそれぞれどれだけですか。（うすい字はなぞりましょう。）



ア (12 cm) イ (1 m 5 cm) ウ (1 m 10 cm)



長いものの長さ3

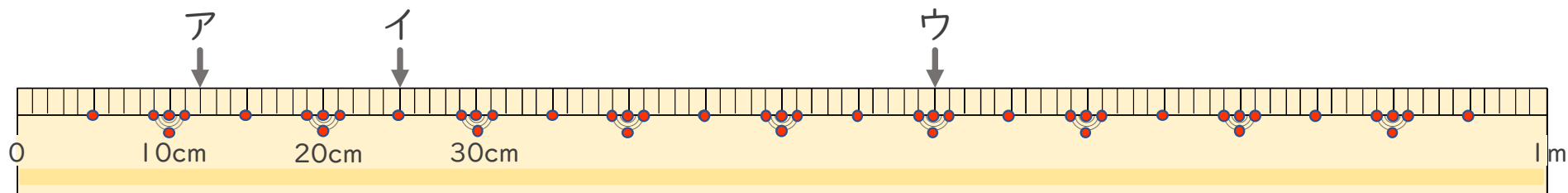
● 1メートルものさしの読みかた



日にち： 月 日

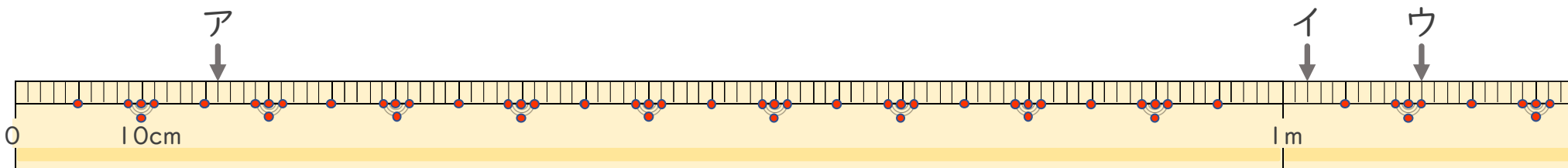
名まえ _____

1 左はしからア、イ、ウ、までの長さ^{なが}はそれぞれどれだけですか。（うすい字はなぞりましょう。）



ア (12 cm) イ (25 cm) ウ (60 cm)

2 左はしからア、イ、ウ、までの長さ^{なが}はそれぞれどれだけですか。（うすい字はなぞりましょう。）



ア (16 cm) イ (1 m 2 cm) ウ (1 m 11 cm)



長いものの長さ3

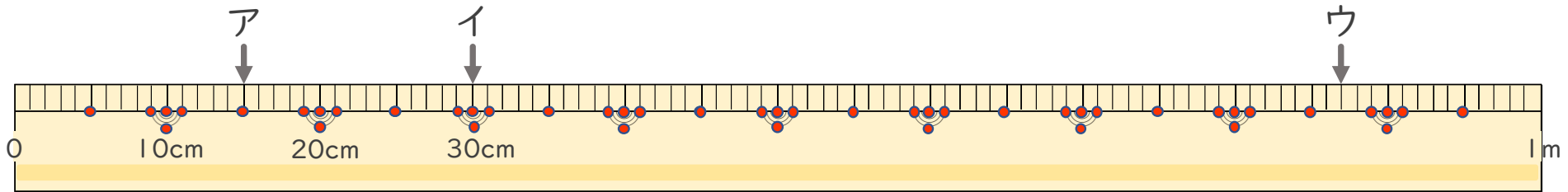
● 1メートルものさしの読みかた



日にち： 月 日

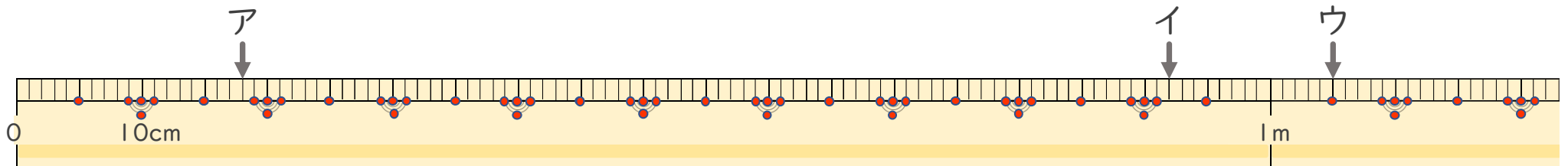
名まえ _____

1 左はしからア、イ、ウ、までの長さながはそれぞれどれだけですか。（うすい字はなぞりましょう。）



ア (15 cm) イ (30 cm) ウ (87 cm)

2 左はしからア、イ、ウ、までの長さながはそれぞれどれだけですか。



ア (18 cm) イ (92 cm) ウ (1 m 5 cm)



長いものの長さ3

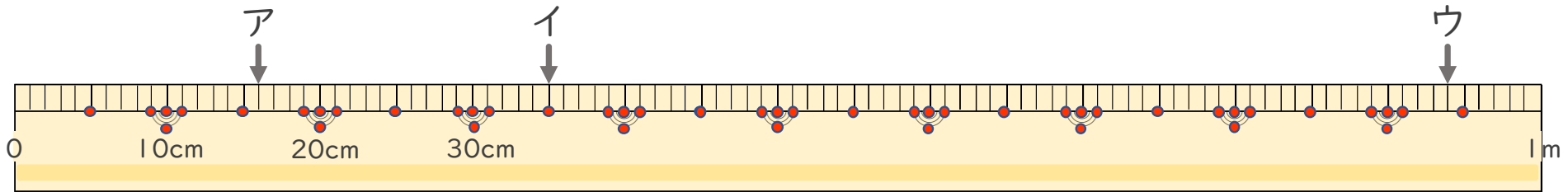
● 1メートルものさしの読みかた



日にち： 月 日

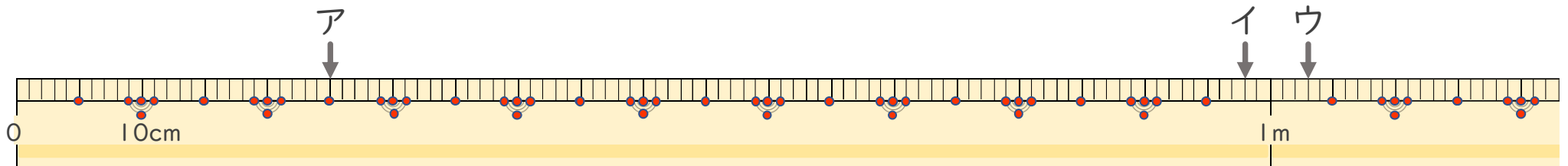
名まえ _____

1 左はしからア、イ、ウ、までの長さながはそれぞれどれだけですか。（うすい字はなぞりましょう。）



ア (16 cm) イ (35 cm) ウ (94 cm)

2 左はしからア、イ、ウ、までの長さながはそれぞれどれだけですか。



ア (25 cm) イ (98 cm) ウ (1 m 3 cm)



長いものの長さ3

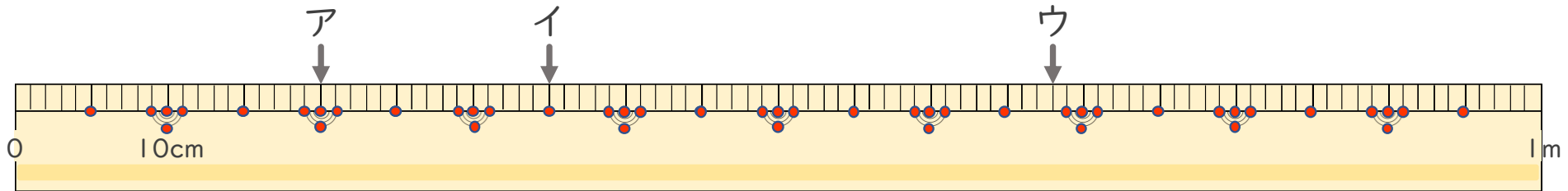
● 1メートルものさしの読みかた



日にち： 月 日

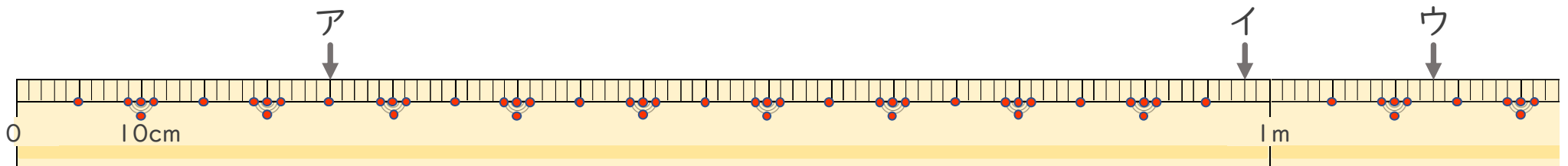
名まえ _____

1 左はしからア、イ、ウ、までの長さながはそれぞれどれだけですか。



ア (20cm) イ (35cm) ウ (68cm)

2 左はしからア、イ、ウ、までの長さながはそれぞれどれだけですか。



ア (25cm) イ (98cm) ウ (1m 13cm)



長いものの長さ 3

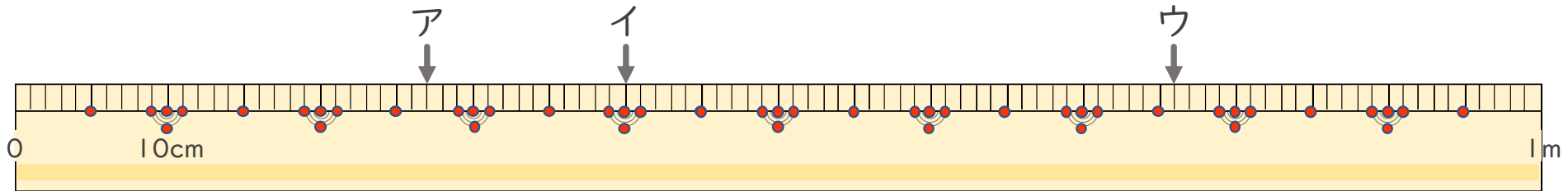
● 1メートルものさしの読みかた



日にち： 月 日

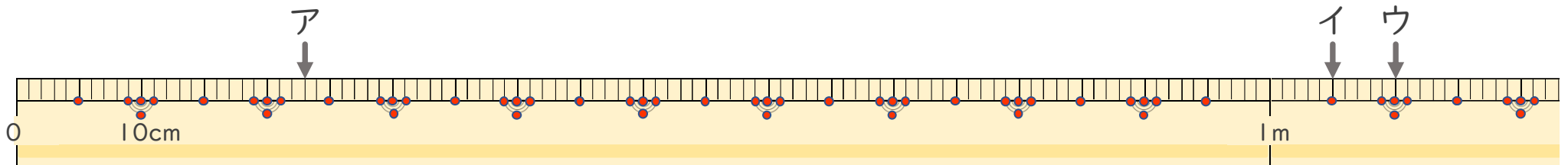
名まえ _____

1 左はしから ア、イ、ウ、までの ^{なが}長さはそれぞれどれだけですか。



ア (27cm) イ (40cm) ウ (76cm)

2 左はしから ア、イ、ウ、までの ^{なが}長さはそれぞれどれだけですか。



ア (23cm) イ (1m 5cm) ウ (1m 10cm)



長いものの長さ 3

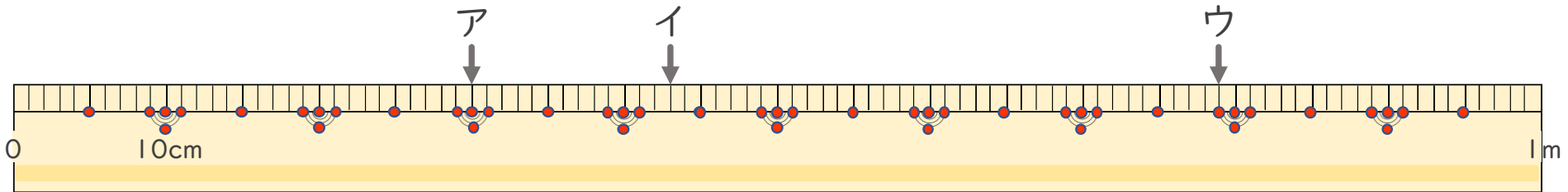
● 1メートルものさしの読みかた



日にち： 月 日

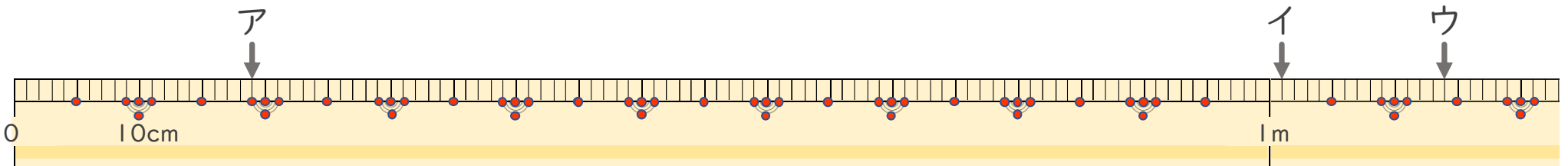
名まえ _____

1 左はしから ア、イ、ウ、までの ^{なが}長さはそれぞれどれだけですか。



ア (30cm) イ (43cm) ウ (79cm)

2 左はしから ア、イ、ウ、までの ^{なが}長さはそれぞれどれだけですか。



ア (19cm) イ (1m 1cm) ウ (1m 14cm)



長いものの長さ3

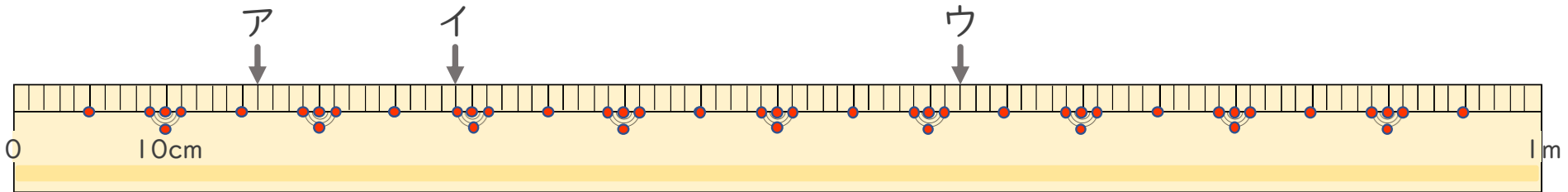
● 1メートルものさしの読みかた



日にち： 月 日

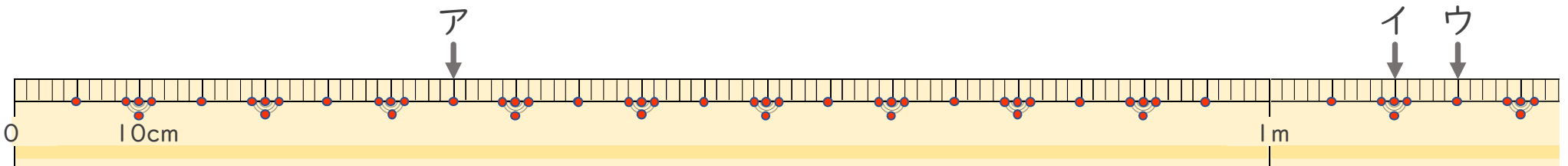
名まえ _____

1 左はしからア、イ、ウ、までの長さながはそれぞれどれだけですか。



ア (16cm) イ (29cm) ウ (62cm)

2 左はしからア、イ、ウ、までの長さながはそれぞれどれだけですか。



ア (35cm) イ (1m 10cm) ウ (1m 15cm)



長いものの長さ 3

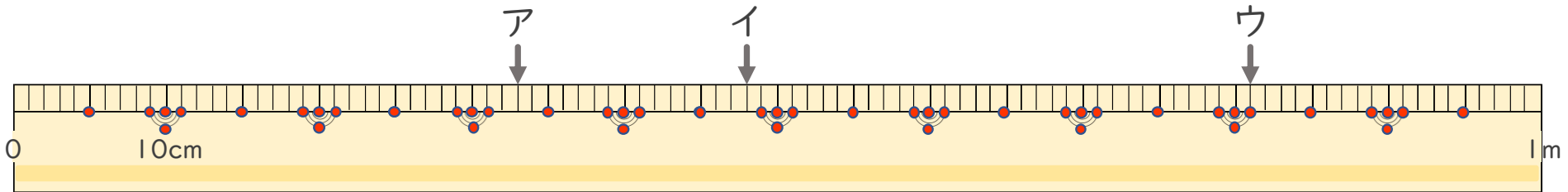
● 1メートルものさしの読みかた



日にち： 月 日

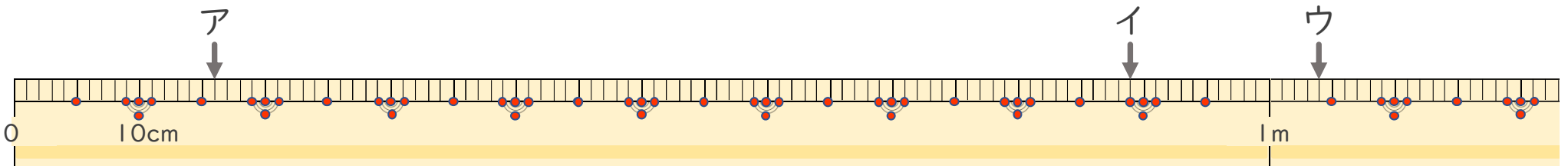
名まえ _____

1 左はしからア、イ、ウ、までの長さながはそれぞれどれだけですか。



ア (33 cm) イ (48 cm) ウ (81 cm)

2 左はしからア、イ、ウ、までの長さながはそれぞれどれだけですか。



ア (16 cm) イ (89 cm) ウ (1 m 4 cm)