



長さのたんい 〇〇

● 長いほうは
どっちかな？



日にち： 月 日

名まえ _____

・ ^{なが}長いほうに ○ をつけましょう。(うすい字は ^じなぞりましょう。)

①

(○)	()
3 cm	9 mm

↓
30 mm

たんいをそろえて
くらべよう!



②

()	(○)
47mm	5 cm

↓
50 mm

③

()	()
4 cm 5mm	39mm

↓
45 mm





長さのたんい 〇〇

● 長いほうはどっちかな？



日にち： 月 日

名まえ _____

・ ^{なが}長いほうに ○ をつけましょう。(うすい字は ^じなぞりましょう。)

①

()	(○)
10mm	2 cm



20 mm

たんいをそろえてくらべよう!



②

()	()
32mm	3 cm



mm

③

()	()
3 cm 2 mm	39mm



mm





長さのたんい 〇〇

● 長いほうは
どっちかな？



日にち： 月 日

名まえ _____

なが
・長いほうに ○ をつけましょう。

①

()	()
4 cm	5 mm

↓
mm

たんいをそろえて
くらべよう！



②

()	()
15 mm	5 cm

↓
mm

③

()	()
2 cm 4 mm	35 mm

↓
mm





長さのたんい 〇〇

● 長いほうは
どっちかな？



日にち： 月 日

名まえ _____

なが
・長いほうに ○ をつけましょう。

①

()	()
9 cm	70mm

↓
mm

たんいをそろえて
くらべよう！



②

()	()
84mm	7 cm

↓
mm

③

()	()
5 cm 5mm	60mm

↓
mm



長さのたんい 〇〇

● 長いほうは
どっちかな？



日にち： 月 日

名まえ _____

なが
・長いほうに ○ をつけましょう。

①

()
4 cm

()
8 mm

②

()
56 mm

()
6 cm

③

()
2 cm 3 mm

()
8 mm

④

()
3 cm 5 mm

()
39 mm



長さのたんい 〇〇

● 長いほうは
どっちかな？



日にち： 月 日

名まえ _____

なが
・長いほうに ○ をつけましょう。

①

()
5 cm

()
4 mm

②

()
75 mm

()
7 cm

③

()
5 cm 3 mm

()
60 mm

④

()
4 cm 7 mm

()
49 mm



長さのたんい 〇〇

● 長いほうは
どっちかな？



日にち： 月 日

名まえ _____

なが
・長いほうに ○ をつけましょう。

①

()
3 cm 2 mm

()
35mm

②

()
27mm

()
8 cm

③

()
9 cm

()
86mm

④

()
5 cm 7 mm

()
62mm



長さのたんい 〇〇

● 長いほうは
どっちかな？



日にち： 月 日

名まえ _____

なが
・長いほうに ○ をつけましょう。

①

()
4 cm 7 mm

()
23mm

②

()
70mm

()
5 cm

③

()
5 cm

()
71 mm

④

()
2 cm 7 mm

()
5 cm



長さのたんい 〇〇

● 長いほうは
どっちかな？



日にち： 月 日

名まえ _____

なが
・長いほうに ○ をつけましょう。

①

()
4 cm

()
8 mm

②

()
56 mm

()
6 cm

③

()
2 cm 3 mm

()
8 mm

④

()
3 cm 5 mm

()
39 mm



長さのたんい ①①

● 長いほうは
どっちかな？



日にち： 月 日

名まえ _____

1 ^{なが}長いほうに ○ をつけましょう。

①

()	()
4 cm	8 mm

②

()	()
56 mm	6 cm

③

()	()
2 cm 3 mm	8 mm

2 にあう ^{なが}長さのたんいを ^か書きましょう。

① えんぴつの ^{なが}長さ・・・ 10

② ノートの あつさ・・・ 3

③ てつぼうの ふとさ・・・ 28





長さのたんい 〇〇

● 長いほうは
どっちかな？



日にち： 月 日

名まえ _____

1 ^{なが}長いほうに ○ をつけましょう。

①

()

7 cm

()

8 mm

②

()

46 mm

()

6 cm

③

()

2 cm 8 mm

()

9 mm

2 にあう ^{なが}長さのたんいを ^か書きましょう。

① ノートのあつさ . . .

4

② えんぴつの ^{なが}長さ . . .

14

③ てつぼうのふとさ . . .

28





長さのたんい ①①

● 長いほうは
どっちかな？



日にち： 月 日

名まえ _____

1 ^{なが}長いほうに ○ をつけましょう。

①

()	()
1 cm 6 mm	2 cm

②

()	()
46mm	4 cm

③

()	()
3 cm 5 mm	6 mm

2 にあう ^{なが}長さのたんいを ^か書きましょう。

① ボールペンの ^{なが}長さ・・・ 13

② きょうかしよの ^{なが}あつさ・・・ 5

③ けしごむの ^{なが}あつさ・・・ 11





長さのたんい 〇〇

● 長いほうは
どっちかな？



日にち： 月 日

名まえ _____

1 ^{なが}長いほうに ○ をつけましょう。

①

()

57mm

()

5 cm

②

()

3 cm 9 mm

()

4 cm

③

()

2 cm 3 mm

()

40mm

2 にあう ^{なが}長さのたんいを ^か書きましょう。

① えんぴつの ^{なが}長さ・・・ 12

② けしごむの あつさ・・・ 11

③ てつぼうの ふとさ・・・ 28





長さのたんい 〇〇

● 長いほうは
どっちかな？



日にち： 月 日

名まえ _____

1 ^{なが}長いほうに ○ をつけましょう。

①

()

9 cm

()

66 mm

②

()

2 cm 9 mm

()

3 cm

③

()

80 mm

()

5 cm 9 mm

2 にあう ^{なが}長さのたんいを ^か書きましょう。

① けしごむの あつさ . . .

11

② てつぼうの ふとさ . . .

28

③ ペンの ^{なが}長さ . . .

13






長さのたんい 〇〇

● 長いほうは
どっちかな？

15

めざせ80点!



名まえ _____

1 ^{なが}長いほうに ^{かく}〇をつけましょう。(各20点)

①

()

4 cm

()

8 mm

②

()

56 mm

()

6 cm

③

()

2 cm 3 mm

()

8 mm

2 にあう ^{なが}長さのたんいを ^{かく}書きましょう。(各20点)

① えんぴつの ^{なが}長さ・・・

12

② ノートの あつさ・・・

4






長さのたんい 〇〇

● 長いほうは
どっちかな？

16

めざせ80点!



名まえ _____

1 ^{なが}長いほうに ^{かく}○を ^{てん}つけましょう。(各20点)

①

()	()
1 cm 7 mm	8 mm

②

()	()
70mm	4 cm

③

()	()
5 cm 9 mm	60mm

2 にあう ^{なが}長さの ^{かく}たんいを ^{てん}書きましょう。(各20点)

① ボールペンの ^{なが}長さ・・・ 13

② てつぼうの ^{なが}ふとさ・・・ 28



長さのたんい 〇〇

● 長いほうは
どっちかな？



日にち： 月 日

名まえ _____

・ ^{なが}長いほうに ○ をつけましょう。(うすい字は ^じなぞりましょう。)

①

(○)	()
3 cm	9 mm

↓
30 mm

たんいをそろえて
くらべよう!



②

()	(○)
47 mm	5 cm

↓
50 mm

③

(○)	()
4 cm 5 mm	39 mm

↓
45 mm





長さのたんい 〇〇

● 長いほうは
どっちかな？



日にち： 月 日

名まえ _____

なが
・長いほうに ○ をつけましょう。

①

()	(○)
10mm	2 cm



20 mm

たんいをそろえて
くらべよう！



②

(○)	()
32mm	3 cm



30 mm

③

()	(○)
3 cm 2 mm	39mm



32 mm





長さのたんい 〇〇

● 長いほうは
どっちかな？



日にち： 月 日

名まえ _____

なが
・長いほうに ○ をつけましょう。

①

(○)

4 cm

()

5 mm



40 mm

たんいをそろえて
くらべよう！



②

()

15 mm

(○)

5 cm



50 mm

③

()

2 cm 4 mm

(○)

35 mm



24 mm





長さのたんい 〇〇

● 長いほうは
どっちかな？



日にち： 月 日

名まえ _____

なが
・長いほうに ○ をつけましょう。

①

(○)	()
9 cm	70mm

↓
90 mm

たんいをそろえて
くらべよう！



②

(○)	()
84mm	7 cm

↓
70 mm

③

()	(○)
5 cm 5mm	60mm

↓
55 mm





長さのたんい 〇〇

● 長いほうは
どっちかな？



日にち： 月 日

名まえ _____

なが
・長いほうに ○ をつけましょう。

①

(○)
4 cm

()
8 mm

②

()
56 mm

(○)
6 cm

③

(○)
2 cm 3 mm

()
8 mm

④

()
3 cm 5 mm

(○)
39 mm





長さのたんい 〇〇

● 長いほうは
どっちかな？



日にち： 月 日

名まえ _____

なが
・長いほうに ○ をつけましょう。

①

5 cm

4 mm

②

75 mm

7 cm

③

5 cm 3 mm

60 mm

④

4 cm 7 mm

49 mm





長さのたんい 〇〇

● 長いほうは
どっちかな？



日にち： 月 日

名まえ _____

なが
・長いほうに ○ をつけましょう。

①

()
3 cm 2 mm

(○)
35mm

②

()
27mm

(○)
8 cm

③

(○)
9 cm

()
86mm

④

()
5 cm 7 mm

(○)
62mm





長さのたんい 〇〇

● 長いほうは
どっちかな？



日にち： 月 日

名まえ _____

なが
・長いほうに ○ をつけましょう。

①

(○)
4 cm 7 mm

()
23mm

②

(○)
70mm

()
5 cm

③

()
5 cm

(○)
71 mm

④

()
2 cm 7 mm

(○)
5 cm





長さのたんい 〇〇

● 長いほうは
どっちかな？



日にち： 月 日

名まえ _____

なが
・長いほうに ○ をつけましょう。

①

(○)
4 cm

()
8 mm

②

()
56 mm

(○)
6 cm

③

(○)
2 cm 3 mm

()
8 mm

④

()
3 cm 5 mm

(○)
39 mm





長さのたんい 10

● 長いほうはどっちかな？



日にち： 月 日

名まえ _____

1 ^{なが}長いほうに ○ をつけましょう。

①

(○)

4 cm

()

8 mm

②

()

56 mm

(○)

6 cm

③

(○)

2 cm 3 mm

()

8 mm

2 にあう ^{なが}長さのたんいを ^か書きましょう。

① えんぴつの ^{なが}長さ . . .

10

cm

② ノートの あつさ . . .

3

mm

③ てつぼうの ふとさ . . .

28

mm





長さのたんい 〇〇

● 長いほうは
どっちかな？



日にち： 月 日

名まえ _____

1 ^{なが}長いほうに ○ をつけましょう。

①

(○)

7 cm

()

8 mm

②

()

46 mm

(○)

6 cm

③

(○)

2 cm 8 mm

()

9 mm

2 にあう ^{なが}長さのたんいを ^か書きましょう。

① ノートのあつさ . . .

4

mm

② えんぴつの ^{なが}長さ . . .

14

cm

③ てつぼうのふとさ . . .

28

mm





長さのたんい ①

● 長いほうはどっちかな？



日にち： 月 日

名まえ _____

1 ^{なが}長いほうに ○ をつけましょう。

①

()
1 cm 6 mm

(○)
2 cm

②

(○)
46 mm

()
4 cm

③

(○)
3 cm 5 mm

()
6 mm

2 にあう ^{なが}長さのたんいを ^か書きましょう。

① ボールペンの ^{なが}長さ . . . 13

② きょうかしよの ^{なが}あつさ . . . 5

③ けしごむの ^{なが}あつさ . . . 11





長さのたんい 〇〇

● 長いほうは
どっちかな？

13

日にち： 月 日

名まえ _____

1 ^{なが}長いほうに ○ をつけましょう。

①

(○)

57mm

()

5 cm

②

()

3 cm 9 mm

(○)

4 cm

③

()

2 cm 3 mm

(○)

40mm

2 にあう ^{なが}長さのたんいを ^か書きましょう。

① えんぴつの ^{なが}長さ . . .

12

cm

② けしごむの あつさ . . .

11

mm

③ てつぼうの ふとさ . . .

28

mm





長さのたんい 〇〇

● 長いほうはどっちかな？

14

日にち： 月 日

名まえ _____

1 ^{なが}長いほうに ○ をつけましょう。

①

(○)

9 cm

()

66 mm

②

()

2 cm 9 mm

(○)

3 cm

③

(○)

80 mm

()

5 cm 9 mm

2 にあう ^{なが}長さのたんいを ^か書きましょう。

① けしごむの あつさ . . .

11

mm

② てつぼうの ふとさ . . .

28

mm

③ ペンの ^{なが}長さ . . .

13

cm






長さのたんい 〇〇

● 長いほうは
どっちかな？

15

めざせ80点!



名まえ _____

1 ^{なが}長いほうに ^{かく}〇を ^{てん}つけましょう。(各20点)

①

()

4 cm

()

8 mm

②

()

56 mm

()

6 cm

③

()

2 cm 3 mm

()

8 mm

2 にあう ^{なが}長さの ^かたんいを ^{てん}書きましょう。(各20点)

① えんぴつの ^{なが}長さ . . .

12

② ノートの ^{なが}あつさ . . .

4






長さのたんい 〇〇

● 長いほうは
どっちかな？

16

めざせ80点!



名まえ _____

1 ^{なが}長いほうに ^{かく}○を ^{てん}つけましょう。(各20点)

①

(○)	()
1 cm 7 mm	8 mm

②

(○)	()
70mm	4 cm

③

()	(○)
5 cm 9 mm	60mm

2 にあう ^{なが}長さの ^{かく}たんいを ^{てん}書きましょう。(各20点)

① ボールペンの ^{なが}長さ・・・ 13

② てつぼうの ^{なが}ふとさ・・・ 28

