



長さのたんい 13

● きまった長さの
直線をひく




日にち： 月 日


名まえ _____

・ |---- から つぎの ^{なが}長さの ^{ちよくせん}直線を ひきましょう。(うすい^{せん}線は なぞりましょう。)

① 5 cm




② 7 cm



③ 4 cm 5 mm



④ 5 5 mm





長さのたんい 13

● きまった長さの
直線をひく




日にち： 月 日


名まえ _____

・ |----- から つぎの ^{なが}長さの ^{ちよくせん}直線を ひきましょう。(うすい^{せん}線は なぞりましょう。)


① 6 cm




② 3 cm



③ 4 cm 7 mm



④ 8 5 mm





長さのたんい 13

● きまった長さの
直線をひく




日にち： 月 日

名まえ _____

・ |----- から つぎの ^{なが}長さの ^{ちよくせん}直線を ひきましょう。(うすい線は ^{せん}なぞりましょう。)


① 4 cm




② 7 cm 2 mm



③ 5 0 mm



④ 6 4 mm





長さのたんい 13

● きまった長さの
直線をひく




日にち： 月 日

名まえ _____

・ |---- から つぎの ^{なが}長さの ^{ちよくせん}直線を ひきましょう。(うすい^{せん}線は なぞりましょう。)

① 3 cm




② 5 cm 6 mm



③ 7 0 mm



④ 4 8 mm





長さのたんい 13

● きまった長さの
直線をひく



日にち： 月 日

名まえ _____

・ |---- から つぎの ^{なが}長さの ^{ちよくせん}直線を ひきましょう。(うすい^{せん}線は なぞりましょう。)

① 10 cm

② 35 mm

③ 7 cm

④ 5 cm 5 mm





長さのたんい 13

● きまった長さの
直線をひく




日にち： 月 日


名まえ _____

・ |----- から つぎの ^{なが}長さの ^{ちよくせん}直線を ひきましょう。(うすい^{せん}線は なぞりましょう。)


① 4 cm 3 mm




② 9 5 mm



③ 6 cm



④ 3 0 mm





長さのたんい 13

● きまった長さの
直線をひく



日にち： 月 日

名まえ _____

・ |----- から つぎの ^{なが}長さの ^{ちよくせん}直線を ひきましょう。

① 67 mm

② 2 cm 4 mm

③ 5 cm

④ 80 mm



長さのたんい 13

● きまった長さの
直線をひく



日にち： 月 日

名まえ _____

・ |----- から つぎの ^{なが}長さの ^{ちよくせん}直線を ひきましょう。

① 8 cm 5 mm

|-----

② 9 0 mm

|-----

③ 4 cm

|-----

④ 6 cm 4 mm

|-----





長さのたんい 13

● きまった長さの
直線をひく



日にち： 月 日

名まえ _____

・ |----- から つぎの ^{なが}長さの ^{ちよくせん}直線を ひきましょう。

① 7 8 mm

② 1 0 cm

③ 5 cm

④ 8 cm 8 mm



長さのたんい 13

● しまった長さの
直線をひく



日にち： 月 日

名まえ _____

1 |----- から つぎの ^{なが}長さの ^{ちよくせん}直線を ひきましょう。

① 9 cm

|-----

② 5 4 mm

|-----

③ 6 cm

|-----

2 ^{なが}長いほうに ○ を つけましょう。

①

()

4 cm

()

8 mm

②

()

56 mm

()

6 cm





長さのたんい 13

● きまった長さの
直線をひく



日にち： 月 日

名まえ _____

1 |----- から つぎの ^{なが}長さの ^{ちよくせん}直線を ひきましょう。

① 1 1 cm

② 8 5 mm

③ 7 cm

2 ^{なが}長いほうに ○ を つけましょう。

①

()

57mm

()

7 cm

②

()

35mm

()

3 cm 2 mm





長さのたんい 13

● きまった長さの
直線をひく

12

日にち： 月 日

名まえ _____

1 |----- から つぎの ^{なが}長さの ^{ちよくせん}直線を ひきましょう。

① 10 cm

|-----

② 45 mm

|-----

③ 5 cm

|-----

2 ^{なが}長いほうに ○ を つけましょう。

①

()

7 cm

()

8 mm

②

()

41 mm

()

4 cm 9 mm





長さのたんい 13

● きまった長さの
直線をひく



日にち： 月 日

名まえ _____

1 |----- から つぎの ^{なが}長さの ^{ちよくせん}直線を ひきましょう。

① 7 cm 3 mm

|-----

② 2 5 mm

|-----

③ 8 cm

|-----

2 ^{なが}長いほうに ○ を つけましょう。

①

()

5 cm

()

49 mm

②

()

56 mm

()

6 cm





長さのたんい 13

● きまった長さの
直線をひく

14

日にち： 月 日

名まえ _____

1 |----- から つぎの ^{なが}長さの ^{ちよくせん}直線を ひきましょう。

① 4 cm

|-----

② 8 5 mm

|-----

③ 6 cm

|-----

2 ^{なが}長いほうに ○ を つけましょう。

①

()

7 cm

()

8 mm

②

()

27 mm

()

2 cm 5 mm





長さのたんい 13

● きまった長さの
直線をひく

15

めざせ80点!



名まえ _____

1 |----- から つぎの ^{なが}長さの ^{ちよくせん}直線を ひきましょう。(各20点)

① 9 cm

|-----

② 5 4 mm

|-----

③ 6 cm

|-----

2 ^{なが}長いほうに ○をつけましょう。(各20点)

①

()
4 cm

()
8 mm

②

()
56 mm

()
6 cm





長さのたんい 13

● しまった長さの
直線をひく

16

めざせ80点!



名まえ _____

1 |----- から つぎの ^{なが}長さの ^{ちよくせん}直線を ひきましょう。(各20点)

① 8 cm

|-----

② 5 6 mm

|-----

③ 9 cm 7 mm

|-----

2 ^{なが}長いほうに ○をつけましょう。(各20点)

①

() ()
6 cm 5 mm 66 mm

②

() ()
45 mm 5 cm



長さのたんい 13

● きまった長さの
直線をひく




日にち： 月 日

名まえ _____

・ |----- から つぎの ^{なが}長さの ^{ちよくせん}直線を ひきましょう。(うすい^{せん}線は なぞりましょう。)


① 5 cm




② 7 cm



③ 4 cm 5 mm



④ 5 5 mm





長さのたんい 13

● きまった長さの
直線をひく



日にち： 月 日


名まえ _____

・ |----- から つぎの ^{なが}長さの ^{ちよくせん}直線を ひきましょう。(うすい^{せん}線は なぞりましょう。)


① 6 cm



② 3 cm



③ 4 cm 7 mm



④ 8 5 mm





長さのたんい 13

● きまった長さの
直線をひく




日にち： 月 日

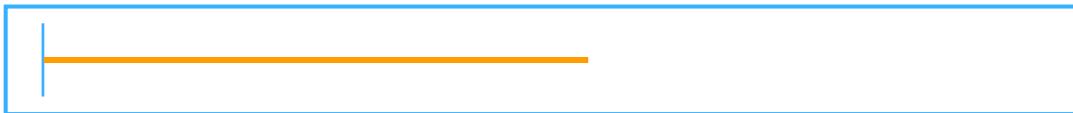
名まえ _____

・ |----- から つぎの ^{なが}長さの ^{ちよくせん}直線を ひきましょう。(うすい^{せん}線は なぞりましょう。)


① 4 cm



② 7 cm 2 mm



③ 5 0 mm



④ 6 4 mm





長さのたんい 13

● きまった長さの
直線をひく




日にち： 月 日


名まえ _____

・ |----- から つぎの ^{なが}長さの ^{ちよくせん}直線を ひきましょう。(うすい線は ^{せん}なぞりましょう。)

① 3 cm




② 5 cm 6 mm



③ 7 0 mm



④ 4 8 mm





長さのたんい 13

● きまった長さの
直線をひく



日にち： 月 日


名まえ _____

・ |----- から つぎの ^{なが}長さの ^{ちよくせん}直線を ひきましょう。(うすい^{せん}線は なぞりましょう。)

① 10 cm




② 35 mm



③ 7 cm



④ 5 cm 5 mm





長さのたんい 13

● きまった長さの
直線をひく




日にち： 月 日

名まえ _____

・ |----- から つぎの ^{なが}長さの ^{ちよくせん}直線を ひきましょう。(うすい^{せん}線は なぞりましょう。)

① 4 cm 3 mm




② 9 5 mm



③ 6 cm



④ 3 0 mm





長さのたんい 13

● きまった長さの
直線をひく



日にち： 月 日


名まえ _____

・ |----- から つぎの ^{なが}長さの ^{ちよくせん}直線を ひきましょう。

① 67 mm



② 2 cm 4 mm



③ 5 cm



④ 80 mm





長さのたんい 13

● きまった長さの
直線をひく



日にち： 月 日

名まえ _____

・ |----- から つぎの ^{なが}長さの ^{ちよくせん}直線を ひきましょう。


① 8 cm 5 mm



② 90 mm



③ 4 cm



④ 6 cm 4 mm





長さのたんい 13

● きまった長さの
直線をひく




日にち： 月 日

名まえ _____

・ |----- から つぎの ^{なが}長さの ^{ちよくせん}直線を ひきましょう。


① 78 mm



② 10 cm



③ 5 cm



④ 8 cm 8 mm





長さのたんい 13

● きまった長さの
直線をひく



日にち： 月 日


名まえ _____

1 |-----から つぎの ^{なが}長さの ^{ちよくせん}直線を ひきましょう。

① 9 cm



② 5 4 mm



③ 6 cm



2 ^{なが}長いほうに ○ を つけましょう。

①

(○)

4 cm

()

8 mm

②

(○)

61 mm

()

6 cm





長さのたんい 13

● きまった長さの
直線をひく



日にち： 月 日

名まえ _____

1 |----- から つぎの ^{なが}長さの ^{ちよくせん}直線を ひきましょう。

① 1 1 cm



② 8 5 mm



③ 7 cm



2 ^{なが}長いほうに ○ を つけましょう。

①

()
57mm

(○)
7 cm

②

(○)
35mm

()
3 cm 2 mm





長さのたんい 13

● きまった長さの
直線をひく

12

日にち： 月 日


名まえ _____

1 |-----から つぎの ^{なが}長さの ^{ちよくせん}直線を ひきましょう。


① 10 cm



② 45 mm



③ 5 cm



2 ^{なが}長いほうに ○ を つけましょう。

①

(○)

7 cm

()

8 mm

②

()

41 mm

(○)

4 cm 9 mm





長さのたんい 13

● しまった長さの
直線をひく



日にち： 月 日


名まえ _____

1 |-----から つぎの ^{なが}長さの ^{ちよくせん}直線を ひきましょう。

① 7 cm 3 mm



② 2 5 mm



③ 8 cm



2 ^{なが}長いほうに ○ を つけましょう。

①

(○)

5 cm

()

49 mm

②

()

56 mm

(○)

6 cm





長さのたんい 13

● きまった長さの
直線をひく

14

日にち： 月 日

名まえ _____

1 |----- から つぎの ^{なが}長さの ^{ちよくせん}直線を ひきましょう。

① 4 cm



② 85 mm



③ 6 cm



2 ^{なが}長いほうに ○ を つけましょう。

①

(○)

7 cm

()

8 mm

②

(○)

27 mm

()

2 cm 5 mm





長さのたんい 13

● きまった長さの
直線をひく

15

めざせ80点!




名まえ _____

1 |-----| から つぎの ^{なが}長さの ^{ちよくせん}直線を ひきましょう。(各20点)

① 9 cm



② 5 4 mm



③ 6 cm



2 ^{なが}長いほうに ○ を つけましょう。(各20点)

①

(○)

4 cm

()

8 mm

②

()

56 mm

(○)

6 cm





長さのたんい 13

● きまった長さの
直線をひく

16

めざせ80点!




名まえ _____

1 |-----| から つぎの ^{なが}長さの ^{ちよくせん}直線を ひきましょう。(各20点)


① 8 cm



② 5 6 mm



③ 9 cm 7 mm



2 ^{なが}長いほうに ○ を つけましょう。(各20点)

①

()
6 cm 5 mm

(○)
66mm

②

()
45mm

(○)
5 cm

