



長さのたんい 15

● おれ線の長さくらべ



日にち： 月 日

名まえ _____

・ ①の線と ②の線の長さをくらべます。つぎの もんだいに 答えましょう。（うすい字は なぞりましょう。）

①



②



① ①の線の長さは何cmですか。

しき： $5\text{ cm} + 3\text{ cm} = 8\text{ cm}$

こた
答え

8 cm

② ②の線の長さは何cmですか。

しき： $2\text{ cm} + 4\text{ cm} = 6\text{ cm}$

こた
答え

6 cm

③ ①の線と ②の線では どちらが長いですか。

こた
答え ①の線のほうが長い





長さのたんい 15

◎ おれ線の長さくらべ



日にち： 月 日


名まえ _____

・ ①の線と ②の線の長さをくらべます。つぎの もんだいに 答えましょう。（うすい字は なぞりましょう。）

①



②



① ①の線の長さは何cmですか。

しき： $5\text{ cm } 5\text{ mm} + 2\text{ cm} =$

こた
答え _____

② ②の線の長さは何cmですか。

しき：

こた
答え _____

③ ①の線と ②の線では どちらが長いですか。

こた
答え

の線のほうが長い





長さのたんい 15

● おれ線の長さくらべ



日にち： 月 日

名まえ _____

・ ①の線と ②の線の長さをくらべます。つぎの もんだいに 答えましょう。（うすい字は なぞりましょう。）



① ①の線の長さは何cmですか。

しき： $5\text{ cm} + 3\text{ cm} = 8\text{ cm}$

こた
答え 8 cm

② ②の線の長さは何cmですか。

しき： $3\text{ cm } 5\text{ mm} + 5\text{ cm} = 8\text{ cm } 5\text{ mm}$

こた
答え 8 cm 5 mm

③ ①の線と ②の線ではどちらが長いですか。

こた
答え ②の線のほうが長い



長さのたんい 15

◎ おれ線の長さくらべ



日にち： 月 日

名まえ _____

・ ①の線と ②の線の長さをくらべます。つぎの もんだいに 答えましょう。（うすい字は なぞりましょう。）

①



②



① ①の線の長さは何cmですか。

しき： $4\text{ cm } 5\text{ mm} + 3\text{ cm} = 7\text{ cm } 5\text{ mm}$

こた
答え 7 cm 5 mm

② ②の線の長さは何cmですか。

しき： $3\text{ cm} + 5\text{ cm} = 8\text{ cm}$

こた
答え 8 cm

③ ①の線と ②の線ではどちらが長いですか。

こた
答え ②の線のほうが長い





長さのたんい 15

◎ おれ線の長さくらべ

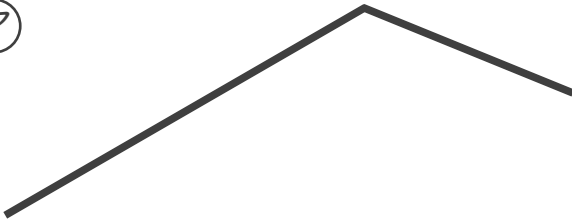


日にち： 月 日


名まえ _____

・ ①の線と ②の線の長さをくらべます。つぎの もんだいに 答えましょう。（うすい字は なぞりましょう。）

①



②



① ①の線の長さは何cmですか。

しき： $5\text{ cm } 5\text{ mm} + 3\text{ cm} =$

こた
答え

② ②の線の長さは何cmですか。

しき：

こた
答え

③ ①の線と ②の線では どちらが長いですか。

こた
答え

の線のほうが長い





長さのたんい15

◎ おれ線の長さくらべ



日にち： 月 日

名まえ _____

・ ①の線と ②の線の長さをくらべます。つぎの もんだいに 答えましょう。

①



②



① ①の線の長さは何cmですか。

しき：

こた
答え

② ②の線の長さは何cmですか。

しき：

こた
答え

③ ①の線と ②の線では どちらが長いですか。

こた
答え

の線のほうが長い





長さのたんい 15

● おれ線の長さくらべ



日にち： 月 日

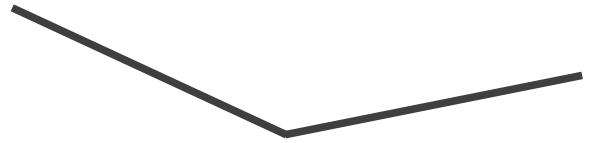
名まえ _____

・ ①の線と ②の線の長さをくらべます。つぎの もんだいに 答えましょう。

①



②



① ①の線の長さは何cmですか。

しき：

こた
答え

② ②の線の長さは何cmですか。

しき：

こた
答え

③ ①の線と ②の線では どちらが長いですか。

こた
答え

の線のほうが長い





長さのたんい 15

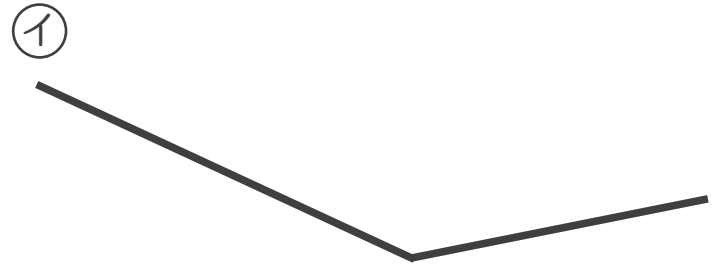
● おれ線の長さくらべ



日にち： 月 日

名まえ _____

・ ① の線と ② の線の長さをくらべます。つぎの もんだいに 答えましょう。



① ① の線の長さは何cmですか。

しき：

こた
答え

② ② の線の長さは何cmですか。

しき：

こた
答え

③ ① の線と ② の線ではどちらが長いですか。

こた
答え

① の線のほうが長い



長さのたんい 15

● おれ線の長さくらべ



日にち： 月 日

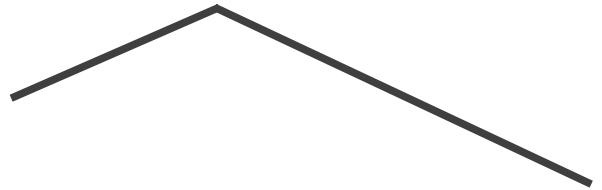
名まえ _____

・ ① の線と ② の線の長さをくらべます。つぎの もんだいに 答えましょう。

①



②



① ① の線の長さは何cmですか。

しき：

こた
答え

② ② の線の長さは何cmですか。

しき：

こた
答え

③ ① の線と ② の線ではどちらが長いですか。

こた
答え _____ の線のほうが長い



長さのたんい 15

◎ おれ線の長さくらべ

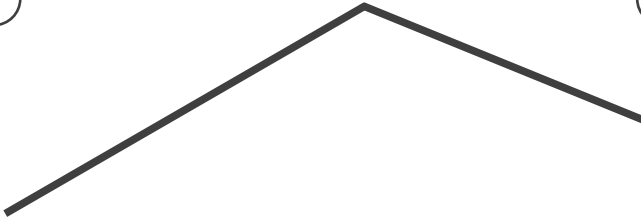


日にち： 月 日

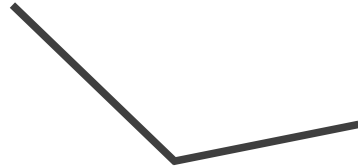
名まえ _____

1 ①の線と②の線の長さをくらべます。つぎの もんだいに 答えましょう。

①



②



① ①の線の長さは何cmですか。

しき：

こた
答え

② ②の線の長さは何cmですか。

しき：

こた
答え

③ ①の線と②の線ではどちらが長いですか。

答え () の線のほうが長い

2 計算をしましょう。

① $4\text{ cm} + 3\text{ cm} =$

② $5\text{ cm } 5\text{ mm} + 3\text{ cm} =$





長さのたんい15

◎ おれ線の長さくらべ



日にち： 月 日

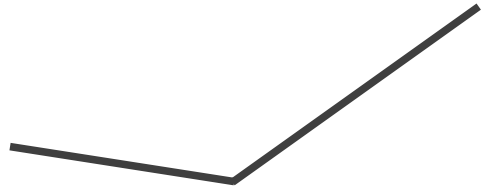
名まえ _____

1 ①の線と②の線の長さをくらべます。つぎの もんだいに 答えましょう。

①



②



① ①の線の長さは何cmですか。

しき：

こた
答え

② ②の線の長さは何cmですか。

しき：

こた
答え

③ ①の線と②の線ではどちらが長いですか。

答え () の線のほうが長い

2 計算をしましょう。

① $6\text{ cm} + 3\text{ cm} =$

② $4\text{ cm } 2\text{ mm} + 2\text{ cm} =$





長さのたんい 15

◎ おれ線の長さくらべ



日にち： 月 日

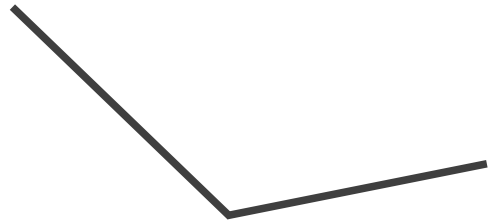
名まえ _____

1 ①の線と②の線の長さをくらべます。つぎの もんだいに 答えましょう。

①



②



① ①の線の長さは何cmですか。

しき：

こた
答え

② ②の線の長さは何cmですか。

しき：

こた
答え

③ ①の線と②の線ではどちらが長いですか。

答え () の線のほうが長い

2 計算をしましょう。

① $4\text{ cm} + 3\text{ cm } 5\text{ mm} =$

② $6\text{ cm } 3\text{ mm} + 3\text{ cm} =$





長さのたんい 15

◎ おれ線の長さくらべ




日にち： 月 日


名まえ _____

1 ①の線と②の線の長さをくらべます。つぎの もんだいに 答えましょう。

①



②



① ①の線の長さは何cmですか。

しき：

こた
答え

② ②の線の長さは何cmですか。

しき：

こた
答え

③ ①の線と②の線ではどちらが長いですか。

答え () の線のほうが長い

2 計算をしましょう。

① $4\text{ cm} + 5\text{ cm} =$

② $4\text{ cm} + 2\text{ cm } 5\text{ mm} =$





長さのたんい 15

◎ おれ線の長さくらべ

14

日にち： 月 日

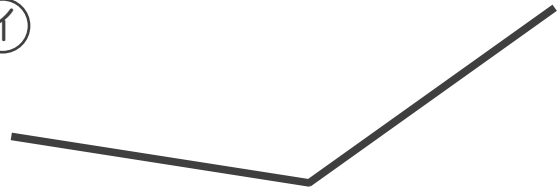
名まえ _____

1 ①の線と②の線の長さをくらべます。つぎの もんだいに 答えましょう。

①



②



① ①の線の長さは何cmですか。

しき：

こた
答え

② ②の線の長さは何cmですか。

しき：

こた
答え

③ ①の線と②の線ではどちらが長いですか。

答え () の線のほうが長い

2 計算をしましょう。

① $5\text{ cm} + 3\text{ cm} =$

② $6\text{ cm } 6\text{ mm} + 3\text{ cm} =$





長さのたんい 15

● おれ線の長さくらべ

15

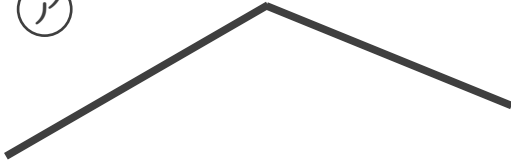
めざせ80点!



名まえ _____

1 (ア) の線と (イ) の線の長さをくらべます。つぎの もんだいに 答えましょう。(各20点)

(ア)



(イ)



① (ア) の線の長さは何cmですか。

しき：

こた
答え _____

② (イ) の線の長さは何cmですか。

しき：

こた
答え _____

③ (ア) の線と (イ) の線ではどちらが長いですか。

こた
答え () の線のほうが長い

2 計算をしましょう。(各20点)

① $6\text{ cm} + 2\text{ cm}4\text{ mm} =$

② $3\text{ cm}5\text{ mm} + 3\text{ cm} =$





長さのたんい 15

● おれ線の長さくらべ

16

めざせ80点!



名まえ _____

1 (ア) の線と (イ) の線の長さをくらべます。つぎの もんだいに 答えましょう。(各20点)

(ア)



(イ)



① (ア) の線の長さは何cmですか。

しき：

こた
答え

② (イ) の線の長さは何cmですか。

しき：

こた
答え

③ (ア) の線と (イ) の線ではどちらが長いですか。

こた
答え () の線のほうが長い

2 計算をしましょう。(各20点)

① $5\text{ cm} + 1\text{ cm}4\text{ mm} =$

② $3\text{ cm} + 2\text{ cm}5\text{ mm} =$



長さのたんい 15

● おれ線の長さくらべ



日にち： 月 日

名まえ _____

・ ①の線と ②の線の長さをくらべます。つぎの もんだいに 答えましょう。（うすい字は なぞりましょう。）

①



②



① ①の線の長さは何cmですか。

しき： $5\text{ cm} + 3\text{ cm} = 8\text{ cm}$

こた
答え

8 cm

② ②の線の長さは何cmですか。

しき： $2\text{ cm} + 4\text{ cm} = 6\text{ cm}$

こた
答え

6 cm

③ ①の線と ②の線では どちらが長いですか。

こた
答え

①の線のほうが長い





長さのたんい 15

◎ おれ線の長さくらべ



日にち： 月 日


名まえ _____

・ ①の線と ②の線の長さをくらべます。つぎの もんだいに 答えましょう。（うすい字は なぞりましょう。）

①



②



① ①の線の長さは何cmですか。

しき： $5\text{ cm } 5\text{ mm} + 2\text{ cm} = 7\text{ cm } 5\text{ mm}$

こた 答え 7 cm 5 mm

② ②の線の長さは何cmですか。

しき： $3\text{ cm} + 5\text{ cm} = 8\text{ cm}$

こた 答え 8 cm

③ ①の線と ②の線ではどちらが長いですか。

こた 答え ②の線のほうが長い



長さのたんい 15

◎ おれ線の長さくらべ



日にち： 月 日

名まえ _____

・ ①の線と ②の線の長さをくらべます。つぎの もんだいに 答えましょう。（うすい字は なぞりましょう。）



① ①の線の長さは何cmですか。

しき： $5\text{ cm} + 3\text{ cm} = 8\text{ cm}$

こた
答え

8 cm

② ②の線の長さは何cmですか。

しき： $3\text{ cm } 5\text{ mm} + 5\text{ cm} = 8\text{ cm } 5\text{ mm}$

こた
答え

8 cm 5 mm

③ ①の線と ②の線ではどちらが長いですか。

こた
答え

②の線のほうが長い





長さのたんい 15

◎ おれ線の長さくらべ



日にち： 月 日

名まえ _____

・ ①の線と ②の線の長さをくらべます。つぎの もんだいに 答えましょう。（うすい字は なぞりましょう。）



① ①の線の長さは何cmですか。

しき： $4\text{ cm } 5\text{ mm} + 3\text{ cm} = 7\text{ cm } 5\text{ mm}$

こた 答え 7 cm 5 mm

② ②の線の長さは何cmですか。

しき： $3\text{ cm} + 5\text{ cm} = 8\text{ cm}$

こた 答え 8 cm

③ ①の線と ②の線では どちらが長いですか。

こた 答え ②の線のほうが長い



長さのたんい 15

◎ おれ線の長さくらべ

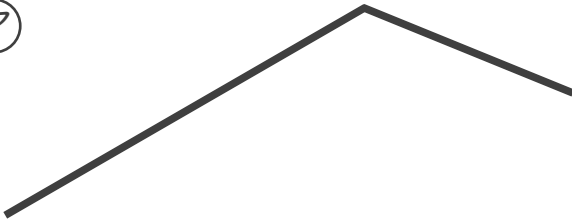


日にち： 月 日

名まえ _____

・ ①の線と ②の線の長さをくらべます。つぎの もんだいに 答えましょう。（うすい字は なぞりましょう。）

①



②



① ①の線の長さは何cmですか。

しき： $5\text{ cm } 5\text{ mm} + 3\text{ cm} = 8\text{ cm } 5\text{ mm}$

こた 答え 8 cm 5 mm

② ②の線の長さは何cmですか。

しき： $3\text{ cm} + 5\text{ cm} = 8\text{ cm}$

こた 答え 8 cm

③ ①の線と ②の線では どちらが長いですか。

こた 答え ①の線のほうが長い



長さのたんい 15

● おれ線の長さくらべ



日にち： 月 日

名まえ _____

・ ①の線と ②の線の長さをくらべます。つぎの もんだいに 答えましょう。

①



②



① ①の線の長さは何cmですか。

$$\text{しき} : 6 \text{ cm } 5 \text{ mm} + 1 \text{ cm} = 7 \text{ cm } 5 \text{ mm}$$

こた
答え 7 cm 5 mm

② ②の線の長さは何cmですか。

$$\text{しき} : 3 \text{ cm } 5 \text{ mm} + 5 \text{ cm} = 8 \text{ cm } 5 \text{ mm}$$

こた
答え 8 cm 5 mm

③ ①の線と ②の線ではどちらが長いですか。

こた
答え ②の線のほうが長い



長さのたんい 15

● おれ線の長さくらべ



日にち： 月 日

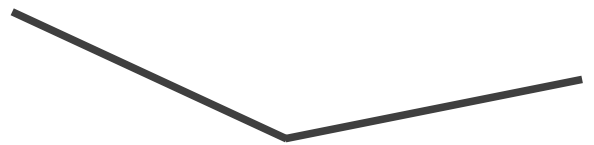
名まえ _____

・ ①の線と ②の線の長さをくらべます。つぎの もんだいに 答えましょう。

①



②



① ①の線の長さは何cmですか。

しき： $6\text{ cm} + 2\text{ cm } 5\text{ mm} = 8\text{ cm } 5\text{ mm}$

こた 答え 8 cm 5 mm

② ②の線の長さは何cmですか。

しき： $4\text{ cm} + 4\text{ cm} = 8\text{ cm}$

こた 答え 8 cm

③ ①の線と ②の線ではどちらが長いですか。

こた 答え ①の線のほうが長い



長さのたんい 15

● おれ線の長さくらべ



日にち： 月 日

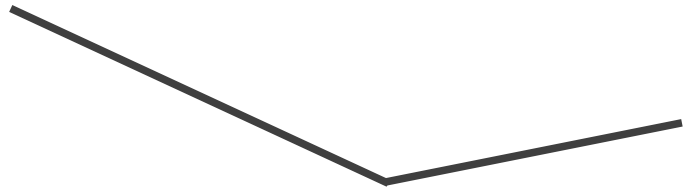
名まえ _____

・ ①の線と ②の線の長さをくらべます。つぎの もんだいに 答えましょう。

①



②



① ①の線の長さは何cmですか。

$$\text{しき} : 6 \text{ cm } 5 \text{ mm} + 1 \text{ cm} = 7 \text{ cm } 5 \text{ mm}$$

こた
答え 7 cm 5 mm

② ②の線の長さは何cmですか。

$$\text{しき} : 5 \text{ cm } 5 \text{ mm} + 4 \text{ cm} = 9 \text{ cm } 5 \text{ mm}$$

こた
答え 9 cm 5 mm

③ ①の線と ②の線ではどちらが長いですか。

こた
答え ②の線のほうが長い



長さのたんい 15

● おれ線の長さくらべ



日にち： 月 日

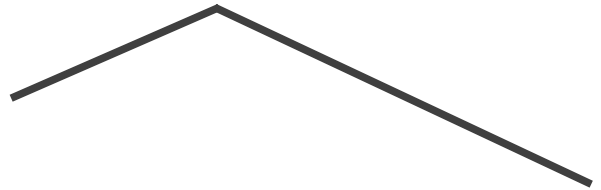
名まえ _____

・ ①の線と ②の線の長さをくらべます。つぎの もんだいに 答えましょう。

①



②



① ①の線の長さは何cmですか。

$$\text{しき} : 4 \text{ cm } 5 \text{ mm} + 2 \text{ cm} = 6 \text{ cm } 5 \text{ mm}$$

こた
答え 6 cm 5 mm

② ②の線の長さは何cmですか。

$$\text{しき} : 3 \text{ cm} + 5 \text{ cm } 5 \text{ mm} = 8 \text{ cm } 5 \text{ mm}$$

こた
答え 8 cm 5 mm

③ ①の線と ②の線ではどちらが長いですか。

こた
答え ②の線のほうが長い



長さのたんい 15

◎ おれ線の長さくらべ

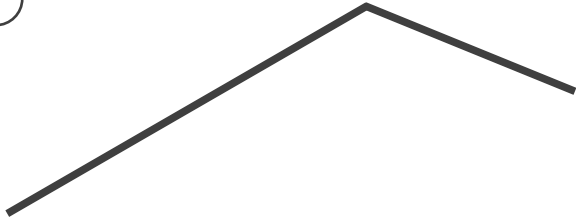


日にち： 月 日

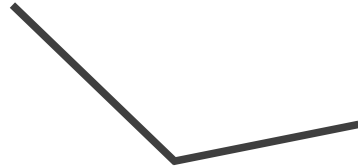
名まえ _____

1 ①の線と②の線の長さをくらべます。つぎの もんだいに 答えましょう。

①



②



① ①の線の長さは何cmですか。

しき： $5\text{ cm } 5\text{ mm} + 3\text{ cm} = 8\text{ cm } 5\text{ mm}$

こた 答え 8 cm 5 mm

② ②の線の長さは何cmですか。

しき： $3\text{ cm} + 2\text{ cm } 5\text{ mm} = 5\text{ cm } 5\text{ mm}$

こた 答え 5 cm 5 mm

③ ①の線と②の線ではどちらが長いですか。

答え (**①**) の線のほうが長い

2 計算をしましょう。

① $4\text{ cm} + 3\text{ cm} = 7\text{ cm}$

② $5\text{ cm } 5\text{ mm} + 3\text{ cm} = 8\text{ cm } 5\text{ mm}$





長さのたんい 15

◎ おれ線の長さくらべ



日にち： 月 日

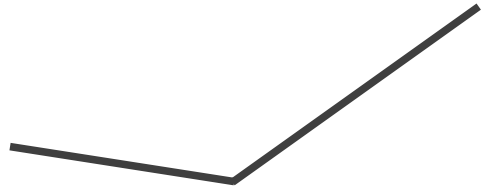
名まえ _____

1 ①の線と②の線の長さをくらべます。つぎの もんだいに 答えましょう。

①



②



① ①の線の長さは何cmですか。

$$\text{しき： } 6 \text{ cm} + 1 \text{ cm } 5 \text{ mm} = 7 \text{ cm } 5 \text{ mm}$$

こた
答え 7 cm 5 mm

② ②の線の長さは何cmですか。

$$\text{しき： } 3 \text{ cm} + 4 \text{ cm} = 7 \text{ cm}$$

こた
答え 7 cm

③ ①の線と②の線ではどちらが長いですか。

答え (①) の線のほうが長い

2 計算をしましょう。

$$\text{① } 6 \text{ cm} + 3 \text{ cm} = 9 \text{ cm}$$

$$\text{② } 4 \text{ cm } 2 \text{ mm} + 2 \text{ cm} = 6 \text{ cm } 2 \text{ mm}$$





長さのたんい 15

◎ おれ線の長さくらべ

12

日にち： 月 日

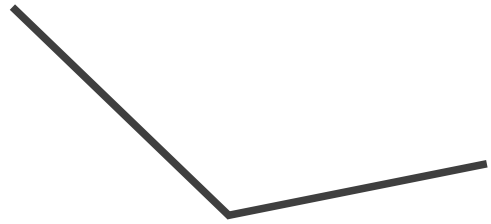
名まえ _____

1 ①の線と②の線の長さをくらべます。つぎの もんだいに 答えましょう。

①



②



① ①の線の長さは何cmですか。

しき： $5\text{ cm} + 2\text{ cm} = 7\text{ cm}$

こた
答え

7 cm

② ②の線の長さは何cmですか。

しき： $4\text{ cm} + 3\text{ cm } 5\text{ mm} = 7\text{ cm } 5\text{ mm}$

こた
答え

7 cm 5 mm

③ ①の線と②の線ではどちらが長いですか。

答え (②) の線のほうが長い

2 計算をしましょう。

① $4\text{ cm} + 3\text{ cm } 5\text{ mm} = 7\text{ cm } 5\text{ mm}$

② $6\text{ cm } 3\text{ mm} + 3\text{ cm} = 9\text{ cm } 3\text{ mm}$





長さのたんい 15

● おれ線の長さくらべ


13

日にち： 月 日


名まえ _____

1 (ア) の線と (イ) の線の長さをくらべます。つぎの もんだいに 答えましょう。

(ア)



(イ)



① (ア) の線の長さは何cmですか。

$$\text{しき： } 6 \text{ cm} + 1 \text{ cm } 5 \text{ mm} = 7 \text{ cm } 5 \text{ mm}$$

こた 答え 7 cm 5 mm

② (イ) の線の長さは何cmですか。

$$\text{しき： } 3 \text{ cm} + 4 \text{ cm} = 7 \text{ cm}$$

こた 答え 7 cm

③ (ア) の線と (イ) の線ではどちらが長いですか。

答え (ア) の線のほうが長い

2 計算をしましょう。

$$\text{① } 4 \text{ cm} + 5 \text{ cm} = 9 \text{ cm}$$

$$\text{② } 4 \text{ cm} + 2 \text{ cm } 5 \text{ mm} = 6 \text{ cm } 5 \text{ mm}$$





長さのたんい 15

◎ おれ線の長さくらべ

14

日にち： 月 日

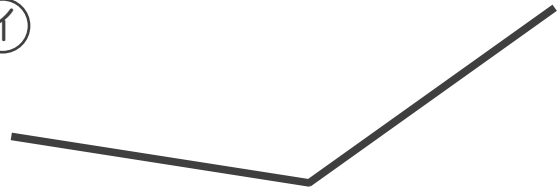
名まえ _____

1 ①の線と②の線の長さをくらべます。つぎの もんだいに 答えましょう。

①



②



① ①の線の長さは何cmですか。

しき： $6\text{ cm} + 1\text{ cm } 5\text{ mm} = 7\text{ cm } 5\text{ mm}$

こた 答え 7 cm 5 mm

② ②の線の長さは何cmですか。

しき： $4\text{ cm} + 4\text{ cm} = 8\text{ cm}$

こた 答え 8 cm

③ ①の線と②の線ではどちらが長いですか。

答え (②) の線のほうが長い

2 計算をしましょう。

① $5\text{ cm} + 3\text{ cm} = 8\text{ cm}$

② $6\text{ cm } 6\text{ mm} + 3\text{ cm} = 9\text{ cm } 6\text{ mm}$





長さのたんい 15

● おれ線の長さくらべ

15

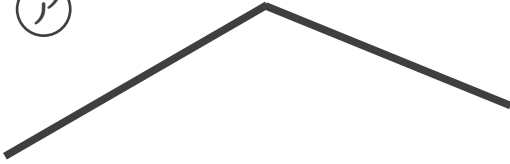
めざせ80点!



名まえ _____

1 (ア) の線と (イ) の線の長さをくらべます。つぎの もんだいに 答えましょう。(各20点)

(ア)



(イ)



① (ア) の線の長さは何cmですか。

$$\text{しき: } 4 \text{ cm} + 3 \text{ cm } 5 \text{ mm} = 7 \text{ cm } 5 \text{ mm}$$

こた
答え 7 cm 5 mm

② (イ) の線の長さは何cmですか。

$$\text{しき: } 4 \text{ cm } 5 \text{ mm} + 2 \text{ cm} = 6 \text{ cm } 5 \text{ mm}$$

こた
答え 6 cm 5 mm

③ (ア) の線と (イ) の線ではどちらが長いですか。

こた
答え (ア) の線のほうが長い

2 計算をしましょう。(各20点)

$$\text{① } 6 \text{ cm} + 2 \text{ cm } 4 \text{ mm} = 8 \text{ cm } 4 \text{ mm}$$

$$\text{② } 3 \text{ cm } 5 \text{ mm} + 3 \text{ cm} = 6 \text{ cm } 5 \text{ mm}$$






長さのたんい 15

● おれ線の長さくらべ

16

めざせ80点!



名まえ _____

1 (ア) の線と (イ) の線の長さをくらべます。つぎの もんだいに 答えましょう。(各20点)

(ア)



(イ)



① (ア) の線の長さは何cmですか。

$$\text{しき: } 6 \text{ cm} + 2 \text{ cm} = 8 \text{ cm}$$

こた
答え

8 cm

② (イ) の線の長さは何cmですか。

$$\text{しき: } 4 \text{ cm} + 3 \text{ cm } 5 \text{ mm} = 7 \text{ cm } 5 \text{ mm}$$

こた
答え

7 cm 5 mm

③ (ア) の線と (イ) の線ではどちらが長いですか。

こた
答え

(ア) の線のほうが長い

2 計算をしましょう。(各20点)

$$\text{① } 5 \text{ cm} + 1 \text{ cm } 4 \text{ mm} = 6 \text{ cm } 4 \text{ mm}$$

$$\text{② } 3 \text{ cm} + 2 \text{ cm } 5 \text{ mm} = 5 \text{ cm } 5 \text{ mm}$$

