



# 長さのたんい 2

● センチメートル




日にち：            月            日

名まえ \_\_\_\_\_

1 長さは <sup>なが</sup> 1 cm が <sup>ぶん</sup> いくつ分あるかであらわします。  
cm の <sup>か</sup> <sup>かた</sup> 書き方を れんしゅう しましょう。

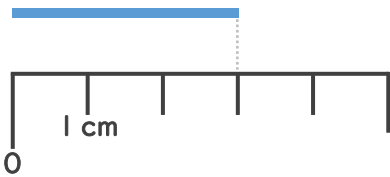


1 cm 1 cm

↑ なぞろう！ 

2 <sup>せん</sup> 線の <sup>なが</sup> 長さは <sup>なん</sup> 何 cm でしょう。（うすい字は <sup>じ</sup> なぞりましょう。）

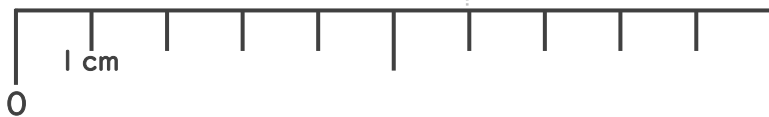
①



1 cm が 3 <sup>ぶん</sup> つ分あるね！

こた 答え（    3 cm    ）

②



こた 答え（    6 cm    ）





# 長さのたんい 2

● センチメートル



日にち：            月            日

名まえ \_\_\_\_\_

1 長さは 1 cm がいくつ分あるかであらわします。  
cm の書き方を れんしゅうしましょう。

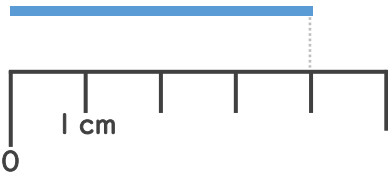


1 cm 1 cm

↑ なぞろう！

2 線の長さは何 cm でしょう。（うすい字はなぞりましょう。）

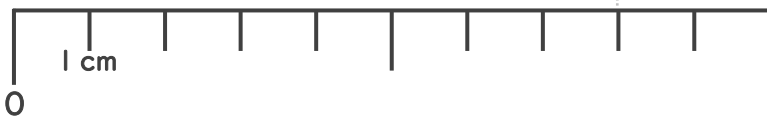
①



1 cm が 4 つ分あるね！

答え（            cm            ）

②



答え（                       ）





# 長さのたんい 2

● センチメートル



日にち：            月            日

名まえ \_\_\_\_\_

1 長さは 1 cm がいくつ分あるかであらわします。  
cm の書き方を れんしゅうしましょう。

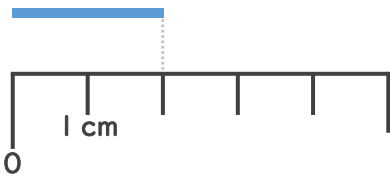


1 cm 1 cm

↑ なぞろう！

2 線の長さは何 cm でしょう。（うすい字はなぞりましょう。）

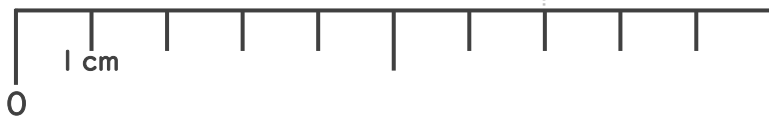
①



1 cm が 2 つ分あるね！

答え（            cm            ）

②



答え（                       ）





# 長さのたんい 2

● センチメートル

4


日にち：            月            日

名まえ \_\_\_\_\_

1 長さは <sup>なが</sup> 1 cm が <sup>ぶん</sup> いくつ分あるかであらわします。  
cm の <sup>か</sup> <sup>かた</sup> 書き方を れんしゅう しましょう。

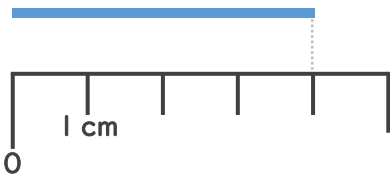


1 cm 1 cm

↑ なぞろう！ 

2 <sup>せん</sup> 線の <sup>なが</sup> 長さは <sup>なん</sup> 何 cm でしょう。（うすい字は <sup>じ</sup> なぞりましょう。）

①



1 cm が <sup>ぶん</sup> 4 つ分あるね！

こた 答え（            cm            ）

②



こた 答え（                       ）





# 長さのたんい 2

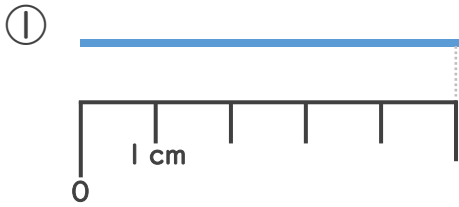
◎ センチメートル



日にち：            月            日

名まえ \_\_\_\_\_

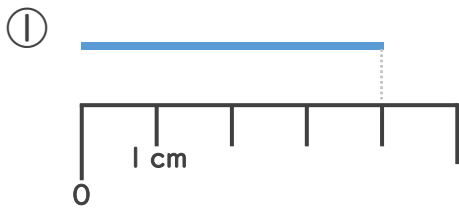
1 線の長さは何cmでしょう。（うすい字はなぞりましょう。）



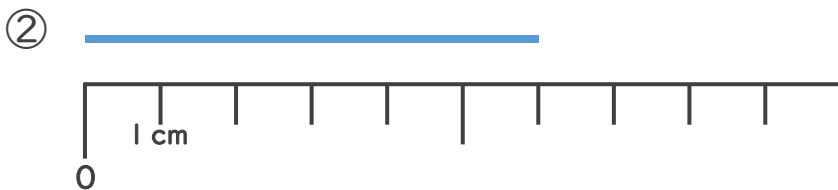
1 cmが5つ分あるね！

答え（            cm            ）

2 線の長さは何cmでしょう。（うすい字はなぞりましょう。）



答え（            cm            ）



答え（                                    ）





# 長さのたんい 2

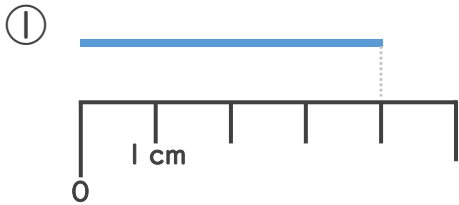
● センチメートル



日にち：            月            日

名まえ \_\_\_\_\_

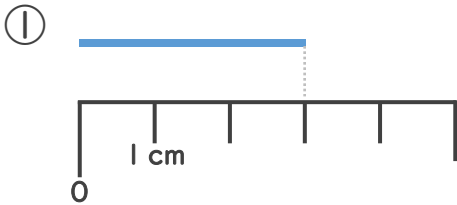
1 線の長さは何cmでしょう。（うすい字はなぞりましょう。）



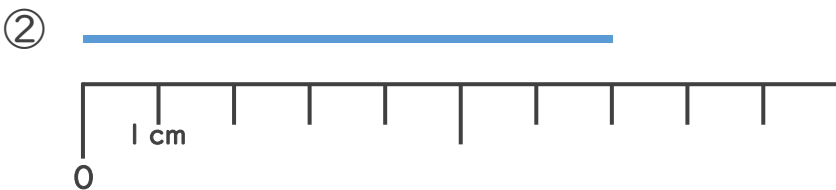
1 cmが4つ分あるね！

答え（            cm            ）

2 線の長さは何cmでしょう。



答え（            ）



答え（            ）





# 長さのたんい 2

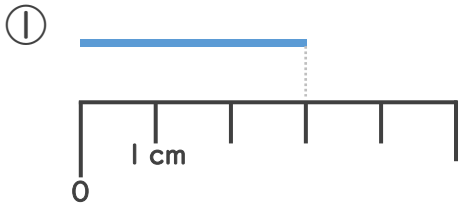
◎ センチメートル



日にち： 月 日

名まえ \_\_\_\_\_

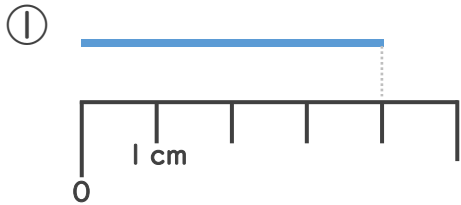
1 <sup>せん</sup>線の <sup>なが</sup>長さは <sup>なん</sup>何cmでしょう。



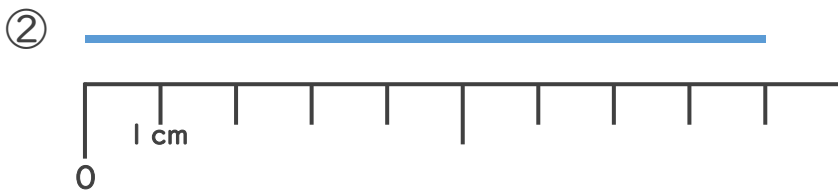
1 cmが <sup>ぶん</sup>3つ分あるね！

こた 答え ( )

2 <sup>せん</sup>線の <sup>なが</sup>長さは <sup>なん</sup>何cmでしょう。



こた 答え ( )



こた 答え ( )





# 長さのたんい 2

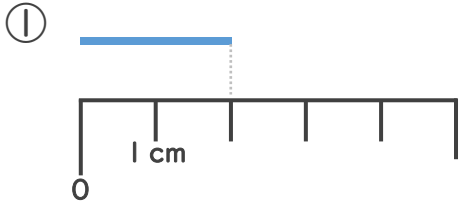
● センチメートル



日にち： 月 日

名まえ \_\_\_\_\_

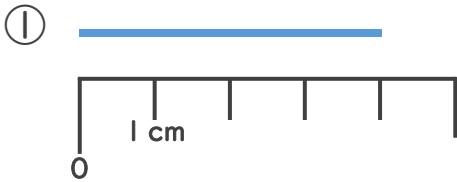
1 線の長さは何cmでしょう。



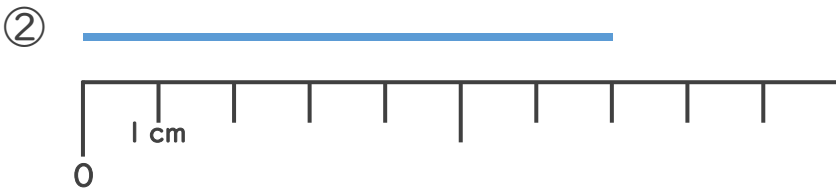
1 cmが2つ分あるね!

答え ( )

2 線の長さは何cmでしょう。



答え ( )



答え ( )











# 長さのたんい 2

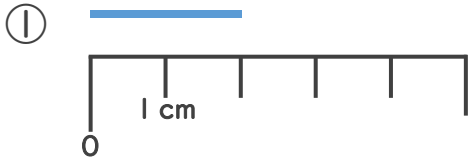
● センチメートル



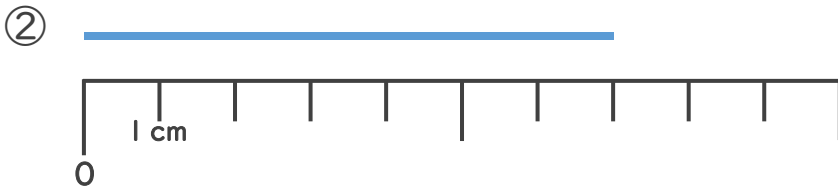
日にち：          月          日

名まえ \_\_\_\_\_

1 <sup>せん</sup>線の <sup>なが</sup>長さは <sup>なん</sup>何cmでしょう。



こた 答え (                      )



こた 答え (                      )

2 どちらのリボンが <sup>なが</sup>長いでしょう。



りかさん



みきさん



(                      ) さんのリボンの方が <sup>なが</sup>長い





# 長さのたんい 2

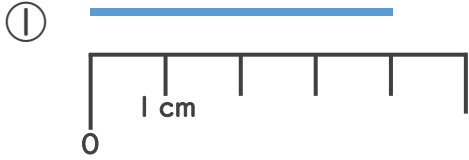
◎ センチメートル

12

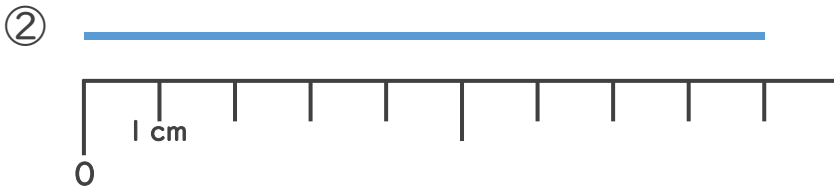
日にち： 月 日

名まえ \_\_\_\_\_

1 <sup>せん</sup>線の <sup>なが</sup>長さは <sup>なん</sup>何cmでしょう。



こた 答え ( )



こた 答え ( )

2 どちらのリボンが <sup>なが</sup>長いでしょう。



( \_\_\_\_\_ ) さんのリボンの方が <sup>なが</sup>長い







# 長さのたんい 2

● センチメートル

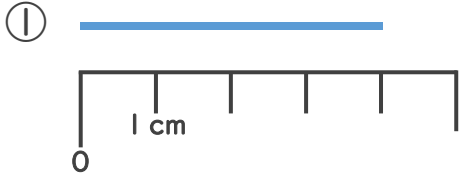
15

めざせ75点!

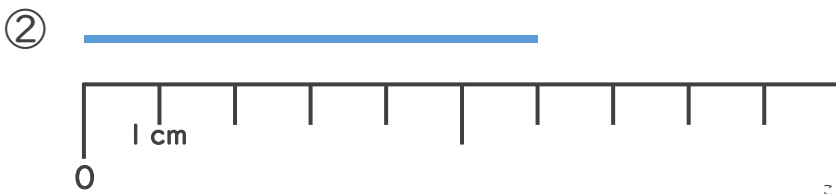


名まえ \_\_\_\_\_

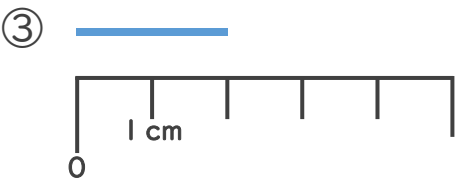
1 線の長さは何cmでしょう。(各25点)



答え ( )



答え ( )



答え ( )

2 どちらのリボンが長いでしょう。(25点)



りかさん



みきさん



( ) さんのリボンの方が長い





# 長さのたんい 2

● センチメートル

16

めざせ75点!



名まえ \_\_\_\_\_

1 線の長さは何cmでしょう。(各25点)

①



答え ( )

②



答え ( )

③



答え ( )

2 どちらのリボンが長いでしょう。(25点)



りかさん



みきさん



( ) さんのリボンの方が長い







# 長さのたんい 2

● センチメートル



日にち：            月            日

名まえ \_\_\_\_\_

1 <sup>なが</sup>長さは 1 cm が <sup>ぶん</sup>いくつ分あるかであらわします。  
cm の <sup>か</sup>書き方 <sup>かた</sup>を れんしゅう しましょう。

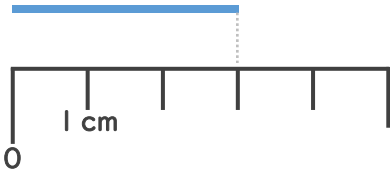


1 cm 1 cm 1 cm 1 cm 1 cm

↑ なぞろう!

2 <sup>せん</sup>線の <sup>なが</sup>長さは <sup>なん</sup>何 cm でしょう。(うすい字は <sup>じ</sup>なぞりましょう。)

①



1 cm が 3 <sup>ぶん</sup>つ分あるね!

こた 答え (    3 cm    )

②



こた 答え (    6 cm    )





# 長さのたんい 2

● センチメートル



日にち：            月            日

名まえ \_\_\_\_\_

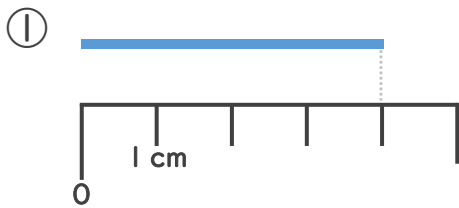
1 長さは 1 cm がいくつ分あるかであらわします。  
cm の 書き方を れんしゅうしましょう。



1 cm 1 cm 1 cm 1 cm 1 cm

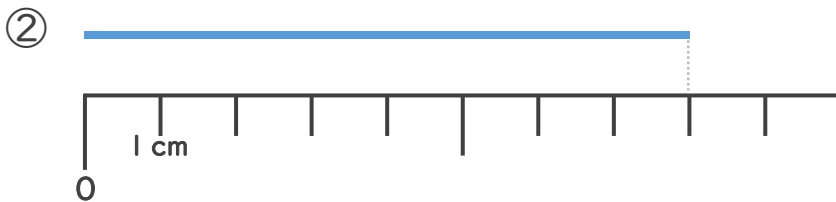
↑ なぞろう！

2 線の長さは何 cm でしょう。（うすい字はなぞりましょう。）



1 cm が 4 つ分あるね！

答え（ 4 cm ）



答え（ 8 cm ）





# 長さのたんい 2

● センチメートル



日にち：            月            日

名まえ \_\_\_\_\_

1 長さは 1 cm がいくつ分あるかであらわします。  
cm の書き方を れんしゅうしましょう。

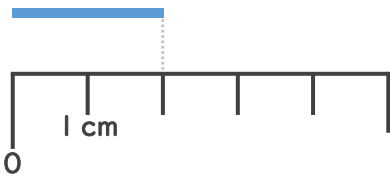


1 cm 1 cm 1 cm 1 cm 1 cm

↑ なぞろう!

2 線の長さは何 cm でしょう。(うすい字はなぞりましょう。)

①



1 cm が 2 つ分あるね!

答え (    2 cm    )

②



答え (    7 cm    )





# 長さのたんい 2

● センチメートル

4

日にち：            月            日

名まえ \_\_\_\_\_

1 長さは 1cm がいくつ分あるかであらわします。  
cm の書き方を れんしゅうしましょう。

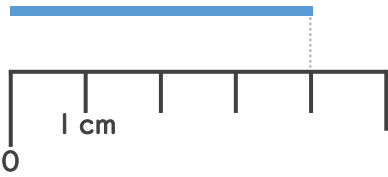


1 cm 1 cm 1 cm 1 cm 1 cm

↑ なぞろう！

2 線の長さは何cmでしょう。（うすい字はなぞりましょう。）

①



1 cm が 4 つ分あるね！

答え ( 4 cm )

②



答え ( 5 cm )





# 長さのたんい 2

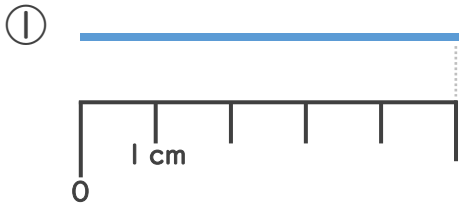
● センチメートル

# 5

日にち：            月            日

名まえ \_\_\_\_\_

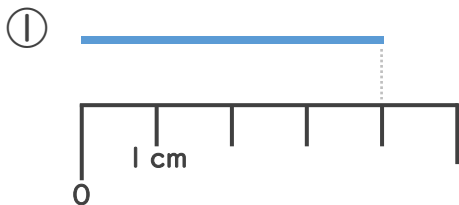
1 線の長さは何cmでしょう。（うすい字はなぞりましょう。）



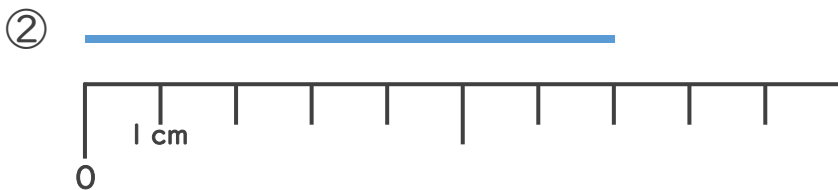
1 cmが5つ分あるね！

答え（ 5 cm ）

2 線の長さは何cmでしょう。（うすい字はなぞりましょう。）



答え（ 4 cm ）



答え（ 7 cm ）





# 長さのたんい 2

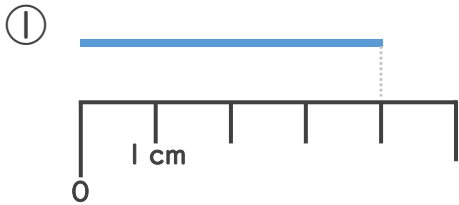
● センチメートル



日にち：            月            日

名まえ \_\_\_\_\_

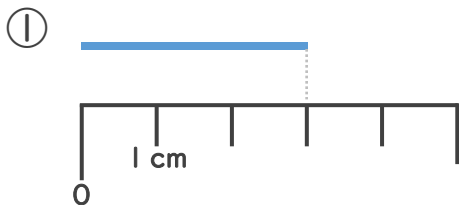
1 線の長さは何cmでしょう。(うすい字はなぞりましょう。)



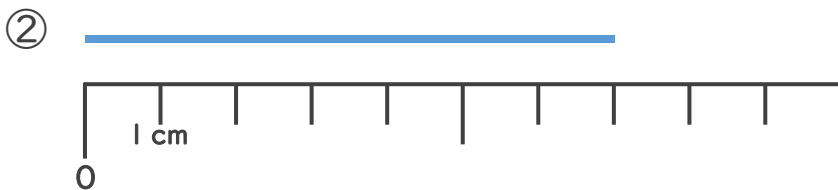
1 cmが4つ分あるね!

答え ( 4 cm )

2 線の長さは何cmでしょう。



答え ( 3 cm )



答え ( 7 cm )





# 長さのたんい 2

● センチメートル

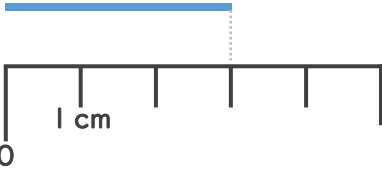


日にち：            月            日

名まえ \_\_\_\_\_

1 線の長さは何cmでしょう。

①

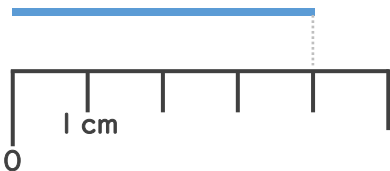


1 cmが3つ分あるね!

答え ( 3 cm )

2 線の長さは何cmでしょう。

①



答え ( 4 cm )

②



答え ( 9 cm )





# 長さのたんい 2

● センチメートル

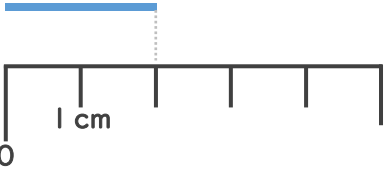


日にち：            月            日

名まえ \_\_\_\_\_

1 線の長さは何cmでしょう。

①

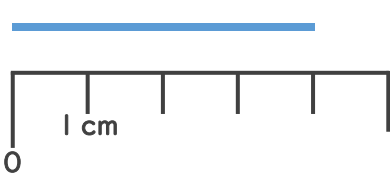


1 cmが2つ分あるね!

答え ( 2 cm )

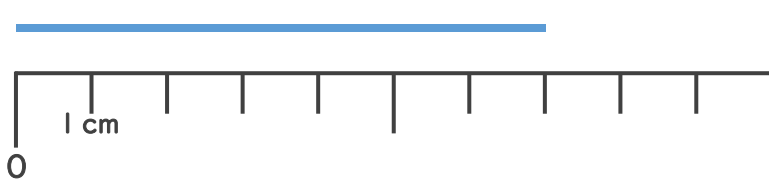
2 線の長さは何cmでしょう。

①



答え ( 4 cm )

②



答え ( 7 cm )







# 長さのたんい 2

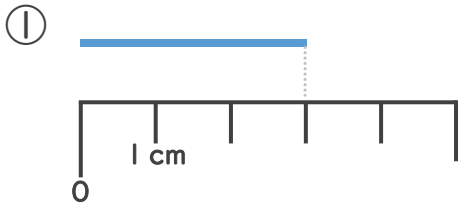
● センチメートル



日にち：            月            日

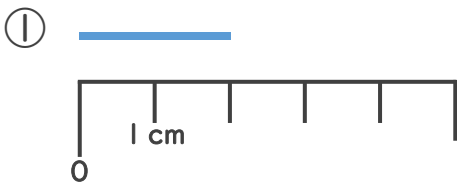
名まえ \_\_\_\_\_

1 線の長さは何cmでしょう。

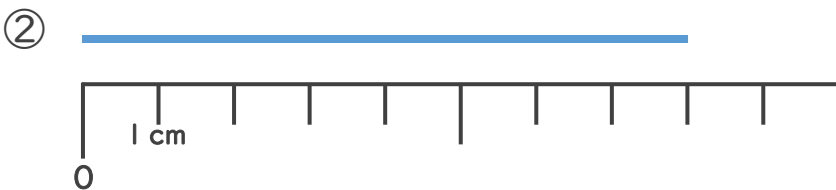


こた 答え (    3 cm    )

2 線の長さは何cmでしょう。



こた 答え (    2 cm    )



こた 答え (    8 cm    )



# 長さのたんい 2

● センチメートル



日にち：            月            日

名まえ \_\_\_\_\_

1 <sup>せん</sup>線の <sup>なが</sup>長さは <sup>なん</sup>何cmでしょう。

① 



<sup>こた</sup>答え (    4 cm    )

② 




<sup>こた</sup>答え (    6 cm    )

2 どちらのリボンが <sup>なが</sup>長いでしょう。



りかさん



みきさん



(    みき    ) さんのリボンの方が <sup>なが</sup>長い





# 長さのたんい 2

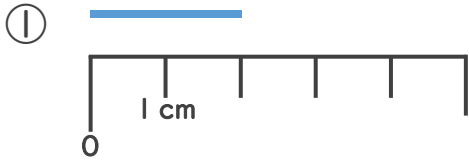
● センチメートル



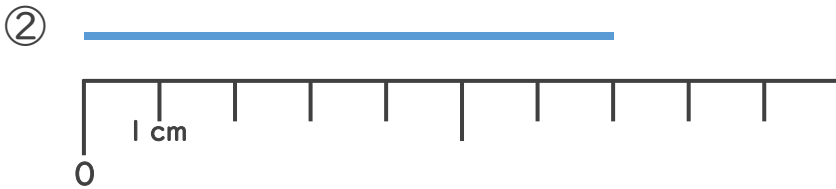
日にち：            月            日

名まえ \_\_\_\_\_

1 <sup>せん</sup>線の <sup>なが</sup>長さは <sup>なん</sup>何cmでしょう。



こた 答え (    2 cm    )



こた 答え (    7 cm    )

2 どちらのリボンが <sup>なが</sup>長いでしょう。



りかさん



みきさん



(    **りか**    ) さんのリボンの方が <sup>なが</sup>長い





# 長さのたんい 2

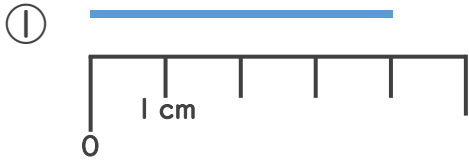
● センチメートル



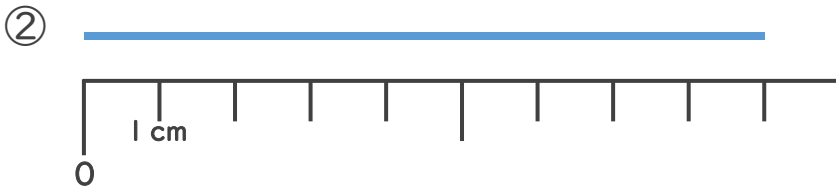
日にち：            月            日

名まえ \_\_\_\_\_

1 <sup>せん</sup>線の <sup>なが</sup>長さは <sup>なん</sup>何cmでしょう。



こた 答え (    4 cm    )



こた 答え (    9 cm    )

2 どちらの <sup>なが</sup>リボンが長いでしょう。



たくやさん



みきさん



(    **たくや**    ) さんの <sup>なが</sup>リボンの方が長い





# 長さのたんい 2

● センチメートル

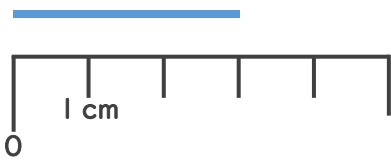
13

日にち：            月            日

名まえ \_\_\_\_\_

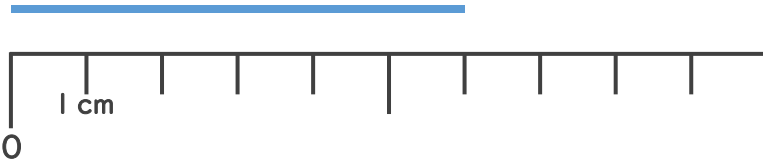
1 <sup>せん</sup>線の <sup>なが</sup>長さは <sup>なん</sup>何cmでしょう。

①



こた 答え (    3 cm    )

②



こた 答え (    6 cm    )

2 どちらの <sup>なが</sup>リボンが長いでしょう。



たくやさん



みきさん



(    **たくや**    ) さんの <sup>なが</sup>リボンの方が長い





# 長さのたんい 2

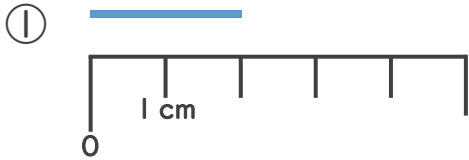
● センチメートル

14

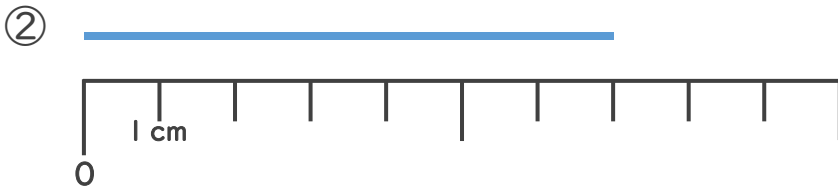
日にち：            月            日

名まえ \_\_\_\_\_

1 <sup>せん</sup>線の <sup>なが</sup>長さは <sup>なん</sup>何cmでしょう。



こた 答え (    2 cm    )



こた 答え (    7 cm    )

2 どちらの <sup>なが</sup>リボンが長いでしょう。



(    **みか**    ) さんの <sup>なが</sup>リボンの方が長い





# 長さのたんい 2

● センチメートル

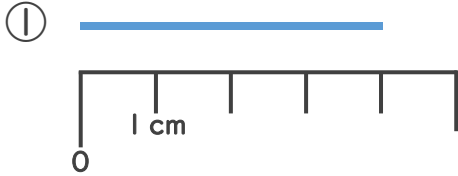
15

めざせ75点!

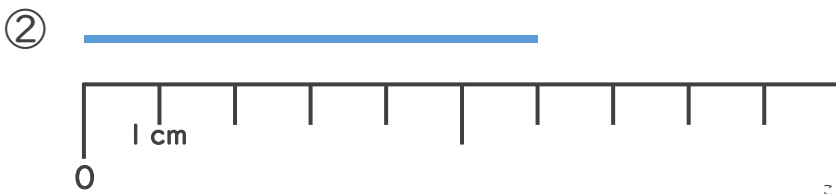


名まえ \_\_\_\_\_

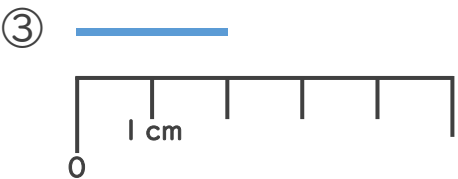
1 線の長さは何cmでしょう。(各25点)



答え ( 4 cm )



答え ( 6 cm )



答え ( 2 cm )

2 どちらのリボンが長いでしょう。(25点)



りかさん



みきさん



( みき ) さんのリボンの方が長い





# 長さのたんい 2

● センチメートル

16

めざせ75点!



名まえ \_\_\_\_\_

1 線の長さは何cmでしょう。(各25点)

①



答え ( 2 cm )

②



答え ( 8 cm )

③



答え ( 4 cm )

2 どちらのリボンが長いでしょう。(25点)



りかさん



みきさん



( りか ) さんのリボンの方が長い

