



長さのたんい 3

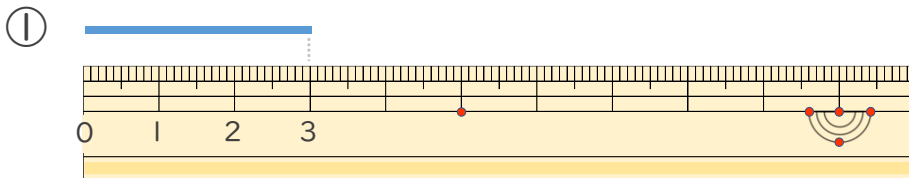
● 物のさしの見かた (cm)



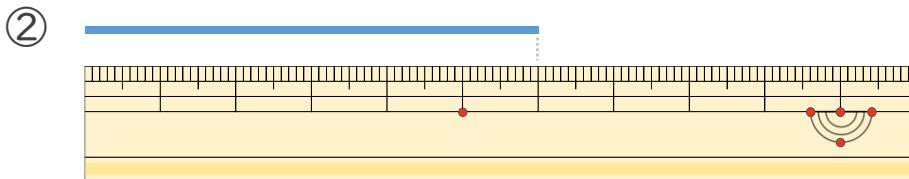
日にち： 月 日

名まえ _____

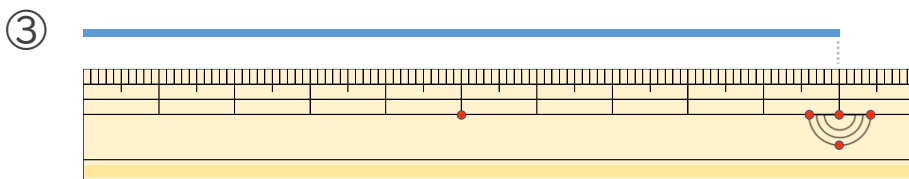
・線の長さは何cmでしょう。(うすい字はなぞりましょう。)



こた 答え (3 cm)



こた 答え (6 cm)



こた 答え (10 cm)





長さのたんい 3

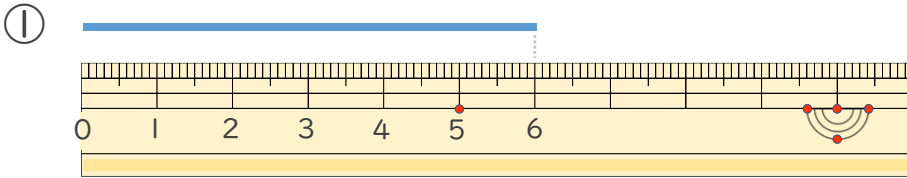
● 物のさしの見かた (cm)



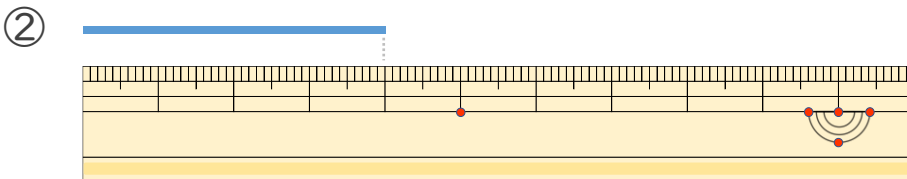
日にち： 月 日

名まえ _____

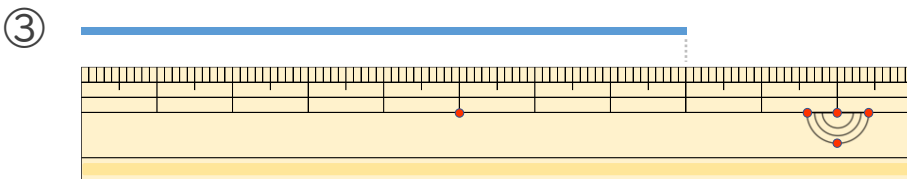
・線の長さは何cmでしょう。(うすい字はなぞりましょう。)



答え (cm)



答え ()



答え ()





長さのたんい 3

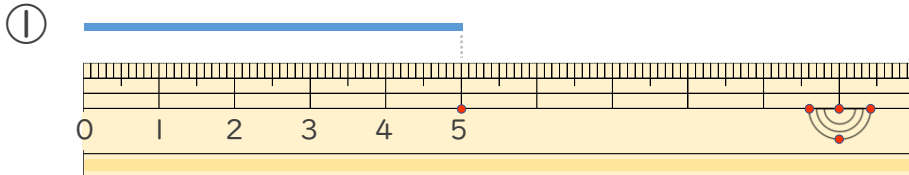
● 物のさしの見かた (cm)



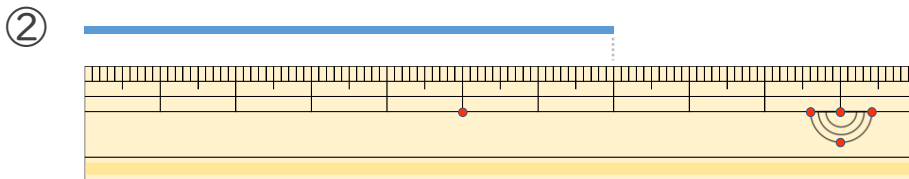
日にち： 月 日

名まえ _____

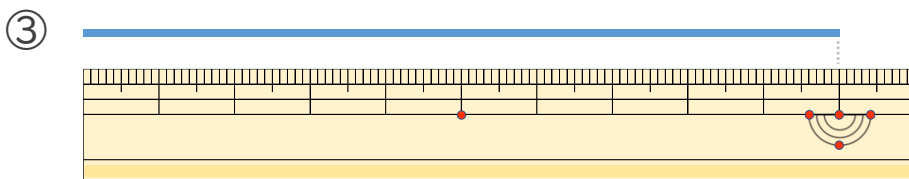
・線の長さは何cmでしょう。(うすい字はなぞりましょう。)



こた
答え (cm)



こた
答え ()



こた
答え ()





長さのたんい 3

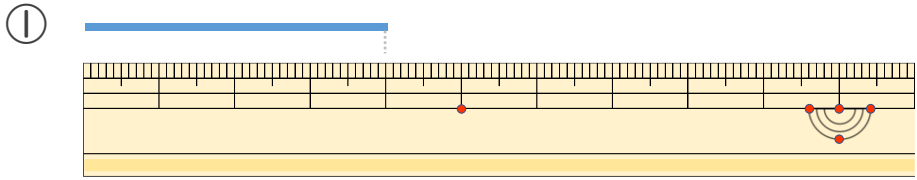
● 物のさしの見かた (cm)



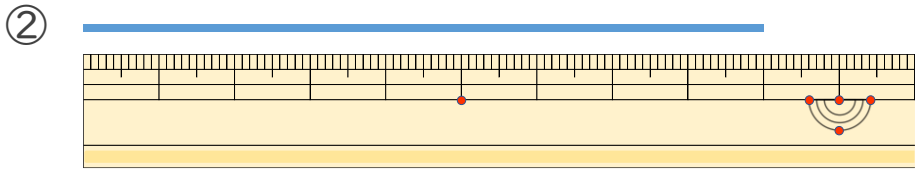
日にち： 月 日

名まえ _____

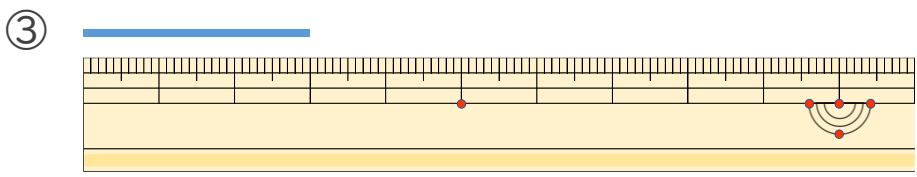
・線の長さは何cmでしょう。(うすい字はなぞりましょう。)



答え (cm)



答え ()



答え ()



長さのたんい 3

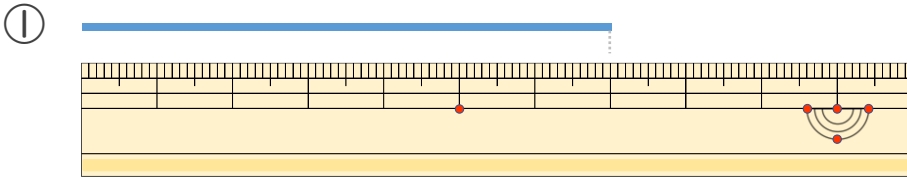
● 物のさしの見かた (cm)



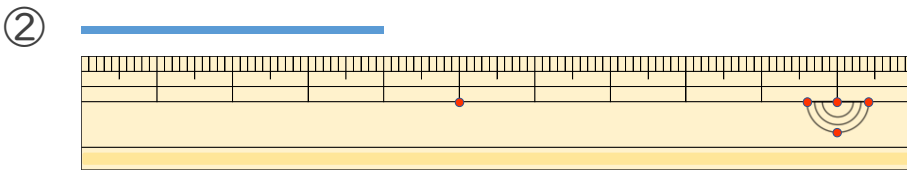
日にち： 月 日

名まえ _____

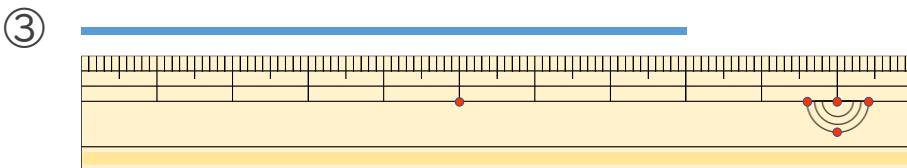
・ 線の ^{せん}長さは ^{なが}何 ^{なん}cm でしょう。



こた 答え ()



こた 答え ()



こた 答え ()



長さのたんい 3

● 物のさしの見かた (cm)

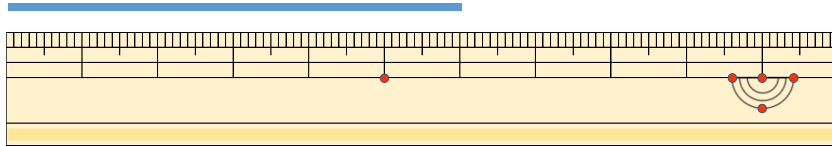


日にち： 月 日

名まえ _____

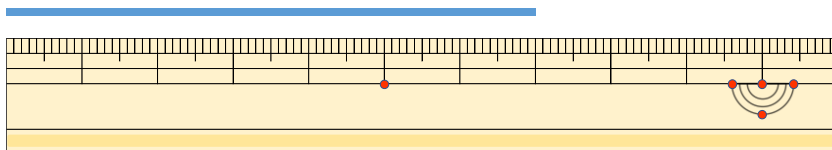
・ 線の ^{せん}長さは ^{なが}何 ^{なん}cm でしょう。

①



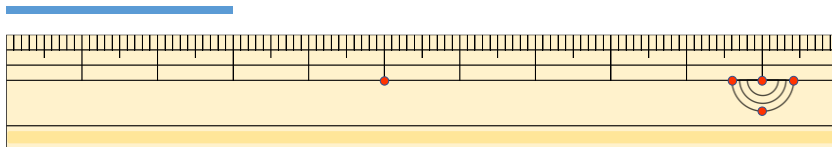
こた 答え ()

②



こた 答え ()

③



こた 答え ()



長さのたんい 3

● 物のさしの見かた (cm)

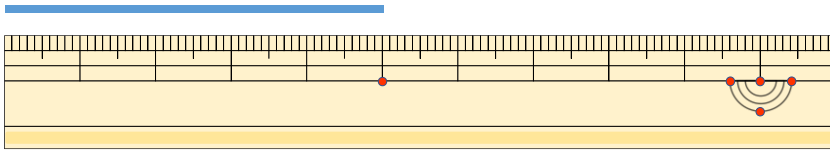


日にち： 月 日

名まえ _____

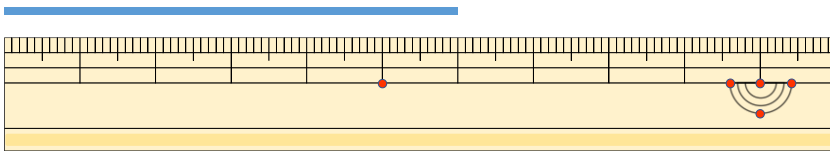
1 線の長さは何cmでしょう。

①



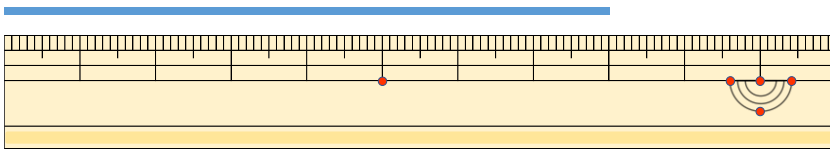
答え ()

②



答え ()

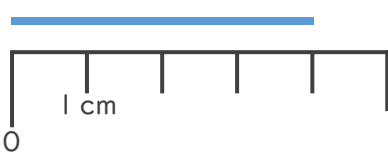
③



答え ()

2 線の長さは何cmでしょう。

①



答え ()

②



答え ()





長さのたんい 3

● 物のさしの見かた (cm)

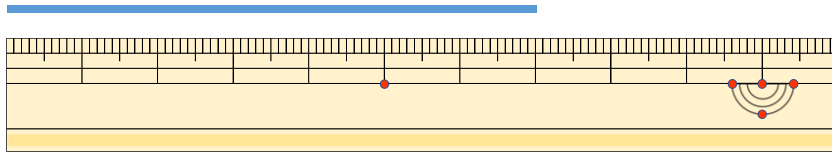


日にち： 月 日

名まえ _____

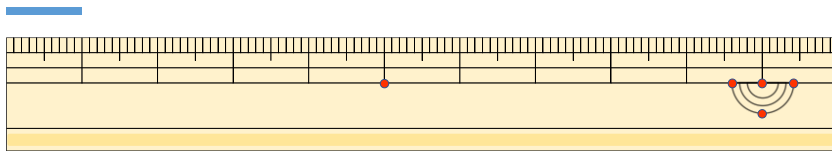
1 線の長さは何cmでしょう。

①



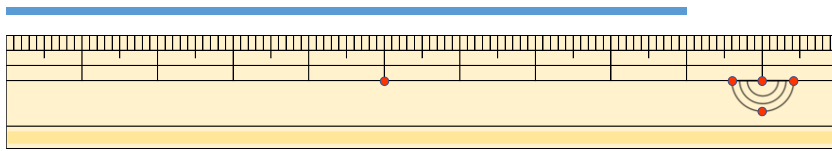
答え ()

②



答え ()

③



答え ()

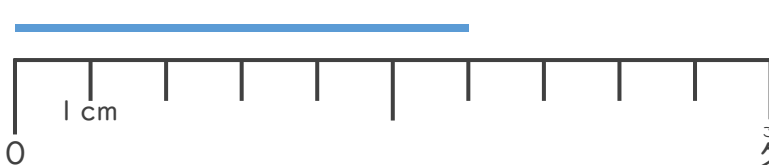
2 線の長さは何cmでしょう。

①



答え ()

②



答え ()





長さのたんい 3

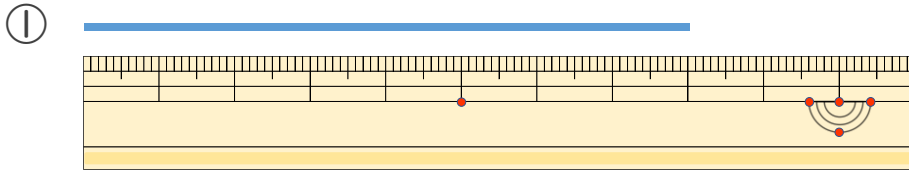
● 物のさしの見かた (cm)

12

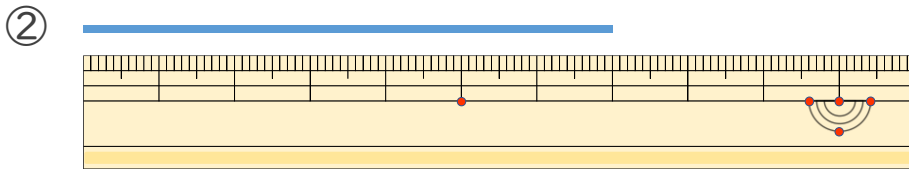
日にち： 月 日

名まえ _____

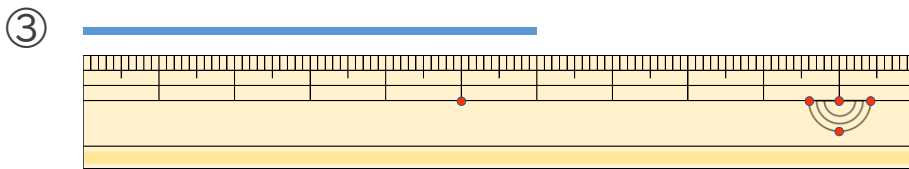
1 線の長さは何cmでしょう。



答え ()

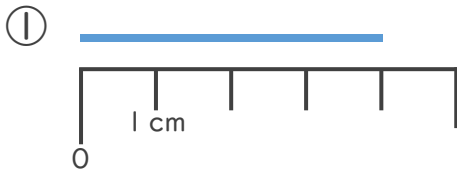


答え ()

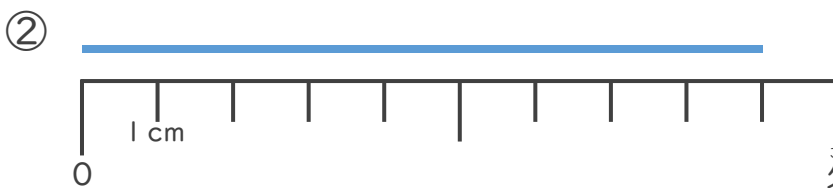


答え ()

2 線の長さは何cmでしょう。



答え ()



答え ()





長さのたんい 3

● 物のさしの見かた (cm)

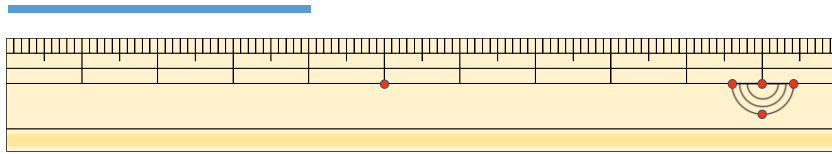
13

日にち： 月 日

名まえ _____

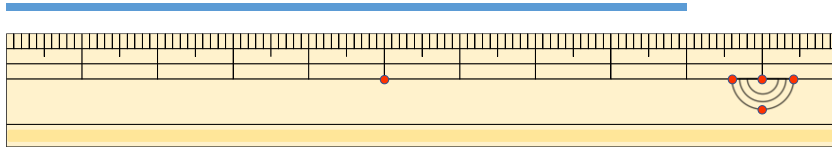
1 線の長さは何cmでしょう。

①



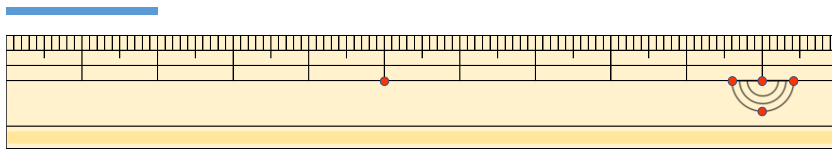
答え ()

②



答え ()


③



答え ()

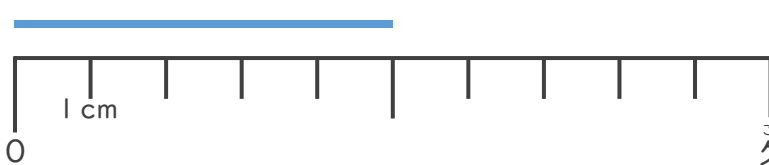
2 線の長さは何cmでしょう。

①



答え ()

②



答え ()





長さのたんい 3

● 物のさしの見かた (cm)

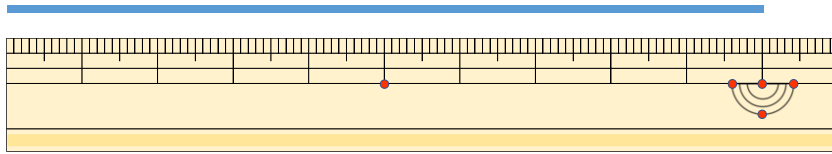
14

日にち： 月 日

名まえ _____

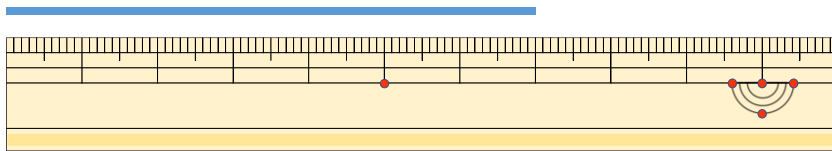
1 線の長さは何cmでしょう。

①



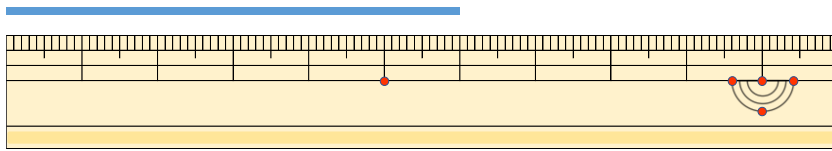
答え ()

②



答え ()

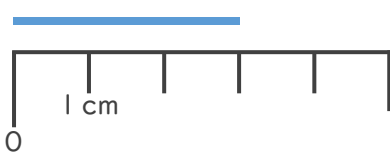
③



答え ()

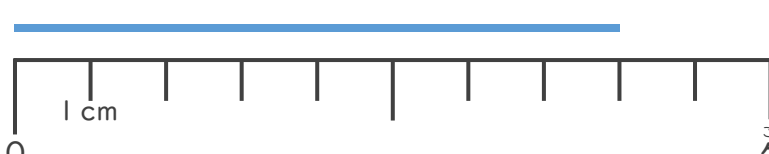
2 線の長さは何cmでしょう。

①



答え ()

②



答え ()





長さのたんい 3

● ものさしの見かた (cm)

15

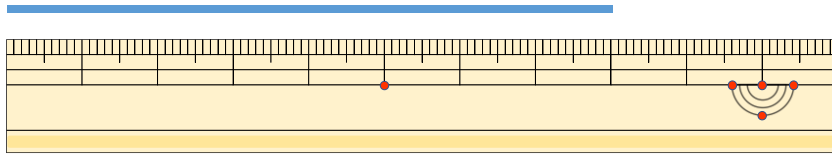
めざせ80点!



名まえ _____

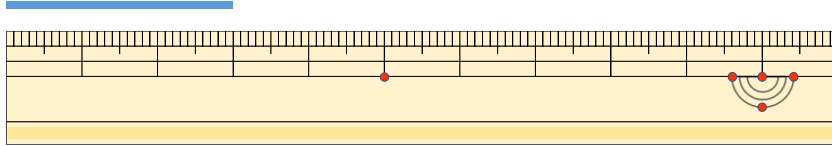
1 線の長さは何cmでしょう。(各20点)

①



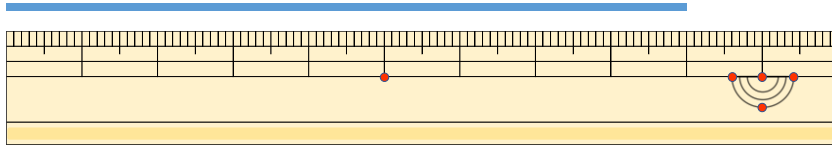
答え ()

②



答え ()

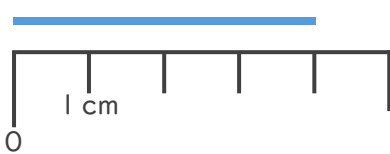
③



答え ()

2 線の長さは何cmでしょう。(各20点)

①



答え ()

②



答え ()





長さのたんい 3

● ものさしの見かた (cm)

16

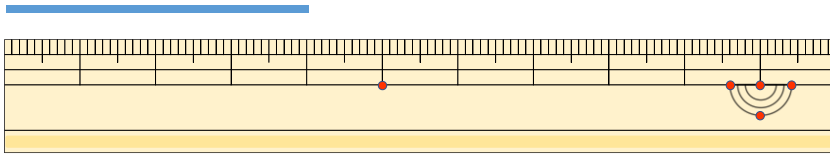
めざせ80点!



名まえ _____

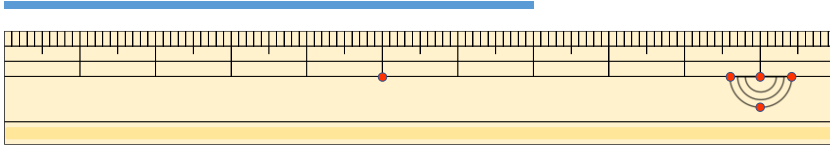
1 線の長さは何cmでしょう。(各20点)

①



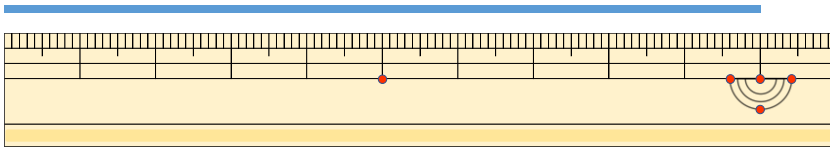
答え ()

②



答え ()


③



答え ()

2 線の長さは何cmでしょう。(各20点)

①



答え ()

②



答え ()





長さのたんい 3

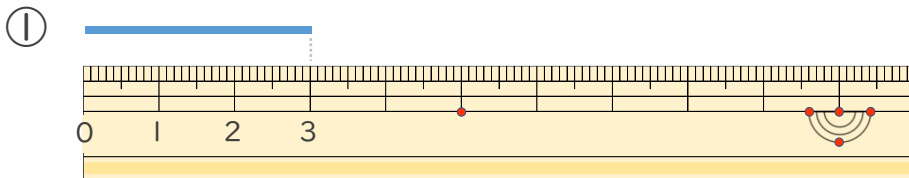
● 物のさしの見かた (cm)



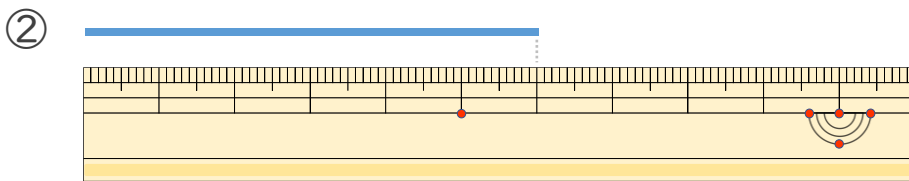
日にち： 月 日

名まえ _____

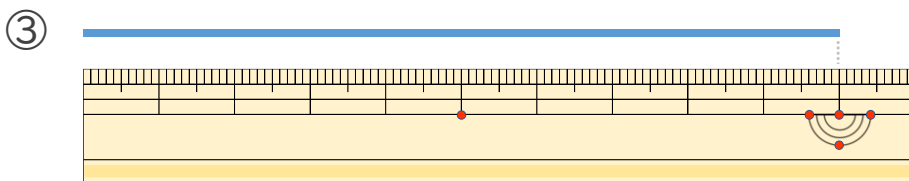
・線の長さは何cmでしょう。(うすい字はなぞりましょう。)



こた 答え (3 cm)



こた 答え (6 cm)



こた 答え (10 cm)





長さのたんい 3

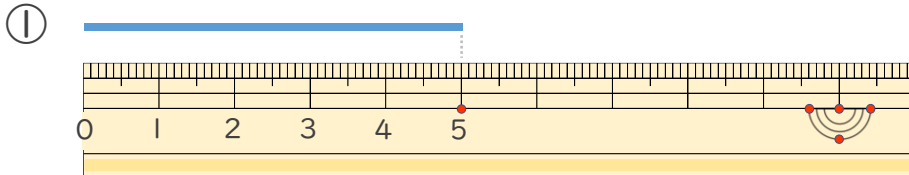
● 物のさしの見かた (cm)

2

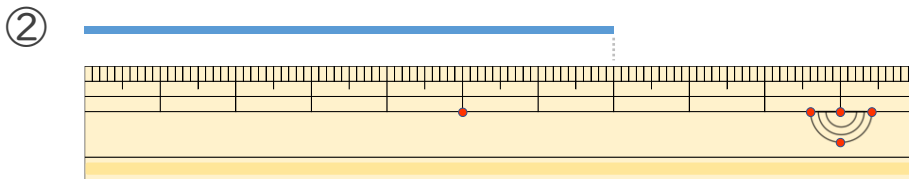
日にち： 月 日

名まえ _____

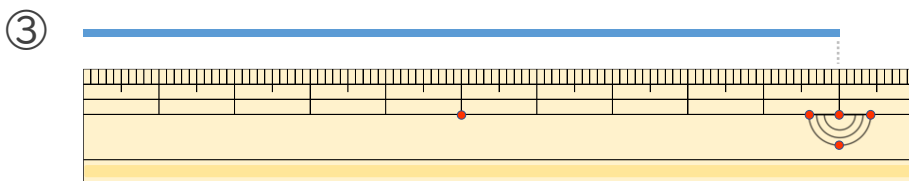
・線の長さは何cmでしょう。(うすい字はなぞりましょう。)



こた 答え (5 cm)



こた 答え (7 cm)



こた 答え (10 cm)





長さのたんい 3

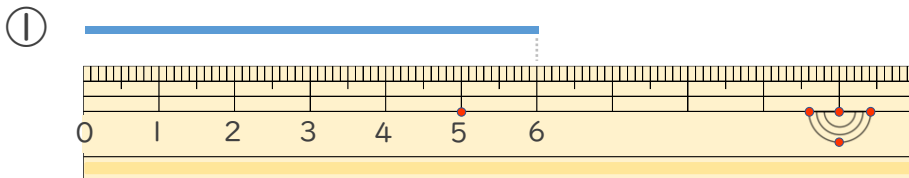
● 物のさしの見かた (cm)



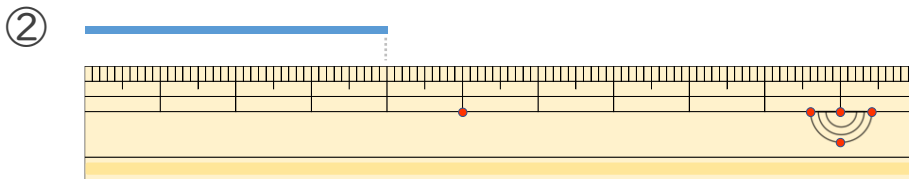
日にち： 月 日

名まえ _____

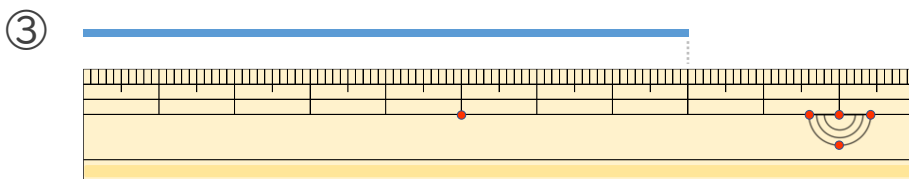
・ 線の ^{せん}長さは ^{なが}何 ^{なん}cm でしょう。(うすい字は ^じなぞりましょう。)



こた 答え (6 cm)



こた 答え (4 cm)



こた 答え (8 cm)





長さのたんい 3

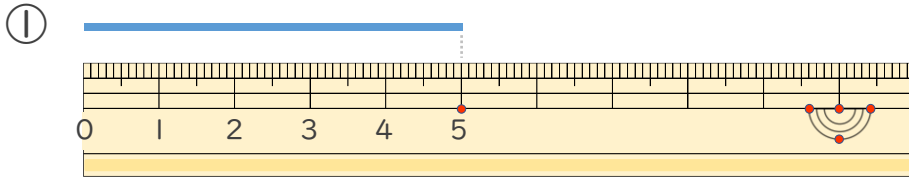
● 物のさしの見かた (cm)



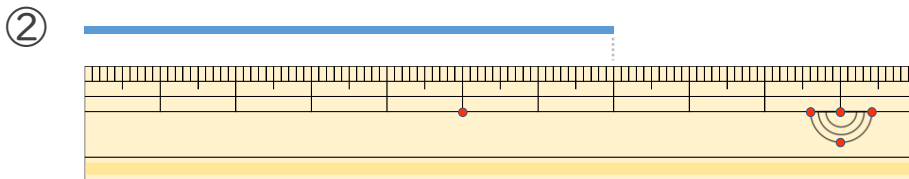
日にち： 月 日

名まえ _____

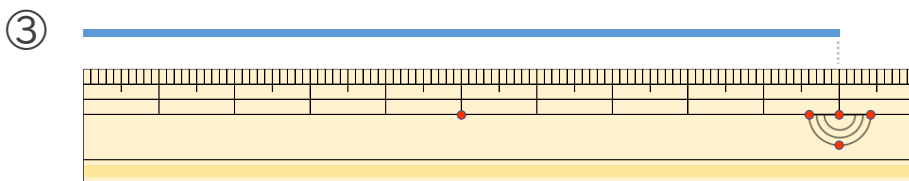
・線の長さは何cmでしょう。(うすい字はなぞりましょう。)



こた 答え (5 cm)



こた 答え (7 cm)



こた 答え (10cm)





長さのたんい 3

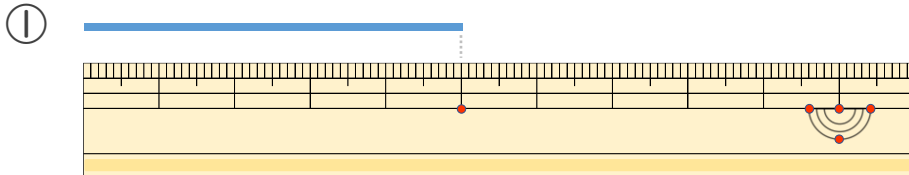
● 物のさしの見かた (cm)



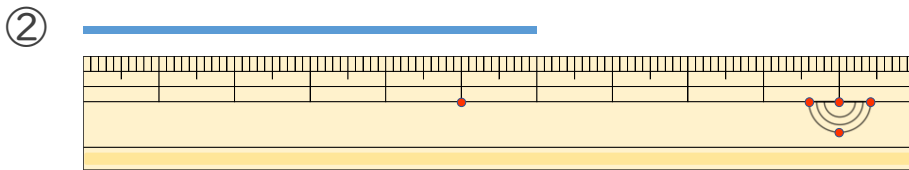
日にち： 月 日

名まえ _____

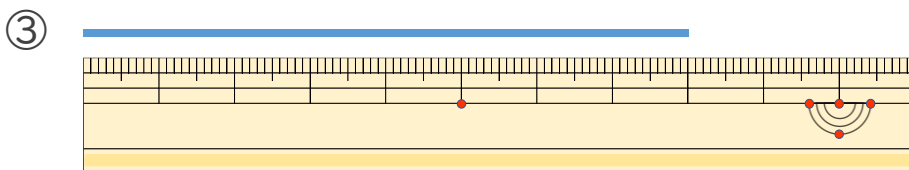
・ 線の ^{せん}長さは ^{なが}何 ^{なん}cm でしょう。(うすい字は ^じなぞりましょう。)



こた 答え (5 cm)



こた 答え (6 cm)



こた 答え (8 cm)





長さのたんい 3

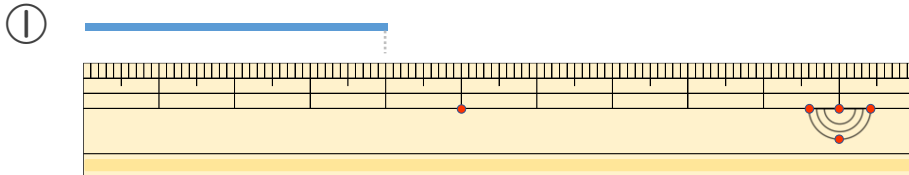
● 物のさしの見かた (cm)



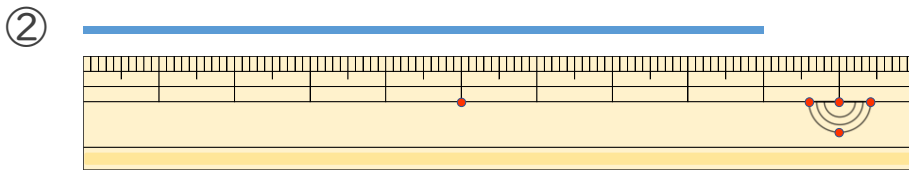
日にち： 月 日

名まえ _____

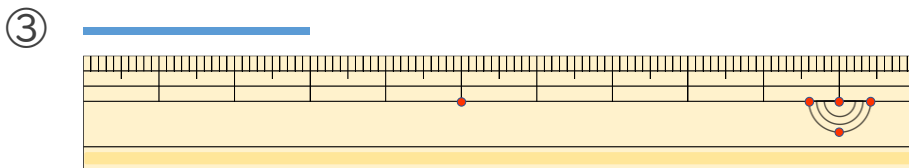
・線の長さは何cmでしょう。(うすい字はなぞりましょう。)



こた 答え (4 cm)



こた 答え (9 cm)



こた 答え (3 cm)





長さのたんい 3

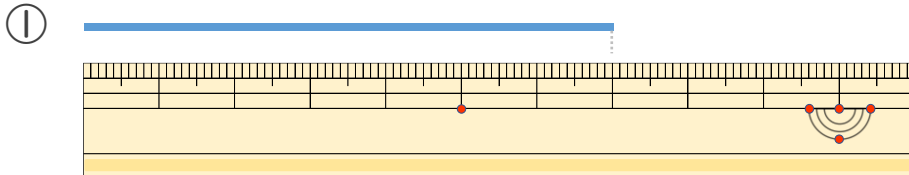
● 物のさしの見かた (cm)



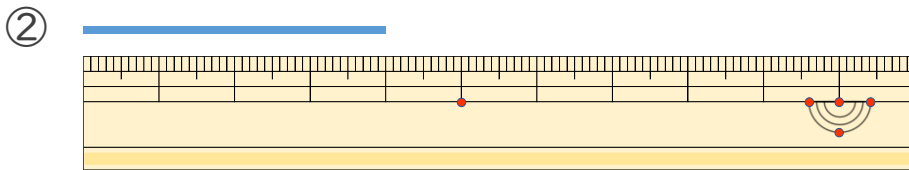
日にち： 月 日

名まえ _____

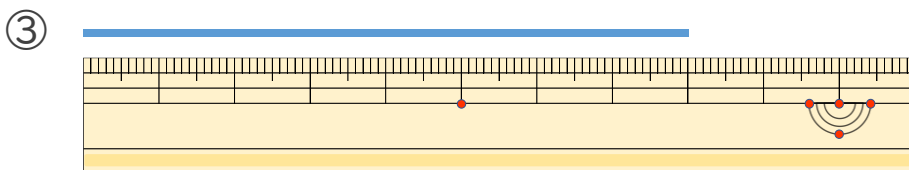
・ 線の ^{せん}長さは ^{なが}何 ^{なん}cm でしょう。



こた 答え (7 cm)



こた 答え (4 cm)



こた 答え (8 cm)





長さのたんい 3

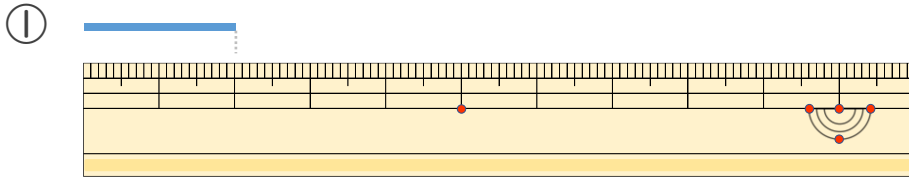
● 物のさしの見かた (cm)



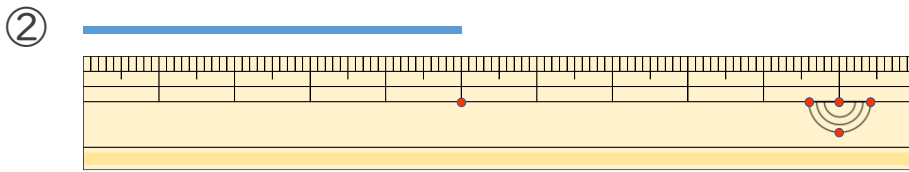
日にち： 月 日

名まえ _____

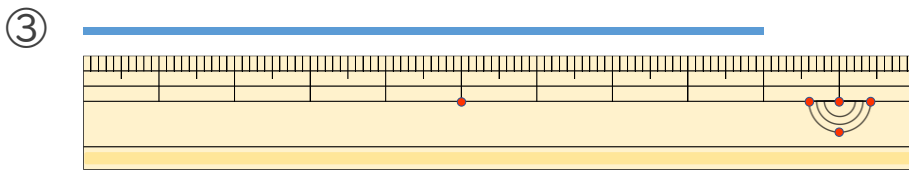
・ 線の ^{せん}長さは ^{なが}何 ^{なん}cm でしょう。



こた 答え (2 cm)



こた 答え (5 cm)



こた 答え (9 cm)





長さのたんい 3

● 物のさしの見かた (cm)

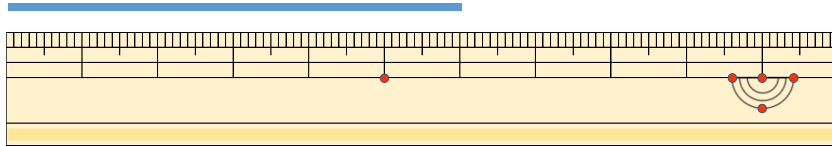


日にち： 月 日

名まえ _____

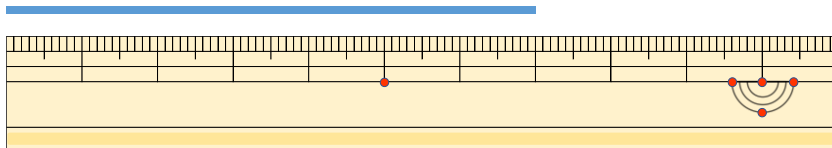
・ 線の ^{せん}長さは ^{なが}何 ^{なん}cm でしょう。

①



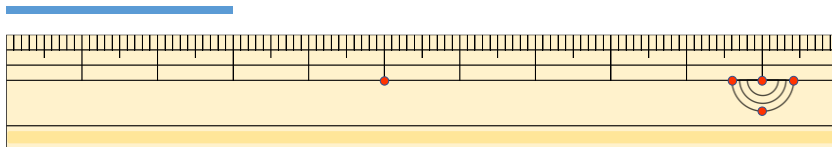
こた 答え (6 cm)

②



こた 答え (7 cm)

③



こた 答え (3 cm)





長さのたんい 3

● ものさしの見かた (cm)

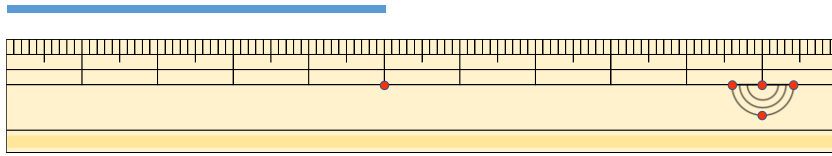


日にち： 月 日

名まえ _____

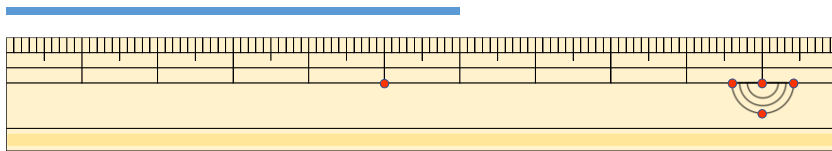
1 線の長さは何cmでしょう。

①



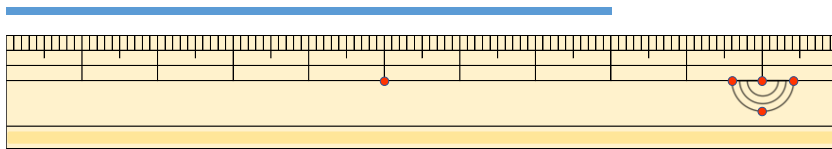
こた 答え (5 cm)

②



こた 答え (6 cm)

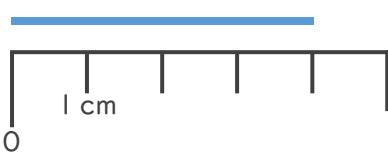
③



こた 答え (8 cm)

2 線の長さは何cmでしょう。

①



こた 答え (4 cm)

②



こた 答え (2 cm)





長さのたんい 3

● 物のさしの見かた (cm)

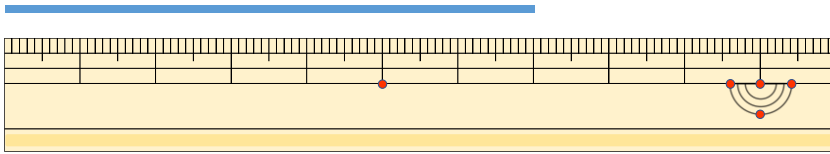


日にち： 月 日

名まえ _____

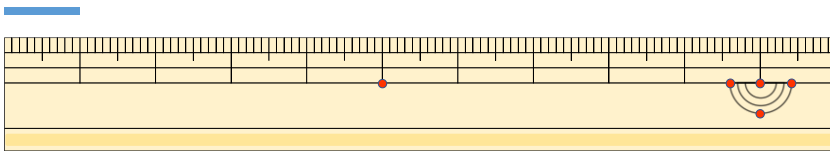
1 線の長さは何cmでしょう。

①



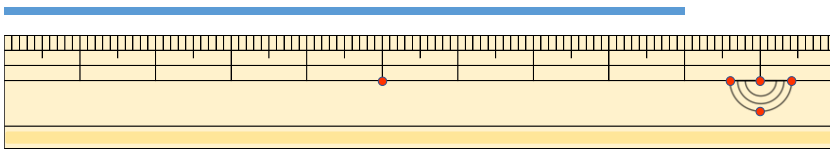
こた 答え (7 cm)

②



こた 答え (1 cm)

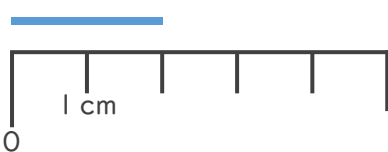
③



こた 答え (9 cm)

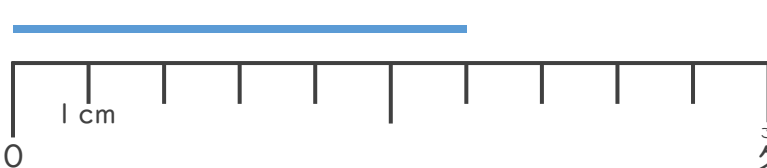
2 線の長さは何cmでしょう。

①



こた 答え (2 cm)

②



こた 答え (6 cm)





長さのたんい 3

● ものさしの見かた (cm)

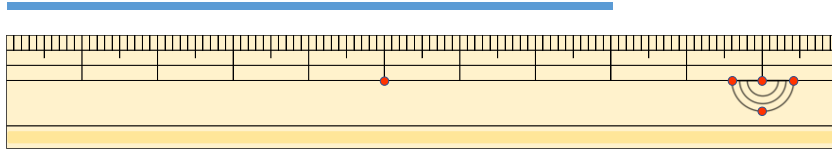
12

日にち： 月 日

名まえ _____

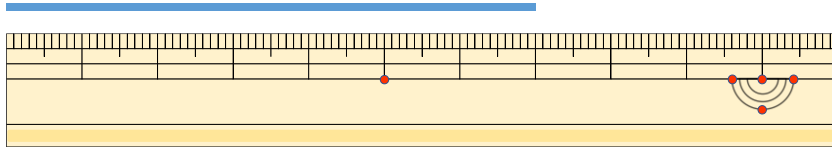
1 線の長さは何cmでしょう。

①



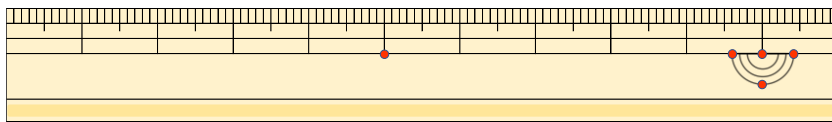
こた 答え (8 cm)

②



こた 答え (7 cm)

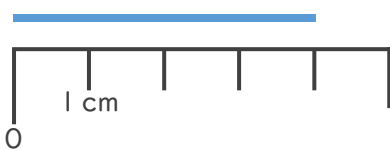
③



こた 答え (6 cm)

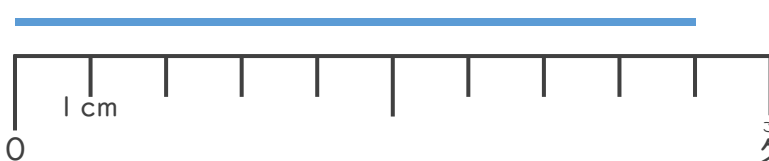
2 線の長さは何cmでしょう。

①



こた 答え (4 cm)

②



こた 答え (9 cm)





長さのたんい 3

● ものさしの見かた (cm)

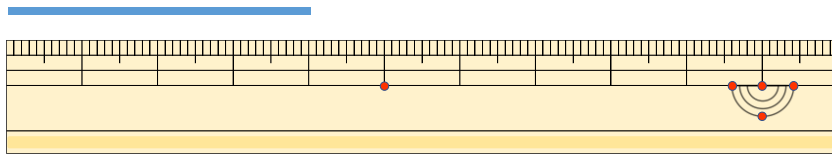
13

日にち： 月 日

名まえ _____

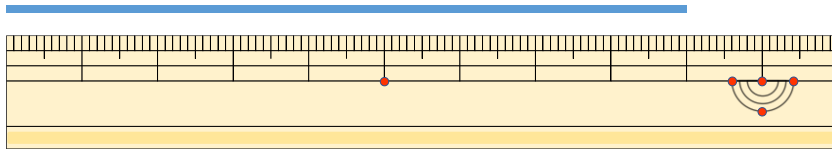
1 線の長さは何cmでしょう。

①



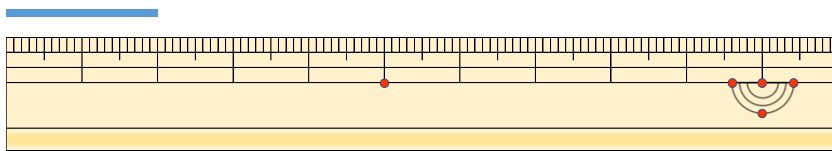
こた 答え (4 cm)

②



こた 答え (9 cm)

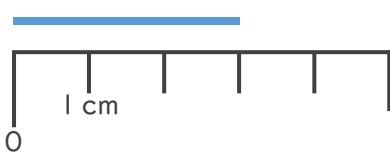
③



こた 答え (2 cm)

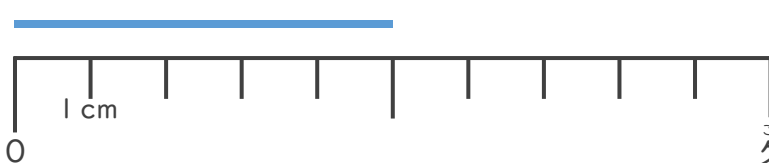
2 線の長さは何cmでしょう。

①



こた 答え (3 cm)

②



こた 答え (5 cm)





長さのたんい 3

● 物のさしの見かた (cm)

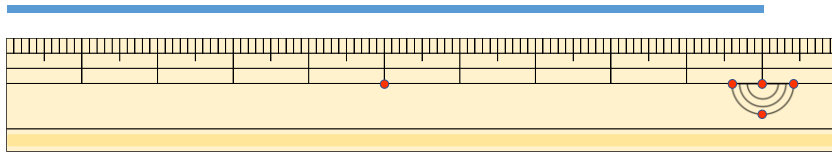
14

日にち： 月 日

名まえ _____

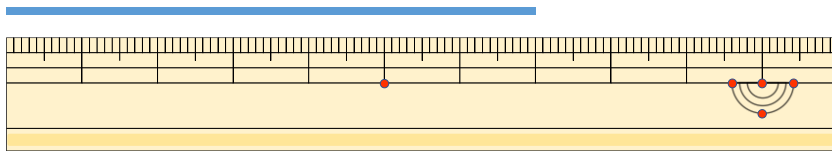
1 線の長さは何cmでしょう。

①



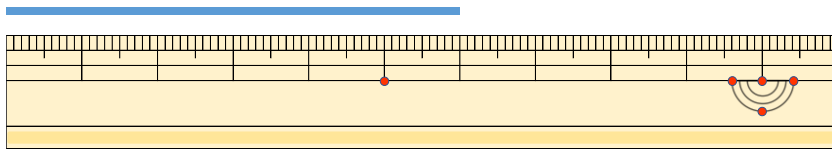
こた 答え (10cm)

②



こた 答え (7cm)

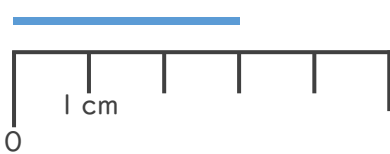
③



こた 答え (6cm)

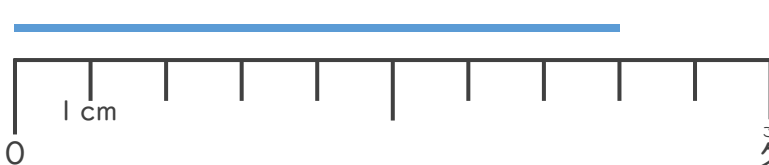
2 線の長さは何cmでしょう。

①



こた 答え (3cm)

②



こた 答え (8cm)





長さのたんい 3

● 物のさしの見かた (cm)

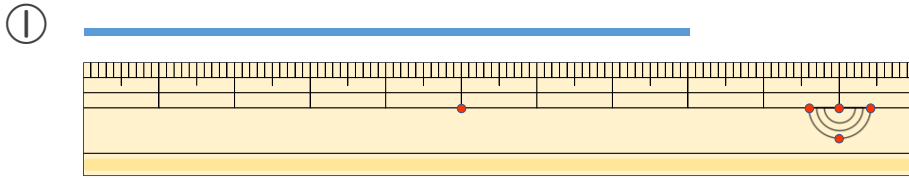
15

めざせ80点!

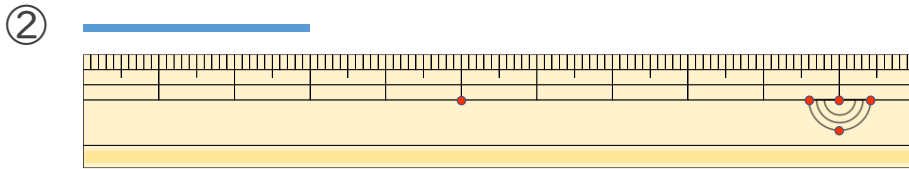


名まえ _____

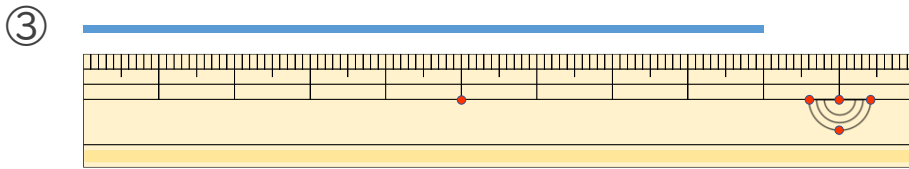
1 線の長さは何cmでしょう。(各20点)



こた 答え (8 cm)

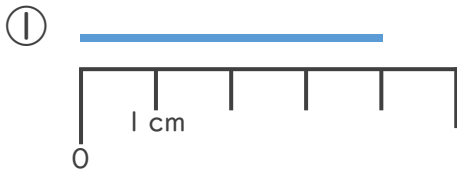


こた 答え (3 cm)

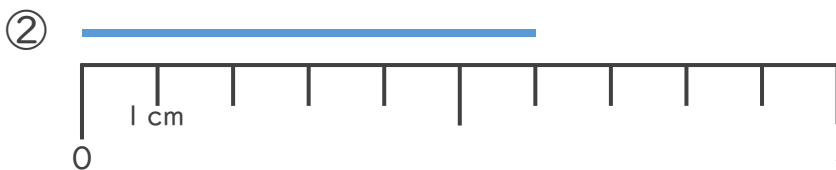


こた 答え (9 cm)

2 線の長さは何cmでしょう。(各20点)



こた 答え (4 cm)



こた 答え (6 cm)





長さのたんい 3

● ものさしの見かた (cm)

16

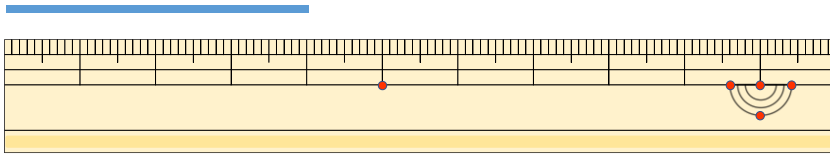
めざせ80点!



名まえ _____

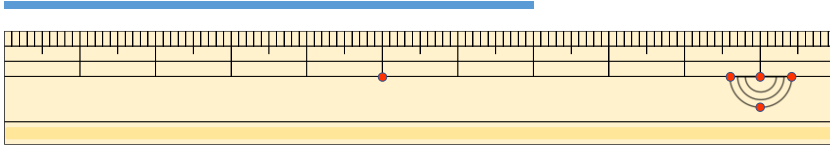
1 線の長さは何cmでしょう。(各20点)

①



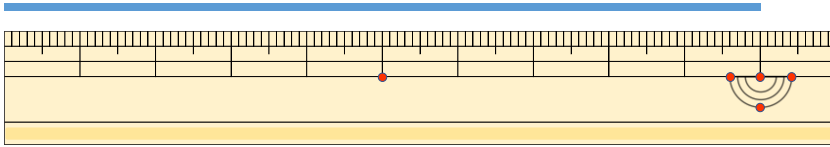
こた 答え (4 cm)

②



こた 答え (7 cm)


③



こた 答え (10cm)

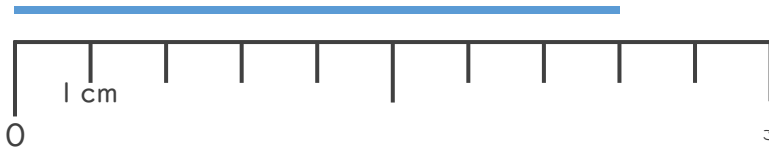
2 線の長さは何cmでしょう。(各20点)

①



こた 答え (3 cm)

②



こた 答え (8 cm)

