



長さのたんい 5

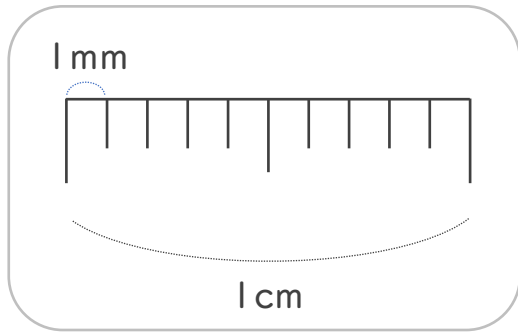
● ミリメートル



日にち： 月 日


名まえ _____

1 1cmを ^{おな} 同じ ^{なが} 長さに、10に ^わ 分けた ^{ぶん} 1つ分の ^{なが} 長さを
1mm(ミリメートル)と います。




mm (ミリメートル) の ^か 書き方 ^{かた} を れんしゅう しましょう。

1 mm 1 mm

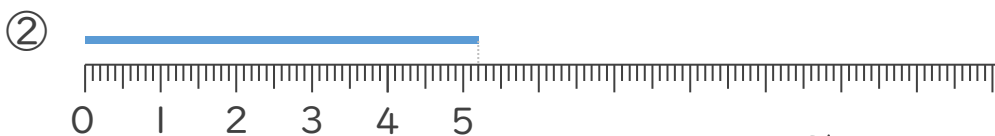
↑ なぞろう! 

2 ^{せん} 線の ^{なが} 長さは ^{なん} 何cm ^{なん} 何mm でしょう。(うすい ^じ 字はなぞり しましょう。)



1 cmが 3 こ分と、
1 mmが 5 こ分 あるよ

こた 答え (3 cm 5 mm)



こた 答え (5 cm 2 mm)





長さのたんい 5

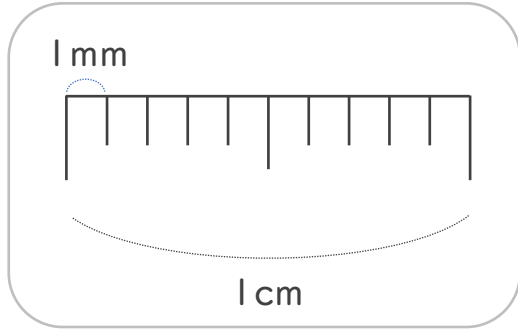
● ミリメートル



日にち： 月 日


名まえ _____

1 1cmを ^{おな} 同じ ^{なが} 長さに、10に ^わ 分けた ^{ぶん} 1つ分の ^{なが} 長さを
1mm(ミリメートル)と います。

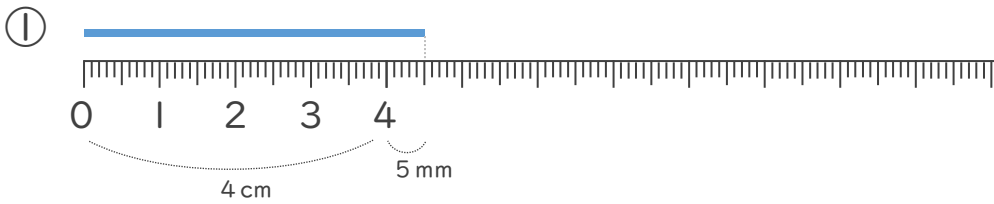


mm (ミリメートル) の ^か 書き方 ^{かた} を れんしゅう しましょう。

1 mm 1 mm

↑ なぞろう! 

2 ^{せん} 線の ^{なが} 長さは ^{なん} 何cm ^{なん} 何mm でしょう。(うすい ^じ 字はなぞり しましょう。)



1 cmが 4こ分と、
1 mmが 5こ分 あるよ

こた 答え (cm mm)



こた 答え (cm mm)





長さのたんい 5

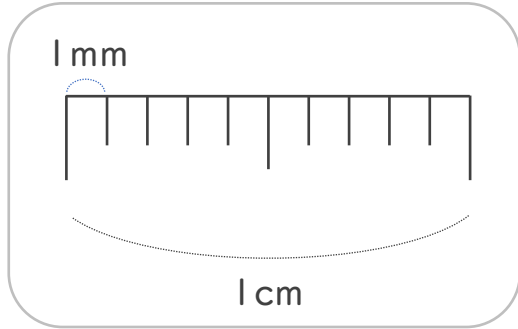


● ミリメートル

日にち： 月 日


名まえ _____

1 1cmを ^{おな} 同じ ^{なが} 長さに、10に ^わ 分けた ^{ぶん} 1つ分の ^{なが} 長さを 1mm(ミリメートル)と います。



mm (ミリメートル) の ^か 書き方 ^{かた} を れんしゅう しましょう。

1 mm 1 mm

↑ なぞろう! 

2 ^{せん} 線の ^{なが} 長さは ^{なん} 何cm ^{なん} 何mm でしょう。(うすい ^じ 字はなぞり しましょう。)



1 cmが 3 こ分と、
1 mmが 6 こ分 あるよ

こた 答え (cm mm)



こた 答え (cm mm)





長さのたんい 5

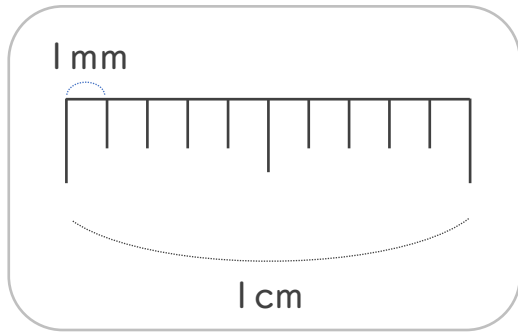
● ミリメートル



日にち： 月 日


名まえ _____

1 1cmを ^{おな} 同じ ^{なが} 長さに、10に ^わ 分けた ^{ぶん} 1つ分の ^{なが} 長さを
1mm(ミリメートル)と います。

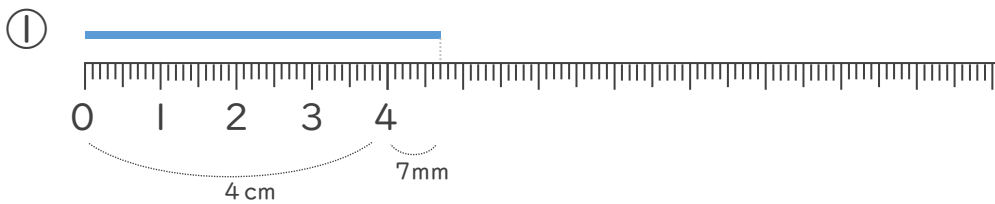


mm (ミリメートル) の ^か 書き方 ^{かた} を れんしゅう しましょう。

1 mm 1 mm

↑ なぞろう! 

2 ^{せん} 線の ^{なが} 長さは ^{なん} 何cm ^{なん} 何mm でしょう。(うすい ^じ 字はなぞり しましょう。)



1 cmが 4こ分と、
1 mmが 7こ分 あるよ

こた 答え (cm mm)



こた 答え (cm mm)





長さのたんい 5

● ミリメートル



日にち： 月 日

名まえ _____

1 線の長さは何cm何mmでしょう。(うすい字はなぞりましょう。)



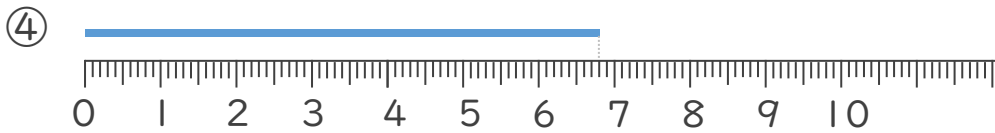
答え (3 cm 6 mm)



答え (cm mm)



答え ()



答え ()





長さのたんい 5

● ミリメートル




日にち： 月 日

名まえ _____


1 線の長さは何cm何mmでしょう。(うすい字はなぞりましょう。)

①



答え (cm mm)

②



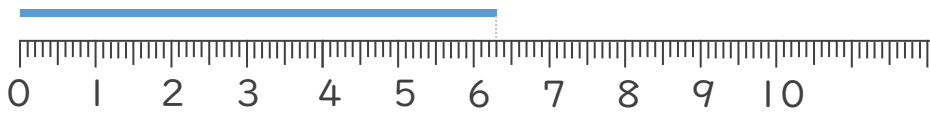
答え ()

③



答え ()

④



答え ()



長さのたんい 5

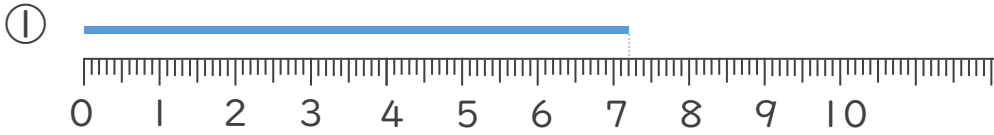
● ミリメートル



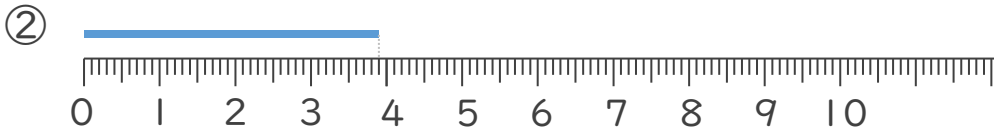
日にち： 月 日

名まえ _____

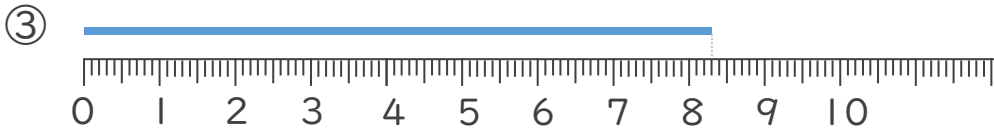
I 線の長さは 何cm何mm でしょう。



答え ()



答え ()



答え ()



答え ()



長さのたんい 5

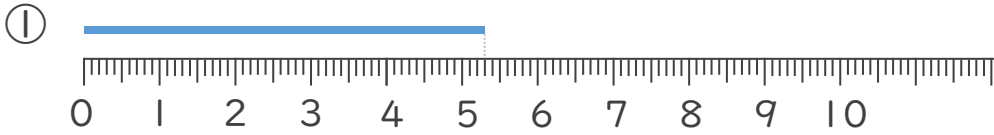
● ミリメートル



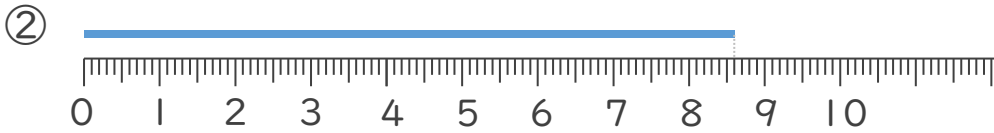
日にち： 月 日

名まえ _____

1 線の長さは何cm何mmでしょう。



答え ()



答え ()



答え ()



答え ()





長さのたんい 5

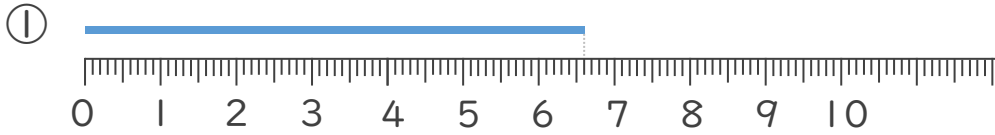
● ミリメートル



日にち： 月 日

名まえ _____

1 線の長さは何cm何mmでしょう。



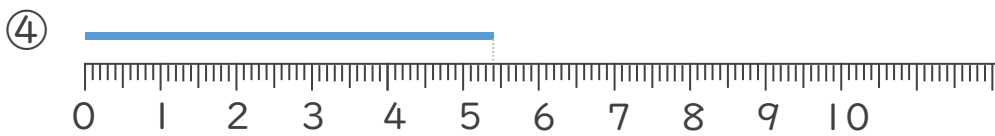
こた 答え ()



こた 答え ()



こた 答え ()



こた 答え ()





長さのたんい 5

● ミリメートル



日にち： 月 日

名まえ _____

1 ^{せん}線の ^{なが}長さは ^{なん}何cm ^{なん}何mm でしょう。



^{こた}答え ()



^{こた}答え ()



^{こた}答え ()

2 ^{せん}線の ^{なが}長さをものさしではかりましょう。



^{こた}答え ()



^{こた}答え ()



長さのたんい 5

● ミリメートル



日にち： 月 日

名まえ _____


1 ^{せん}線の ^{なが}長さは ^{なん}何cm ^{なん}何mm でしょう。

①



こた 答え ()

②



こた 答え ()

③



こた 答え ()

2 ^{せん}線の ^{なが}長さを ^{ものさし}ものさしではかりましょう。

①



こた 答え ()

②



こた 答え ()





長さのたんい 5

● ミリメートル

12

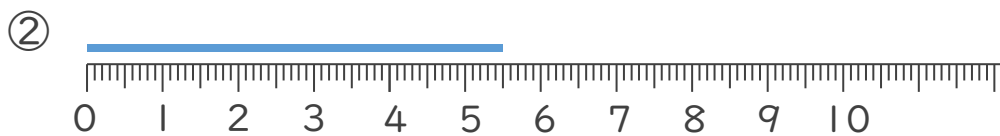
日にち： 月 日

名まえ _____

1 せん 線の なが 長さは なん 何 なん cm 何 mm でしょう。



こた 答え ()



こた 答え ()



こた 答え ()

2 せん 線の なが 長さを ものさし での はかり かりましょう。

① こた 答え ()

② こた 答え ()



長さのたんい 5

● ミリメートル

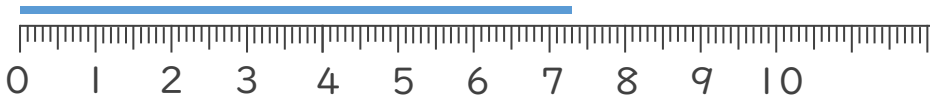


日にち： 月 日

名まえ _____

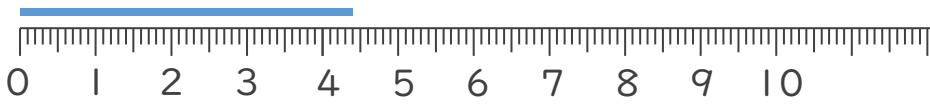
1 線の長さは何cm何mmでしょう。

①



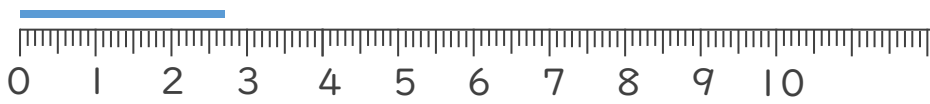
答え ()

②



答え ()

③



答え ()

2 線の長さをものさしではかりましょう。

①



答え ()

②



答え ()





長さのたんい 5

● ミリメートル

14

日にち：

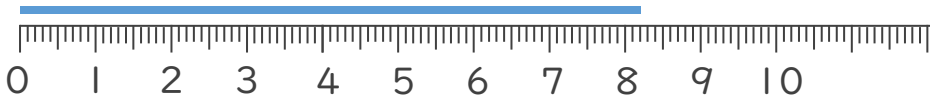
月

日

名まえ _____


1 線の長さは何cm何mmでしょう。

①



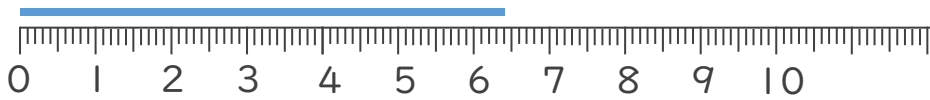
答え ()

②



答え ()

③



答え ()

2 線の長さをものさしではかりましょう。

①



答え ()

②



答え ()





長さのたんい 5

● ミリメートル

15

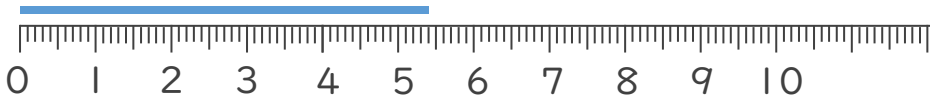
めざせ80点!



名まえ _____


1 線の長さは何cm何mmでしょう。(各20点)

①



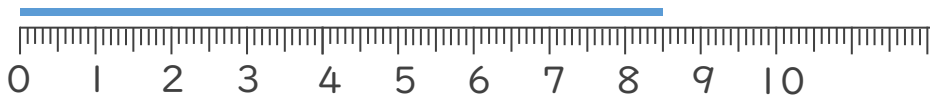
答え ()

②



答え ()

③



答え ()

2 線の長さをものさしではかりましょう。(各20点)

①



答え ()

②



答え ()





長さのたんい 5

● ミリメートル

16

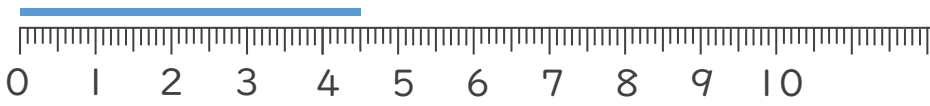
めざせ80点!



名まえ _____

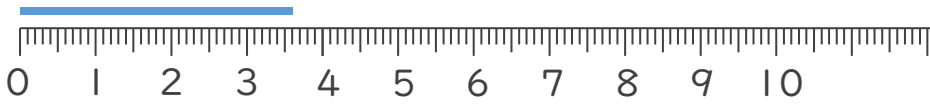
1 線の長さは何cm何mmでしょう。(各20点)

①



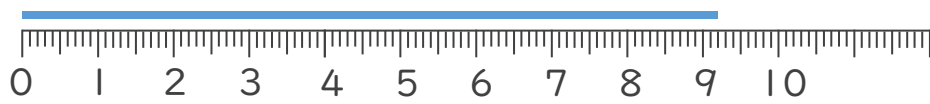
答え ()

②



答え ()

③



答え ()

2 線の長さをものさしではかりましょう。(各20点)

①



答え ()

②



答え ()



長さのたんい 5

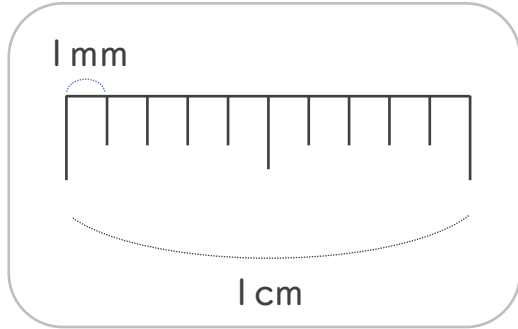
● ミリメートル



日にち： 月 日


名まえ _____

1 1cmを ^{おな} 同じ ^{なが} 長さに、10に ^わ 分けた ^{ぶん} 1つ分の ^{なが} 長さを
1mm(ミリメートル)と います。



mm (ミリメートル) の ^か 書き方 ^{かた} を れんしゅう しましょう。

1 mm 1 mm 1 mm 1 mm 1 mm

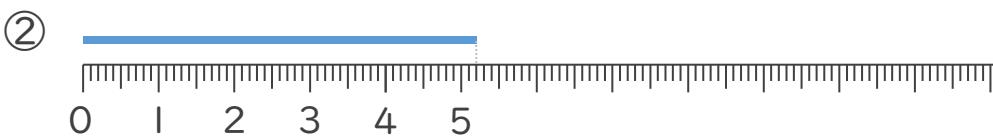
↑ なぞろう! 

2 ^{せん} 線の ^{なが} 長さは ^{なん} 何cm ^{なん} 何mm でしょう。(うすい字はなぞりましょう。)



1 cmが 3 こ分と、
1 mmが 5 こ分 あるよ

こた 答え (3 cm 5 mm)



こた 答え (5 cm 2 mm)





長さのたんい 5

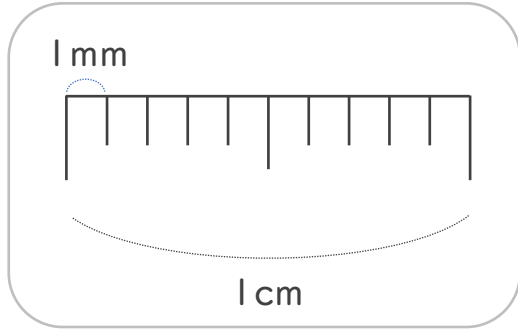
● ミリメートル



日にち： 月 日

名まえ _____

1 1cmを ^{おな} 同じ ^{なが} 長さに、10に ^わ 分けた ^{ぶん} 1つ分の ^{なが} 長さを 1mm(ミリメートル)と います。

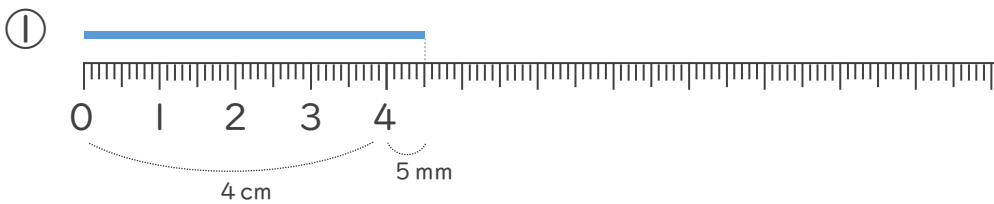


mm (ミリメートル) の ^か 書き方 ^{かた} を れんしゅう しましょう。

1 mm 1 mm 1 mm 1 mm 1 mm

↑ なぞろう!

2 ^{せん} 線の ^{なが} 長さは ^{なん} 何cm ^{なん} 何mm でしょう。(うすい ^じ 字はなぞり しましょう。)



1 cmが 4こ分と、
1 mmが 5こ分 あるよ

こた 答え (4 cm 5 mm)



こた 答え (2 cm 8 mm)





長さのたんい 5

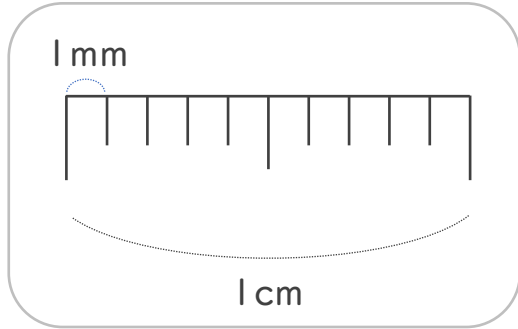
3

● ミリメートル

日にち： 月 日


名まえ _____

1 1cmを ^{おな} 同じ ^{なが} 長さに、10に ^わ 分けた ^{ぶん} 1つ分の ^{なが} 長さを 1mm(ミリメートル)と います。




mm (ミリメートル) の ^か 書き方 ^{かた} を れんしゅう しましょう。

1 mm 1 mm 1 mm 1 mm 1 mm

↑ なぞろう! 

2 ^{せん} 線の ^{なが} 長さは ^{なん} 何cm ^{なん} 何mm でしょう。(うすい ^じ 字はなぞり しましょう。)



1 cmが 3 こ分と、
1 mmが 6 こ分 あるよ

こた 答え (3 cm 6 mm)



こた 答え (4 cm 4 mm)





長さのたんい 5

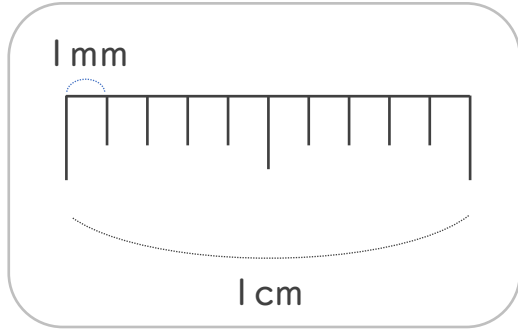
● ミリメートル



日にち： 月 日


名まえ _____

1 1cmを ^{おな} 同じ ^{なが} 長さに、10に ^わ 分けた ^{ぶん} 1つ分の ^{なが} 長さを 1mm(ミリメートル)と います。

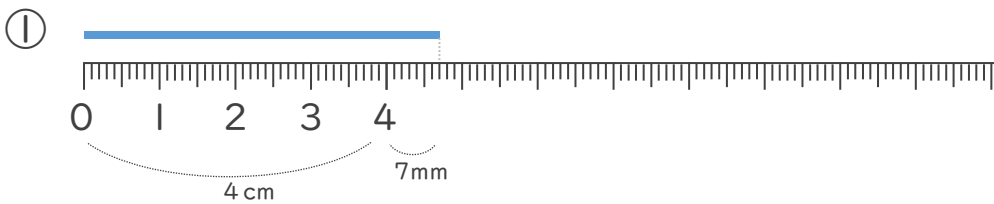


mm (ミリメートル) の ^か 書き方 ^{かた} を れんしゅう しましょう。

1 mm 1 mm 1 mm 1 mm 1 mm

↑ なぞろう! 

2 ^{せん} 線の ^{なが} 長さは ^{なん} 何cm ^{なん} 何mm でしょう。(うすい ^じ 字はなぞり しましょう。)



1 cmが 4こ分と、
1 mmが 7こ分 あるよ

こた 答え (4 cm 7 mm)



こた 答え (3 cm 8 mm)





長さのたんい 5

● ミリメートル



日にち： 月 日

名まえ _____

1 線の長さは何cm何mmでしょう。(うすい字はなぞりましょう。)



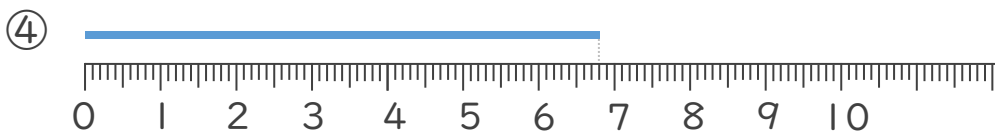
答え (3 cm 6 mm)



答え (4 cm 3 mm)



答え (3 cm 5 mm)



答え (6 cm 8 mm)





長さのたんい 5

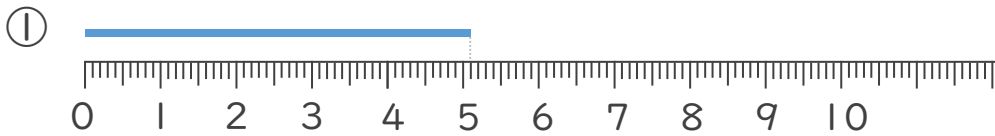
● ミリメートル

6

日にち： 月 日

名まえ _____

1 線の長さは何cm何mmでしょう。(うすい字はなぞりましょう。)



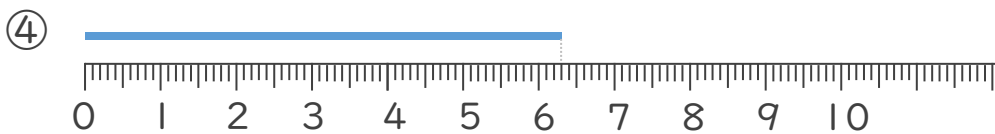
こた 答え (5 cm 1 mm)



こた 答え (4 cm 5 mm)



こた 答え (1 cm 7 mm)



こた 答え (6 cm 3 mm)





長さのたんい 5

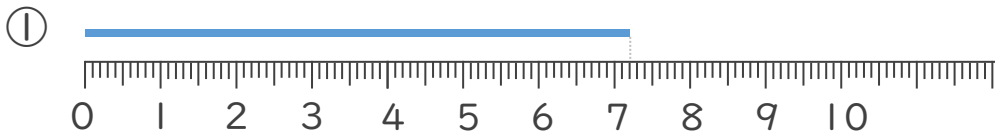
● ミリメートル



日にち： 月 日

名まえ _____

1 線の長さは何cm何mmでしょう。



答え (7 cm 2 mm)



答え (3 cm 9 mm)



答え (8 cm 3 mm)



答え (2 cm 5 mm)





長さのたんい 5

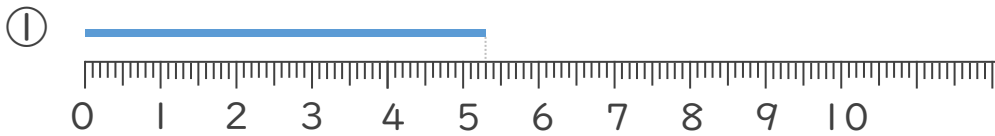
● ミリメートル



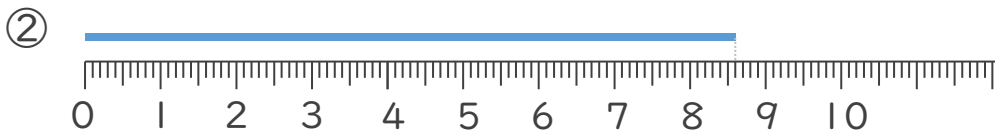
日にち： 月 日

名まえ _____

1 線の長さは何cm何mmでしょう。



答え (5 cm 3 mm)



答え (8 cm 6 mm)



答え (2 cm 4 mm)



答え (4 cm 1 mm)





長さのたんい 5

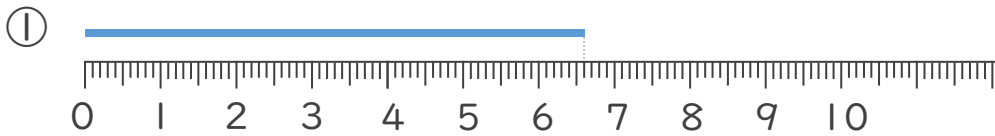
● ミリメートル



日にち： 月 日

名まえ _____

1 線の長さは何cm何mmでしょう。



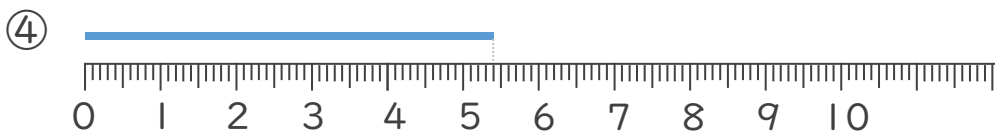
答え (6 cm 6 mm)



答え (4 cm 5 mm)



答え (3 cm 2 mm)



答え (5 cm 4 mm)





長さのたんい 5

● ミリメートル

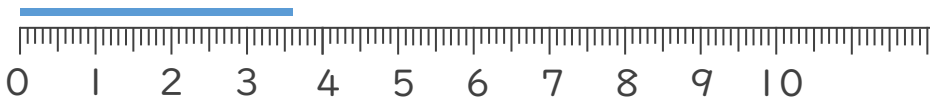


日にち： 月 日

名まえ _____

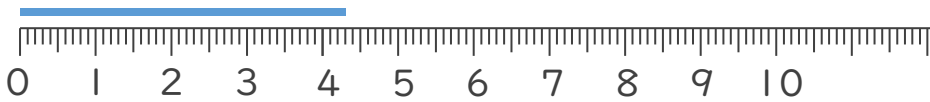
1 線の長さは何cm何mmでしょう。

①



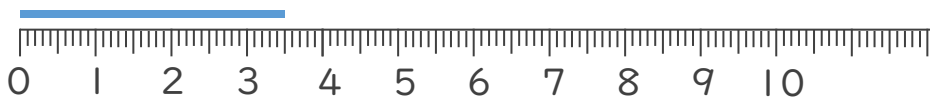
こた 答え (3 cm 6 mm)

②



こた 答え (4 cm 3 mm)

③



こた 答え (3 cm 5 mm)

2 線の長さをものさしではかりましょう。

①



こた 答え (8 cm)

②



こた 答え (4 cm)





長さのたんい 5

● ミリメートル




日にち： 月 日

名まえ _____

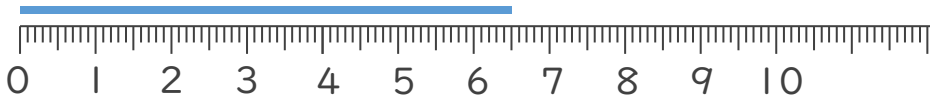
1 線の長さは何cm何mmでしょう。

①



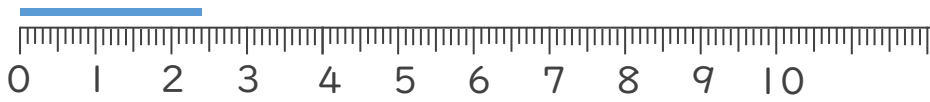
答え (4 cm 2 mm)

②



答え (6 cm 5 mm)

③



答え (2 cm 4 mm)

2 線の長さをものさしではかりましょう。

①



答え (7 cm)

②



答え (3 cm)





長さのたんい 5

● ミリメートル


12

日にち： 月 日

名まえ _____

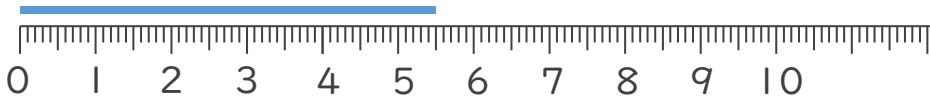
1 ^{せん}線の ^{なが}長さは ^{なん}何 ^{なん}cm何mm でしょう。

①




こた 答え (3 cm 7 mm)

②



こた 答え (5 cm 5 mm)

③



こた 答え (4 cm 1 mm)

2 ^{せん}線の ^{なが}長さをものさしではかりましょう。

①



こた 答え (5 cm)

②



こた 答え (6 cm)





長さのたんい 5

● ミリメートル

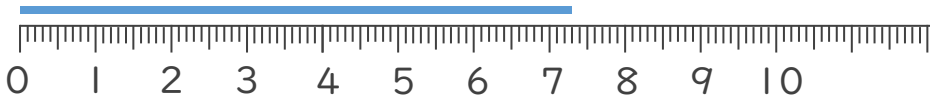
13

日にち： 月 日

名まえ _____


1 線の長さは何cm何mmでしょう。

①




こた 答え (7 cm 3 mm)

②



こた 答え (4 cm 4 mm)

③



こた 答え (2 cm 7 mm)

2 線の長さをものさしではかりましょう。

①



こた 答え (8 cm)

②



こた 答え (4 cm)





長さのたんい 5

● ミリメートル

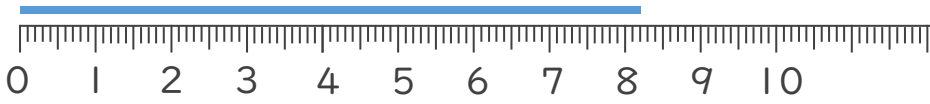
14

日にち： 月 日

名まえ _____


1 ^{せん} ^{なが} ^{なん} ^{なん} 線の長さは何cm何mmでしょう。

①



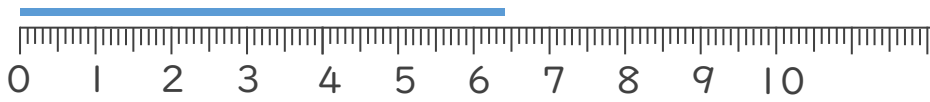
こた 答え (8 cm 2 mm)

②



こた 答え (3 cm 5 mm)

③



こた 答え (6 cm 4 mm)

2 ^{せん} ^{なが} 線の長さをものさしではかりましょう。

①



こた 答え (9 cm)

②



こた 答え (5 cm)





長さのたんい 5

● ミリメートル

15

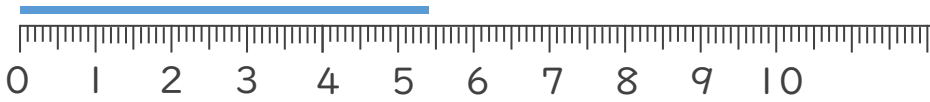
めざせ80点!



名まえ _____


1 線の長さは何cm何mmでしょう。(各20点)

①



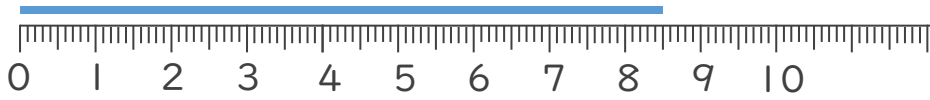
こた 答え (5 cm 4 mm)

②



こた 答え (4 cm 3 mm)

③



こた 答え (8 cm 5 mm)

2 線の長さをものさしではかりましょう。(各20点)

①



こた 答え (7 cm)

②



こた 答え (4 cm)





長さのたんい 5

● ミリメートル

16


めざせ80点!



名まえ _____


1 線の長さは何cm何mmでしょう。(各20点)

①



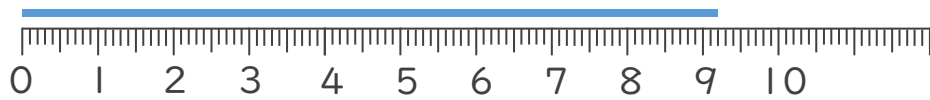
こた 答え (4 cm 5 mm)

②



こた 答え (3 cm 6 mm)

③



こた 答え (9 cm 2 mm)

2 線の長さをものさしではかりましょう。(各20点)

①



こた 答え (4 cm)

②



こた 答え (8 cm)

