



長さのたんい 6

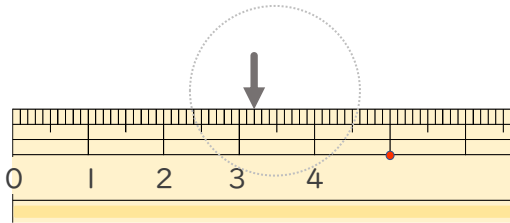
● ものさしの見かた (mm)



日にち： 月 日

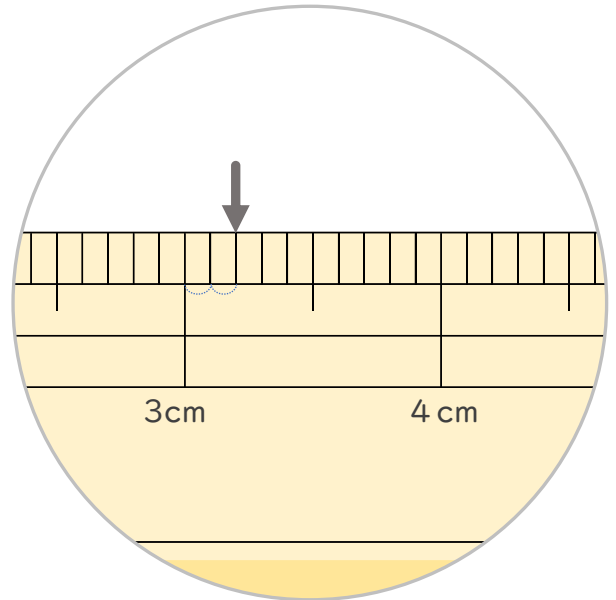
名まえ _____

1 ^{ひだり} 左はしから ↓ までの ^{なが} 長さは ^{なん} 何cm ^{なん} 何mm ですか。(うすい字 ^じ はなぞりましょう。)



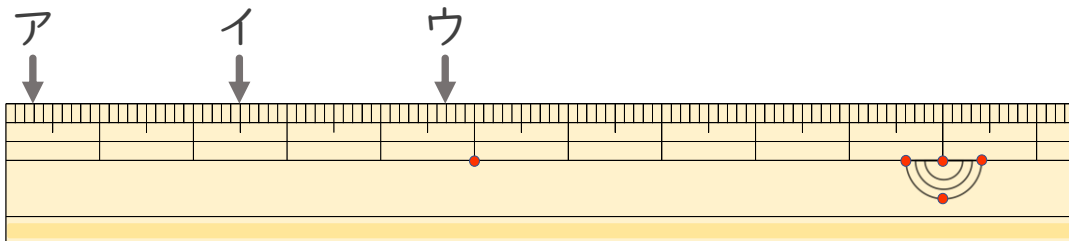
1cmを10に^わ分けた1つ分は ^{ぶん} 1mmだね

3cmと、^{ちい} 小さいめもりが ^{ぶん} 2つ分だから・・・



答え (3 cm 2 mm)

2 ^{ひだり} 左はしから ア、イ、ウ、までの ^{なが} 長さはそれぞれどれだけで ^じ すか。(うすい字はなぞりましょう。)



ア (3 mm) イ (2 cm 5 mm)

ウ (4 cm 7 mm)





長さのたんい 6

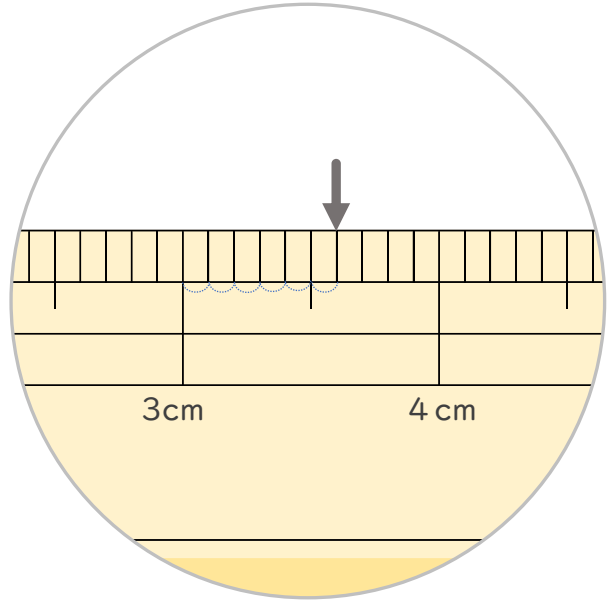
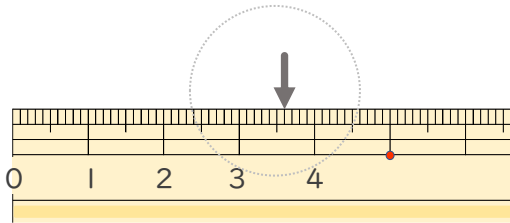
● ものさしの見かた (mm)



日にち： 月 日

名まえ _____

1 ひだり 左はしから ↓ までの ^{なが}長さは ^{なん}何cm ^{なん}何mm ですか。(うすい字 ^じはなぞりましょう。)

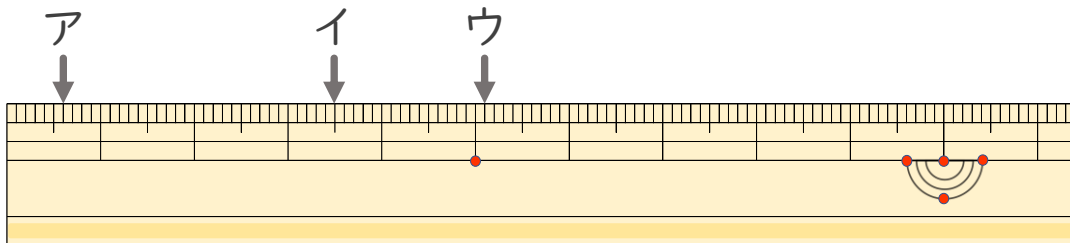


1cmを10に^わ分けた1^{ぶん}つ分は1mmだね

3cmと、^{ちい}小さいめもりが6^{ぶん}つ分だから・・・

答え (cm mm)

2 ひだり 左はしから ア、イ、ウ、までの ^{なが}長さはそれぞれどれだけで



ア () イ ()

ウ ()





長さのたんい 6

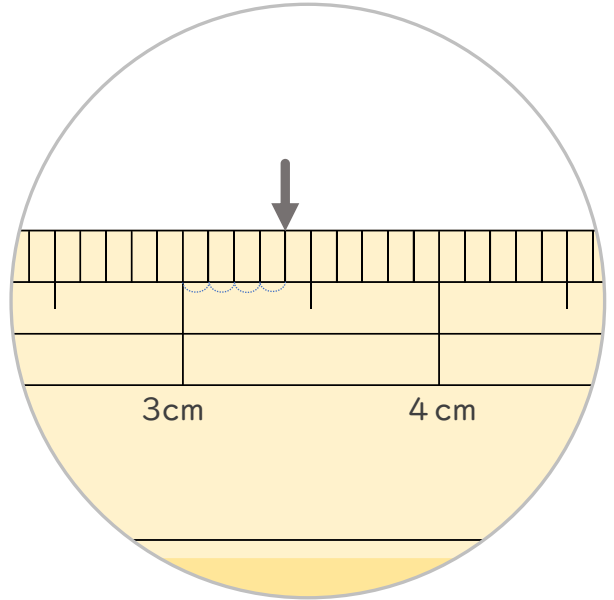
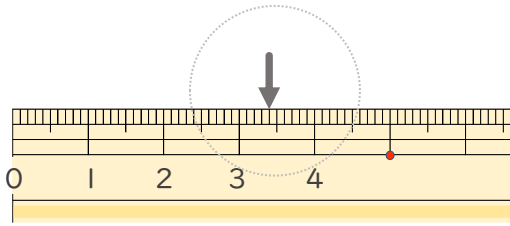
● ものさしの見かた (mm)



日にち： 月 日

名まえ _____

1 左はしから ↓ までの ^{なが}長さは ^{なん}何cm ^{なん}何mm ですか。(うすい字 ^じはなぞりましょう。)

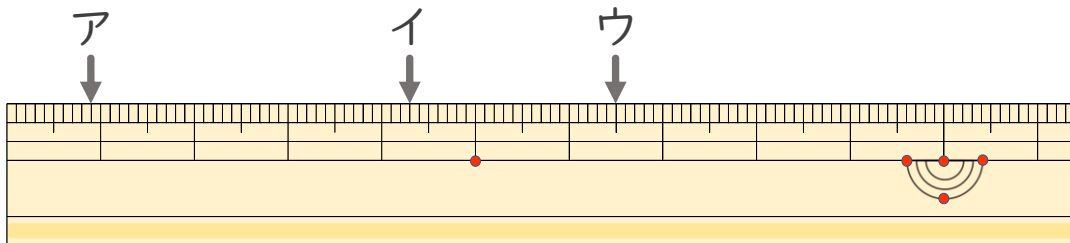


1cmを10に^わ分けた1つ分は ^{ぶん}1mm だね

3cmと、^{ちい}小さいめもりが ^{ぶん}4つ分だから・・・

答え (cm mm)

2 左はしから ^{ひだり}ア、イ、ウ、までの ^{なが}長さはそれぞれどれだけで ですか。



ア () イ ()

ウ ()





長さのたんい 6

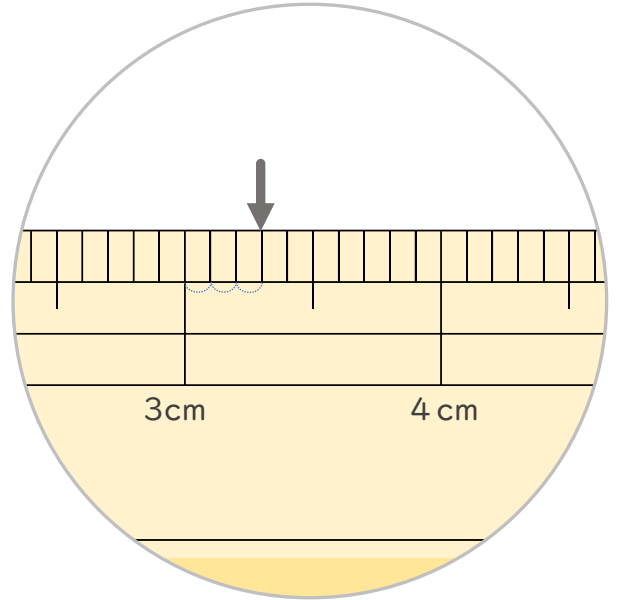
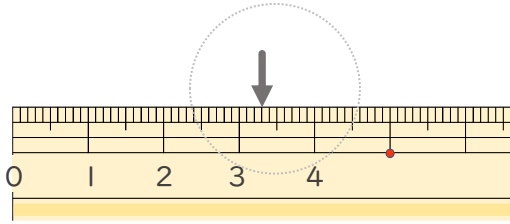
● ものさしの見かた (mm)



日にち： 月 日

名まえ _____

1 ^{ひだり} 左はしから ↓ までの ^{なが} 長さは ^{なん} 何 ^{なん} cm 何 ^じ mm ですか。(うすい字はなぞりましょう。)

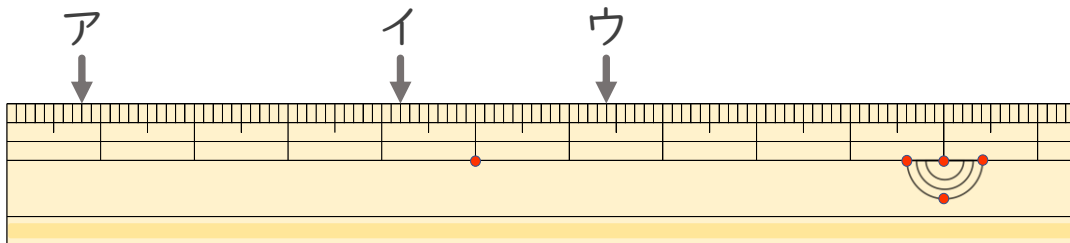


1cmを10に^わ分けた1つ分は^{ぶん}1mmだね

3cmと、^{ちい}小さいめもりが^{ぶん}4つ分だから・・・

答え (cm mm)

2 ^{ひだり} 左はしから ア、イ、ウ、までの ^{なが} 長さはそれぞれどれだけですか。



ア () イ ()

ウ ()





長さのたんい 6

● ものさしの見かた (mm)

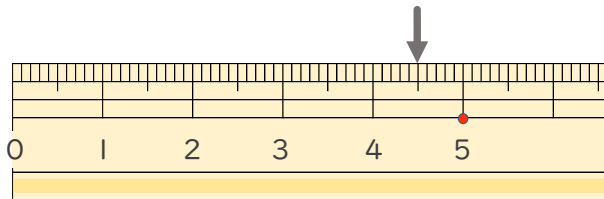


日にち： 月 日

名まえ _____

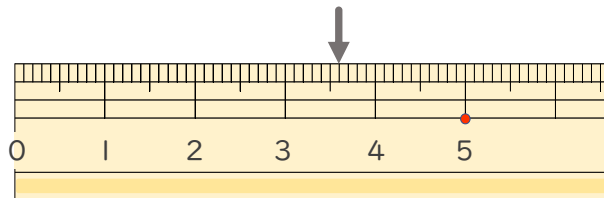
1 ^{ひだり} 左はしから ↓ までの ^{なが} 長さは ^{なん} 何cm ^{なん} 何mm ですか。 (うすい ^じ 字はなぞりましょう。)

①



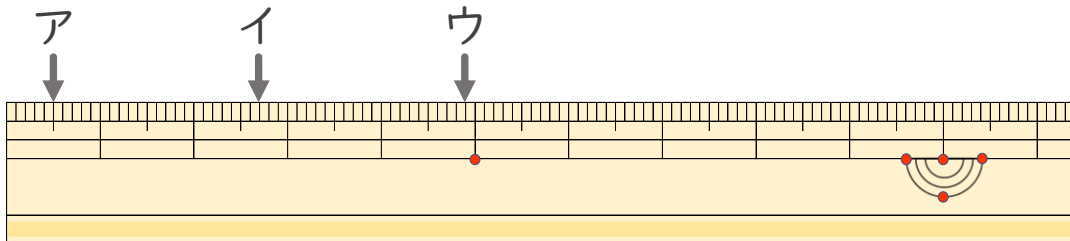
答え (4 cm 5 mm)

②



答え ()

2 ^{ひだり} 左はしから ア、イ、ウ、までの ^{なが} 長さはそれぞれどれだけで
すか。



ア () イ ()

ウ ()



長さのたんい 6

● ものさしの見かた (mm)

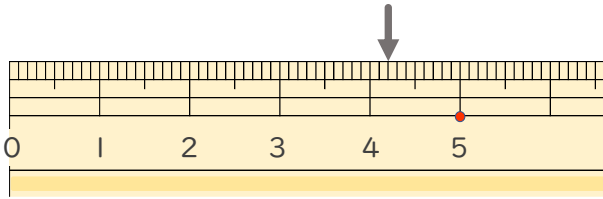


日にち： 月 日

名まえ _____

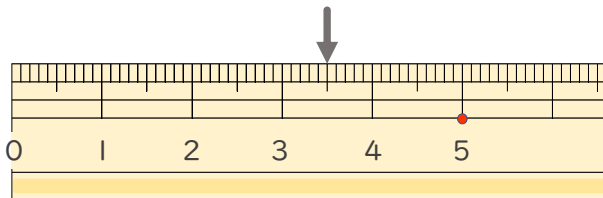
1 ^{ひだり} 左はしから ↓ までの ^{なが} 長さは ^{なん} 何 ^{なん} cm 何 ^じ mm ですか。(うすい字 はなぞりましょう。)

①



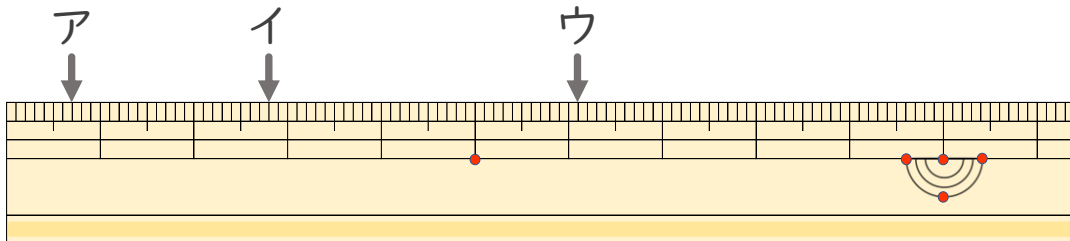
答え (4 cm 2 mm)

②



答え ()

2 ^{ひだり} 左はしから ア、イ、ウ、までの ^{なが} 長さは それぞれ どれだけで ですか。



ア () イ ()

ウ ()





長さのたんい 6

● ものさしの見かた (mm)

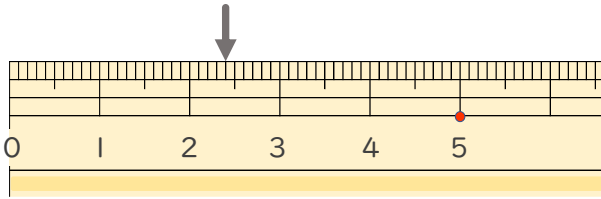


日にち： 月 日

名まえ _____

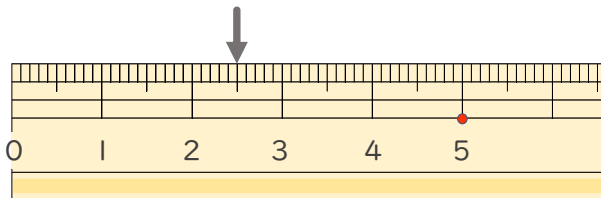
1 ^{ひだり} 左はしから ↓ までの ^{なが} 長さは ^{なん} 何cm ^{なん} 何mm ですか。(うすい字 ^じ はなぞりましょう。)

①



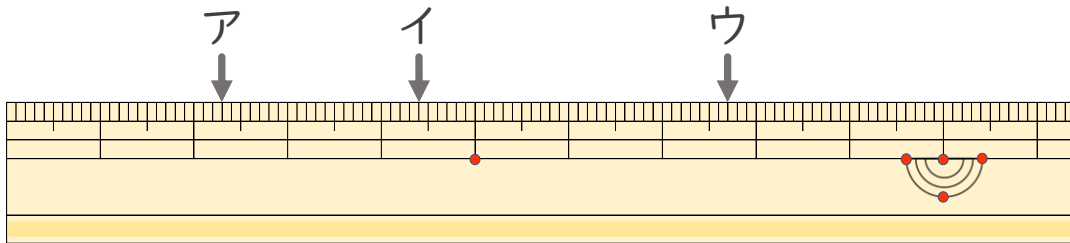
答え (cm mm)

②



答え ()

2 ^{ひだり} 左はしから ア、イ、ウ、までの ^{なが} 長さは それぞれ どれだけで ですか。



ア () イ ()

ウ ()





長さのたんい 6

● ものさしの見かた (mm)

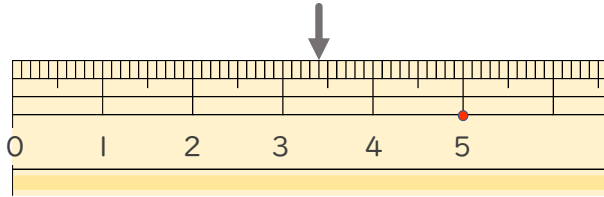


日にち： 月 日

名まえ _____

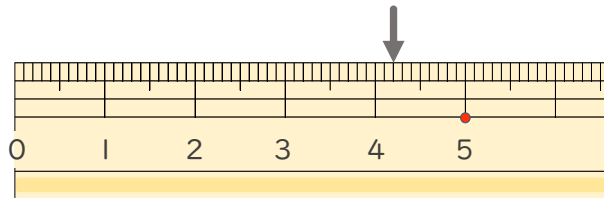
1 ^{ひだり} 左はしから \downarrow までの ^{なが} 長さは ^{なん} 何cm ^{なん} 何mm ですか。

①



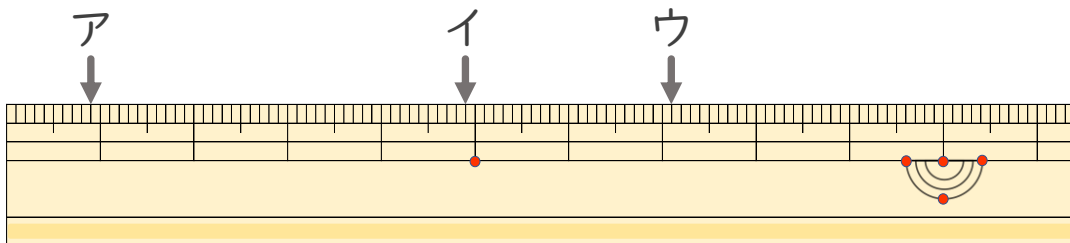
答え ()

②



答え ()

2 ^{ひだり} 左はしから ア、イ、ウ、までの ^{なが} 長さは それぞれ どれだけ ですか。



ア () イ ()

ウ ()





長さのたんい 6

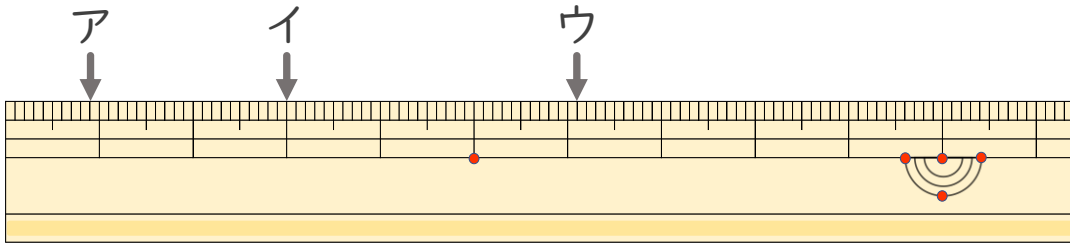
● ものさしの見かた (mm)

10

日にち： 月 日

名まえ _____

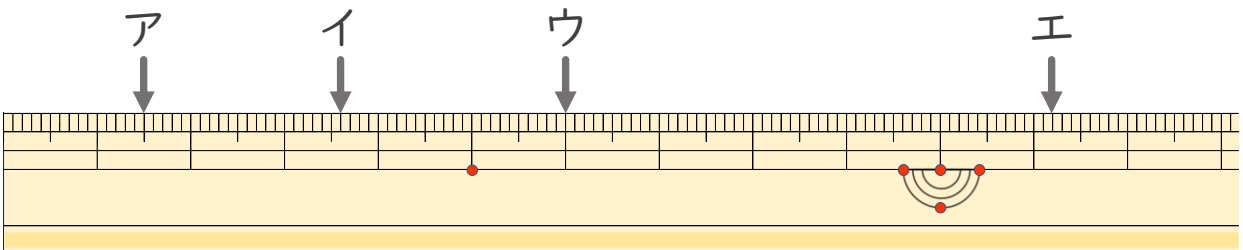
1 ^{ひだり}左はしから ア、イ、ウ、までの ^{なが}長さはそれぞれどれだけで
すか。



ア () イ ()

ウ ()

2 ^{ひだり}左はしから ア、イ、ウ、エまでの ^{なが}長さはそれぞれどれだけで
ですか。



ア () イ ()

ウ () エ ()



長さのたんい 6

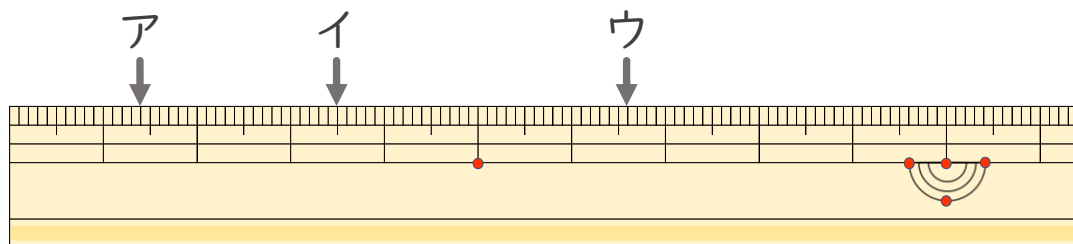
● 物のさしの見かた (mm)



日にち： 月 日

名まえ _____

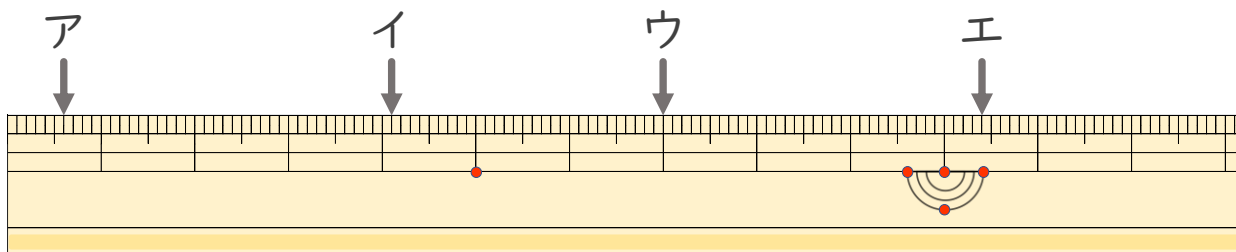
- 1 ^{ひだり}左はしから ア、イ、ウ、までの ^{なが}長さはそれぞれどれだけで
すか。



ア () イ ()

ウ ()

- 2 ^{ひだり}左はしから ア、イ、ウ、エまでの ^{なが}長さはそれぞれどれだけ
ですか。



ア () イ ()

ウ () エ ()





長さのたんい 6

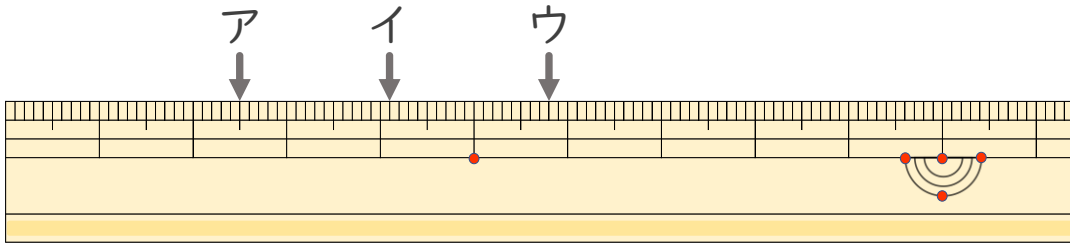
● 物のさしの見かた (mm)

12

日にち： 月 日

名まえ _____

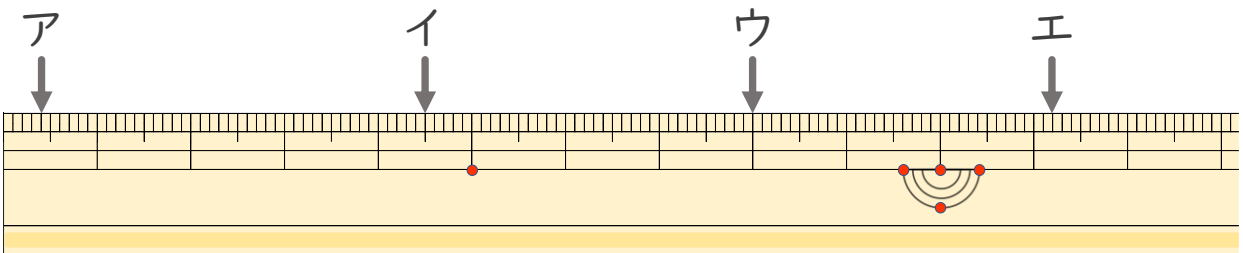
1 ^{ひだり}左はしから ア、イ、ウ、までの ^{なが}長さはそれぞれどれだけで
すか。



ア () イ ()

ウ ()

2 ^{ひだり}左はしから ア、イ、ウ、エまでの ^{なが}長さはそれぞれどれだけで
ですか。



ア () イ ()

ウ () エ ()





長さのたんい 6

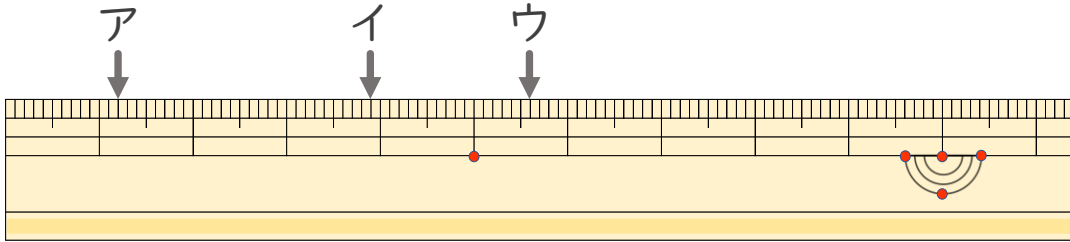
● ものさしの見かた (mm)

13

日にち： 月 日

名まえ _____

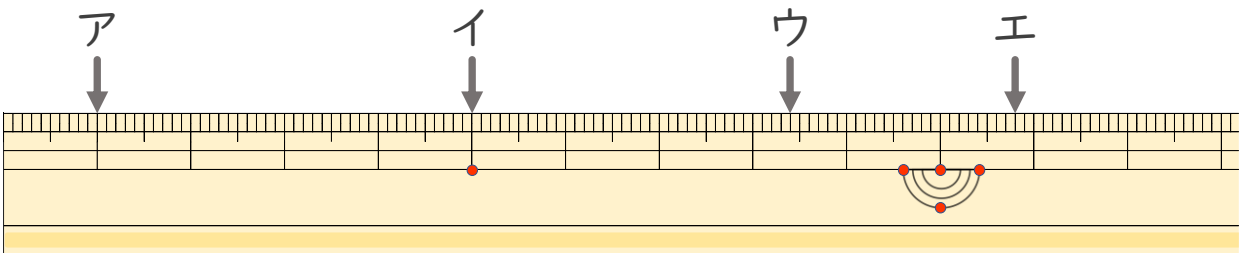
1 ^{ひだり}左はしから ア、イ、ウ、までの ^{なが}長さは それぞれ どれだけで
すか。



ア () イ ()

ウ ()

2 ^{ひだり}左はしから ア、イ、ウ、エまでの ^{なが}長さは それぞれ どれだけで
ですか。



ア () イ ()

ウ () エ ()



長さのたんい 6

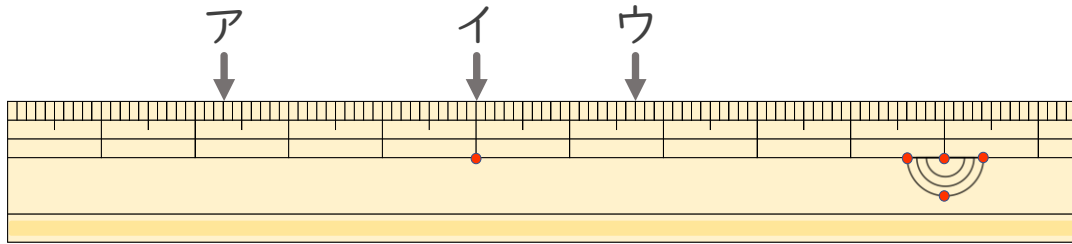
● 物のさしの見かた (mm)

14

日にち： 月 日

名まえ _____

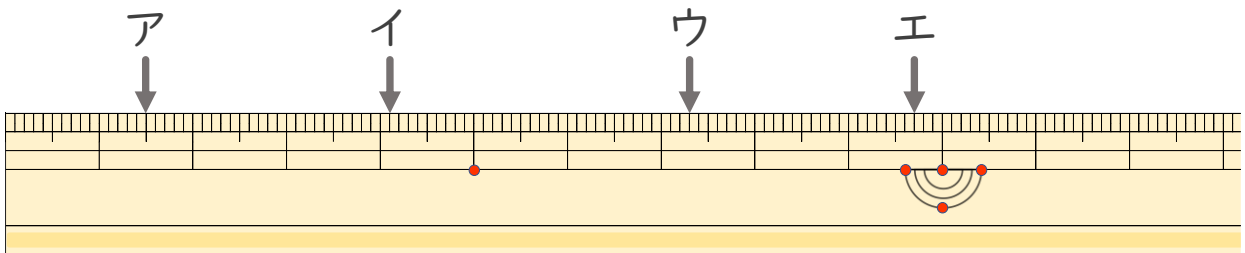
1 ^{ひだり} 左はしから ア、イ、ウ、までの ^{なが} 長さはそれぞれどれだけで
すか。



ア () イ ()

ウ ()

2 ^{ひだり} 左はしから ア、イ、ウ、エまでの ^{なが} 長さはそれぞれどれだけ
ですか。



ア () イ ()

ウ () エ ()



長さのたんい 6

● ものさしの見かた (mm)

15

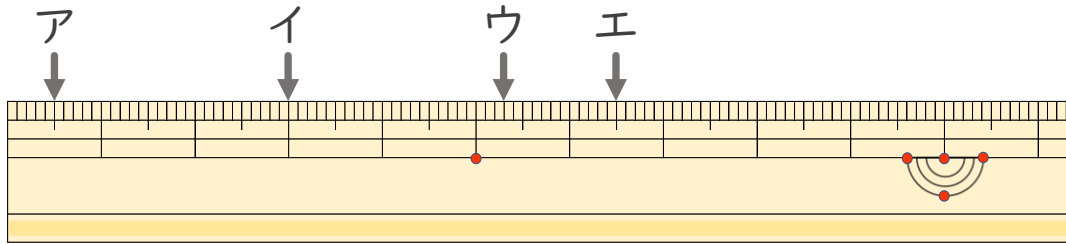
めざせ85点!



てん

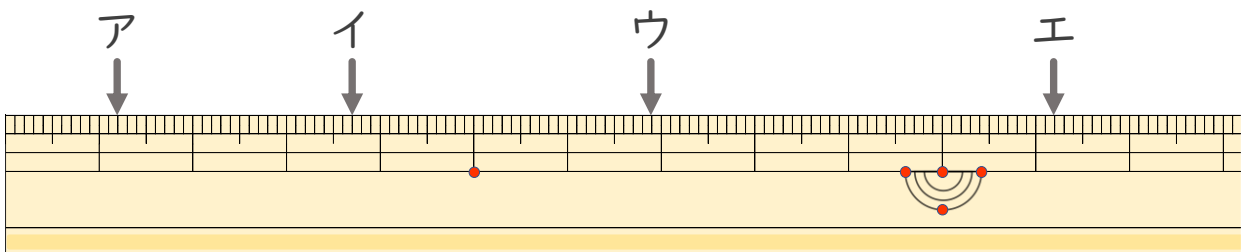
名まえ _____

- 1 左はしからア、イ、ウ、までの長さながはそれぞれどれだけですか。(各10点)
ひだり かく てん



ア () イ ()
ウ () エ ()

- 2 左はしからア、イ、ウ、エまでの長さながはそれぞれどれだけですか。(各15点)
ひだり かく てん



ア () イ ()
ウ () エ ()





長さのたんい 6

● 物のさしの見かた (mm)

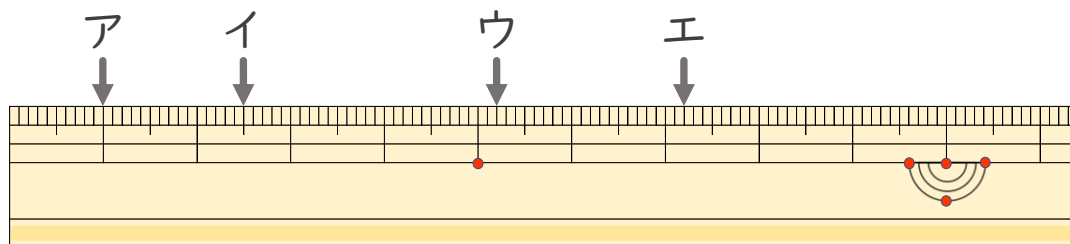
16

めざせ85点!



名まえ _____

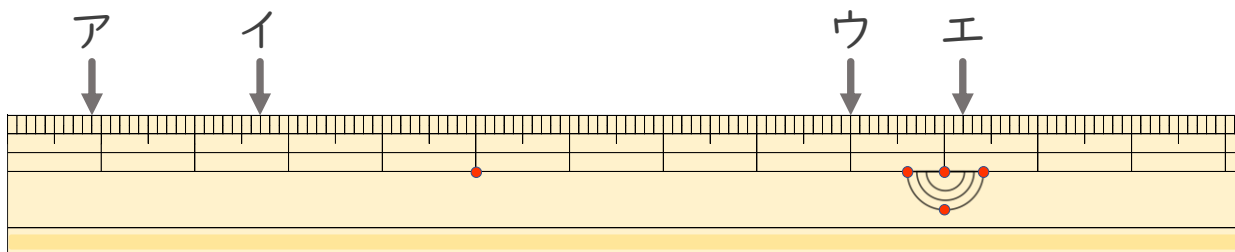
1 ^{ひだり}左はしから ア、イ、ウ、^{なが}までの長さはそれぞれどれだけで
すか。(各10点)



ア () イ ()

ウ () エ ()

2 ^{ひだり}左はしから ア、イ、ウ、エ^{なが}までの長さはそれぞれどれだけで
ですか。(各15点)



ア () イ ()

ウ () エ ()





長さのたんい 6

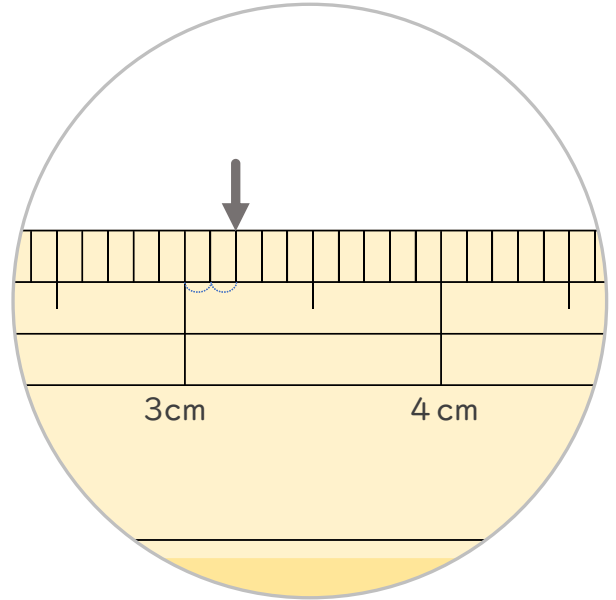
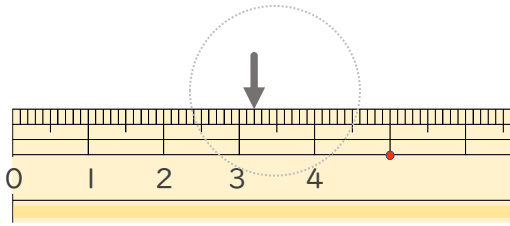
● ものさしの見かた (mm)



日にち： 月 日

名まえ _____

1 左はしから ↓ までの ^{なが}長さは ^{なん}何cm ^{なん}何mm ですか。(うすい字 ^じはなぞりましょう。)

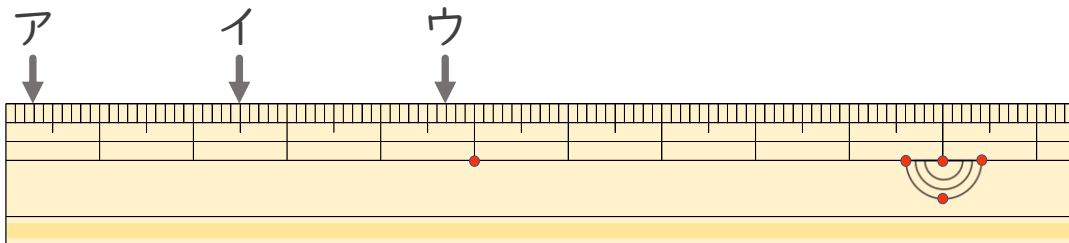


1cmを10に^わ分けた1つ分は ^{ぶん}1mmだね

3cmと、^{ちい}小さいめもりが ^{ぶん}2つ分だから・・・

答え (**3 cm 2 mm**)

2 左はしから ^アア、^イイ、^ウウ、までの ^{なが}長さはそれぞれどれだけで ^じすか。(うすい字はなぞりましょう。)



ア (**3 mm**) イ (**2 cm 5 mm**)

ウ (**4 cm 7 mm**)





長さのたんい 6

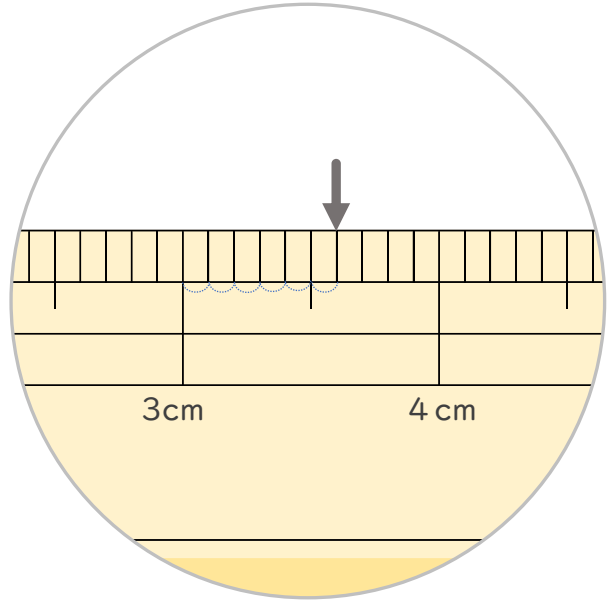
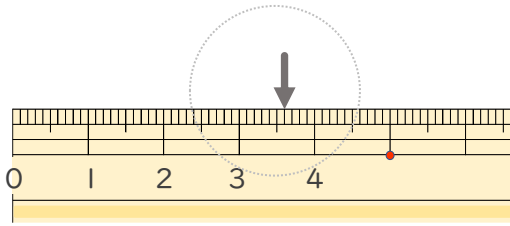
● ものさしの見かた (mm)



日にち： 月 日

名まえ _____

1 左はしから ↓ までの ^{なが}長さは ^{なん}何cm ^{なん}何mm ですか。(うすい字 ^じはなぞりましょう。)

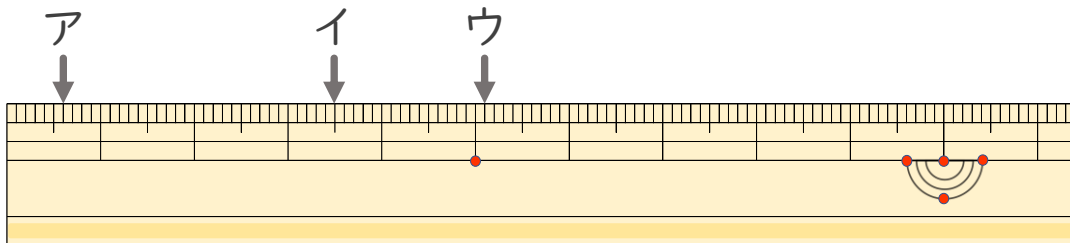


1cmを10に^わ分けた1つ分は ^{ぶん}1mmだね

3cmと、^{ちい}小さいめもりが ^{ぶん}6つ分だから・・・

答え (**3 cm 6 mm**)

2 左はしから ^アア、^イイ、^ウウ、までの ^{なが}長さはそれぞれどれだけで ^じすか。(うすい字はなぞりましょう。)



ア (**6 mm**) イ (**3 cm 5 mm**)

ウ (**5 cm 1 mm**)





長さのたんい 6

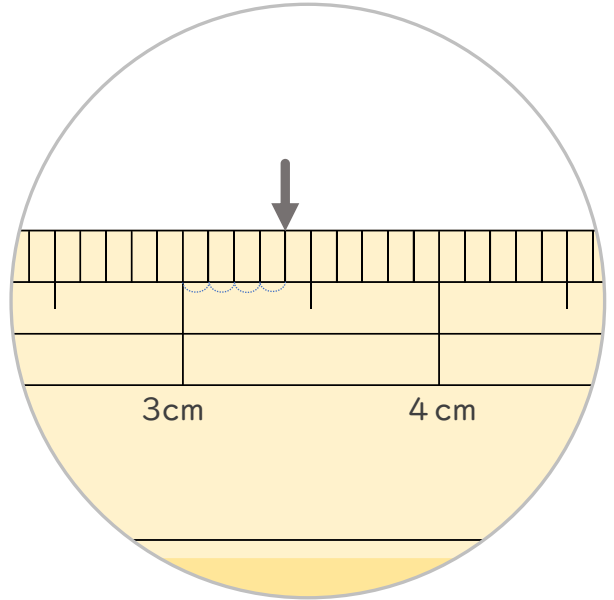
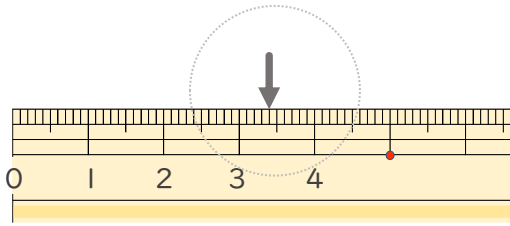
● ものさしの見かた (mm)



日にち： 月 日

名まえ _____

1 左はしから ↓ までの ^{なが}長さは ^{なん}何cm ^{なん}何mm ですか。(うすい字 ^じはなぞりましょう。)

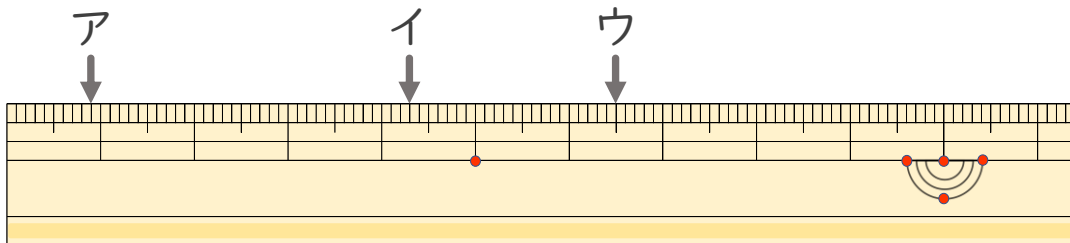


1cmを10に^わ分けた1つ分は ^{ぶん}1mmだね

3cmと、^{ちい}小さいめもりが ^{ぶん}4つ分だから・・・

答え (**3 cm 4 mm**)

2 左はしから ^アア、^イイ、^ウウ、までの ^{なが}長さはそれぞれどれだけで ^{すか}すか。



ア (**9 mm**) イ (**4 cm 3 mm**)

ウ (**6 cm 5 mm**)





長さのたんい 6

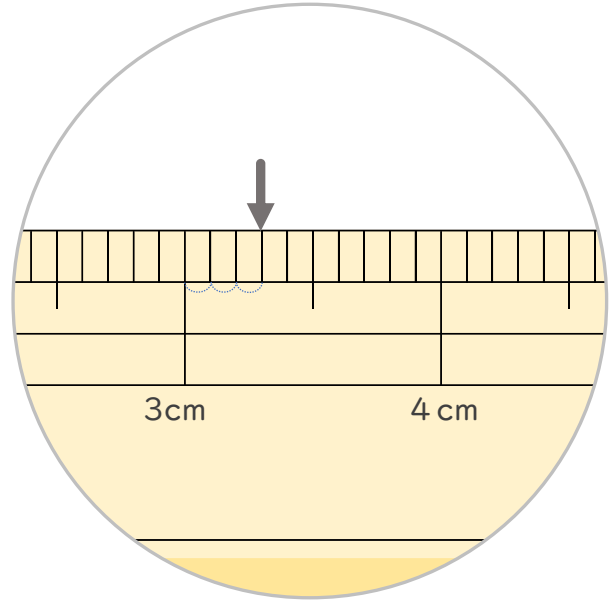
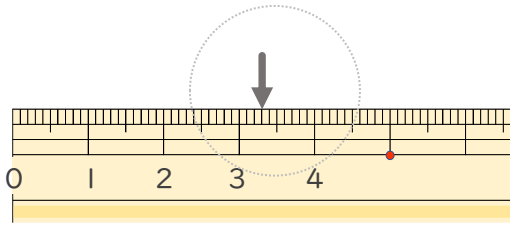
● ものさしの見かた (mm)



日にち： 月 日

名まえ _____

1 左はしから ↓ までの ^{なが}長さは ^{なん}何cm ^{なん}何mm ですか。(うすい字 ^じはなぞりましょう。)

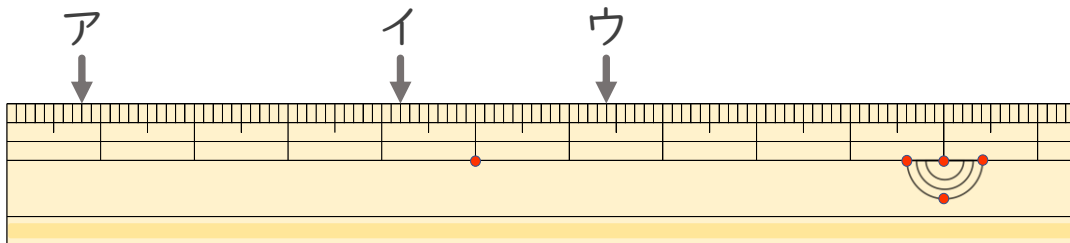


1cmを10に^わ分けた1つ分は ^{ぶん}1mmだね

3cmと、^{ちい}小さいめもりが ^{ぶん}4つ分だから・・・

答え (**3 cm 3 mm**)

2 左はしから ^{ひだり}ア、イ、ウ、までの ^{なが}長さはそれぞれどれだけで ^{すか}すか。



ア (**8 mm**) イ (**4 cm 2 mm**)

ウ (**6 cm 4 mm**)





長さのたんい 6

● ものさしの見かた (mm)

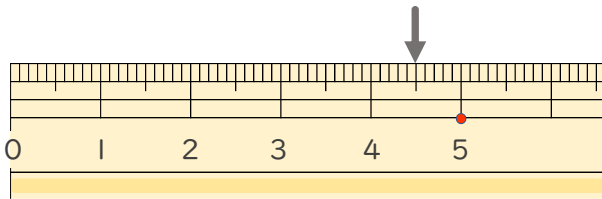


日にち： 月 日

名まえ _____

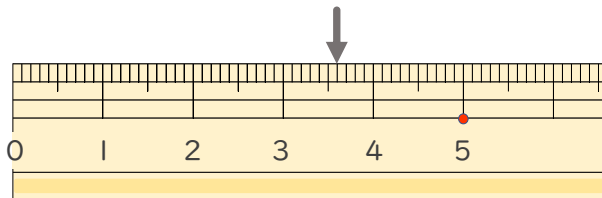
1 ^{ひだり} 左はしから ↓ までの ^{なが} 長さは ^{なん} 何cm ^{なん} 何mm ですか。(うすい字 ^じ はなぞりましょう。)

①



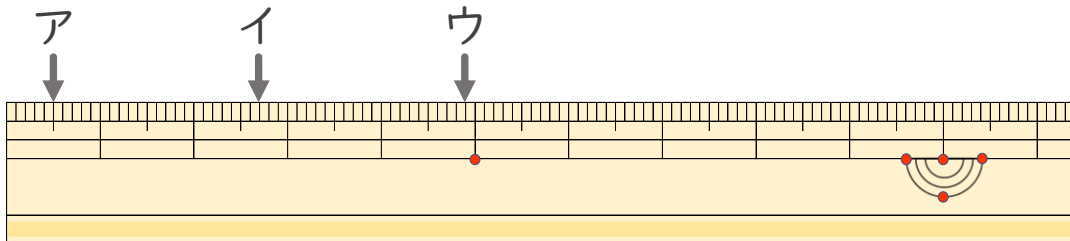
答え (4 cm 5 mm)

②



答え (3 mm 6 mm)

2 ^{ひだり} 左はしから ア、イ、ウ、までの ^{なが} 長さはそれぞれどれだけで
すか。



ア (5 mm) イ (2 cm 7 mm)

ウ (4 cm 9 mm)





長さのたんい 6

● ものさしの見かた (mm)

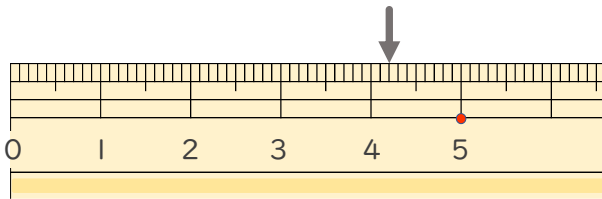


日にち： 月 日

名まえ _____

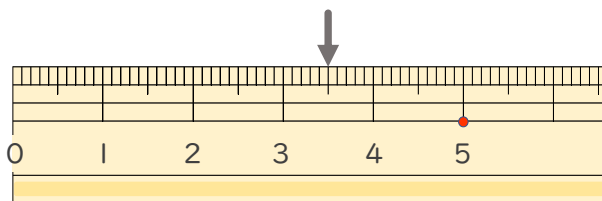
1 ^{ひだり} 左はしから ↓ までの ^{なが} 長さは ^{なん} 何cm ^{なん} 何mm ですか。(うすい字 ^じ はなぞりましょう。)

①



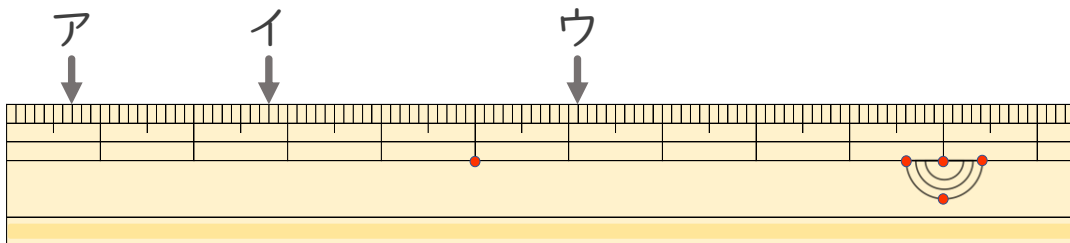
答え (4 cm 2 mm)

②



答え (3 cm 5 mm)

2 ^{ひだり} 左はしから ア、イ、ウ、までの ^{なが} 長さはそれぞれどれだけで
すか。



ア (7 mm) イ (2 cm 8 mm)

ウ (6 cm 1 mm)





長さのたんい 6

● ものさしの見かた (mm)

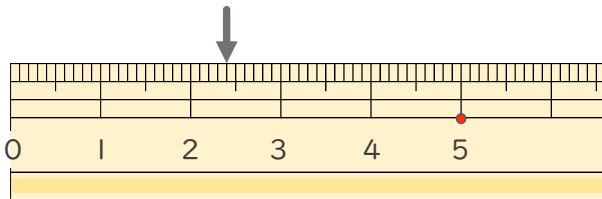


日にち： 月 日

名まえ _____

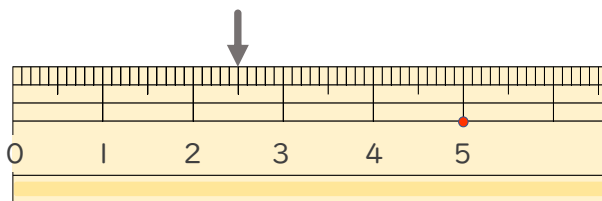
1 ^{ひだり} 左はしから ↓ までの ^{なが} 長さは ^{なん} 何cm ^{なん} 何mm ですか。(うすい字 ^じ はなぞりましょう。)

①



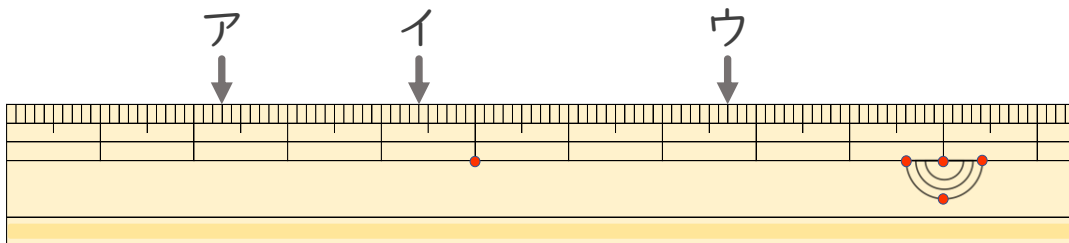
答え (2 cm 4 mm)

②



答え (2 cm 5 mm)

2 ^{ひだり} 左はしから ア、イ、ウ、までの ^{なが} 長さはそれぞれどれだけで
すか。



ア (2 cm 3 mm) イ (4 cm 4 mm)

ウ (7 cm 7 mm)





長さのたんい 6

● ものさしの見かた (mm)

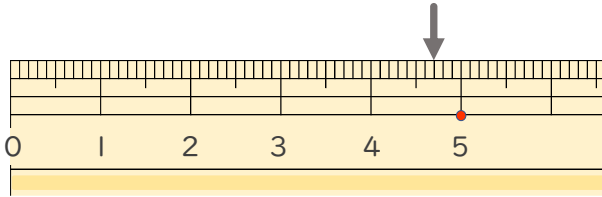


日にち： 月 日

名まえ _____

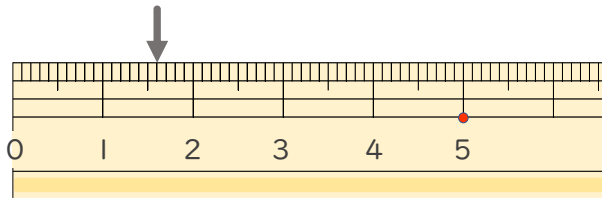
1 ^{ひだり} 左はしから ^{なが} ↓ までの ^{なん} 長さは ^{なん} 何cm何mm ですか。

①



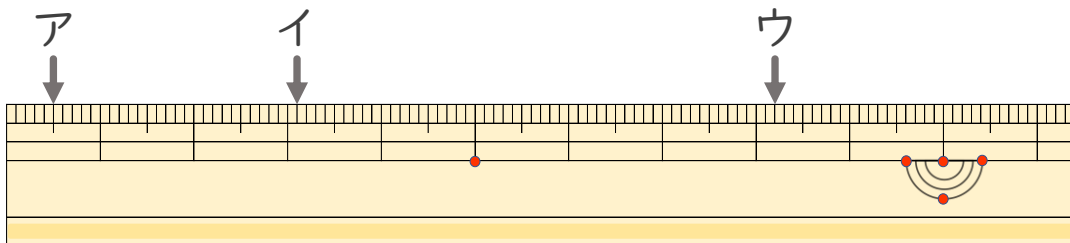
答え (4 cm 7 mm)

②



答え (1 cm 6 mm)

2 ^{ひだり} 左はしから ア、イ、ウ、までの ^{なが} 長さは それぞれ どれだけで ですか。



ア (5 mm) イ (3 cm 1 mm)

ウ (8 cm 2 mm)





長さのたんい 6

● 物のさしの見かた (mm)

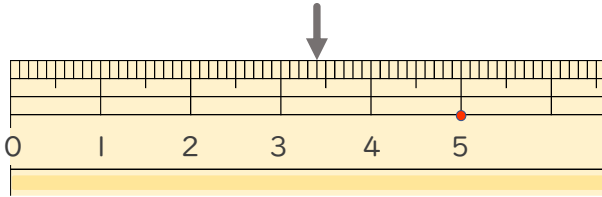


日にち： 月 日

名まえ _____

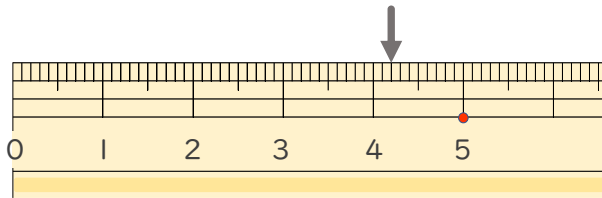
1 ^{ひだり}左はしから ^{なが} ↓ までの ^{なん}長さは ^{なん}何cm何mm ですか。

①



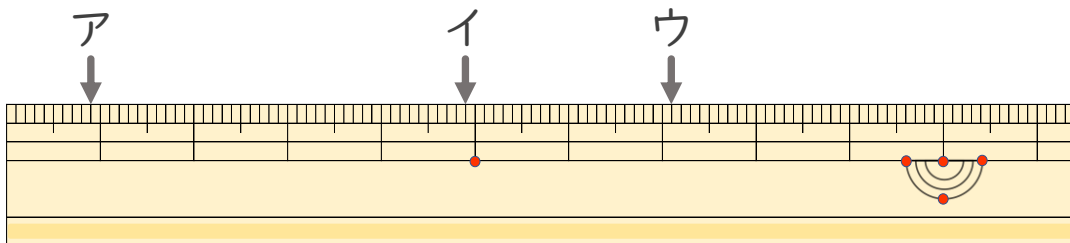
答え (3 cm 4 mm)

②



答え (4 cm 2 mm)

2 ^{ひだり}左はしから ア、イ、ウ、までの ^{なが}長さは それぞれ どれだけで ですか。



ア (9 mm) イ (4 cm 9 mm)

ウ (7 cm 1 mm)





長さのたんい 6

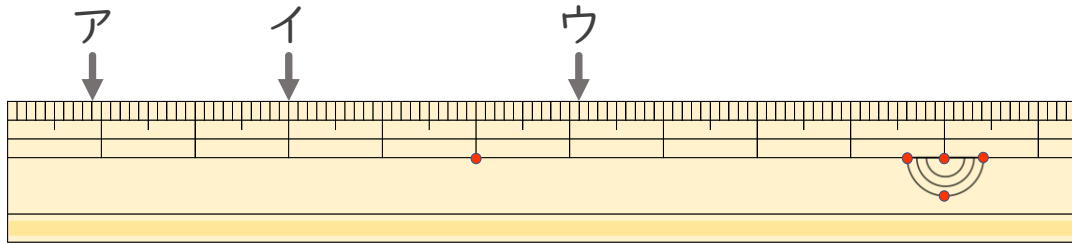
● ものさしの見かた (mm)



日にち： 月 日

名まえ _____

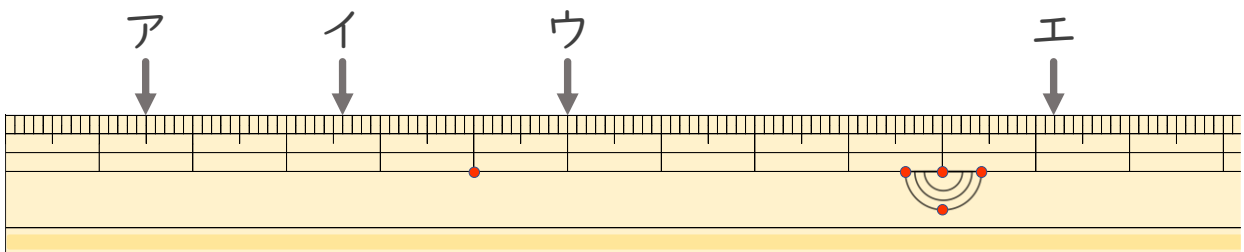
1 ^{ひだり} 左はしから ア、イ、ウ、までの ^{なが} 長さは それぞれ どれだけで
すか。



ア (9 mm) イ (3 cm)

ウ (6 cm 1 mm)

2 ^{ひだり} 左はしから ア、イ、ウ、エまでの ^{なが} 長さは それぞれ どれだけ
ですか。



ア (1 cm 5 mm) イ (3 cm 6 mm)

ウ (6 cm) エ (11 cm 2 mm)





長さのたんい 6

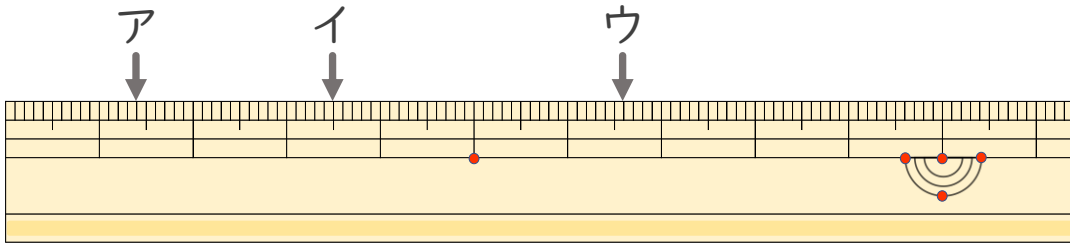
● 物のさしの見かた (mm)



日にち： 月 日

名まえ _____

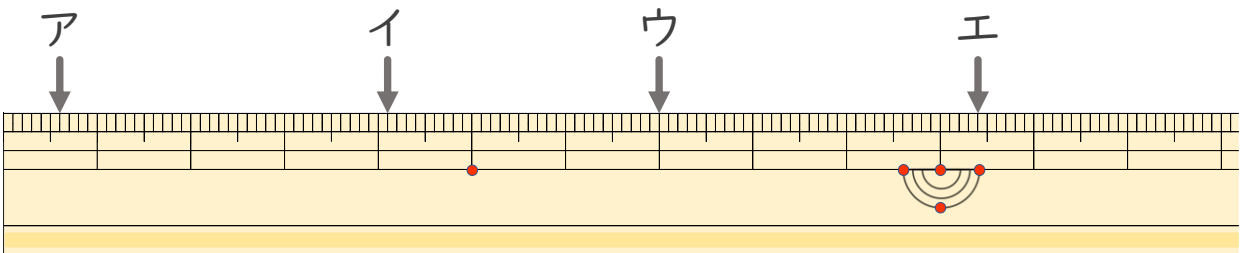
1 ^{ひだり} 左はしから ア、イ、ウ、までの ^{なが} 長さはそれぞれどれだけで
すか。



ア (1 cm 4 mm) イ (3 cm 5 mm)

ウ (6 cm 6 mm)

2 ^{ひだり} 左はしから ア、イ、ウ、エまでの ^{なが} 長さはそれぞれどれだけ
ですか。



ア (6 mm) イ (4 cm 1 mm)

ウ (7 cm) エ (10 cm 4 mm)



長さのたんい 6

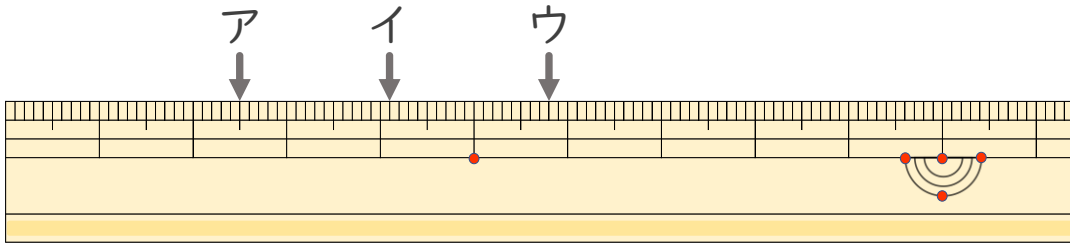
● 物のさしの見かた (mm)

12

日にち： 月 日

名まえ _____

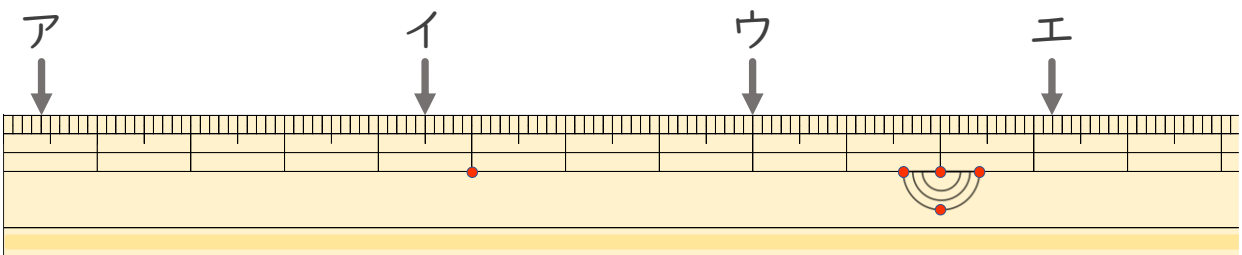
1 ^{ひだり} 左はしから ア、イ、ウ、までの ^{なが} 長さはそれぞれどれだけで
すか。



ア (2 cm 5 mm) イ (4 cm 1 mm)

ウ (5 cm 8 mm)

2 ^{ひだり} 左はしから ア、イ、ウ、エまでの ^{なが} 長さはそれぞれどれだけで
ですか。



ア (4 mm) イ (4 cm 5 mm)

ウ (8 cm) エ (11 cm 2 mm)



長さのたんい 6

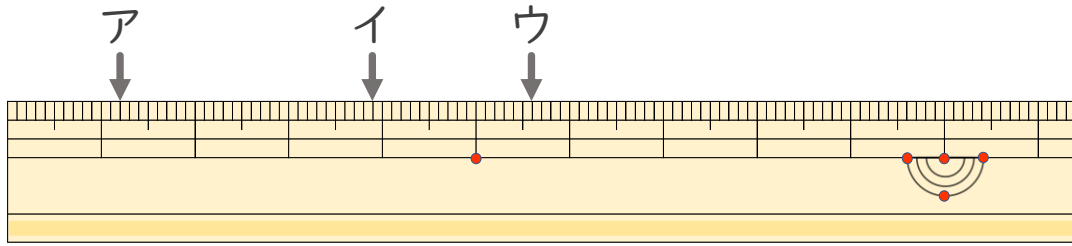
● 物のさしの見かた (mm)

13

日にち： 月 日

名まえ _____

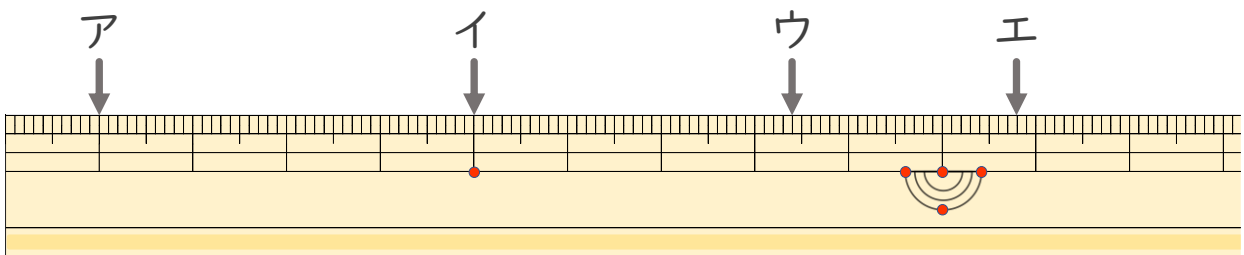
1 ^{ひだり}左はしから ア、イ、ウ、までの ^{なが}長さはそれぞれどれだけで
すか。



ア (1 cm 2 mm) イ (3 cm 9 mm)

ウ (5 cm 6 mm)

2 ^{ひだり}左はしから ア、イ、ウ、エまでの ^{なが}長さはそれぞれどれだけで
ですか。



ア (1 cm) イ (5 cm)

ウ (8 cm 4 mm) エ (10 cm 8 mm)





長さのたんい 6

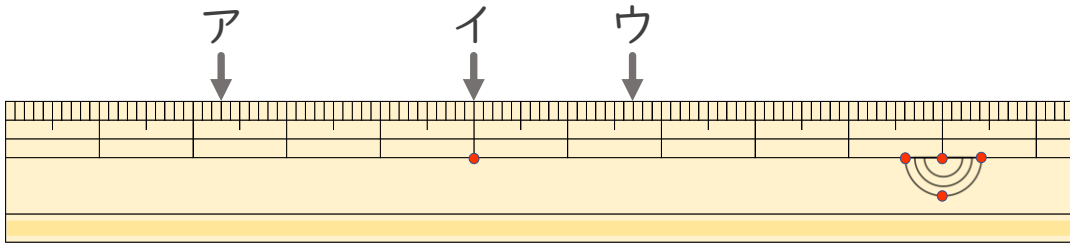
● 物のさしの見かた (mm)

14

日にち： 月 日

名まえ _____

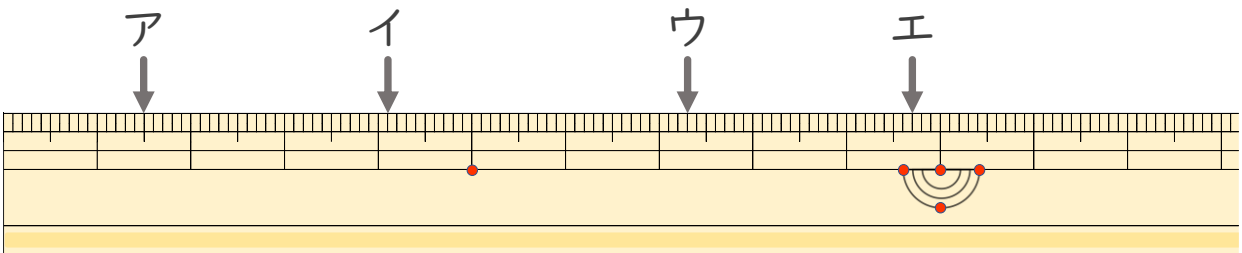
1 ^{ひだり} 左はしから ア、イ、ウ、までの ^{なが} 長さは それぞれ どれだけで
すか。



ア (2 cm 3 mm) イ (5 cm)

ウ (6 cm 7 mm)

2 ^{ひだり} 左はしから ア、イ、ウ、エまでの ^{なが} 長さは それぞれ どれだけで
ですか。



ア (1 cm 5 mm) イ (4 cm 1 mm)

ウ (7 cm 3 mm) エ (9 cm 7 mm)



長さのたんい 6

● ものさしの見かた (mm)

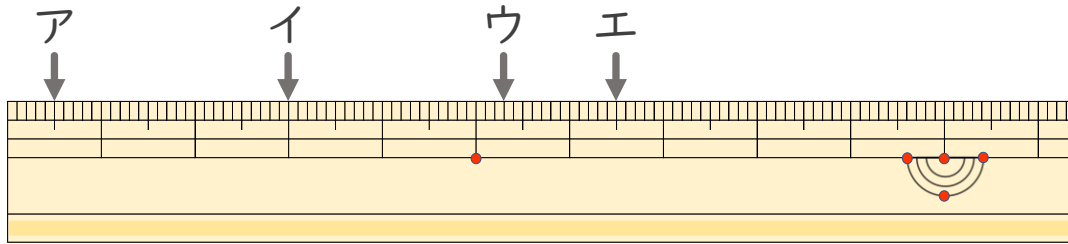
15

めざせ85点!



名まえ _____

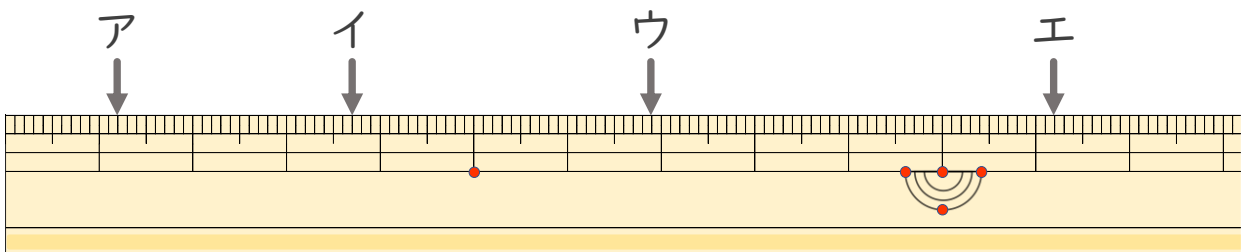
1 ^{ひだり}左はしから ア、イ、ウ、^{なが}までの長さはそれぞれどれだけで
すか。(各10点)



ア (5 mm) イ (3 cm)

ウ (5 cm 3 mm) エ (6 cm 5 mm)

2 ^{ひだり}左はしから ア、イ、ウ、エ^{なが}までの長さはそれぞれどれだけで
ですか。(各15点)



ア (1 cm 2 mm) イ (3 cm 7 mm)

ウ (6 cm 9 mm) エ (11 cm 2 mm)





長さのたんい 6

● ものさしの見かた (mm)

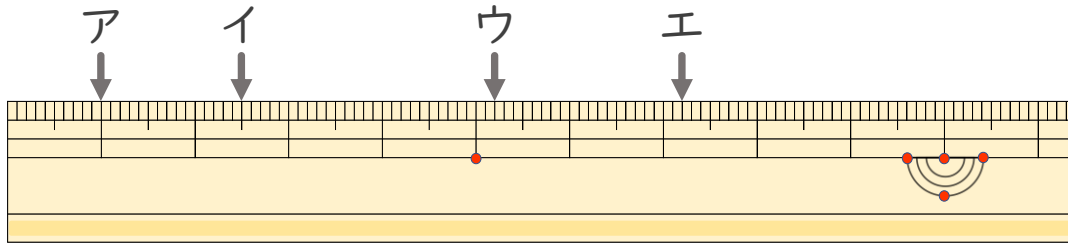
16

めざせ85点!



名まえ _____

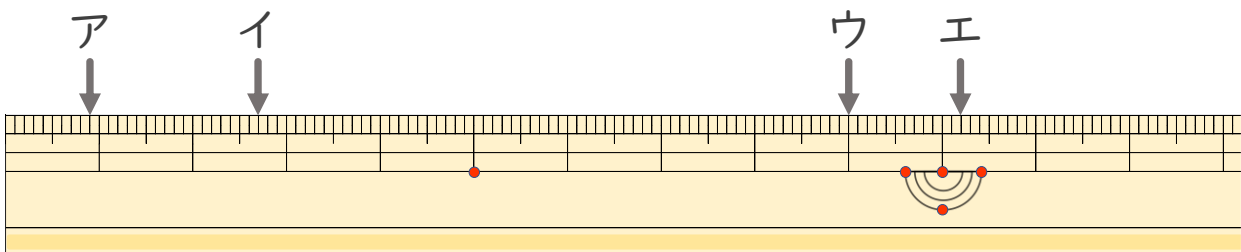
1 ^{ひだり}左はしから ア、イ、ウ、^{なが}までの長さはそれぞれどれだけで
すか。(各10点)



ア (1 cm) イ (2 cm 5 mm)

ウ (5 cm 2 mm) エ (7 cm 2 mm)

2 ^{ひだり}左はしから ア、イ、ウ、エ^{なが}までの長さはそれぞれどれだけで
ですか。(各15点)



ア (9 mm) イ (2 cm 7 mm)

ウ (9 cm) エ (10 cm 2 mm)

