



# 長さのたんい 7

● ものさしではかる (mm)

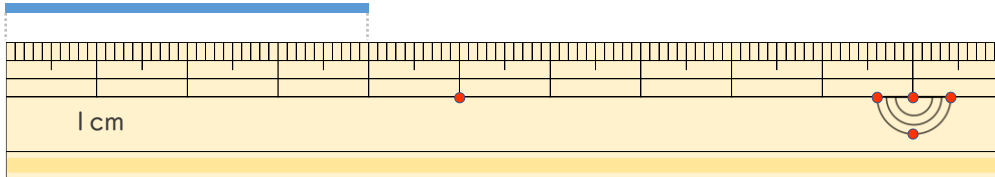


日にち：            月            日

名まえ \_\_\_\_\_

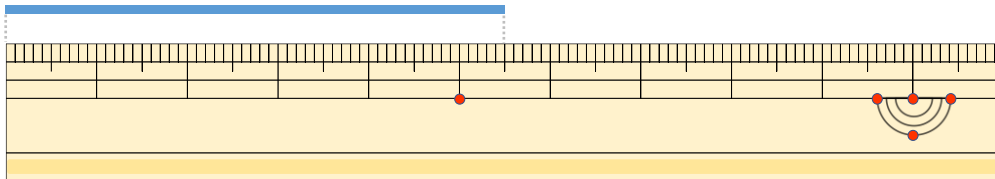
・線の長さはどれだけですか。(うすい字はなぞりましょう。)

①



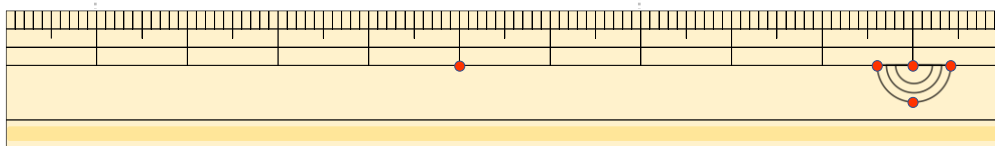
こた 答え ( 4 cm )

②



こた 答え ( 5 cm 5 mm )

③



こた 答え (            cm )





# 長さのたんい 7

● ものさしではかる (mm)

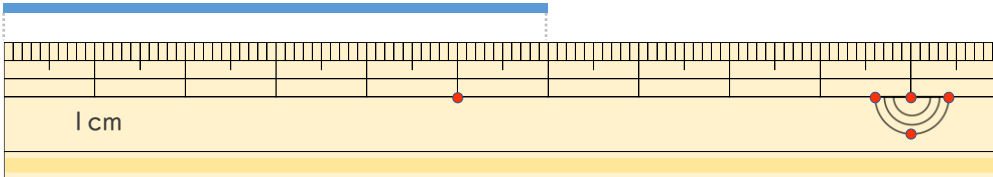
# 2

日にち：          月          日

名まえ \_\_\_\_\_

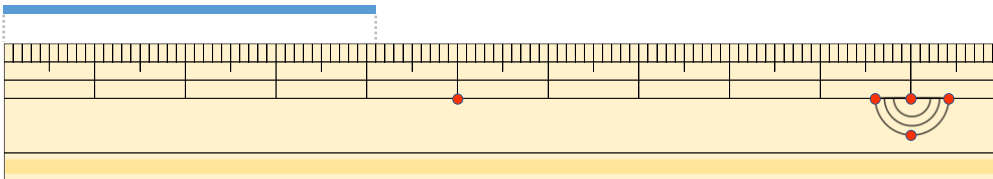
・ 線の <sup>せん</sup>長さ <sup>なが</sup>は どれ <sup>じ</sup>だけ ですか。 (うすい字は なぞりましよう。)

①



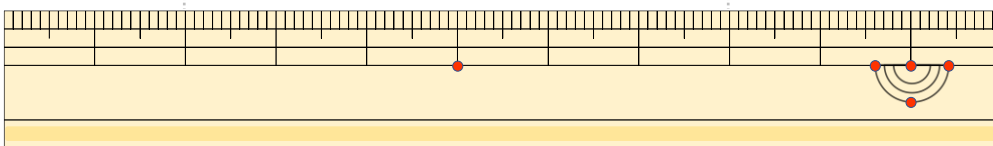
こた 答え (          6 cm          )

②



こた 答え (    )

③



こた 答え (    )



# 長さのたんい 7

● ものさしではかる (mm)

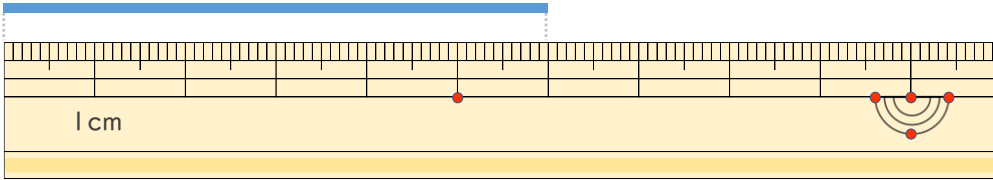


日にち：            月            日

名まえ \_\_\_\_\_

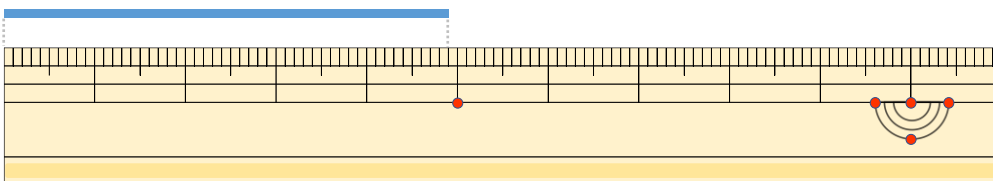
・線の長さはどれだけですか。(うすい字はなぞりましょう。)

①



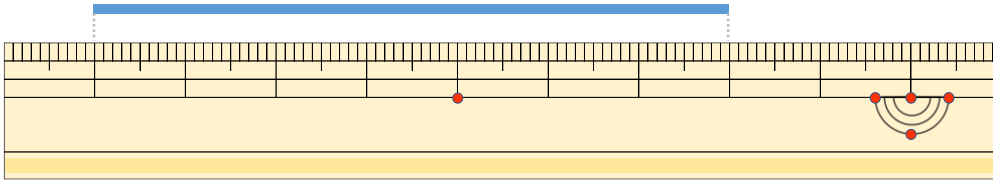
答え (            cm )

②



答え (            )

③



答え (            )



# 長さのたんい 7

● ものさしではかる (mm)

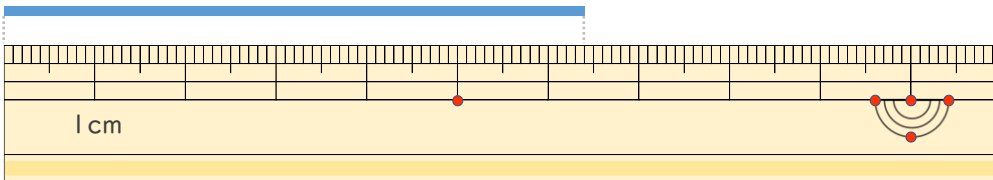


日にち： 月 日

名まえ \_\_\_\_\_

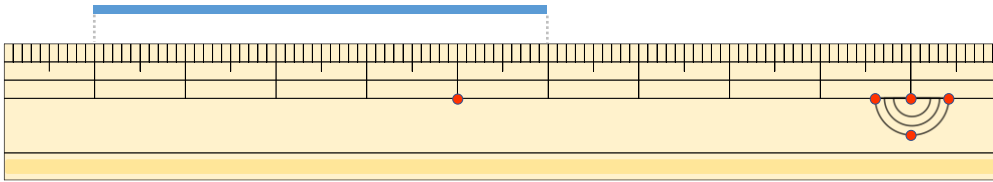
・線の長さはどれだけですか。(うすい字はなぞりましょう。)

①



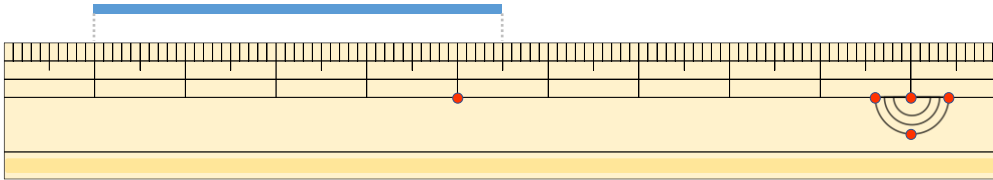
こた  
答え (        cm        mm )

②



こた  
答え (        )

③



こた  
答え (        )



# 長さのたんい 7

● 物のさしではかる (mm)

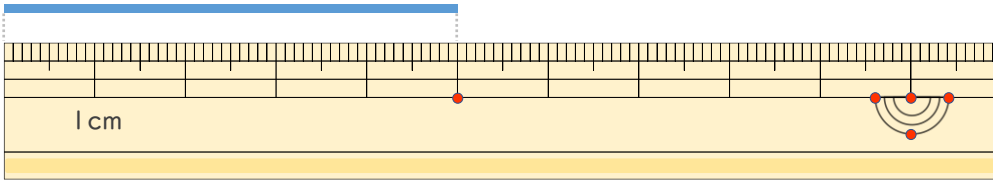


日にち：       月       日

名まえ \_\_\_\_\_

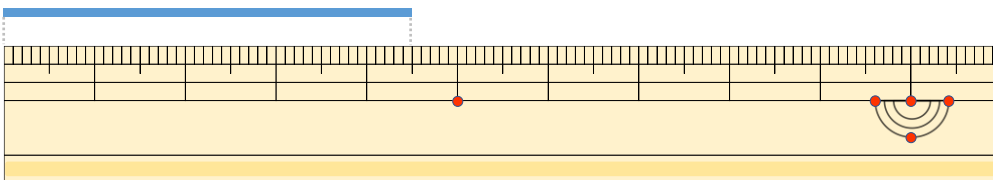
せん なが  
・線の長さはどれだけですか。

①



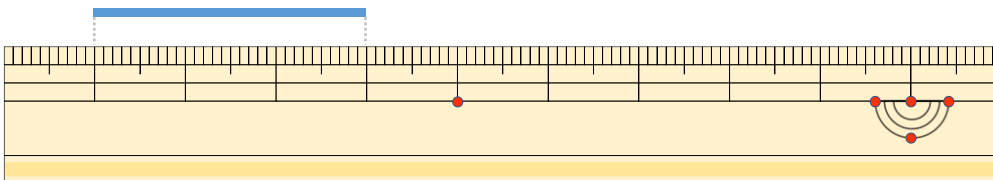
こた  
答え (                      )

②



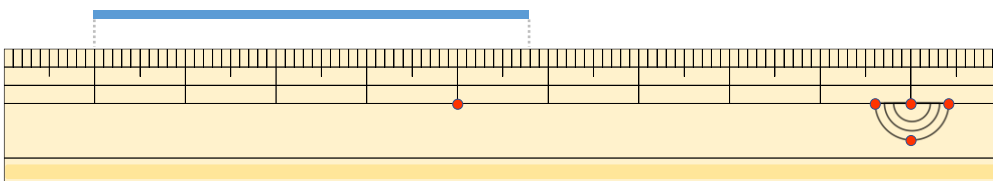
こた  
答え (                      )

③



こた  
答え (                      )

④



こた  
答え (                      )





# 長さのたんい 7

● ものさしではかる (mm)

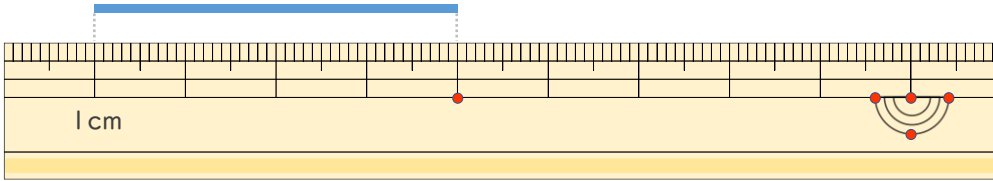


日にち：            月            日

名まえ \_\_\_\_\_

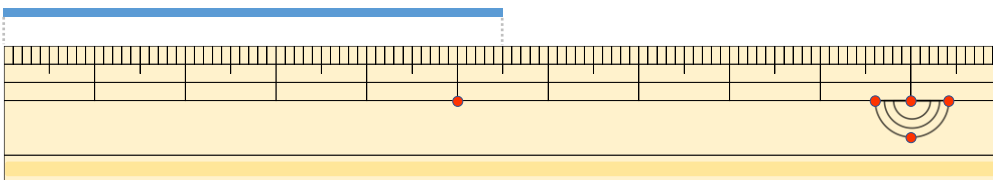
せん      なが  
・線の長さはどれだけですか。

①



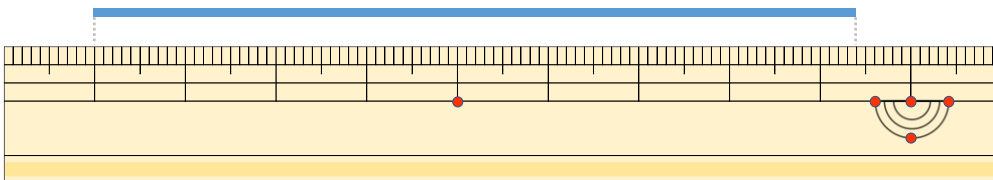
こた  
答え (                      )

②



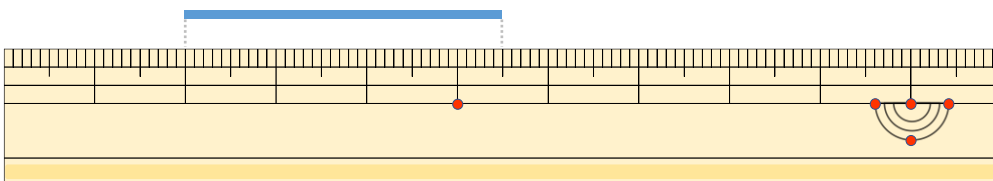
こた  
答え (                      )

③



こた  
答え (                      )

④



こた  
答え (                      )





# 長さのたんい 7

● ものさしではかる (mm)

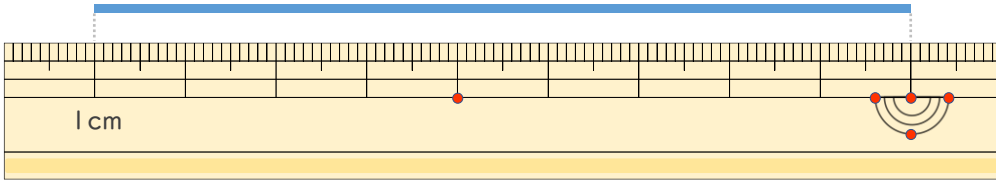


日にち： 月 日

名まえ \_\_\_\_\_

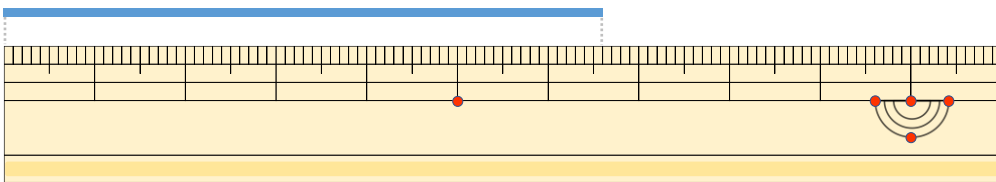
せん なが  
・線の長さはどれだけですか。

①



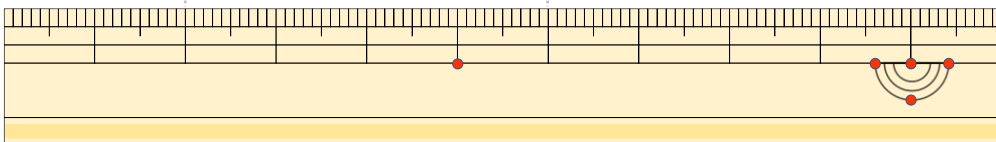
こた  
答え ( )

②



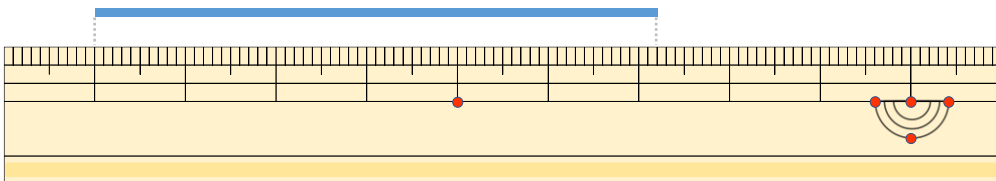
こた  
答え ( )

③



こた  
答え ( )

④



こた  
答え ( )



# 長さのたんい 7

● ものさしではかる (mm)

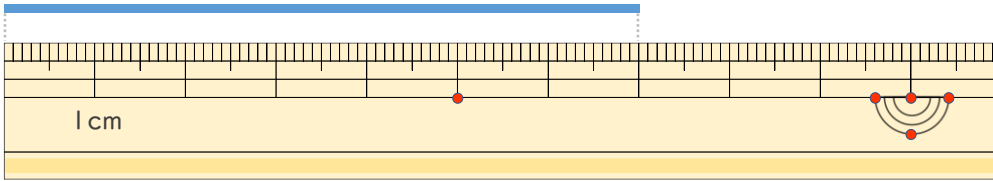


日にち：            月            日

名まえ \_\_\_\_\_

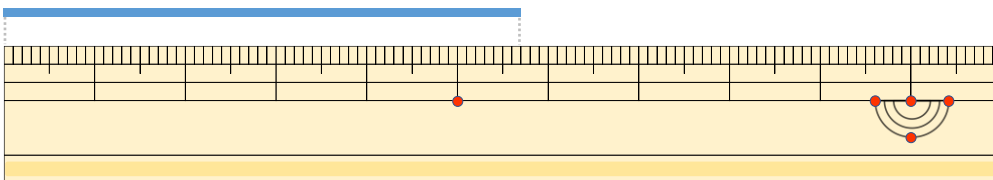
せん      なが  
・線の長さはどれだけですか。

①



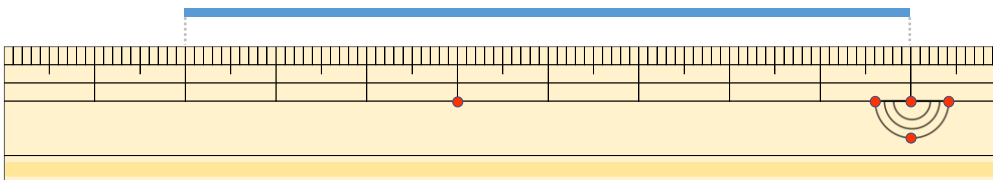
こた  
答え (                      )

②



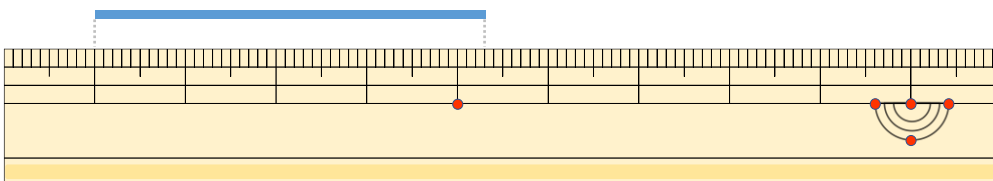
こた  
答え (                      )

③



こた  
答え (                      )

④



こた  
答え (                      )







# 長さのたんい 7

● ものさしではかる (mm)

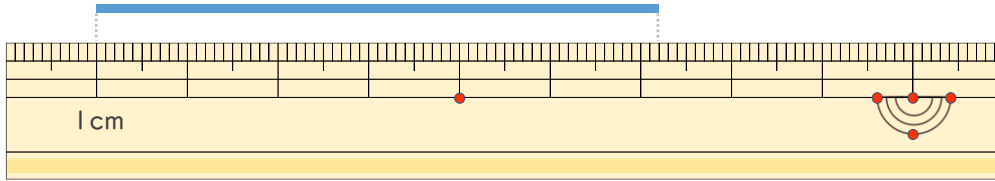


日にち：            月            日

名まえ \_\_\_\_\_

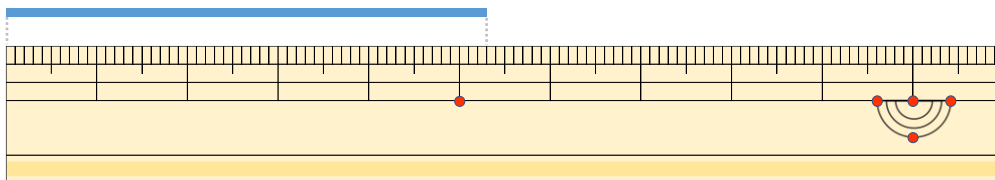
せん なが  
・線の長さはどれだけですか。

①



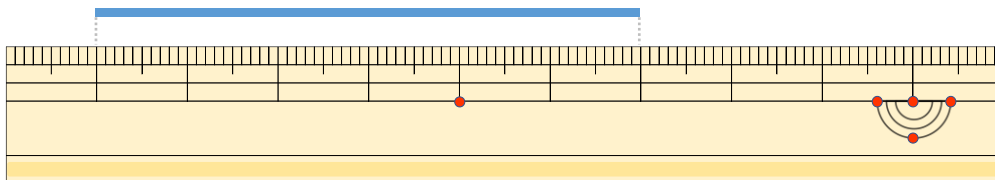
こた  
答え (            )

②



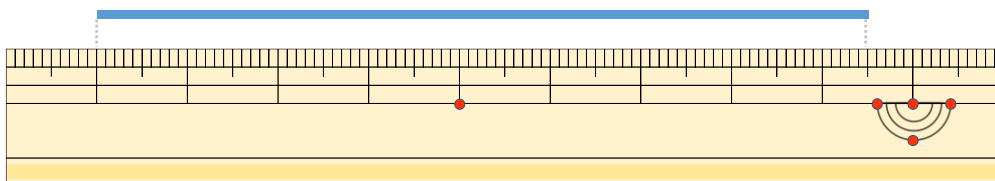
こた  
答え (            )

③



こた  
答え (            )

④



こた  
答え (            )





# 長さのたんい 7

● ものさしではかる (mm)

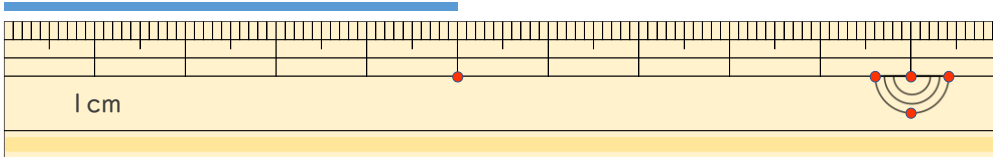


日にち：          月          日

名まえ \_\_\_\_\_

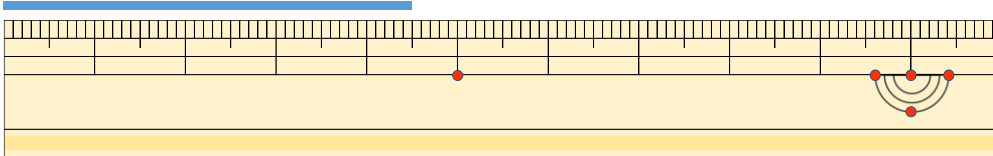
1 線の <sup>せん</sup>長さ <sup>なが</sup>は どれだけですか。

①



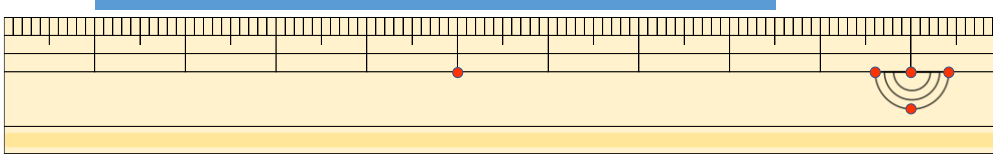
こた 答え (                      )

②



こた 答え (                      )

③



こた 答え (                      )

2 線の <sup>せん</sup>長さ <sup>なが</sup>を ものさしではかりましょう。

①



こた 答え (                      )

②



こた 答え (                      )



# 長さのたんい 7

● ものさしではかる (mm)

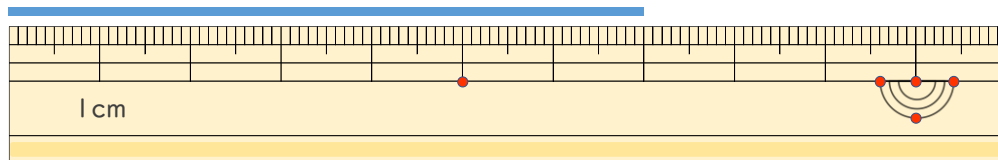


日にち：            月            日

名まえ \_\_\_\_\_

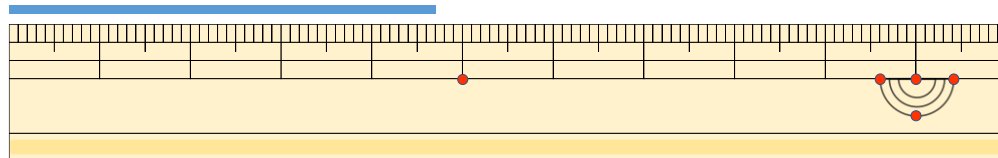
1 せん なが 線の 長さは どれだけですか。

①



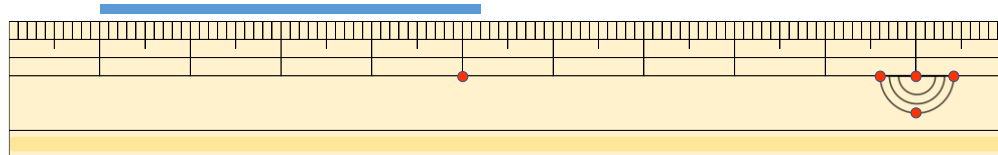
こた  
答え (            )

②



こた  
答え (            )

③



こた  
答え (            )

2 せん なが 線の 長さを ものさしではかりましょう。

①



こた  
答え (            )

②



こた  
答え (            )





# 長さのたんい 7

● ものさしではかる (mm)

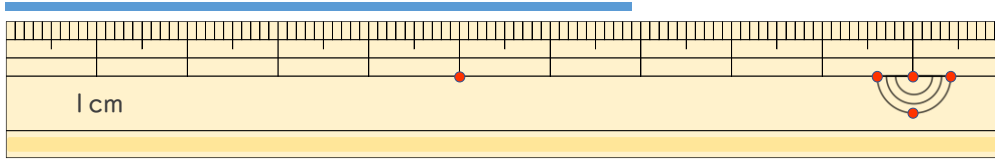
12

日にち：            月            日

名まえ \_\_\_\_\_

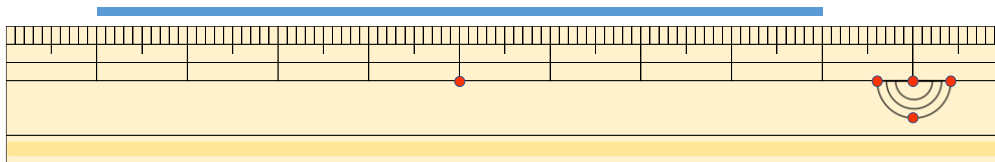
1 <sup>せん</sup>線の <sup>なが</sup>長さは どれだけですか。

①



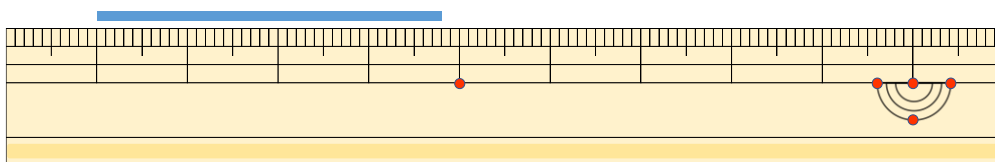
こた 答え (            )

②



こた 答え (            )

③



こた 答え (            )

2 <sup>せん</sup>線の <sup>なが</sup>長さを ものさしではかりましょう。

①



こた 答え (            )

②



こた 答え (            )





# 長さのたんい 7

● ものさしではかる (mm)

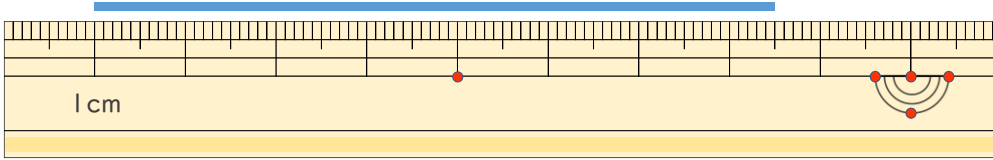
13

日にち：            月            日

名まえ \_\_\_\_\_

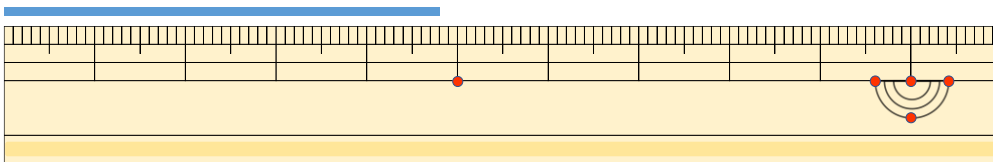
1 <sup>せん</sup>線の <sup>なが</sup>長さは どれだけですか。

①



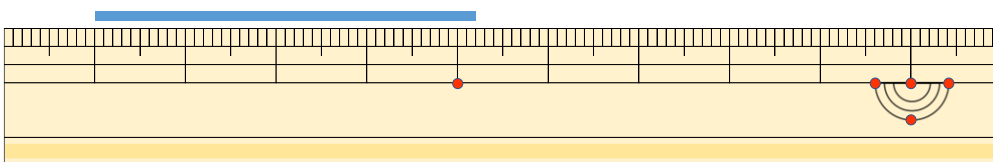
<sup>こた</sup>答え (            )

②



<sup>こた</sup>答え (            )

③



<sup>こた</sup>答え (            )

2 <sup>せん</sup>線の <sup>なが</sup>長さを ものさしではかりましょう。

①



<sup>こた</sup>答え (            )

②



<sup>こた</sup>答え (            )





# 長さのたんい 7

● ものさしではかる (mm)

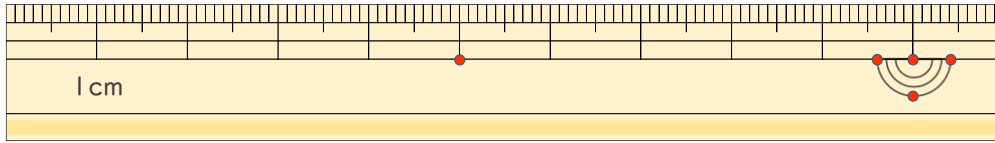
14

日にち：            月            日

名まえ \_\_\_\_\_

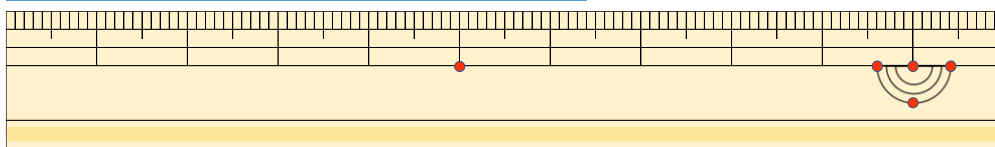
1 <sup>せん</sup>線の <sup>なが</sup>長さは どれだけですか。

①



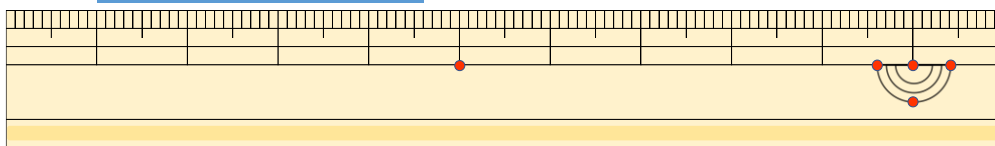
<sup>こた</sup>答え (            )

②



<sup>こた</sup>答え (            )

③



<sup>こた</sup>答え (            )

2 <sup>せん</sup>線の <sup>なが</sup>長さを ものさしではかりましょう。

①



<sup>こた</sup>答え (            )

②



<sup>こた</sup>答え (            )



# 長さのたんい 7

● ものさしではかる (mm)

15

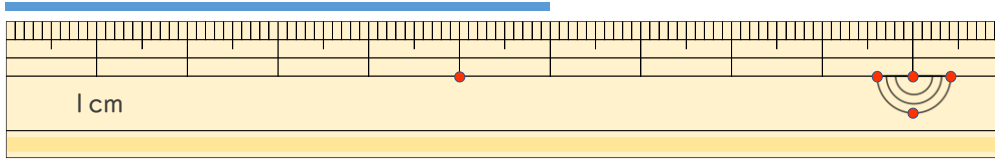
めざせ80点!



名まえ \_\_\_\_\_

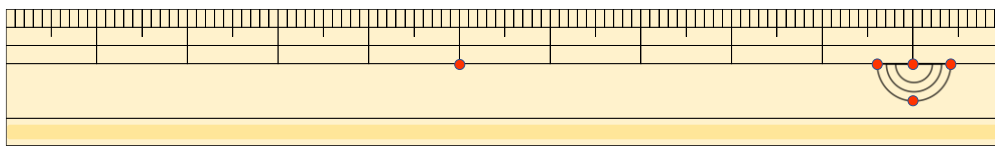
1 線の <sup>せん</sup>長さ <sup>なが</sup>は <sup>かく</sup>どれ <sup>てん</sup>だけですか。(各20点)

①



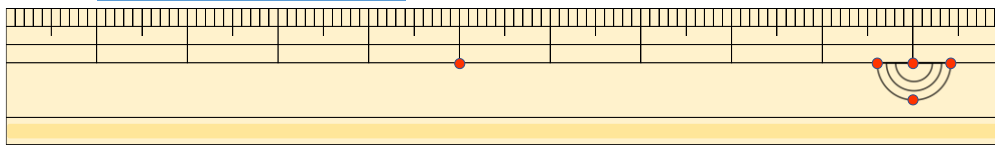
こた 答え ( )

②



こた 答え ( )

③



こた 答え ( )

2 線の <sup>せん</sup>長さ <sup>なが</sup>を <sup>かく</sup>もの <sup>てん</sup>さしではかりましよう。(各20点)

①



こた 答え ( )

②



こた 答え ( )



# 長さのたんい 7

● ものさしではかる (mm)

16

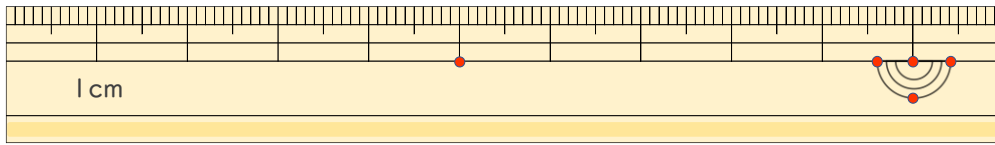
めざせ80点!



名まえ \_\_\_\_\_

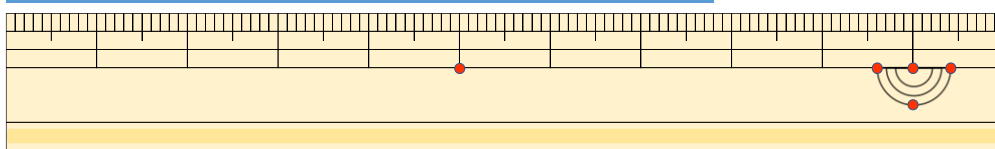
1 線の長さはどれだけですか。(各20点)

①



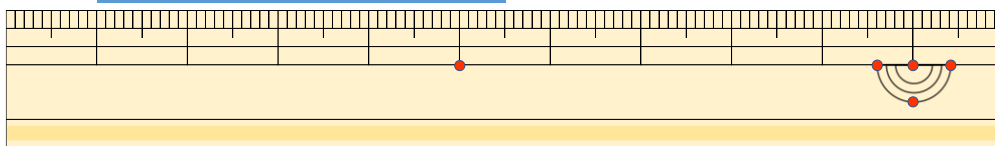
答え ( )

②



答え ( )

③



答え ( )

2 線の長さをものさしではかりましょう。(各20点)

①



答え ( )

②



答え ( )







# 長さのたんい 7

● ものさしではかる (mm)

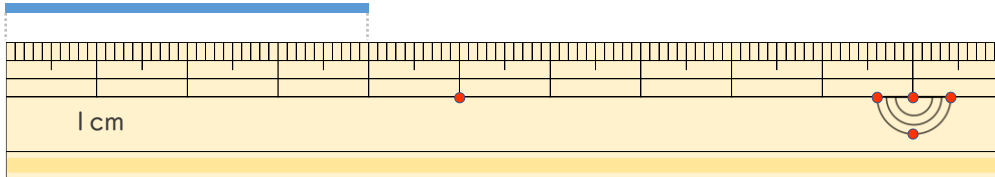


日にち：            月            日

名まえ \_\_\_\_\_

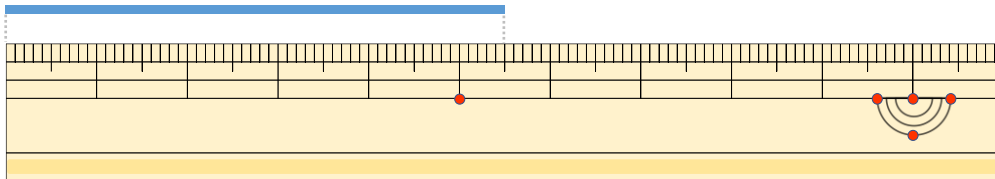
・線の長さは何センチですか。(うすい字はなぞりましょう。)

①



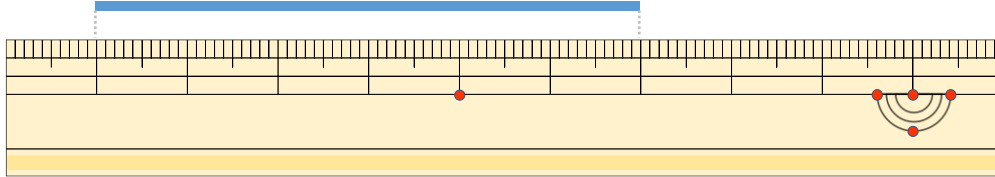
こた 答え ( 4 cm )

②



こた 答え ( 5 cm 5 mm )

③



こた 答え ( 6 cm )





# 長さのたんい 7

● ものさしではかる (mm)

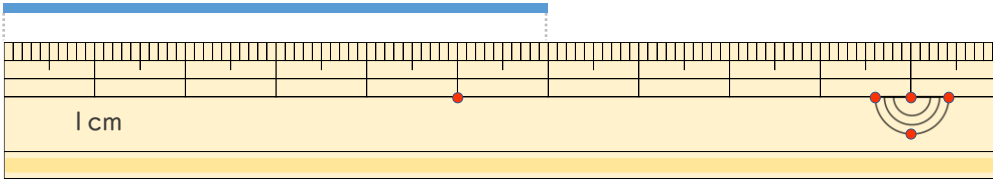


日にち：            月            日

名まえ \_\_\_\_\_

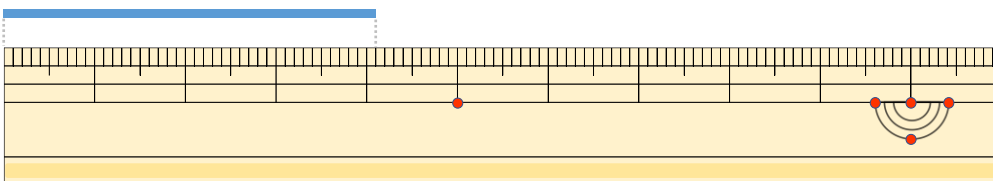
・線の <sup>せん</sup>長さ <sup>なが</sup>は どれ <sup>じ</sup>だけ ですか。(うすい字は なぞりましよう。)

①



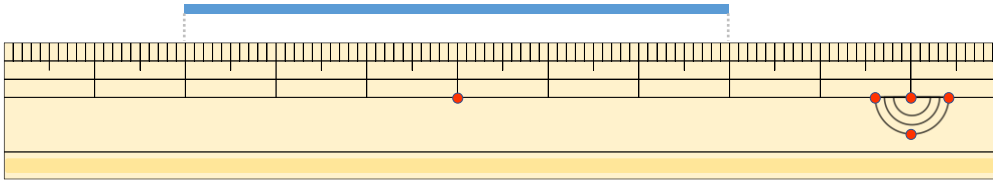
こた 答え ( 6 cm )

②



こた 答え ( 4 cm 1 mm )

③



こた 答え ( 6 cm )



# 長さのたんい 7

● ものさしではかる (mm)

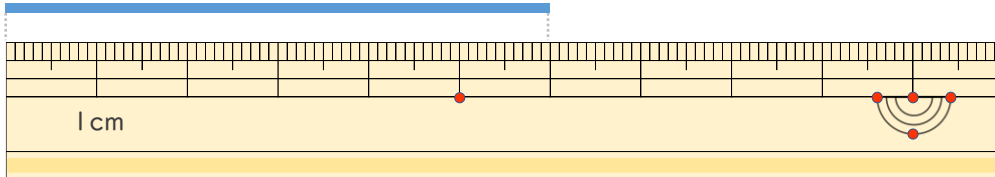


日にち：            月            日

名まえ \_\_\_\_\_

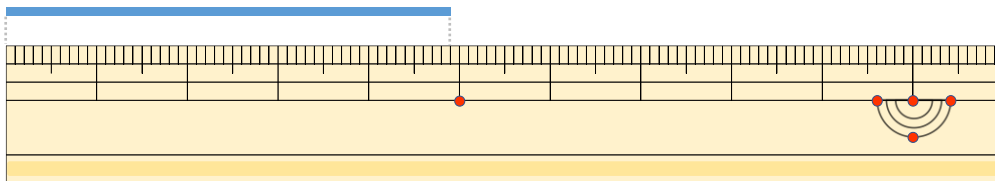
・線の長さ（せんなが）はどれだけですか。（うすい字（じ）はなぞりましょう。）

①



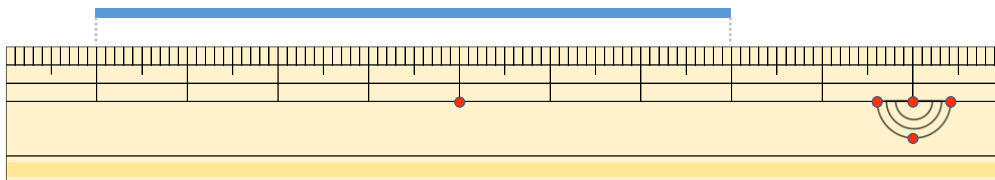
こた 答え（ 6 cm ）

②



こた 答え（ 4 cm 9 mm ）

③



こた 答え（ 7 cm ）





# 長さのたんい 7

● ものさしではかる (mm)

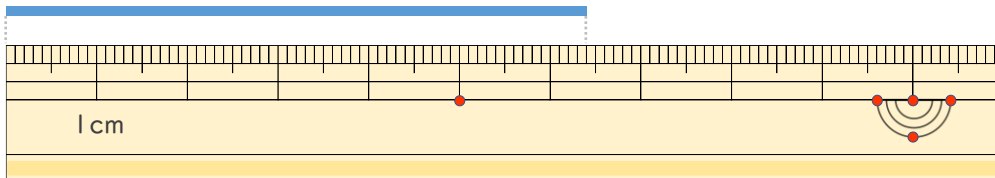


日にち：            月            日

名まえ \_\_\_\_\_

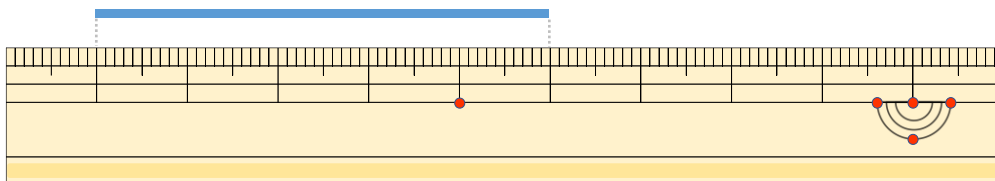
・線の長さ（せんなが）はどれだけですか。（うすい字（じ）はなぞりましょう。）

①



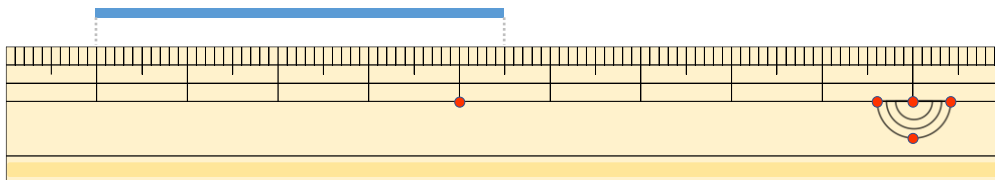
こた 答え（ 6 cm 4 mm ）

②



こた 答え（ 5 cm ）

③



こた 答え（ 4 cm 5 mm ）





# 長さのたんい 7

● ものさしではかる (mm)

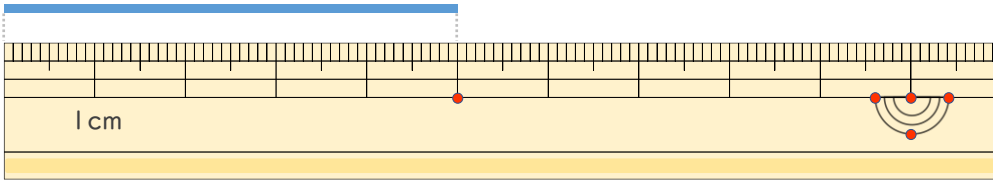
# 5

日にち：            月            日

名まえ \_\_\_\_\_

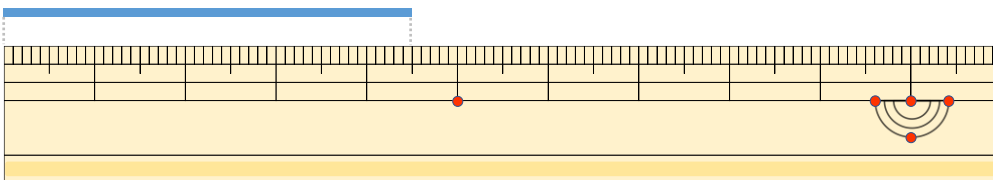
せん            なが  
・線の長さはどれだけですか。

①



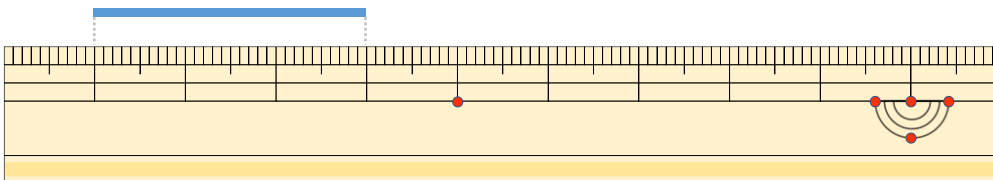
こた  
答え (    5 cm    )

②



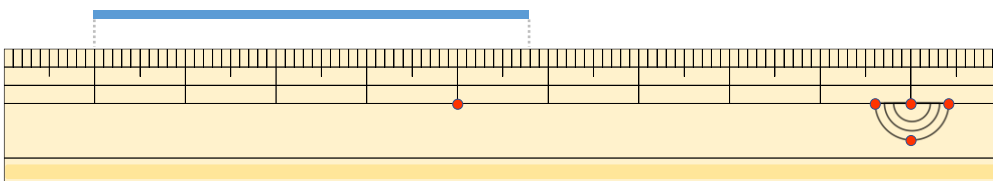
こた  
答え (    4 cm 5 mm    )

③



こた  
答え (    3 cm    )

④



こた  
答え (    4 cm 8 mm    )





# 長さのたんい 7

● ものさしではかる (mm)

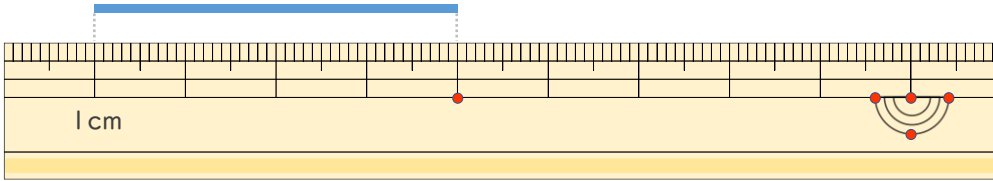


日にち：            月            日

名まえ \_\_\_\_\_

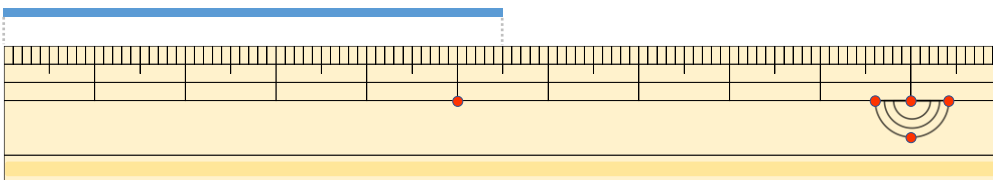
せん            なが  
・線の長さはどれだけですか。

①



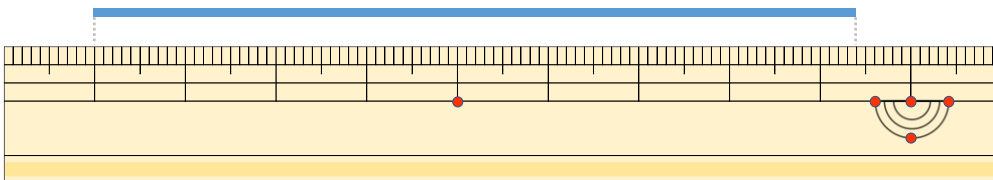
こた  
答え ( 4 cm )

②



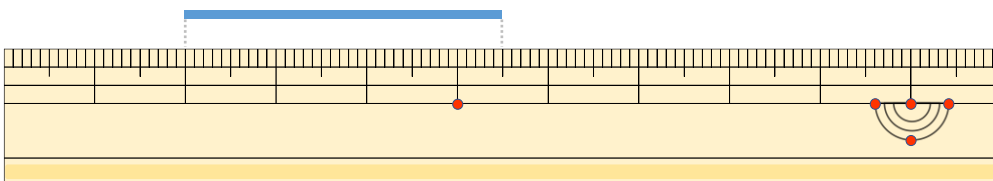
こた  
答え ( 5 cm 5 mm )

③



こた  
答え ( 8 cm 4 mm )

④



こた  
答え ( 3 cm 5 mm )





# 長さのたんい 7

● ものさしではかる (mm)

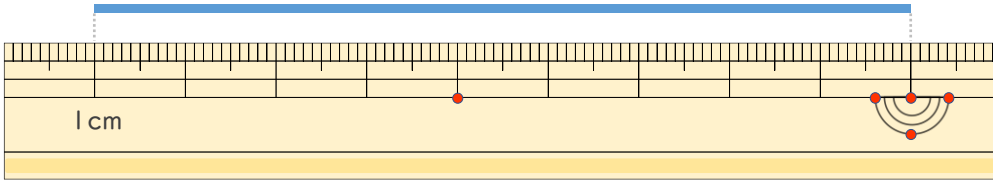


日にち：            月            日

名まえ \_\_\_\_\_

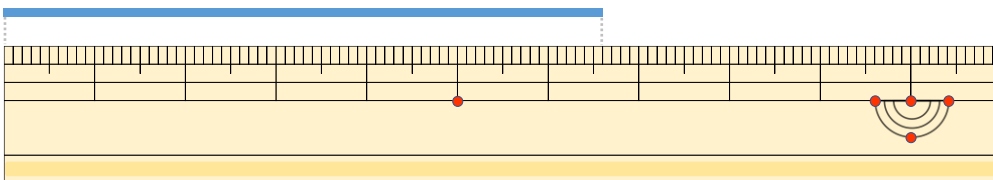
せん            なが  
・線の長さはどれだけですか。

①



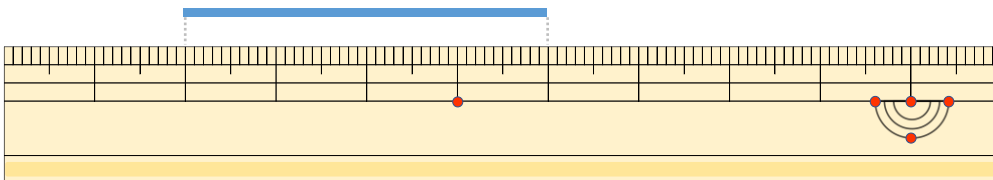
こた  
答え ( 9 cm )

②



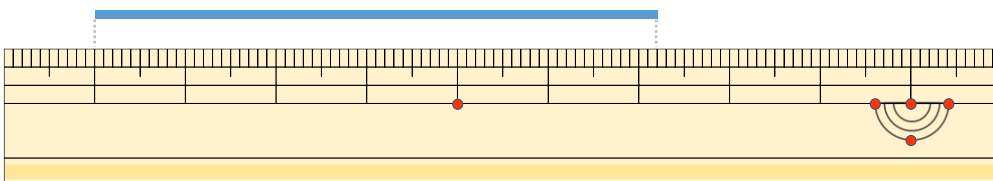
こた  
答え ( 6 cm 6 mm )

③



こた  
答え ( 4 cm )

④



こた  
答え ( 6 cm 2 mm )





# 長さのたんい 7

● ものさしではかる (mm)

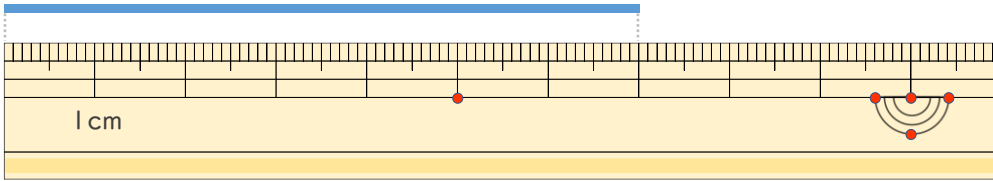


日にち：            月            日

名まえ \_\_\_\_\_

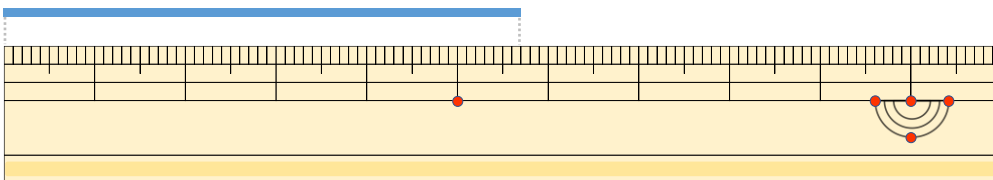
せん なが  
・線の長さはどれだけですか。

①



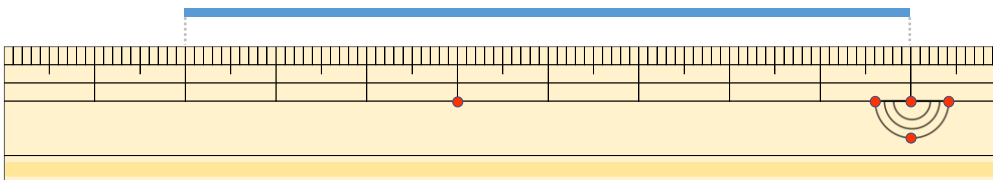
こた  
答え ( 7 cm )

②



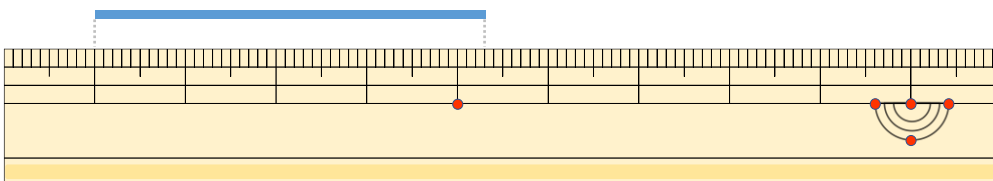
こた  
答え ( 5 cm 7 mm )

③



こた  
答え ( 8 cm )

④



こた  
答え ( 4 cm 3 mm )







# 長さのたんい 7

● ものさしではかる (mm)

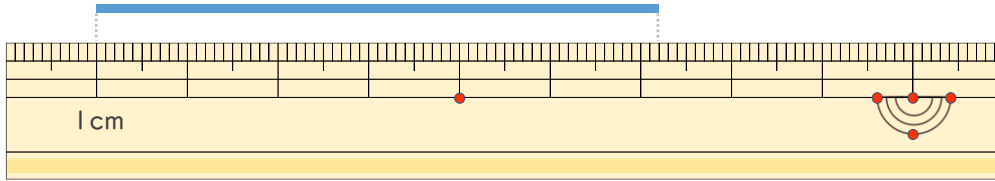


日にち：            月            日

名まえ \_\_\_\_\_

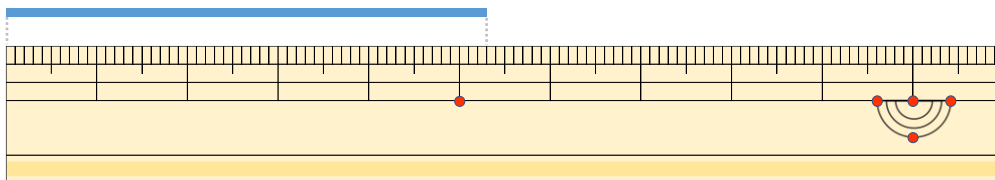
せん なが  
・線の長さはどれだけですか。

①



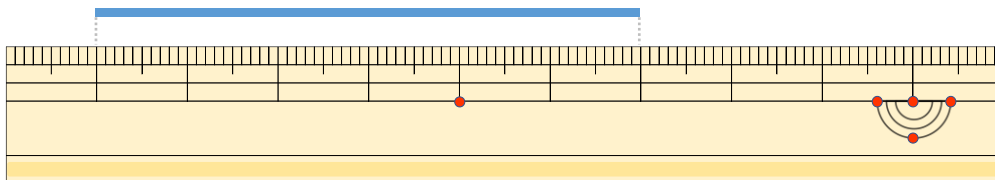
こた  
答え ( 6 cm 2 mm )

②



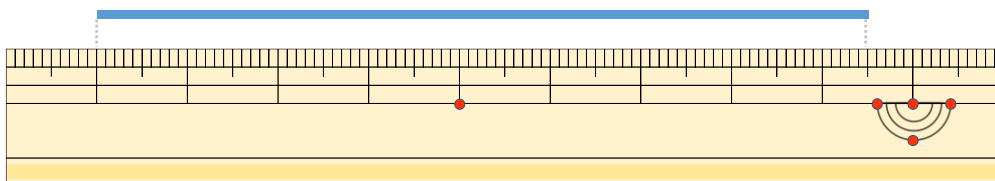
こた  
答え ( 5 cm 3 mm )

③



こた  
答え ( 6 cm )

④



こた  
答え ( 8 cm 5 mm )





# 長さのたんい 7

● ものさしではかる (mm)

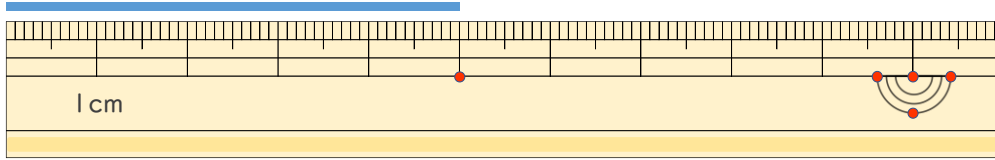
10

日にち： 月 日

名まえ \_\_\_\_\_

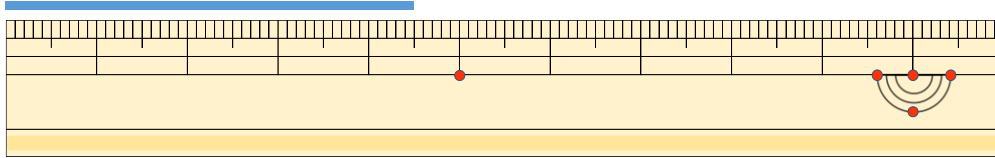
1 <sup>せん</sup>線の <sup>なが</sup>長さは どれだけですか。

①



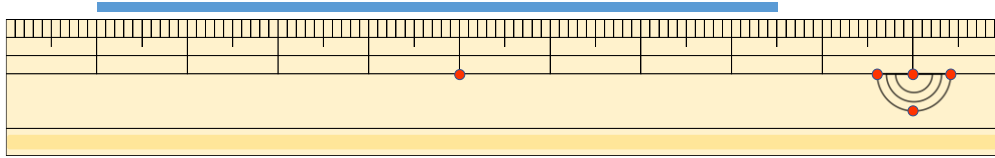
こた 答え ( 5 cm )

②



こた 答え ( 4 cm 5 mm )

③



こた 答え ( 7 cm 5 mm )

2 <sup>せん</sup>線の <sup>なが</sup>長さを ものさしではかりましょう。

①



こた 答え ( 5 cm )

②



こた 答え ( 3 cm )





# 長さのたんい 7

● ものさしではかる (mm)

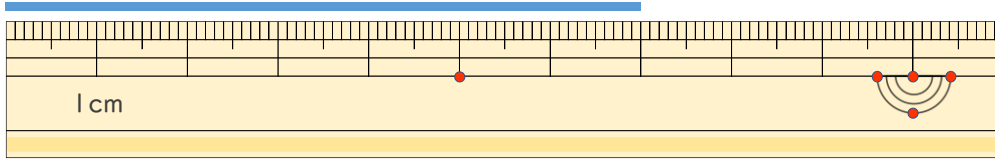


日にち：            月            日

名まえ \_\_\_\_\_

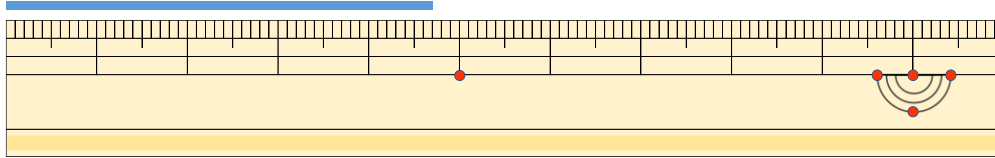
1 <sup>せん</sup>線の <sup>なが</sup>長さは どれだけですか。

①



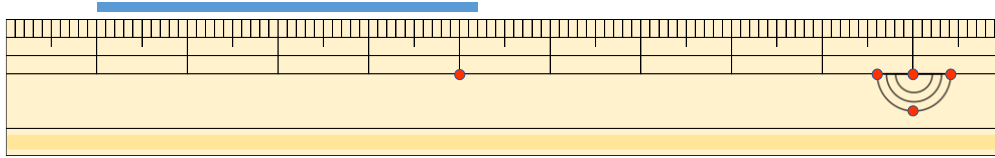
こた 答え ( 7 cm )

②



こた 答え ( 4 cm 7 mm )

③



こた 答え ( 4 cm 2 mm )

2 <sup>せん</sup>線の <sup>なが</sup>長さを ものさしではかりましょう。

①



こた 答え ( 4 cm )

②



こた 答え ( 6 cm )





# 長さのたんい 7

● ものさしではかる (mm)

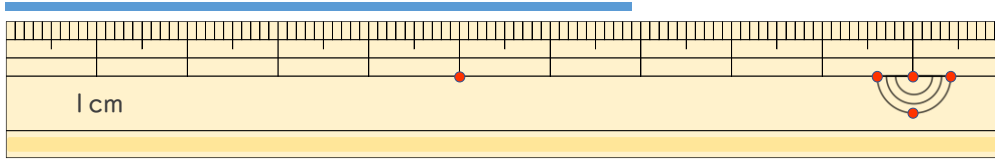
12

日にち： 月 日

名まえ \_\_\_\_\_

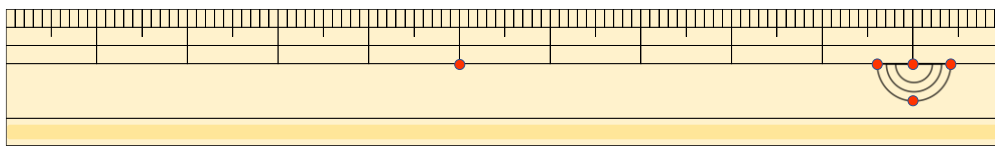
1 <sup>せん</sup>線の <sup>なが</sup>長さは どれだけですか。

①



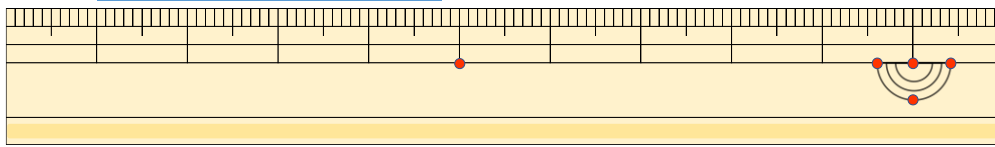
こた 答え ( 6 cm 9 mm )

②



こた 答え ( 8 cm )

③



こた 答え ( 3 cm 8 mm )

2 <sup>せん</sup>線の <sup>なが</sup>長さを ものさしではかりましょう。

①



こた 答え ( 5 cm )

②



こた 答え ( 7 cm )





# 長さのたんい 7

● ものさしではかる (mm)

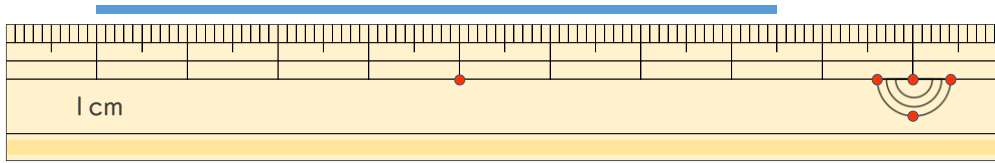
13

日にち： 月 日

名まえ \_\_\_\_\_

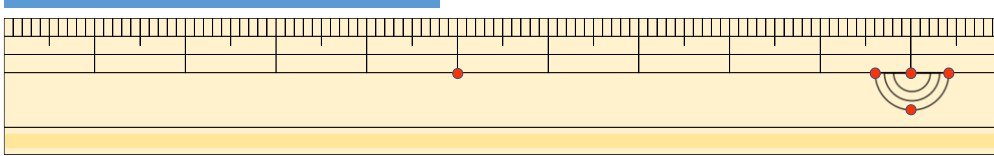
1 <sup>せん</sup>線の <sup>なが</sup>長さは どれだけですか。

①



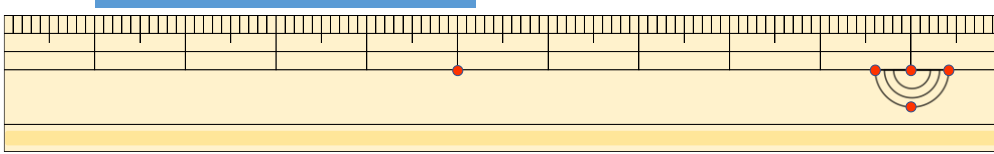
こた 答え ( 7 cm 5 mm )

②



こた 答え ( 4 cm 8 mm )

③



こた 答え ( 4 cm 2 mm )

2 <sup>せん</sup>線の <sup>なが</sup>長さを ものさしではかりましょう。

①



こた 答え ( 4 cm )

②



こた 答え ( 8 cm )





# 長さのたんい 7

● ものさしではかる (mm)

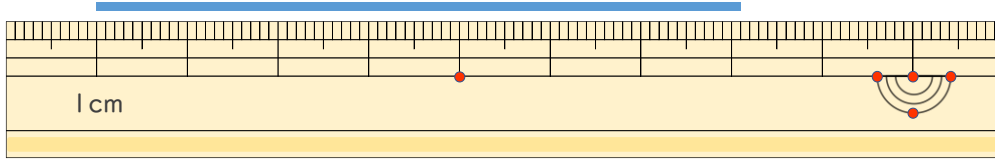
14

日にち： 月 日

名まえ \_\_\_\_\_

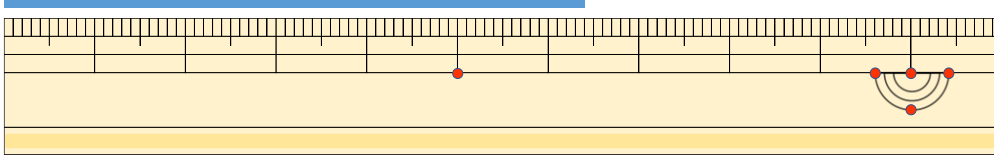
1 <sup>せん</sup>線の <sup>なが</sup>長さは どれだけですか。

①



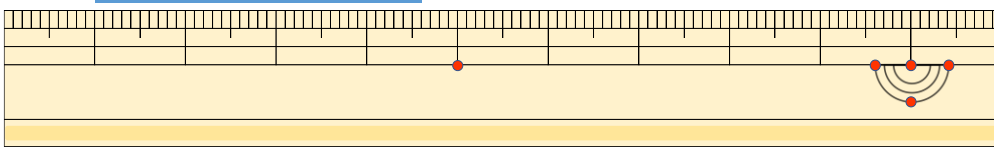
こた 答え ( 7 cm 1 mm )

②



こた 答え ( 6 cm 4 mm )

③



こた 答え ( 3 cm 6 mm )

2 <sup>せん</sup>線の <sup>なが</sup>長さを ものさしではかりましょう。

①



こた 答え ( 9 cm )

②



こた 答え ( 3 cm )





# 長さのたんい 7

● ものさしではかる (mm)

15

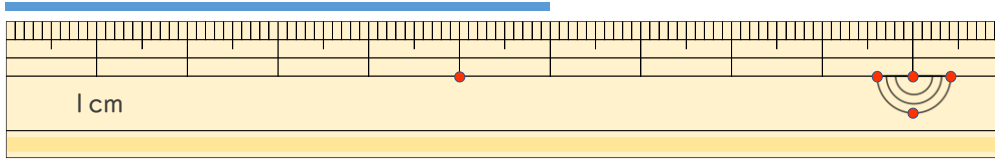
めざせ80点!



名まえ \_\_\_\_\_

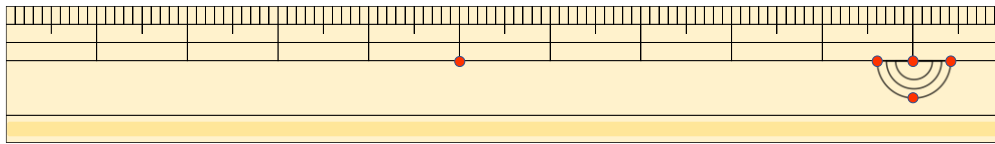
1 <sup>せん</sup>線の <sup>なが</sup>長さは <sup>かく</sup>どれだけですか。 (<sup>てん</sup>各20点)

①



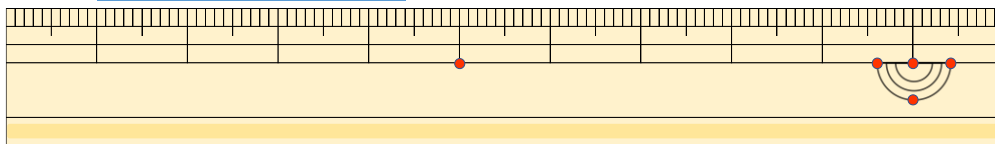
こた 答え ( 6 cm )

②



こた 答え ( 3 cm )

③



こた 答え ( 3 cm 4 mm )

2 <sup>せん</sup>線の <sup>なが</sup>長さを <sup>かく</sup>ものさしで <sup>てん</sup>はかりましょう。 (各20点)

①



こた 答え ( 7 cm )

②



こた 答え ( 4 cm )





# 長さのたんい 7

● ものさしではかる (mm)

16

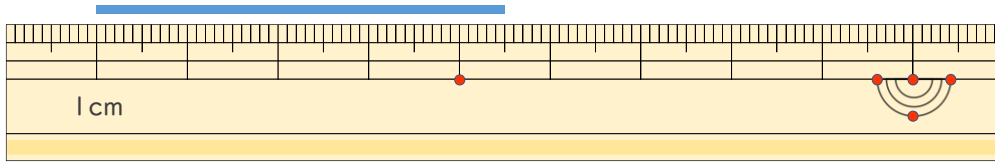
めざせ80点!



名まえ \_\_\_\_\_

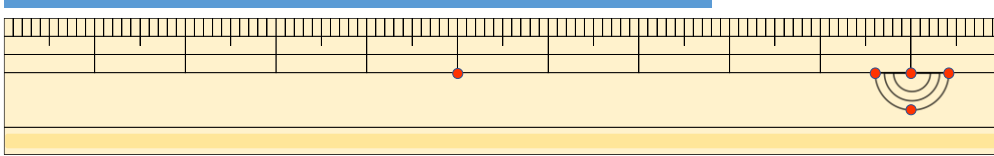
1 <sup>せん</sup>線の <sup>なが</sup>長さは <sup>かく</sup>どれだけですか。 (<sup>てん</sup>各20点)

①



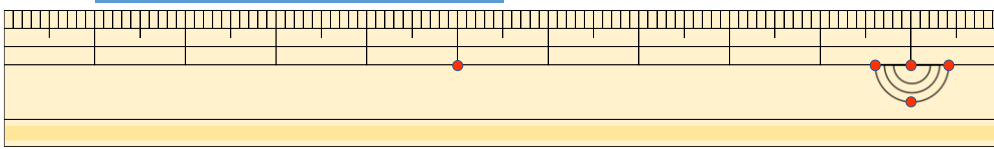
<sup>こた</sup>答え ( 4 cm 5 mm )

②



<sup>こた</sup>答え ( 7 cm 8 mm )

③



<sup>こた</sup>答え ( 4 cm 5 mm )

2 <sup>せん</sup>線の <sup>なが</sup>長さを <sup>かく</sup>ものさしで <sup>てん</sup>はかりましょう。 (各20点)

①



<sup>こた</sup>答え ( 6 cm )

②



<sup>こた</sup>答え ( 8 cm )

