



## 長さのたんい 8

◎ 直線の長さをはかる (mm)



日にち：            月            日

名まえ \_\_\_\_\_

・ 線の長さをものさしではかりましょう。(うすい字はなぞりましょう。)

①



答え ( 3 cm 5 mm )

②



答え (            cm )

③



答え (            cm            mm )

④



答え (            cm            mm )

⑤



答え (            cm            mm )





## 長さのたんい 8

◎ 直線の長さをはかる (mm)

2

日にち：            月            日

名まえ \_\_\_\_\_

・ 線の長さをものさしではかりましょう。(うすい字はなぞりましょう。)

①



答え (            4 cm            )

②



答え (            cm            mm            )

③



答え (            cm            mm            )

④



答え (            cm            )

⑤



答え (            cm            mm            )















# 長さのたんい 8

◎ 直線の長さをはかる (mm)



日にち：            月            日

名まえ \_\_\_\_\_

・ 線の <sup>せん</sup>長さを <sup>なが</sup>ものさしではかりましょう。

①



答え (            )

②



答え (            )

③



答え (            )

④



答え (            )

⑤



答え (            )







# 長さのたんい 8

◎ 直線の長さをはかる (mm)



日にち：            月            日

名まえ \_\_\_\_\_

・ 線の <sup>せん</sup>長さを <sup>なが</sup>ものさしではかりましょう。

①



答え (            )

②



答え (            )

③



答え (            )

④



答え (            )

⑤



答え (            )







# 長さのたんい 8

◎ 直線の長さをはかる (mm)



日にち：            月            日

名まえ \_\_\_\_\_

1 <sup>せん</sup>線の <sup>なが</sup>長さをものさしではかりましょう。

①



<sup>こた</sup>答え (            )

②



<sup>こた</sup>答え (            )

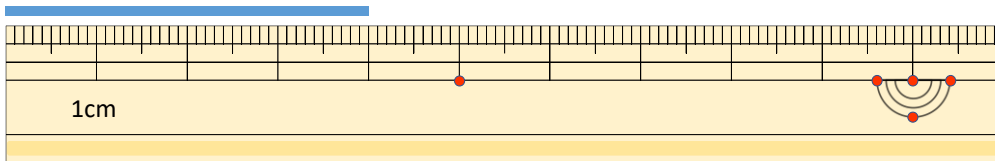
③



<sup>こた</sup>答え (            )

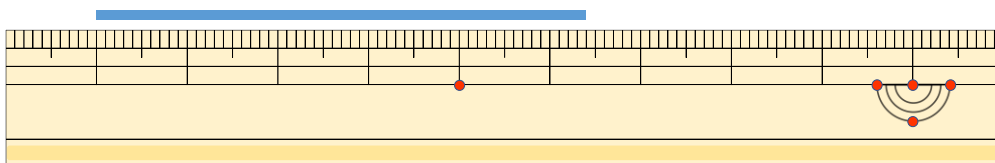
2 <sup>せん</sup>線の <sup>なが</sup>長さはどれだけですか。

①



<sup>こた</sup>答え (            )

②



<sup>こた</sup>答え (            )







# 長さのたんい 8

◎ 直線の長さをはかる (mm)

13

日にち：            月            日

名まえ \_\_\_\_\_

1 線の長さをものさしではかりましょう。

①



答え (            )

②



答え (            )

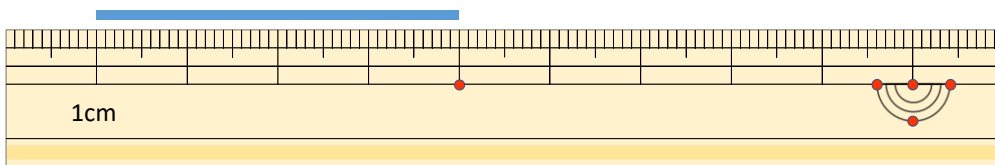
③



答え (            )

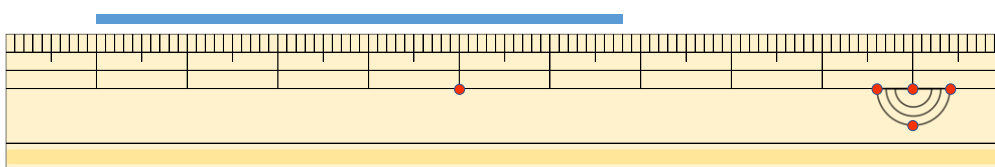
2 線の長さはどれだけですか。

①



答え (            )

②



答え (            )





# 長さのたんい 8

◎ 直線の長さをはかる (mm)

14

日にち：            月            日

名まえ \_\_\_\_\_

1 <sup>せん</sup>線の <sup>なが</sup>長さをものさしではかりましょう。

①



<sup>こた</sup>答え (            )

②



<sup>こた</sup>答え (            )

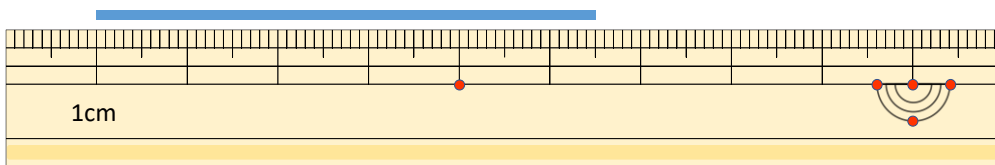
③



<sup>こた</sup>答え (            )

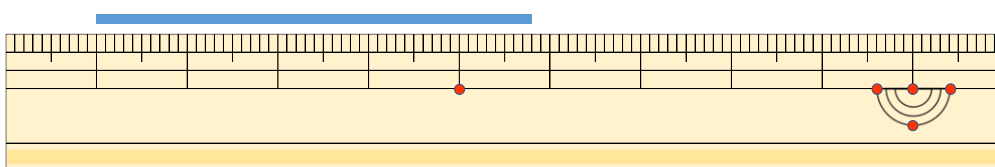
2 <sup>せん</sup>線の <sup>なが</sup>長さはどれだけですか。

①



<sup>こた</sup>答え (            )

②



<sup>こた</sup>答え (            )





# 長さのたんい 8

◎ 直線の長さをはかる (mm)

15

めざせ80点!



名まえ \_\_\_\_\_

1 線の長さをものさしではかりましょう。(各20点)

①



答え ( )

②



答え ( )

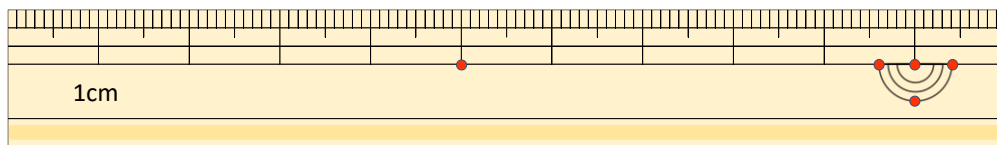
③



答え ( )

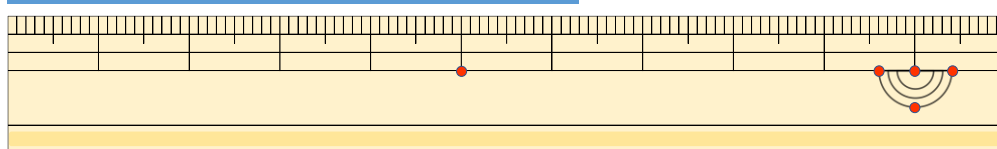
2 線の長さはどれだけですか。(各20点)

①



答え ( )

②



答え ( )





# 長さのたんい 8

◎ 直線の長さをはかる (mm)

16

めざせ80点!



名まえ \_\_\_\_\_

1 線の長さをものさしではかりましょう。(各20点)

①



答え ( )

②



答え ( )

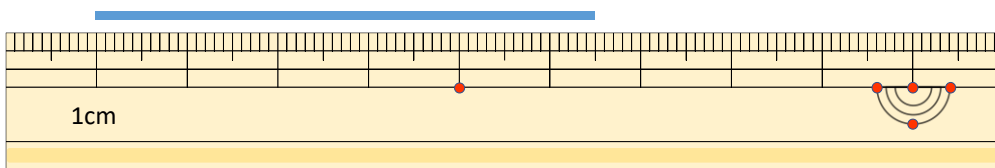
③



答え ( )

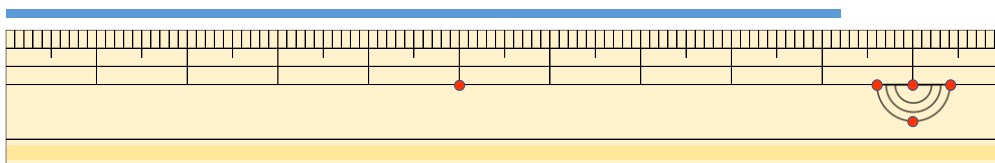
2 線の長さはどれだけですか。(各20点)

①



答え ( )

②



答え ( )







## 長さのたんい 8

◎ 直線の長さをはかる (mm)



日にち：            月            日

名まえ \_\_\_\_\_

・ 線の長さをものさしではかりましょう。(うすい字はなぞりましょう。)

①



答え ( 3 cm 5 mm )

②



答え ( 6 cm )

③



答え ( 5 cm 2 mm )

④



答え ( 2 cm 5 mm )

⑤



答え ( 6 cm 7 mm )





## 長さのたんい 8

◎ 直線の長さをはかる (mm)

2

日にち：            月            日

名まえ \_\_\_\_\_

・ 線の <sup>せん</sup>長さ <sup>なが</sup>を ものさし <sup>じ</sup>ではかりましょう。(うすい字はなぞりましょう。)

①



こた 答え ( 4 cm )

②



こた 答え ( 4 cm 7 mm )

③



こた 答え ( 6 cm 8 mm )

④



こた 答え ( 3 cm )

⑤



こた 答え ( 5 cm 5 mm )





## 長さのたんい 8

◎ 直線の長さをはかる (mm)



日にち：            月            日

名まえ \_\_\_\_\_

・ 線の <sup>せん</sup>長さを <sup>なが</sup>ものさしではかりましょう。(うすい字は <sup>じ</sup>なぞりましょう。)

①



こた 答え ( 4 cm 5 mm )

②



こた 答え ( 5 cm 6 mm )

③



こた 答え ( 6 cm 3 mm )

④



こた 答え ( 4 cm 5 mm )

⑤



こた 答え ( 7 cm )





# 長さのたんい 8

◎ 直線の長さをはかる (mm)



日にち：            月            日

名まえ \_\_\_\_\_

・ 線の <sup>せん</sup>長さを <sup>なが</sup>ものさしではかりましょう。(うすい字は <sup>じ</sup>なぞりましょう。)

①



こた 答え ( 5 cm 5 mm )

②



こた 答え ( 3 cm 6 mm )

③



こた 答え ( 7 cm 2 mm )

④



こた 答え ( 2 cm 5 mm )

⑤



こた 答え ( 6 cm )





# 長さのたんい 8

◎ 直線の長さをはかる (mm)

5

日にち：            月            日

名まえ \_\_\_\_\_

・ 線の <sup>せん</sup>長さ <sup>なが</sup>を ものさし <sup>じ</sup>ではかりましょう。(うすい字はなぞりましょう。)

①



こた 答え ( 4 cm 5 mm )

②



こた 答え ( 4 cm )

③



こた 答え ( 5 cm 8 mm )

④



こた 答え ( 3 cm 2 mm )

⑤



こた 答え ( 6 cm 7 mm )





# 長さのたんい 8

◎ 直線の長さをはかる (mm)



日にち：            月            日

名まえ \_\_\_\_\_

・ 線の長さをものさしではかりましょう。(うすい字はなぞりましょう。)

①



答え ( 6 cm 5 mm )

②



答え ( 4 cm 7 mm )

③



答え ( 5 cm 2 mm )

④



答え ( 3 cm )

⑤



答え ( 4 cm 3 mm )





# 長さのたんい 8

◎ 直線の長さをはかる (mm)



日にち：            月            日

名まえ \_\_\_\_\_

・ 線の <sup>せん</sup>長さを <sup>なが</sup>ものさしではかりましょう。

①



こた 答え ( 5 cm 3 mm )

②



こた 答え ( 7 cm 2 mm )

③



こた 答え ( 5 cm )

④



こた 答え ( 3 cm 5 mm )

⑤



こた 答え ( 4 cm 8 mm )





# 長さのたんい 8

◎ 直線の長さをはかる (mm)



日にち：            月            日

名まえ \_\_\_\_\_

・ 線の <sup>せん</sup>長さを <sup>なが</sup>ものさしではかりましょう。

①



こた 答え ( 5 cm 6 mm )

②



こた 答え ( 7 cm 3 mm )

③



こた 答え ( 6 cm )

④



こた 答え ( 3 cm 8 mm )

⑤



こた 答え ( 4 cm 2 mm )







## 長さのたんい 8

◎ 直線の長さをはかる (mm)



日にち：            月            日

名まえ \_\_\_\_\_

・ 線の <sup>せん</sup>長さを <sup>なが</sup>ものさしではかりましょう。

①



こた  
答え ( 6 cm 3 mm )

②



こた  
答え ( 5 cm 4 mm )

③



こた  
答え ( 3 cm 2 mm )

④



こた  
答え ( 7 cm )

⑤



こた  
答え ( 4 cm 5 mm )





# 長さのたんい 8

◎ 直線の長さをはかる (mm)



日にち：            月            日

名まえ \_\_\_\_\_

1 <sup>せん</sup>線の <sup>なが</sup>長さをものさしではかりましょう。

①



<sup>こた</sup>答え ( 4 cm 5 mm )

②



<sup>こた</sup>答え ( 4 cm )

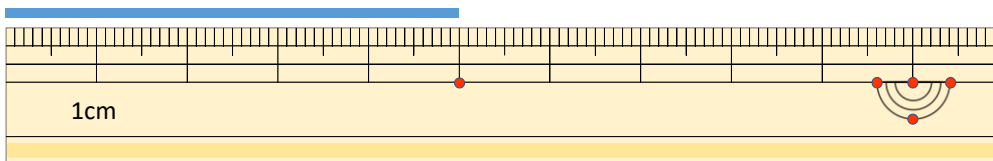
③



<sup>こた</sup>答え ( 5 cm 8 mm )

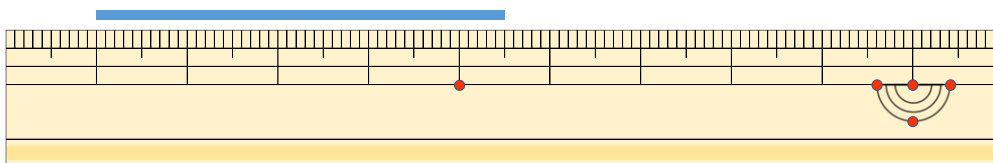
2 <sup>せん</sup>線の <sup>なが</sup>長さはどれだけですか。

①



<sup>こた</sup>答え ( 5 cm )

②



<sup>こた</sup>答え ( 4 cm 5 mm )





# 長さのたんい 8

◎ 直線の長さをはかる (mm)



日にち：            月            日

名まえ \_\_\_\_\_

1 線の長さをものさしではかりましょう。

①



答え ( 5 cm 6 mm )

②



答え ( 5 cm )

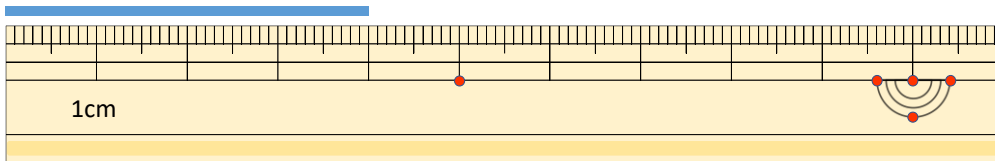
③



答え ( 6 cm 4 mm )

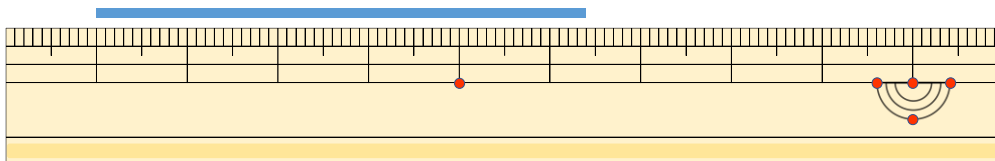
2 線の長さはどれだけですか。

①



答え ( 4 cm )

②



答え ( 5 cm 4 mm )





# 長さのたんい 8

◎ 直線の長さをはかる (mm)

12

日にち：            月            日

名まえ \_\_\_\_\_

1 <sup>せん</sup>線の <sup>なが</sup>長さをものさしではかりましょう。

①



こた 答え ( 3 cm 5 mm )

②



こた 答え ( 4 cm )

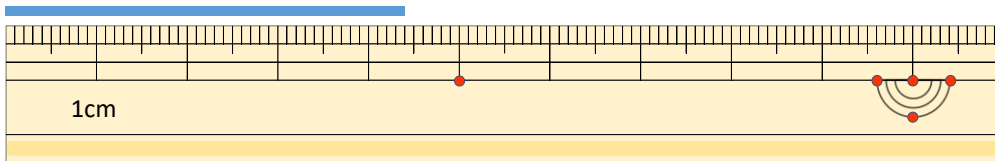
③



こた 答え ( 6 cm 2 mm )

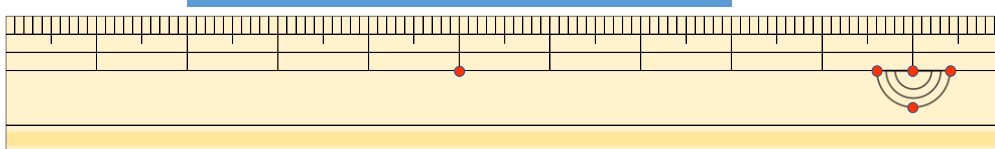
2 <sup>せん</sup>線の <sup>なが</sup>長さはどれだけですか。

①



こた 答え ( 4 cm 4 mm )

②



こた 答え ( 6 cm )





# 長さのたんい 8

◎ 直線の長さをはかる (mm)

13


日にち：            月            日

名まえ \_\_\_\_\_

1 <sup>せん</sup>線の <sup>なが</sup>長さをものさしではかりましょう。



こた 答え ( 4 cm 8 mm )

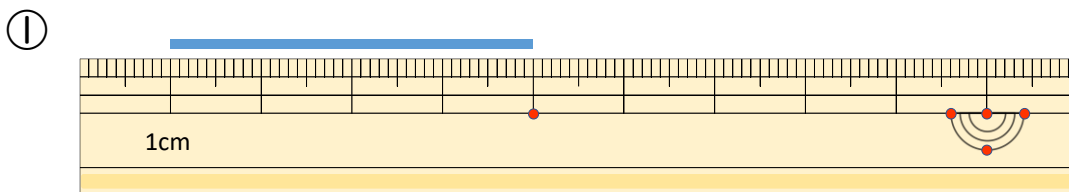


こた 答え ( 3 cm )

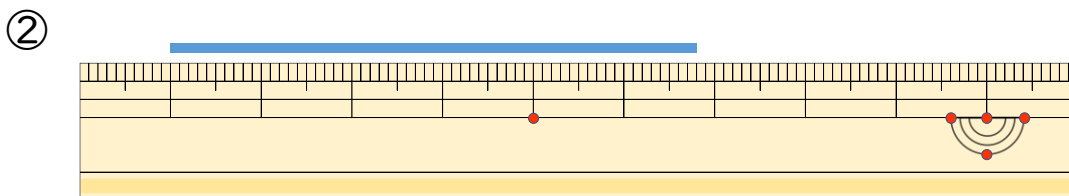


こた 答え ( 6 cm 5 mm )

2 <sup>せん</sup>線の <sup>なが</sup>長さはどれだけですか。



こた 答え ( 4 cm )



こた 答え ( 5 cm 8 mm )





# 長さのたんい 8

◎ 直線の長さをはかる (mm)

14

日にち：            月            日

名まえ \_\_\_\_\_

1 <sup>せん</sup>線の <sup>なが</sup>長さをものさしではかりましょう。



こた 答え ( 5 cm 2 mm )

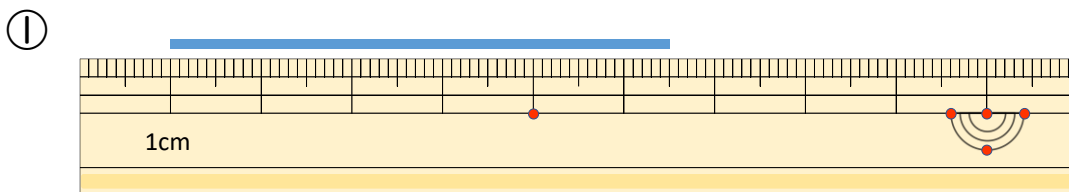


こた 答え ( 4 cm )

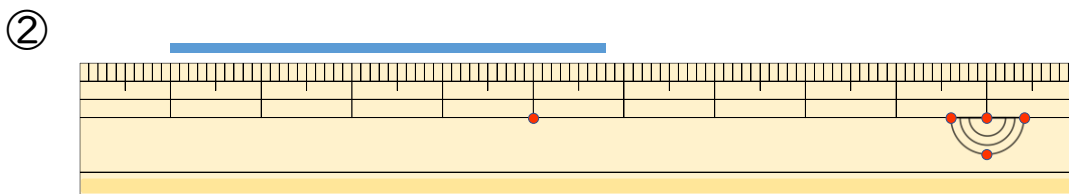


こた 答え ( 3 cm 7 mm )

2 <sup>せん</sup>線の <sup>なが</sup>長さはどれだけですか。



こた 答え ( 5 cm 5 mm )



こた 答え ( 4 cm 8 mm )





# 長さのたんい 8

◎ 直線の長さをはかる (mm)

15

めざせ80点!



名まえ \_\_\_\_\_

1 線の長さをものさしではかりましょう。(各20点)

①



答え ( 5 cm 5 mm )

②



答え ( 3 cm )

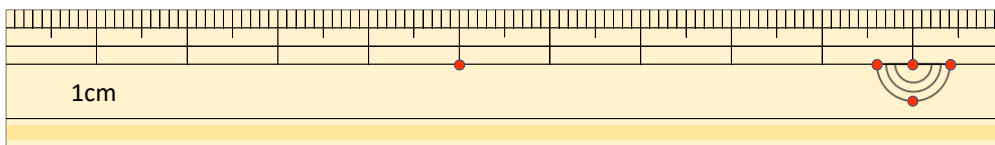
③



答え ( 5 cm 7 mm )

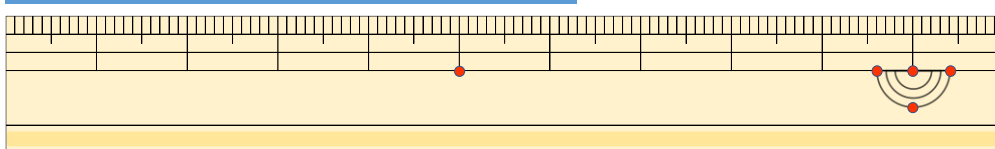
2 線の長さはどれだけですか。(各20点)

①



答え ( 6 cm )

②



答え ( 6 cm 3 mm )





# 長さのたんい 8

◎ 直線の長さをはかる (mm)

16

めざせ80点!



名まえ \_\_\_\_\_

1 線の長さをものさしではかりましょう。(各20点)

①



答え ( 4 cm 5 mm )

②



答え ( 2 cm 8 mm )

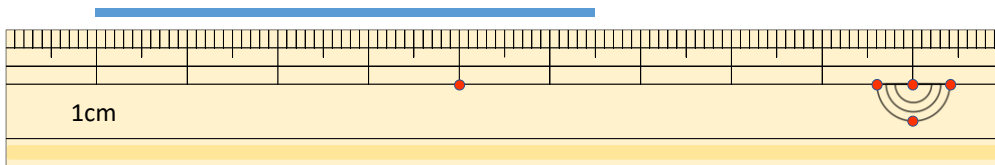
③



答え ( 5 cm )

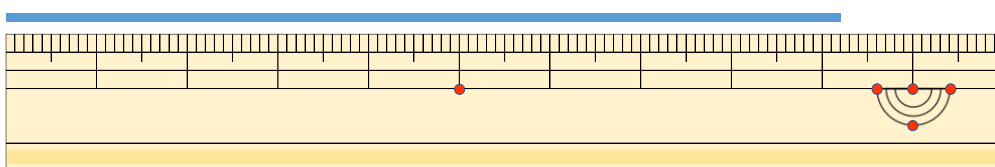
2 線の長さはどれだけですか。(各20点)

①



答え ( 5 cm 5 mm )

②



答え ( 9 cm 2 mm )

