



長方形と正方形 6

◎ 正方形を見つけよう



日にち： 月 日

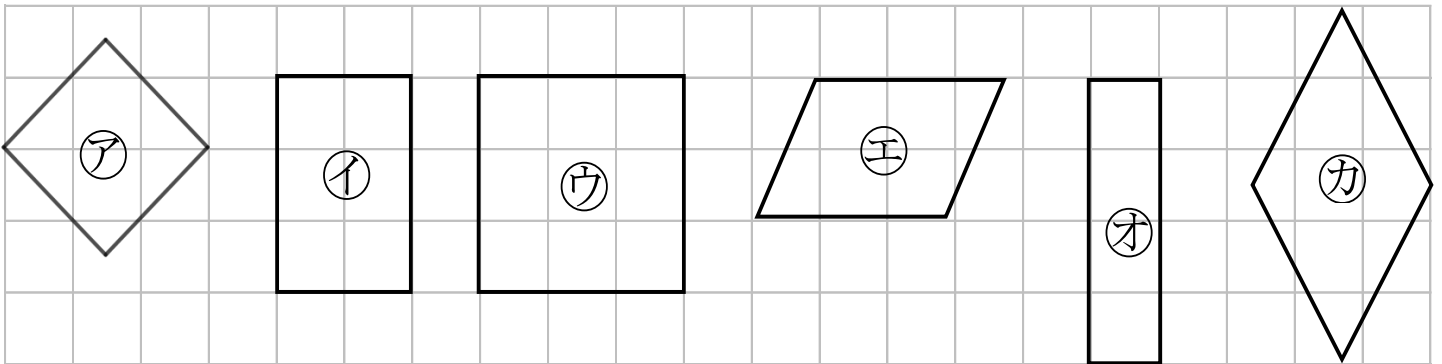
名まえ _____

・ つぎのもんだいに答えましょう。(うすい字はしっかりなぞりましょう。)

4つのかどがみんな直角で、

4つのへんの長さがみんな同じになっている四角形を

正方形 といいます。



① 4つのかどがみんな直角になっている形はどれですか。

答え： ア, イ, ウ, オ

② 4つのへんの長さがみんな同じになっている形はどれですか。

答え： ア, ,

③ 正方形はどれですか。

答え： ア, ウ



長方形と正方形 6

◎ 正方形を見つけよう



日にち： 月 日

名まえ _____

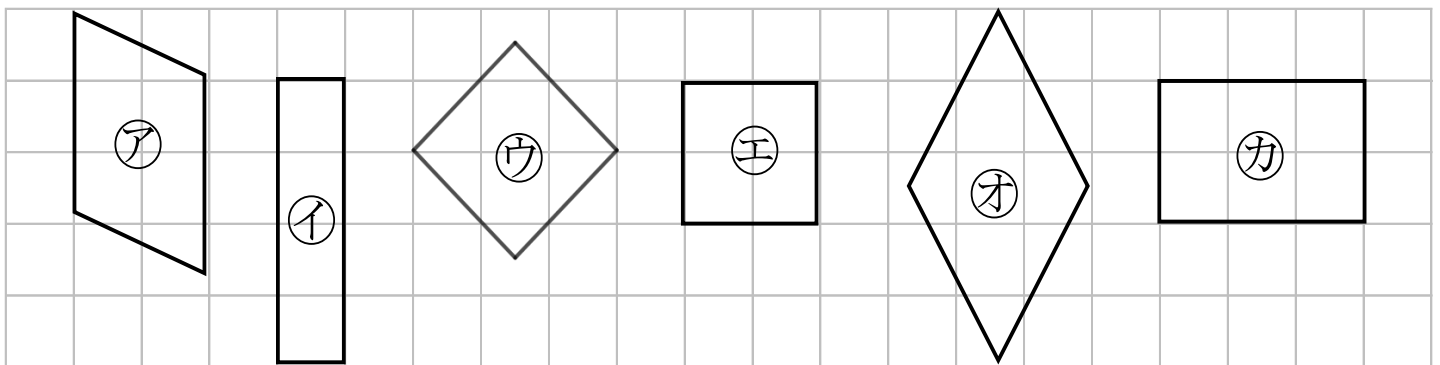
・ つぎのもんだいに答えましょう。(うすい字はしっかりなぞりましょう。)

4つのかどがみんな直角で、

4つのへんの長さがみんな同じになっている四角形を



といいます。



① 4つのかどがみんな直角になっている形はどれですか。

答え： イ, ウ, ,

② 4つのへんの長さがみんな同じになっている形はどれですか。

答え： ウ, ,

③ 正方形はどれですか。

答え： , エ



長方形と正方形 6

◎ 正方形を見つけよう

3

日にち： 月 日

名まえ _____

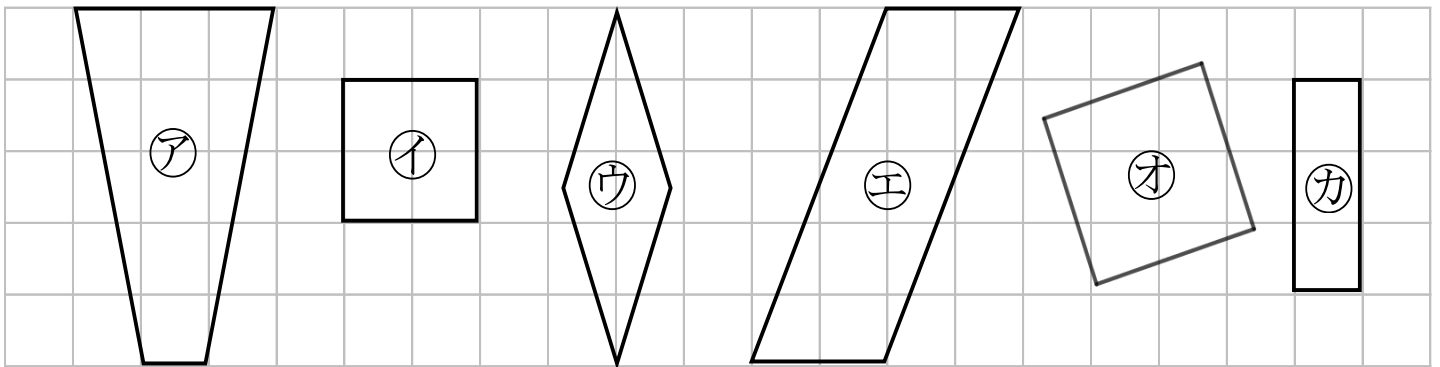
・ つぎのもんだいに答えましょう。(うすい字はしっかりなぞりましょう。)

4つのかどがみんな直角で、

4つのへんの長さがみんな同じになっている四角形を



といいます。



① 4つのかどがみんな直角になっている形はどれですか。

答え：

， ，

② 4つのへんの長さがみんな同じになっている形はどれですか。

答え：

， ，

③ 正方形はどれですか。

答え：

，



長方形と正方形 6

◎ 正方形を見つけよう

4

日にち： 月 日

名まえ _____

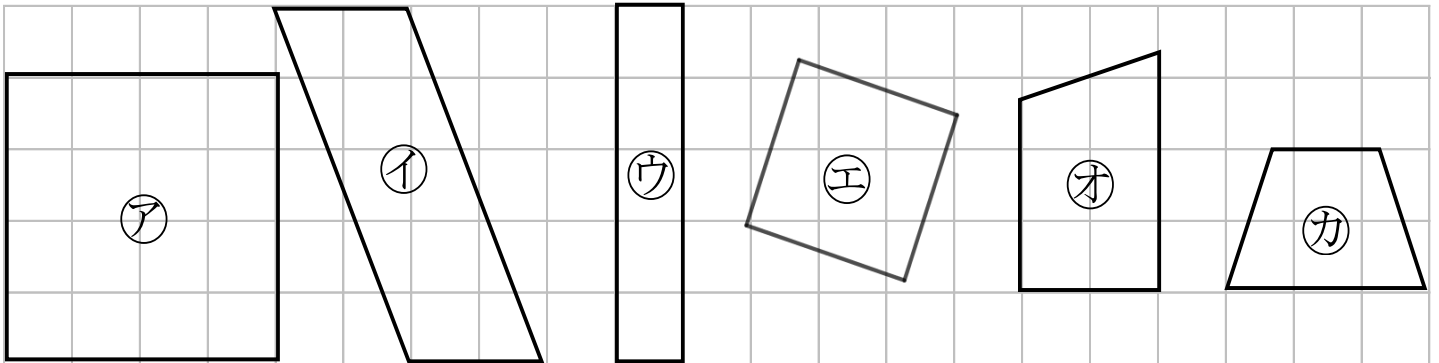
・ つぎのもんだいに答えましょう。

4つのかどがみんな直角で、

4つのへんの長さがみんな同じになっている四角形を



といいます。



① 4つのかどがみんな直角になっている形はどれですか。

答え：

② 4つのへんの長さがみんな同じになっている形はどれですか。

答え：

③ 正方形はどれですか。

答え：



長方形と正方形 6

5

◎ 正方形を見つけよう

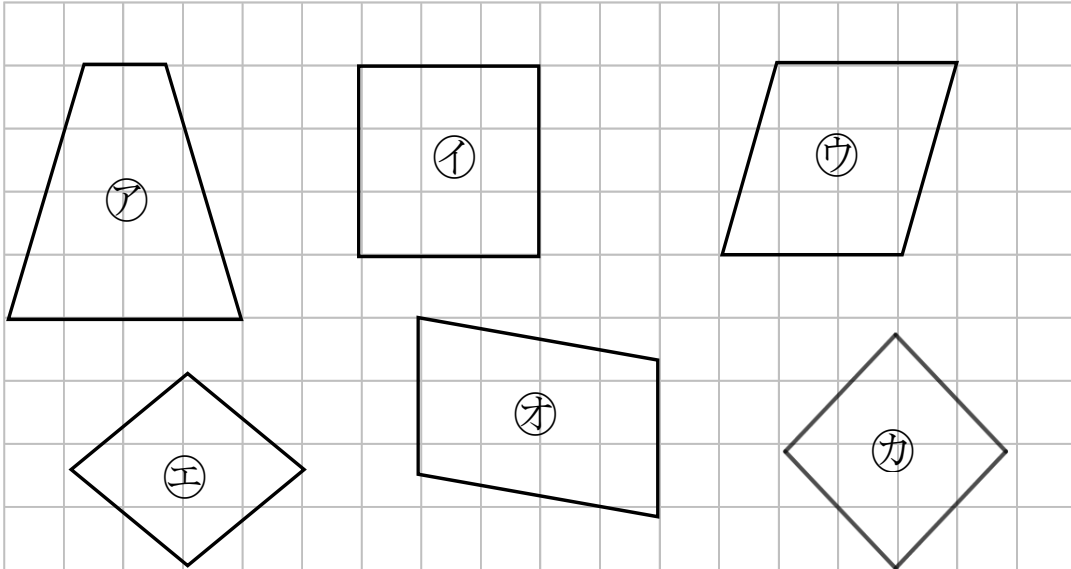
日にち： 月 日

名まえ _____

1 正方形はどれですか。

三角じょうぎをつかって、ぜんぶ見つけましょう。

(うすい字はしっかりなぞりましょう。)

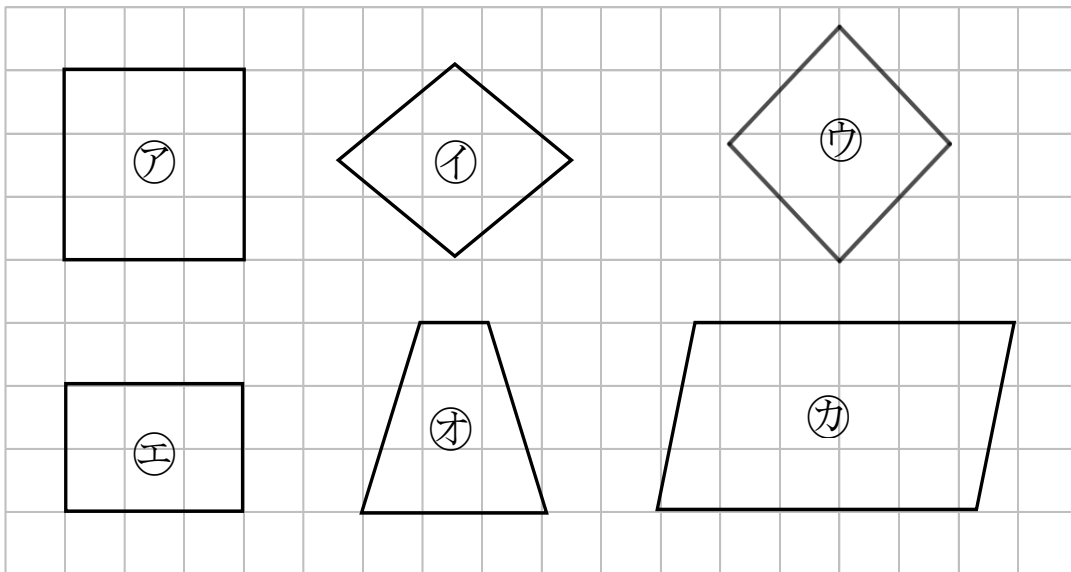


答え： イ ,

2 正方形はどれですか。

三角じょうぎをつかって、ぜんぶ見つけましょう。

(うすい字はしっかりなぞりましょう。)



答え： _____ , ウ



長方形と正方形 6

◎ 正方形を見つけよう



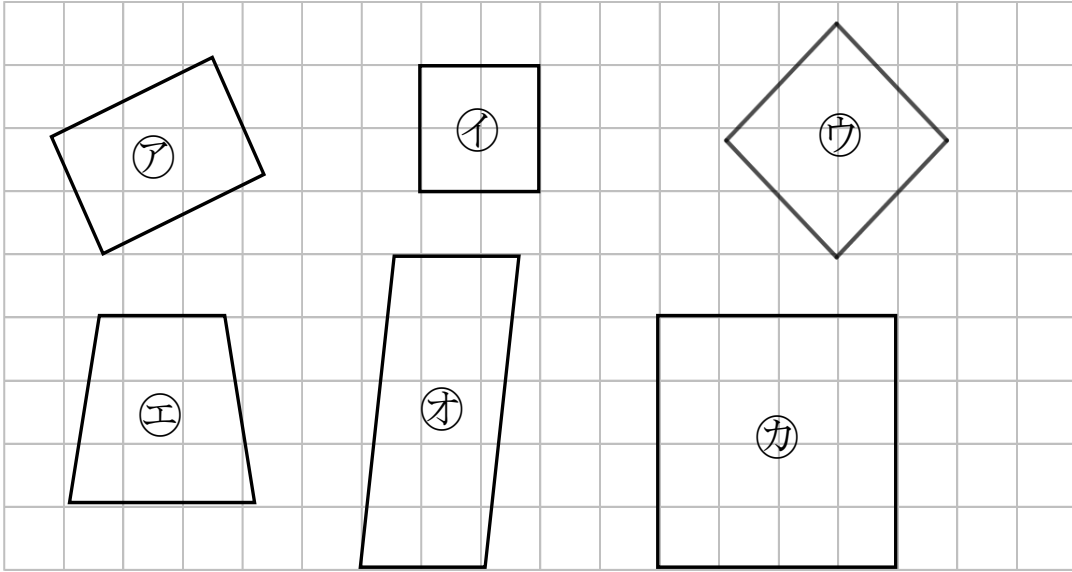
日にち： 月 日

名まえ _____

1 正方形はどれですか。

三角じょうぎをつかって、ぜんぶ見つけましょう。

(うすい字はしっかりなぞりましょう。)

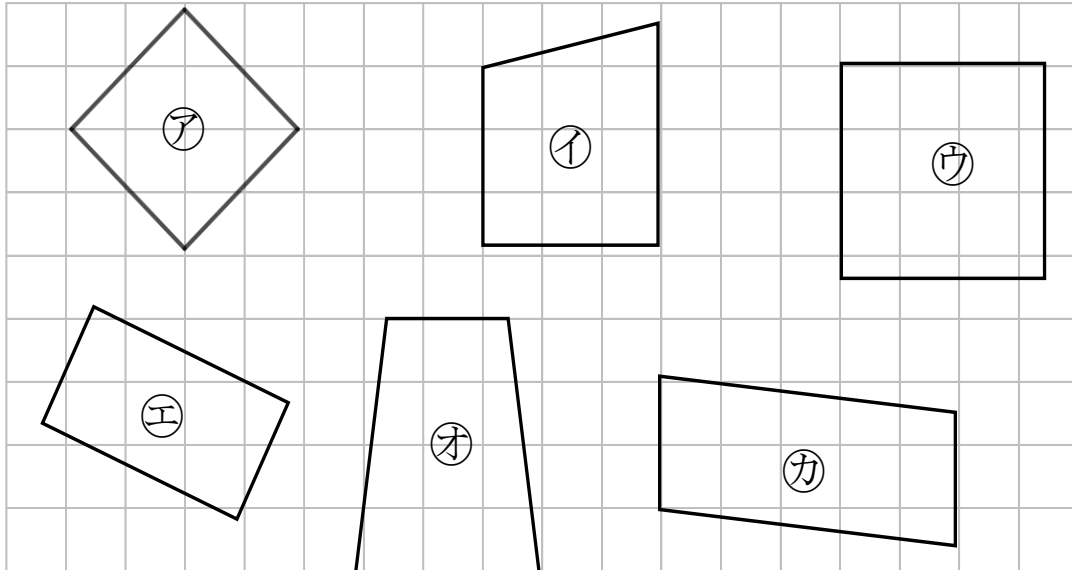


答え： イ, , _____

2 正方形はどれですか。

三角じょうぎをつかって、ぜんぶ見つけましょう。

(うすい字はしっかりなぞりましょう。)



答え： _____, _____



長方形と正方形 6

◎ 正方形を見つけよう



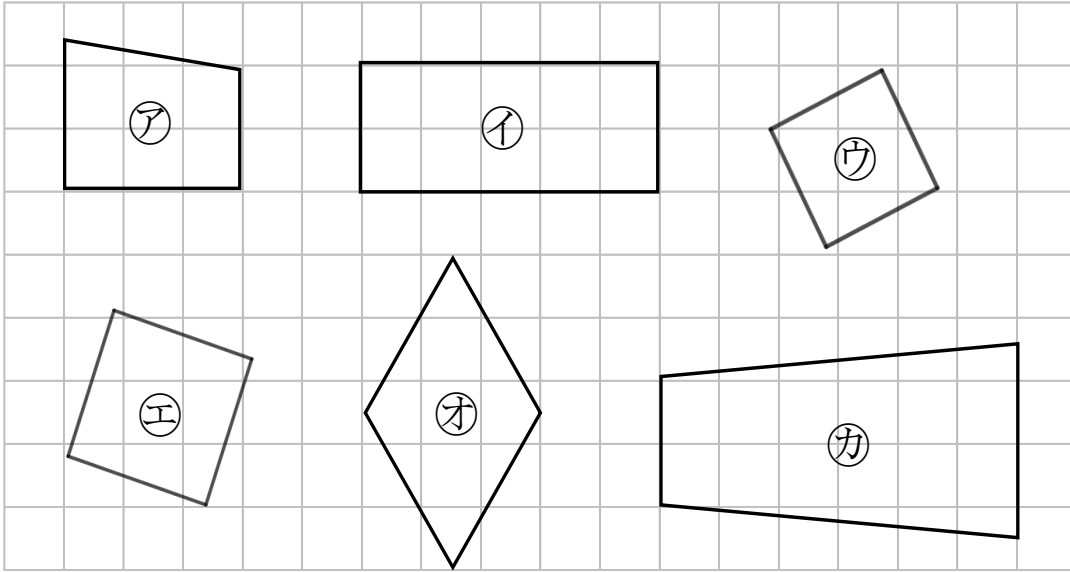
日にち： 月 日

名まえ _____

1 正方形はどれですか。

三角じょうぎをつかって、ぜんぶ見つけましょう。

(うすい字はしっかりなぞりましょう。)

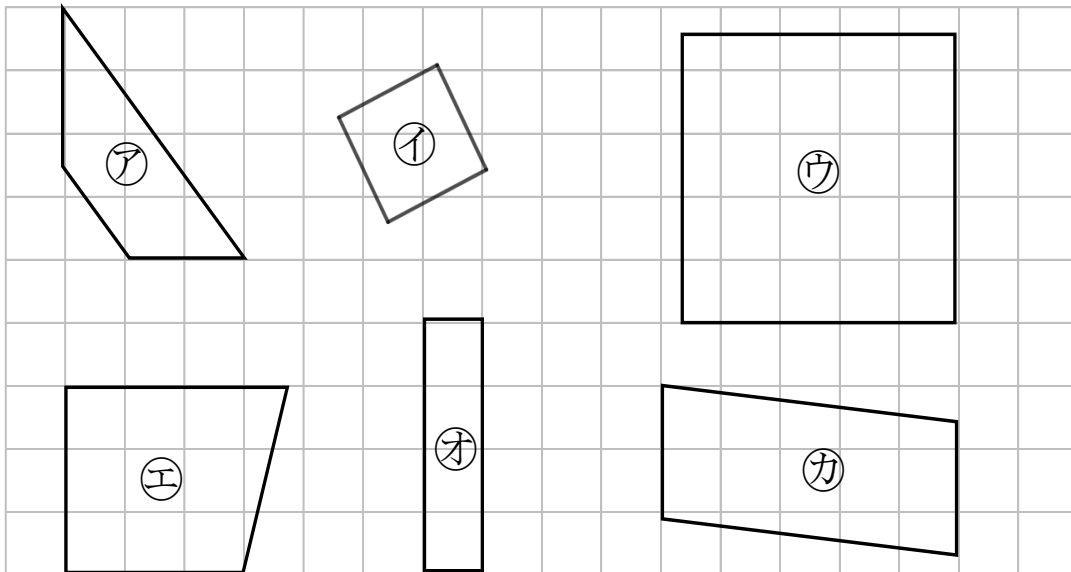


答え： ウ，

2 正方形はどれですか。

三角じょうぎをつかって、ぜんぶ見つけましょう。

(うすい字はしっかりなぞりましょう。)



答え： _____，



長方形と正方形 6

◎ 正方形を見つけよう

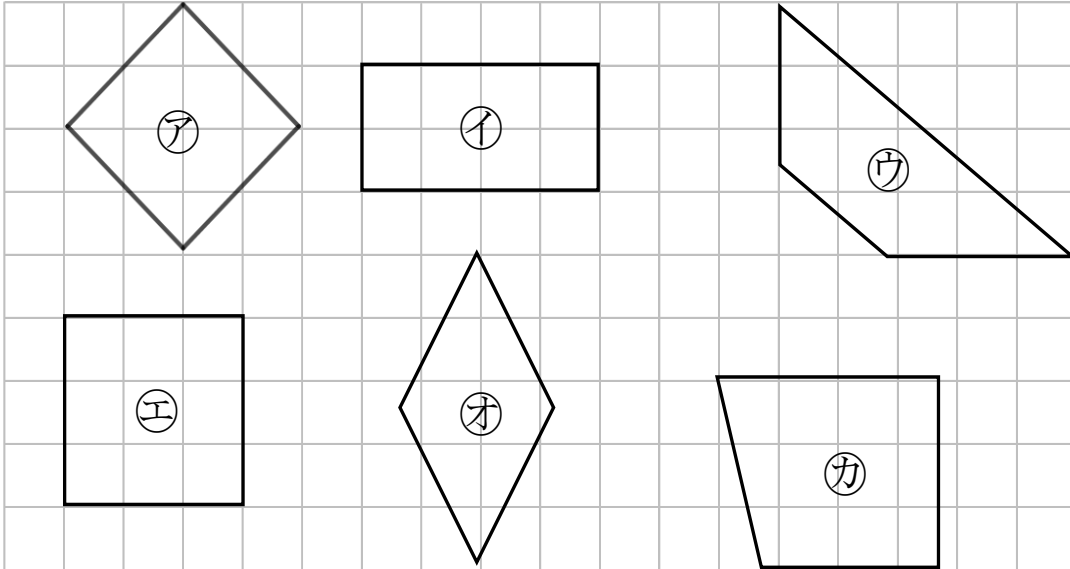


日にち： 月 日

名まえ _____

1 正方形はどれですか。

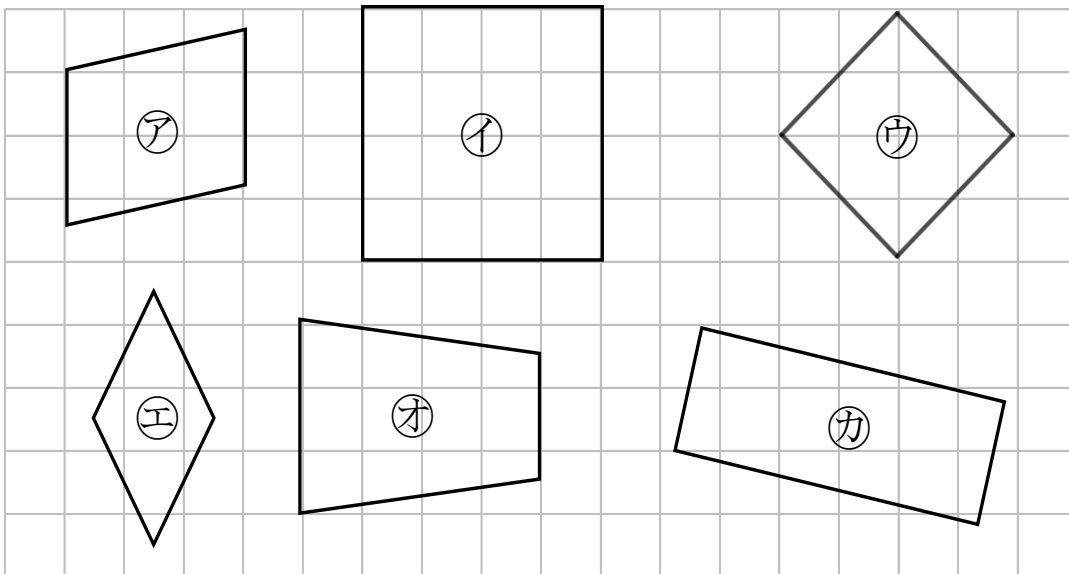
三角じょうぎをつかって、ぜんぶ見つけましょう。



答え： _____

2 正方形はどれですか。

三角じょうぎをつかって、ぜんぶ見つけましょう。



答え： _____



長方形と正方形 6

◎ 正方形を見つけよう

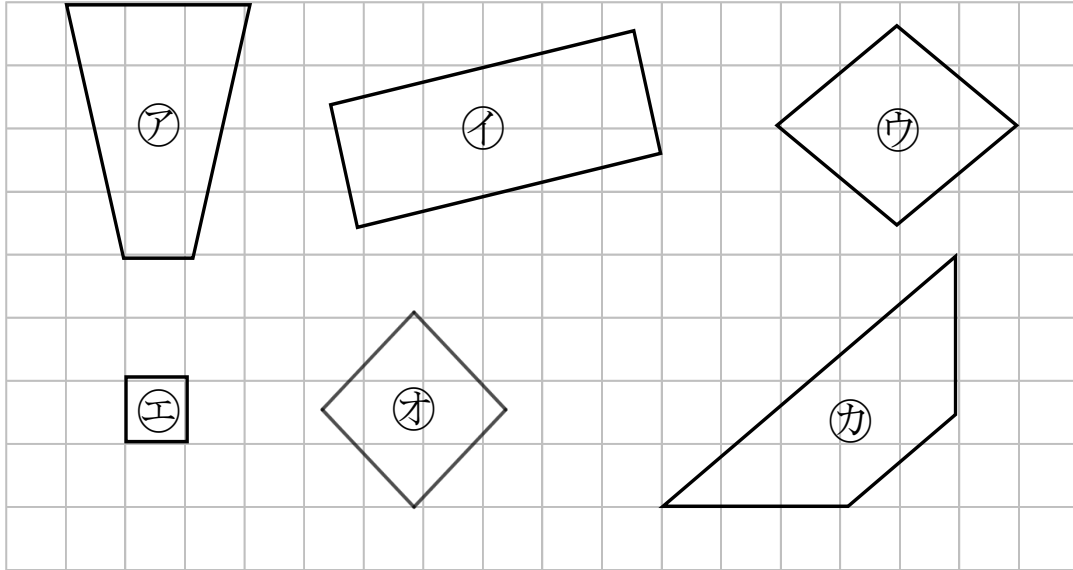


日にち： 月 日

名まえ _____

1 正方形はどれですか。

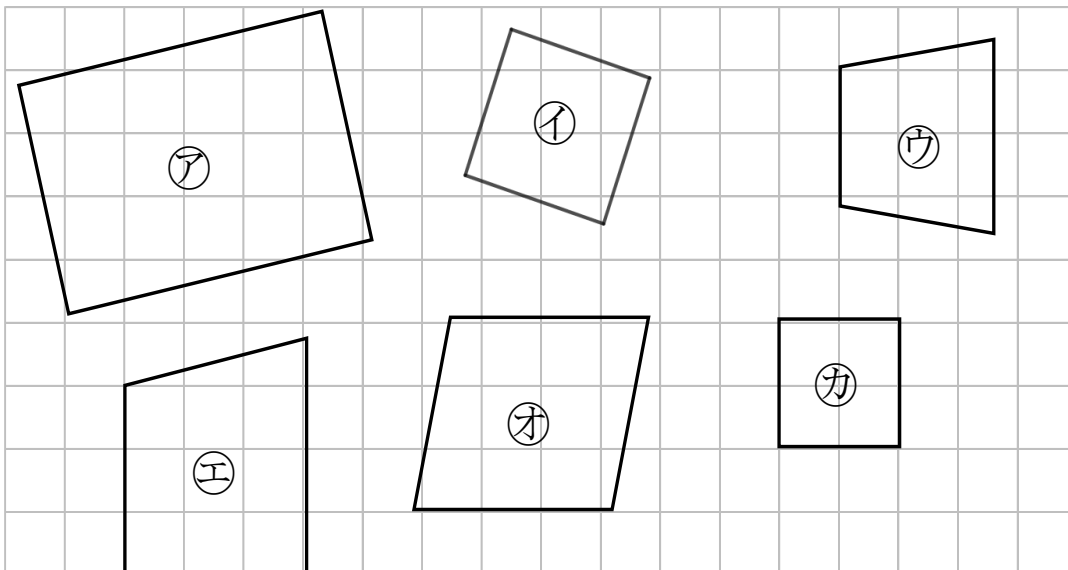
三角じょうぎをつかって、ぜんぶ見つけましょう。



答え： _____

2 正方形はどれですか。

三角じょうぎをつかって、ぜんぶ見つけましょう。



答え： _____



長方形と正方形 6

◎ 正方形を見つけよう

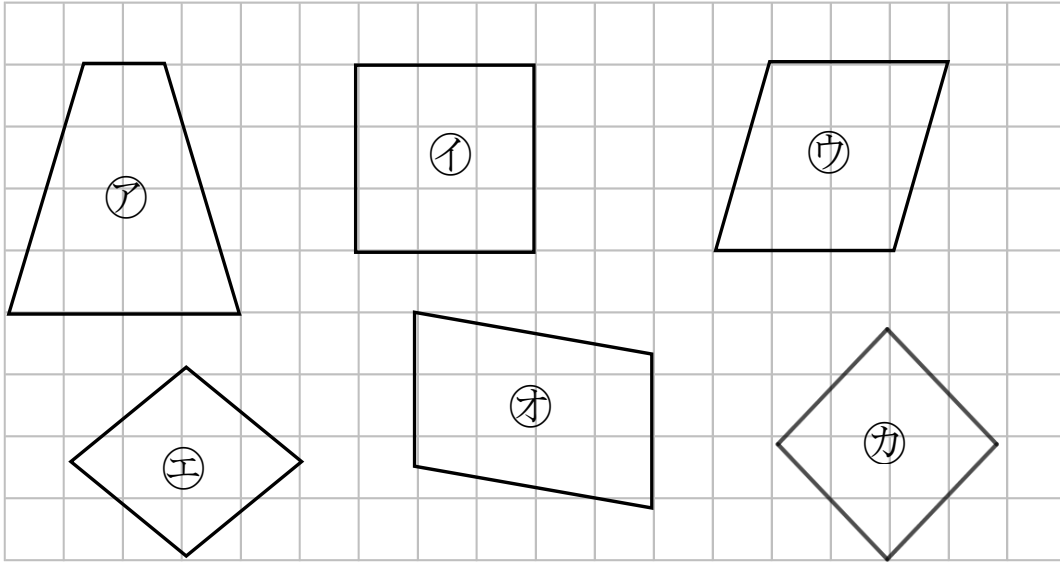
10

日にち： 月 日

名まえ _____

1 正方形はどれですか。

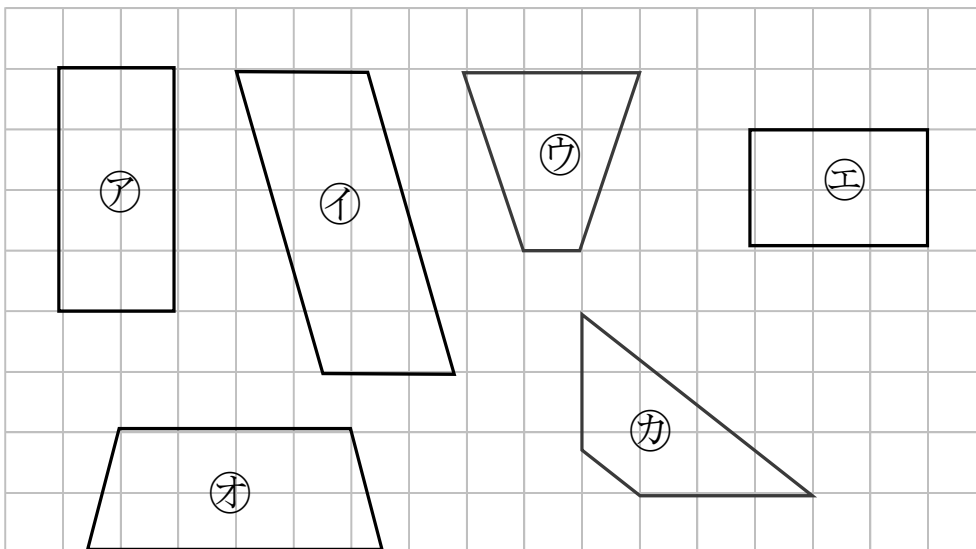
三角じょうぎをつかって、ぜんぶ見つけましょう。



答え： _____

2 長方形はどれですか。

三角じょうぎをつかって、ぜんぶ見つけましょう。



答え： _____



長方形と正方形 6

◎ 正方形を見つけよう

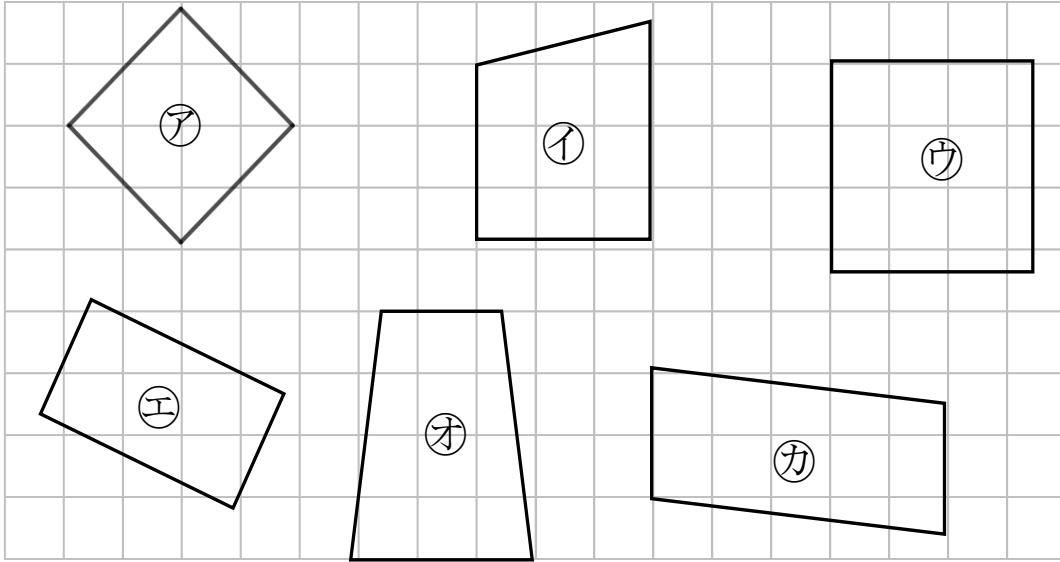


日にち： 月 日

名まえ _____

1 正方形はどれですか。

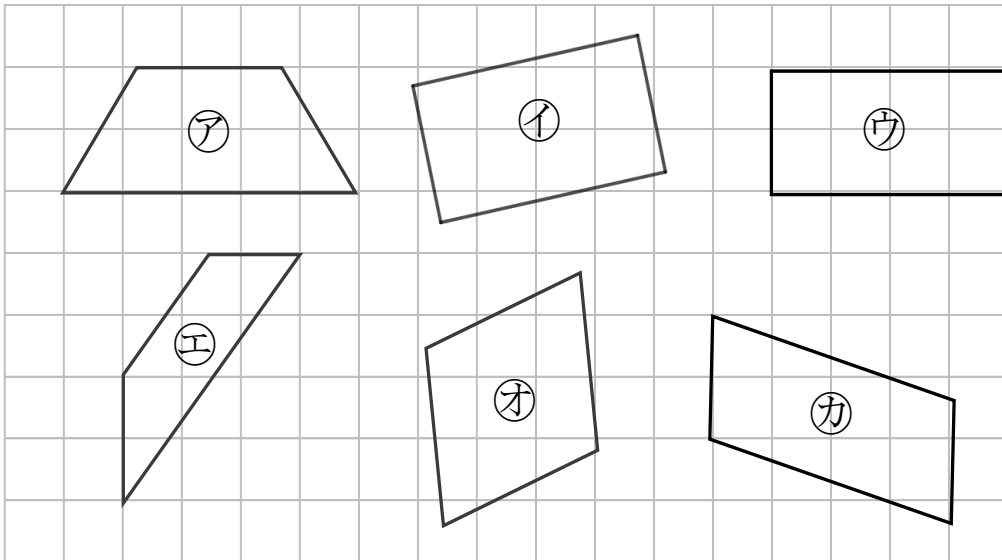
三角じょうぎをつかって、ぜんぶ見つけましょう。



答え： _____

2 長方形はどれですか。

三角じょうぎをつかって、ぜんぶ見つけましょう。



答え： _____



長方形と正方形 6

◎ 正方形を見つけよう

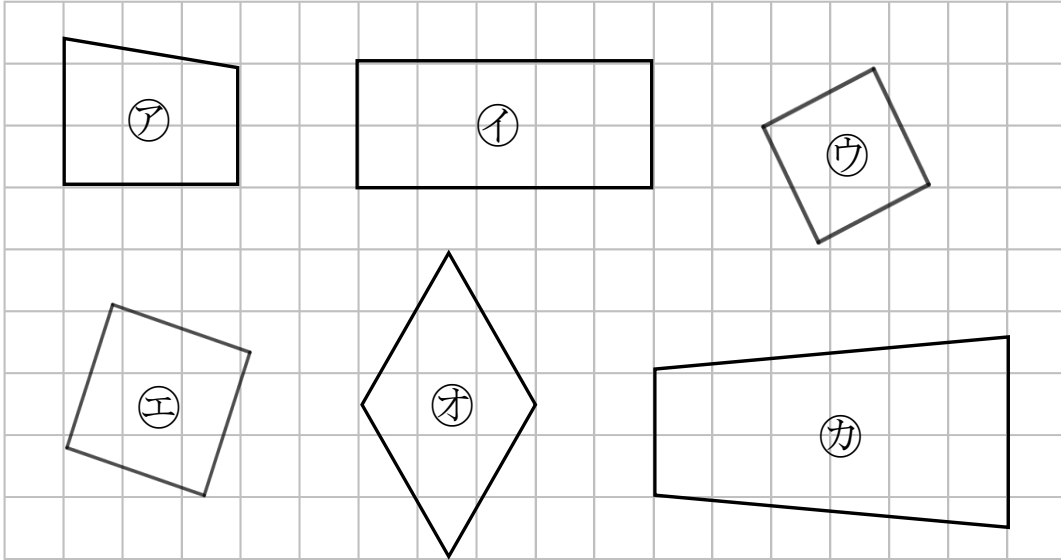
12

日にち： 月 日

名まえ _____

1 正方形はどれですか。

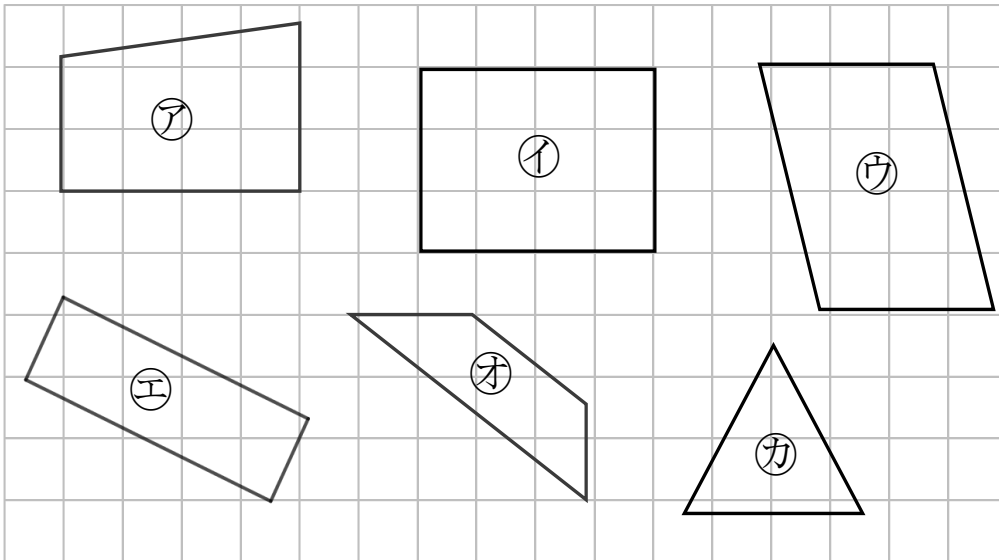
三角じょうぎをつかって、ぜんぶ見つけましょう。



答え：

2 長方形はどれですか。

三角じょうぎをつかって、ぜんぶ見つけましょう。



答え：



長方形と正方形 6

◎ 正方形を見つけよう

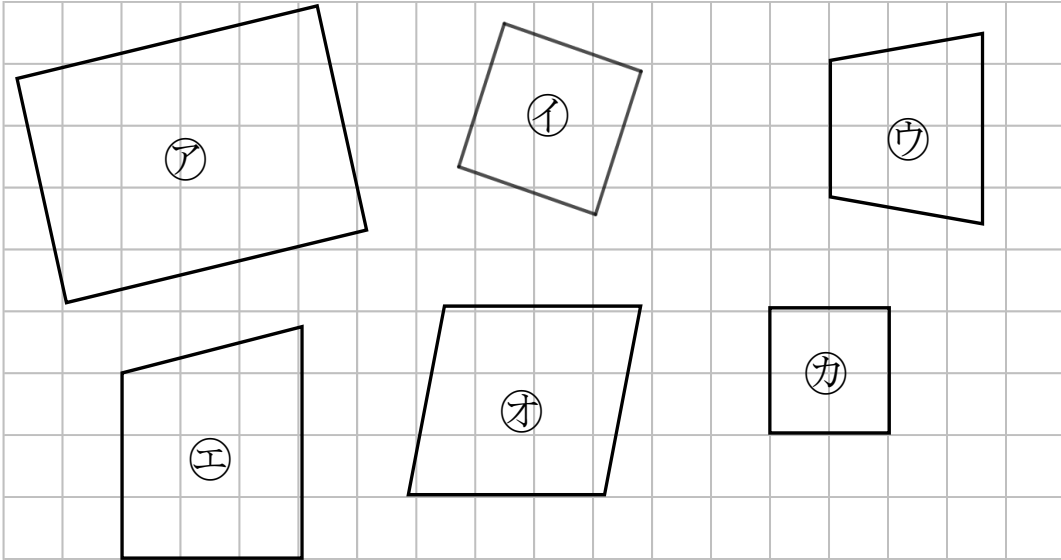
13

日にち： 月 日

名まえ _____

1 正方形はどれですか。

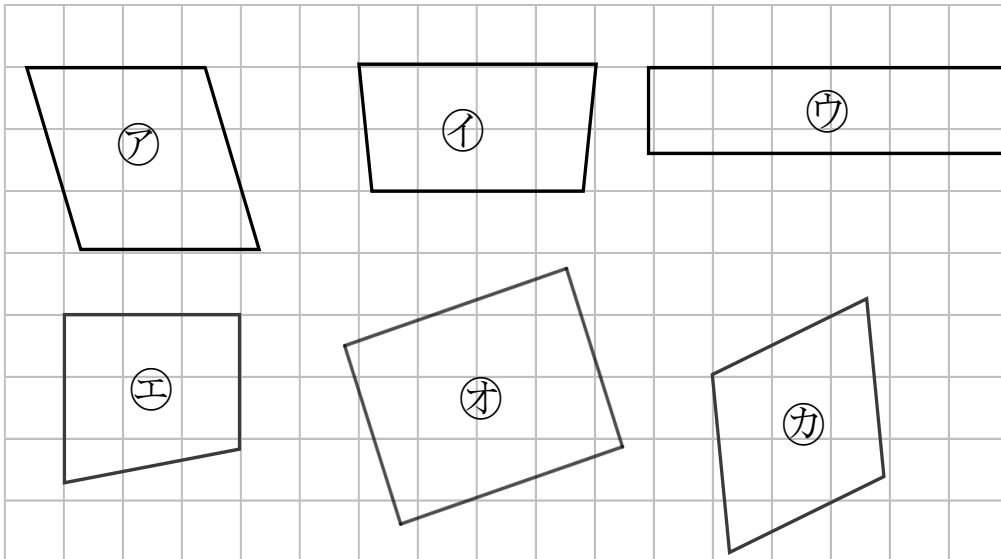
三角じょうぎをつかって、ぜんぶ見つけましょう。



答え： _____

2 長方形はどれですか。

三角じょうぎをつかって、ぜんぶ見つけましょう。



答え： _____



長方形と正方形 6

◎ 正方形を見つけよう

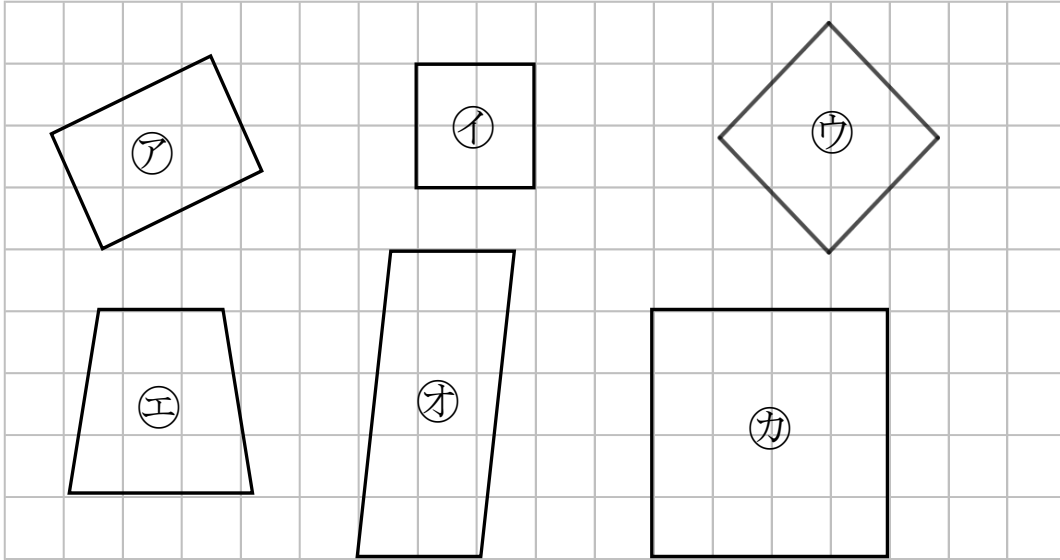
14

日にち： 月 日

名まえ _____

1 正方形はどれですか。

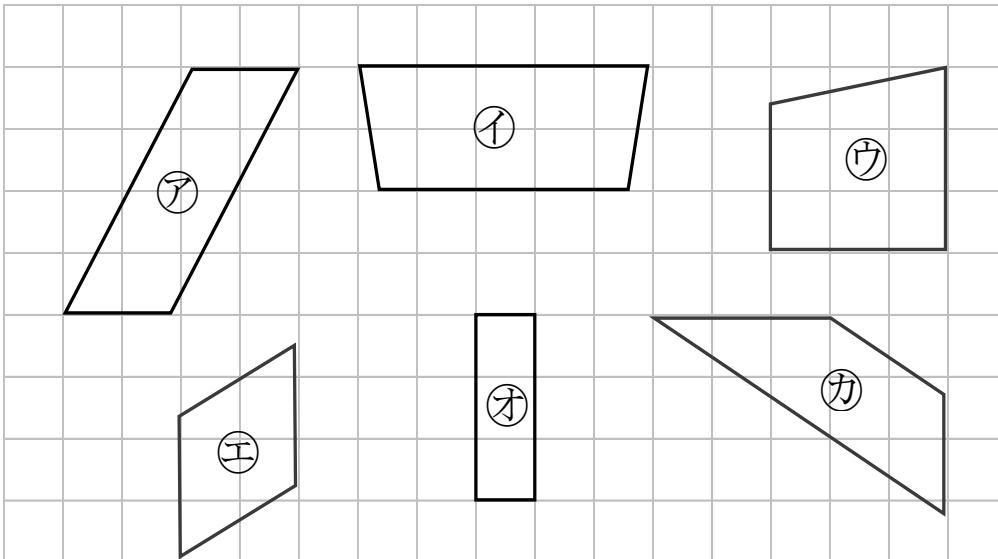
三角じょうぎをつかって、ぜんぶ見つけましょう。



答え：

2 長方形はどれですか。

三角じょうぎをつかって、ぜんぶ見つけましょう。



答え：




長方形と正方形 6

◎ 正方形を見つけよう

15

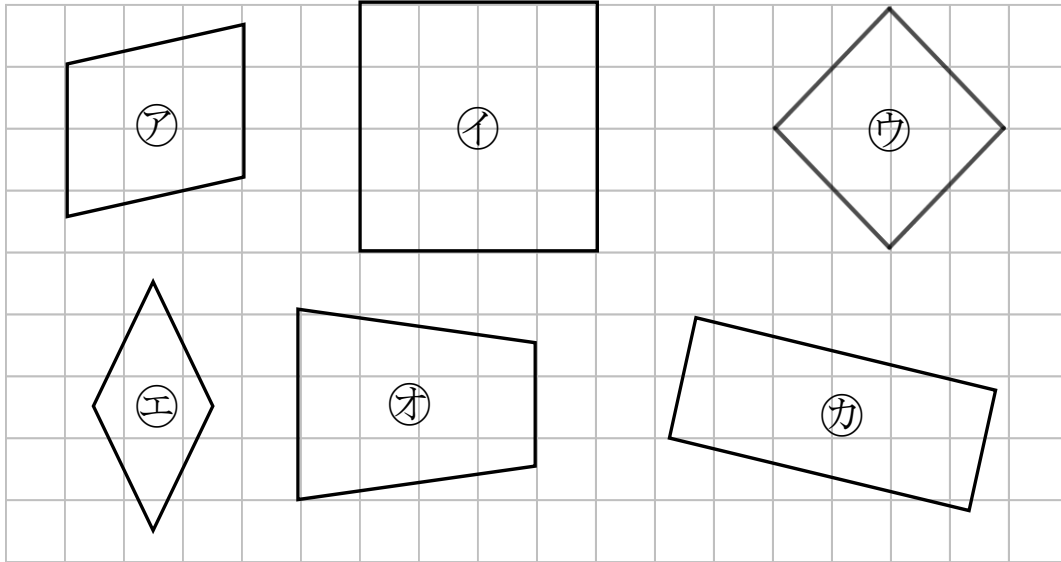
めざせ100点!



名まえ

1 正方形はどれですか。

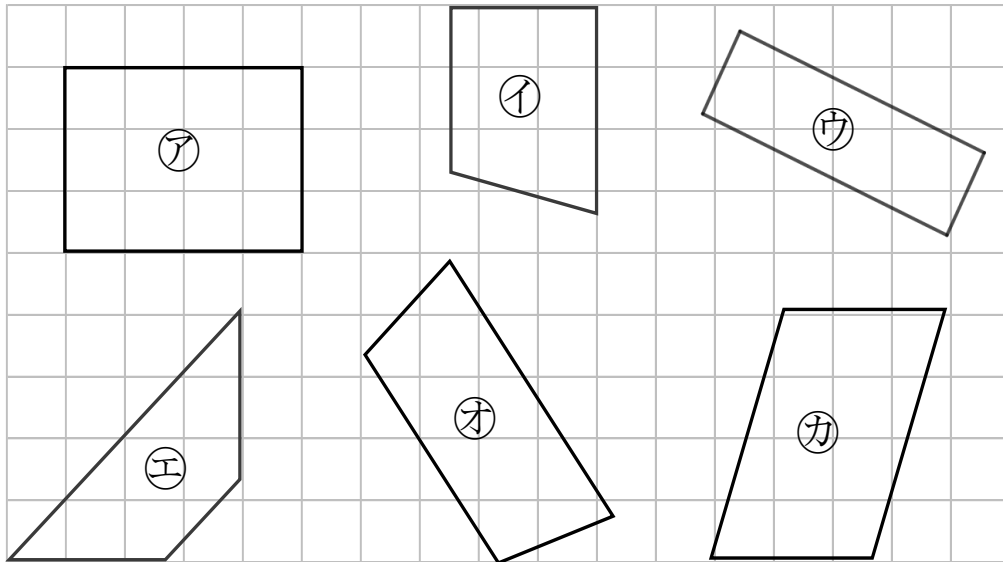
三角じょうぎをつかって、ぜんぶ見つけましょう。(50点)



答え：

2 長方形はどれですか。

三角じょうぎをつかって、ぜんぶ見つけましょう。(50点)



答え：




長方形と正方形 6

◎ 正方形を見つけよう

16

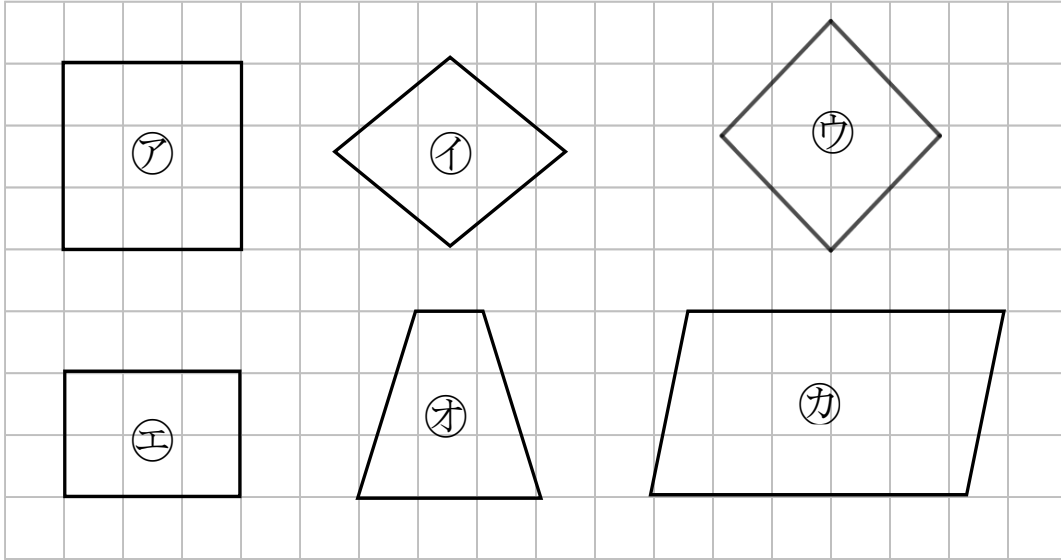
めざせ100点!



名まえ _____

1 正方形はどれですか。

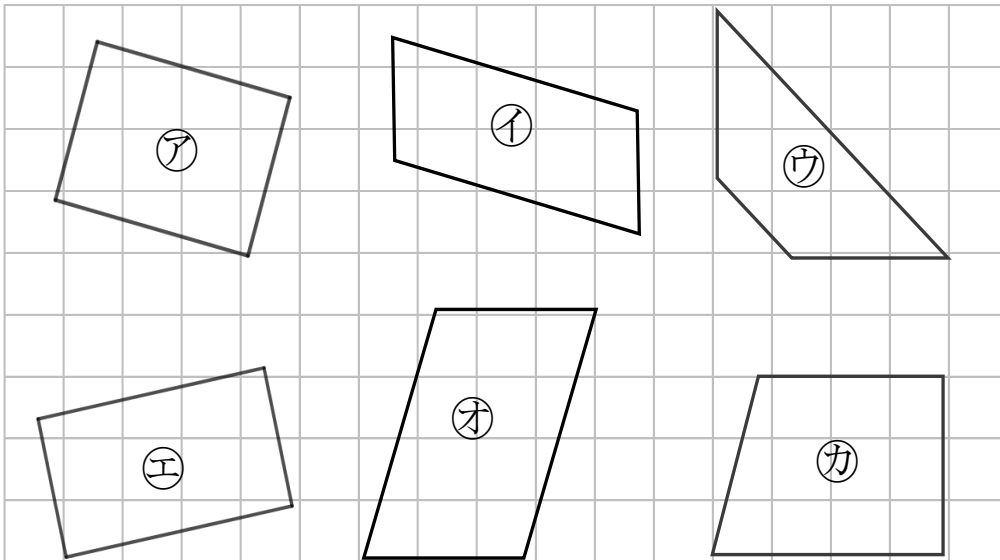
三角じょうぎをつかって、ぜんぶ見つけましょう。(50点)



答え： _____

2 長方形はどれですか。

三角じょうぎをつかって、ぜんぶ見つけましょう。(50点)



答え： _____



長方形と正方形 6

◎ 正方形を見つけよう



日にち： 月 日

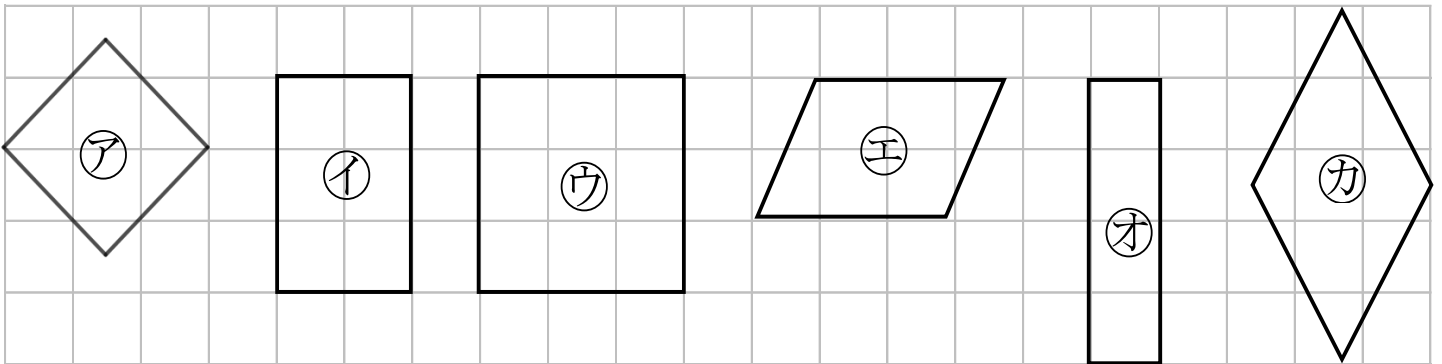
名まえ _____

・ つぎのもんだいに答えましょう。(うすい字はしっかりなぞりましょう。)

4つのかどがみんな直角で、

4つのへんの長さがみんな同じになっている四角形を

正方形 といいます。



① 4つのかどがみんな直角になっている形はどれですか。

答え： **ア, イ, ウ, オ**

② 4つのへんの長さがみんな同じになっている形はどれですか。

答え： **ア, ウ, カ**

③ 正方形はどれですか。

答え： **ア, ウ**



長方形と正方形 6

◎ 正方形を見つけよう

2

日にち： 月 日

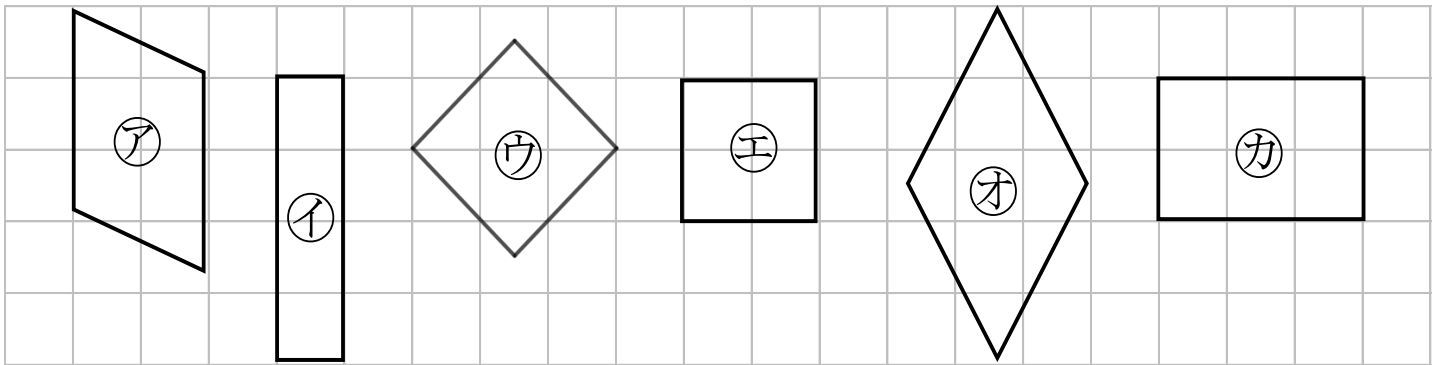
名まえ

・ つぎのもんだいに答えましょう。(うすい字はしっかりなぞりましょう。)

4つのかどがみんな直角で、

4つのへんの長さがみんな同じになっている四角形を

正方形 といいます。



① 4つのかどがみんな直角になっている形はどれですか。

答え： イ, ウ, エ, カ

② 4つのへんの長さがみんな同じになっている形はどれですか。

答え： ウ, エ, オ

③ 正方形はどれですか。

答え： ウ, エ



長方形と正方形 6

◎ 正方形を見つけよう

3

日にち： 月 日

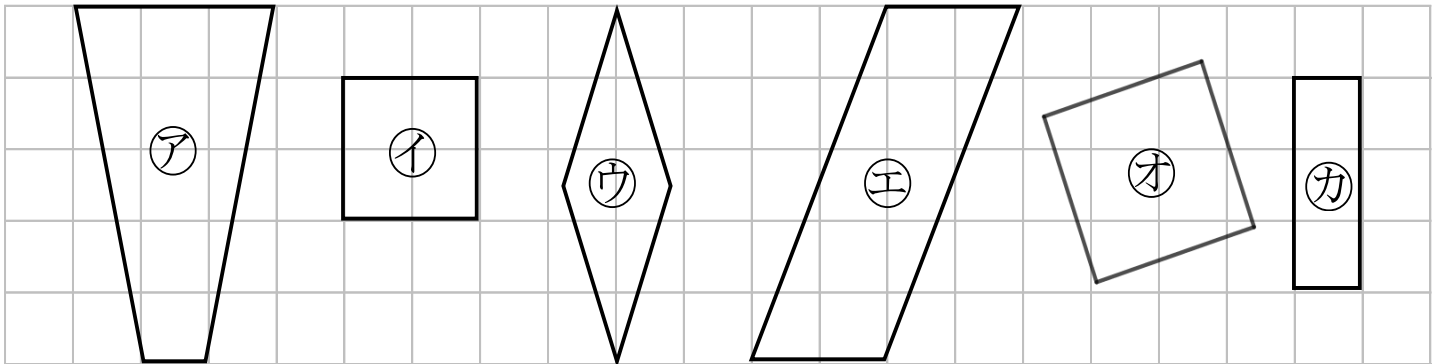
名まえ _____

・ つぎのもんだいに答えましょう。(うすい字はしっかりなぞりましょう。)

4つのかどがみんな直角で、

4つのへんの長さがみんな同じになっている四角形を

正方形 といいます。



① 4つのかどがみんな直角になっている形はどれですか。

答え： イ, オ, カ

② 4つのへんの長さがみんな同じになっている形はどれですか。

答え： イ, ウ, オ

③ 正方形はどれですか。

答え： イ, オ



長方形と正方形 6

◎ 正方形を見つけよう

4

日にち： 月 日

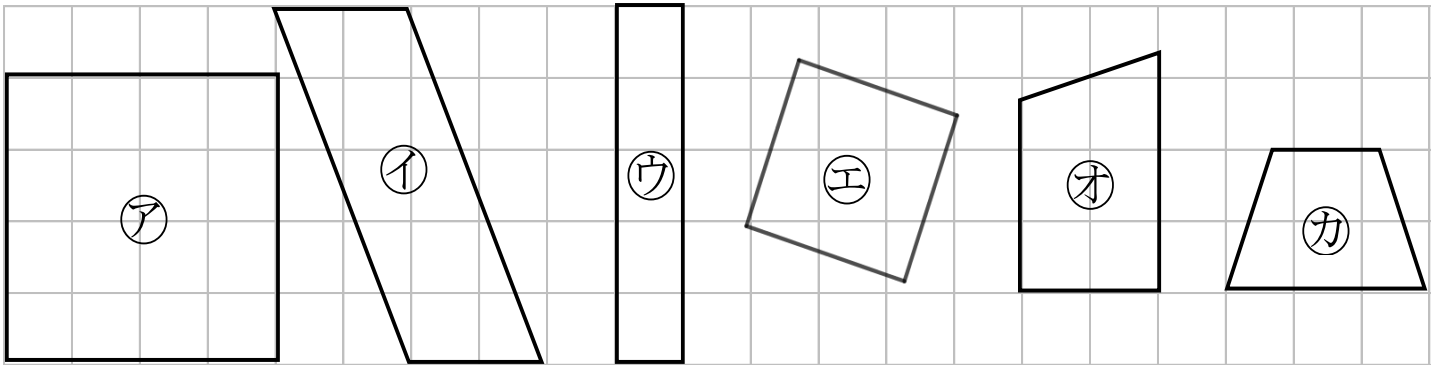
名まえ _____

・ つぎのもんだいに答えましょう。

4つのかどがみんな直角で、

4つのへんの長さがみんな同じになっている四角形を

正方形 といいます。



① 4つのかどがみんな直角になっている形はどれですか。

答え： ア, ウ, エ

② 4つのへんの長さがみんな同じになっている形はどれですか。

答え： ア, エ

③ 正方形はどれですか。

答え： ア, エ



長方形と正方形 6

5

◎ 正方形を見つけよう

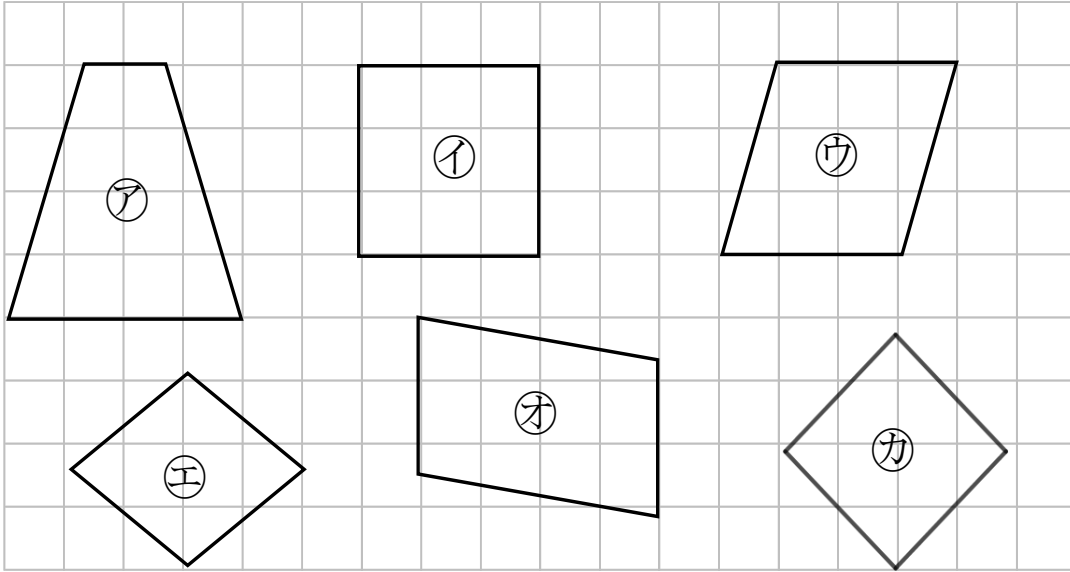
日にち： 月 日

名まえ _____

1 正方形はどれですか。

三角じょうぎをつかって、ぜんぶ見つけましょう。

(うすい字はしっかりなぞりましょう。)

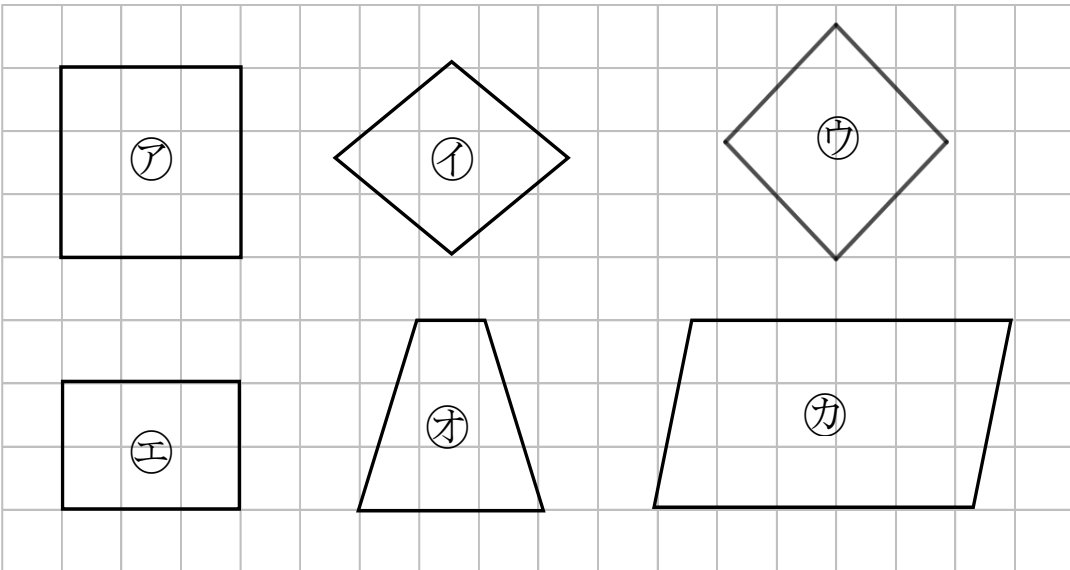


答え： イ , カ

2 正方形はどれですか。

三角じょうぎをつかって、ぜんぶ見つけましょう。

(うすい字はしっかりなぞりましょう。)



答え： ア , ウ



長方形と正方形 6

◎ 正方形を見つけよう



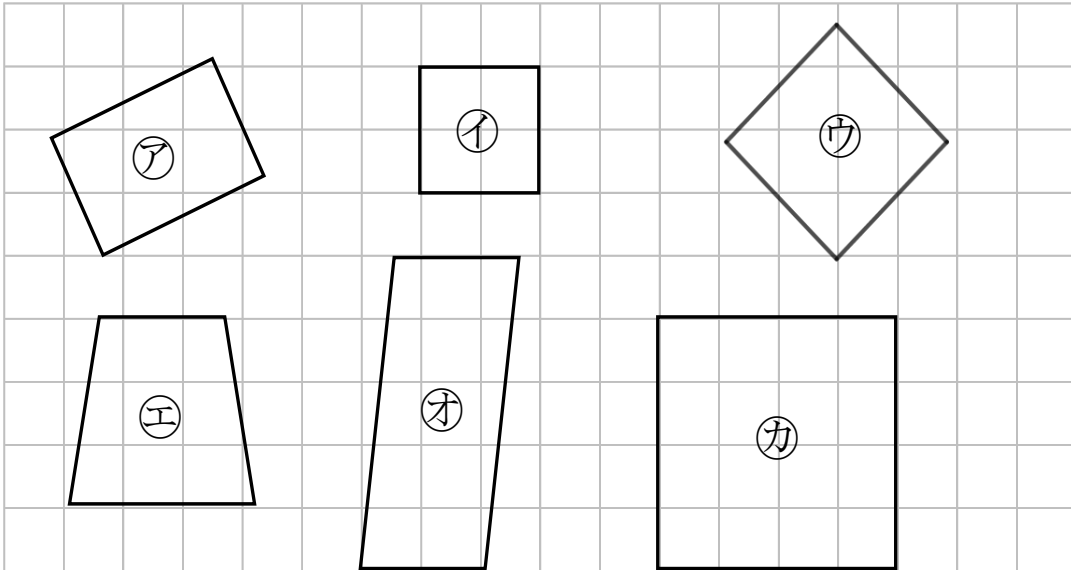
日にち： 月 日

名まえ _____

1 正方形はどれですか。

三角じょうぎをつかって、ぜんぶ見つけましょう。

(うすい字はしっかりなぞりましょう。)

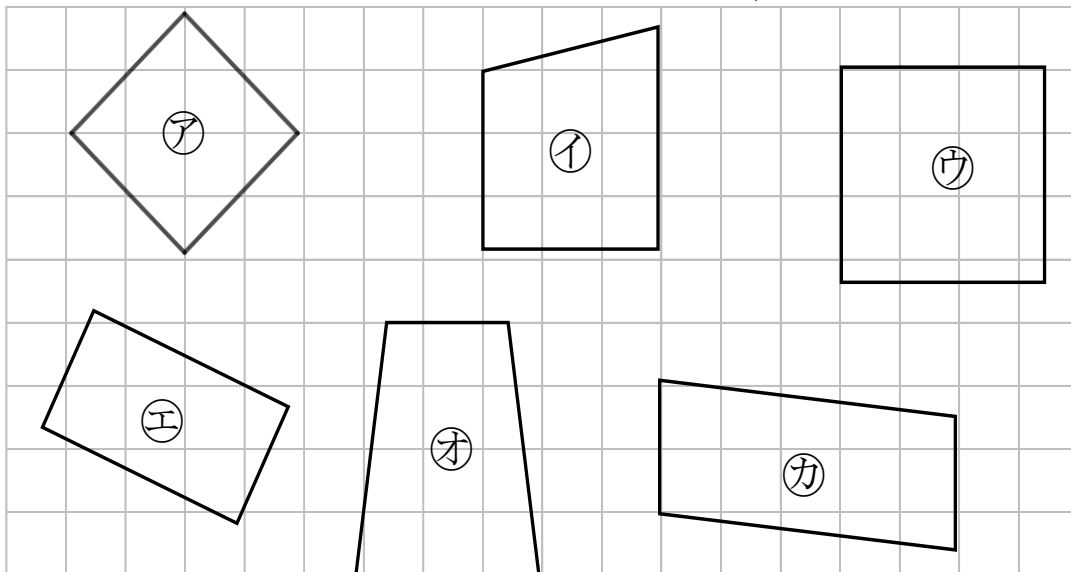


答え： **イ, ウ, カ**

2 正方形はどれですか。

三角じょうぎをつかって、ぜんぶ見つけましょう。

(うすい字はしっかりなぞりましょう。)



答え： **ア, ウ**



長方形と正方形 6

◎ 正方形を見つけよう



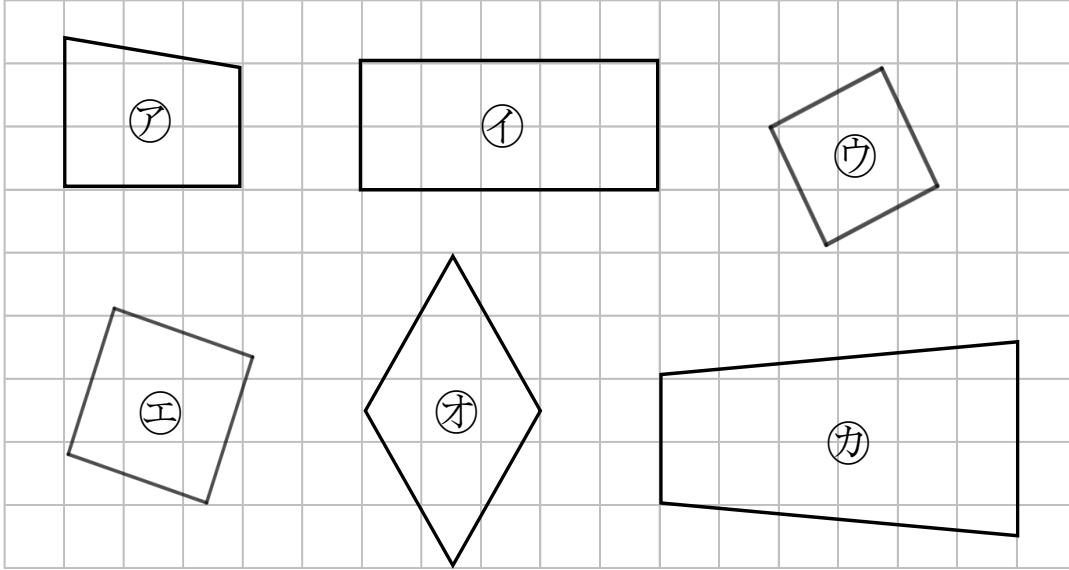
日にち： 月 日

名まえ _____

1 正方形はどれですか。

三角じょうぎをつかって、ぜんぶ見つけましょう。

(うすい字はしっかりなぞりましょう。)

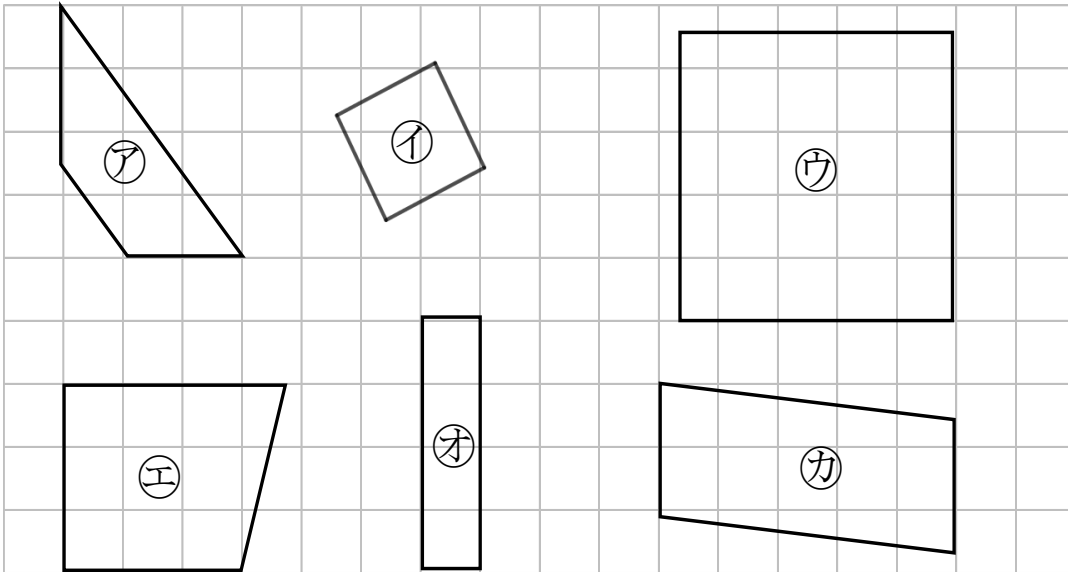


答え：  , 

2 正方形はどれですか。

三角じょうぎをつかって、ぜんぶ見つけましょう。

(うすい字はしっかりなぞりましょう。)



答え：  , 



長方形と正方形 6

◎ 正方形を見つけよう

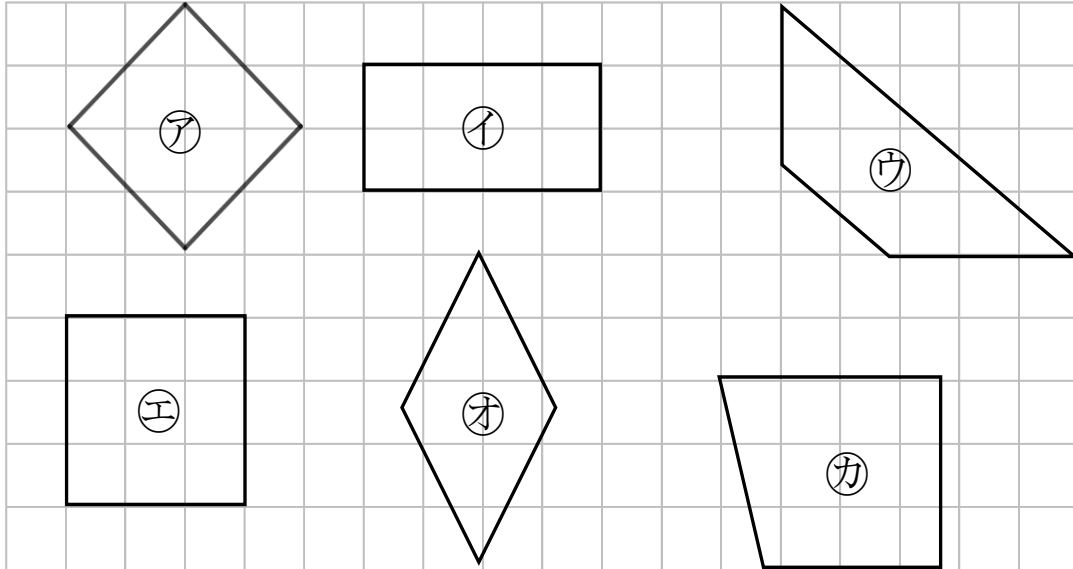


日にち： 月 日

名まえ _____

1 正方形はどれですか。

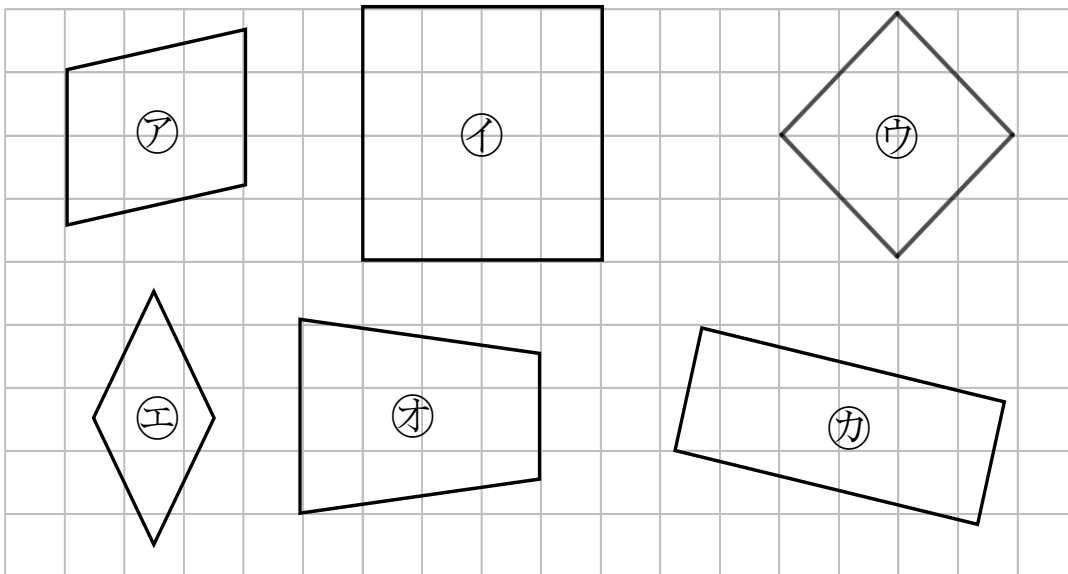
三角じょうぎをつかって、ぜんぶ見つけましょう。



答え： ア , エ

2 正方形はどれですか。

三角じょうぎをつかって、ぜんぶ見つけましょう。



答え： イ , ウ



長方形と正方形 6

◎ 正方形を見つけよう

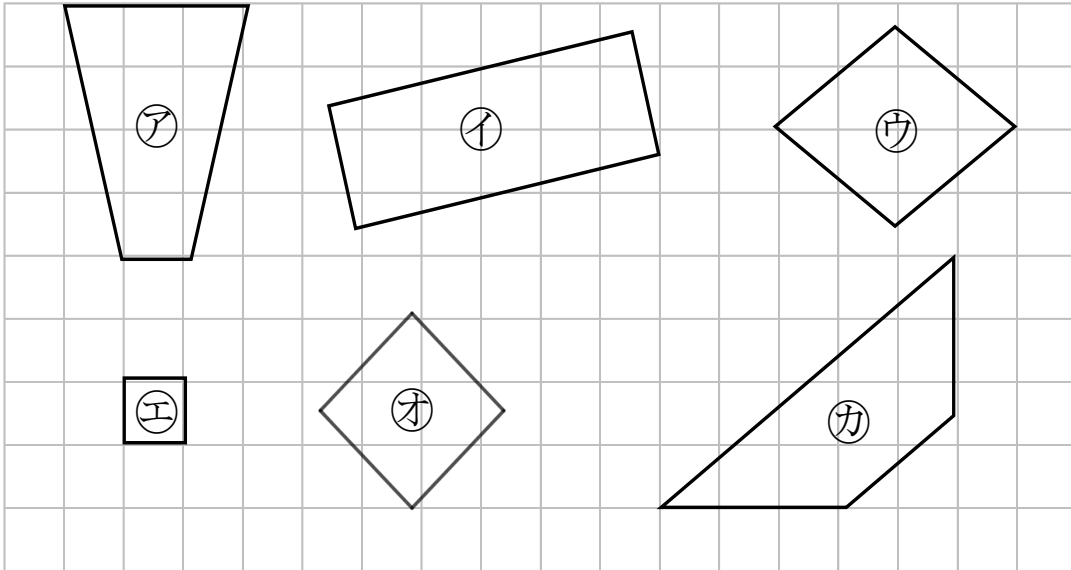


日にち： 月 日

名まえ _____

1 正方形はどれですか。

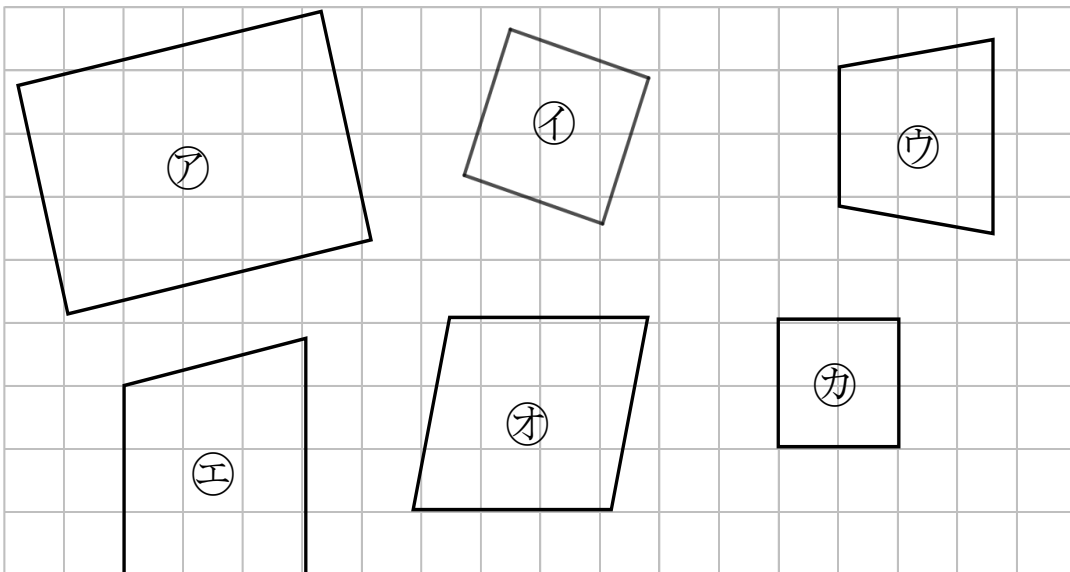
三角じょうぎをつかって、ぜんぶ見つけましょう。



答え： **エ** , **オ**

2 正方形はどれですか。

三角じょうぎをつかって、ぜんぶ見つけましょう。



答え： **イ** , **カ**



長方形と正方形 6

◎ 正方形を見つけよう

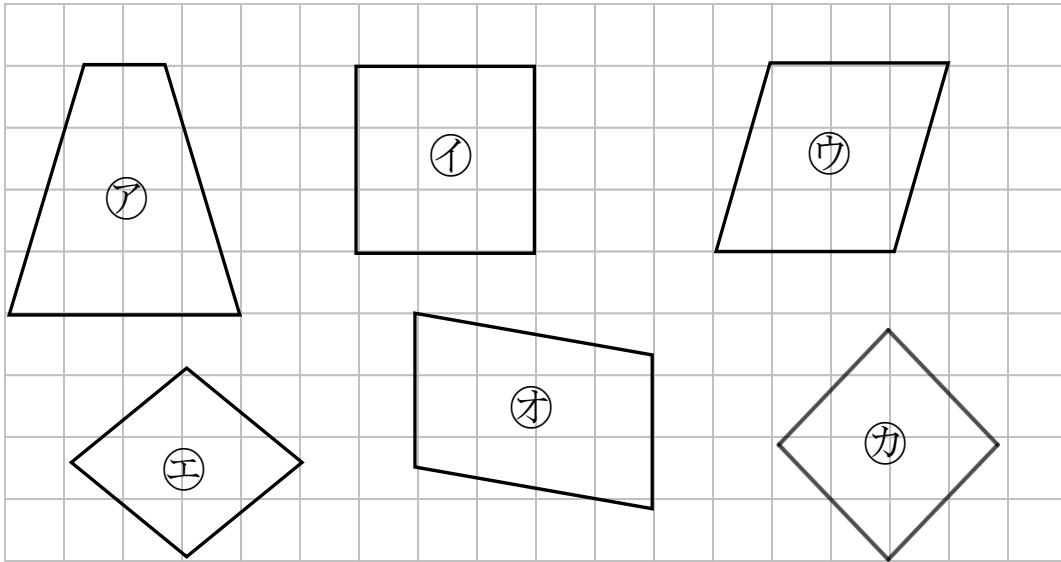
10

日にち： 月 日

名まえ _____

1 正方形はどれですか。

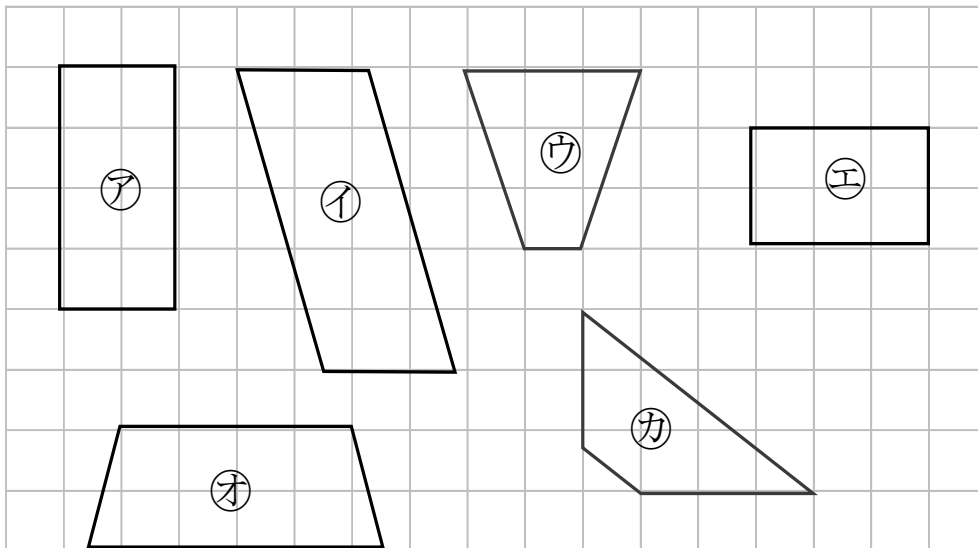
三角じょうぎをつかって、ぜんぶ見つけましょう。



答え： **イ** , **カ**

2 長方形はどれですか。

三角じょうぎをつかって、ぜんぶ見つけましょう。



答え： **ア** , **エ**



長方形と正方形 6

◎ 正方形を見つけよう

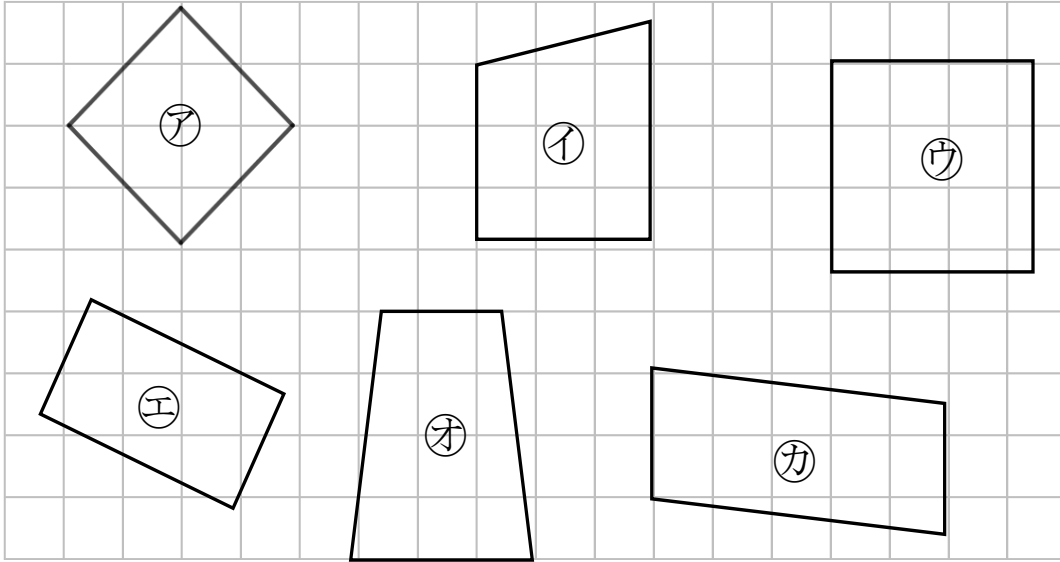


日にち： 月 日

名まえ _____

1 正方形はどれですか。

三角じょうぎをつかって、ぜんぶ見つけましょう。

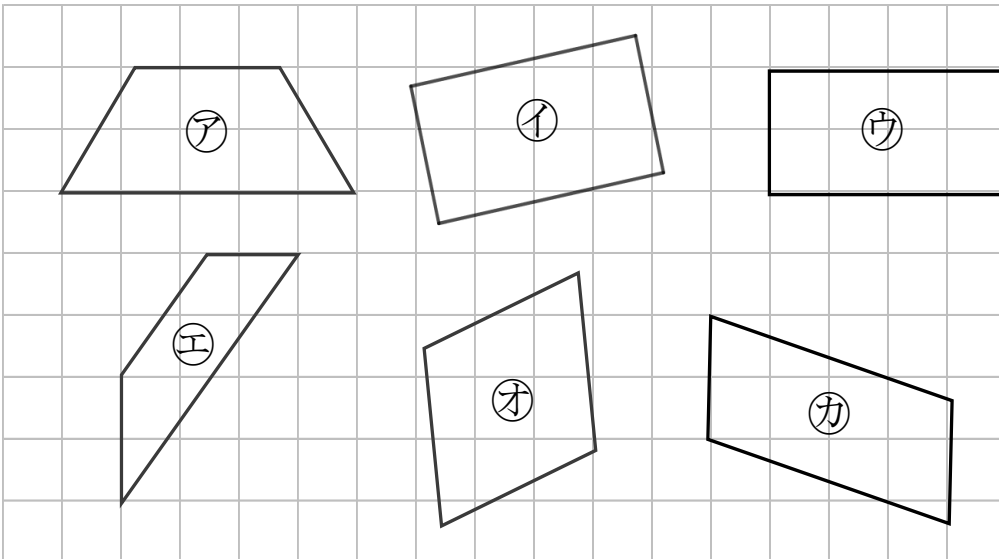


答え：

ア, ウ

2 長方形はどれですか。

三角じょうぎをつかって、ぜんぶ見つけましょう。



答え：

イ, ウ





長方形と正方形 6

◎ 正方形を見つけよう

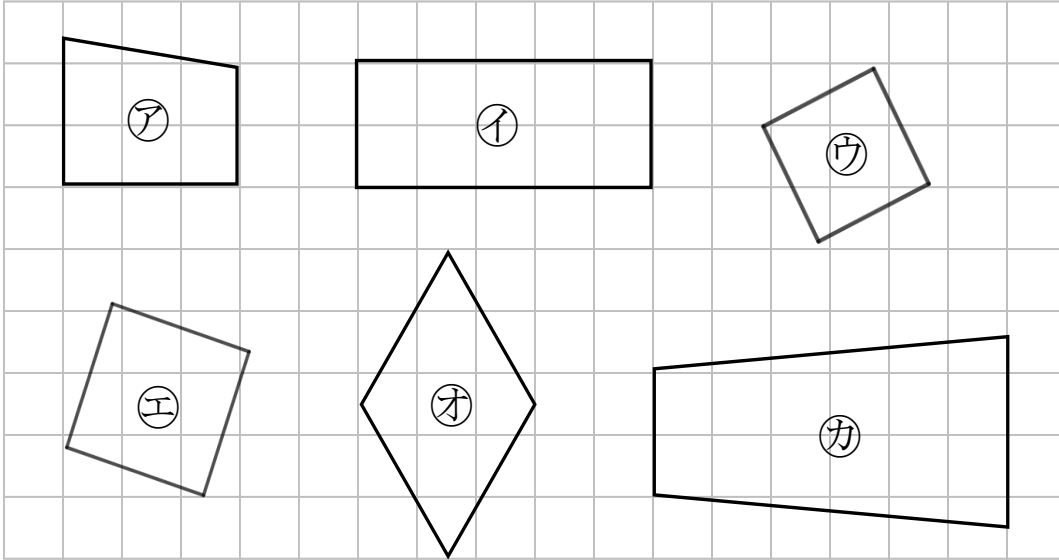
12

日にち： 月 日

名まえ _____

1 正方形はどれですか。

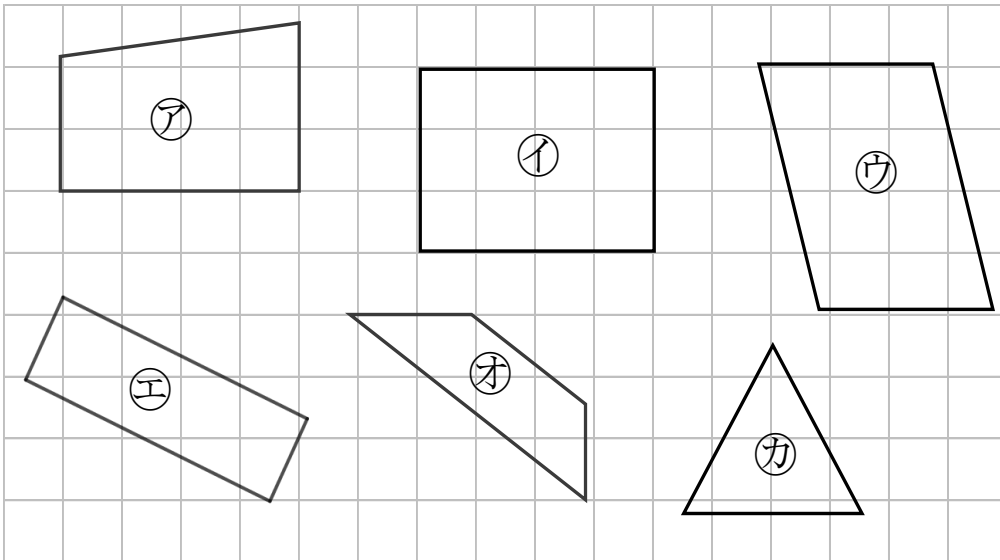
三角じょうぎをつかって、ぜんぶ見つけましょう。



答え： **ウ** , **エ**

2 長方形はどれですか。

三角じょうぎをつかって、ぜんぶ見つけましょう。



答え： **イ** , **エ**



長方形と正方形 6

◎ 正方形を見つけよう

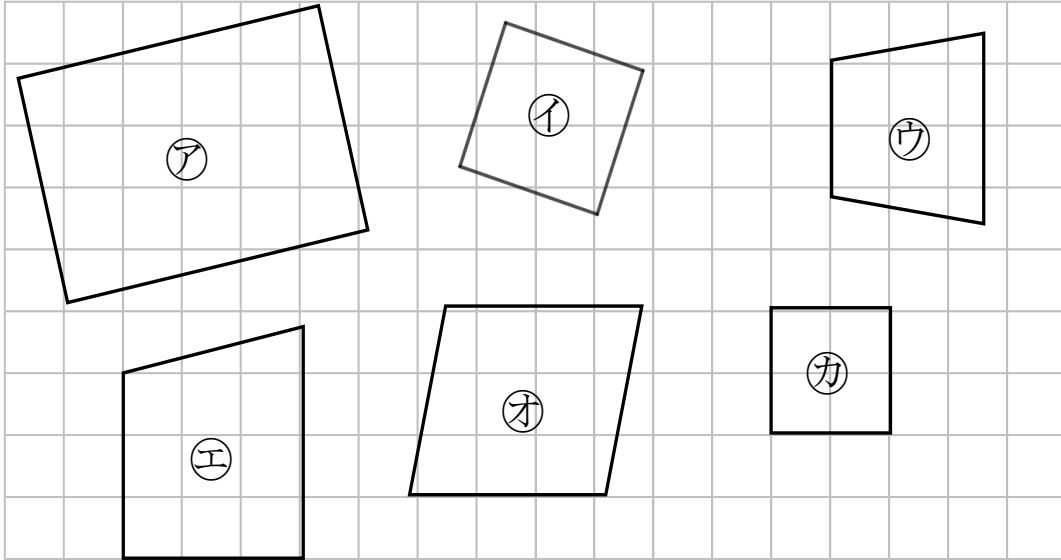
13

日にち： 月 日

名まえ _____

1 正方形はどれですか。

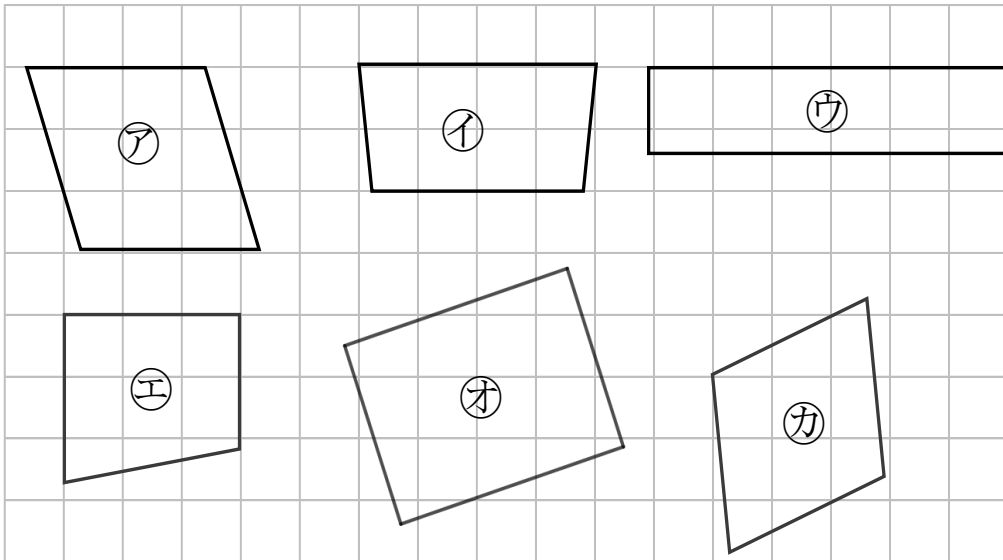
三角じょうぎをつかって、ぜんぶ見つけましょう。



答え： **イ** , **カ**

2 長方形はどれですか。

三角じょうぎをつかって、ぜんぶ見つけましょう。



答え： **ウ** , **オ**



長方形と正方形 6

◎ 正方形を見つけよう

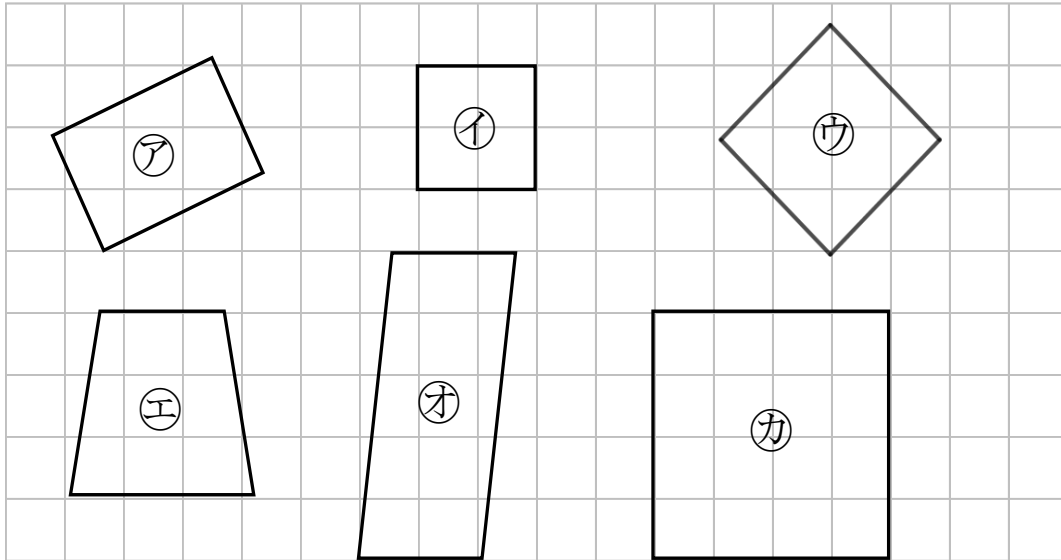
14

日にち： 月 日

名まえ _____

1 正方形はどれですか。

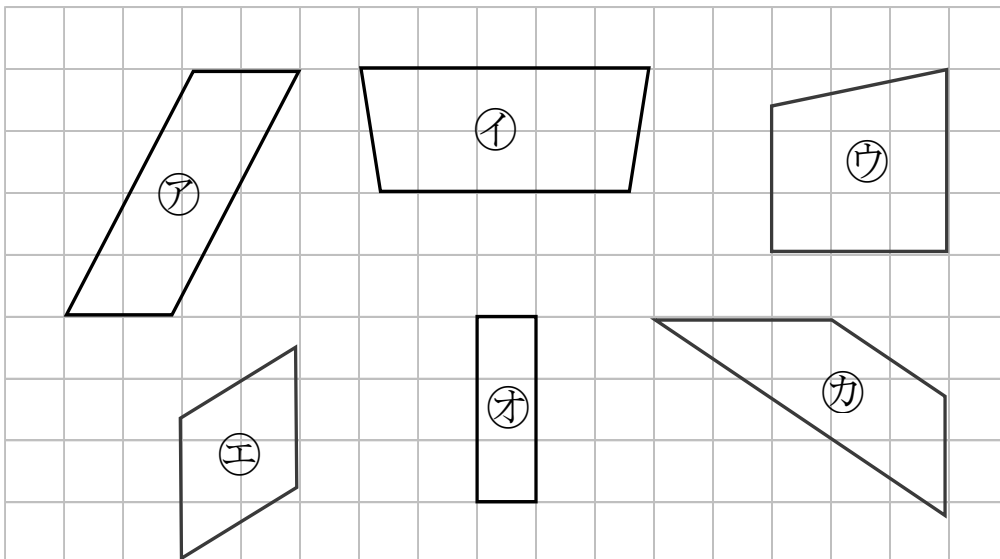
三角じょうぎをつかって、ぜんぶ見つけましょう。



答え： **イ, ウ, カ**

2 長方形はどれですか。

三角じょうぎをつかって、ぜんぶ見つけましょう。



答え： **オ**




長方形と正方形 6

◎ 正方形を見つけよう

15

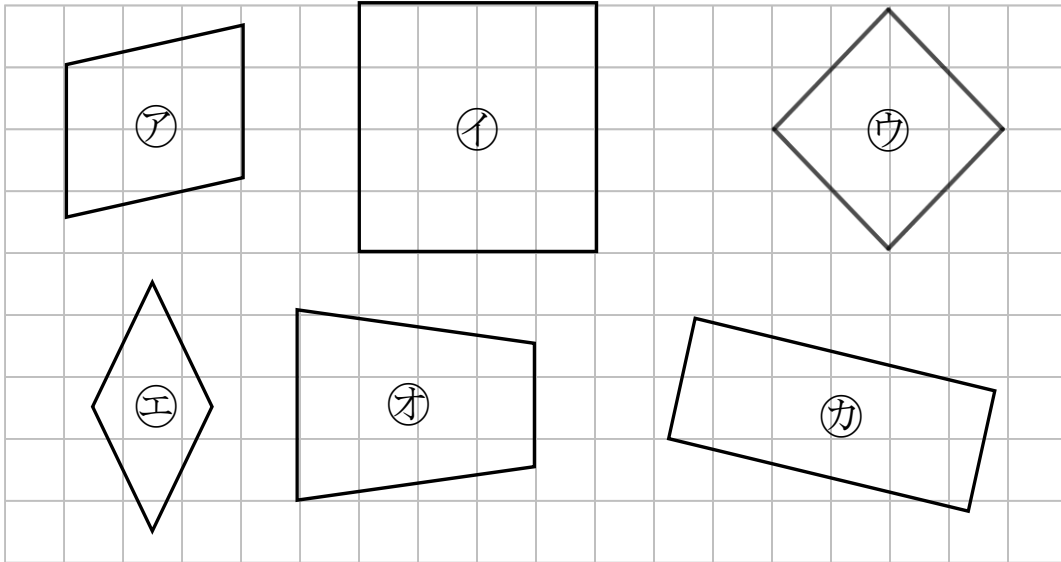
めざせ100点!



名まえ _____

1 正方形はどれですか。

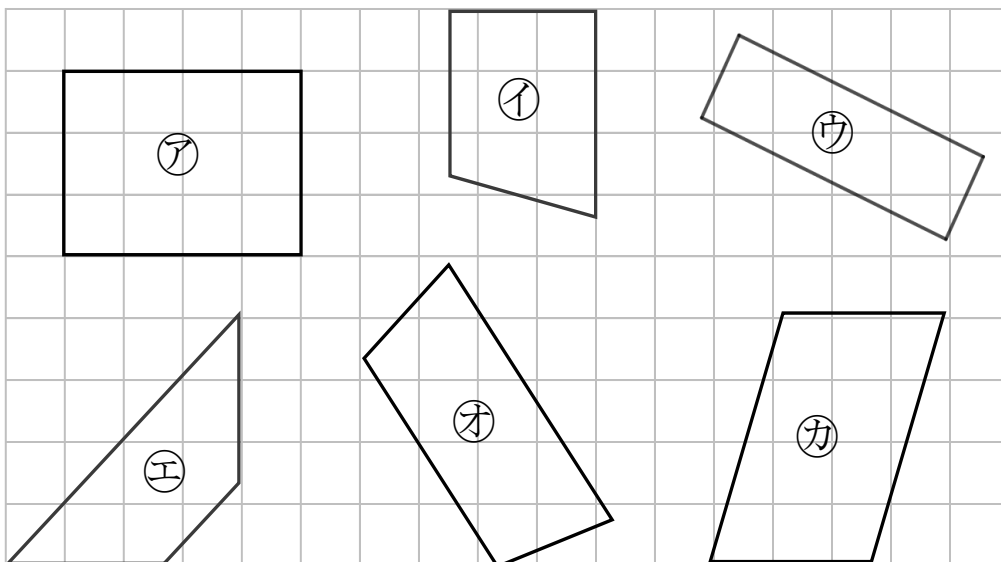
三角じょうぎをつかって、ぜんぶ見つけましょう。(50点)



答え： **イ** , **ウ**

2 長方形はどれですか。

三角じょうぎをつかって、ぜんぶ見つけましょう。(50点)



答え： **ア** , **ウ**



長方形と正方形 6

● 正方形を見つけよう

16

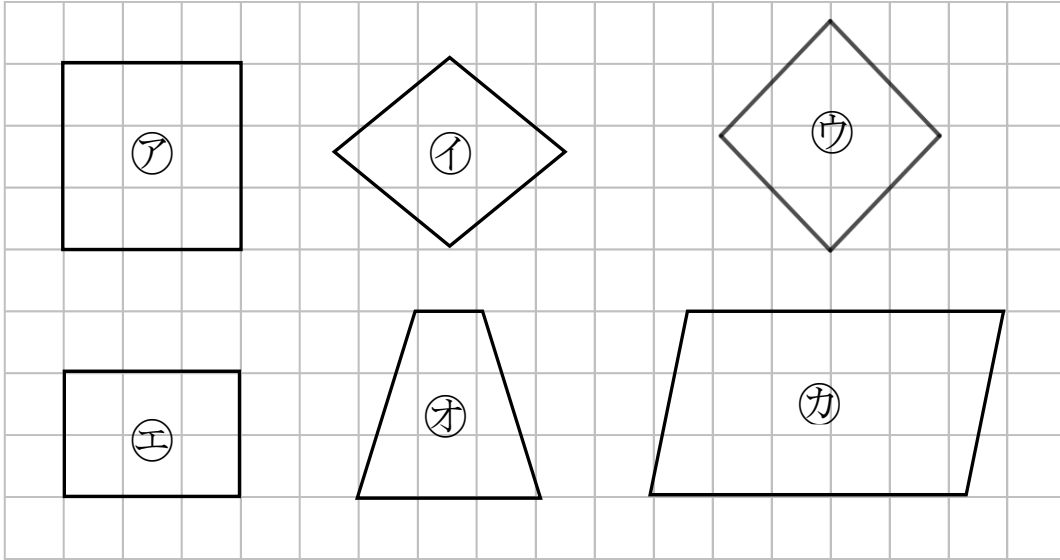
めざせ100点!



名まえ _____

1 正方形はどれですか。

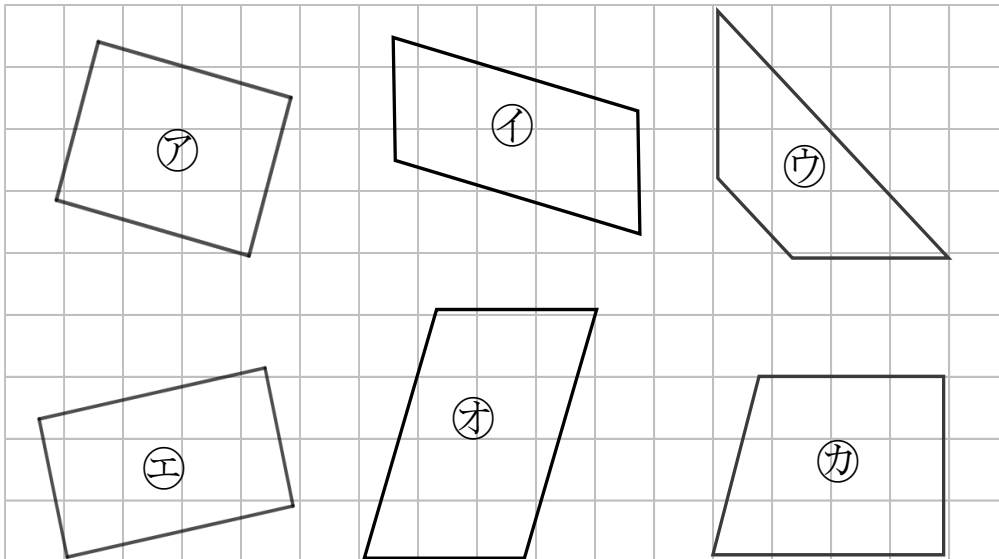
三角じょうぎをつかって、ぜんぶ見つけましょう。(50点)



答え： **ア** , **ウ**

2 長方形はどれですか。

三角じょうぎをつかって、ぜんぶ見つけましょう。(50点)



答え： **ア** , **エ**