



## 長方形と正方形 8

◎ 長方形や直角三角形をかいてみよう




日にち： 月 日


名まえ \_\_\_\_\_

・ つぎの形をかきましょう。(うすい線はなぞりましょう。)

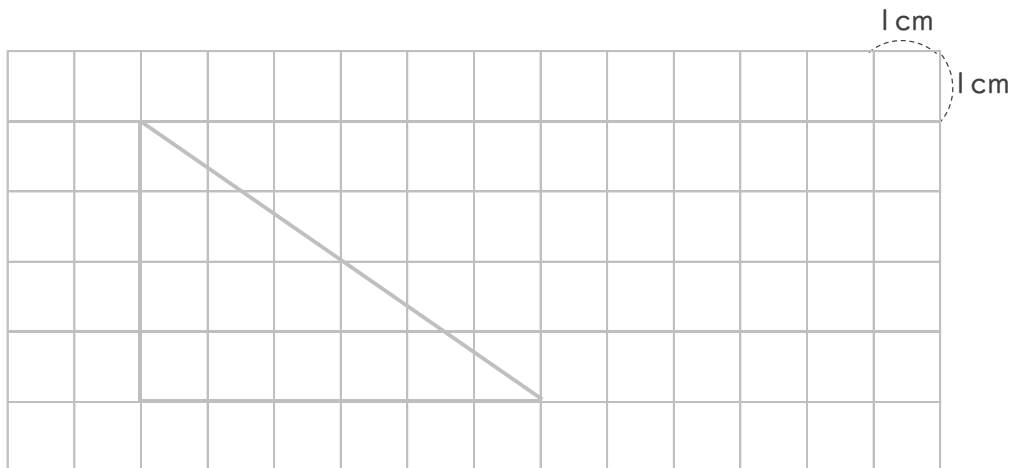
① たて4 cm、よこ6 cmの長方形。



② 1つのへんの長さが3 cmの正方形。



③ 4 cmのへんと6 cmのへんの間に、直角のかどがある直角三角形。





## 長方形と正方形 8

● 長方形や直角三角形をかいてみよう




日にち： 月 日


名まえ \_\_\_\_\_

・ つぎの形をかきましょう。(うすい線はなぞりましょう。)


① たて2 cm、よこ5 cmの長方形。



② 1つのへんの長さが5 cmの正方形。



③ 4 cmのへんと5 cmのへんの間に、直角のかどがある直角三角形。





## 長方形と正方形 8

◎ 長方形や直角三角形をかいてみよう




日にち： 月 日


名まえ \_\_\_\_\_

・ つぎの形をかきましょう。(うすい線はなぞりましょう。)


① たて3 cm、よこ6 cmの長方形。



② 1つのへんの長さが3 cmの正方形。



③ 3 cmのへんと7 cmのへんの間に、直角のかどがある直角三角形。





## 長方形と正方形 8

● 長方形や直角三角形をかいてみよう




日にち： 月 日


名まえ \_\_\_\_\_

・ つぎの形をかきましょう。(うすい線はなぞりましょう。)


① たて4 cm、よこ8 cmの長方形。



② 1つのへんの長さが2 cmの正方形。



③ 6 cmのへんと5 cmのへんの間に、直角のかどがある直角三角形。





## 長方形と正方形 8

● 長方形や直角三角形をかいてみよう




日にち： 月 日


名まえ \_\_\_\_\_

・ つぎの形をかきましょう。(うすい線はなぞりましょう。)


① たて4 cm、よこ5 cmの長方形。



② 1つのへんの長さが3 cmの正方形。



③ 4 cmのへんと3 cmのへんの間に、直角のかどがある直角三角形。





## 長方形と正方形 8

● 長方形や直角三角形をかいてみよう

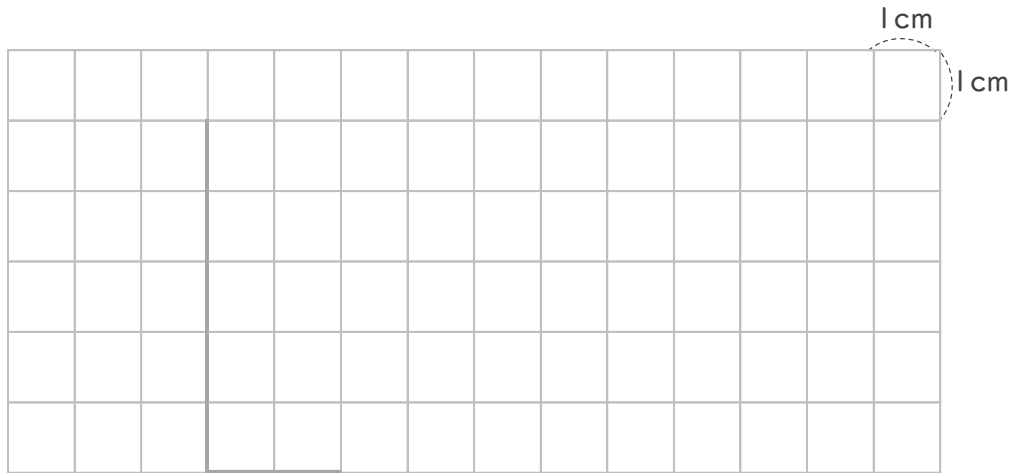


日にち： 月 日


名まえ \_\_\_\_\_

・ つぎの形をかきましょう。(うすい線はなぞりましょう。)


① 5 cmのへんと 2 cmのへんの間に、直角のかどがある直角三角形。



② たて3 cm、よこ8 cmの長方形。



③ 1つのへんの長さが 2 cmの正方形。





## 長方形と正方形 8

● 長方形や直角三角形をかいてみよう




日にち： 月 日


名まえ \_\_\_\_\_

・ つぎの形をかきましょう。(うすい線はなぞりましょう。)


① 2 cmのへんと 6 cmのへんの間に、直角のかどがある直角三角形。



② たて6 cm、よこ7 cmの長方形。



③ 1つのへんの長さが 5 cmの正方形。





## 長方形と正方形 8

● 長方形や直角三角形をかいてみよう




日にち： 月 日


名まえ \_\_\_\_\_

・ つぎの形をかきましょう。


① 1つのへんの長さが4cmの正方形。



② 3cmのへんと7cmのへんの間に、直角のかどがある直角三角形。



③ たて1cm、よこ8cmの長方形。







## 長方形と正方形 8

● 長方形や直角三角形をかいてみよう




日にち： 月 日


名まえ \_\_\_\_\_

・ つぎの形をかきましょう。

① たて4cm、よこ8cmの長方形。



② 6cmのへんと7cmのへんの間に、直角のかどがある直角三角形。



③ 1つのへんの長さが3cmの正方形。





## 長方形と正方形 8

● 長方形や直角三角形をかいてみよう

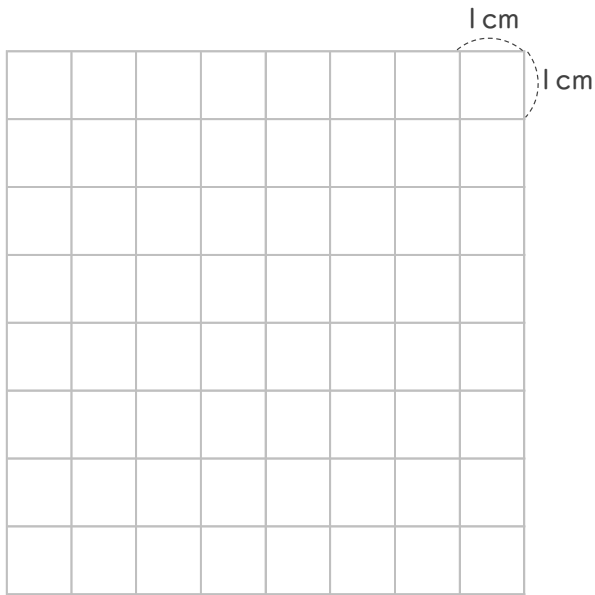


日にち： 月 日

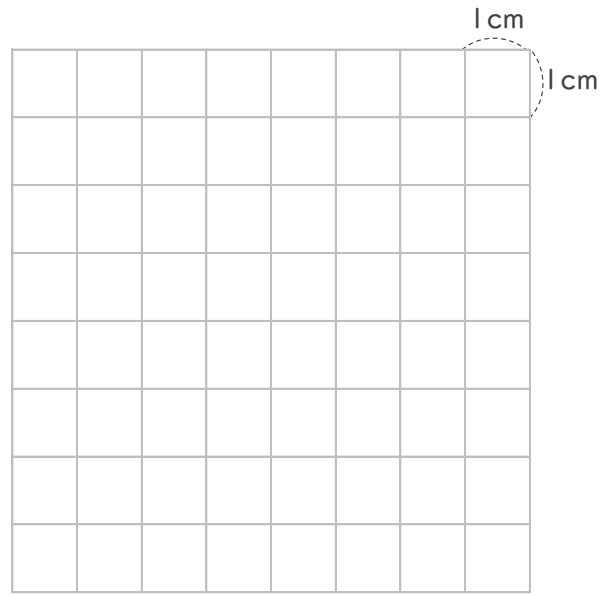
名まえ \_\_\_\_\_

1 つぎの形をかきましょう。

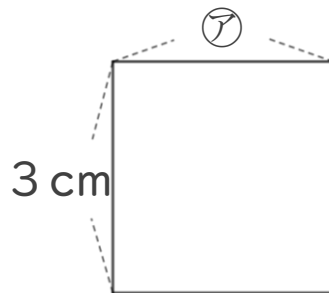
① たて5cm よこ6cmの長方形。



② 4cmのへんと5cmのへんの間に直角のかどがある直角三角形。



2 つぎの形は正方形です。つぎのもんだいに答えましょう。



① アのへんの長さは、何cmですか。

答え： \_\_\_\_\_

② この正方形のまわりの長さは何cmですか。

しき：

答え： \_\_\_\_\_



## 長方形と正方形 8

● 長方形や直角三角形をかいてみよう

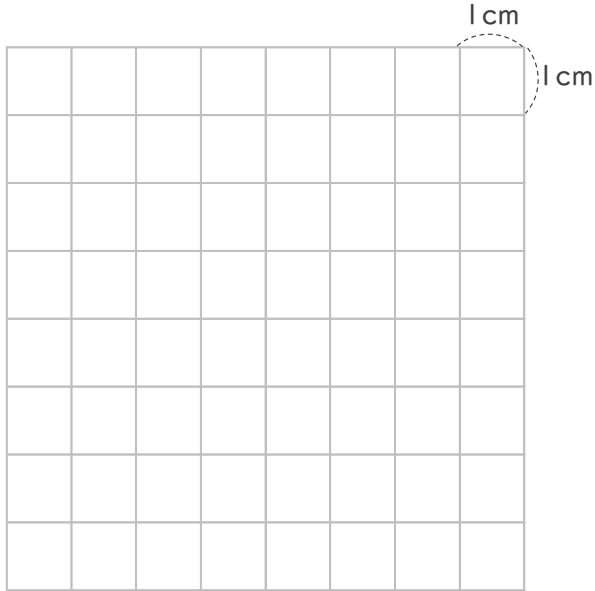


日にち： 月 日

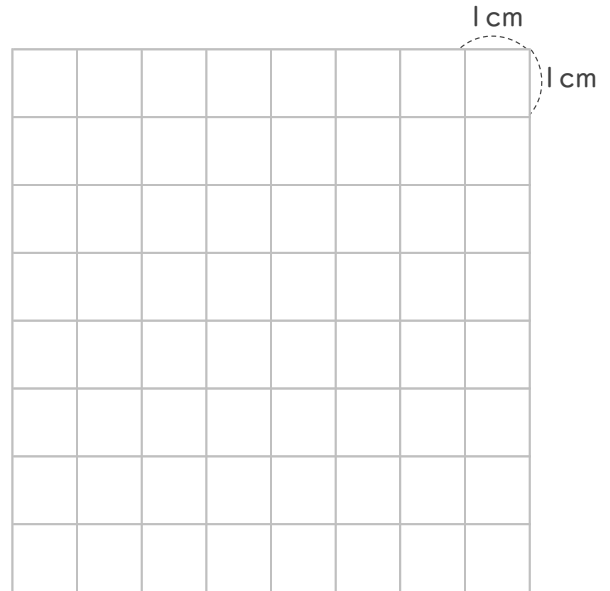
名まえ \_\_\_\_\_

1 つぎの形をかきましょう。

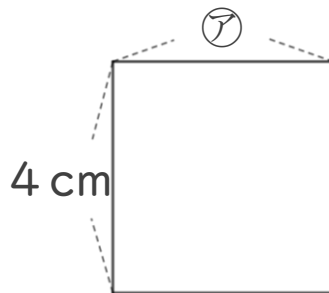
- ① 1つのへんの長さが6cmの正方形。



- ② 5cmのへんと7cmのへんの間に直角のかどがある直角三角形。



2 つぎの形は正方形です。つぎのもんだいに答えましょう。



- ① アのへんの長さは、何cmですか。

答え： \_\_\_\_\_

- ② この正方形のまわりの長さは何cmですか。

しき：

答え： \_\_\_\_\_



## 長方形と正方形 8

● 長方形や直角三角形をかいてみよう

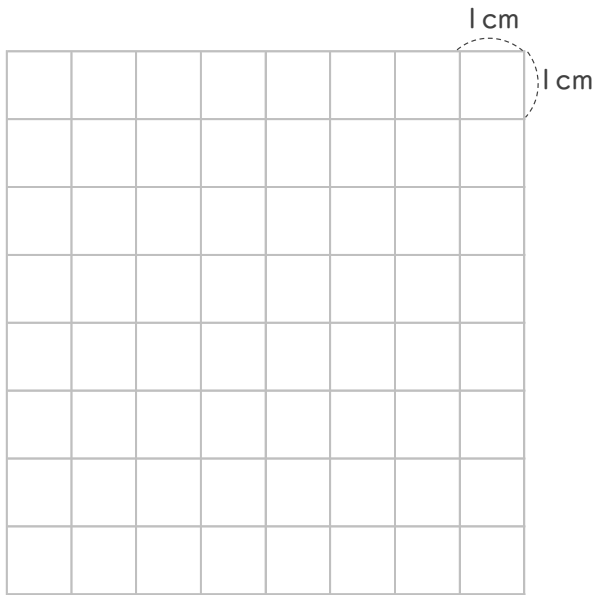


日にち： 月 日

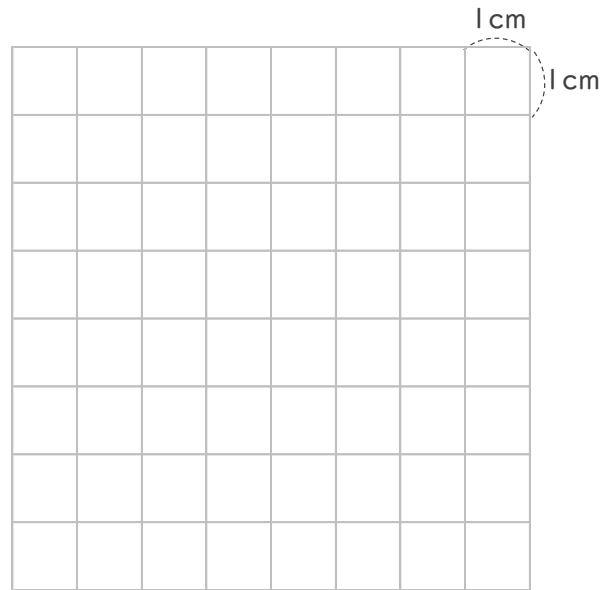
名まえ \_\_\_\_\_

1 つぎの形をかきましょう。

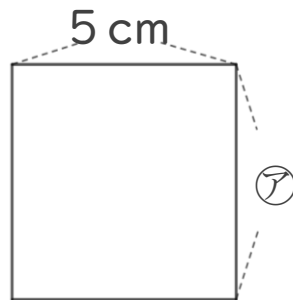
① たて8cm よこ2cmの長方形。



② 1つのへんの長さが5cmの正方形。



2 つぎの形は正方形です。つぎのもんだいに答えましょう。



① アのへんの長さは、何cmですか。

答え： \_\_\_\_\_

② この正方形のまわりの長さは何cmですか。

しき：

答え： \_\_\_\_\_



## 長方形と正方形 8

● 長方形や直角三角形をかいてみよう

13

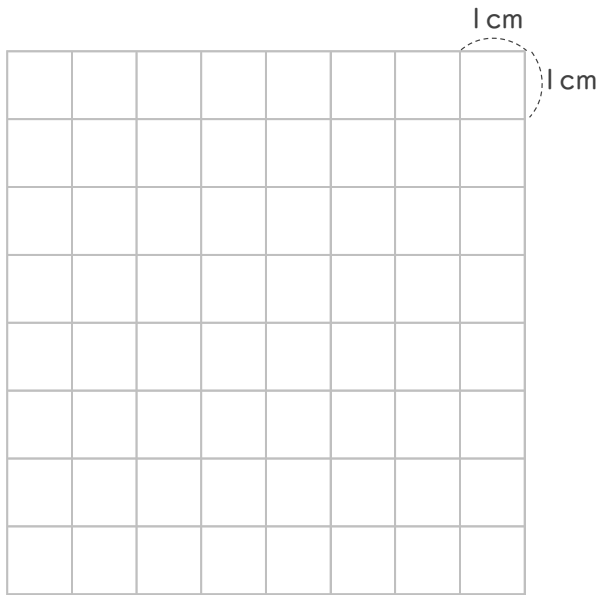
日にち： 月 日

名まえ

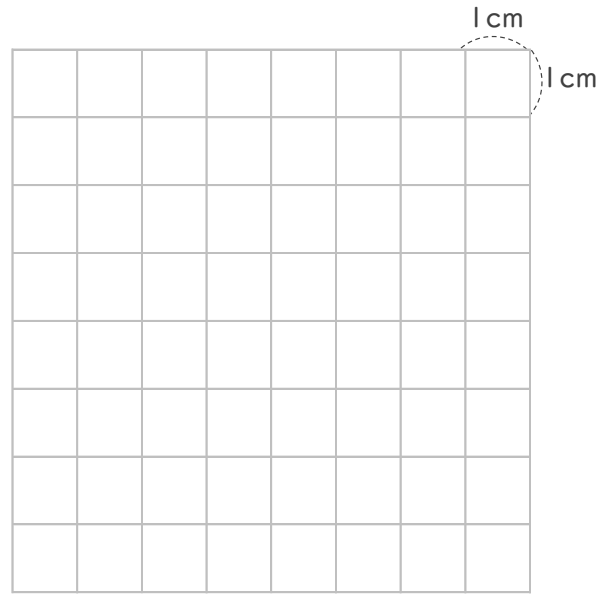
---

1 つぎの形をかきましょう。

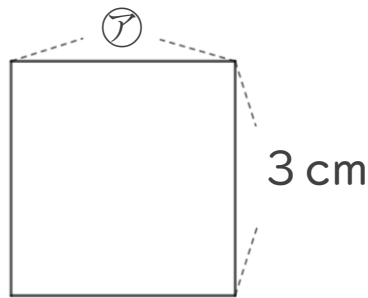
① たて3cm よこ4cmの長方形。



② 6cmのへんと5cmのへんの間に直角のかどがある直角三角形。



2 つぎの形は正方形です。つぎのもんだいに答えましょう。



① アのへんの長さは、何cmですか。

答え：

---

② この正方形のまわりの長さは何cmですか。

しき：

答え：

---



## 長方形と正方形 8

● 長方形や直角三角形を  
かいてみよう

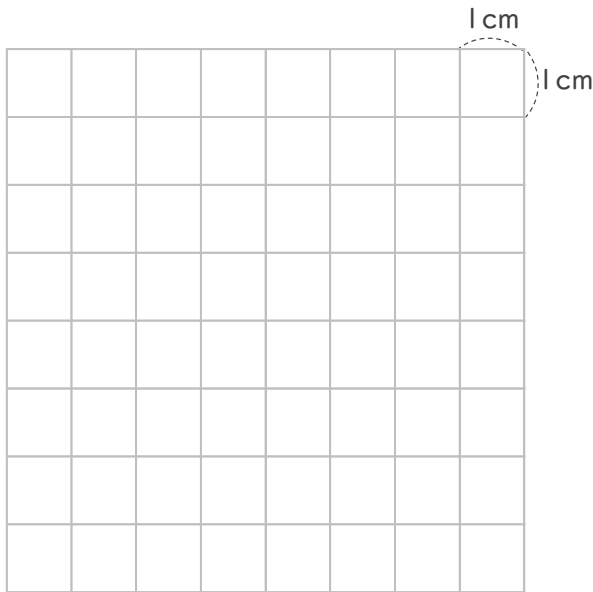


日にち： 月 日

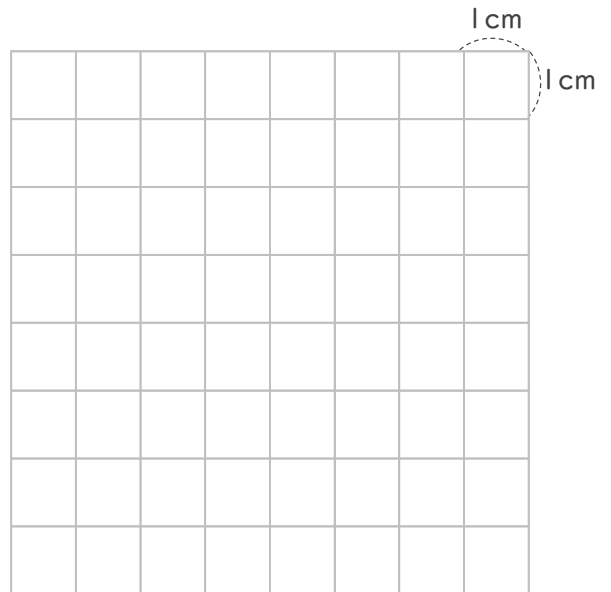
名まえ \_\_\_\_\_

1 つぎの形をかきましょう。

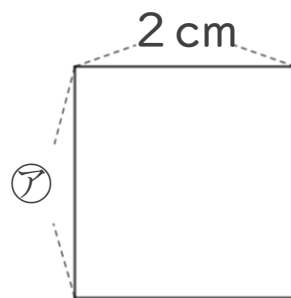
- ① 1つのへんの長さが  
4 cmの正方形。



- ② 4 cmのへんと6 cmのへんの間に  
直角のかどがある直角三角形。



2 つぎの形は正方形です。つぎのもんだいに答えましょう。



- ① アのへんの長さは、何cmですか。

答え： \_\_\_\_\_

- ② この正方形のまわりの長さは何cmですか。

しき：

答え： \_\_\_\_\_




# 長方形と正方形 8

● 長方形や直角三角形をかいてみよう

15

めざせ100点!

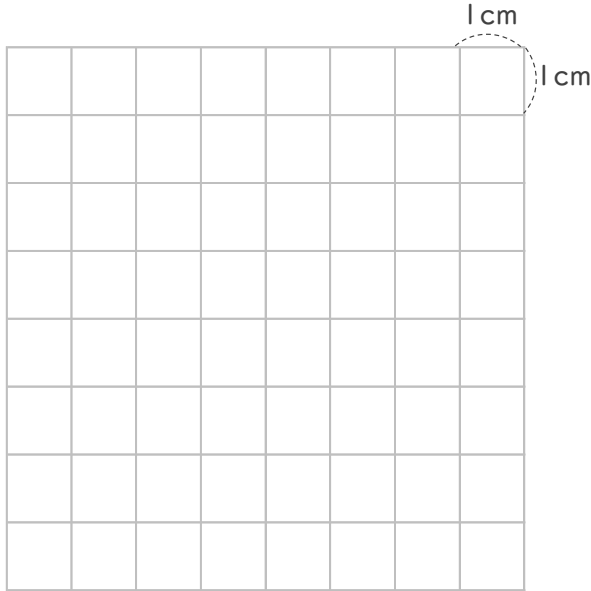


名まえ

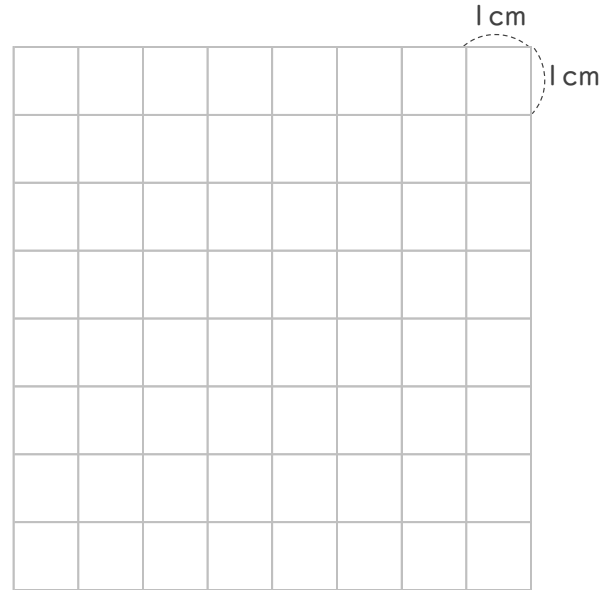
---

1 つぎの形を書きましょう。(各25点)

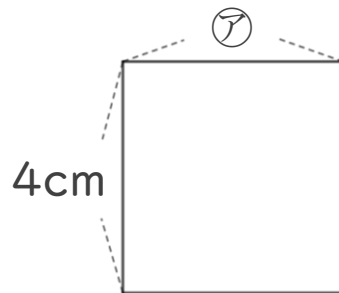
① 1つのへんの長さが5 cmの正方形。



② 3 cmのへんと7 cmのへんの間に直角のかどがある直角三角形。



2 つぎの形は正方形です。つぎのもんだいに答えましょう。(各25点)



① アのへんの長さは、何cmですか。

答え：

---

② この正方形のまわりの長さは何cmですか。

しき：

答え：

---



## 長方形と正方形 8

● 長方形や直角三角形をかいてみよう

16

めざせ100点!

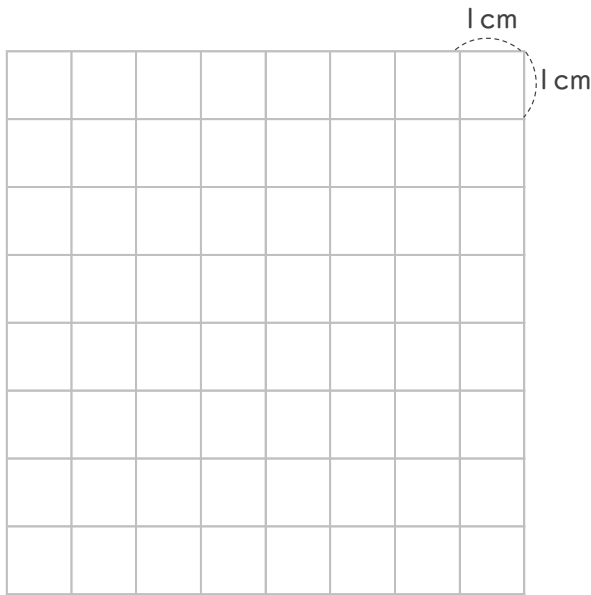


名まえ

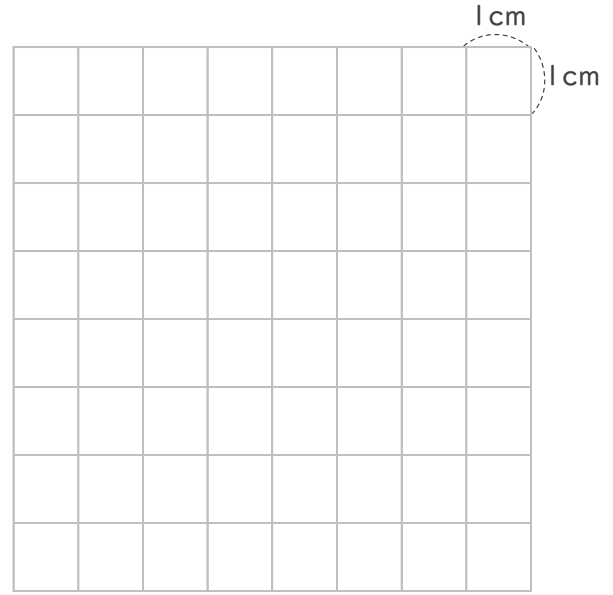
---

1 つぎの形を書きましょう。(各25点)

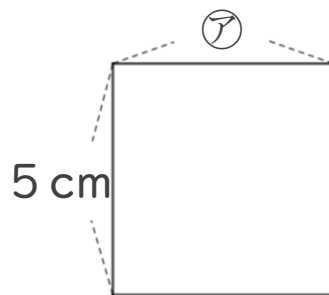
① たて6 cm よこ3 cmの長方形。



② 4 cmのへんと6 cmのへんの間に直角のかどがある直角三角形。



2 つぎの形は正方形です。つぎのもんだいに答えましょう。(各25点)



① ②のへんの長さは、何cmですか。

答え：

---

② この正方形のまわりの長さは何cmですか。

しき：

答え：

---





## 長方形と正方形 8

◎ 長方形や直角三角形をかいてみよう




日にち： 月 日

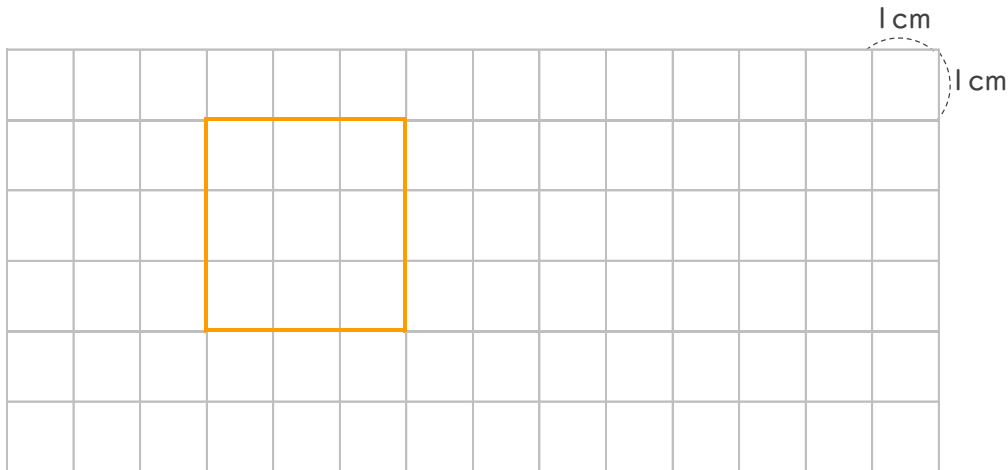
名まえ \_\_\_\_\_

・ つぎの形をかきましょう。(うすい線はなぞりましょう。)

① たて4 cm、よこ6 cmの長方形。



② 1つのへんの長さが3 cmの正方形。



③ 4 cmのへんと6 cmのへんの間に、直角のかどがある直角三角形。





## 長方形と正方形 8

◎ 長方形や直角三角形をかいてみよう




日にち： 月 日


名まえ \_\_\_\_\_

・ つぎの形をかきましょう。(うすい線はなぞりましょう。)

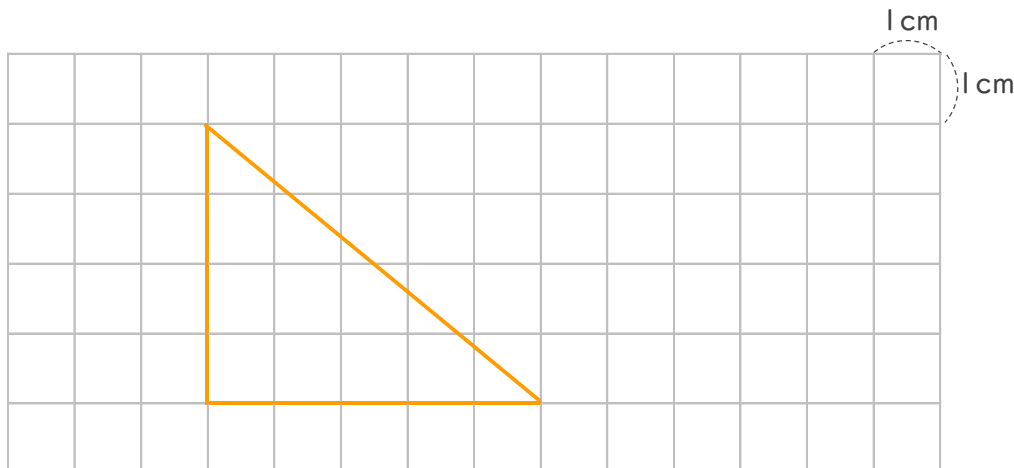
① たて2 cm、よこ5 cmの長方形。



② 1つのへんの長さが5 cmの正方形。



③ 4 cmのへんと5 cmのへんの間に、直角のかどがある直角三角形。





## 長方形と正方形 8

● 長方形や直角三角形をかいてみよう




日にち： 月 日

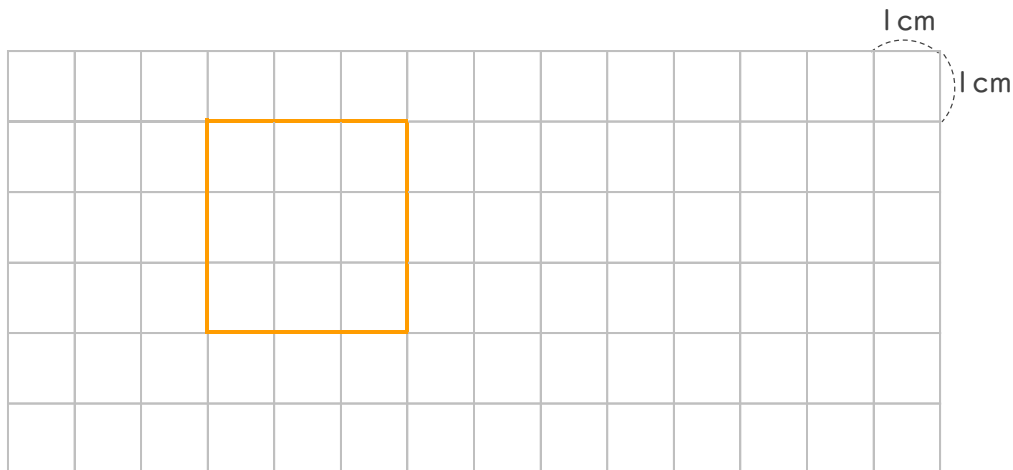
名まえ \_\_\_\_\_

・ つぎの形をかきましょう。(うすい線はなぞりましょう。)

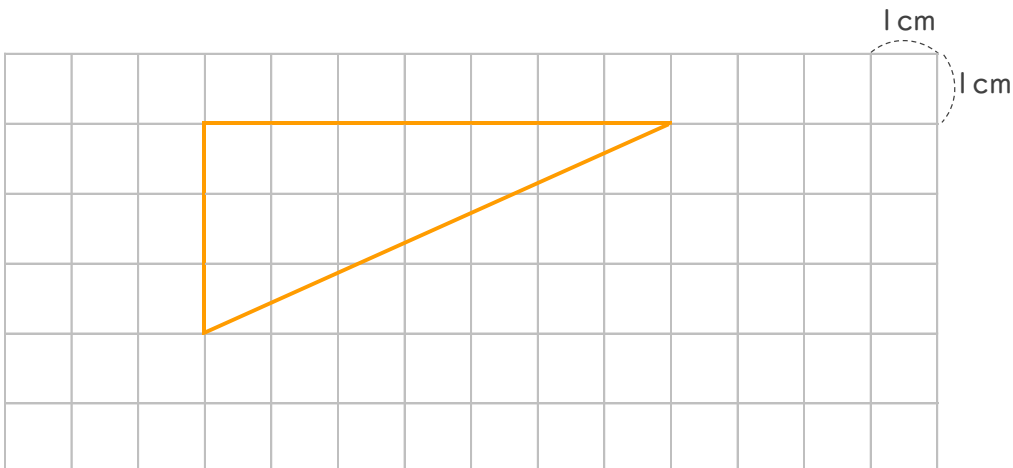
① たて3 cm、よこ6 cmの長方形。



② 1つのへんの長さが3 cmの正方形。



③ 3 cmのへんと7 cmのへんの間に、直角のかどがある直角三角形。





## 長方形と正方形 8

● 長方形や直角三角形をかいてみよう




日にち： 月 日

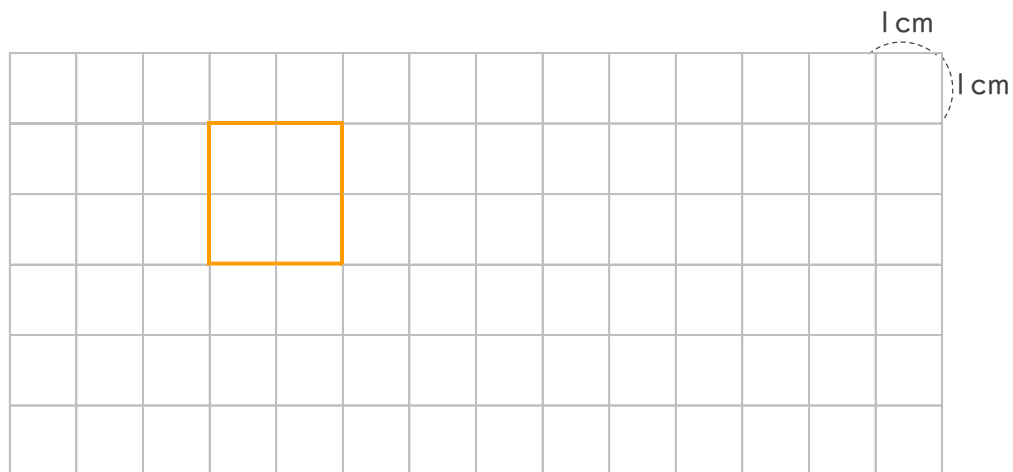
名まえ \_\_\_\_\_

・ つぎの形をかきましょう。(うすい線はなぞりましょう。)

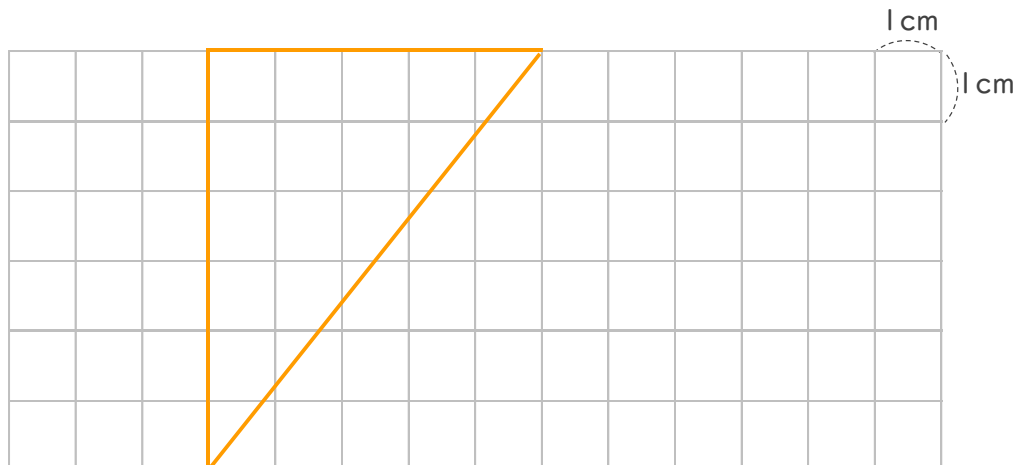
① たて4 cm、よこ8 cmの長方形。



② 1つのへんの長さが2 cmの正方形。



③ 6 cmのへんと5 cmのへんの間に、直角のかどがある直角三角形。





## 長方形と正方形 8

◎ 長方形や直角三角形をかいてみよう

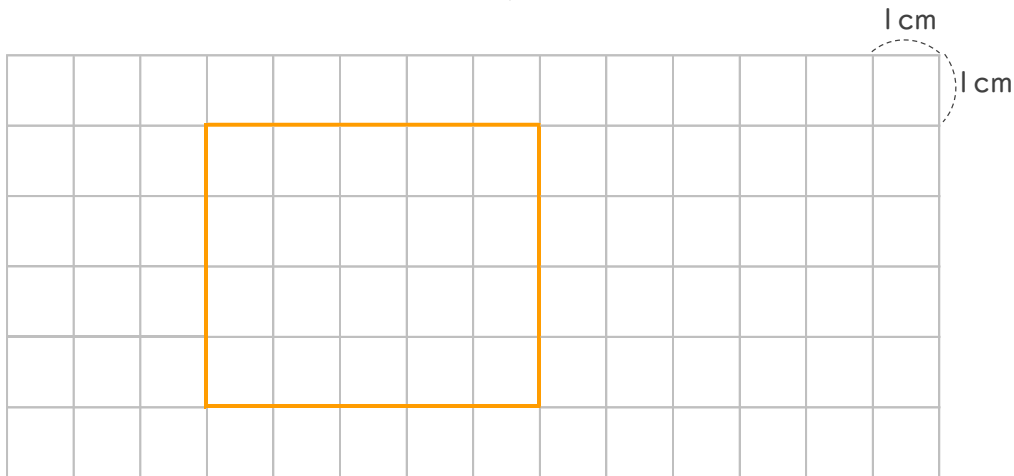


日にち： 月 日

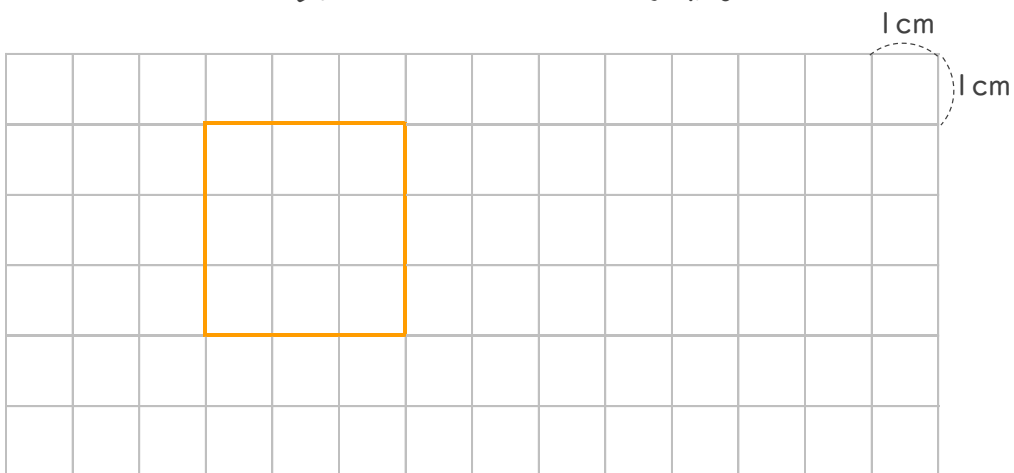
名まえ \_\_\_\_\_

・ つぎの形をかきましょう。(うすい線はなぞりましょう。)

① たて4cm、よこ5cmの長方形。



② 1つのへんの長さが3cmの正方形。



③ 4cmのへんと3cmのへんの間に、直角のかどがある直角三角形。





## 長方形と正方形 8

● 長方形や直角三角形をかいてみよう



日にち： 月 日


名まえ \_\_\_\_\_

・ つぎの形をかきましょう。(うすい線はなぞりましょう。)

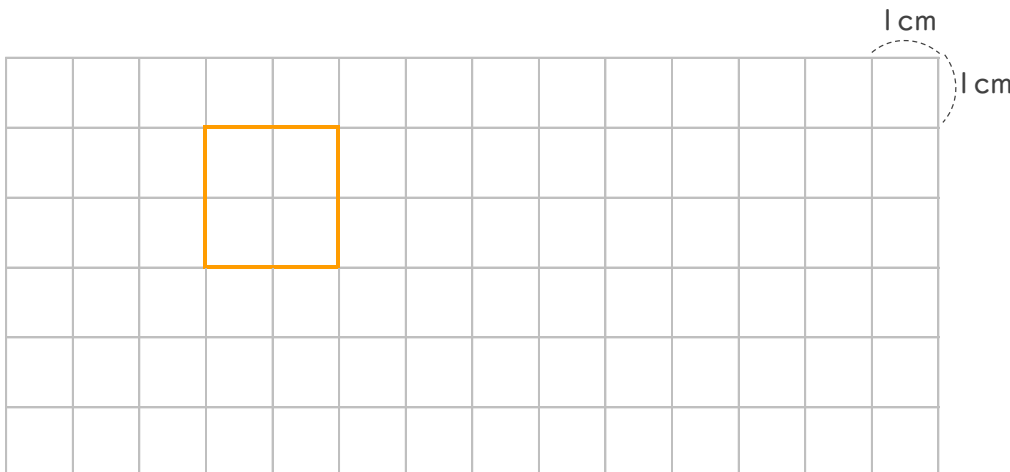
① 5 cmのへんと 2 cmのへんの間に、直角のかどがある直角三角形。



② たて3 cm、よこ8 cmの長方形。



③ 1つのへんの長さが 2 cmの正方形。





## 長方形と正方形 8

● 長方形や直角三角形をかいてみよう

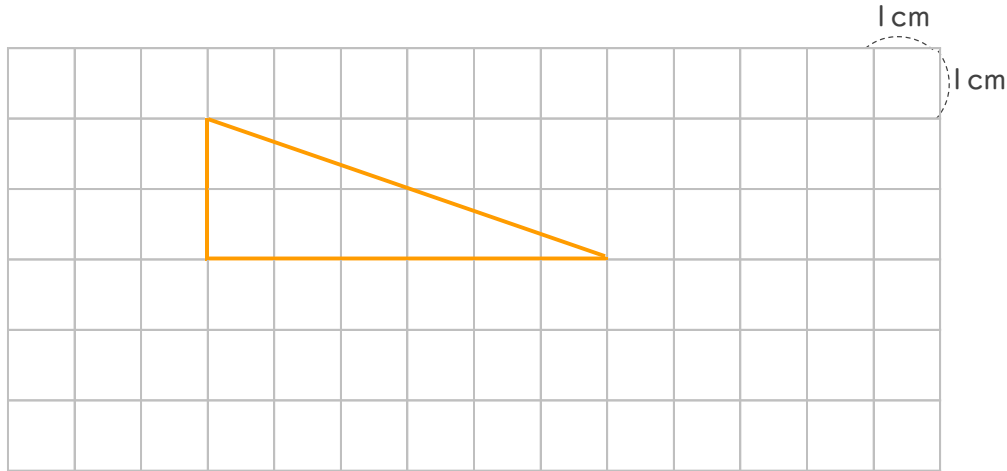


日にち： 月 日


名まえ \_\_\_\_\_

・ つぎの形をかきましょう。(うすい線はなぞりましょう。)


① 2 cmのへんと 6 cmのへんの間に、直角のかどがある直角三角形。



② たて6 cm、よこ7 cmの長方形。



③ 1つのへんの長さが 5 cmの正方形。





## 長方形と正方形 8

● 長方形や直角三角形をかいてみよう




日にち： 月 日

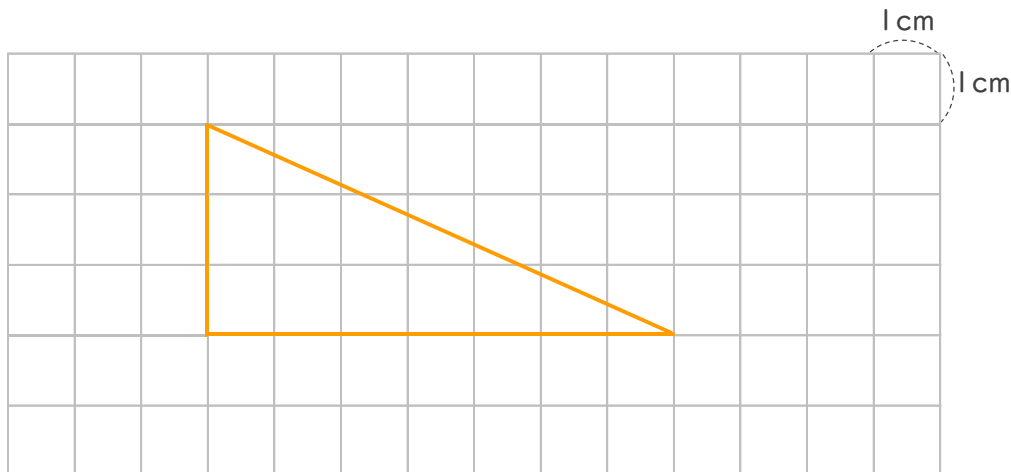
名まえ \_\_\_\_\_

・ つぎの形をかきましょう。

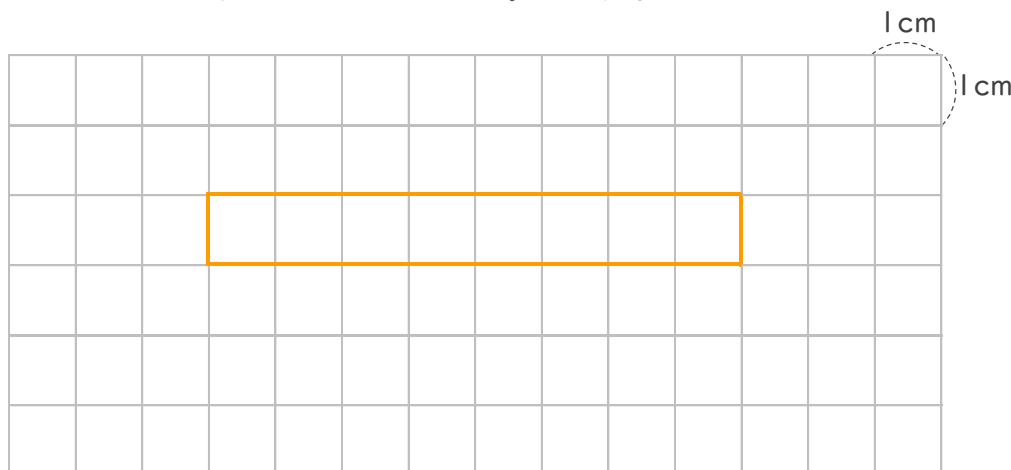
① 1つのへんの長さが4cmの正方形。



② 3cmのへんと7cmのへんの間に、直角のかどがある直角三角形。



③ たて1cm、よこ8cmの長方形。







## 長方形と正方形 8

● 長方形や直角三角形をかいてみよう




日にち： 月 日

名まえ \_\_\_\_\_

・ つぎの形をかきましょう。

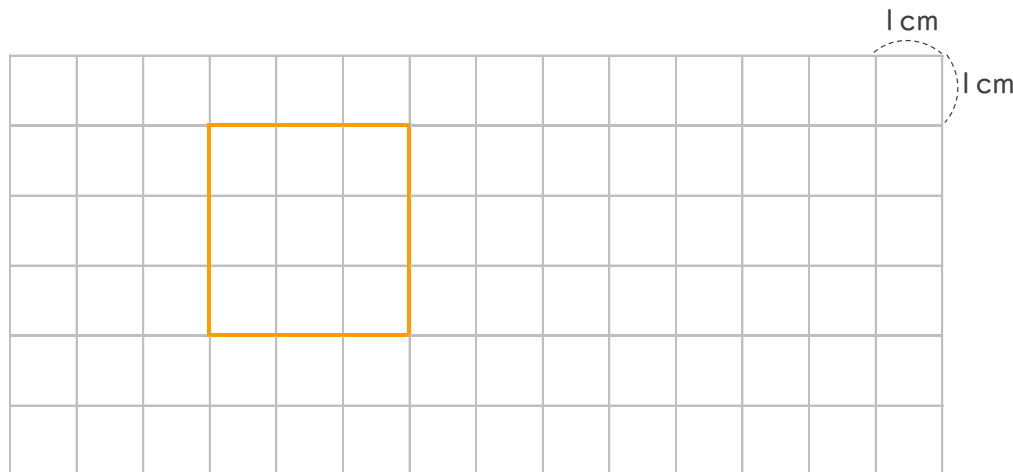
① たて4cm、よこ8cmの長方形。



② 6cmのへんと7cmのへんの間に、直角のかどがある直角三角形。



③ 1つのへんの長さが3cmの正方形。





## 長方形と正方形 8

● 長方形や直角三角形をかいてみよう

10

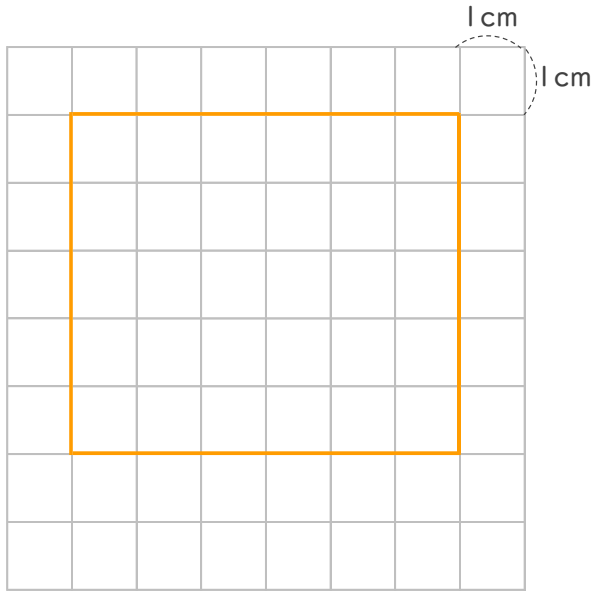
日にち： 月 日

名まえ

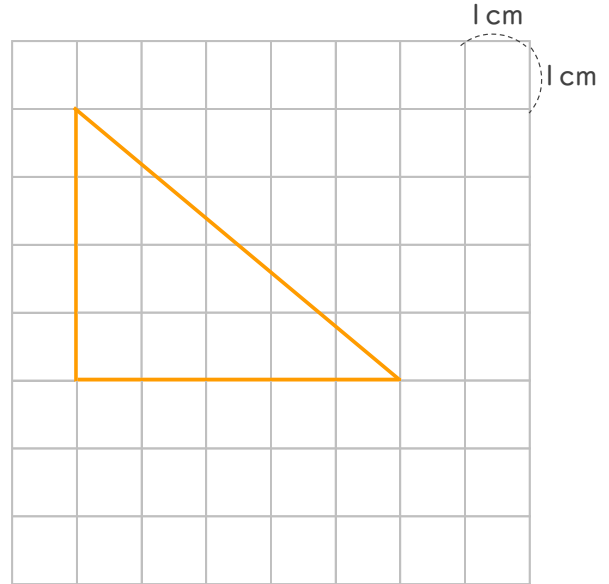
---

1 つぎの形をかきましょう。

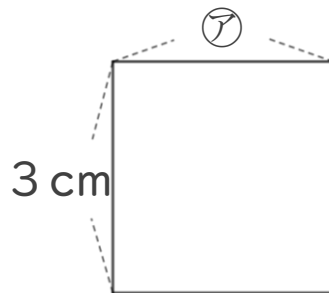
① たて5cm よこ6cmの長方形。



② 4cmのへんと5cmのへんの間に直角のかどがある直角三角形。



2 つぎの形は正方形です。つぎのもんだいに答えましょう。



① アのへんの長さは、何cmですか。

答え： 3 cm

---

② この正方形のまわりの長さは何cmですか。

$$\text{しき: } 3 + 3 + 3 + 3 = 12$$

答え： 12 cm

---



## 長方形と正方形 8

● 長方形や直角三角形をかいてみよう



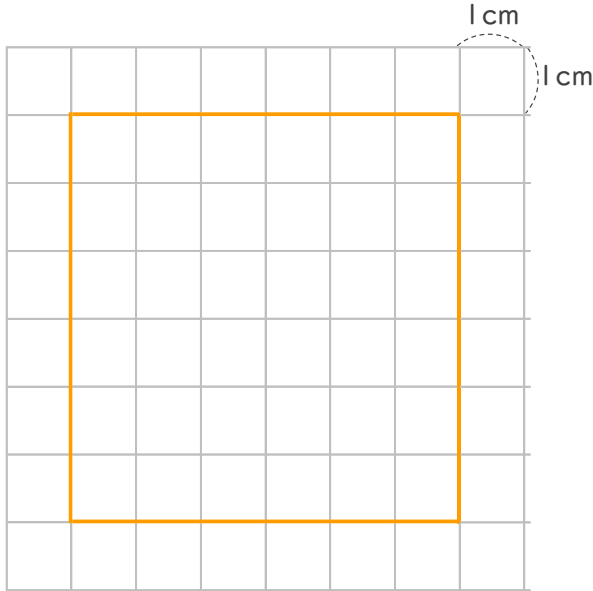
日にち： 月 日

名まえ

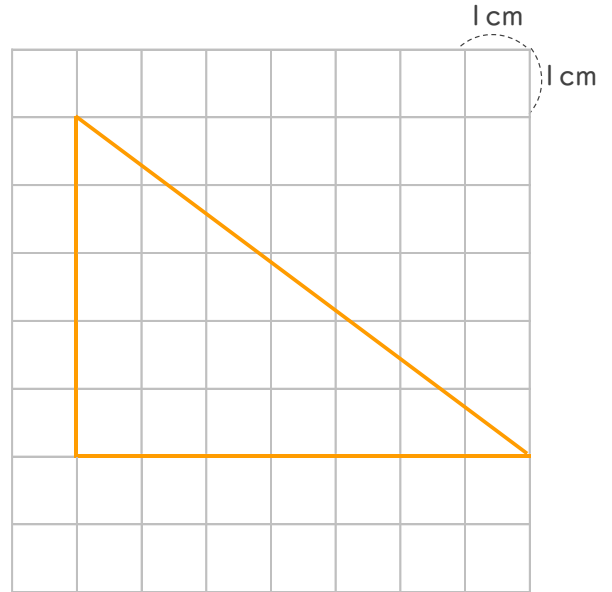
---

1 つぎの形をかきましょう。

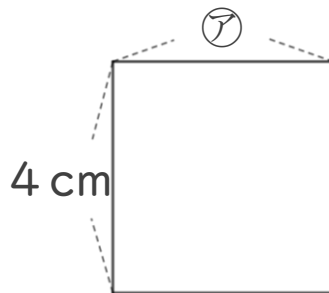
- ① 1つのへんの長さが6cmの正方形。



- ② 5cmのへんと7cmのへんの間に直角のかどがある直角三角形。



2 つぎの形は正方形です。つぎのもんだいに答えましょう。



- ① アのへんの長さは、何cmですか。

答え： 4 cm

---

- ② この正方形のまわりの長さは何cmですか。

$$\text{しき： } 4 + 4 + 4 + 4 = 16$$

答え： 16 cm

---



## 長方形と正方形 8

● 長方形や直角三角形を  
かいてみよう

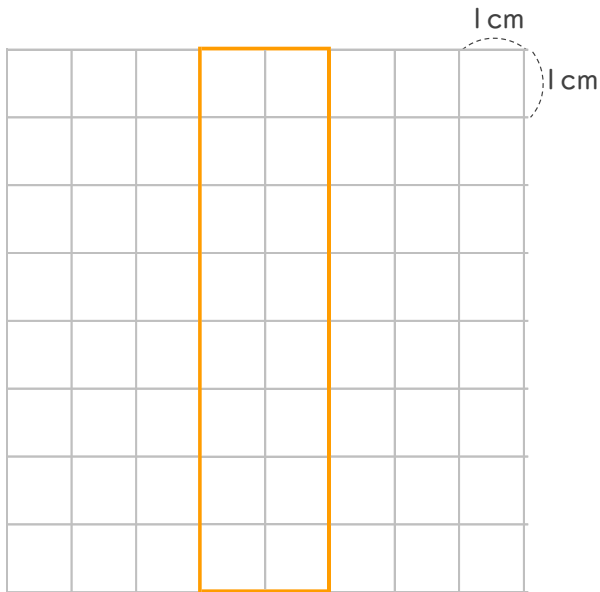
12

日にち： 月 日

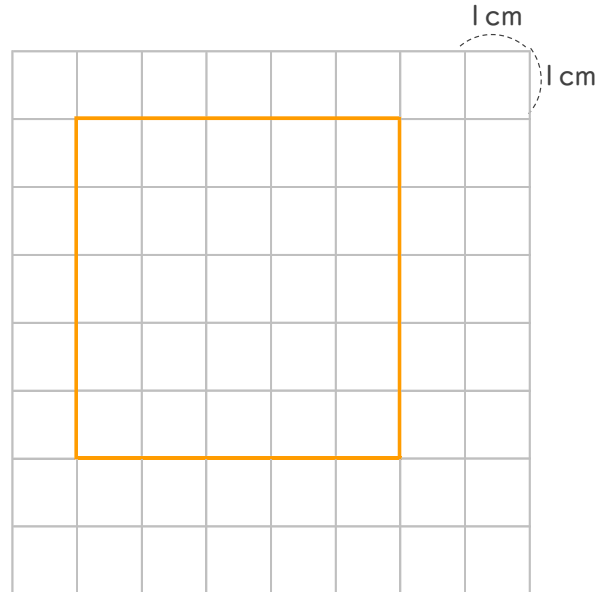
名まえ \_\_\_\_\_

1 つぎの形をかきましょう。

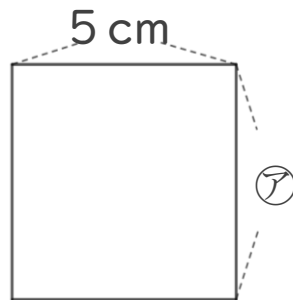
① たて8cm よこ2cmの長方形。



② 1つのへんの長さが  
5cmの正方形。



2 つぎの形は正方形です。つぎのもんだいに答えましょう。



① アのへんの長さは、何cmですか。

答え： 5 cm

② この正方形のまわりの長さは何cmですか。

$$\text{しき： } 5 + 5 + 5 + 5 = 20$$

答え： 20cm



## 長方形と正方形 8

● 長方形や直角三角形をかいてみよう

13

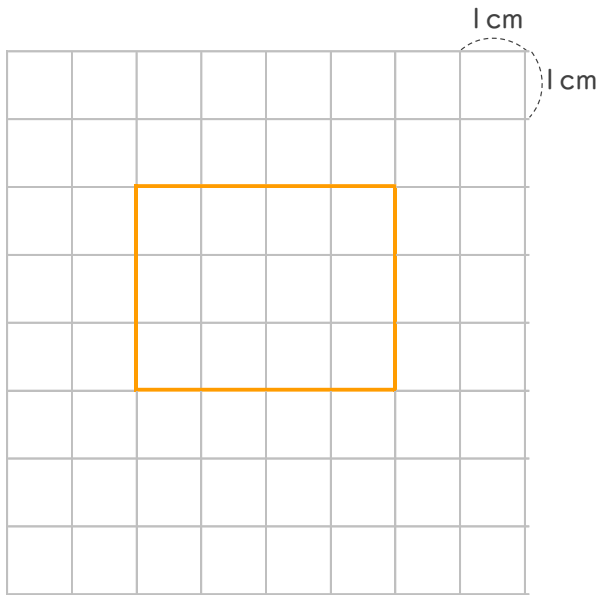
日にち： 月 日

名まえ

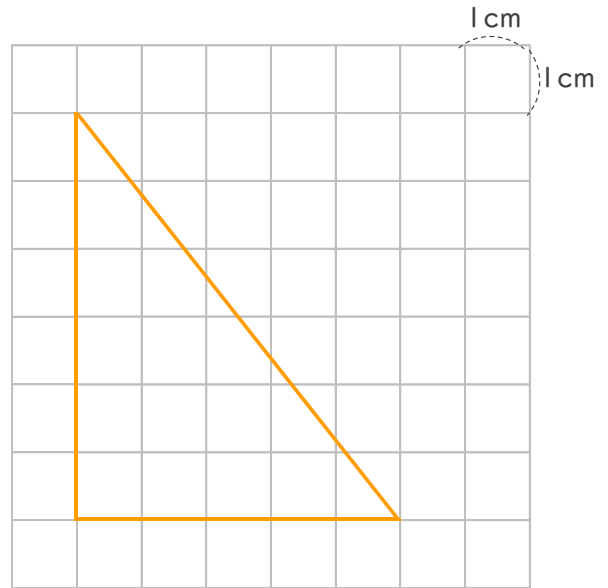
---

1 つぎの形をかきましょう。

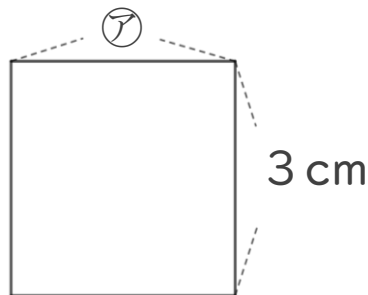
① たて3cm よこ4cmの長方形。



② 6cmのへんと5cmのへんの間に直角のかどがある直角三角形。



2 つぎの形は正方形です。つぎのもんだいに答えましょう。



① アのへんの長さは、何cmですか。

答え： 3cm

---

② この正方形のまわりの長さは何cmですか。

$$\text{しき： } 3 + 3 + 3 + 3 = 12$$

答え： 12cm

---



## 長方形と正方形 8

● 長方形や直角三角形をかいてみよう

14

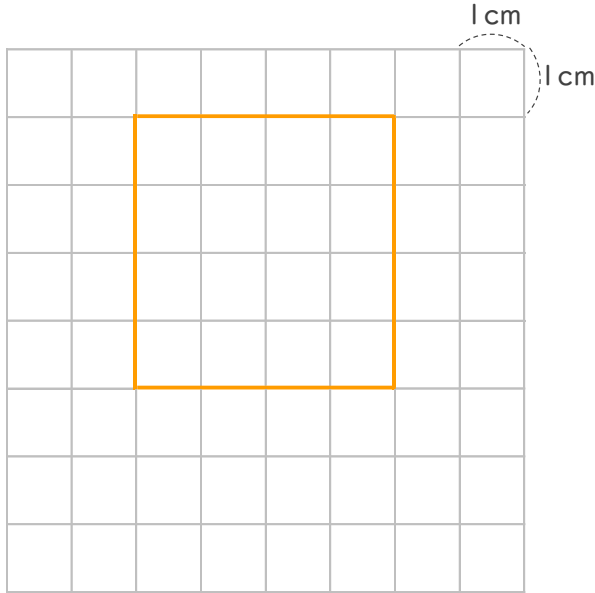
日にち： 月 日

名まえ

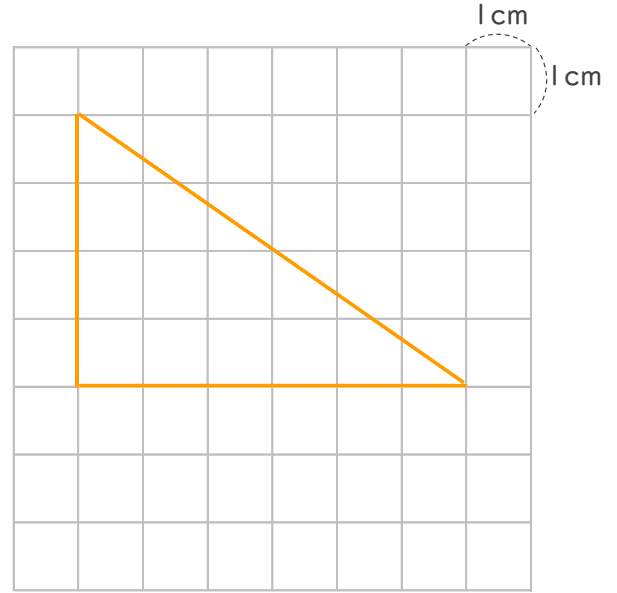
---

1 つぎの形をかきましょう。

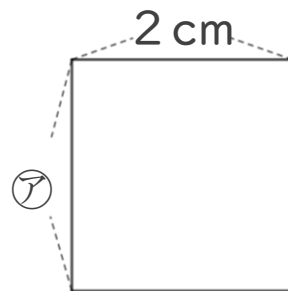
- ① 1つのへんの長さが4cmの正方形。



- ② 4cmのへんと6cmのへんの間に直角のかどがある直角三角形。



2 つぎの形は正方形です。つぎのもんだいに答えましょう。



- ① アのへんの長さは、何cmですか。

答え： 2 cm

---

- ② この正方形のまわりの長さは何cmですか。

$$\text{しき： } 2 + 2 + 2 + 2 = 8$$

答え： 8 cm

---




# 長方形と正方形 8

● 長方形や直角三角形をかいてみよう

15

めざせ100点!

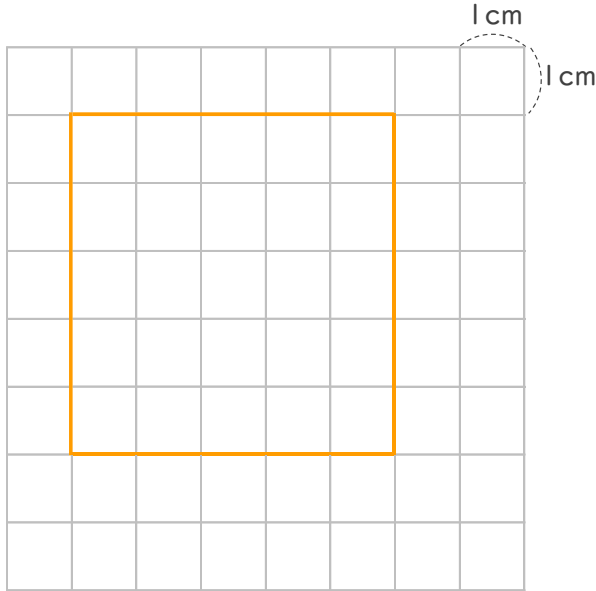


名まえ

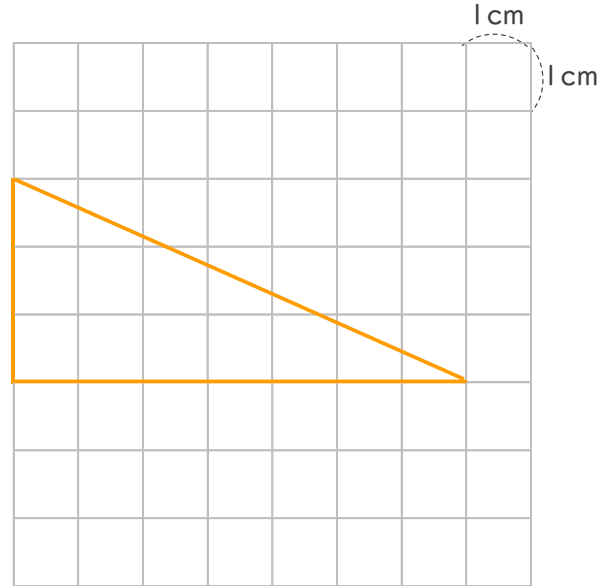
---

1 つぎの形を書きましょう。(各25点)

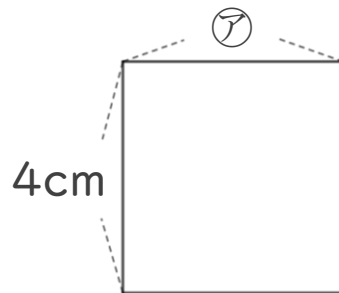
① 1つのへんの長さが5cmの正方形。



② 3cmのへんと7cmのへんの間に直角のかどがある直角三角形。



2 つぎの形は正方形です。つぎのもんだいに答えましょう。(各25点)



① アのへんの長さは、何cmですか。

答え： 4cm

---

② この正方形のまわりの長さは何cmですか。

$$\text{しき: } 4 + 4 + 4 + 4 = 16$$

答え： 16cm

---




# 長方形と正方形 8

● 長方形や直角三角形をかいてみよう

16

めざせ100点!

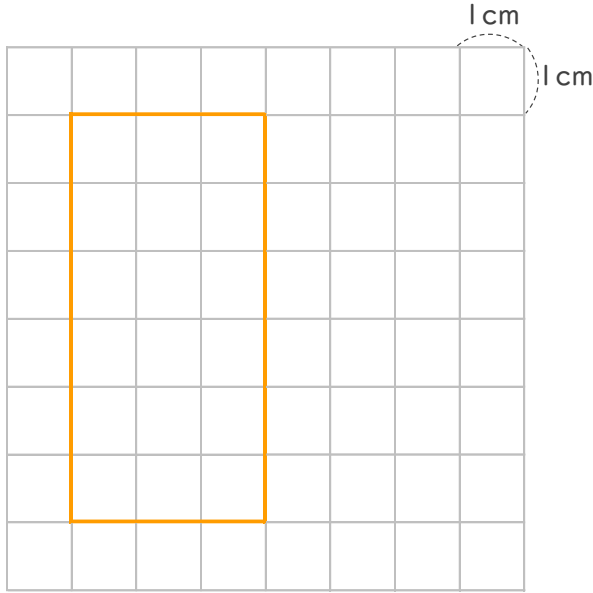


名まえ

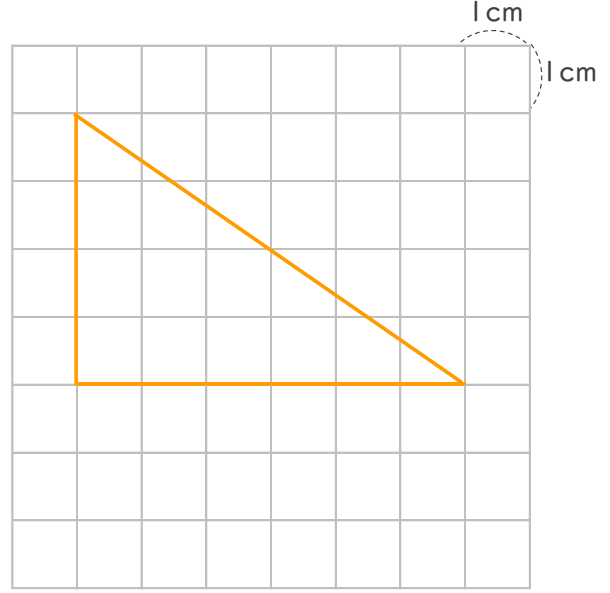
---

1 つぎの形を書きましょう。(各25点)

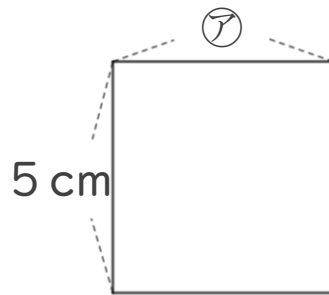
① たて6cm よこ3cmの長方形。



② 4cmのへんと6cmのへんの間に直角のかどがある直角三角形。



2 つぎの形は正方形です。つぎのもんだいに答えましょう。(各25点)



① アのへんの長さは、何cmですか。

答え： 5 cm

---

② この正方形のまわりの長さは何cmですか。

$$\text{しき： } 5 + 5 + 5 + 5 = 20$$

答え： 20cm

---