



3けたの数 II

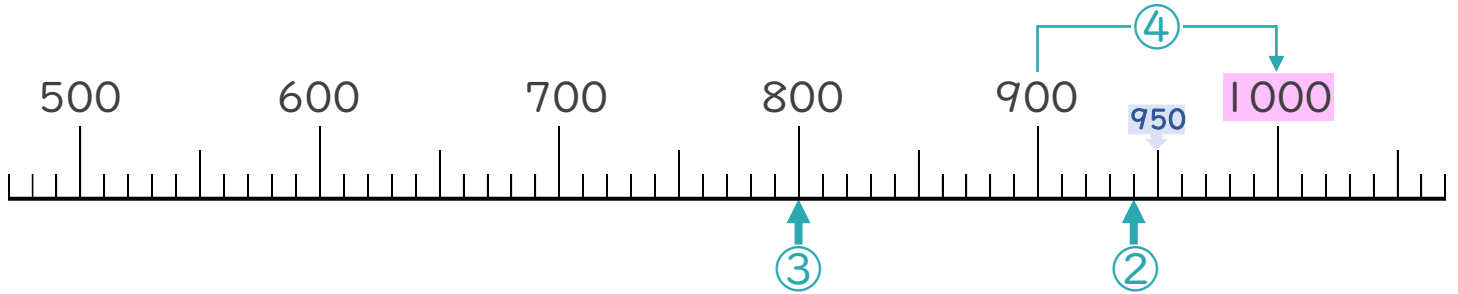
● あといくつで
千になるかな (数直線)



日にち： 月 日

名まえ _____

・ 下の数の線を見て答えましょう。(うすい字はなぞりましょう。)



① 1000より1小さい数はいくつですか。

(999)

② 1000より60小さい数はいくつですか。

(940)

③ 1000より200小さい数はいくつですか。

(800)

④ 900は、あといくつで1000になりますか。

上の数の線を見ると
900から1000までは小さいめもり10こ分だから... 

(100)

⑤ 1000は、10を何こあつめた数ですか。

10が10こで100
100が10こで1000だから... 

(100 こ)



3けたの数 II

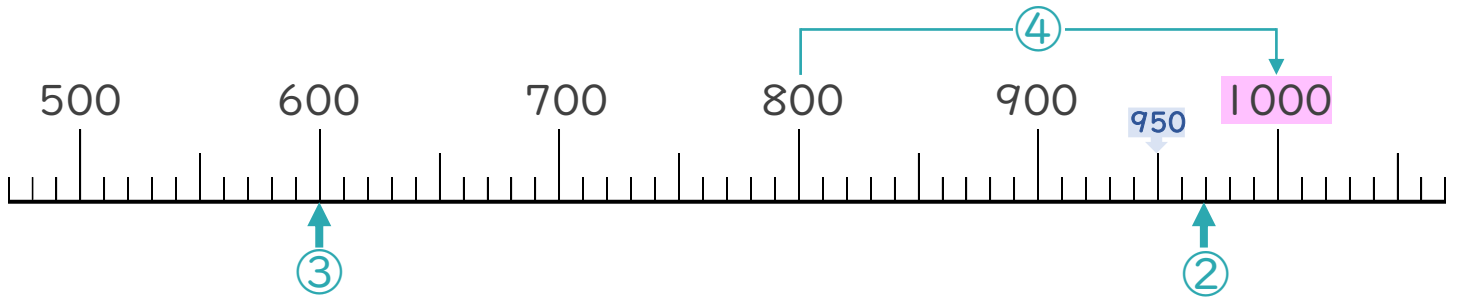
● あといくつで
千になるかな (数直線)



日にち： 月 日

名まえ _____

・ 下の数の線を見て答えましょう。(うすい字はなぞりましょう。)



① 1000より1小さい数はいくつですか。

(999)

② 1000より30小さい数はいくつですか。

(970)

③ 1000より400小さい数はいくつですか。

(600)

④ 800は、あといくつで1000になりますか。

上の数の線を見ると
800から1000までは小さいめもり20こ分だから… 

()

⑤ 1000は、10を何こあつめた数ですか。

10が10こで100
100が10こで1000だから… 

(こ)



3けたの数 II

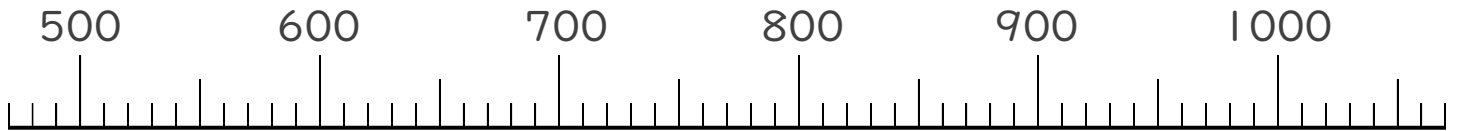
◎ あといくつで
千になるかな (数直線)



日にち： 月 日

名まえ _____

・ 下の数の線を見て答えましょう。(うすい字はなぞりましょう。)



① 900は、あといくつで1000になりますか。

(100)

② 1000より200小さい数はいくつですか。

()

③ 1000より50小さい数はいくつですか。

(950)

④ 1000より1小さい数はいくつですか。

()

⑤ 1000は、10を何こあつめた数ですか。

(こ)



3けたの数 11

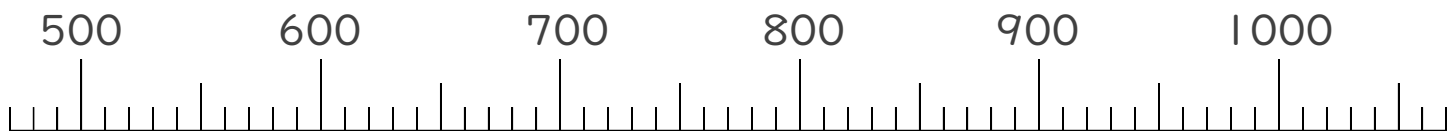
◎ あといくつで
千になるかな (数直線)



日にち： 月 日

名まえ _____

・ 下の数の線を見て答えましょう。



① 500は、あといくつで1000になりますか。

()

② 1000より200小さい数はいくつですか。

()

③ 1000より80小さい数はいくつですか。

()

④ 1000より1小さい数はいくつですか。

()

⑤ 1000は、10を何こあつめた数ですか。

(ico)





3けたの数 11

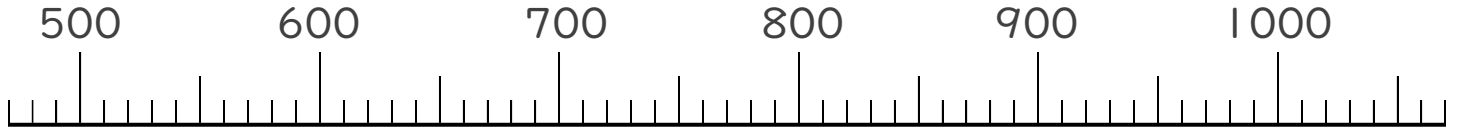
◎ あといくつで
千になるかな (数直線)



日にち： 月 日

名まえ _____

・ 下の数の線を見て答えましょう。



① 700は、あといくつで1000になりますか。

()

② 1000より400小さい数はいくつですか。

()

③ 1000より40小さい数はいくつですか。

()

④ 1000より1小さい数はいくつですか。

()

⑤ 1000は、10を何こあつめた数ですか。

(100)





3けたの数 II

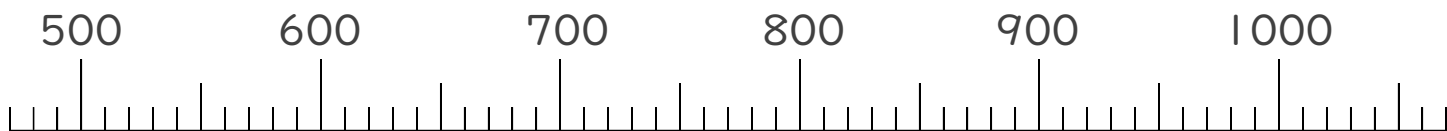
● あといくつで
千になるかな (数直線)



日にち： 月 日

名まえ _____

・ 下の数の線を見て答えましょう。



① 800は、あといくつで1000になりますか。

② 1000より300小さい数はいくつですか。

③ 1000より20小さい数はいくつですか。

④ 1000より1小さい数はいくつですか。

⑤ 1000は、10を何こあつめた数ですか。



3けたの数 11

●あといくつで
千になるかな (数直線)



日にち： 月 日

名まえ _____

1 つぎのもんだいに答えましょう。

① 1000より1小さい数はいくつですか。

② 1000より200小さい数はいくつですか。

③ 800は、あといくつで1000になりますか。

④ 1000は、10を何こあつめた数ですか。

2 にあうかずをかきましょう。

①



②





3けたの数 II

● あといくつで
千になるかな (数直線)

13

日にち： 月 日

名まえ _____

1 つぎのもんだいに答えましょう。

① 700は、あといくつで1000になりますか。

()

② 1000より1小さい数はいくつですか。

()

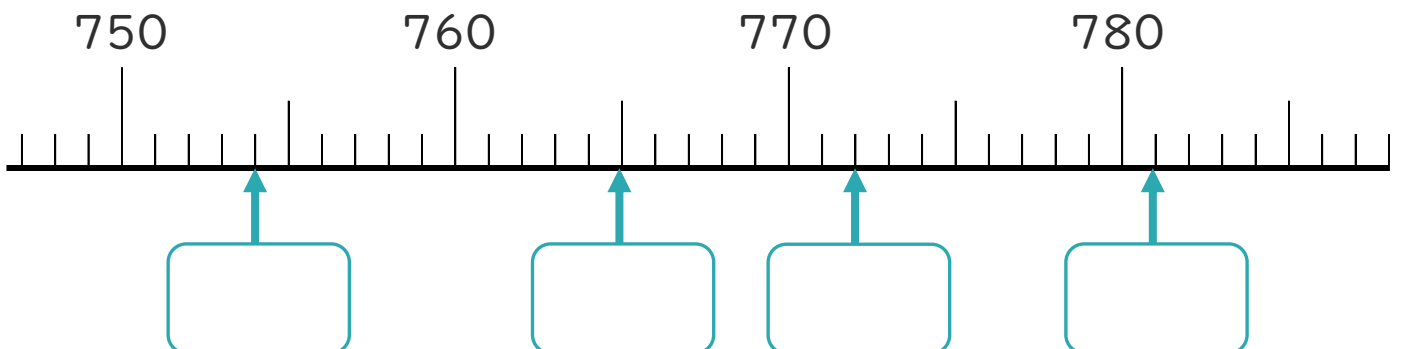
③ 1000より40小さい数はいくつですか。

()

④ 1000は、10を何こあつめた数ですか。

(こ)

2 にあうかずをかきましょう。





3けたの数 11

● あといくつで
千になるかな (数直線)

15

めざせ90点!



名まえ _____

1 つぎの もんだいに 答えましょう。(各15点)

① 1000は、10を 何こ あつめた 数ですか。

(こ)

② 1000より 300 小さい 数は いくつですか。

()

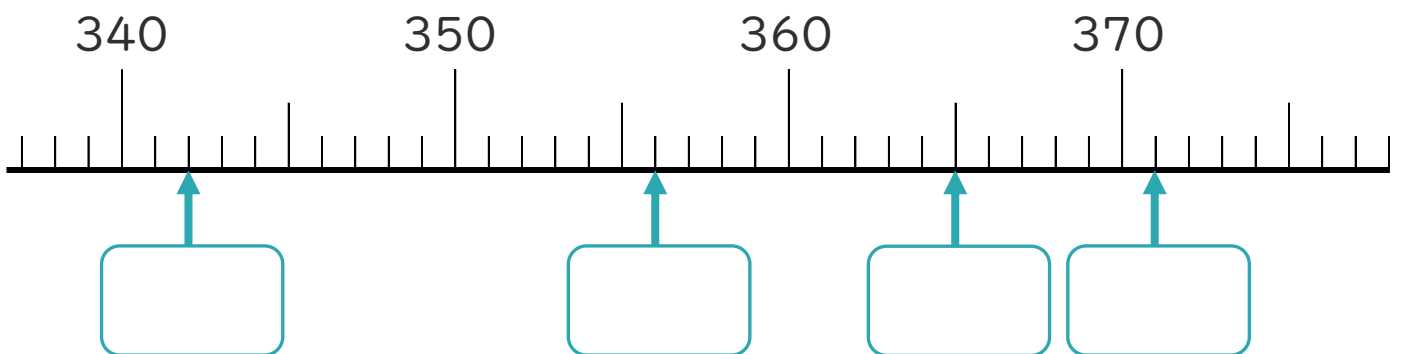
③ 1000より 20 小さい 数は いくつですか。

()

④ 1000より 1 小さい 数は いくつですか。

()

2 に あう かず を かき ましょう。(各10点)





3けたの数 II

● あといくつで
千になるかな (数直線)



めざせ90点!



てん

名まえ _____

1 つぎの もんだいに 答えましょう。(各15点)

① 800は、あといくつで1000になりますか。

()

② 1000より400小さい数はいくつですか。

()

③ 1000より20小さい数はいくつですか。

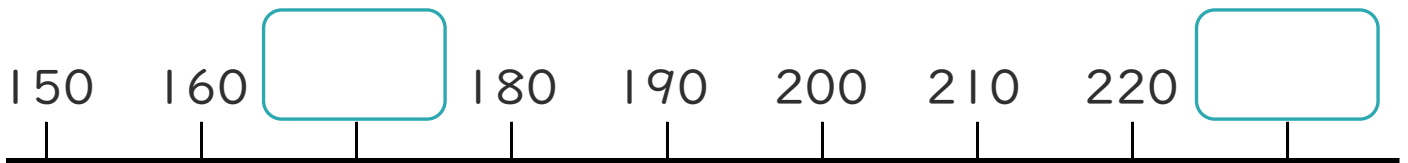
()

④ 1000は、10を何こあつめた数ですか。

(こ)

2 □にあうかずをかきましょう。(各10点)

①



②





3けたの数 II

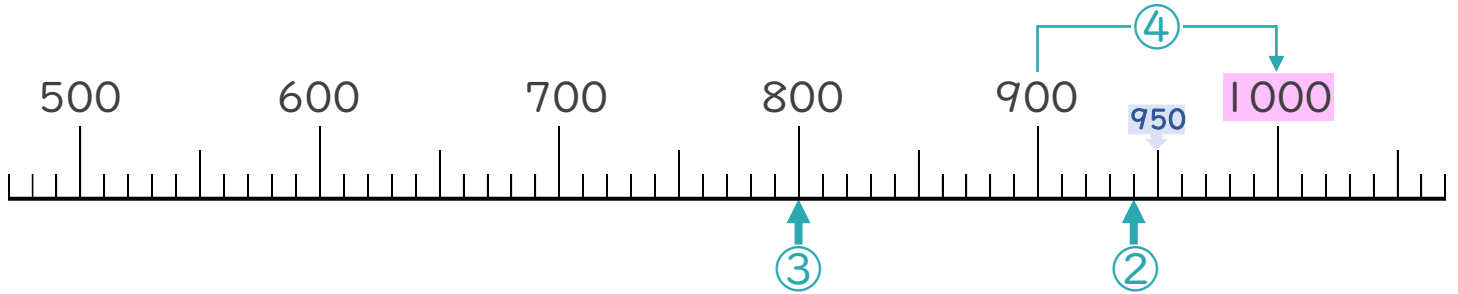
● あといくつで
千になるかな (数直線)



日にち： 月 日

名まえ _____

・ 下の数の線を見て答えましょう。(うすい字はなぞりましょう。)



① 1000より1小さい数はいくつですか。

[999]

② 1000より60小さい数はいくつですか。

[940]

③ 1000より200小さい数はいくつですか。

[800]

④ 900は、あといくつで1000になりますか。

上の数の線を見ると
900から1000までは小さいめもり10こ分だから…

[100]

⑤ 1000は、10を何こあつめた数ですか。

10が10こで100
100が10こで1000だから…

[100 こ]



3けたの数 II

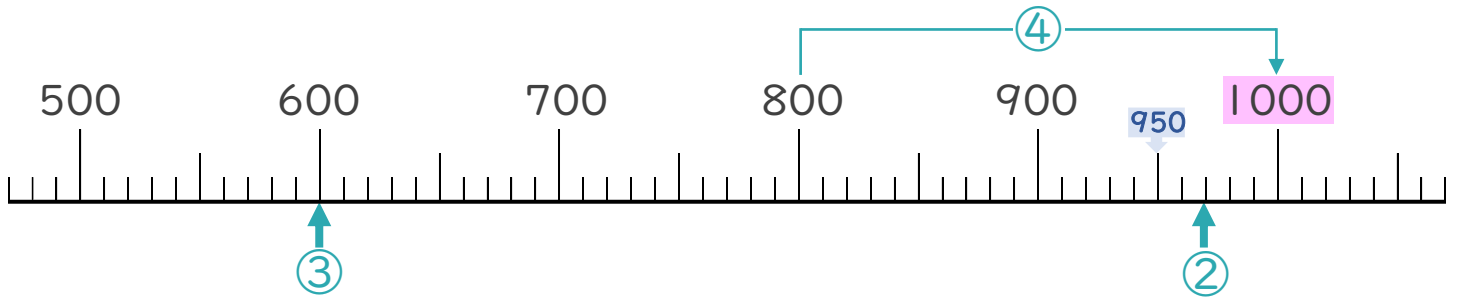
● あといくつで
千になるかな (数直線)



日にち： 月 日

名まえ _____

・ 下の数の線を見て答えましょう。(うすい字はなぞりましょう。)



① 1000より1小さい数はいくつですか。

[999]

② 1000より30小さい数はいくつですか。

[970]

③ 1000より400小さい数はいくつですか。

[600]

④ 800は、あといくつで1000になりますか。

上の数の線を見ると
800から1000までは小さいめもり20こ分だから… 

[200]

⑤ 1000は、10を何こあつめた数ですか。

10が10こで100
100が10こで1000だから… 

[100 こ]





3けたの数 II

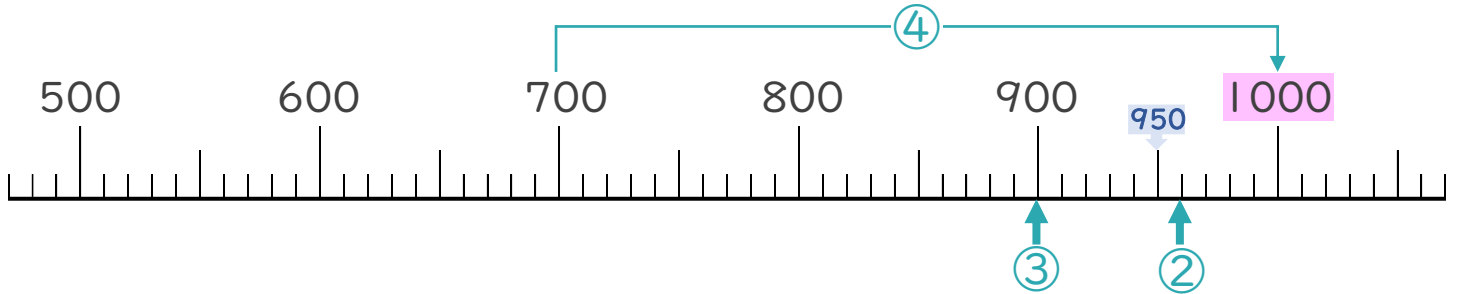
● あといくつで
千になるかな (数直線)



日にち： 月 日

名まえ _____

・ 下の数の線を見て答えましょう。(うすい字はなぞりましょう。)



① 1000より1小さい数はいくつですか。

[999]

② 1000より40小さい数はいくつですか。

[960]

③ 1000より100小さい数はいくつですか。

[900]

④ 700は、あといくつで1000になりますか。

上の数の線を見ると
700から1000までは小さいめもり30こ分だから… 

[300]

⑤ 1000は、10を何こあつめた数ですか。

10が10こで100
100が10こで1000だから… 

[100 こ]





3けたの数 II

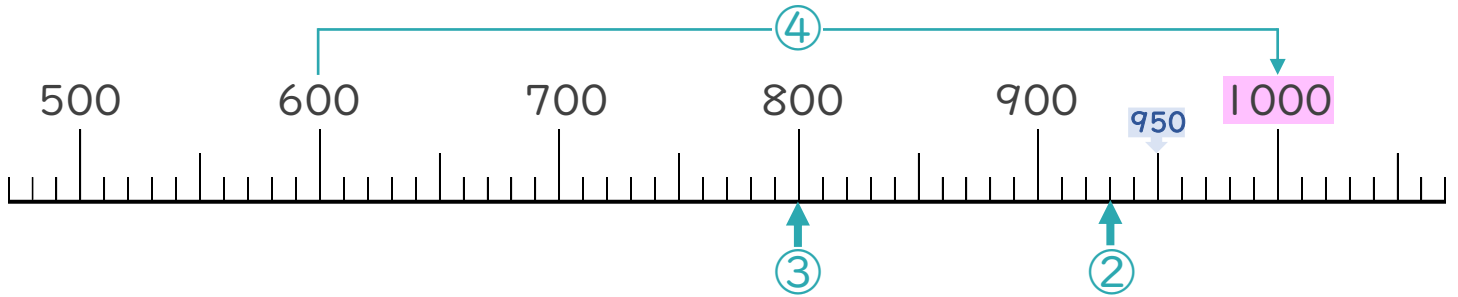
● あといくつで
千になるかな (数直線)



日にち： 月 日

名まえ _____

・ 下の数の線を見て答えましょう。



① 1000より1小さい数はいくつですか。

[999]

② 1000より70小さい数はいくつですか。

[930]

③ 1000より200小さい数はいくつですか。

[800]

④ 600は、あといくつで1000になりますか。

上の数の線を見ると
600から1000までは小さいめもり40こ分だから… 

[400]

⑤ 1000は、10を何こあつめた数ですか。

10が10こで100
100が10こで1000だから… 

[100 こ]





3けたの数 II

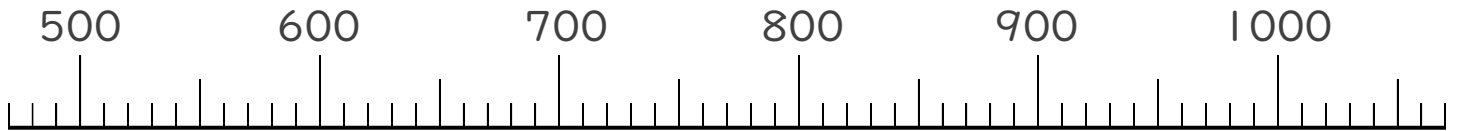
◎ あといくつで
千になるかな (数直線)



日にち： 月 日

名まえ _____

・ 下の数の線を見て答えましょう。(うすい字はなぞりましょう。)



① 900は、あといくつで1000になりますか。

(100)

② 1000より200小さい数はいくつですか。

(800)

③ 1000より50小さい数はいくつですか。

(950)

④ 1000より1小さい数はいくつですか。

(999)

⑤ 1000は、10を何こあつめた数ですか。

(100 こ)





3けたの数 II

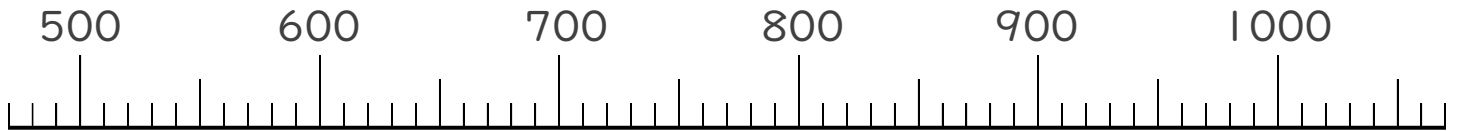
◎ あといくつで
千になるかな (数直線)



日にち： 月 日

名まえ _____

・ 下の数の線を見て答えましょう。



① 700は、あといくつで1000になりますか。

(300)

② 1000より100小さい数はいくつですか。

(900)

③ 1000より10小さい数はいくつですか。

(990)

④ 1000より1小さい数はいくつですか。

(999)

⑤ 1000は、10を何こあつめた数ですか。

(100 こ)





3けたの数 II

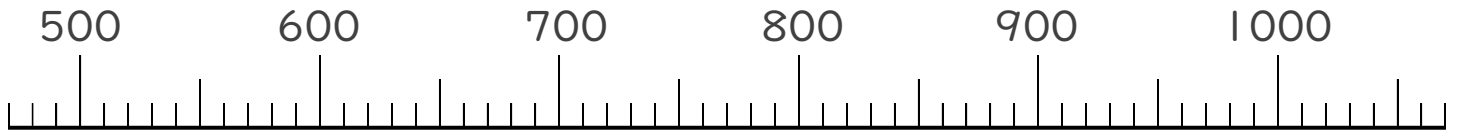
◎ あといくつで
千になるかな (数直線)



日にち： 月 日

名まえ _____

・ 下の数の線を見て答えましょう。



① 500は、あといくつで1000になりますか。

(500)

② 1000より200小さい数はいくつですか。

(800)

③ 1000より80小さい数はいくつですか。

(920)

④ 1000より1小さい数はいくつですか。

(999)

⑤ 1000は、10を何こあつめた数ですか。

(100 こ)





3けたの数 II

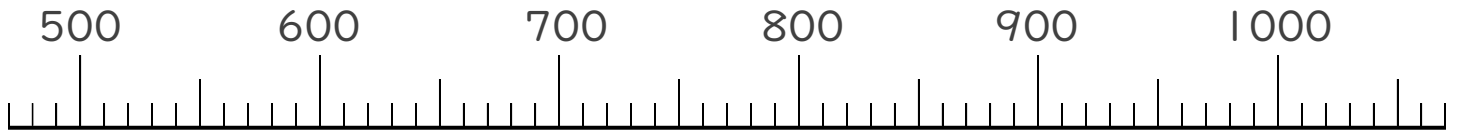
◎ あといくつで
千になるかな (数直線)



日にち： 月 日

名まえ _____

・ 下の数の線を見て答えましょう。



① 700は、あといくつで1000になりますか。

(300)

② 1000より400小さい数はいくつですか。

(600)

③ 1000より40小さい数はいくつですか。

(960)

④ 1000より1小さい数はいくつですか。

(999)

⑤ 1000は、10を何こあつめた数ですか。

(100 こ)





3けたの数 II

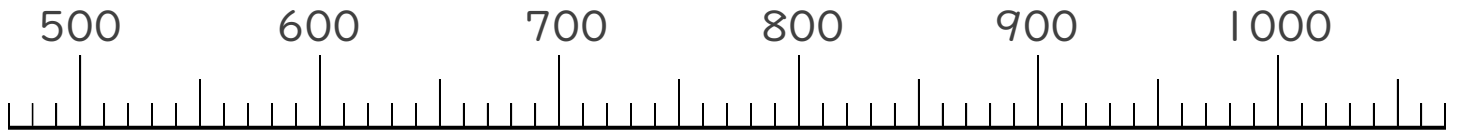
● あといくつで
千になるかな (数直線)



日にち： 月 日

名まえ _____

・ 下の数の線を見て答えましょう。



① 800は、あといくつで1000になりますか。

(200)

② 1000より300小さい数はいくつですか。

(700)

③ 1000より20小さい数はいくつですか。

(980)

④ 1000より1小さい数はいくつですか。

(999)

⑤ 1000は、10を何こあつめた数ですか。

(100 こ)





3けたの数 II

● あといくつで
千になるかな (数直線)



日にち： 月 日

名まえ _____

1 つぎのもんだいに答えましょう。

① 900は、あといくつで1000になりますか。

(100)

② 1000より200小さい数はいくつですか。

(800)

③ 1000より50小さい数はいくつですか。

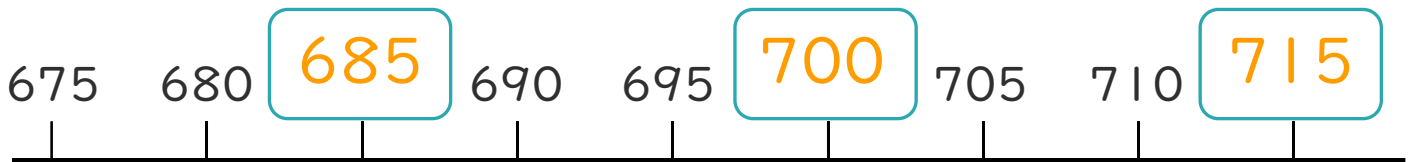
(950)

④ 1000より1小さい数はいくつですか。

(999)

2 □にあうかずをかきましょう。

①



②





3けたの数 II

● あといくつで
千になるかな (数直線)



日にち： 月 日

名まえ _____

1 つぎの もんだいに 答えましょう。

① 600は、あといくつで1000になりますか。

(400)

② 1000より100小さい数はいくつですか。

(900)

③ 1000より30小さい数はいくつですか。

(970)

④ 1000は、10を何こあつめた数ですか。

(100 こ)

2 □にあうかずをかきましょう。

①



②





3けたの数 II

● あといくつで
千になるかな (数直線)

12

日にち： 月 日

名まえ _____

1 つぎの もんだいに 答えましょう。

① 1000より1小さい数はいくつですか。

(999)

② 1000より200小さい数はいくつですか。

(800)

③ 800は、あといくつで1000になりますか。

(200)

④ 1000は、10を何こあつめた数ですか。


(100 こ)

2 にあうかずをかきましょう。

①



②





3けたの数 II

● あといくつで
千になるかな (数直線)

13

日にち： 月 日

名まえ _____

1 つぎの もんだいに 答えましょう。

① 700は、あといくつで1000になりますか。

(300)

② 1000より1小さい数はいくつですか。

(999)

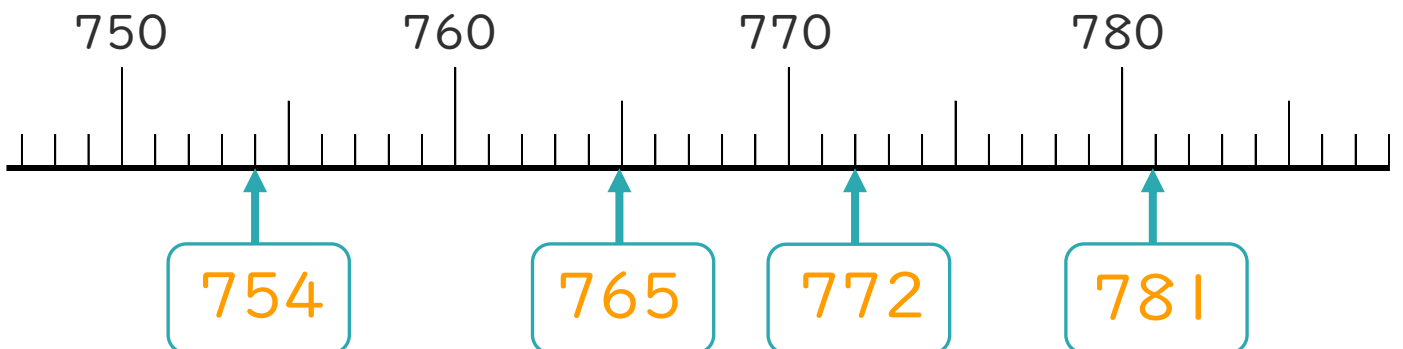
③ 1000より40小さい数はいくつですか。

(960)

④ 1000は、10を何こあつめた数ですか。

(100 こ)

2 □ にあうかずをかきましょう。





3けたの数 II

● あといくつで
千になるかな (数直線)

14

日にち： 月 日

名まえ _____

1 つぎの もんだいに 答えましょう。

① 1000より1小さい数はいくつですか。

(999)

② 1000より90小さい数はいくつですか。

(910)

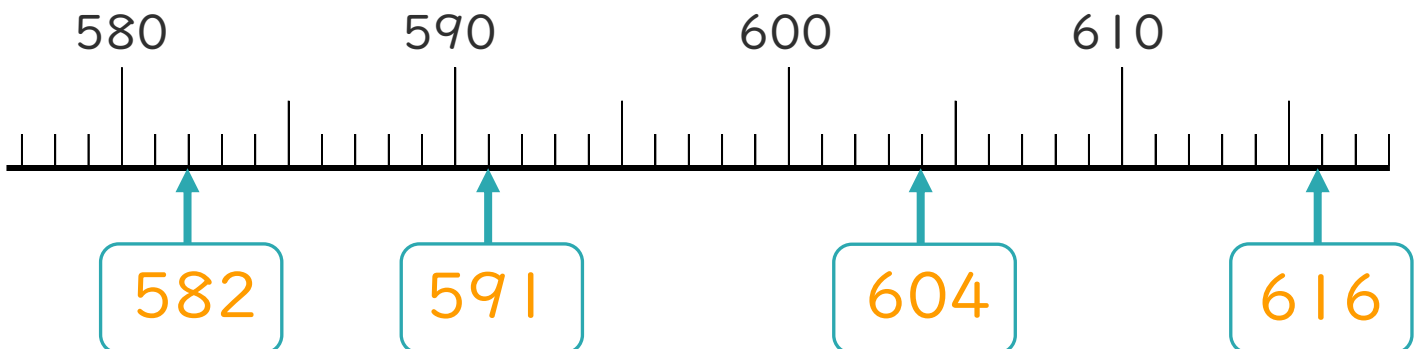
③ 1000は、10を何こあつめた数ですか。

(100 こ)

④ 1000より500小さい数はいくつですか。

(500)

2 □にあうかずをかきましょう。





3けたの数 II

● あといくつで
千になるかな (数直線)

15

めざせ90点!



名まえ _____

1 つぎの もんだいに 答えましょう。(各15点)

① 1000は、10を 何こ あつめた 数ですか。

(100 こ)

② 1000より 300 小さい 数は いくつですか。

(700)

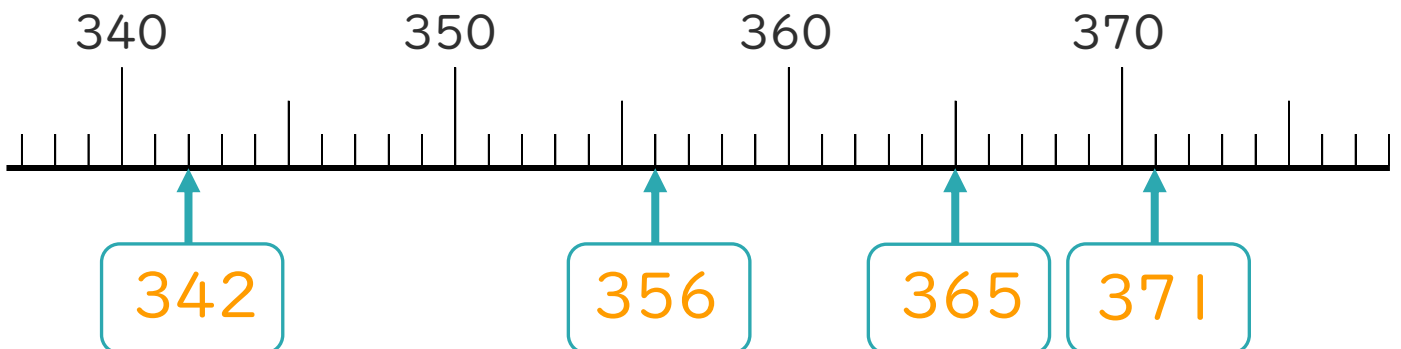
③ 1000より 20 小さい 数は いくつですか。

(980)

④ 1000より 1 小さい 数は いくつですか。

(999)

2 に あう かず を かき まし ょう。(各10点)





3けたの数 II

● あといくつで
千になるかな (数直線)

16

めざせ90点!



名まえ _____

1 つぎの もんだいに 答えましょう。(各15点)

① 800は、あといくつで1000になりますか。

(200)

② 1000より400小さい数はいくつですか。

(600)

③ 1000より20小さい数はいくつですか。

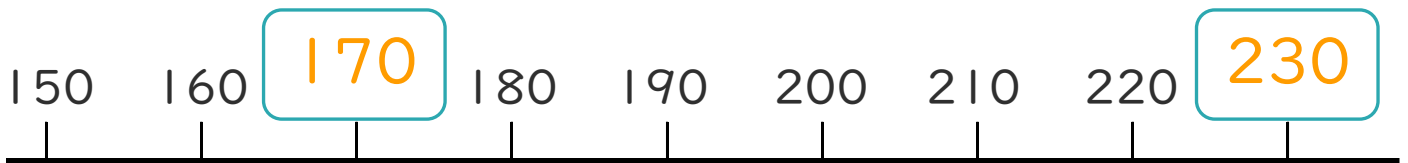
(980)

④ 1000は、10を何こあつめた数ですか。

(100 こ)

2 □にあうかずをかきましょう。(各10点)

①



②

