



3けたの数 12

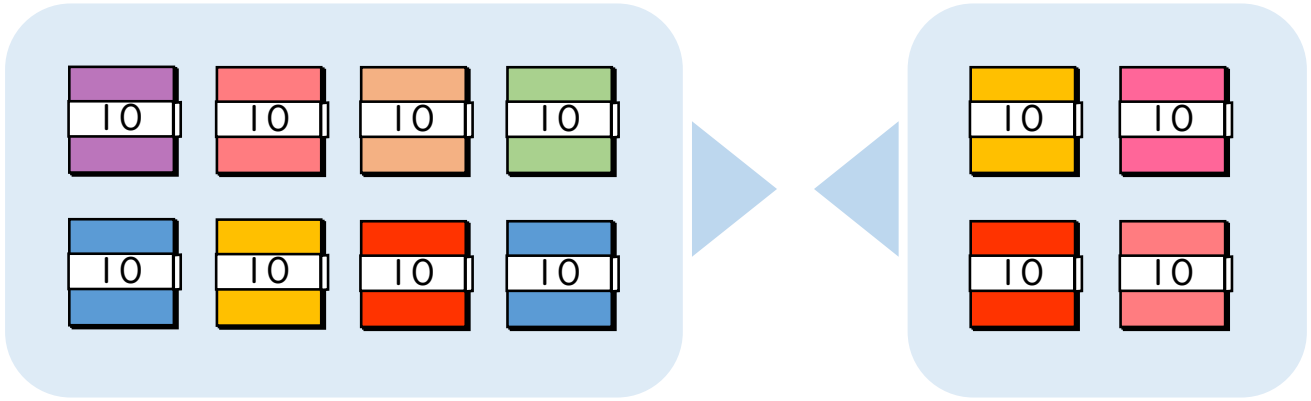
◎ 十のたばのたし算・ひき算



日にち： 月 日

名まえ _____

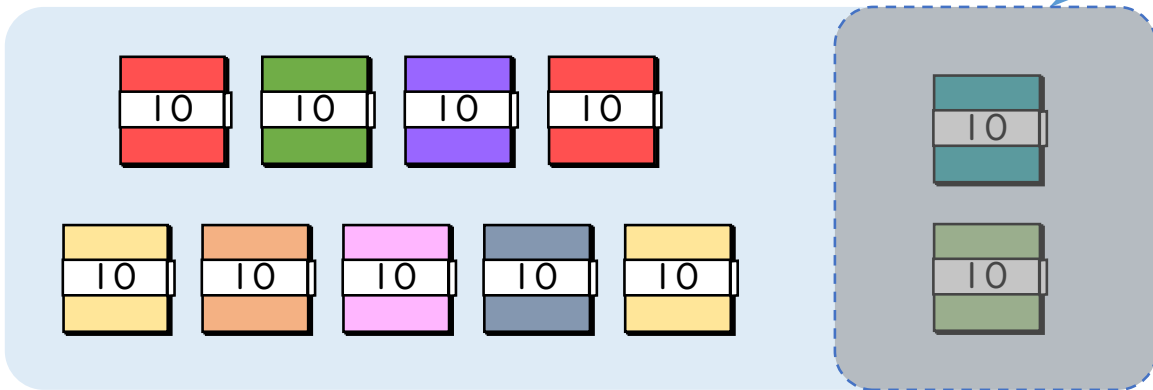
- 80+40の答えはいくつですか。(うすい字はなぞりましょう。)



10のたばが $8 + 4 = 12$ で 12 こだから

$$80 + 40 = 120$$

- 110-20の答えはいくつですか。(うすい字はなぞりましょう。)



10のたばが $11 - 2 = \square$ で \square こだから

$$110 - 20 = \square$$





3けたの数 12

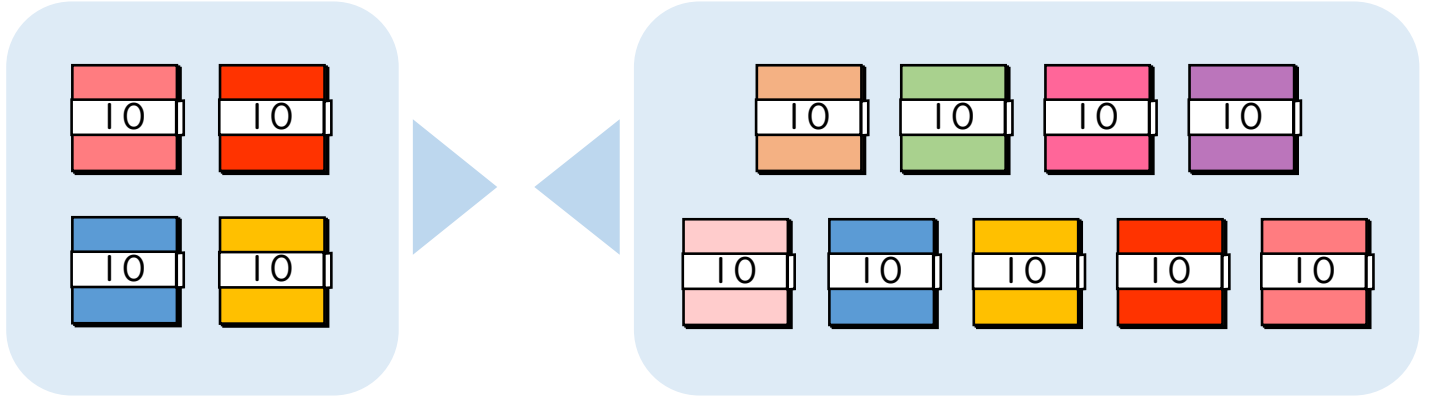
● 十のたばのたし算・ひき算



日にち： 月 日

名まえ _____

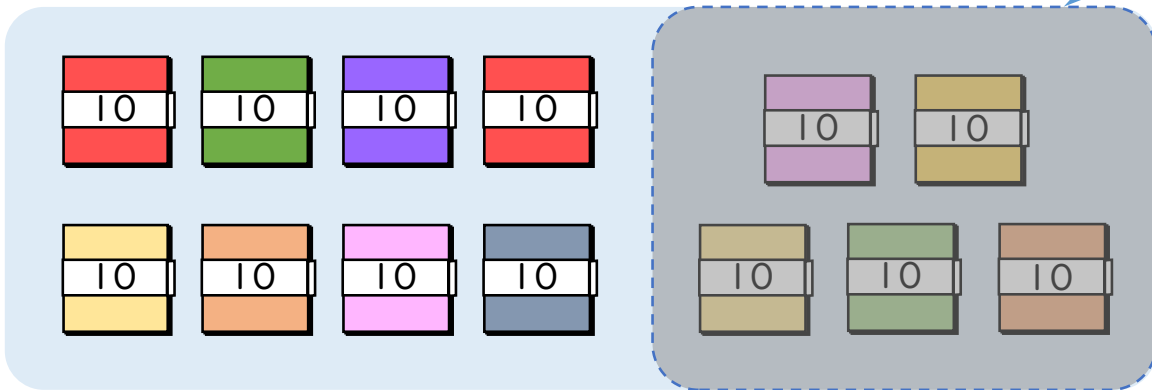
- ・ $40+90$ の答えはいくつですか。(うすい字はなぞりましょう。)



10のたばが $4 + 9 = \square$ で \square こだから

$$40 + 90 = \square$$

- ・ $130-50$ の答えはいくつですか。(うすい字はなぞりましょう。)



10のたばが $13 - 5 = \square$ で \square こだから

$$130 - 50 = \square$$





3けたの数 12

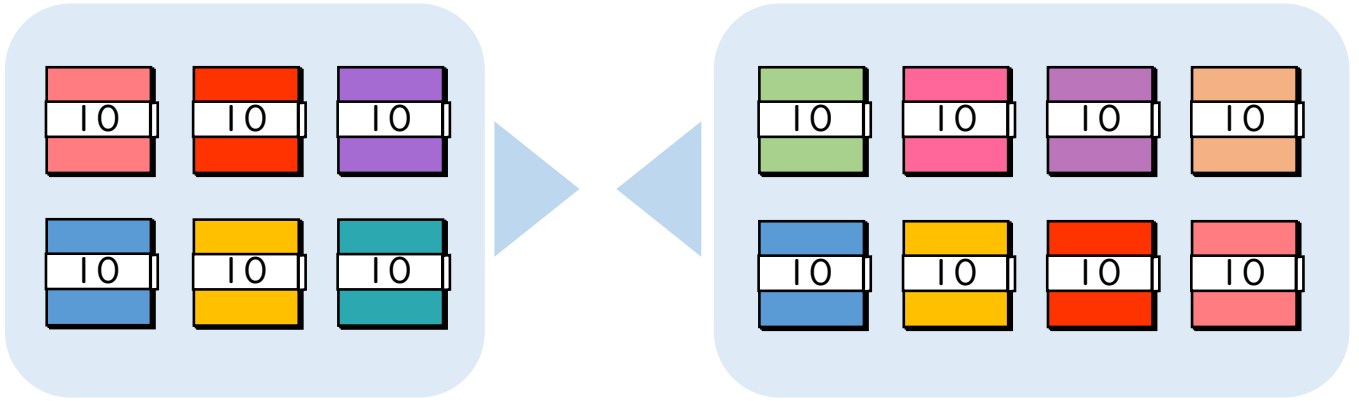
◎ 十のたばのたし算・ひき算



日にち： 月 日

名まえ _____

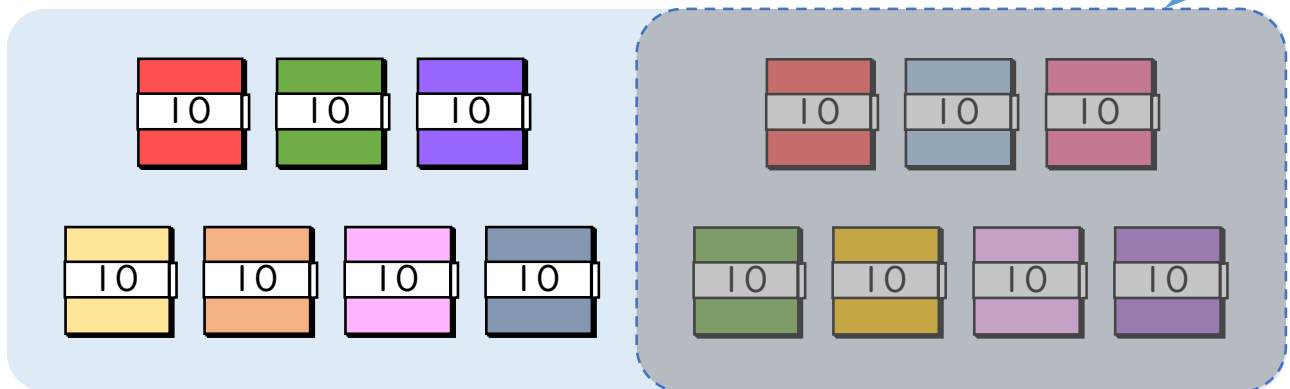
- 60+80の答えはいくつですか。(うすい字はなぞりましょう。)



10のたばが + = で こだから

$$60 + 80 = \boxed{}$$

- 140-70の答えはいくつですか。



10のたばが - = で こだから

$$140 - 70 = \boxed{}$$





3けたの数 12

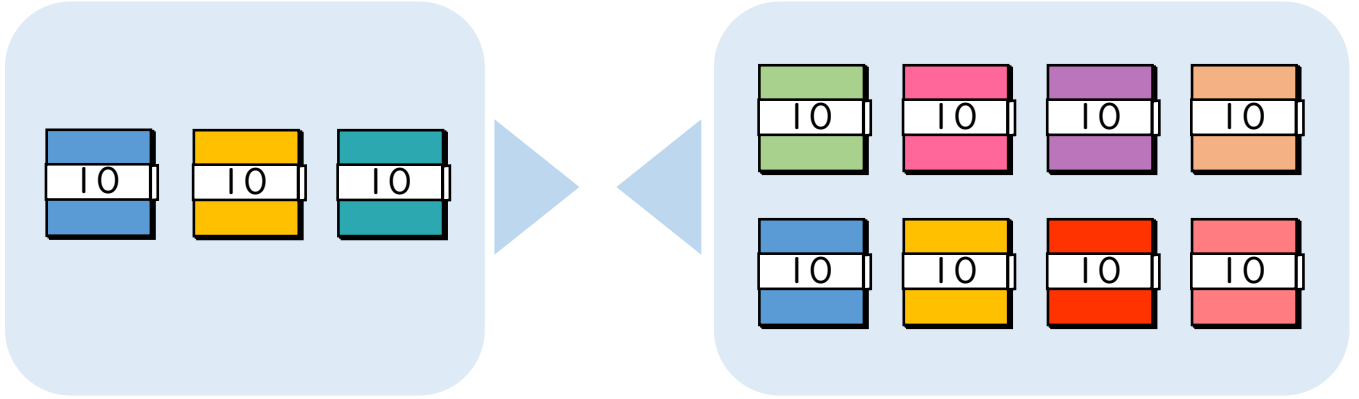
◎ 十のたばのたし算・ひき算



日にち： 月 日

名まえ _____

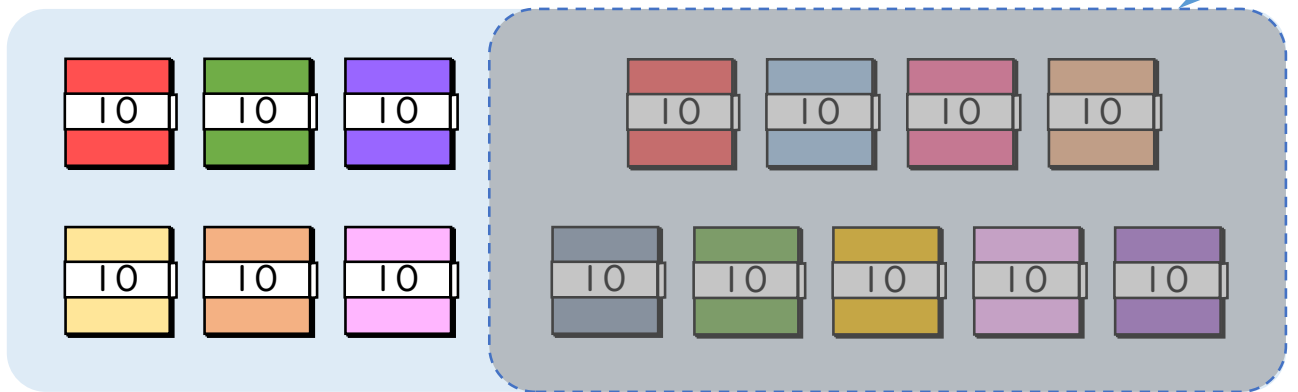
- ・ 30+80の答えはいくつですか。



10のたばが + = で こだから

$$30 + 80 = \boxed{}$$

- ・ 150-90の答えはいくつですか。



10のたばが - = で こだから

$$150 - 90 = \boxed{}$$



3けたの数 12

◎ 十のたばのたし算・ひき算



日にち： 月 日

名まえ _____

・ つぎの 計算を しましょう。(うすい字はなぞりましょう。)

① $40 + 50 = 90$

② $60 + 70 =$

③ $80 + 20 = 100$

④ $90 + 50 =$

⑤ $80 - 50 = 30$

⑥ $110 - 60 = 50$

⑦ $170 - 90 =$

⑧ $120 - 30 =$





3けたの数 12

◎ 十のたばのたし算・ひき算



日にち： 月 日

名まえ _____

・ つぎの計算をしましょう。(うすい字はなぞりましょう。)

① $60 + 30 = 90$

② $50 + 80 =$

③ $80 + 20 =$

④ $20 + 90 =$

⑤ $90 - 40 = 50$

⑥ $130 - 40 =$

⑦ $170 - 90 =$

⑧ $110 - 50 =$



3けたの数 12

◎ 十のたばのたし算・ひき算



日にち： 月 日

名まえ _____

・ つぎの 計算を しましょう。

① $40 + 10 =$

② $30 + 80 =$

③ $70 + 60 =$

④ $10 + 90 =$

⑤ $80 - 20 =$

⑥ $150 - 70 =$

⑦ $160 - 80 =$

⑧ $140 - 70 =$





3けたの数 12

◎ 十のたばのたし算・ひき算



日にち： 月 日

名まえ _____

・ つぎの計算をしましょう。

① $70 + 10 =$

② $60 + 80 =$

③ $50 + 90 =$

④ $80 + 20 =$

⑤ $90 - 50 =$

⑥ $140 - 70 =$

⑦ $130 - 80 =$

⑧ $170 - 90 =$



3けたの数 12

◎ 十のたばのたし算・ひき算



日にち： 月 日

名まえ _____

・ つぎの計算をしましょう。

① $20 + 60 =$

② $40 + 80 =$

③ $10 + 90 =$

④ $70 + 50 =$

⑤ $60 - 10 =$

⑥ $150 - 70 =$

⑦ $160 - 90 =$

⑧ $120 - 70 =$



3けたの数 12

◎ 十のたばのたし算・ひき算



日にち： 月 日

名まえ _____

・ つぎの計算をしましょう。

① $10 + 60 =$

② $90 - 40 =$

③ $70 + 30 =$

④ $120 - 70 =$

⑤ $80 + 50 =$

⑥ $160 - 80 =$

⑦ $60 + 80 =$

⑧ $160 - 70 =$



3けたの数 12

◎ 十のたばのたし算・ひき算



日にち： 月 日

名まえ _____

・ つぎの 計算を しましょう。

① $160 - 70 =$

② $50 + 50 =$

③ $40 + 10 =$

④ $80 + 60 =$

⑤ $70 - 50 =$

⑥ $130 - 60 =$

⑦ $30 + 90 =$

⑧ $120 - 30 =$



3けたの数 12

◎ 十のたばのたし算・ひき算



日にち： 月 日

名まえ _____

・ つぎの計算をしましょう。

① $170 - 90 =$

② $10 + 30 =$

③ $180 - 90 =$

④ $50 + 60 =$

⑤ $70 - 10 =$

⑥ $30 + 70 =$

⑦ $90 + 70 =$

⑧ $160 - 80 =$



3けたの数 12

◎ 十のたばのたし算・ひき算



日にち： 月 日

名まえ _____

・ つぎの 計算を しましょう。

① $30 + 60 =$

② $130 - 70 =$

③ $40 + 60 =$

④ $110 - 80 =$

⑤ $90 - 30 =$

⑥ $50 + 70 =$

⑦ $180 - 90 =$

⑧ $20 + 90 =$



3けたの数 12

◎ 十のたばのたし算・ひき算



日にち： 月 日

名まえ _____

・ つぎの計算をしましょう。

① $130 - 40 =$

② $70 + 70 =$

③ $120 - 60 =$


④ $60 + 40 =$

⑤ $40 + 50 =$

⑥ $90 - 60 =$

⑦ $80 + 50 =$

⑧ $150 - 70 =$



3けたの数 12

◎ 十のたばのたし算・ひき算

15

名まえ _____

・ つぎの 計算を しましょう。(各20点)


① $70 + 80 =$

② $120 - 50 =$

③ $40 + 60 =$

④ $130 - 70 =$

⑤ $90 + 20 =$



3けたの数 12

◎ 十のたばのたし算・ひき算



名まえ _____

・ つぎの 計算を しましょう。(各20点)

① $170 - 90 =$

② $90 + 60 =$

③ $30 + 70 =$

④ $110 - 80 =$

⑤ $40 + 50 =$



3けたの数 12

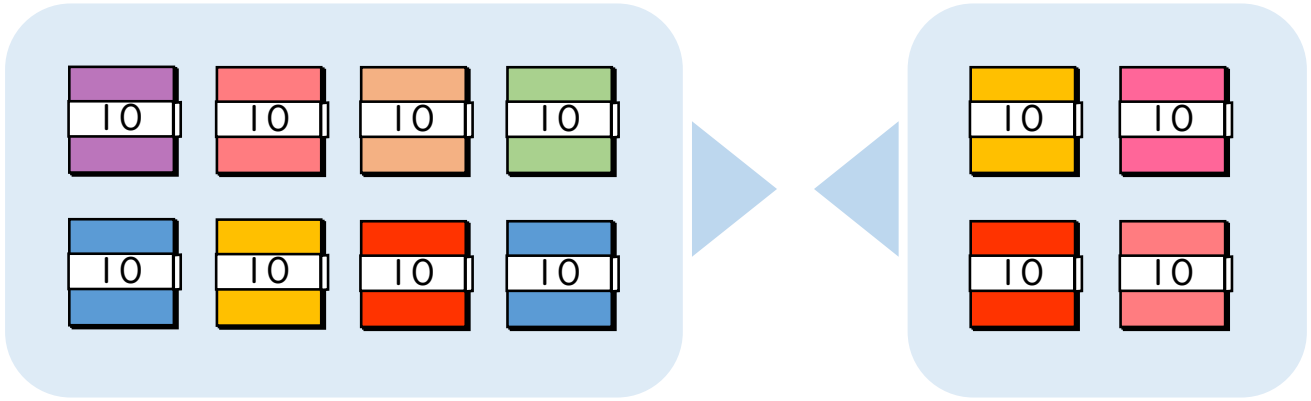
◎ 十のたばのたし算・ひき算



日にち： 月 日

名まえ _____

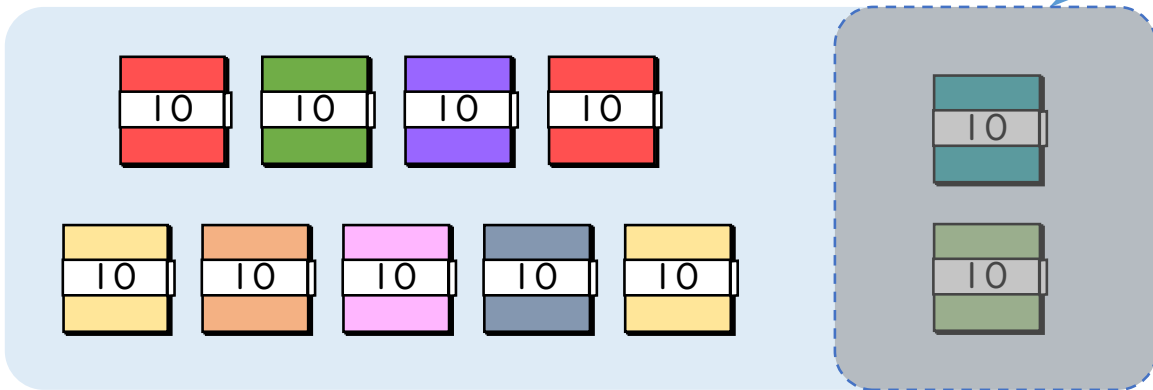
- 80+40の答えはいくつですか。(うすい字はなぞりましょう。)



10のたばが $8 + 4 = 12$ で 12 こだから

$$80 + 40 = 120$$

- 110-20の答えはいくつですか。(うすい字はなぞりましょう。)



10のたばが $11 - 2 = 9$ で 9 こだから

$$110 - 20 = 90$$





3けたの数 12

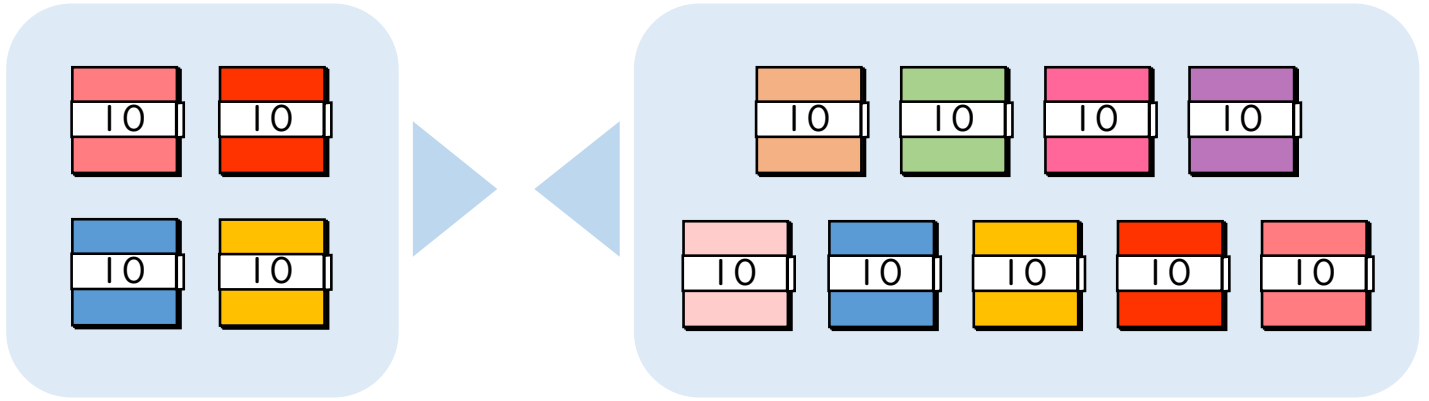
十のたばのたし算・ひき算



日にち： 月 日

名まえ _____

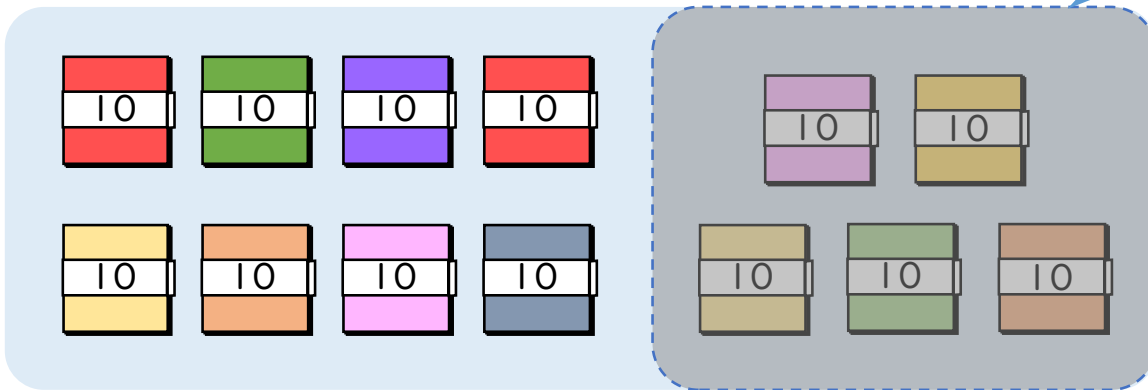
- 40+90の答えはいくつですか。(うすい字はなぞりましょう。)



10のたばが $4 + 9 = 13$ で 13 こだから

$$40 + 90 = 130$$

- 130-50の答えはいくつですか。(うすい字はなぞりましょう。)



10のたばが $13 - 5 = 8$ で 8 こだから

$$130 - 50 = 80$$





3けたの数 12

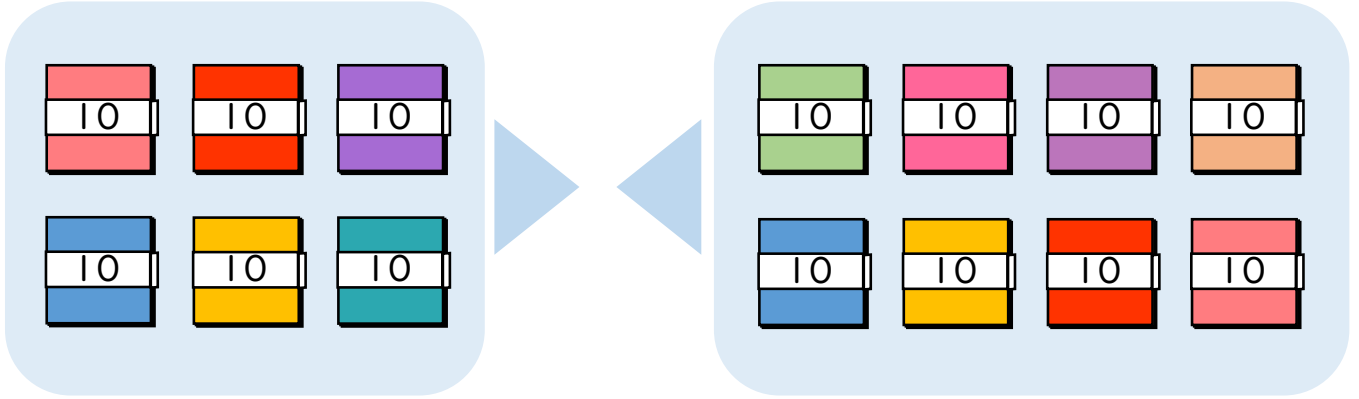
十のたばのたし算・ひき算



日にち： 月 日

名まえ _____

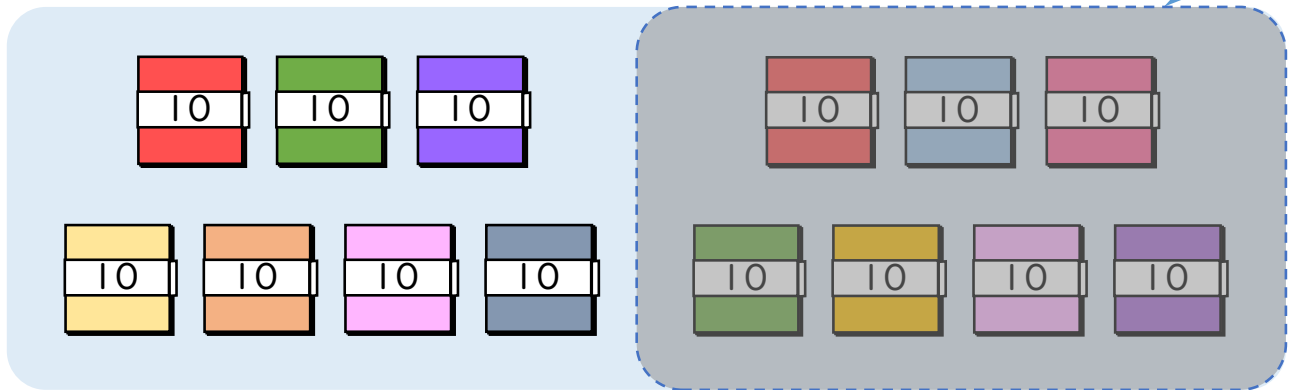
- 60+80の答えはいくつですか。(うすい字はなぞりましょう。)



10のたばが $6 + 8 = 14$ で 14 こだから

$$60 + 80 = 140$$

- 140-70の答えはいくつですか。



10のたばが $14 - 7 = 7$ で 7 こだから

$$140 - 70 = 70$$





3けたの数 12

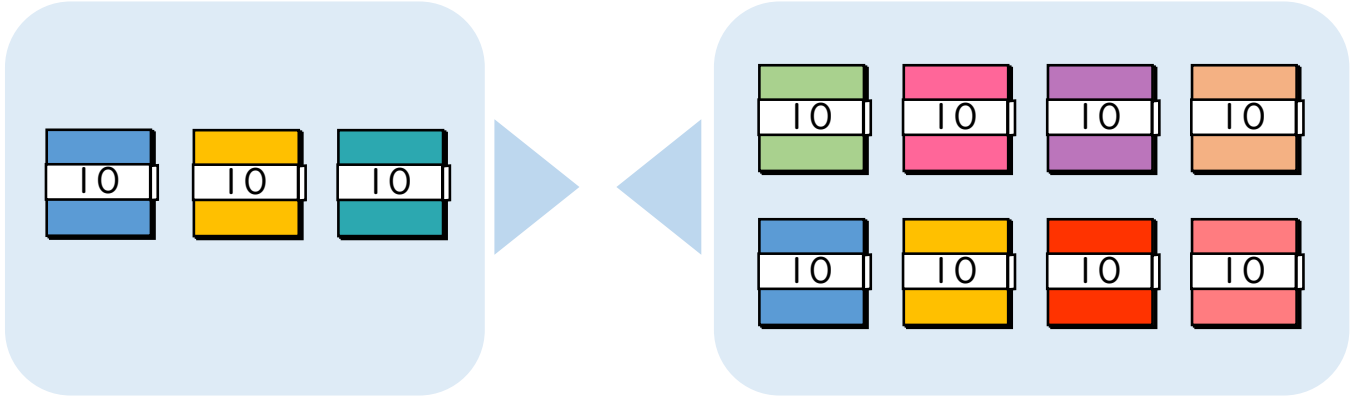
● 十のたばのたし算・ひき算



日にち： 月 日

名まえ _____

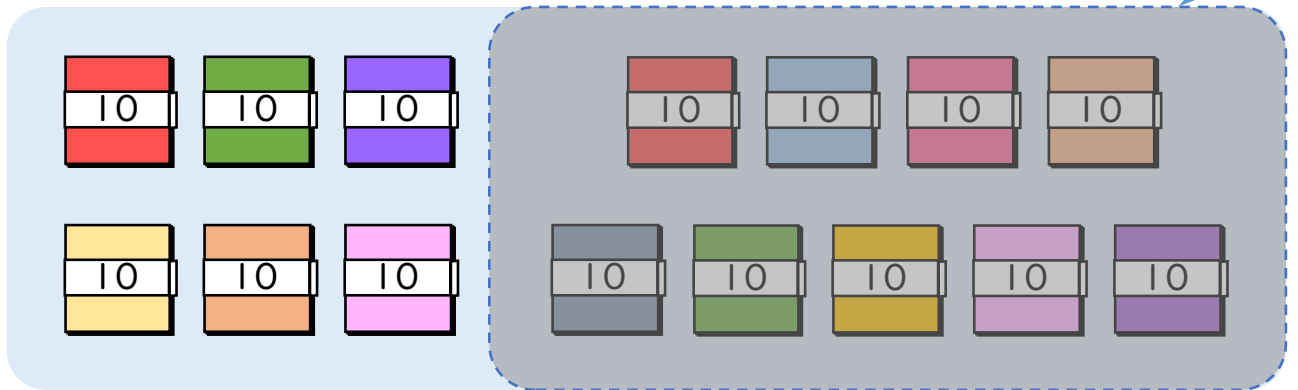
・ 30+80の 答えは いくつですか。



10のたばが $3 + 8 = 11$ で 11 こだから

$$30 + 80 = 110$$

・ 150-90の 答えは いくつですか。



10のたばが $15 - 9 = 6$ で 6 こだから

$$150 - 90 = 60$$





3けたの数 12

◎ 十のたばのたし算・ひき算



日にち： 月 日

名まえ _____

・ つぎの 計算を しましょう。(うすい字はなぞりましょう。)

① $40 + 50 = 90$

② $60 + 70 = 130$

③ $80 + 20 = 100$

④ $90 + 50 = 140$

⑤ $80 - 50 = 30$

⑥ $110 - 60 = 50$

⑦ $170 - 90 = 80$

⑧ $120 - 30 = 90$





3けたの数 12

◎ 十のたばのたし算・ひき算



日にち： 月 日

名まえ _____

・ つぎの 計算を しましょう。(うすい字はなぞりましょう。)

$$\textcircled{1} \quad 60 + 30 = 90$$

$$\textcircled{2} \quad 50 + 80 = 130$$

$$\textcircled{3} \quad 80 + 20 = 100$$

$$\textcircled{4} \quad 20 + 90 = 110$$

$$\textcircled{5} \quad 90 - 40 = 50$$

$$\textcircled{6} \quad 130 - 40 = 90$$

$$\textcircled{7} \quad 170 - 90 = 80$$

$$\textcircled{8} \quad 110 - 50 = 60$$



3けたの数 12

◎ 十のたばのたし算・ひき算



日にち： 月 日

名まえ _____

・ つぎの 計算を しましょう。

$$\textcircled{1} \quad 40 + 10 = 50$$

$$\textcircled{2} \quad 30 + 80 = 110$$

$$\textcircled{3} \quad 70 + 60 = 130$$

$$\textcircled{4} \quad 10 + 90 = 100$$

$$\textcircled{5} \quad 80 - 20 = 60$$

$$\textcircled{6} \quad 150 - 70 = 80$$

$$\textcircled{7} \quad 160 - 80 = 80$$

$$\textcircled{8} \quad 140 - 70 = 70$$



3けたの数 12

◎ 十のたばのたし算・ひき算



日にち： 月 日

名まえ _____

・ つぎの計算をしましょう。

$$\textcircled{1} \quad 70 + 10 = 80$$

$$\textcircled{2} \quad 60 + 80 = 140$$

$$\textcircled{3} \quad 50 + 90 = 140$$

$$\textcircled{4} \quad 80 + 20 = 100$$

$$\textcircled{5} \quad 90 - 50 = 40$$

$$\textcircled{6} \quad 140 - 70 = 70$$

$$\textcircled{7} \quad 130 - 80 = 50$$

$$\textcircled{8} \quad 170 - 90 = 80$$



3けたの数 12

◎ 十のたばのたし算・ひき算



日にち： 月 日

名まえ _____

・ つぎの計算をしましょう。

$$\textcircled{1} \quad 20 + 60 = 80$$

$$\textcircled{2} \quad 40 + 80 = 120$$

$$\textcircled{3} \quad 10 + 90 = 100$$

$$\textcircled{4} \quad 70 + 50 = 120$$

$$\textcircled{5} \quad 60 - 10 = 50$$

$$\textcircled{6} \quad 150 - 70 = 80$$

$$\textcircled{7} \quad 160 - 90 = 70$$

$$\textcircled{8} \quad 120 - 70 = 50$$



3けたの数 12

◎ 十のたばのたし算・ひき算



日にち： 月 日

名まえ _____

・ つぎの 計算を しましょう。

$$\textcircled{1} \quad 10 + 60 = 70$$

$$\textcircled{2} \quad 90 - 40 = 50$$

$$\textcircled{3} \quad 70 + 30 = 100$$

$$\textcircled{4} \quad 120 - 70 = 50$$

$$\textcircled{5} \quad 80 + 50 = 130$$

$$\textcircled{6} \quad 160 - 80 = 80$$

$$\textcircled{7} \quad 60 + 80 = 140$$

$$\textcircled{8} \quad 160 - 70 = 90$$



3けたの数 12

◎ 十のたばのたし算・ひき算



日にち： 月 日

名まえ _____

・ つぎの計算をしましょう。

$$\textcircled{1} \quad 160 - 70 = 90$$

$$\textcircled{2} \quad 50 + 50 = 100$$

$$\textcircled{3} \quad 40 + 10 = 50$$

$$\textcircled{4} \quad 80 + 60 = 140$$

$$\textcircled{5} \quad 70 - 50 = 20$$

$$\textcircled{6} \quad 130 - 60 = 70$$

$$\textcircled{7} \quad 30 + 90 = 120$$

$$\textcircled{8} \quad 120 - 30 = 90$$





3けたの数 12

◎ 十のたばのたし算・ひき算



日にち： 月 日

名まえ _____

・ つぎの計算をしましょう。

$$\textcircled{1} \quad 170 - 90 = 80$$

$$\textcircled{2} \quad 10 + 30 = 40$$

$$\textcircled{3} \quad 180 - 90 = 90$$

$$\textcircled{4} \quad 50 + 60 = 110$$

$$\textcircled{5} \quad 70 - 10 = 60$$

$$\textcircled{6} \quad 30 + 70 = 100$$

$$\textcircled{7} \quad 90 + 70 = 160$$

$$\textcircled{8} \quad 160 - 80 = 80$$



3けたの数 12

◎ 十のたばのたし算・ひき算



日にち： 月 日

名まえ _____

・ つぎの計算をしましょう。

$$\textcircled{1} \quad 30 + 60 = 90$$

$$\textcircled{2} \quad 130 - 70 = 60$$

$$\textcircled{3} \quad 40 + 60 = 100$$

$$\textcircled{4} \quad 110 - 80 = 30$$

$$\textcircled{5} \quad 90 - 30 = 60$$

$$\textcircled{6} \quad 50 + 70 = 120$$

$$\textcircled{7} \quad 180 - 90 = 90$$

$$\textcircled{8} \quad 20 + 90 = 110$$





3けたの数 12

◎ 十のたばのたし算・ひき算



日にち： 月 日

名まえ _____

・ つぎの 計算を しましょう。

$$\textcircled{1} \quad 130 - 40 = 90$$

$$\textcircled{2} \quad 70 + 70 = 140$$

$$\textcircled{3} \quad 120 - 60 = 60$$


$$\textcircled{4} \quad 60 + 40 = 100$$

$$\textcircled{5} \quad 40 + 50 = 90$$

$$\textcircled{6} \quad 90 - 60 = 30$$

$$\textcircled{7} \quad 80 + 50 = 130$$

$$\textcircled{8} \quad 150 - 70 = 80$$



3けたの数 12

◎ 十のたばのたし算・ひき算

15

名まえ _____

・ つぎの 計算を しましょう。(各20点)


① $70 + 80 = 150$

② $120 - 50 = 70$

③ $40 + 60 = 100$

④ $130 - 70 = 60$

⑤ $90 + 20 = 110$



3けたの数 12

◎ 十のたばのたし算・ひき算



名まえ _____

・ つぎの 計算を しましょう。(各20点)

① $170 - 90 = 80$

② $90 + 60 = 150$

③ $30 + 70 = 100$

④ $110 - 80 = 30$

⑤ $40 + 50 = 90$