



3けたの数 13

◎ 百のたばのたし算・ひき算

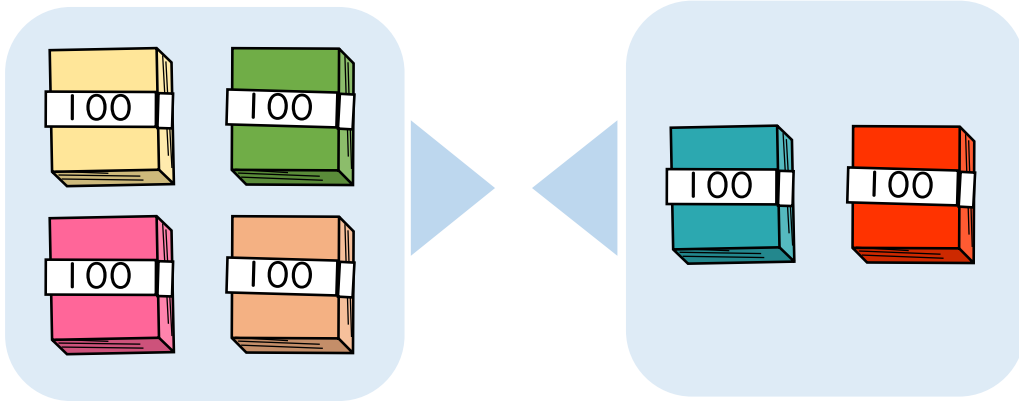


日にち： 月 日

名まえ _____

- 400+200の答えはいくつですか。

(うすい字はなぞりましょう。)

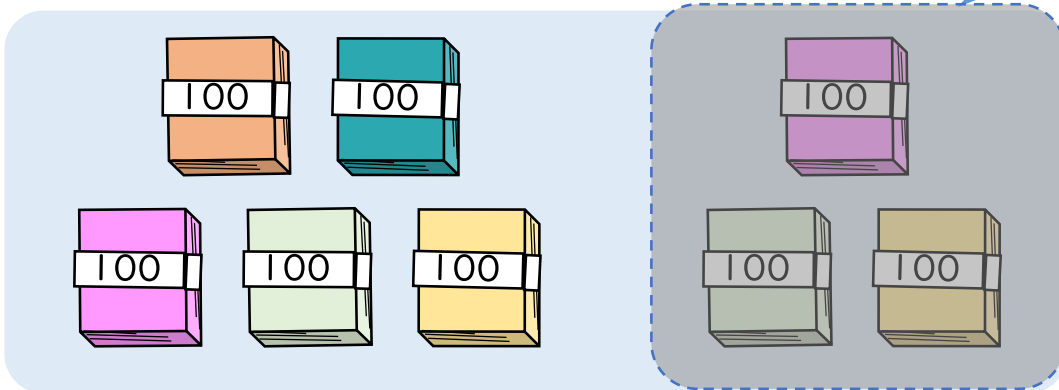


100のたばが + = で こだから

$$400 + 200 = \boxed{600}$$

- 800-300の答えはいくつですか。

(うすい字はなぞりましょう。)



100のたばが - = で こだから

$$800 - 300 = \boxed{}$$





3けたの数 13

◎ 百のたばのたし算・ひき算

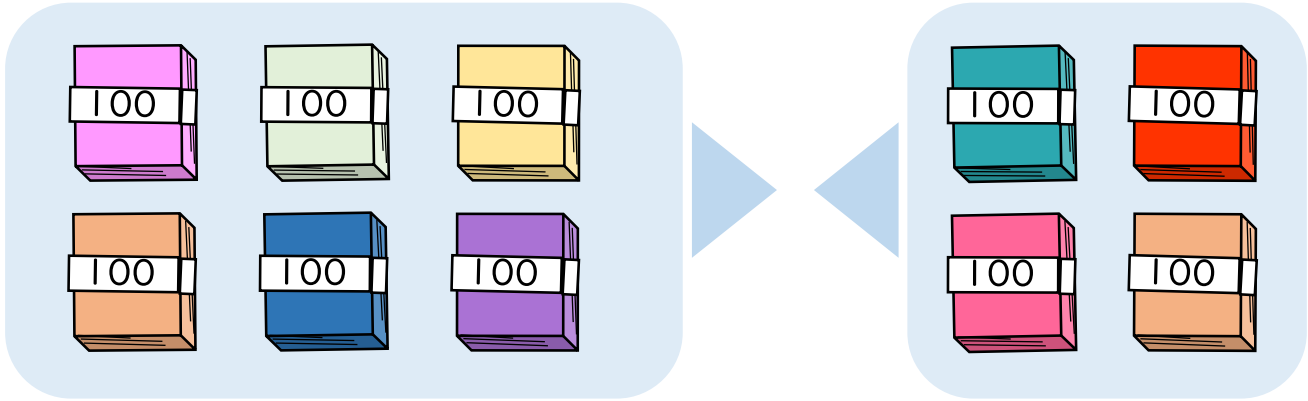


日にち： 月 日

名まえ _____

- 600+400の答えはいくつですか。

(うすい字はなぞりましょう。)

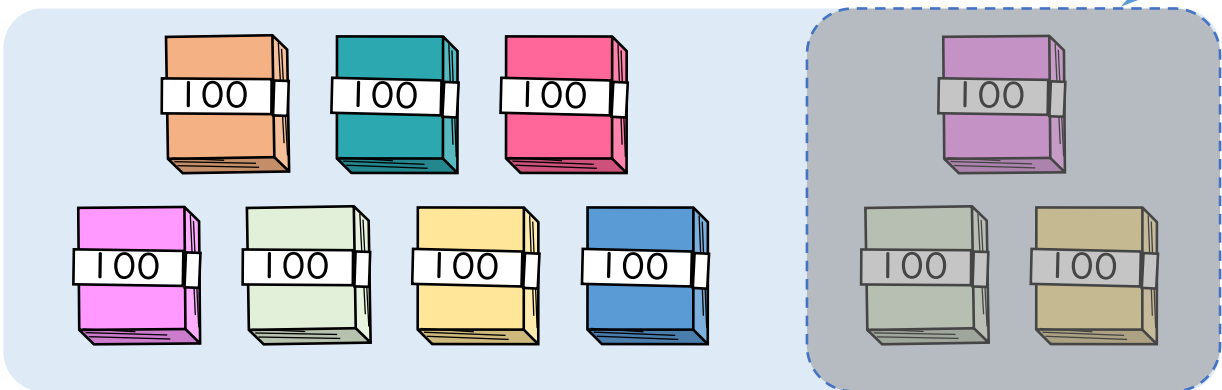


100のたばが + = で こだから

$$600 + 400 = \text{1000}$$

- 1000-300の答えはいくつですか。

(うすい字はなぞりましょう。)



100のたばが - = で こだから

$$1000 - 300 = \text{700}$$





3けたの数 13

◎ 百のたばのたし算・ひき算

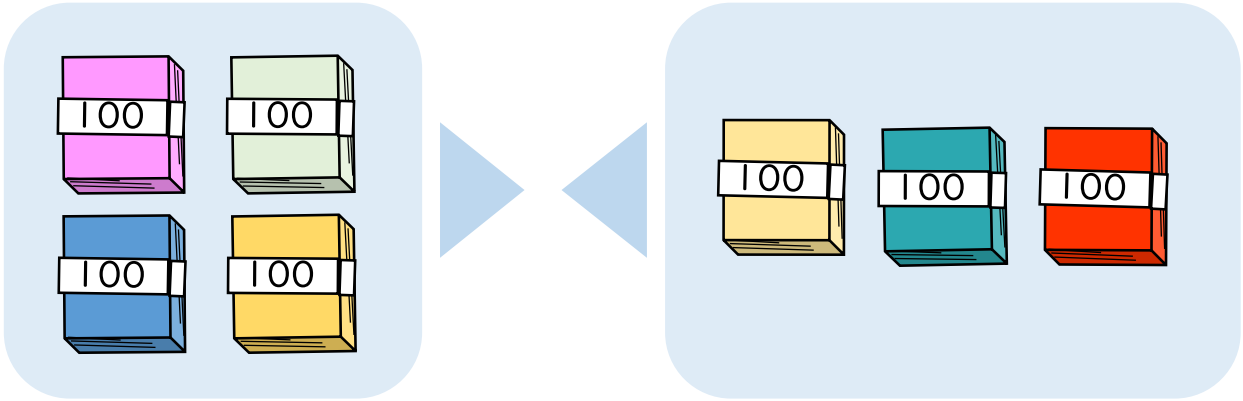


日にち： 月 日

名まえ _____

- 400+300の答えはいくつですか。

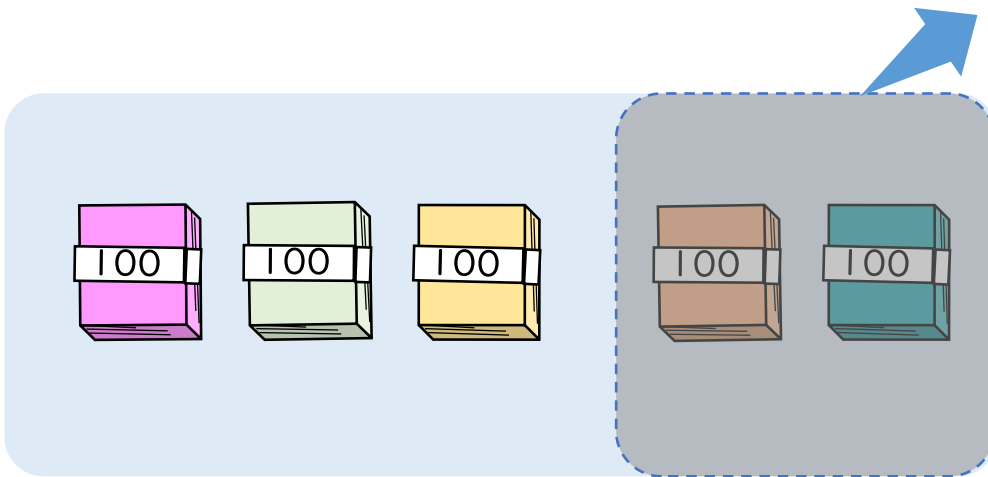
(うすい字はなぞりましょう。)



100のたばが + = で こだから

$$400 + 300 = \text{[]}$$

- 500-200の答えはいくつですか。



100のたばが - = で こだから

$$500 - 200 = \text{[]}$$





3けたの数 13

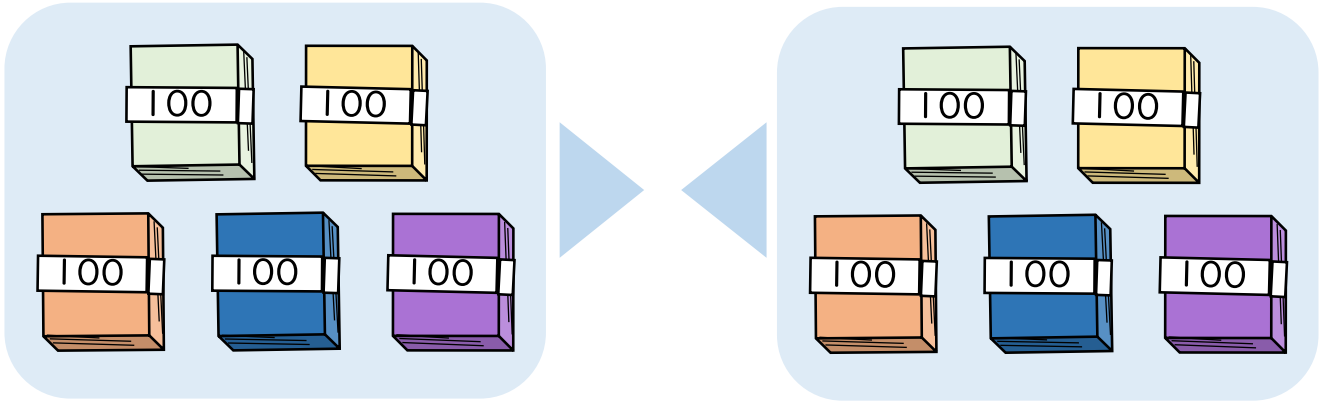
◎ 百のたばのたし算・ひき算



日にち： 月 日

名まえ _____

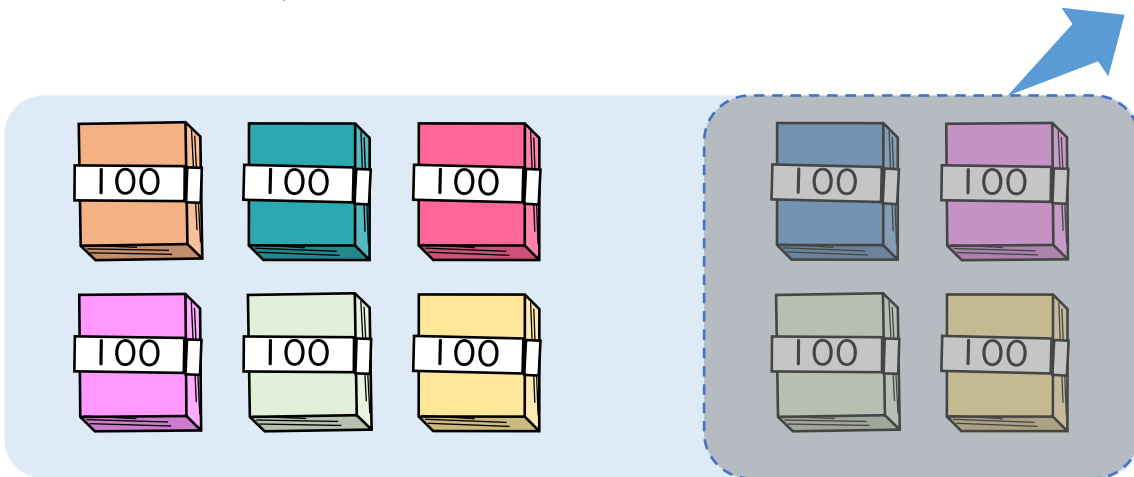
- ・ 500+500の答えはいくつですか。



100のたばが + = で こだから

$$500 + 500 = \text{$$

- ・ 1000-400の答えはいくつですか。



100のたばが - = で こだから

$$1000 - 400 = \text{$$





3けたの数 13

◎ 百のたばのたし算・ひき算



日にち： 月 日

名まえ _____

・ つぎの 計算を しましょう。(うすい字はなぞりましょう。)

① $400 + 500 = 900$

② $700 + 300 = 1000$

③ $600 + 100 =$

④ $400 + 400 =$

⑤ $700 - 300 = 400$

⑥ $1000 - 200 = 800$

⑦ $900 - 600 =$

⑧ $500 - 400 =$





3けたの数 13

◎ 百のたばのたし算・ひき算



日にち： 月 日

名まえ _____

・ つぎの計算をしましょう。(うすい字はなぞりましょう。)

① $400 + 200 = 600$

② $300 + 700 =$

③ $500 + 400 =$

④ $300 + 500 =$

⑤ $800 - 100 = 700$

⑥ $1000 - 600 =$

⑦ $700 - 300 =$

⑧ $800 - 500 =$



3けたの数 13

◎ 百のたばのたし算・ひき算



日にち： 月 日

名まえ _____

・ つぎの 計算を しましょう。

① $300 + 500 =$

② $900 + 100 =$

③ $300 + 600 =$

④ $200 + 400 =$


⑤ $800 - 300 =$

⑥ $1000 - 900 =$

⑦ $900 - 700 =$

⑧ $600 - 200 =$





3けたの数 13

◎ 百のたばのたし算・ひき算



日にち： 月 日

名まえ _____

・ つぎの計算をしましょう。

① $600 + 200 =$

② $300 + 700 =$

③ $200 + 500 =$

④ $100 + 800 =$

⑤ $800 - 600 =$

⑥ $1000 - 300 =$

⑦ $400 - 100 =$

⑧ $900 - 400 =$





3けたの数 13

◎ 百のたばのたし算・ひき算



日にち： 月 日

名まえ _____

・ つぎの 計算を しましょう。

① $500 + 400 =$

② $800 + 200 =$

③ $200 + 600 =$

④ $400 + 300 =$

⑤ $700 - 100 =$

⑥ $1000 - 700 =$

⑦ $800 - 500 =$

⑧ $900 - 800 =$





3けたの数 13

◎ 百のたばのたし算・ひき算



日にち： 月 日

名まえ _____

・ つぎの計算をしましょう。

① $700 + 200 =$

② $900 - 500 =$

③ $400 + 300 =$


④ $1000 - 400 =$

⑤ $200 + 800 =$

⑥ $500 - 200 =$

⑦ $100 + 700 =$

⑧ $600 - 500 =$



3けたの数 13

◎ 百のたばのたし算・ひき算



日にち： 月 日

名まえ _____

・ つぎの計算をしましょう。

$$\textcircled{1} \quad 400 - 100 =$$

$$\textcircled{2} \quad 100 + 900 =$$

$$\textcircled{3} \quad 1000 - 600 =$$

$$\textcircled{4} \quad 500 + 400 =$$

$$\textcircled{5} \quad 800 - 300 =$$

$$\textcircled{6} \quad 200 + 700 =$$

$$\textcircled{7} \quad 700 - 500 =$$

$$\textcircled{8} \quad 100 + 800 =$$





3けたの数 13

◎ 百のたばのたし算・ひき算

12

日にち： 月 日

名まえ _____

・ つぎの 計算を しましょう。

① $1000 - 900 =$

② $700 + 300 =$

③ $800 - 100 =$

④ $300 + 600 =$


⑤ $700 - 400 =$

⑥ $600 + 200 =$

⑦ $200 + 700 =$

⑧ $900 - 500 =$





3けたの数 13

◎ 百のたばのたし算・ひき算



日にち： 月 日

名まえ _____

・ つぎの 計算を しましょう。

① $300 + 600 =$

② $800 - 300 =$

③ $200 + 500 =$

④ $700 - 100 =$

⑤ $600 + 400 =$

⑥ $1000 - 700 =$

⑦ $900 - 800 =$

⑧ $700 + 200 =$



3けたの数 13

◎ 百のたばのたし算・ひき算



日にち： 月 日

名まえ _____

・ つぎの 計算を しましょう。

① $1000 - 500 =$

② $700 - 300 =$

③ $100 + 800 =$

④ $600 + 100 =$



⑤ $900 - 400 =$

⑥ $300 + 700 =$

⑦ $900 - 400 =$

⑧ $400 + 200 =$





3けたの数 13

◎ 百のたばのたし算・ひき算

15

名まえ _____

・ つぎの 計算を しましょう。(各20点)


① $200 + 600 =$

② $600 - 300 =$

③ $500 + 400 =$

④ $1000 - 500 =$

⑤ $300 + 700 =$



3けたの数 13

◎ 百のたばのたし算・ひき算

16

名まえ _____

・ つぎの 計算を しましょう。(各20点)

① $1000 - 300 =$

② $900 - 300 =$

③ $200 + 600 =$

④ $500 + 400 =$

⑤ $800 + 200 =$



3けたの数 13

◎ 百のたばのたし算・ひき算

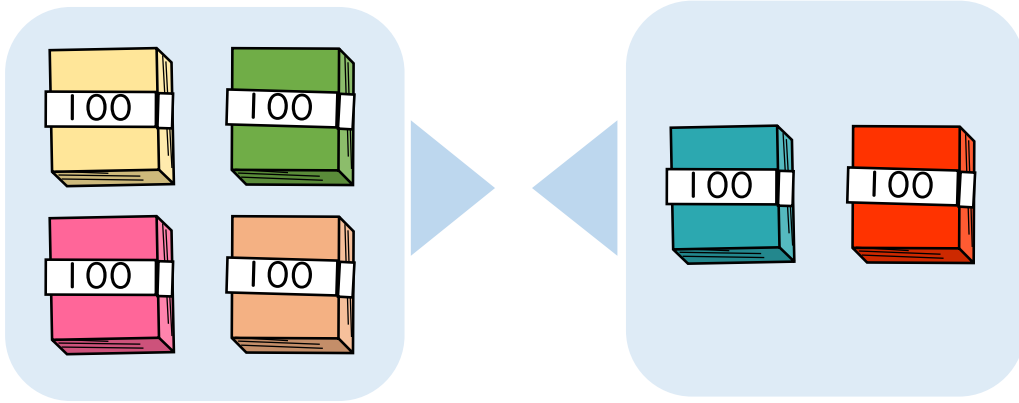


日にち： 月 日

名まえ _____

- 400+200の答えはいくつですか。

(うすい字はなぞりましょう。)

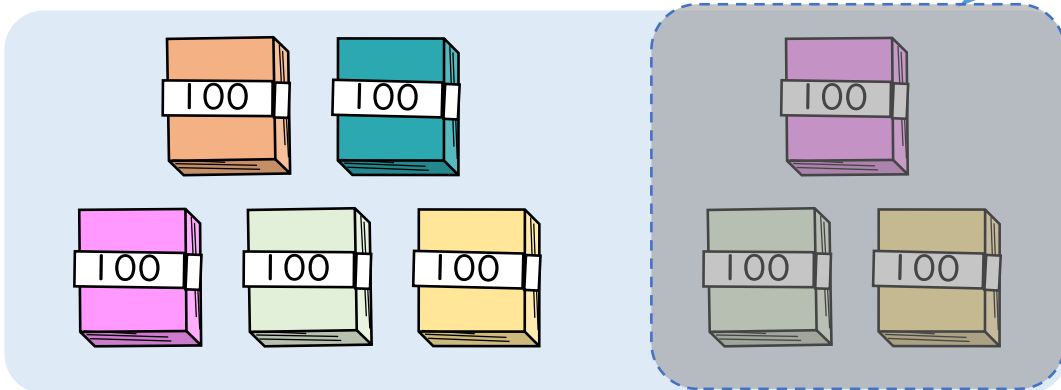


100のたばが $4 + 2 = 6$ で 6 こだから

$$400 + 200 = 600$$

- 800-300の答えはいくつですか。

(うすい字はなぞりましょう。)



100のたばが $8 - 3 = 5$ で 5 こだから

$$800 - 300 = 500$$





3けたの数 13

◎ 百のたばのたし算・ひき算

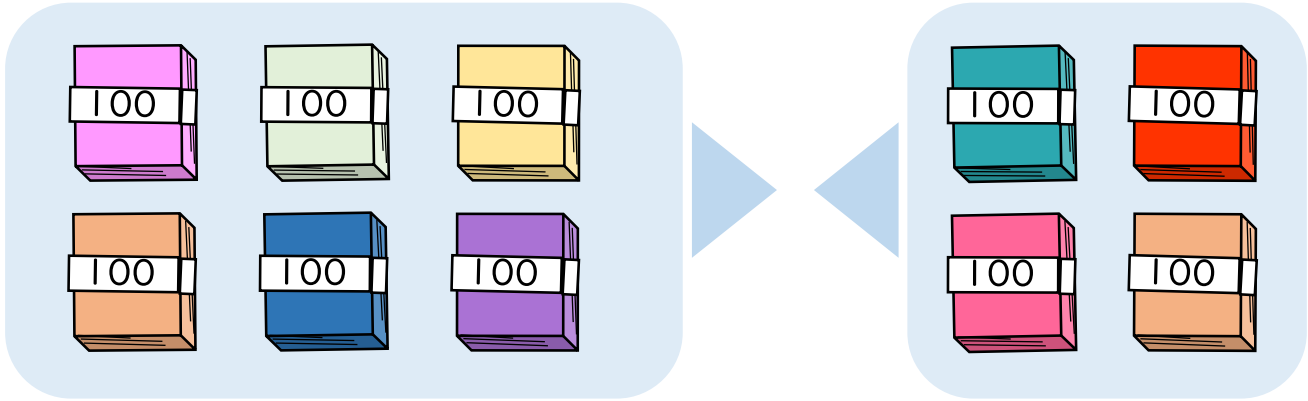


日にち： 月 日

名まえ _____

- 600+400の答えはいくつですか。

(うすい字はなぞりましょう。)

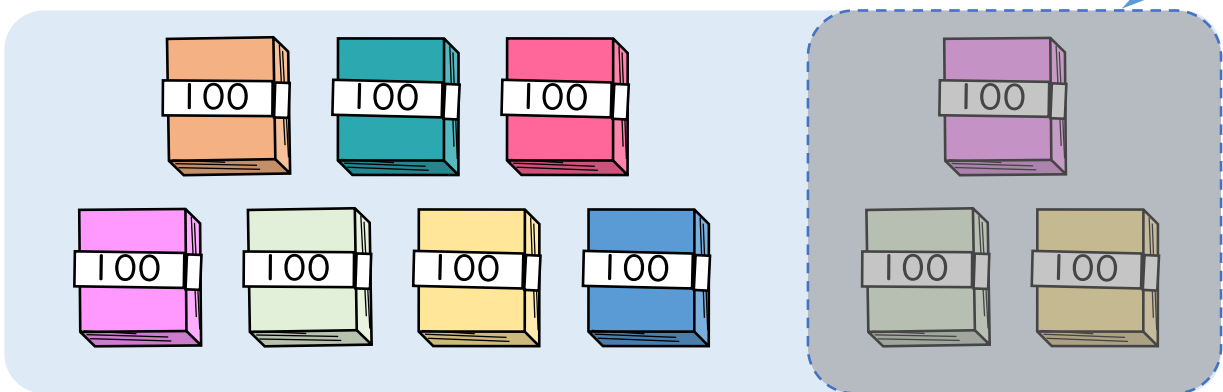


100のたばが $6 + 4 = 10$ で 10 こだから

$$600 + 400 = 1000$$

- 1000-300の答えはいくつですか。

(うすい字はなぞりましょう。)



100のたばが $10 - 3 = 7$ で 7 こだから

$$1000 - 300 = 700$$





3けたの数 13

◎ 百のたばのたし算・ひき算

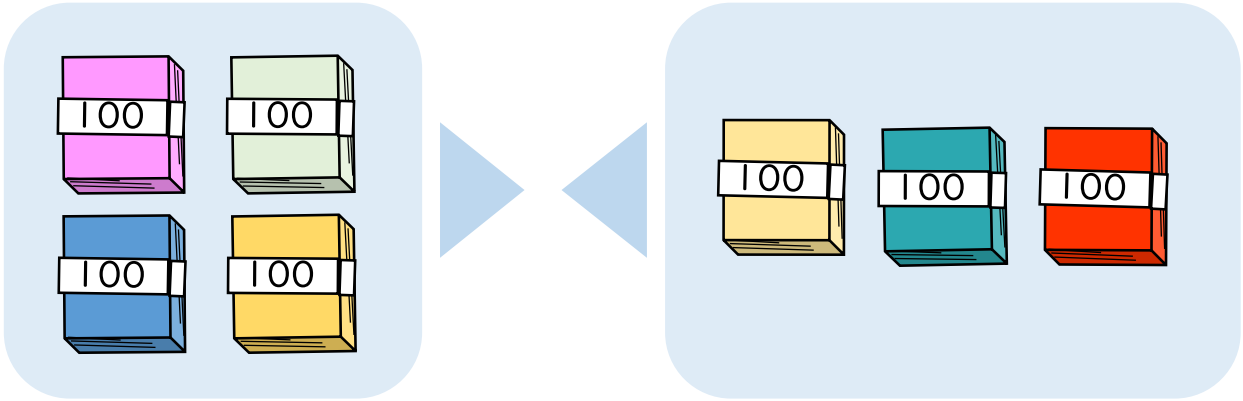


日にち： 月 日

名まえ _____

- 400+300の 答えは いくつですか。

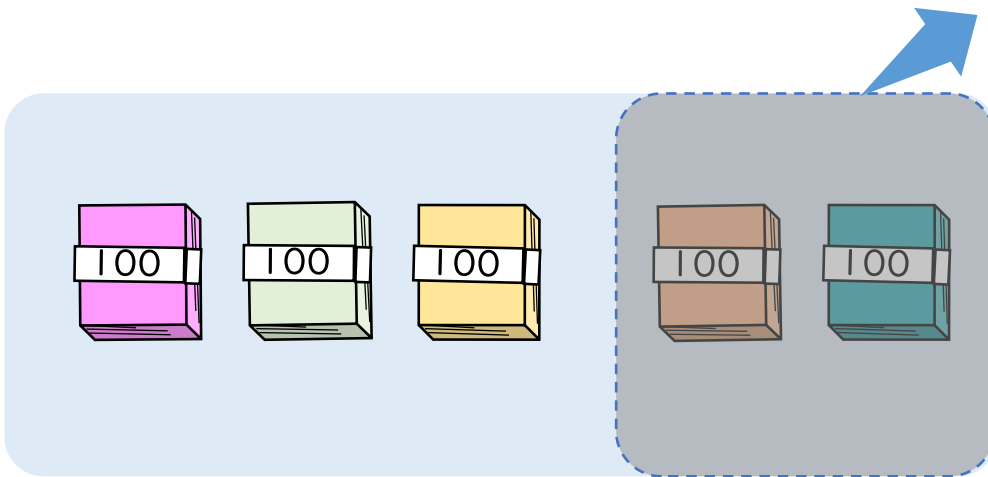
(うすい字はなぞりましょう。)



100のたばが $4 + 3 = 7$ で 7 こだから

$$400 + 300 = 700$$

- 500-200の 答えは いくつですか。



100のたばが $5 - 2 = 3$ で 3 こだから

$$500 - 200 = 300$$





3けたの数 13

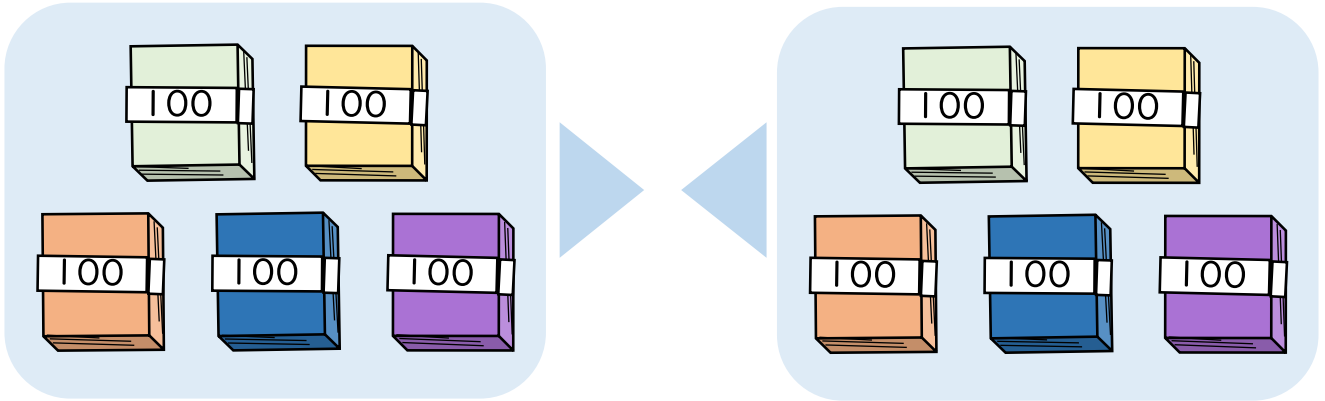
◎ 百のたばのたし算・ひき算



日にち： 月 日

名まえ _____

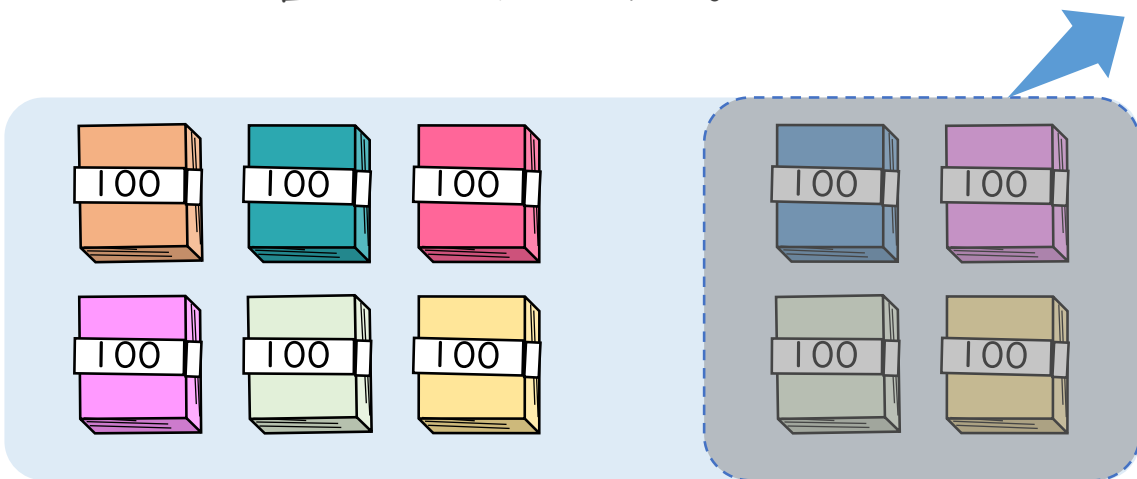
- ・ 500+500の答えはいくつですか。



100のたばが $5 + 5 = 10$ で 10 こだから

$$500 + 500 = 1000$$

- ・ 1000-400の答えはいくつですか。



100のたばが $10 - 4 = 6$ で 6 こだから

$$1000 - 400 = 600$$





3けたの数 13

◎ 百のたばのたし算・ひき算



日にち： 月 日

名まえ _____

・ つぎの 計算を しましょう。(うすい字はなぞりましょう。)

① $400 + 500 = 900$

② $700 + 300 = 1000$

③ $600 + 100 = 700$

④ $400 + 400 = 800$

⑤ $700 - 300 = 400$

⑥ $1000 - 200 = 800$

⑦ $900 - 600 = 300$

⑧ $500 - 400 = 100$





3けたの数 13

◎ 百のたばのたし算・ひき算



日にち： 月 日

名まえ _____

・ つぎの 計算を しましょう。(うすい字はなぞりましょう。)

$$\textcircled{1} \quad 400 + 200 = 600$$

$$\textcircled{2} \quad 300 + 700 = 1000$$

$$\textcircled{3} \quad 500 + 400 = 900$$

$$\textcircled{4} \quad 300 + 500 = 800$$

$$\textcircled{5} \quad 800 - 100 = 700$$

$$\textcircled{6} \quad 1000 - 600 = 400$$

$$\textcircled{7} \quad 700 - 300 = 400$$

$$\textcircled{8} \quad 800 - 500 = 300$$



3けたの数 13

◎ 百のたばのたし算・ひき算



日にち： 月 日

名まえ _____

・ つぎの 計算を しましょう。

$$\textcircled{1} \quad 300 + 500 = 800$$

$$\textcircled{2} \quad 900 + 100 = 1000$$

$$\textcircled{3} \quad 300 + 600 = 900$$


$$\textcircled{4} \quad 200 + 400 = 600$$

$$\textcircled{5} \quad 800 - 300 = 500$$

$$\textcircled{6} \quad 1000 - 900 = 100$$

$$\textcircled{7} \quad 900 - 700 = 200$$

$$\textcircled{8} \quad 600 - 200 = 400$$



3けたの数 13

◎ 百のたばのたし算・ひき算



日にち： 月 日

名まえ _____

・ つぎの 計算を しましょう。

$$\textcircled{1} \quad 600 + 200 = 800$$

$$\textcircled{2} \quad 300 + 700 = 1000$$

$$\textcircled{3} \quad 200 + 500 = 700$$

$$\textcircled{4} \quad 100 + 800 = 900$$

$$\textcircled{5} \quad 800 - 600 = 200$$

$$\textcircled{6} \quad 1000 - 300 = 700$$

$$\textcircled{7} \quad 400 - 100 = 300$$

$$\textcircled{8} \quad 900 - 400 = 500$$



3けたの数 13

◎ 百のたばのたし算・ひき算



日にち： 月 日

名まえ _____

・ つぎの 計算を しましょう。

$$\textcircled{1} \quad 500 + 400 = 900$$

$$\textcircled{2} \quad 800 + 200 = 1000$$

$$\textcircled{3} \quad 200 + 600 = 800$$

$$\textcircled{4} \quad 400 + 300 = 700$$

$$\textcircled{5} \quad 700 - 100 = 600$$

$$\textcircled{6} \quad 1000 - 700 = 300$$

$$\textcircled{7} \quad 800 - 500 = 300$$

$$\textcircled{8} \quad 900 - 800 = 100$$





3けたの数 13

◎ 百のたばのたし算・ひき算



日にち： 月 日

名まえ _____

・ つぎの計算をしましょう。

$$\textcircled{1} \quad 700 + 200 = 900$$

$$\textcircled{2} \quad 900 - 500 = 400$$

$$\textcircled{3} \quad 400 + 300 = 700$$

$$\textcircled{4} \quad 1000 - 400 = 600$$


$$\textcircled{5} \quad 200 + 800 = 1000$$

$$\textcircled{6} \quad 500 - 200 = 300$$

$$\textcircled{7} \quad 100 + 700 = 800$$

$$\textcircled{8} \quad 600 - 500 = 100$$





3けたの数 13

◎ 百のたばのたし算・ひき算



日にち： 月 日

名まえ _____

・ つぎの 計算を しましょう。

$$\textcircled{1} \quad 400 - 100 = 300$$

$$\textcircled{2} \quad 100 + 900 = 1000$$

$$\textcircled{3} \quad 1000 - 600 = 400$$

$$\textcircled{4} \quad 500 + 400 = 900$$

$$\textcircled{5} \quad 800 - 300 = 500$$

$$\textcircled{6} \quad 200 + 700 = 900$$

$$\textcircled{7} \quad 700 - 500 = 200$$

$$\textcircled{8} \quad 100 + 800 = 900$$





3けたの数 13

◎ 百のたばのたし算・ひき算

12

日にち： 月 日

名まえ _____

・ つぎの 計算を しましょう。

① $1000 - 900 = 100$

② $700 + 300 = 1000$

③ $800 - 100 = 700$

④ $300 + 600 = 900$


⑤ $700 - 400 = 300$

⑥ $600 + 200 = 800$

⑦ $200 + 700 = 900$

⑧ $900 - 500 = 400$





3けたの数 13

◎ 百のたばのたし算・ひき算



日にち： 月 日

名まえ _____

・ つぎの 計算を しましょう。

$$\textcircled{1} \quad 300 + 600 = 900$$

$$\textcircled{2} \quad 800 - 300 = 500$$

$$\textcircled{3} \quad 200 + 500 = 700$$

$$\textcircled{4} \quad 700 - 100 = 600$$

$$\textcircled{5} \quad 600 + 400 = 1000$$

$$\textcircled{6} \quad 1000 - 700 = 300$$

$$\textcircled{7} \quad 900 - 800 = 100$$

$$\textcircled{8} \quad 700 + 200 = 900$$



3けたの数 13

◎ 百のたばのたし算・ひき算



日にち： 月 日

名まえ _____

・ つぎの計算をしましょう。

$$\textcircled{1} \quad 1000 - 500 = 500$$

$$\textcircled{2} \quad 700 - 300 = 400$$

$$\textcircled{3} \quad 100 + 800 = 900$$

$$\textcircled{4} \quad 600 + 100 = 700$$


$$\textcircled{5} \quad 900 - 400 = 500$$

$$\textcircled{6} \quad 300 + 700 = 1000$$

$$\textcircled{7} \quad 900 - 400 = 500$$

$$\textcircled{8} \quad 400 + 200 = 600$$





3けたの数 13

◎ 百のたばのたし算・ひき算

15

名まえ _____

・ つぎの 計算を しましょう。(各20点)


① $200 + 600 = 800$

② $600 - 300 = 300$

③ $500 + 400 = 900$

④ $1000 - 500 = 500$

⑤ $300 + 700 = 1000$



3けたの数 13

◎ 百のたばのたし算・ひき算

16

名まえ _____

・ つぎの 計算を しましょう。(各20点)

① $1000 - 300 = 700$

② $900 - 300 = 600$

③ $200 + 600 = 800$

④ $500 + 400 = 900$

⑤ $800 + 200 = 1000$

