



3けたの数14

◎ 300+40の
たし算のしかた




日にち： 月 日

名まえ _____

・ たし算をしましょう。(うすい字はなぞりましょう。)

① 300 + 40 = 340



百のくらい	十のくらい	一のくらい
3	4	0

② 200 + 8 =



百のくらい	十のくらい	一のくらい
2	0	8



3けたの数14

◎ 300+40の
たし算のしかた




日にち： 月 日

名まえ _____

・ たし算をしましょう。(うすい字はなぞりましょう。)

① $400 + 60 =$



百のくらい	十のくらい	一のくらい
4	6	0

② $700 + 2 =$



百のくらい	十のくらい	一のくらい
	0	





3けたの数14

◎ 300+40の
たし算のしかた




日にち： 月 日

名まえ _____


・ たし算をしましょう。(うすい字はなぞりましょう。)

① $600 + 30 =$



百のくらい	十のくらい	一のくらい
6		

② $100 + 4 =$



百のくらい	十のくらい	一のくらい
1		





3けたの数14

◎ 300+40の
たし算のしかた




日にち： 月 日

名まえ _____

・ たし算をしましょう。

① $800 + 40 =$




百のくらい	十のくらい	一のくらい

② $400 + 9 =$



百のくらい	十のくらい	一のくらい



3けたの数14

◎ 300+40の
たし算のしかた



日にち： 月 日

名まえ _____

・ たし算をしましょう。(うすい字はなぞりましょう。)

① 600 + 30 = 630

② 400 + 20 =

③ 700 + 10 =

④ 800 + 80 =


⑤ 500 + 1 = 501

⑥ 300 + 4 =

⑦ 900 + 2 =

⑧ 600 + 5 =





3けたの数14

◎ 300+40の
たし算のしかた



日にち： 月 日

名まえ _____

・ たし算をしましょう。

① 500 + 50 =

② 100 + 60 =

③ 800 + 90 =

④ 300 + 80 =

⑤ 700 + 4 =

⑥ 200 + 3 =

⑦ 400 + 9 =

⑧ 600 + 7 =



3けたの数14

◎ 300+40の
たし算のしかた



日にち： 月 日

名まえ _____

・ たし算をしましょう。

① $200 + 70 =$

② $600 + 90 =$

③ $200 + 40 =$

④ $100 + 60 =$

⑤ $900 + 3 =$

⑥ $800 + 5 =$

⑦ $300 + 5 =$

⑧ $100 + 8 =$





3けたの数14

◎ 300+40の
たし算のしかた



日にち： 月 日

名まえ _____

・ たし算をしましょう。

① $900 + 90 =$

② $100 + 60 =$

③ $700 + 30 =$

④ $200 + 30 =$

⑤ $700 + 8 =$

⑥ $400 + 8 =$

⑦ $500 + 1 =$

⑧ $400 + 5 =$





3けたの数14

◎ 300+40の
たし算のしかた



日にち： 月 日

名まえ _____

・ たし算をしましょう。

① $400 + 20 =$

② $800 + 50 =$

③ $200 + 50 =$

④ $300 + 60 =$

⑤ $400 + 9 =$

⑥ $700 + 8 =$

⑦ $600 + 1 =$

⑧ $700 + 9 =$



3けたの数14

◎ 300+40の
たし算のしかた



日にち： 月 日

名まえ _____

・ たし算をしましょう。

① $700 + 40 =$

② $300 + 2 =$

③ $800 + 20 =$

④ $400 + 3 =$

⑤ $500 + 60 =$

⑥ $100 + 9 =$

⑦ $800 + 70 =$

⑧ $600 + 8 =$





3けたの数14

◎ 300+40の
たし算のしかた



日にち： 月 日

名まえ _____

・ たし算をしましょう。

① 400 + 70 =

② 300 + 5 =

③ 100 + 6 =

④ 300 + 40 =

⑤ 500 + 8 =

⑥ 800 + 90 =

⑦ 700 + 10 =

⑧ 200 + 6 =





3けたの数14

◎ 300+40の
たし算のしかた



日にち： 月 日

名まえ _____

・ たし算をしましょう。

① $300 + 9 =$

② $900 + 40 =$

③ $700 + 30 =$

④ $500 + 8 =$

⑤ $600 + 50 =$

⑥ $100 + 8 =$

⑦ $200 + 10 =$

⑧ $400 + 7 =$



3けたの数14

◎ 300+40の
たし算のしかた



日にち： 月 日

名まえ _____

・ たし算をしましょう。

① $500 + 90 =$

② $800 + 2 =$

③ $300 + 90 =$

④ $700 + 5 =$

⑤ $300 + 4 =$

⑥ $600 + 20 =$

⑦ $200 + 8 =$

⑧ $700 + 10 =$



3けたの数14

◎ 300+40の
たし算のしかた



日にち： 月 日

名まえ _____

・ たし算をしましょう。

① $200 + 8 =$

② $400 + 30 =$

③ $100 + 4 =$


④ $700 + 50 =$

⑤ $300 + 90 =$

⑥ $700 + 2 =$

⑦ $500 + 6 =$

⑧ $800 + 60 =$



3けたの数 14

● 300+40の
たし算のしかた

15

名まえ _____

・ つぎの 計算を しましょう。(各20点)

① $600 + 2 =$

② $800 + 50 =$

③ $400 + 7 =$

④ $900 + 30 =$

⑤ $500 + 1 =$



3けたの数14

● 300+40の
たし算のしかた

16

目指せ80点!



名まえ _____

・ つぎの計算をしましょう。(各20点)

① $200 + 50 =$

② $300 + 8 =$

③ $700 + 90 =$

④ $100 + 4 =$

⑤ $600 + 30 =$



3けたの数14

◎ 300+40の
たし算のしかた




日にち： 月 日

名まえ _____


・ たし算をしましょう。(うすい字はなぞりましょう。)

① $300 + 40 = 340$




百のくらい	十のくらい	一のくらい
3	4	0

② $200 + 8 = 208$



百のくらい	十のくらい	一のくらい
2	0	8





3けたの数14

◎ 300+40の
たし算のしかた



日にち： 月 日

名まえ _____

・ たし算をしましょう。(うすい字はなぞりましょう。)

$$\textcircled{1} \quad 400 + 60 = 460$$



百のくらい	十のくらい	一のくらい
4	6	0

$$\textcircled{2} \quad 700 + 2 = 702$$



百のくらい	十のくらい	一のくらい
7	0	2





3けたの数14

◎ 300+40の
たし算のしかた




日にち： 月 日

名まえ _____

・ たし算をしましょう。(うすい字はなぞりましょう。)

$$\textcircled{1} \quad 600 + 30 = 630$$



百のくらい	十のくらい	一のくらい
6	3	0

$$\textcircled{2} \quad 100 + 4 = 104$$



百のくらい	十のくらい	一のくらい
1	0	4





3けたの数 14

◎ 300+40の
たし算のしかた




日にち： 月 日

名まえ _____

・ たし算をしましょう。

$$\textcircled{1} \quad 800 + 40 = 840$$



百のくらい	十のくらい	一のくらい
8	4	0

$$\textcircled{2} \quad 400 + 9 = 409$$



百のくらい	十のくらい	一のくらい
4	0	9





3けたの数14

◎ 300+40の
たし算のしかた



日にち： 月 日

名まえ _____

・ たし算をしましょう。(うすい字はなぞりましょう。)

$$\textcircled{1} \quad 600 + 30 = 630$$

$$\textcircled{2} \quad 400 + 20 = 420$$

$$\textcircled{3} \quad 700 + 10 = 710$$


$$\textcircled{4} \quad 800 + 80 = 880$$

$$\textcircled{5} \quad 500 + 1 = 501$$

$$\textcircled{6} \quad 300 + 4 = 304$$

$$\textcircled{7} \quad 900 + 2 = 902$$

$$\textcircled{8} \quad 600 + 5 = 605$$



3けたの数14

◎ 300+40の
たし算のしかた



日にち： 月 日

名まえ _____

・ たし算をしましょう。

$$\textcircled{1} \quad 500 + 50 = 550$$

$$\textcircled{2} \quad 100 + 60 = 160$$

$$\textcircled{3} \quad 800 + 90 = 890$$

$$\textcircled{4} \quad 300 + 80 = 380$$

$$\textcircled{5} \quad 700 + 4 = 704$$

$$\textcircled{6} \quad 200 + 3 = 203$$

$$\textcircled{7} \quad 400 + 9 = 409$$

$$\textcircled{8} \quad 600 + 7 = 607$$



3けたの数14

◎ 300+40の
たし算のしかた



日にち： 月 日

名まえ _____

・ たし算をしましょう。

$$\textcircled{1} \quad 200 + 70 = 270$$

$$\textcircled{2} \quad 600 + 90 = 690$$

$$\textcircled{3} \quad 200 + 40 = 240$$

$$\textcircled{4} \quad 100 + 60 = 160$$

$$\textcircled{5} \quad 900 + 3 = 903$$

$$\textcircled{6} \quad 800 + 5 = 805$$

$$\textcircled{7} \quad 300 + 5 = 305$$

$$\textcircled{8} \quad 100 + 8 = 108$$





3けたの数14

◎ 300+40の
たし算のしかた



日にち： 月 日

名まえ _____

・ たし算をしましょう。

$$\textcircled{1} \quad 900 + 90 = 990$$

$$\textcircled{2} \quad 100 + 60 = 160$$

$$\textcircled{3} \quad 700 + 30 = 730$$

$$\textcircled{4} \quad 200 + 30 = 230$$

$$\textcircled{5} \quad 700 + 8 = 708$$

$$\textcircled{6} \quad 400 + 8 = 408$$

$$\textcircled{7} \quad 500 + 1 = 501$$

$$\textcircled{8} \quad 400 + 5 = 405$$



3けたの数14

◎ 300+40の
たし算のしかた



日にち： 月 日

名まえ _____

・ たし算をしましょう。

$$\textcircled{1} \quad 400 + 20 = 420$$

$$\textcircled{2} \quad 800 + 50 = 850$$

$$\textcircled{3} \quad 200 + 50 = 250$$

$$\textcircled{4} \quad 300 + 60 = 360$$

$$\textcircled{5} \quad 400 + 9 = 409$$

$$\textcircled{6} \quad 700 + 8 = 708$$

$$\textcircled{7} \quad 600 + 1 = 601$$

$$\textcircled{8} \quad 700 + 9 = 709$$



3けたの数14

◎ 300+40の
たし算のしかた



日にち： 月 日

名まえ _____

・ たし算をしましょう。

$$\textcircled{1} \quad 700 + 40 = 740$$

$$\textcircled{2} \quad 300 + 2 = 302$$

$$\textcircled{3} \quad 800 + 20 = 820$$

$$\textcircled{4} \quad 400 + 3 = 403$$

$$\textcircled{5} \quad 500 + 60 = 560$$

$$\textcircled{6} \quad 100 + 9 = 109$$

$$\textcircled{7} \quad 800 + 70 = 870$$

$$\textcircled{8} \quad 600 + 8 = 608$$





3けたの数14

◎ 300+40の
たし算のしかた



日にち： 月 日

名まえ _____

・ たし算をしましょう。

$$\textcircled{1} \quad 400 + 70 = 470$$

$$\textcircled{2} \quad 300 + 5 = 305$$

$$\textcircled{3} \quad 100 + 6 = 106$$

$$\textcircled{4} \quad 300 + 40 = 340$$

$$\textcircled{5} \quad 500 + 8 = 508$$

$$\textcircled{6} \quad 800 + 90 = 890$$

$$\textcircled{7} \quad 700 + 10 = 710$$

$$\textcircled{8} \quad 200 + 6 = 206$$





3けたの数14

◎ 300+40の
たし算のしかた



日にち： 月 日

名まえ _____

・ たし算をしましょう。

$$\textcircled{1} \quad 300 + 9 = 309$$

$$\textcircled{2} \quad 900 + 40 = 940$$

$$\textcircled{3} \quad 700 + 30 = 730$$

$$\textcircled{4} \quad 500 + 8 = 508$$

$$\textcircled{5} \quad 600 + 50 = 650$$

$$\textcircled{6} \quad 100 + 8 = 108$$

$$\textcircled{7} \quad 200 + 10 = 210$$

$$\textcircled{8} \quad 400 + 7 = 407$$





3けたの数14

◎ 300+40の
たし算のしかた



日にち： 月 日

名まえ _____

・ たし算をしましょう。

$$\textcircled{1} \quad 500 + 90 = 590$$

$$\textcircled{2} \quad 800 + 2 = 802$$

$$\textcircled{3} \quad 300 + 90 = 390$$

$$\textcircled{4} \quad 700 + 5 = 705$$

$$\textcircled{5} \quad 300 + 4 = 304$$

$$\textcircled{6} \quad 600 + 20 = 620$$

$$\textcircled{7} \quad 200 + 8 = 208$$

$$\textcircled{8} \quad 700 + 10 = 710$$



3けたの数14

◎ 300+40の
たし算のしかた



日にち： 月 日

名まえ _____

・ たし算をしましょう。

$$\textcircled{1} \quad 200 + 8 = 208$$

$$\textcircled{2} \quad 400 + 30 = 430$$

$$\textcircled{3} \quad 100 + 4 = 104$$

$$\textcircled{4} \quad 700 + 50 = 750$$

$$\textcircled{5} \quad 300 + 90 = 390$$

$$\textcircled{6} \quad 700 + 2 = 702$$

$$\textcircled{7} \quad 500 + 6 = 506$$

$$\textcircled{8} \quad 800 + 60 = 860$$




3けたの数14

● 300+40の
たし算のしかた

15

目指せ80点!



名まえ _____

・ つぎの計算をしましょう。(各20点)

① $600 + 2 = 602$

② $800 + 50 = 850$

③ $400 + 7 = 407$

④ $900 + 30 = 930$

⑤ $500 + 1 = 501$



3けたの数14

● 300+40の
たし算のしかた

16

目指せ80点!



名まえ _____

・ つぎの 計算を しましょう。(各20点)

① $200 + 50 = 250$

② $300 + 8 = 308$

③ $700 + 90 = 790$

④ $100 + 4 = 104$

⑤ $600 + 30 = 630$

