



3けたの数 14

● 500+30の
たし算のしかた

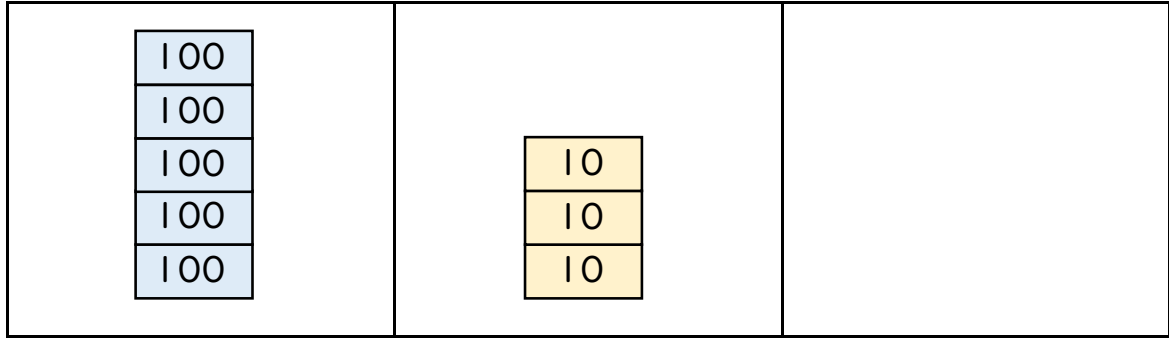


日にち： 月 日

名まえ _____

・ たし算をしましょう。(うすい字はなぞりましょう。)

① 500 + 30 = 530



百のくらい	十のくらい	一のくらい
5	3	0

② 600 + 7 =



百のくらい	十のくらい	一のくらい
6	0	7





3けたの数 14

● 500+30の
たし算のしかた

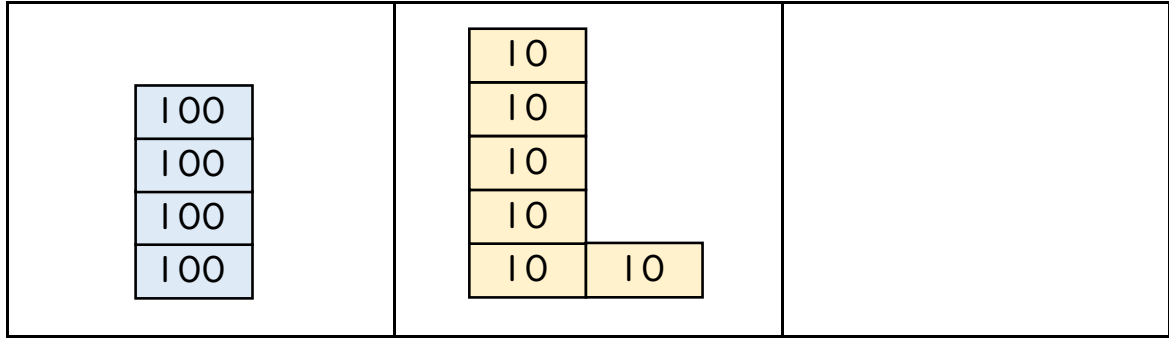


日にち： 月 日

名まえ _____

・ たし算をしましょう。(うすい字はなぞりましょう。)

① 400 + 60 =



百のくらい	十のくらい	一のくらい
4	6	0

② 700 + 2 =



百のくらい	十のくらい	一のくらい





3けたの数 14

● 500+30の
たし算のしかた



日にち： 月 日

名まえ _____

・ たし算をしましょう。(うすい字はなぞりましょう。)

① $900 + 30 =$

<table border="1"><tr><td>100</td><td></td></tr><tr><td>100</td><td>100</td></tr><tr><td>100</td><td>100</td></tr><tr><td>100</td><td>100</td></tr><tr><td>100</td><td>100</td></tr></table>	100		100	100	100	100	100	100	100	100	<table border="1"><tr><td>10</td></tr><tr><td>10</td></tr><tr><td>10</td></tr></table>	10	10	10	
100															
100	100														
100	100														
100	100														
100	100														
10															
10															
10															

百のくらい	十のくらい	一のくらい
9		

② $500 + 4 =$

<table border="1"><tr><td>100</td></tr><tr><td>100</td></tr><tr><td>100</td></tr><tr><td>100</td></tr><tr><td>100</td></tr></table>	100	100	100	100	100		<table border="1"><tr><td> </td></tr><tr><td> </td></tr><tr><td> </td></tr><tr><td> </td></tr></table>				
100											
100											
100											
100											
100											

百のくらい	十のくらい	一のくらい





3けたの数 14

● 500+30の
たし算のしかた



日にち： 月 日

名まえ _____

・ たし算をしましょう。

① $800 + 40 =$


<table border="1"><tr><td>100</td><td></td></tr><tr><td>100</td><td></td></tr><tr><td>100</td><td>100</td></tr><tr><td>100</td><td>100</td></tr><tr><td>100</td><td>100</td></tr></table>	100		100		100	100	100	100	100	100	<table border="1"><tr><td>10</td></tr><tr><td>10</td></tr><tr><td>10</td></tr><tr><td>10</td></tr></table>	10	10	10	10	
100																
100																
100	100															
100	100															
100	100															
10																
10																
10																
10																

百のくらい	十のくらい	一のくらい

② $400 + 9 =$

<table border="1"><tr><td>100</td></tr><tr><td>100</td></tr><tr><td>100</td></tr><tr><td>100</td></tr></table>	100	100	100	100		<table border="1"><tr><td> </td><td></td></tr><tr><td> </td><td> </td></tr><tr><td> </td><td> </td></tr><tr><td> </td><td> </td></tr><tr><td> </td><td> </td></tr></table>										
100																
100																
100																
100																

百のくらい	十のくらい	一のくらい



3けたの数 14

● 500+30の
たし算のしかた



日にち： 月 日

名まえ _____

・ たし算をしましょう。(うすい字はなぞりましょう。)

① 600 + 30 = 630

② 400 + 20 =

③ 700 + 10 =

④ 800 + 80 =

⑤ 500 + 1 = 501

⑥ 300 + 4 =

⑦ 900 + 2 =

⑧ 600 + 5 =



3けたの数 14

◎ 500+30の
たし算のしかた



日にち： 月 日

名まえ _____

・ たし算をしましょう。

① 500 + 50 =

② 100 + 60 =

③ 800 + 90 =

④ 300 + 80 =

⑤ 700 + 4 =

⑥ 200 + 3 =

⑦ 400 + 9 =

⑧ 600 + 7 =



3けたの数 14

◎ 500+30の
たし算のしかた



日にち： 月 日

名まえ _____

・ たし算をしましょう。

① $200 + 70 =$

② $600 + 90 =$

③ $200 + 40 =$

④ $100 + 60 =$

⑤ $900 + 3 =$

⑥ $800 + 5 =$

⑦ $300 + 5 =$

⑧ $100 + 8 =$





3けたの数 14

◎ 500+30の
たし算のしかた



日にち： 月 日

名まえ _____

・ たし算をしましょう。

① $900 + 90 =$

② $100 + 60 =$

③ $700 + 30 =$

④ $200 + 30 =$

⑤ $700 + 8 =$

⑥ $400 + 8 =$

⑦ $500 + 1 =$

⑧ $400 + 5 =$



3けたの数 14

● 500+30の
たし算のしかた



日にち： 月 日

名まえ _____

・ たし算をしましょう。

① $400 + 20 =$

② $800 + 50 =$

③ $200 + 50 =$

④ $300 + 60 =$

⑤ $400 + 9 =$

⑥ $700 + 8 =$

⑦ $600 + 1 =$

⑧ $700 + 9 =$





3けたの数 14

● 500+30の
たし算のしかた



日にち： 月 日

名まえ _____

・ たし算をしましょう。

① $700 + 40 =$

② $300 + 2 =$

③ $800 + 20 =$

④ $400 + 3 =$


⑤ $500 + 60 =$

⑥ $100 + 9 =$

⑦ $800 + 70 =$

⑧ $600 + 8 =$





3けたの数 14

● 500+30の
たし算のしかた



日にち： 月 日

名まえ _____

・ たし算をしましょう。

① $400 + 70 =$

② $300 + 5 =$

③ $100 + 6 =$

④ $300 + 40 =$

⑤ $500 + 8 =$

⑥ $800 + 90 =$

⑦ $700 + 10 =$

⑧ $200 + 6 =$





3けたの数 14

● 500+30の
たし算のしかた



日にち： 月 日

名まえ _____

・ たし算をしましょう。

① $300 + 9 =$

② $900 + 40 =$

③ $700 + 30 =$

④ $500 + 8 =$

⑤ $600 + 50 =$

⑥ $100 + 8 =$

⑦ $200 + 10 =$

⑧ $400 + 7 =$





3けたの数 14

● 500+30の
たし算のしかた



日にち： 月 日

名まえ _____

・ たし算をしましょう。

① 500 + 90 =

② 800 + 2 =

③ 300 + 90 =

④ 700 + 5 =

⑤ 300 + 4 =

⑥ 600 + 20 =

⑦ 200 + 8 =

⑧ 700 + 10 =



3けたの数 14

● 500+30の
たし算のしかた



日にち： 月 日

名まえ _____

・ たし算をしましょう。

① $200 + 8 =$

② $400 + 30 =$

③ $100 + 4 =$

④ $700 + 50 =$

⑤ $300 + 90 =$

⑥ $700 + 2 =$

⑦ $500 + 6 =$

⑧ $800 + 60 =$






3けたの数 14

● 500+30の
たし算のしかた

15

目指せ80点!



名まえ _____

・ つぎの 計算を しましょう。(各20点)


① $600 + 2 =$

② $800 + 50 =$

③ $400 + 7 =$

④ $900 + 30 =$

⑤ $500 + 1 =$



3けたの数 14

● 500+30の
たし算のしかた

名まえ _____

・ つぎの 計算を しましう。(各20点)

① $200 + 50 =$

② $300 + 8 =$

③ $700 + 90 =$

④ $100 + 4 =$

⑤ $600 + 30 =$



3けたの数 14

● 500+30の
たし算のしかた

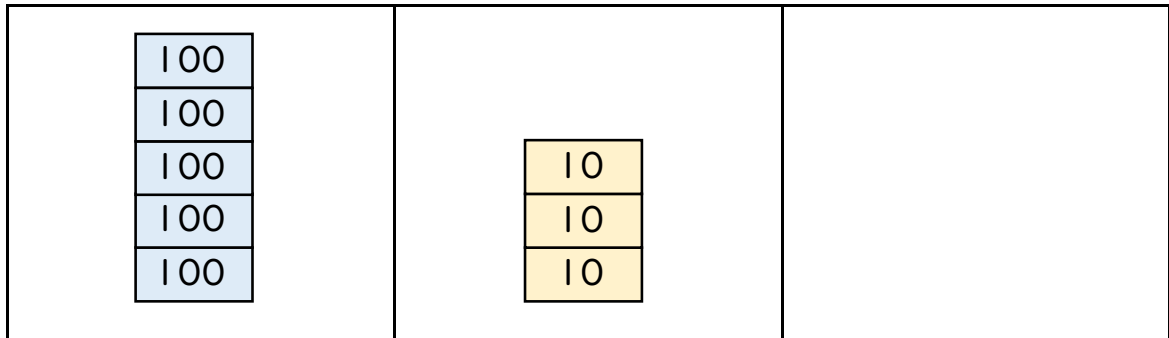


日にち： 月 日

名まえ _____


・ たし算をしましょう。(うすい字はなぞりましょう。)

$$\textcircled{1} 500 + 30 = 530$$



百のくらい	十のくらい	一のくらい
5	3	0

$$\textcircled{2} 600 + 7 = 607$$



百のくらい	十のくらい	一のくらい
6	0	7





3けたの数 14

● 500+30の
たし算のしかた

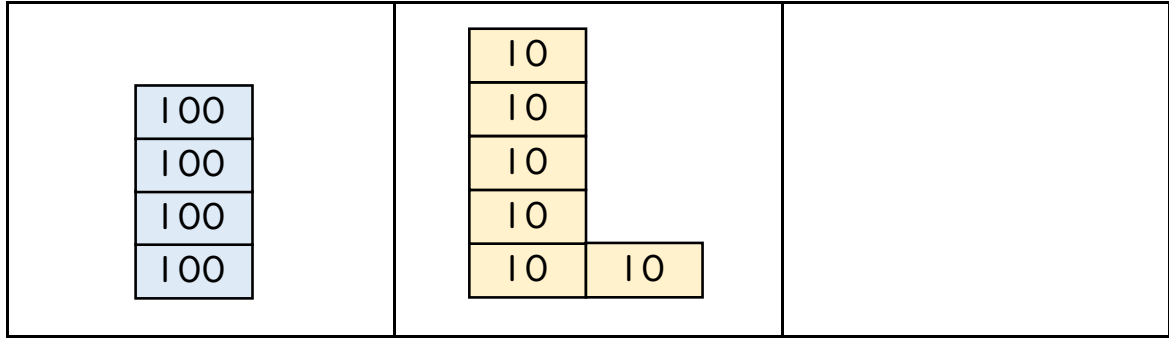


日にち： 月 日

名まえ _____

・ たし算をしましょう。(うすい字はなぞりましょう。)

$$\textcircled{1} 400 + 60 = 460$$



百のくらい	十のくらい	一のくらい
4	6	0

$$\textcircled{2} 700 + 2 = 702$$



百のくらい	十のくらい	一のくらい
7	0	2



3けたの数 14

● 500+30の
たし算のしかた

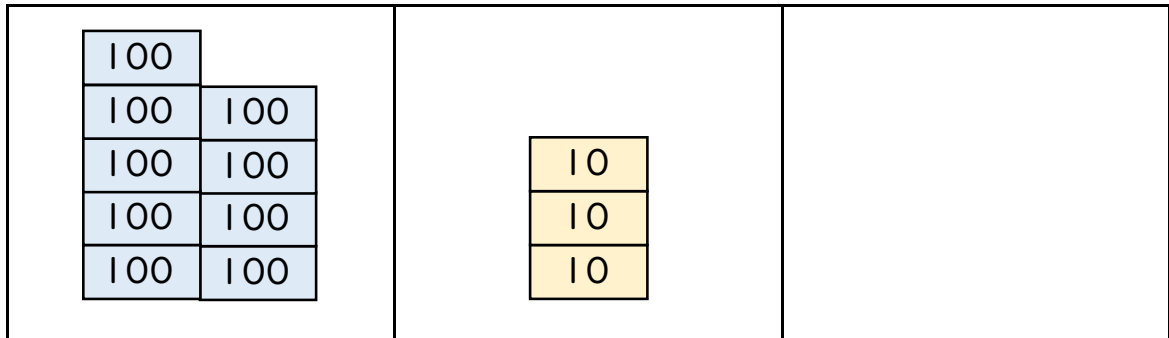


日にち： 月 日

名まえ _____

・ たし算をしましょう。(うすい字はなぞりましょう。)

① $900 + 30 = 930$



百のくらい	十のくらい	一のくらい
9	3	0

② $500 + 4 = 504$



百のくらい	十のくらい	一のくらい
5	0	4





3けたの数 14

● 500+30の
たし算のしかた

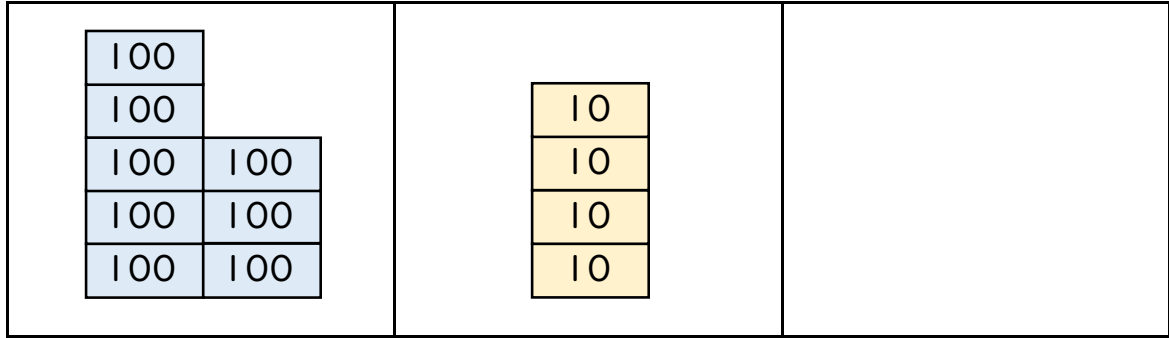


日にち： 月 日

名まえ _____

・ たし算をしましょう。

$$\textcircled{1} 800 + 40 = 840$$



百のくらい	十のくらい	一のくらい
8	4	0

$$\textcircled{2} 400 + 9 = 409$$



百のくらい	十のくらい	一のくらい
4	0	9





3けたの数 14

● 500+30の
たし算のしかた



日にち： 月 日

名まえ _____

・ たし算をしましょう。(うすい字はなぞりましょう。)

$$\textcircled{1} \quad 600 + 30 = 630$$

$$\textcircled{2} \quad 400 + 20 = 420$$

$$\textcircled{3} \quad 700 + 10 = 710$$

$$\textcircled{4} \quad 800 + 80 = 880$$

$$\textcircled{5} \quad 500 + 1 = 501$$

$$\textcircled{6} \quad 300 + 4 = 304$$

$$\textcircled{7} \quad 900 + 2 = 902$$

$$\textcircled{8} \quad 600 + 5 = 605$$





3けたの数 14

◎ 500+30の
たし算のしかた



日にち： 月 日

名まえ _____

・ たし算をしましょう。

$$\textcircled{1} \quad 500 + 50 = 550$$

$$\textcircled{2} \quad 100 + 60 = 160$$

$$\textcircled{3} \quad 800 + 90 = 890$$

$$\textcircled{4} \quad 300 + 80 = 380$$

$$\textcircled{5} \quad 700 + 4 = 704$$

$$\textcircled{6} \quad 200 + 3 = 203$$

$$\textcircled{7} \quad 400 + 9 = 409$$

$$\textcircled{8} \quad 600 + 7 = 607$$



3けたの数 14

◎ 500+30の
たし算のしかた



日にち： 月 日

名まえ _____

・ たし算をしましょう。

$$\textcircled{1} \quad 200 + 70 = 270$$

$$\textcircled{2} \quad 600 + 90 = 690$$

$$\textcircled{3} \quad 200 + 40 = 240$$

$$\textcircled{4} \quad 100 + 60 = 160$$

$$\textcircled{5} \quad 900 + 3 = 903$$

$$\textcircled{6} \quad 800 + 5 = 805$$

$$\textcircled{7} \quad 300 + 5 = 305$$

$$\textcircled{8} \quad 100 + 8 = 108$$





3けたの数 14

◎ 500+30の
たし算のしかた



日にち： 月 日

名まえ _____

・ たし算をしましょう。

$$\textcircled{1} \quad 900 + 90 = 990$$

$$\textcircled{2} \quad 100 + 60 = 160$$

$$\textcircled{3} \quad 700 + 30 = 730$$

$$\textcircled{4} \quad 200 + 30 = 230$$

$$\textcircled{5} \quad 700 + 8 = 708$$

$$\textcircled{6} \quad 400 + 8 = 408$$

$$\textcircled{7} \quad 500 + 1 = 501$$

$$\textcircled{8} \quad 400 + 5 = 405$$





3けたの数 14

◎ 500+30の
たし算のしかた



日にち： 月 日

名まえ _____

・ たし算をしましょう。

$$\textcircled{1} \quad 400 + 20 = 420$$

$$\textcircled{2} \quad 800 + 50 = 850$$

$$\textcircled{3} \quad 200 + 50 = 250$$

$$\textcircled{4} \quad 300 + 60 = 360$$

$$\textcircled{5} \quad 400 + 9 = 409$$

$$\textcircled{6} \quad 700 + 8 = 708$$

$$\textcircled{7} \quad 600 + 1 = 601$$

$$\textcircled{8} \quad 700 + 9 = 709$$





3けたの数 14

● 500+30の
たし算のしかた



日にち： 月 日

名まえ _____

・ たし算をしましょう。

$$\textcircled{1} \quad 700 + 40 = 740$$

$$\textcircled{2} \quad 300 + 2 = 302$$

$$\textcircled{3} \quad 800 + 20 = 820$$

$$\textcircled{4} \quad 400 + 3 = 403$$

$$\textcircled{5} \quad 500 + 60 = 560$$

$$\textcircled{6} \quad 100 + 9 = 109$$

$$\textcircled{7} \quad 800 + 70 = 870$$

$$\textcircled{8} \quad 600 + 8 = 608$$





3けたの数 14

● 500+30の
たし算のしかた



日にち： 月 日

名まえ _____

・ たし算をしましょう。

$$\textcircled{1} \quad 400 + 70 = 470$$

$$\textcircled{2} \quad 300 + 5 = 305$$

$$\textcircled{3} \quad 100 + 6 = 106$$

$$\textcircled{4} \quad 300 + 40 = 340$$

$$\textcircled{5} \quad 500 + 8 = 508$$

$$\textcircled{6} \quad 800 + 90 = 890$$

$$\textcircled{7} \quad 700 + 10 = 710$$

$$\textcircled{8} \quad 200 + 6 = 206$$





3けたの数 14

◎ 500+30の
たし算のしかた



日にち： 月 日

名まえ _____

・ たし算をしましょう。

$$\textcircled{1} \quad 300 + 9 = 309$$

$$\textcircled{2} \quad 900 + 40 = 940$$

$$\textcircled{3} \quad 700 + 30 = 730$$

$$\textcircled{4} \quad 500 + 8 = 508$$

$$\textcircled{5} \quad 600 + 50 = 650$$

$$\textcircled{6} \quad 100 + 8 = 108$$

$$\textcircled{7} \quad 200 + 10 = 210$$

$$\textcircled{8} \quad 400 + 7 = 407$$





3けたの数 14

◎ 500+30の
たし算のしかた



日にち： 月 日

名まえ _____

・ たし算をしましょう。

$$\textcircled{1} \quad 500 + 90 = 590$$

$$\textcircled{2} \quad 800 + 2 = 802$$

$$\textcircled{3} \quad 300 + 90 = 390$$

$$\textcircled{4} \quad 700 + 5 = 705$$

$$\textcircled{5} \quad 300 + 4 = 304$$

$$\textcircled{6} \quad 600 + 20 = 620$$

$$\textcircled{7} \quad 200 + 8 = 208$$

$$\textcircled{8} \quad 700 + 10 = 710$$





3けたの数 14

● 500+30の
たし算のしかた



日にち： 月 日

名まえ _____

・ たし算をしましょう。

$$\textcircled{1} \quad 200 + 8 = 208$$

$$\textcircled{2} \quad 400 + 30 = 430$$

$$\textcircled{3} \quad 100 + 4 = 104$$

$$\textcircled{4} \quad 700 + 50 = 750$$

$$\textcircled{5} \quad 300 + 90 = 390$$

$$\textcircled{6} \quad 700 + 2 = 702$$

$$\textcircled{7} \quad 500 + 6 = 506$$

$$\textcircled{8} \quad 800 + 60 = 860$$






3けたの数 14

● 500+30の
たし算のしかた

15

目指せ80点!



名まえ _____

・ つぎの 計算を しましょう。(各20点)

① $600 + 2 = 602$

② $800 + 50 = 850$

③ $400 + 7 = 407$

④ $900 + 30 = 930$

⑤ $500 + 1 = 501$



3けたの数 14

● 500+30の
たし算のしかた

16

目指せ80点!



名まえ _____

・ つぎの 計算を しましょう。(各20点)

① $200 + 50 = 250$

② $300 + 8 = 308$

③ $700 + 90 = 790$

④ $100 + 4 = 104$

⑤ $600 + 30 = 630$

