



3けたの数 16

◎ 3けたの数の大きさくらべ



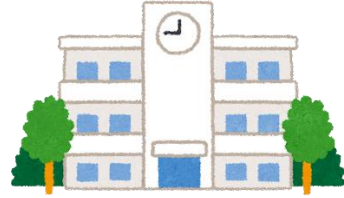
日にち： 月 日

名まえ _____

1 子どもの人数をくらべます。(うすい字はなぞりましょう。)



あさひ小学校
382 人



きぼう小学校
415 人

	百	十	一
あさひ小	3	8	2
きぼう小	4	1	5

↑
百のくらいの数字から
くらべていくよ！

▼しるしをつかってあらわすと…

$$382 < 415$$

小

大

2 □にあてはまる >、< を書きましょう。(うすい字はなぞりましょう。)

① 293 < 324

百のくらいにちゅうもく！

② 421 > 413

百のくらいが同じ数字だから
十のくらいにちゅうもく！

③ 504 < 508

百のくらい、十のくらいが同じ数字だから
一のくらいにちゅうもく！





3けたの数 16

◎ 3けたの数の大きさくらべ



日にち： 月 日

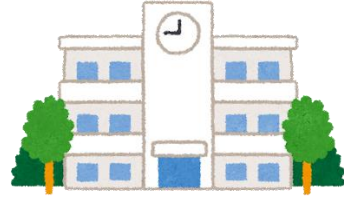
名まえ _____

1 子どもの人数をくらべます。(うすい字はなぞりましょう。)



あさひ小学校

369 人



きぼう小学校

348 人

	百	十	一
あさひ小	3	6	9
きぼう小	3	4	8

↑
十のくらの数字をくらべよう!

▼しるしをつかってあらわすと…

$$369 > 348$$

大

小

2 □にあてはまる >、< を書きましょう。(うすい字はなぞりましょう。)

① 664 > 375

百のくらいにちゅうもく!

② 129 □ 138

百のくらいが同じ数字だから十のくらいにちゅうもく!

③ 418 □ 416

百のくらい、十のくらいが同じ数字だから一のくらいにちゅうもく!





3けたの数 16

◎ 3けたの数の大きさくらべ



日にち： 月 日

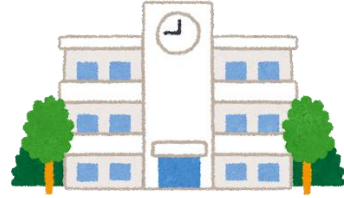
名まえ _____

1 子どもの人数をくらべます。(うすい字はなぞりましょう。)



あさひ小学校

257 人



きぼう小学校

251 人

	百	十	一
あさひ小	2	5	7
きぼう小	2	5	1

↑
一のくらの数字をくらべよう!

▼しるしをつかってあらわすと…

$$257 > 251$$

大

小

2 にあてはまる >、< を書きましょう。(うすい字はなぞりましょう。)

① 782 497

百のくらいにちゅうもく!

② 805 861

百のくらいが同じ数字だから十のくらいにちゅうもく!

③ 149 146

百のくらい、十のくらいが同じ数字だから一のくらいにちゅうもく!





3けたの数 16

◎ 3けたの数の大きさくらべ



日にち： 月 日

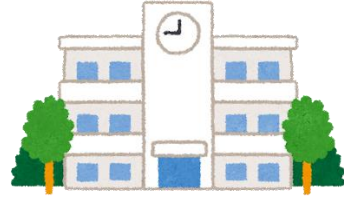
名まえ _____

1 子どもの人数をくらべます。(うすい字はなぞりましょう。)



あさひ小学校

528 人



きぼう小学校

536 人

	百	十	一
あさひ小	5	2	8
きぼう小	5	3	6

↑
十のくらの数字を
くらべよう！

▼しるしをつかってあらわすと…

$$528 < 536$$

小

大

2 にあてはまる >、< を書きましょう。

① 840 993

百のくらいにちゅうもく！

② 595 571

百のくらいが同じ数字だから
十のくらいにちゅうもく！

③ 164 168

百のくらい、十のくらいが同じ数字だから
一のくらいにちゅうもく！





3けたの数 16

◎ 3けたの数の大きさくらべ



日にち： 月 日

名まえ _____

・ □にあてはまる >、< を書きましょう。

(うすい字はなぞりましょう。)

① 489 < 505

② 432 □ 323

③ 722 < 751

④ 384 □ 370

⑤ 708 > 702

⑥ 800 □ 804





3けたの数 16

● 3けたの数の大きさくらべ



日にち： 月 日

名まえ _____

・ にあてはまる $>$ 、 $<$ を書きましょう。

(うすい字はなぞりましょう。)

① 345 432

② 978 761

③ 103 114

④ 887 820

⑤ 552 556

⑥ 699 692



3けたの数 16

◎ 3けたの数の大きさくらべ



日にち： 月 日

名まえ _____

・ にあてはまる $>$ 、 $<$ を書きましょう。

① 854 724

② 641 933

③ 308 375

④ 190 186

⑤ 512 517

⑥ 269 261





3けたの数 16

◎ 3けたの数の大きさくらべ



日にち： 月 日

名まえ _____

・ □ にあてはまる >、< を書きましょう。

① 258 □ 691

② 730 □ 486

③ 852 □ 815

④ 523 □ 549

⑤ 416 □ 411

⑥ 974 □ 979



3けたの数 16

◎ 3けたの数の大きさくらべ



日にち： 月 日

名まえ _____

・ にあてはまる >、< を書きましょう。

① 106 247

② 918 758

③ 521 539

④ 683 662

⑤ 895 890

⑥ 312 314



3けたの数 16

◎ 3けたの数の大きさくらべ



日にち： 月 日

名まえ _____

・ にあてはまる >、< を書きましょう。

① 589 605

② 432 423

③ 702 707

④ 584 470

⑤ 846 837

⑥ 102 109



3けたの数 16

◎ 3けたの数の大きさくらべ



日にち： 月 日

名まえ _____

・ □にあてはまる >、< を書きましょう。

① 541 □ 214

② 789 □ 795

③ 957 □ 953

④ 606 □ 618

⑤ 464 □ 832

⑥ 123 □ 120





3けたの数 16

◎ 3けたの数の大きさくらべ



日にち： 月 日

名まえ _____

・ にあてはまる >、< を書きましょう。

① 650 653

② 276 266

③ 544 511

④ 825 827

⑤ 432 199

⑥ 708 989





3けたの数 16

◎ 3けたの数の大きさくらべ



日にち： 月 日

名まえ _____

・ にあてはまる >、< を書きましょう。

① 376 374

② 131 780

③ 659 829

④ 943 967

⑤ 205 200

⑥ 598 512



3けたの数 16

◎ 3けたの数の大きさくらべ



日にち： 月 日

名まえ _____

・ □にあてはまる >、< を書きましょう。

① 717 □ 719

② 806 □ 872

③ 251 □ 343

④ 534 □ 668

⑤ 499 □ 494

⑥ 185 □ 120





3けたの数 16

● 3けたの数の大きさくらべ

15

めざせ80点!



名まえ _____

・ にあてはまる >、< を書きましょう。(各20点)

① 302 276

② 400 405

③ 756 742

④ 493 514

⑤ 601 625



3けたの数 16

● 3けたの数の大きさくらべ



めざせ80点!



名まえ _____

・ にあてはまる >、< を書きましょう。(各20点)

① 552 560

② 246 204

③ 691 698

④ 222 135

⑤ 478 479



3けたの数 16

◎ 3けたの数の大きさくらべ



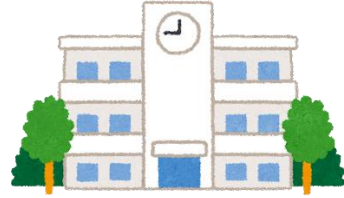
日にち： 月 日

名まえ _____

1 子どもの人数をくらべます。(うすい字はなぞりましょう。)



あさひ小学校
382 人



きぼう小学校
415 人

	百	十	一
あさひ小	3	8	2
きぼう小	4	1	5

↑
百のくらいの数字からくらべていくよ！

▼しるしをつかってあらわすと…

$$382 < 415$$

小

大

2 □にあてはまる >、< を書きましょう。(うすい字はなぞりましょう。)

① 293 < 324

百のくらいにちゅうもく！

② 421 > 413

百のくらいが同じ数字だから十のくらいにちゅうもく！

③ 504 < 508

百のくらい、十のくらいが同じ数字だから一のくらいにちゅうもく！





3けたの数 16

◎ 3けたの数の大きさくらべ



日にち： 月 日

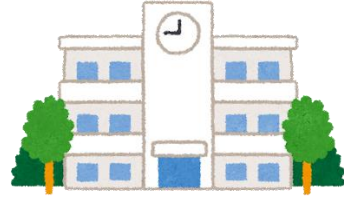
名まえ _____

1 子どもの人数をくらべます。(うすい字はなぞりましょう。)



あさひ小学校

369 人



きぼう小学校

348 人

	百	十	一
あさひ小	3	6	9
きぼう小	3	4	8

↑
十のくらの数字をくらべよう!

▼しるしをつかってあらわすと…

369 > 348

大

小

2 □にあてはまる >、< を書きましょう。(うすい字はなぞりましょう。)

① 664 > 375 百のくらいにちゅうもく!

② 129 < 138 百のくらいが同じ数字だから十のくらいにちゅうもく!

③ 418 > 416 百のくらい、十のくらいが同じ数字だから一のくらいにちゅうもく!





3けたの数 16

◎ 3けたの数の大きさくらべ



日にち： 月 日

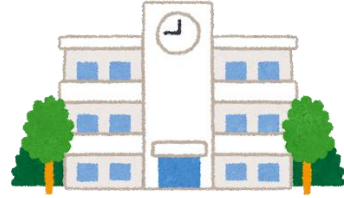
名まえ _____

1 子どもの人数をくらべます。(うすい字はなぞりましょう。)



あさひ小学校

257 人



きぼう小学校

251 人

	百	十	一
あさひ小	2	5	7
きぼう小	2	5	1

↑
一のくらの数字をくらべよう!

▼しるしをつかってあらわすと…

$$257 > 251$$

大

小

2 □ にあてはまる >、< を書きましょう。(うすい字はなぞりましょう。)

① 782 > 497 百のくらいにちゅうもく!

② 805 < 861 百のくらいが同じ数字だから十のくらいにちゅうもく!

③ 149 > 146 百のくらい、十のくらいが同じ数字だから一のくらいにちゅうもく!





3けたの数 16

◎ 3けたの数の大きさくらべ



日にち： 月 日

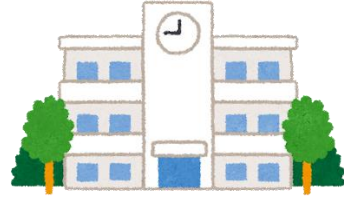
名まえ _____

1 子どもの人数をくらべます。(うすい字はなぞりましょう。)



あさひ小学校

528 人



きぼう小学校

536 人

	百	十	一
あさひ小	5	2	8
きぼう小	5	3	6

↑
十のくらの数字を
くらべよう！

▼しるしをつかってあらわすと…

$$528 < 536$$

小

大

2 □ にあてはまる >、< を書きましょう。

① 840 < 993

百のくりにちゅうもく！

② 595 > 571

百のくりが同じ数字だから
十のくりにちゅうもく！

③ 164 < 168

百のくり、十のくりが同じ数字だから
一のくりにちゅうもく！





3けたの数 16

3けたの数の大きさくらべ



日にち： 月 日

名まえ _____

・ □にあてはまる >、< を書きましょう。

(うすい字はなぞりましょう。)

① 489 < 505

② 432 > 323

③ 722 < 751

④ 384 > 370

⑤ 708 > 702

⑥ 800 < 804





3けたの数 16

● 3けたの数の大きさくらべ



日にち： 月 日

名まえ _____

・ □にあてはまる >、< を書きましょう。

(うすい字はなぞりましょう。)

① 345 < 432

② 978 > 761

③ 103 < 114

④ 887 > 820

⑤ 552 < 556

⑥ 699 > 692





3けたの数 16

◎ 3けたの数の大きさくらべ



日にち： 月 日

名まえ _____

・ □にあてはまる >、< を書きましょう。

① 854 > 724

② 641 < 933

③ 308 < 375

④ 190 > 186

⑤ 512 < 517

⑥ 269 > 261



3けたの数 16

◎ 3けたの数の大きさくらべ



日にち： 月 日

名まえ _____

・ □にあてはまる >、< を書きましょう。

① 258 < 691

② 730 > 486

③ 852 > 815

④ 523 < 549

⑤ 416 > 411

⑥ 974 < 979



3けたの数 16

◎ 3けたの数の大きさくらべ



日にち： 月 日

名まえ _____

・ □にあてはまる >、< を書きましょう。

① 106 < 247

② 918 > 758

③ 521 < 539

④ 683 > 662

⑤ 895 > 890

⑥ 312 < 314



3けたの数 16

◎ 3けたの数の大きさくらべ



日にち： 月 日

名まえ _____

・ □にあてはまる >、< を書きましょう。

① 589 < 605

② 432 > 423

③ 702 < 707

④ 584 > 470

⑤ 846 > 837

⑥ 102 < 109



3けたの数 16

◎ 3けたの数の大きさくらべ



日にち： 月 日

名まえ _____

・ □にあてはまる >、< を書きましょう。

① 541 > 214

② 789 < 795

③ 957 > 953

④ 606 < 618

⑤ 464 < 832

⑥ 123 > 120





3けたの数 16

◎ 3けたの数の大きさくらべ



日にち： 月 日

名まえ _____

・ □にあてはまる >、< を書きましょう。

① 650 < 653

② 276 > 266

③ 544 > 511

④ 825 < 827

⑤ 432 > 199

⑥ 708 < 989





3けたの数 16

◎ 3けたの数の大きさくらべ



日にち： 月 日

名まえ _____

・ □にあてはまる >、< を書きましょう。

① 376 > 374

② 131 < 780

③ 659 < 829

④ 943 < 967

⑤ 205 > 200

⑥ 598 > 512





3けたの数 16

● 3けたの数の大きさくらべ



日にち： 月 日

名まえ _____

・ □にあてはまる >、< を書きましょう。

① 717 < 719

② 806 < 872

③ 251 < 343

④ 534 < 668

⑤ 499 > 494

⑥ 185 > 120





3けたの数 16

● 3けたの数の大きさくらべ

15

めざせ80点!



名まえ _____

・ □にあてはまる >、< を書きましょう。(各20点)

① 302 > 276

② 400 < 405

③ 756 > 742

④ 493 < 514

⑤ 601 < 625






3けたの数 16

● 3けたの数の大きさくらべ

16

めざせ80点!



名まえ _____

・ □ にあてはまる >、< を書きましょう。(各20点)

① 552 < 560

② 246 > 204

③ 691 < 698

④ 222 > 135

⑤ 478 < 479