



3けたの数 20

◎ 数字カードで大きさをくらべ



日にち： 月 日

名まえ _____

- みほさんとともやさんが、数字カードをならべて、3けたの数の大きさをくらべをしています。

ともやさんがカードをめくっているとちゅうで、みほさんが「わたしの勝ち」といいました。なぜでしょう。下の□にあうことばを書いて、わけをいみましょう。

(うすい字はなぞりましょう。)



みほさん



ともやさん

2人の数は、百のくらいの数字は同じですが、

十のくらいの数字は

さんのほうが大きいからです。



3けたの数 20

◎ 数字カードで大きさをくらべ



日にち： 月 日

名まえ _____

- けんじさんと あみさんが、数字カードをならべて、3けたの数の大きさをくらべをしています。

けんじさんがカードをめくっているとちゅうで、あみさんが「わたしの勝ち」といいました。なぜでしょう。下の□にあうことばを書いて、わけをいみましょう。

(うすい字はなぞりましょう。)



けんじさん



あみさん

2人の数は、百のくらいの数字は同じですが、

のくらいの数字は

さんのほうが大きいからです。



3けたの数 20

◎ 数字カードで大きさをくらべ



日にち： 月 日

名まえ _____

- ゆきさんとたいちさんが、数字カードをならべて、3けたの数の大きさをくらべをしています。

たいちさんがカードをめくっているとちゅうで、ゆきさんが「わたしの勝ち」といいました。なぜでしょう。下の□にあうことばを書いて、わけをいみましょう。



ゆきさん



たいちさん

2人の数は、□のくらいの数字は同じですが、

□のくらいの数字は

□さんのほうが大きいからです。



3けたの数 20

◎ 数字カードで大きさをくらべ




日にち： 月 日

名まえ _____

- ・ ゆうじさんと みさとさんが、数字カードをならべて、3けたの数の大きさをくらべをしています。

ゆうじさんがカードをめくっているとちゅうで、みさとさんが「わたしの勝ち」といいました。なぜでしょう。下の□にあうことばを書いて、わけをいみましょう。



ゆうじさん



みさとさん

2人の数は、□のくらいの数字は同じですが、

□のくらいの数字は

□さんのほうが大きいからです。



3けたの数 20

◎ 数字カードで大きさをくらべ



日にち： 月 日

名まえ _____

- みほさんとともやさんが、数字カードをならべて、3けたの数の大きさをくらべをしています。

ともやさんがカードをめくっているとちゅうで、みほさんが「わたしの勝ち」といいました。なぜでしょう。下の□にあうことばを書いて、わけをいみましょう。

(うすい字はなぞりましょう。)



みほさん



ともやさん

2人の数は、**百**のくらいの数字は同じですが、

十のくらいの数字は

みほさんのほうが大きいからです。



3けたの数 20

◎ 数字カードで大きさをくらべ



日にち： 月 日

名まえ _____

- けんじさんと あみさんが、数字カードをならべて、3けたの数の大きさをくらべをしています。

けんじさんがカードをめくっているとちゅうで、あみさんが「わたしの勝ち」といいました。なぜでしょう。下の□にあうことばを書いて、わけをいみましょう。

(うすい字はなぞりましょう。)



けんじさん



あみさん

2人の数は、**百**のくらいの数字は同じですが、

十のくらいの数字は

あみさんのほうが大きいからです。



3けたの数 20

◎ 数字カードで大きさをくらべ



日にち： 月 日

名まえ _____

- ゆきさんとたいちさんが、数字カードをならべて、3けたの数の大きさをくらべをしています。

たいちさんがカードをめくっているとちゅうで、ゆきさんが「わたしの勝ち」といいました。なぜでしょう。下の□にあうことばを書いて、わけをいみましょう。



ゆきさん



たいちさん

2人の数は、**百**のくらいの数字は同じですが、

十のくらいの数字は

ゆきさんのほうが大きいからです。



3けたの数 20

◎ 数字カードで大きさをくらべ




日にち： 月 日


名まえ _____

- ゆうじさんとみさとさんが、数字カードをならべて、3けたの数の大きさをくらべをしています。

ゆうじさんがカードをめくっているとちゅうで、みさとさんが「わたしの勝ち」といいました。なぜでしょう。下の□にあうことばを書いて、わけをいみましょう。



ゆうじさん



みさとさん

2人の数は、**百**のくらいの数字は同じですが、

十のくらいの数字は

みさとさんのほうが大きいからです。