



3けたの数4

● ぼうや紙のたばを
数字であらわそう




日にち： 月 日

名まえ _____

・ ぼうや 色紙の 数を、数字で 書きましよう。(うすい字はなぞりましよう。)

①



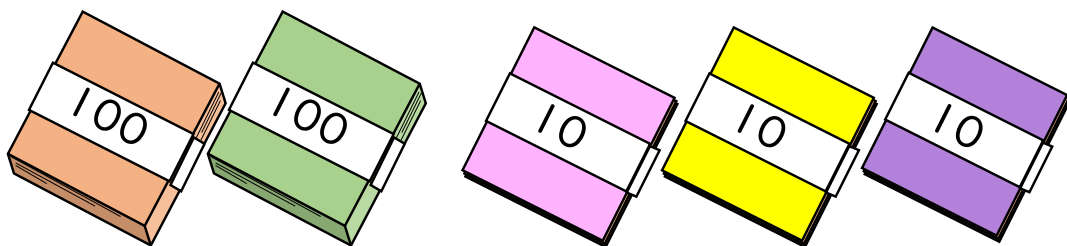
百	十	一
3	1	5

それぞれの たばの 数を
表に 入れてみよう!



(315 本)

②



百	十	一
2	3	0

(まい)





3けたの数4

● ぼうや紙のたばを
数字であらわそう




日にち： 月 日

名まえ _____

・ ぼうや 色紙の 数を、数字で 書きましよう。(うすい字はなぞりましよう。)

①



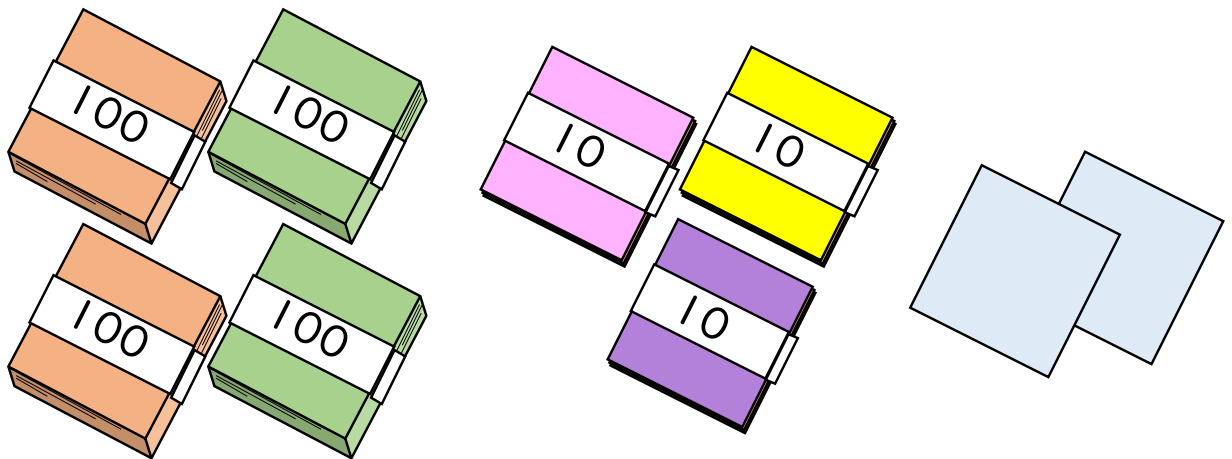
百	十	一
2	0	7

それぞれの たばの 数を
表に 入れてみよう!



(207 本)

②



百	十	一
4		

(まい)



3けたの数4

● ぼうや紙のたばを
数字であらわそう


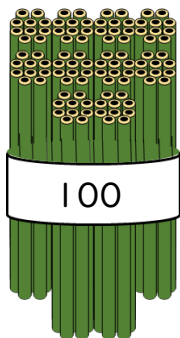


日にち： 月 日

名まえ _____

・ ぼうや色紙の数を、数字で書きましょう。(うすい字はなぞりましょう。)

①



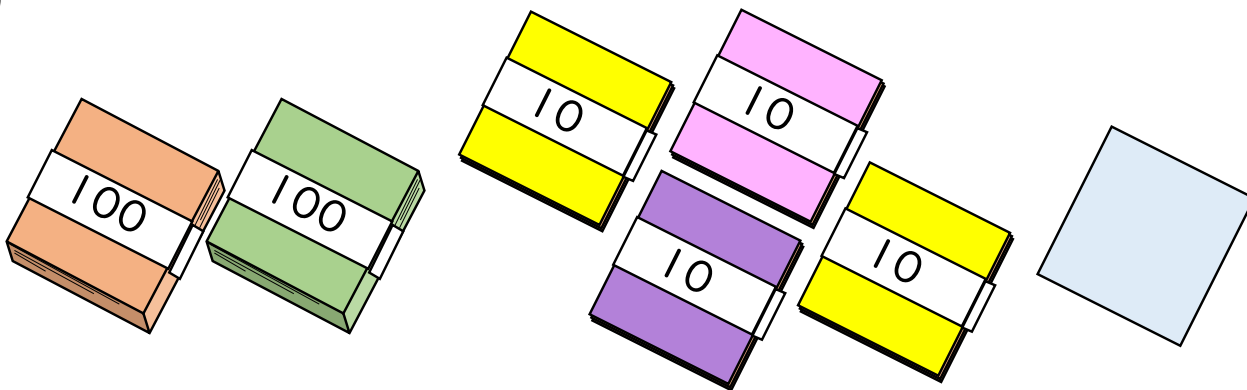
百	十	一
1	8	0

それぞれのたばの数を
表に入れてみよう!



(本)

②



百	十	一

(まい)

③ 確認





3けたの数 4

● ぼうや紙のたばを
数字であらわそう




日にち： 月 日

名まえ _____

・ ぼうや色紙の数を、数字で書きましょう。

①



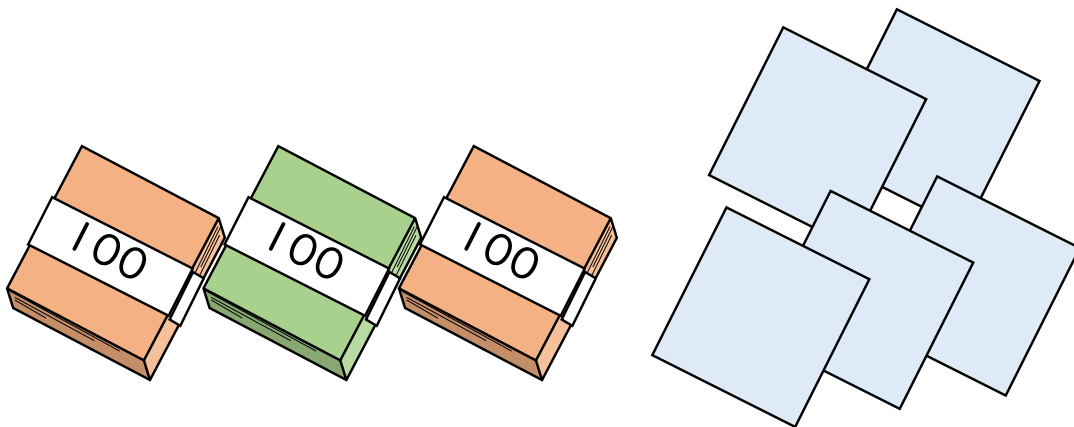
百	十	一

それぞれのたばの数を
表に入れてみよう！



() 本

②



百	十	一

() まい



3けたの数4

● ぼうや紙のたばを
数字であらわそう




日にち： 月 日

名まえ _____

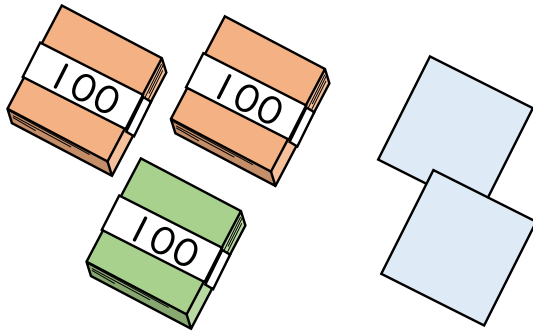
・ ぼうや色紙の数を、数字で書きましょう。(うすい字はなぞりましょう。)

①




4 1 3 本

②




まい

③



2 4 0 本

④



まい



3けたの数4

● ぼうや紙のたばを
数字であらわそう



日にち： 月 日

名まえ _____

・ ぼうや色紙の数を、数字で書きましょう。(うすい字はなぞりましょう。)

①

5 bundles of 100 sticks and 2 bundles of 10 sticks.

5 2 1 本

②

4 stacks of 100 sheets and 3 blank sheets.

まい

③

3 bundles of 100 sticks and 4 individual sticks.

本

④

3 stacks of 100 sheets, 2 stacks of 10 sheets, and 2 stacks of 10 sheets.

まい



3けたの数4

● ぼうや紙のたばを
数字であらわそう




日にち： 月 日

名まえ _____

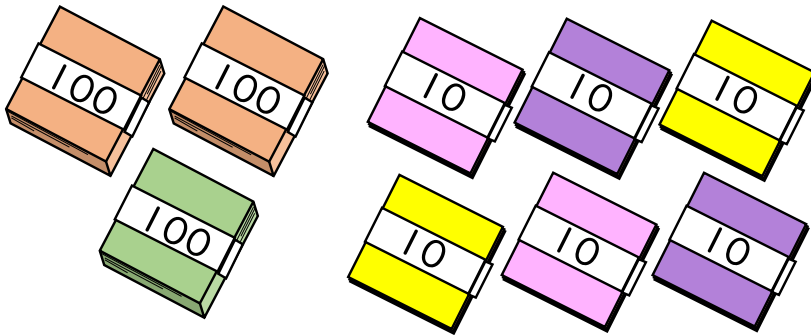
・ ぼうや色紙の数を、数字で書きましょう。

①




() 本

②



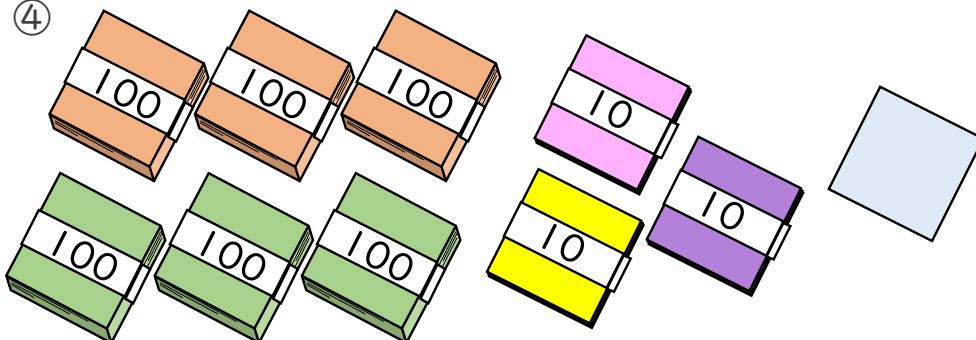
() まい

③



() 本

④



() まい



3けたの数4

● ぼうや紙のたばを
数字であらわそう




日にち： 月 日

名まえ _____

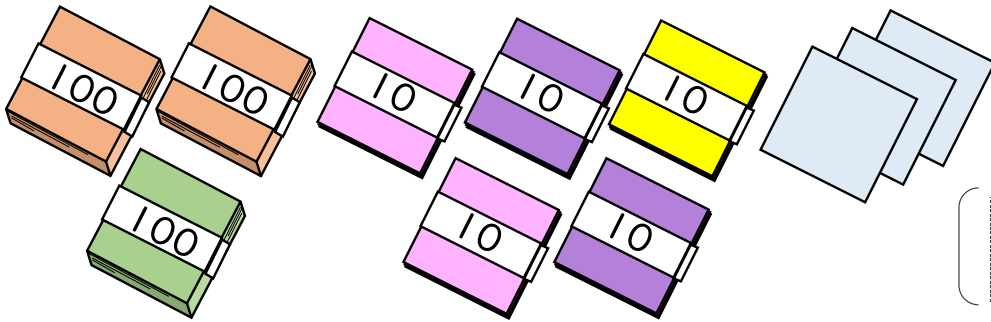
・ ぼうや色紙の数を、数字で書きましょう。

①




() 本

②



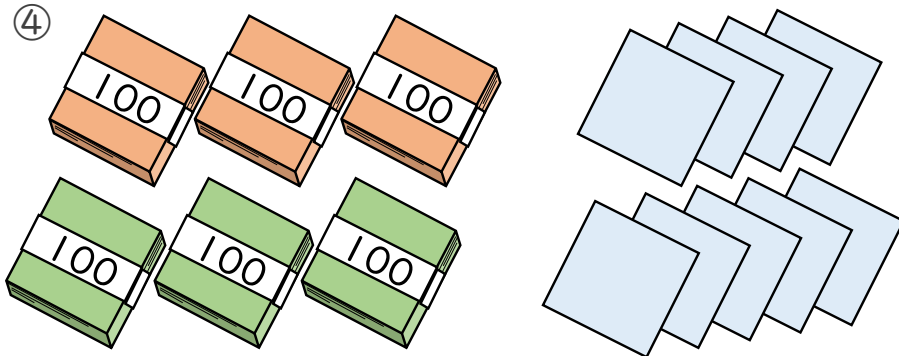
() まい

③



() 本

④



() まい





3けたの数4

● ぼうや紙のたばを
数字であらわそう



日にち： 月 日

名まえ _____

・ ぼうや色紙の数を、数字で書きましょう。

①

100 100 100 10 10 10 10 10 10 10

[] 本

②

100 100 100 10 10 10 10 10 10

[] まい

③

100 100 100 100 100

[] 本

④

100 100 10 10 10 10 10 10

[] まい



3けたの数4

● ぼうや紙のたばを
数字であらわそう




日にち： 月 日

名まえ _____

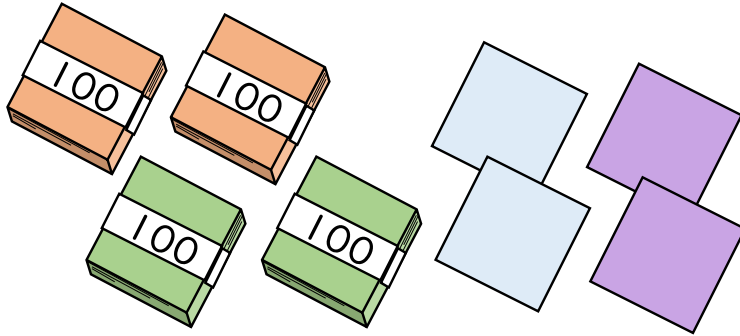
1 ぼうや 色紙の 数を、数字で 書きましよう。

①



(本)

②



(まい)

2 数字で 書きましよう。

① 五百十

② 百七

()

()

3 漢字で 書きましよう。

① 900

② 650

()

()



3けたの数4

● ぼうや紙のたばを
数字であらわそう




日にち： 月 日

名まえ _____

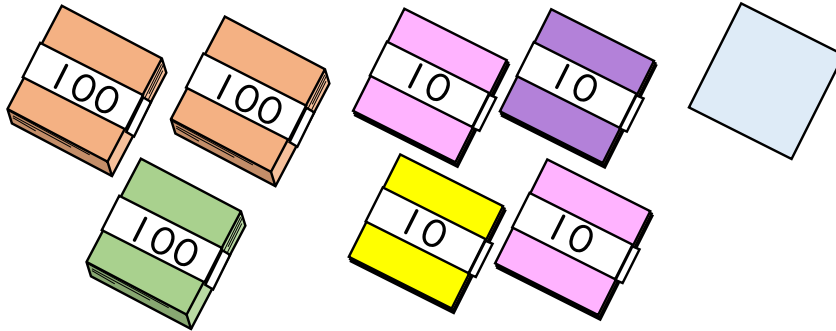
1 ぼうや 色紙の 数を、数字で 書きましよう。

①



() 本

②



() まい

2 数字で 書きましよう。

① 六百三

()

② 二百十

()

3 漢字で 書きましよう。

① 701

()

② 500

()



3けたの数4

● ぼうや紙のたばを
数字であらわそう

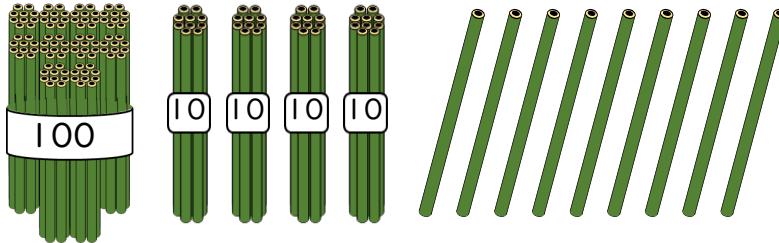


日にち： 月 日

名まえ _____

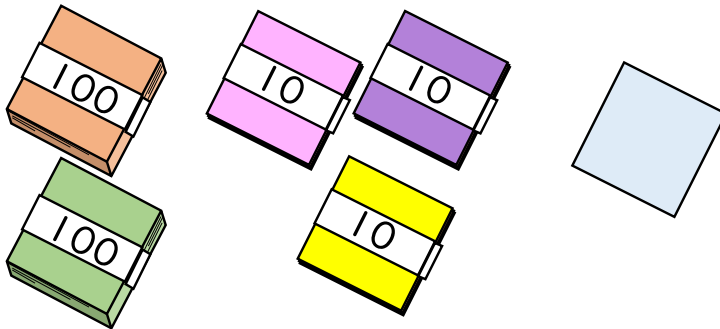
1 ぼうや 色紙の 数を、数字で 書きましよう。

①



(本)

②



(まい)

2 数字で 書きましよう。

① 五百四十

()

② 三百九

()

3 漢字で 書きましよう。

① 705

()

② 210

()



3けたの数4

● ぼうや紙のたばを
数字であらわそう




日にち： 月 日

名まえ _____

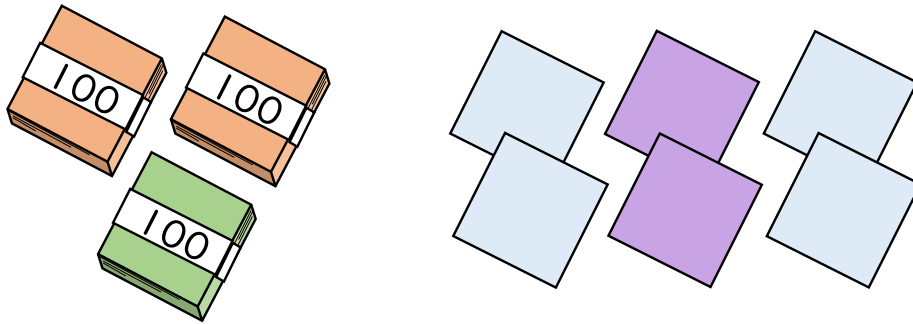
1 ぼうや色紙の数を、数字で書きましょう。

①



()
本

②



()
まい

2 数字で書きましょう。

① 六百九十

()

② 四百

()

3 漢字で書きましょう。

① 870

()

② 902

()



3けたの数4

● ぼうや紙のたばを
数字であらわそう

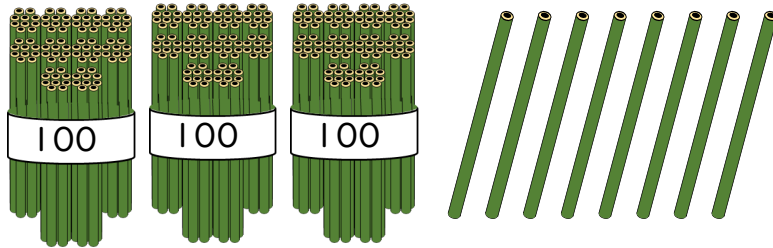
14

日にち： 月 日

名まえ _____

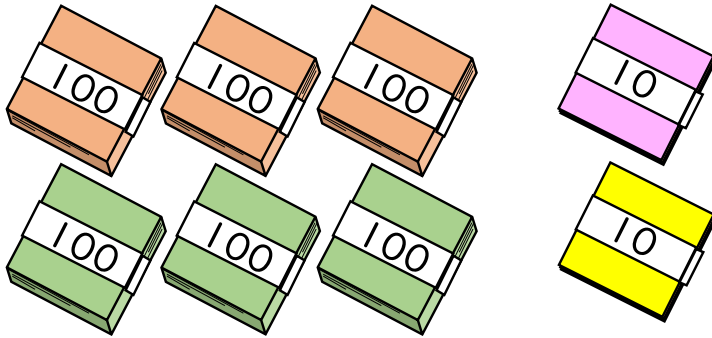
1 ぼうや 色紙の 数を、数字で 書きましよう。

①



(本)

②



(まい)

2 数字で 書きましよう。

① 七百八十

()

② 九百六

()

3 漢字で 書きましよう。

① 302

()

② 450

()




3けたの数4

● ぼうや紙のたばを
数字であらわそう

15


目指せ90点!



名まえ _____

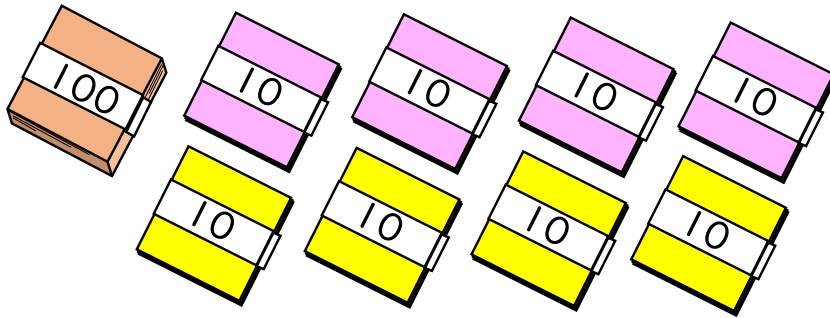
1 ぼうや 色紙の 数を、数字で 書きましよう。(各30点)

①



(本)

②



(まい)

2 数字で 書きましよう。(各10点)

① 六百五

()

② 八百

()

3 漢字で 書きましよう。(各10点)

① 930

()

② 709

()



3けたの数4

● ぼうや紙のたばを
数字であらわそう

16


目指せ90点!



名まえ _____


1 ぼうや 色紙の 数を、数字で 書きましよう。(各30点)

①



(本)

②



(まい)

2 数字で 書きましよう。(各10点)

① 七百八十

()

② 九百六

()

3 漢字で 書きましよう。(各10点)

① 302

()

② 450

()



3けたの数4

● ぼうや紙のたばを
数字であらわそう




日にち： 月 日

名まえ _____

・ ぼうや色紙の数を、数字で書きましょう。(うすい字はなぞりましょう。)

①



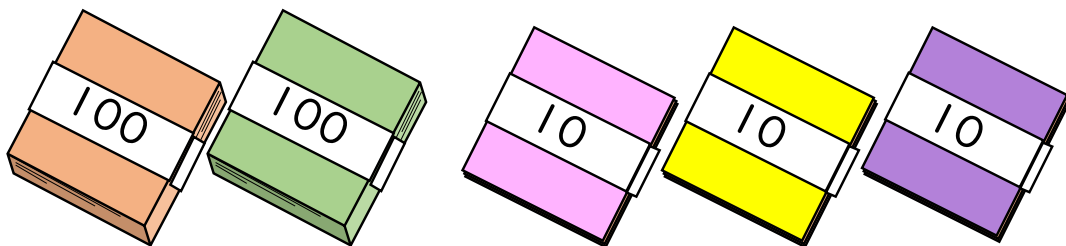
百	十	一
3	1	5

それぞれのたばの数を
表に入れてみよう!



{ 315 本 }

②



百	十	一
2	3	0

{ 230 まい }





3けたの数4

● ぼうや紙のたばを
数字であらわそう




日にち： 月 日

名まえ _____

・ ぼうや 色紙の 数を、数字で 書きましよう。(うすい字はなぞりましよう。)

①



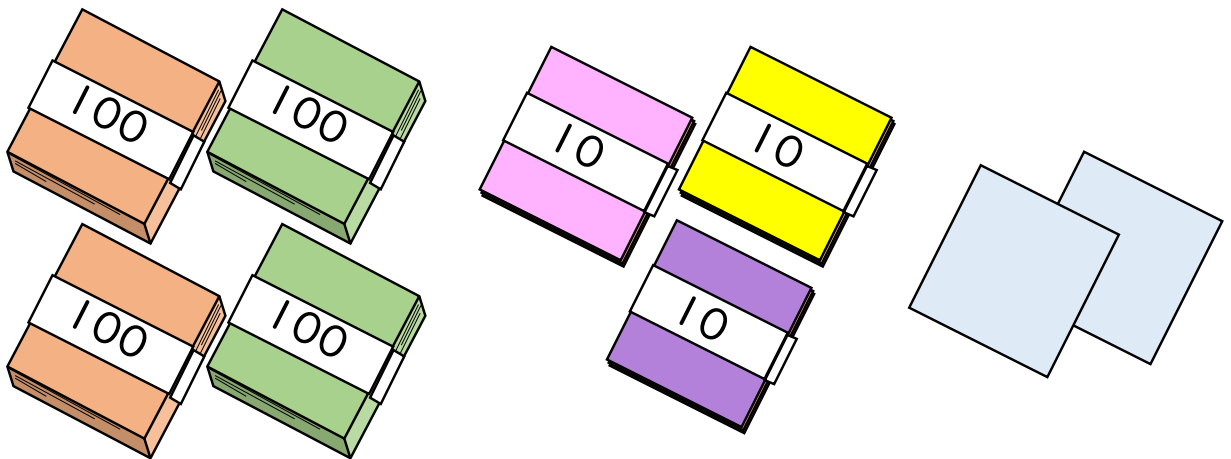
百	十	一
2	0	7

それぞれの たばの 数を
表に 入れてみよう!



〔 207 本 〕

②



百	十	一
4	3	2

〔 432 まい 〕





3けたの数4

● ぼうや紙のたばを
数字であらわそう


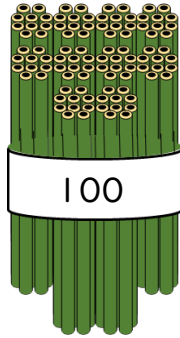


日にち： 月 日

名まえ _____

・ ぼうや色紙の数を、数字で書きましょう。(うすい字はなぞりましょう。)

①



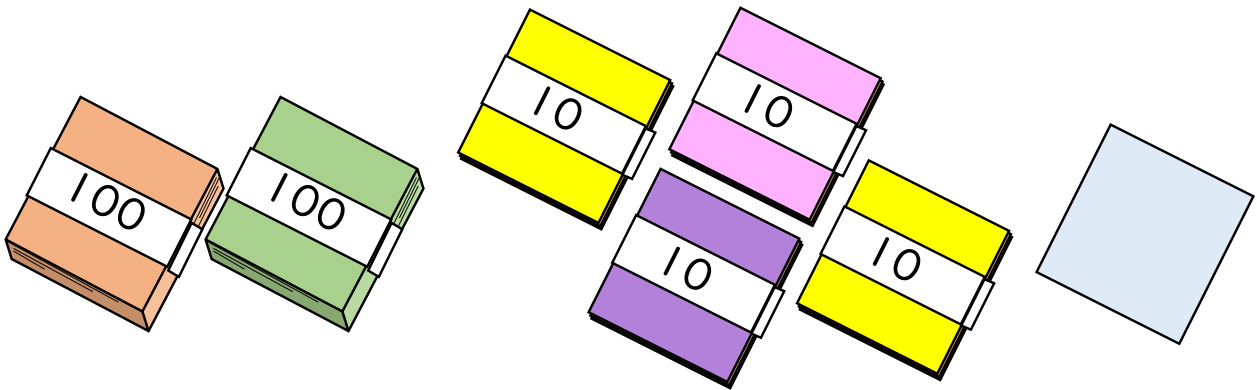
百	十	一
1	8	0

それぞれのたばの数を
表に入れてみよう!



〔 180 本 〕

②



百	十	一
2	4	1

〔 241 まい 〕

③ 確認 答え



すらすらぷりんと



3けたの数4

● ぼうや紙のたばを
数字であらわそう




日にち： 月 日

名まえ _____

・ ぼうや色紙の数を、数字で書きましょう。

①



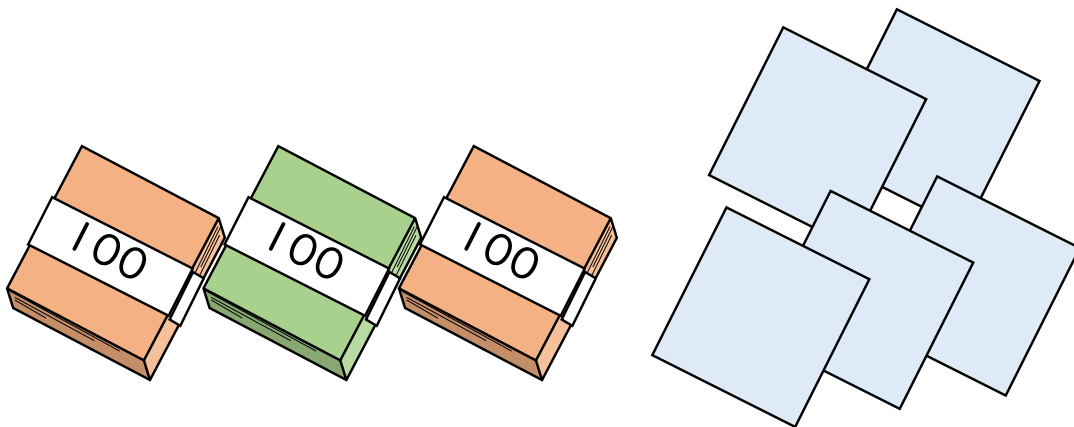
百	十	一
4	2	1

それぞれのたばの数を
表に入れてみよう！



{ 421 本 }

②



百	十	一
3	0	5

{ 305 まい }





3けたの数4

● ぼうや紙のたばを
数字であらわそう




日にち： 月 日

名まえ _____

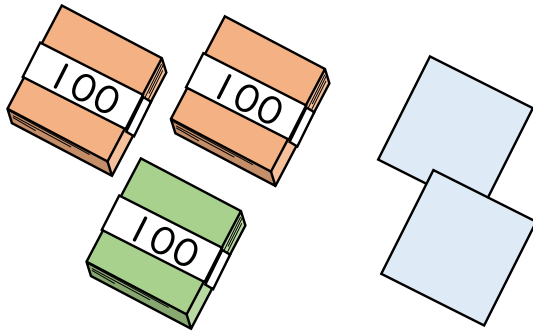
・ ぼうや色紙の数を、数字で書きましょう。(うすい字はなぞりましょう。)

①




4 1 3 本

②




3 0 2 まい

③



2 4 0 本

④



6 3 1 まい



3けたの数4

● ぼうや紙のたばを
数字であらわそう



日にち： 月 日

名まえ _____

・ ぼうや色紙の数を、数字で書きましょう。(うすい字はなぞりましょう。)

①

5 bundles of 100 sticks and 2 bundles of 10 sticks.

5	2	1	本
---	---	---	---

②

4 bundles of 100 sheets and 3 blank sheets.

4	0	3	まい
---	---	---	----

③

3 bundles of 100 sticks and 4 individual sticks.

3	0	4	本
---	---	---	---

④

3 bundles of 100 sheets, 4 bundles of 10 sheets, and 0 individual sheets.

5	4	0	まい
---	---	---	----





3けたの数4

● ぼうや紙のたばを
数字であらわそう




日にち： 月 日

名まえ _____

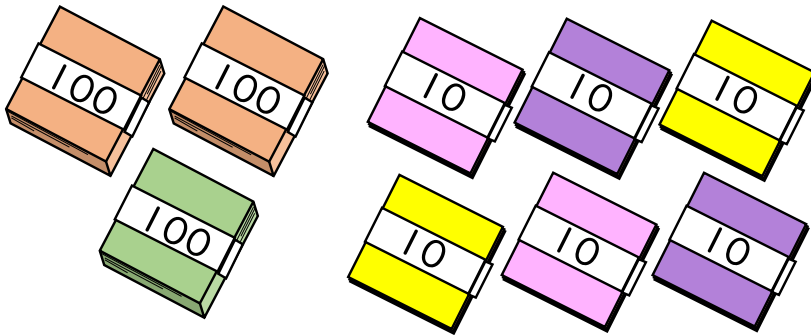
・ ぼうや色紙の数を、数字で書きましょう。

①




305 本

②



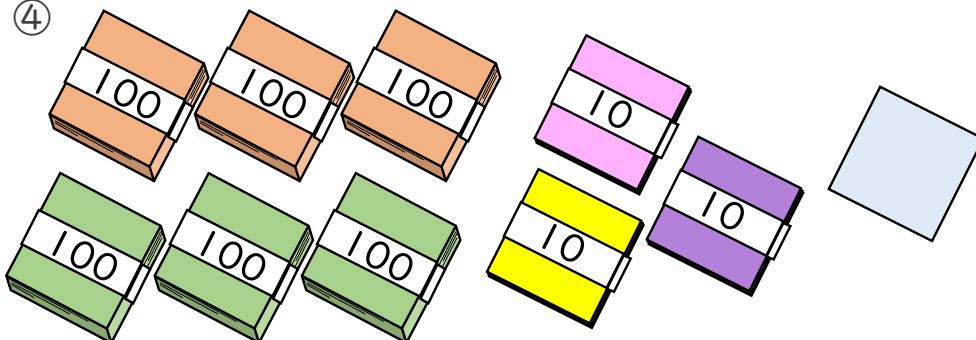
360 まい

③



442 本

④



631 まい





3けたの数4

● ぼうや紙のたばを
数字であらわそう




日にち： 月 日

名まえ _____

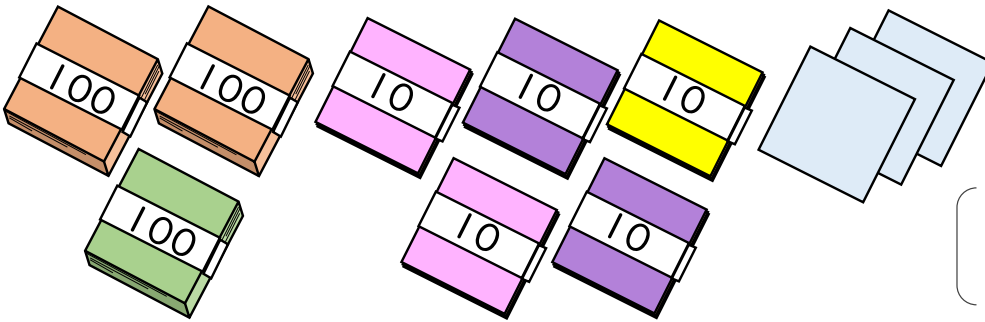
・ ぼうや 色紙の 数を、数字で 書きましょう。

①




2 3 4 本

②



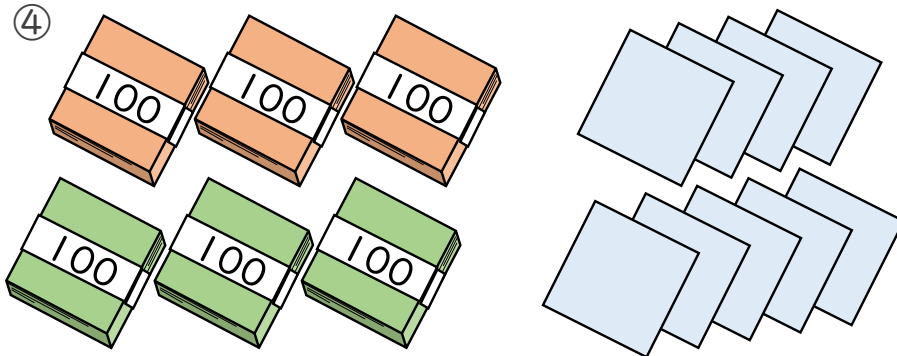
3 5 3 まい

③



4 3 0 本

④



6 0 9 まい



3けたの数4

● ぼうや紙のたばを
数字であらわそう



日にち： 月 日

名まえ _____

・ ぼうや色紙の数を、数字で書きましょう。

①

3 7 1 本

②

3 4 5 まい

③

5 0 4 本

④

2 5 0 まい



3けたの数4

● ぼうや紙のたばを
数字であらわそう




日にち： 月 日

名まえ _____

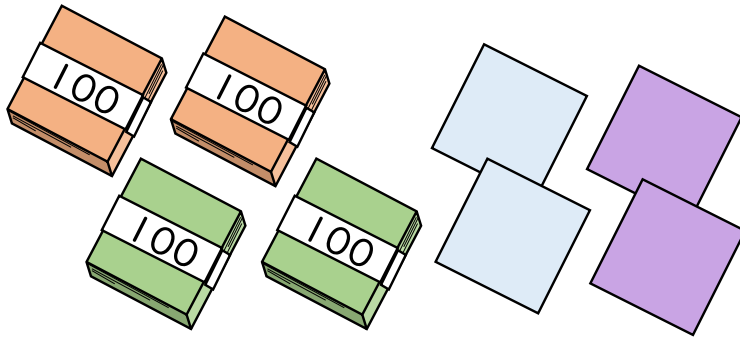
1 ぼうや 色紙の 数を、数字で 書きましよう。

①



{ 270 本 }

②



{ 404 まい }

2 数字で 書きましよう。

① 五百十

{ 510 }

② 百七

{ 107 }

3 漢字で 書きましよう。

① 900

{ 九 百 }

② 650

{ 六 百 五 十 }



3けたの数4

● ぼうや紙のたばを
数字であらわそう




日にち： 月 日

名まえ _____

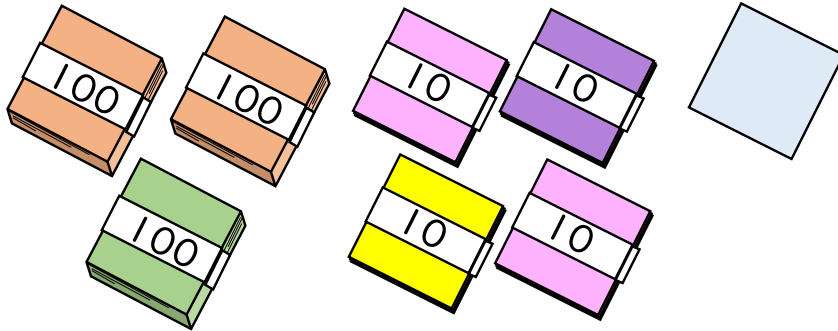
1 ぼうや色紙の数を、数字で書きましょう。

①



{ 4 6 0 本 }

②



{ 3 4 1 まい }

2 数字で書きましょう。

① 六百三

{ 6 0 3 }

② 二百十

{ 2 1 0 }

3 漢字で書きましょう。

① 701

{ 七 百 一 }

② 500

{ 五 百 }





3けたの数4

● ぼうや紙のたばを
数字であらわそう

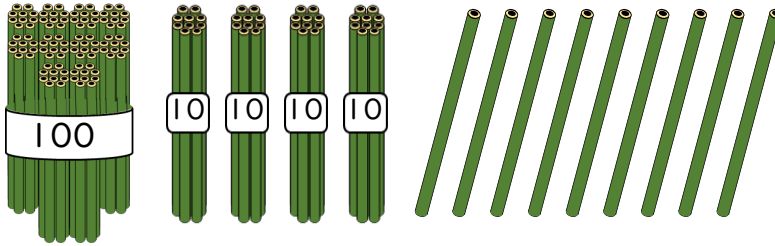
12

日にち： 月 日

名まえ _____

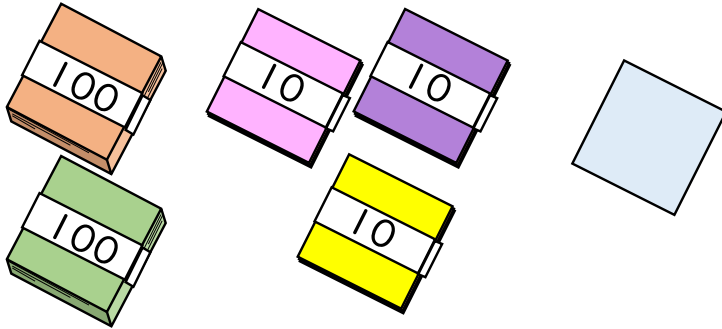
1 ぼうや 色紙の 数を、数字で 書きましよう。

①



{ 1 4 9 本 }

②



{ 2 3 1 まい }

2 数字で 書きましよう。

① 五百四十

{ 5 4 0 }

② 三百九

{ 3 0 9 }

3 漢字で 書きましよう。

① 705

{ 七 百 五 }

② 210

{ 二 百 十 }



3けたの数4

● ぼうや紙のたばを
数字であらわそう


13

日にち： 月 日

名まえ _____

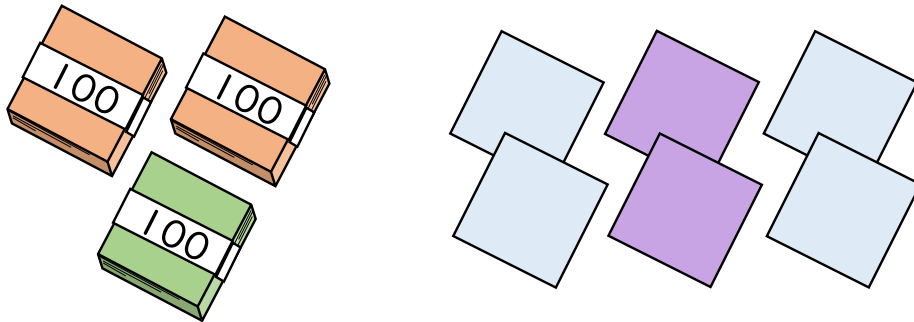
1 ぼうや色紙の数を、数字で書きましょう。

①



{ 4 2 3 本 }

②



{ 3 0 6 まい }

2 数字で書きましょう。

① 六百九十

{ 6 9 0 }

② 四百

{ 4 0 0 }

3 漢字で書きましょう。

① 870

{ 八 百 七 十 }

② 902

{ 九 百 二 }



3けたの数4

● ぼうや紙のたばを
数字であらわそう

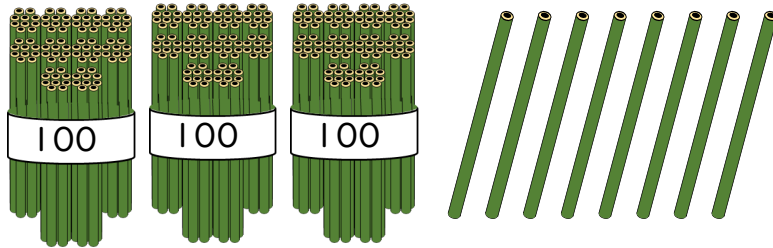
14

日にち： 月 日

名まえ _____

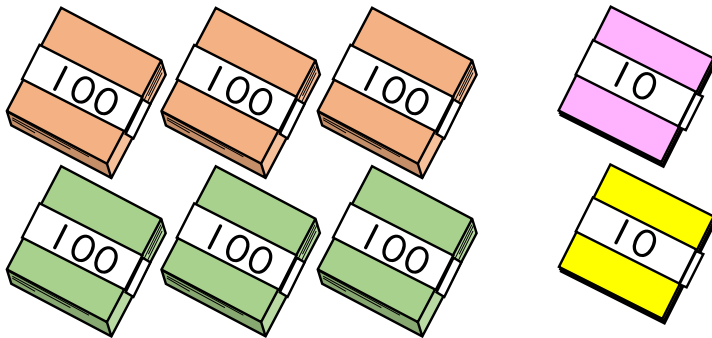
1 ぼうや 色紙の 数を、数字で 書きましよう。

①



{ 308 本 }

②



{ 620 まい }

2 数字で 書きましよう。

① 七百八十

{ 780 }

② 九百六

{ 906 }

3 漢字で 書きましよう。

① 302

{ 三 百 二 }

② 450

{ 四 百 五 十 }




3けたの数4

● ぼうや紙のたばを
数字であらわそう

15


目指せ90点!



名まえ _____

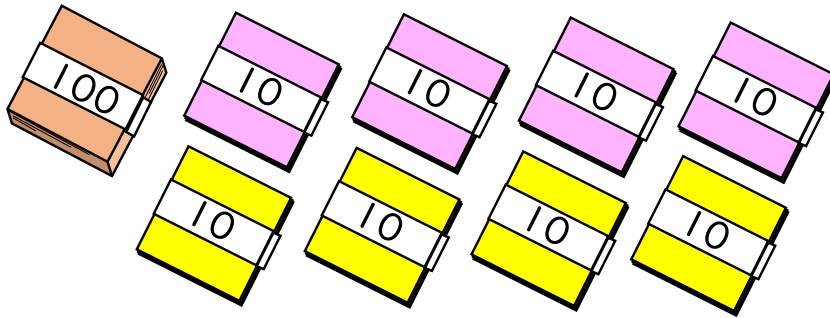
1 ぼうや 色紙の 数を、数字で 書きましよう。(各30点)

①



{ 3 6 2 本 }

②



{ 1 8 0 まい }

2 数字で 書きましよう。(各10点)

① 六百五

{ 6 0 5 }

② 八百

{ 8 0 0 }

3 漢字で 書きましよう。(各10点)

① 930

{ 九 百 三 十 }

② 709

{ 七 百 九 }




3けたの数4

● ぼうや紙のたばを
数字であらわそう

16


目指せ90点!



名まえ _____


1 ぼうや 色紙の 数を、数字で 書きましよう。(各30点)

①



(2 8 0 本)

②



(5 0 6 まい)

2 数字で 書きましよう。(各10点)

① 七百八十

(7 8 0)

② 九百六

(9 0 6)

3 漢字で 書きましよう。(各10点)

① 302

(三 百 二)

② 450

(四 百 五 十)