

# 3けたの数 7


◎ 10を集めた数



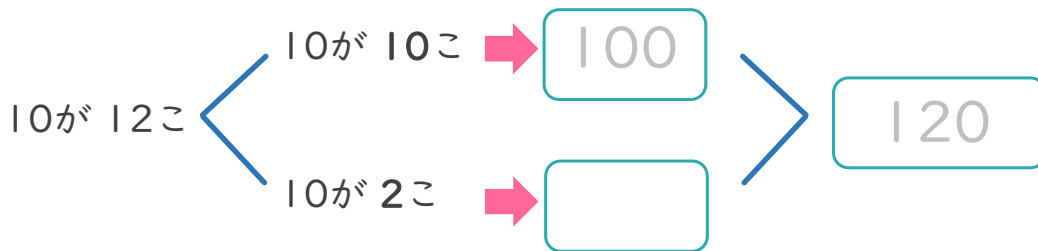
日にち： 月 日

名まえ \_\_\_\_\_

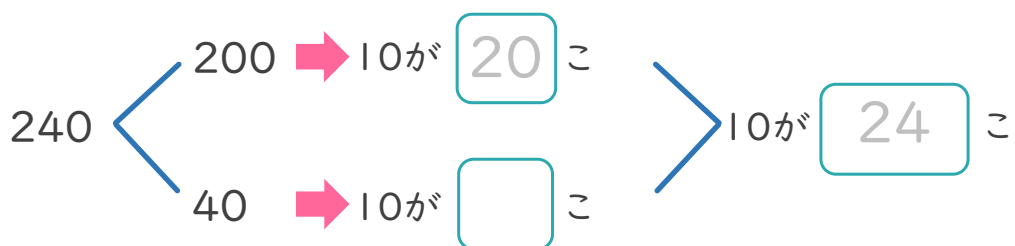

- 10を12こあつめた数はいくつですか。(うすい字はなぞりましょう。)



お金で考えると  
わかりやすいね!



- 240は、10を何こあつめた数ですか。(うすい字はなぞりましょう。)





# 3けたの数 7


## 2

◎ 10を集めた数

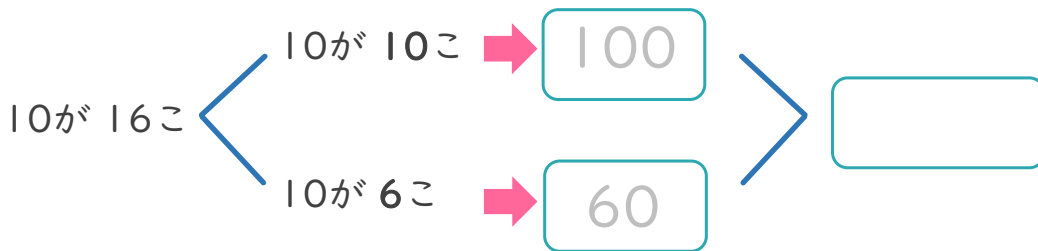
日にち： 月 日

名まえ \_\_\_\_\_

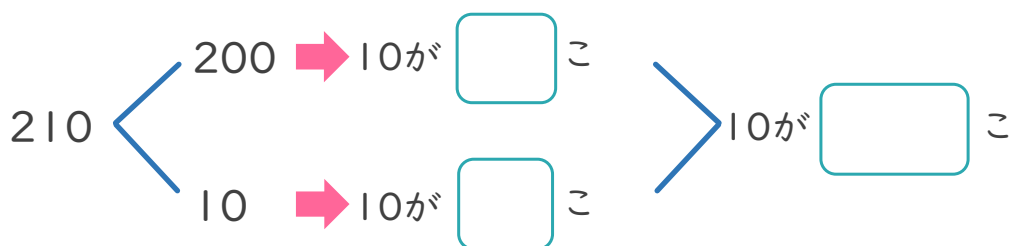

・ 10を 16こ あつめた 数はいくつですか。(うすい字はなぞりましょう。)



お金で考えると  
わかりやすいね!



・ 210は、10を 何こ あつめた 数ですか。





# 3けたの数 7

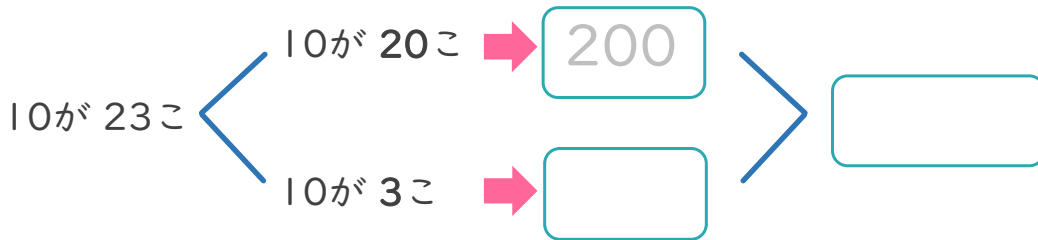
◎ 10を集めた数



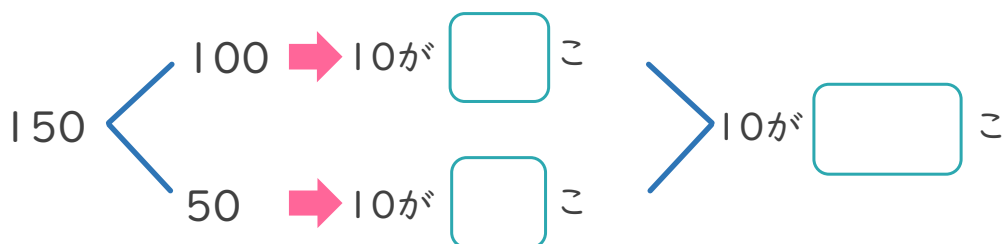

日にち： 月 日

名まえ \_\_\_\_\_

・ 10を 23こ あつめた 数はいくつですか。(うすい字はなぞりましょう。)



・ 150は、10を 何こ あつめた 数ですか。





# 3けたの数 7

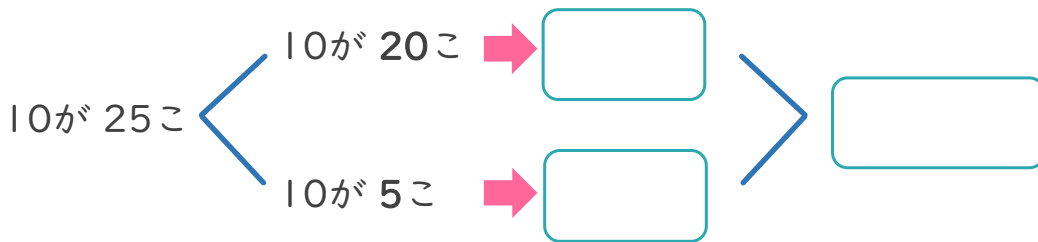


◎ 10を集めた数



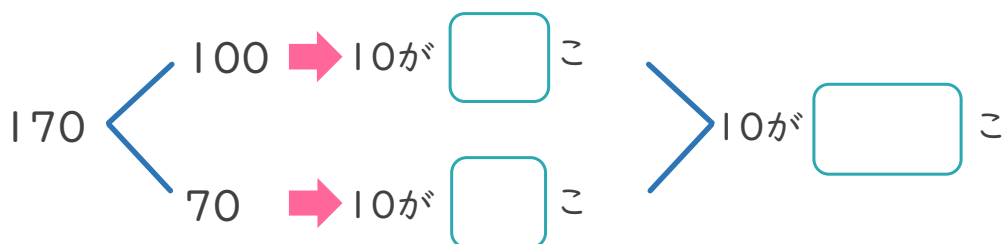
日にち： 月 日

名まえ \_\_\_\_\_

・ 10を 25こ あつめた 数はいくつですか。



・ 170は、 10を 何こ あつめた 数ですか。





# 3けたの数 7

● 10を集めた数



日にち： 月 日

名まえ \_\_\_\_\_

・ つぎの もんだいに 答えましょう。(うすい字はなぞりましょう。)

① 10を 25こ あつめた 数はいくつですか。

( 250 )

② 10を 19こ あつめた 数はいくつですか。

( 190 )

③ 10を 33こ あつめた 数はいくつですか。

( )

④ 10を 40こ あつめた 数はいくつですか。

( )

⑤ 240は、 10を 何こ あつめた 数ですか。

( 24 こ )

⑥ 300は、 10を 何こ あつめた 数ですか。

( 30 こ )

⑦ 430は、 10を 何こ あつめた 数ですか。

( こ )

⑧ 150は、 10を 何こ あつめた 数ですか。

( こ )



# 3けたの数 7

● 10を集めた数



日にち： 月 日

名まえ \_\_\_\_\_

・ つぎの もんだいに 答えましょう。(うすい字はなぞりましょう。)

① 10を 30こ あつめた 数はいくつですか。

( 300 )

② 10を 15こ あつめた 数はいくつですか。

( )

③ 10を 24こ あつめた 数はいくつですか。

( )

④ 10を 42こ あつめた 数はいくつですか。

( )

⑤ 100は、10を 何こ あつめた 数ですか。

( 10 こ )

⑥ 250は、10を 何こ あつめた 数ですか。

( こ )

⑦ 300は、10を 何こ あつめた 数ですか。

( こ )

⑧ 410は、10を 何こ あつめた 数ですか。

( こ )



# 3けたの数 7

● 10を集めた数



日にち： 月 日

名まえ \_\_\_\_\_

・ つぎの もんだいに 答えましょう。

① 10を 19こ あつめた 数はいくつですか。

② 10を 30こ あつめた 数はいくつですか。

③ 10を 25こ あつめた 数はいくつですか。

④ 10を 47こ あつめた 数はいくつですか。

⑤ 330は、 10を 何こ あつめた 数ですか。

⑥ 290は、 10を 何こ あつめた 数ですか。

⑦ 140は、 10を 何こ あつめた 数ですか。

⑧ 400は、 10を 何こ あつめた 数ですか。



# 3けたの数 7

● 10を集めた数



日にち： 月 日

名まえ \_\_\_\_\_

・ つぎの もんだいに 答えましょう。

① 10を 42こ あつめた 数はいくつですか。

② 10を 20こ あつめた 数はいくつですか。

③ 10を 31こ あつめた 数はいくつですか。

④ 10を 18こ あつめた 数はいくつですか。

⑤ 130は、 10を 何こ あつめた 数ですか。

⑥ 200は、 10を 何こ あつめた 数ですか。

⑦ 370は、 10を 何こ あつめた 数ですか。

⑧ 450は、 10を 何こ あつめた 数ですか。





# 3けたの数 7

● 10を集めた数



日にち： 月 日

名まえ \_\_\_\_\_

・ つぎの もんだいに 答えましょう。

① 10を 20こ あつめた 数はいくつですか。

② 10を 13こ あつめた 数はいくつですか。

③ 10を 39こ あつめた 数はいくつですか。

④ 10を 47こ あつめた 数はいくつですか。

⑤ 120は、 10を 何こ あつめた 数ですか。

⑥ 500は、 10を 何こ あつめた 数ですか。

⑦ 340は、 10を 何こ あつめた 数ですか。

⑧ 410は、 10を 何こ あつめた 数ですか。



# 3けたの数 7

● 10を集めた数



日にち： 月 日

名まえ \_\_\_\_\_

1 つぎの問題に答えましょう。

① 10を15こあつめた数はいくつですか。

② 10を30こあつめた数はいくつですか。

③ 260は、10を何こあつめた数ですか。

④ 400は、10を何こあつめた数ですか。


2 つぎの文をしきにあらわしましょう。

① 300と70をあわせた数は、370です。

$$\boxed{\phantom{000}} + \boxed{\phantom{000}} = 370$$

② 504は、500と4をあわせた数です。

$$504 = \boxed{\phantom{000}} + \boxed{\phantom{000}}$$



# 3けたの数7

● 10を集めた数



日にち： 月 日

名まえ \_\_\_\_\_

1 つぎの問題に答えましょう。

① 10を19こあつめた数はいくつですか。

② 10を30こあつめた数はいくつですか。

③ 220は、10を何こあつめた数ですか。

④ 400は、10を何こあつめた数ですか。

2 つぎの文をしきにあらわしましょう。

① 400と60をあわせた数は、460です。

$$\boxed{\phantom{000}} + \boxed{\phantom{000}} = 460$$

② 125は、100と20と5をあわせた数です。

$$125 = \boxed{\phantom{000}} + \boxed{\phantom{000}} + \boxed{\phantom{000}}$$



# 3けたの数 7

● 10を集めた数



日にち： 月 日

名まえ \_\_\_\_\_

1 つぎの問題に答えましょう。

① 10を37こあつめた数はいくつですか。

② 10を20こあつめた数はいくつですか。

③ 250は、10を何こあつめた数ですか。

④ 460は、10を何こあつめた数ですか。

2 つぎの文をしきにあらわしましょう。

① 508は、500と8をあわせた数です。

$$508 = \square + \square$$

② 900と70をあわせた数は、970です。

$$\square + \square = 970$$



# 3けたの数 7

● 10を集めた数



日にち： 月 日

名まえ \_\_\_\_\_

1 つぎの問題に答えましょう。

① 10を40こあつめた数はいくつですか。

② 10を22こあつめた数はいくつですか。

③ 500は、10を何こあつめた数ですか。

こ

④ 310は、10を何こあつめた数ですか。

こ

2 つぎの文をしきにあらわしましょう。

① 600と20をあわせた数は、620です。

$$\boxed{\phantom{000}} + \boxed{\phantom{000}} = 620$$

② 413は、400と10と3をあわせた数です。

$$413 = \boxed{\phantom{000}} + \boxed{\phantom{000}} + \boxed{\phantom{000}}$$



# 3けたの数 7

● 10を集めた数

14

日にち： 月 日

名まえ \_\_\_\_\_

1 つぎの問題に答えましょう。

① 10を25こあつめた数はいくつですか。

② 10を30こあつめた数はいくつですか。

③ 500は、10を何こあつめた数ですか。

④ 150は、10を何こあつめた数ですか。

2 つぎの文をしきにあらわしましょう。

① 504は、500と4をあわせた数です。

$$504 = \square + \square$$

② 700と30をあわせた数は、730です。

$$\square + \square = 730$$




# 3けたの数7

● 10を集めた数

15

目指せ90点!



名まえ

---

1 つぎの問題に答えましょう。(各20点)

① 10を40こあつめた数はいくつですか。

② 10を28こあつめた数はいくつですか。

③ 600は、10を何こあつめた数ですか。

④ 170は、10を何こあつめた数ですか。

2 つぎの文をしきにあらわしましょう。(各10点)

① 200と60をあわせた数は、260です。

$$\boxed{\phantom{000}} + \boxed{\phantom{000}} = 260$$

② 151は、100と50と1をあわせた数です。

$$151 = \boxed{\phantom{000}} + \boxed{\phantom{000}} + \boxed{\phantom{000}}$$



# 3けたの数 7

● 10を集めた数



目指せ90点!



名まえ \_\_\_\_\_

1 つぎの問題に答えましょう。(各20点)

① 10を 34こ あつめた 数はいくつですか。

② 10を 10こ あつめた 数はいくつですか。

③ 240は、10を 何こ あつめた 数ですか。

④ 500は、10を 何こ あつめた 数ですか。

2 つぎの文をしきにあらわしましょう。(各10点)


① 309は、300と9をあわせた数です。

$$309 = \square + \square$$

② 700と60をあわせた数は、760です。

$$\square + \square = 760$$





# 3けたの数 7


◎ 10を集めた数



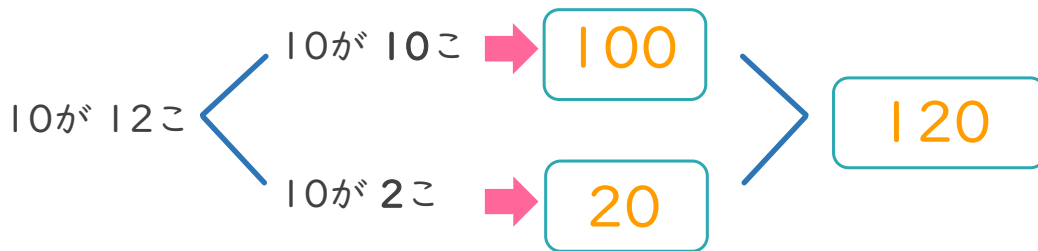
日にち： 月 日

名まえ \_\_\_\_\_

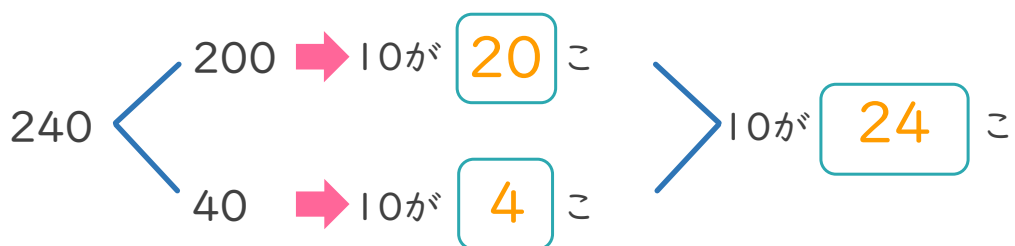


- ・ 10を 12こ あつめた 数はいくつですか。(うすい字はなぞりましょう。)



お金で考えると  
わかりやすいね!



- ・ 240は、10を 何こ あつめた 数ですか。(うすい字はなぞりましょう。)





# 3けたの数 7


◎ 10を集めた数



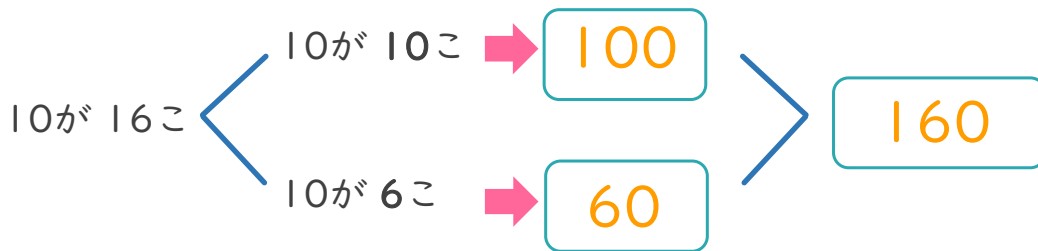
日にち： 月 日

名まえ \_\_\_\_\_

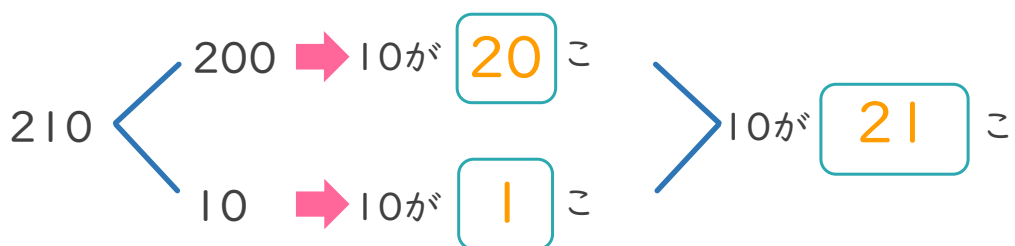

・ 10を 16こ あつめた 数はいくつですか。(うすい字はなぞりましょう。)



お金で考えると  
わかりやすいね!



・ 210は、10を 何こ あつめた 数ですか。





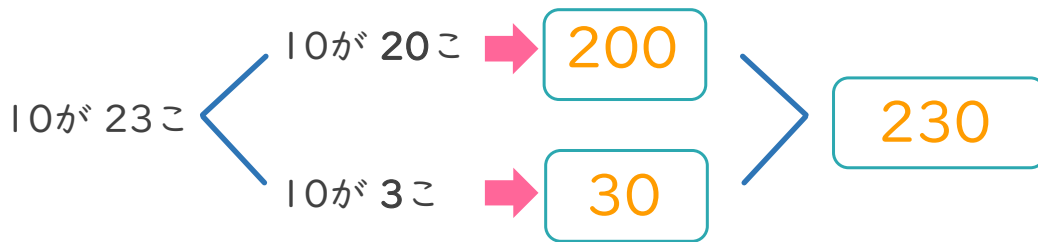

# 3けたの数 7 3

◎ 10を集めた数

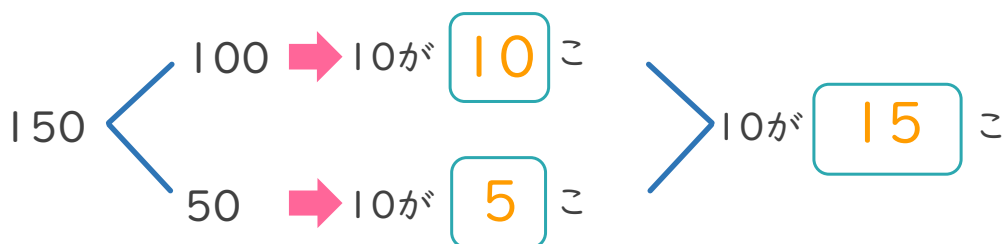

日にち： 月 日

名まえ \_\_\_\_\_

・ 10を 23こ あつめた 数はいくつですか。(うすい字はなぞりましょう。)



・ 150は、10を 何こ あつめた 数ですか。





# 3けたの数 7

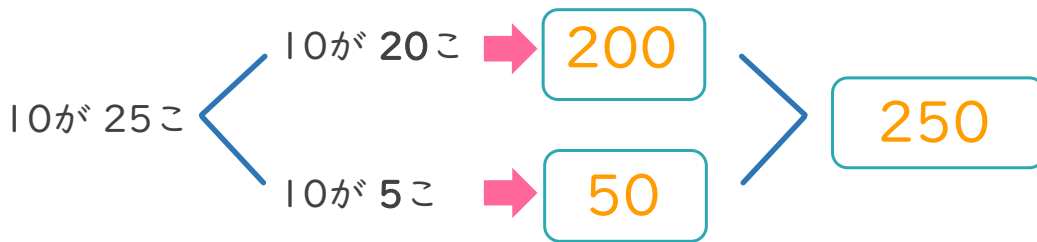

10を集めた数



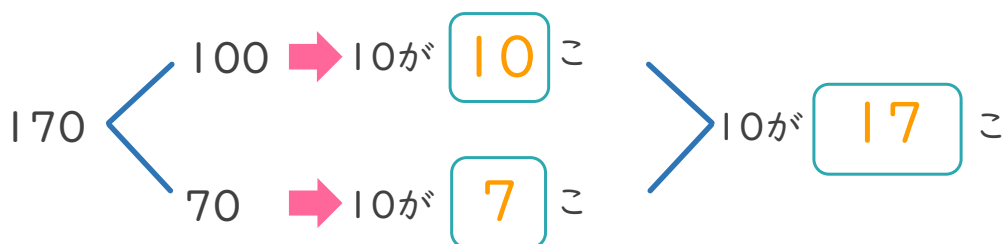

日にち： 月 日

名まえ \_\_\_\_\_

・ 10を 25こ あつめた 数はいくつですか。



・ 170は、10を 何こ あつめた 数ですか。





# 3けたの数 7

● 10を集めた数



日にち： 月 日

名まえ \_\_\_\_\_

・ つぎの もんだいに 答えましょう。(うすい字はなぞりましょう。)

① 10を 25こ あつめた 数はいくつですか。

〔 250 〕

② 10を 19こ あつめた 数はいくつですか。

〔 190 〕

③ 10を 33こ あつめた 数はいくつですか。

〔 330 〕

④ 10を 40こ あつめた 数はいくつですか。

〔 400 〕

⑤ 240は、10を 何こ あつめた 数ですか。

〔 24 こ 〕

⑥ 300は、10を 何こ あつめた 数ですか。

〔 30 こ 〕

⑦ 430は、10を 何こ あつめた 数ですか。

〔 43 こ 〕

⑧ 150は、10を 何こ あつめた 数ですか。

〔 15 こ 〕



# 3けたの数 7

● 10を集めた数



日にち： 月 日

名まえ \_\_\_\_\_

・ つぎの もんだいに 答えましょう。(うすい字はなぞりましょう。)

① 10を 30こ あつめた 数はいくつですか。

300

② 10を 15こ あつめた 数はいくつですか。

150

③ 10を 24こ あつめた 数はいくつですか。

240

④ 10を 42こ あつめた 数はいくつですか。

420

⑤ 100は、10を 何こ あつめた 数ですか。

10

こ

⑥ 250は、10を 何こ あつめた 数ですか。

25

こ

⑦ 300は、10を 何こ あつめた 数ですか。

30

こ

⑧ 410は、10を 何こ あつめた 数ですか。

41

こ



## 3けたの数 7

● 10を集めた数



日にち： 月 日

名まえ \_\_\_\_\_

・ つぎの もんだいに 答えましょう。

① 10を 19こ あつめた 数はいくつですか。

( 190 )

② 10を 30こ あつめた 数はいくつですか。

( 300 )

③ 10を 25こ あつめた 数はいくつですか。

( 250 )

④ 10を 47こ あつめた 数はいくつですか。

( 470 )

⑤ 330は、 10を 何こ あつめた 数ですか。

( 33 こ )

⑥ 290は、 10を 何こ あつめた 数ですか。

( 29 こ )

⑦ 140は、 10を 何こ あつめた 数ですか。

( 14 こ )

⑧ 400は、 10を 何こ あつめた 数ですか。

( 40 こ )



# 3けたの数 7

● 10を集めた数



日にち： 月 日

名まえ \_\_\_\_\_

・ つぎの もんだいに 答えましょう。

① 10を 42こ あつめた 数はいくつですか。

( 420 )

② 10を 20こ あつめた 数はいくつですか。

( 200 )

③ 10を 31こ あつめた 数はいくつですか。

( 310 )

④ 10を 18こ あつめた 数はいくつですか。

( 180 )

⑤ 130は、 10を 何こ あつめた 数ですか。

( 13 こ )

⑥ 200は、 10を 何こ あつめた 数ですか。

( 20 こ )

⑦ 370は、 10を 何こ あつめた 数ですか。

( 37 こ )

⑧ 450は、 10を 何こ あつめた 数ですか。

( 45 こ )





# 3けたの数 7

● 10を集めた数



日にち： 月 日

名まえ \_\_\_\_\_

・ つぎの もんだいに 答えましょう。

① 10を 20こ あつめた 数はいくつですか。

( 200 )

② 10を 13こ あつめた 数はいくつですか。

( 130 )

③ 10を 39こ あつめた 数はいくつですか。

( 390 )

④ 10を 47こ あつめた 数はいくつですか。

( 470 )

⑤ 120は、 10を 何こ あつめた 数ですか。

( 12 こ )

⑥ 500は、 10を 何こ あつめた 数ですか。

( 50 こ )

⑦ 340は、 10を 何こ あつめた 数ですか。

( 34 こ )

⑧ 410は、 10を 何こ あつめた 数ですか。

( 41 こ )



# 3けたの数7

● 10を集めた数



日にち： 月 日

名まえ \_\_\_\_\_

1 つぎの問題に答えましょう。

① 10を15こあつめた数はいくつですか。

( 150 )

② 10を30こあつめた数はいくつですか。

( 300 )

③ 260は、10を何こあつめた数ですか。

( 26 )

こ

④ 400は、10を何こあつめた数ですか。

( 40 )

こ

2 つぎの文をしきにあらわしましょう。

① 300と70をあわせた数は、370です。

$$300 + 70 = 370$$

② 504は、500と4をあわせた数です。

$$504 = 500 + 4$$



# 3けたの数 7

● 10を集めた数



日にち： 月 日

名まえ \_\_\_\_\_

1 つぎの問題に答えましょう。

① 10を19こあつめた数はいくつですか。

( 190 )

② 10を30こあつめた数はいくつですか。

( 300 )

③ 220は、10を何こあつめた数ですか。

( 22 )

こ

④ 400は、10を何こあつめた数ですか。

( 40 )

こ

2 つぎの文をしきにあらわしましょう。

① 400と60をあわせた数は、460です。

$$\boxed{400} + \boxed{60} = 460$$

② 125は、100と20と5をあわせた数です。

$$125 = \boxed{100} + \boxed{20} + \boxed{5}$$



# 3けたの数 7

● 10を集めた数



日にち： 月 日

名まえ \_\_\_\_\_

1 つぎの問題に答えましょう。

① 10を37こあつめた数はいくつですか。

( 370 )

② 10を20こあつめた数はいくつですか。

( 200 )

③ 250は、10を何こあつめた数ですか。

( 25 )

こ

④ 460は、10を何こあつめた数ですか。

( 46 )

こ

2 つぎの文をしきにあらわしましょう。

① 508は、500と8をあわせた数です。

$$508 = 500 + 8$$

② 900と70をあわせた数は、970です。

$$900 + 70 = 970$$



# 3けたの数 7

● 10を集めた数



日にち： 月 日

名まえ \_\_\_\_\_

1 つぎの問題に答えましょう。

① 10を40こあつめた数はいくつですか。

( 400 )

② 10を22こあつめた数はいくつですか。

( 220 )

③ 500は、10を何こあつめた数ですか。

( 50 )

こ

④ 310は、10を何こあつめた数ですか。

( 31 )

こ

2 つぎの文をしきにあらわしましょう。

① 600と20をあわせた数は、620です。

$$600 + 20 = 620$$

② 413は、400と10と3をあわせた数です。

$$413 = 400 + 10 + 3$$



# 3けたの数 7

● 10を集めた数



日にち： 月 日

名まえ \_\_\_\_\_

1 つぎの問題に答えましょう。

① 10を25こあつめた数はいくつですか。

( 250 )

② 10を30こあつめた数はいくつですか。

( 300 )

③ 500は、10を何こあつめた数ですか。

( 50 )

こ

④ 150は、10を何こあつめた数ですか。

( 15 )

こ

2 つぎの文をしきにあらわしましょう。

① 504は、500と4をあわせた数です。

$$504 = 500 + 4$$

② 700と30をあわせた数は、730です。

$$700 + 30 = 730$$



# 3けたの数7

● 10を集めた数

15

目指せ90点!



名まえ \_\_\_\_\_

1 つぎの問題に答えましょう。(各20点)

① 10を40こあつめた数はいくつですか。

〔 400 〕

② 10を28こあつめた数はいくつですか。

〔 280 〕

③ 600は、10を何こあつめた数ですか。

〔 60 〕

こ

④ 170は、10を何こあつめた数ですか。

〔 17 〕

こ

2 つぎの文をしきにあらわしましょう。(各10点)

① 200と60をあわせた数は、260です。

$$\boxed{200} + \boxed{60} = 260$$

② 151は、100と50と1をあわせた数です。

$$151 = \boxed{100} + \boxed{50} + \boxed{1}$$



# 3けたの数7

● 10を集めた数

16

目指せ90点!



名まえ

1 つぎの問題に答えましょう。(各20点)

① 10を34こあつめた数はいくつですか。

340

② 10を10こあつめた数はいくつですか。

100

③ 240は、10を何こあつめた数ですか。

24

こ

④ 500は、10を何こあつめた数ですか。

50

こ

2 つぎの文をしきにあらわしましょう。(各10点)

① 309は、300と9をあわせた数です。

$$309 = 300 + 9$$

② 700と60をあわせた数は、760です。

$$700 + 60 = 760$$