



4けたの数 I

● 千のまとまり



日にち： 月 日

名まえ _____


- ・ ビーズは何こありますか。□ に数を書きましょう。
(うすい字はなぞりましょう。)

1000が こ

100が こ

10が こ

1が こ



は ● が 100こだよ！

100が10こで1000になるね！



ビーズは

2	4	6	5
---	---	---	---

こ





4けたの数 1

● 千のまとまり

2

日にち： 月 日

名まえ _____

・ ビーズは何こありますか。□ に数を書きましょう。


(うすい字はなぞりましょう。)

1000が こ

100が こ

10が こ

1が こ



は ● が 100こだよ！

100が10こで1000になるね！



ビーズは

2			
---	--	--	--

こ





4けたの数 I


● 千のまとまり



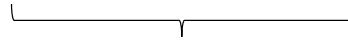

日にち： 月 日

名まえ _____


・ ビーズは何こありますか。□ に数を書きましょう。




1000が □ こ




100が □ こ



10が □ こ



1が □ こ



は ● が 100こだよ！

100が10こで1000になるね！



ビーズは

□ □ □ □ □

こ





4けたの数 I

● 千のまとまり



日にち： 月 日

名まえ _____


・ ビーズは何こありますか。 に数を書きましょう。

1000が こ

100が こ

10が こ

1が こ



は ● が 100こだよ！

100が10こで1000になるね！



ビーズは

こ





4けたの数 I

● 千のまとまり


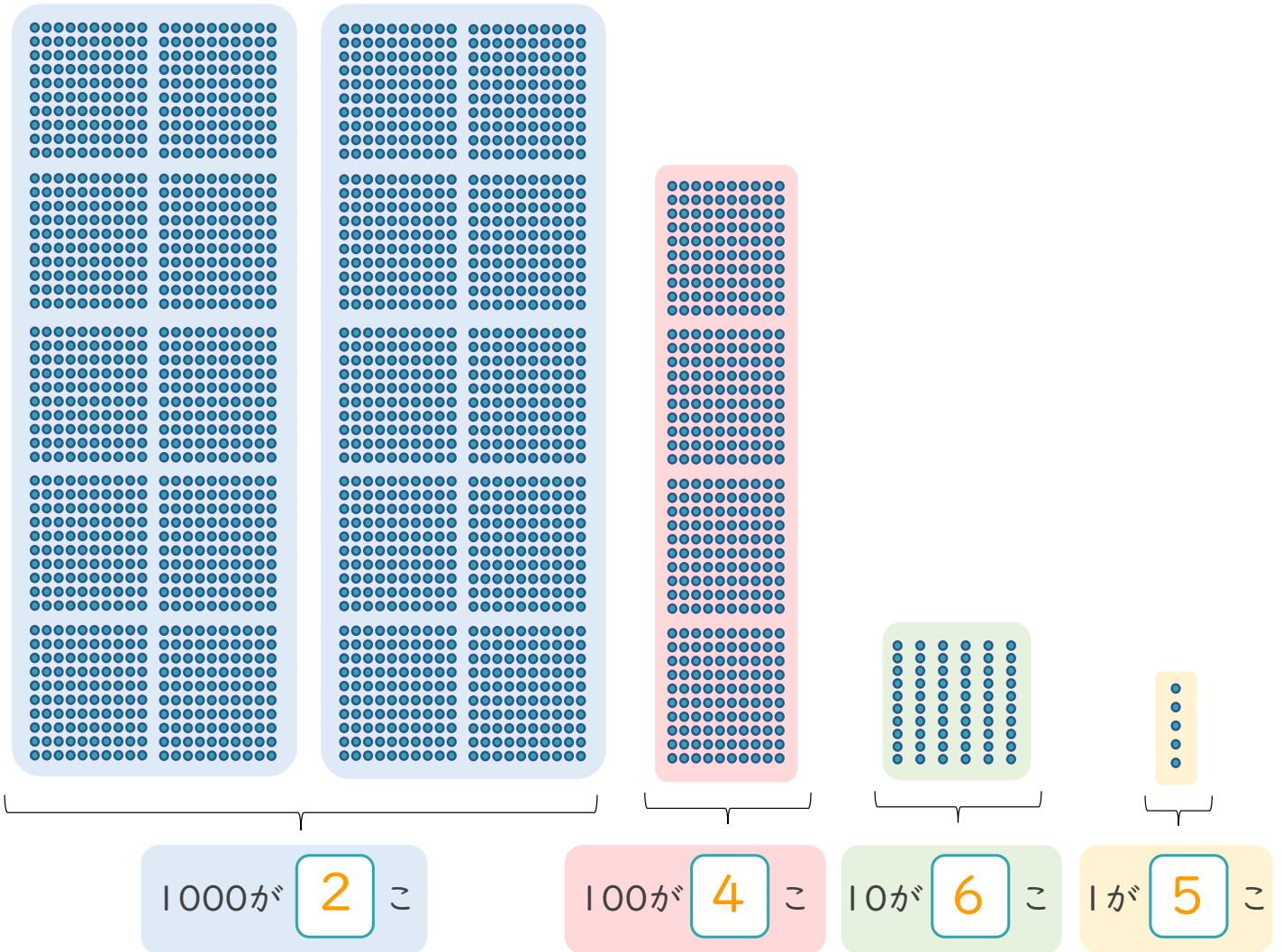


日にち： 月 日

名まえ _____

・ ビーズは何こありますか。□ に数を書きましょう。

(うすい字はなぞりましょう。)



は ● が 100こだよ！

100が10こで1000になるね！



ビーズは

2	4	6	5
---	---	---	---

こ





4けたの数 1

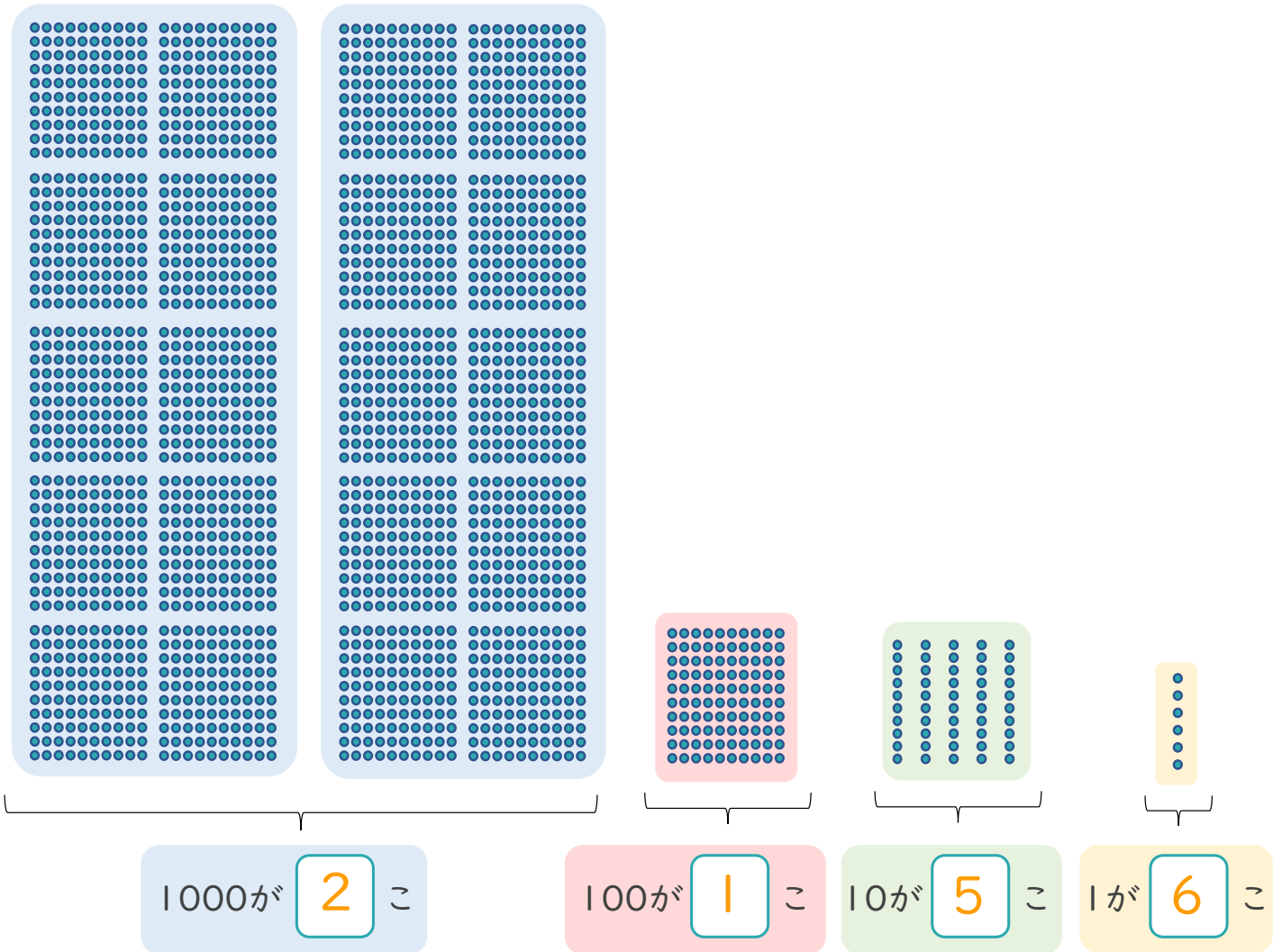
● 千のまとまり




日にち： 月 日

名まえ _____

- ・ ビーズは何こありますか。 に数を書きましょう。
(うすい字はなぞりましょう。)



 は ・ が 100こだよ！
100が10こで1000になるね！



ビーズは

2	1	5	6
---	---	---	---

こ





4けたの数 I


● 千のまとまり



日にち： 月 日

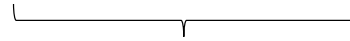

名まえ _____

・ ビーズは何こありますか。□ に数を書きましょう。




1000が □ こ

1



100が □ こ

6




10が □ こ

7



1が □ こ

9



は ● が 100こだよ！

100が10こで1000になるね！



ビーズは

1 6 7 9

こ





4けたの数 I


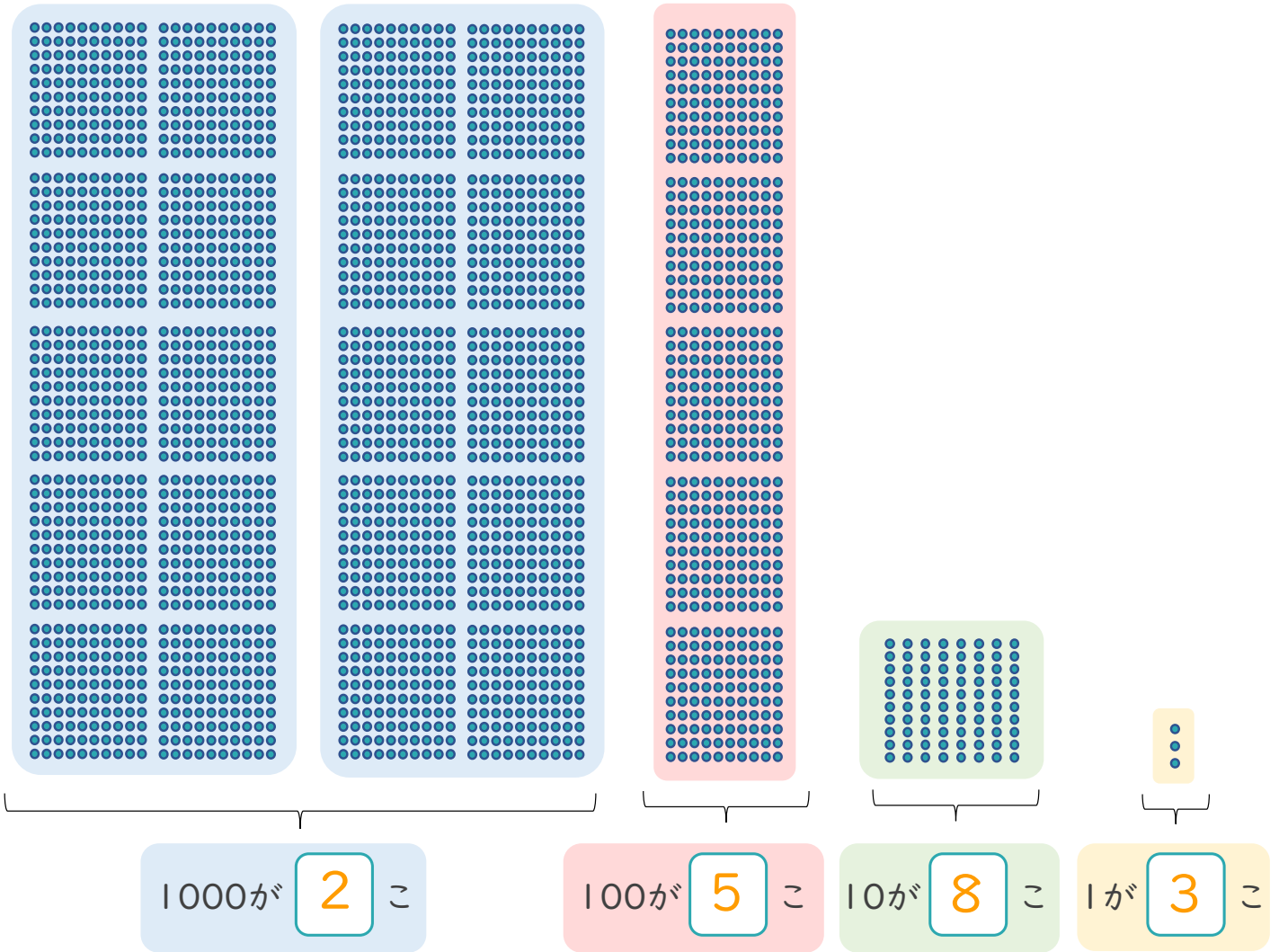
● 千のまとまり



日にち： 月 日

名まえ _____

・ ビーズは何こありますか。□ に数を書きましょう。



は ● が 100こだよ！

100が10こで1000になるね！



ビーズは

2	5	8	3
---	---	---	---

こ

