



4けたの数 00

◎ 数百のたし算・ひき算




日にち： 月 日


名まえ _____

・ たし算をしましょう。(うすい字はなぞりましょう。)

① $600 + 700 = 1300$

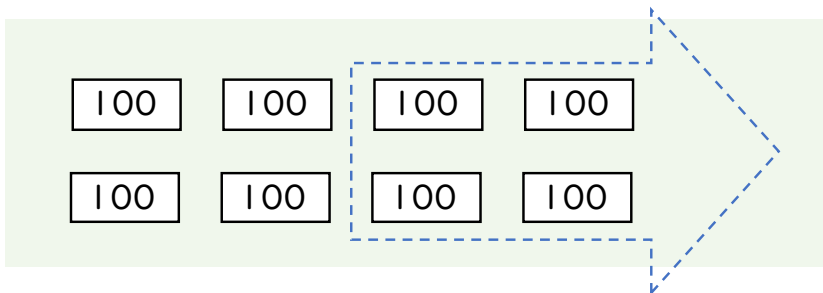


② $400 + 800 =$

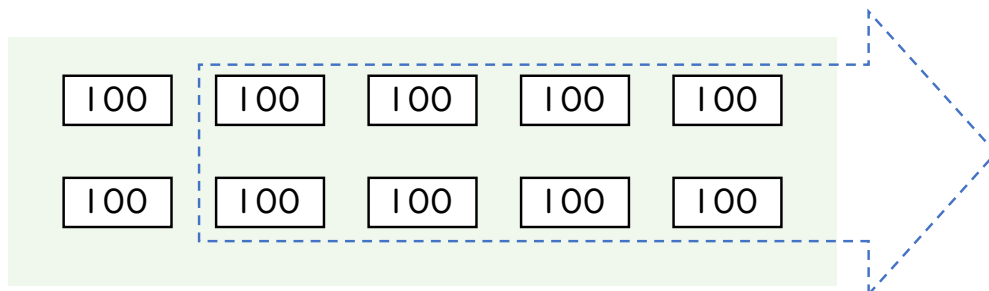


・ ひき算をしましょう。(うすい字はなぞりましょう。)

① $800 - 400 = 400$



② $1000 - 800 =$





4けたの数 11

◎ 数百のたし算・ひき算




日にち： 月 日


名まえ _____

・ たし算をしましょう。(うすい字はなぞりましょう。)

① $500 + 600 = 1100$

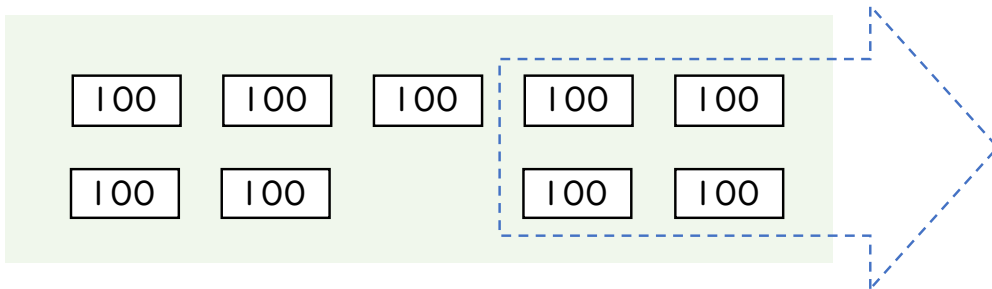


② $300 + 900 =$

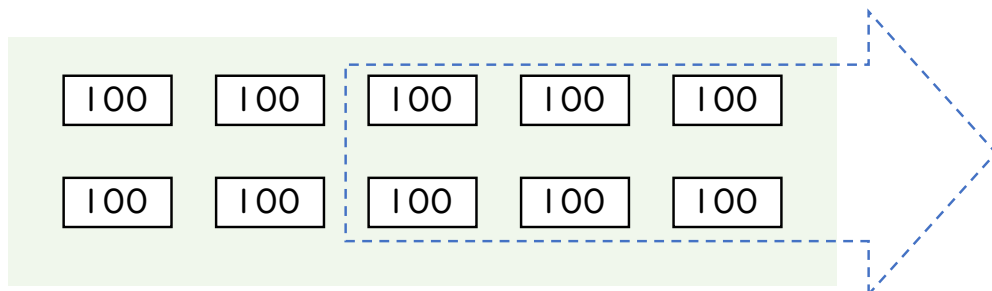


・ ひき算をしましょう。(うすい字はなぞりましょう。)

① $900 - 400 = 500$



② $1000 - 600 =$





4けたの数 11

◎ 数百のたし算・ひき算




日にち： 月 日


名まえ _____

・ たし算をしましょう。

① $500 + 900 =$

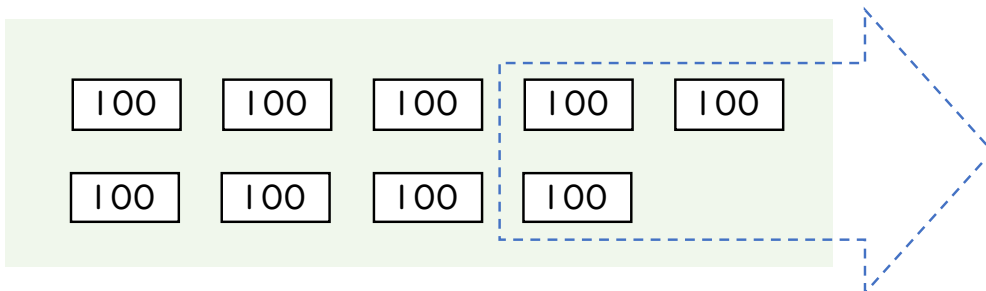


② $300 + 700 =$

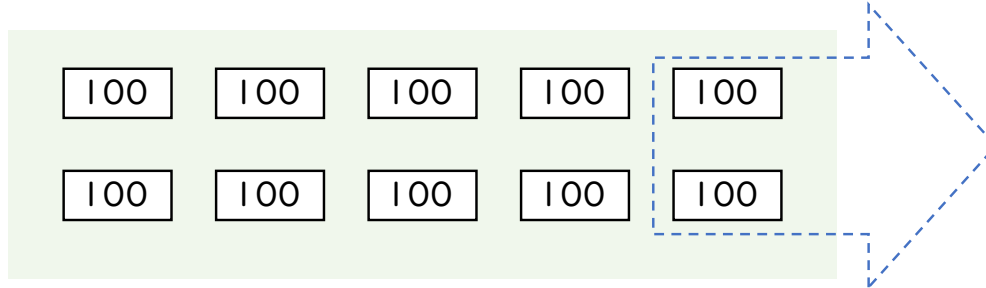


・ ひき算をしましょう。

① $900 - 300 =$



② $1000 - 200 =$





4けたの数 〇〇

◎ 数百のたし算・ひき算



日にち： 月 日

名まえ _____

・ たし算をしましょう。

① $700 + 900 =$

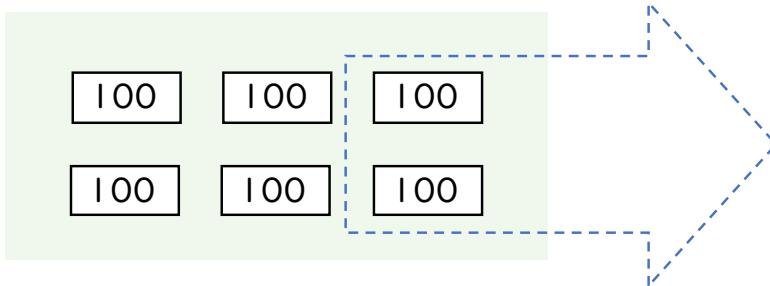


② $800 + 600 =$

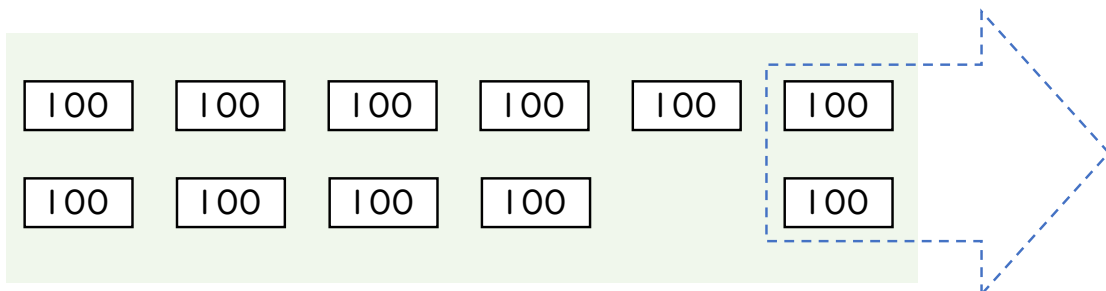


・ ひき算をしましょう。

① $600 - 200 =$



② $1100 - 200 =$





4けたの数 〇〇

◎ 数百のたし算・ひき算



日にち： 月 日

名まえ _____

・ 計算をしましょう。(うすい字はなぞりましょう。)

① $600 + 300 = 900$

② $400 + 600 = 1000$

③ $500 + 800 =$

④ $600 + 900 =$

⑤ $800 - 300 = 500$

⑥ $700 - 100 =$

⑦ $1000 - 700 = 300$

⑧ $1300 - 900 =$



4けたの数 〇〇

◎ 数百のたし算・ひき算



日にち： 月 日

名まえ _____

・ 計算をしましょう。(うすい字はなぞりましょう。)

① $800 + 600 = 1400$

② $900 + 200 =$

③ $700 + 100 =$

④ $500 + 800 =$

⑤ $700 - 200 = 500$

⑥ $800 - 500 =$

⑦ $1000 - 600 =$

⑧ $1500 - 800 =$



4けたの数 00

◎ 数百のたし算・ひき算



日にち： 月 日

名まえ _____

・ 計算をしましょう。

① $200 + 500 =$

② $600 + 900 =$

③ $300 + 800 =$

④ $900 + 100 =$

⑤ $700 - 300 =$

⑥ $900 - 400 =$

⑦ $1000 - 900 =$

⑧ $1200 - 600 =$



4けたの数 〇〇

◎ 数百のたし算・ひき算



日にち： 月 日

名まえ _____

・ 計算をしましょう。

① $500 + 600 =$

② $400 + 800 =$

③ $500 + 900 =$

④ $600 + 200 =$

⑤ $900 - 200 =$

⑥ $600 - 400 =$

⑦ $1000 - 200 =$

⑧ $1300 - 800 =$



4けたの数 〇〇

◎ 数百のたし算・ひき算



日にち： 月 日

名まえ _____

・ 計算をしましょう。

① $400 + 600 =$

② $300 + 400 =$

③ $800 + 600 =$

④ $900 + 900 =$

⑤ $700 - 300 =$

⑥ $500 - 400 =$

⑦ $1000 - 700 =$

⑧ $1600 - 900 =$



4けたの数 〇〇

◎ 数百のたし算・ひき算



日にち： 月 日

名まえ _____

・ 計算をしましょう。

① $700 + 400 =$

② $600 - 100 =$

③ $600 + 700 =$

④ $1200 - 800 =$

⑤ $900 + 600 =$

⑥ $1200 - 700 =$

⑦ $800 + 200 =$

⑧ $900 - 300 =$



4けたの数 〇〇

◎ 数百のたし算・ひき算



日にち： 月 日

名まえ _____

・ 計算をしましょう。

① $900 + 400 =$

② $800 - 600 =$

③ $1000 - 900 =$

④ $400 + 700 =$

⑤ $900 + 500 =$

⑥ $900 - 300 =$

⑦ $400 + 800 =$

⑧ $1300 - 500 =$



4けたの数 00

◎ 数百のたし算・ひき算



日にち： 月 日

名まえ _____

・ 計算をしましょう。

① $300 + 200 =$

② $800 - 400 =$

③ $800 + 600 =$

④ $700 + 500 =$

⑤ $1000 - 500 =$

⑥ $600 - 300 =$

⑦ $900 + 800 =$

⑧ $1400 - 800 =$



4けたの数 00

◎ 数百のたし算・ひき算

13

日にち： 月 日

名まえ _____

・ 計算をしましょう。

① $400 + 600 =$

② $1300 - 800 =$

③ $800 + 700 =$

④ $1000 - 300 =$

⑤ $700 + 400 =$

⑥ $900 - 700 =$

⑦ $800 + 100 =$

⑧ $500 - 400 =$



4けたの数 00

◎ 数百のたし算・ひき算



日にち： 月 日

名まえ _____

・ 計算をしましょう。

① $400 + 700 =$

② $1600 - 800 =$

③ $500 + 700 =$

④ $800 - 200 =$

⑤ $600 + 400 =$

⑥ $600 - 300 =$

⑦ $900 + 200 =$

⑧ $1000 - 500 =$



4けたの数 00

◎ 数百のたし算・ひき算

15

目指せ80点!



名まえ

・ 計算をしましょう。(各20点)

① $600 + 200 =$

② $700 - 200 =$

③ $900 + 200 =$

④ $1600 - 700 =$

⑤ $200 + 800 =$




4けたの数 00

● 数百のたし算・ひき算

16

目指せ80点!



名まえ

・ 計算をしましょう。(各20点)

① $700 + 600 =$

② $1400 - 700 =$

③ $900 + 800 =$

④ $900 - 700 =$

⑤ $1000 - 600 =$



4けたの数 11

◎ 数百のたし算・ひき算




日にち： 月 日


名まえ _____

・ たし算をしましょう。(うすい字はなぞりましょう。)

① $600 + 700 = 1300$

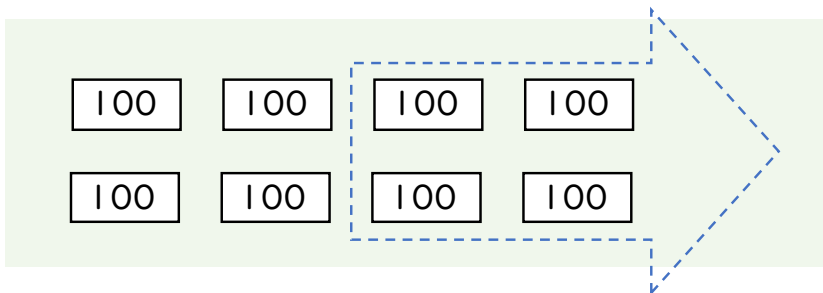


② $400 + 800 = 1200$

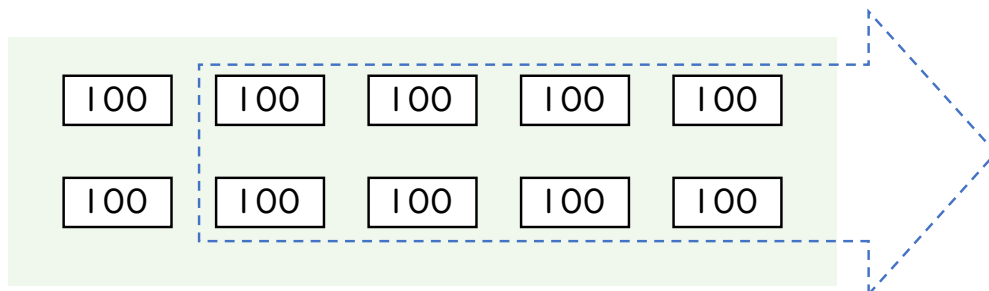


・ ひき算をしましょう。(うすい字はなぞりましょう。)

① $800 - 400 = 400$



② $1000 - 800 = 200$





4けたの数 11

◎ 数百のたし算・ひき算




日にち： 月 日


名まえ _____

・ たし算をしましょう。(うすい字はなぞりましょう。)

① $500 + 600 = 1100$

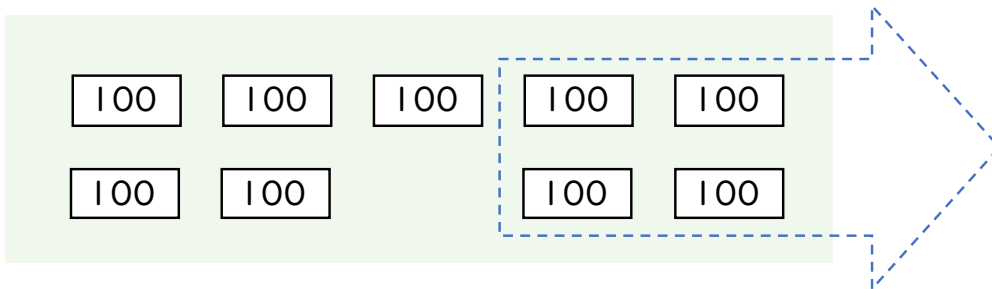


② $300 + 900 = 1200$

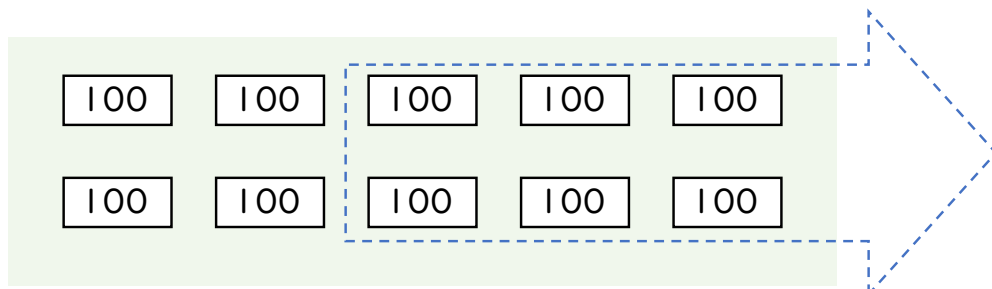


・ ひき算をしましょう。(うすい字はなぞりましょう。)

① $900 - 400 = 500$



② $1000 - 600 = 400$





4けたの数 11

◎ 数百のたし算・ひき算




日にち： 月 日


名まえ _____

・ たし算をしましょう。

① $500 + 900 = 1400$

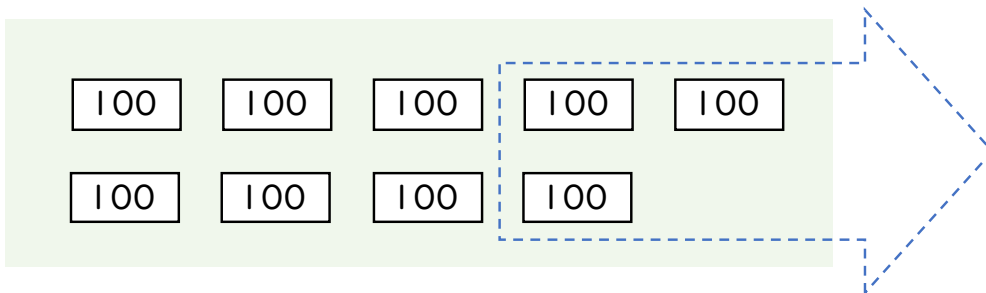


② $300 + 700 = 1000$

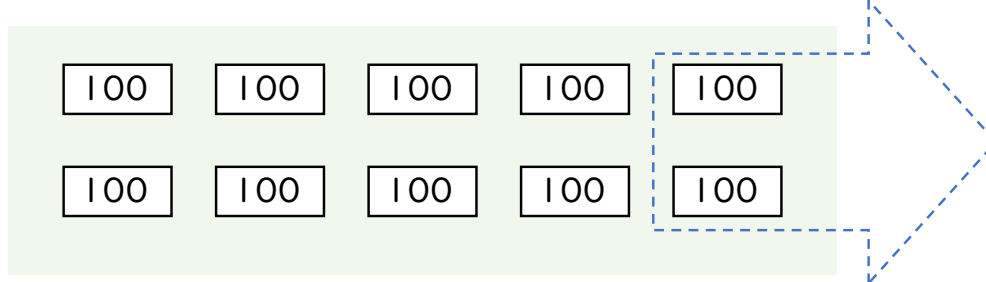


・ ひき算をしましょう。

① $900 - 300 = 600$



② $1000 - 200 = 800$





4けたの数 〇〇

◎ 数百のたし算・ひき算



日にち： 月 日

名まえ _____

・ たし算をしましょう。

① $700 + 900 = 1600$

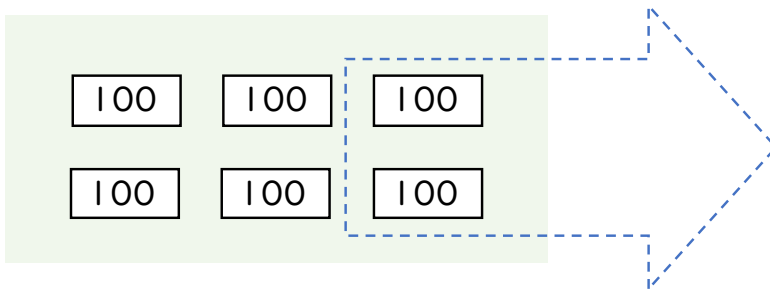


② $800 + 600 = 1400$

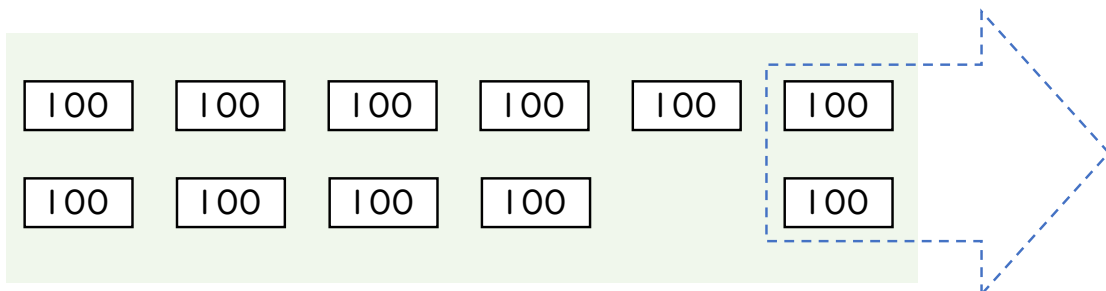


・ ひき算をしましょう。

① $600 - 200 = 400$



② $1100 - 200 = 900$





4けたの数 〇〇

◎ 数百のたし算・ひき算



日にち： 月 日

名まえ _____

・ 計算をしましょう。(うすい字はなぞりましょう。)

$$\textcircled{1} \quad 600 + 300 = 900$$

$$\textcircled{2} \quad 400 + 600 = 1000$$

$$\textcircled{3} \quad 500 + 800 = 1300$$

$$\textcircled{4} \quad 600 + 900 = 1500$$

$$\textcircled{5} \quad 800 - 300 = 500$$

$$\textcircled{6} \quad 700 - 100 = 600$$

$$\textcircled{7} \quad 1000 - 700 = 300$$

$$\textcircled{8} \quad 1300 - 900 = 400$$



4けたの数 00

● 数百のたし算・ひき算



日にち： 月 日

名まえ _____

・ 計算をしましょう。(うすい字はなぞりましょう。)

$$\textcircled{1} \quad 800 + 600 = 1400$$

$$\textcircled{2} \quad 900 + 200 = 1100$$

$$\textcircled{3} \quad 700 + 100 = 800$$

$$\textcircled{4} \quad 500 + 800 = 1300$$

$$\textcircled{5} \quad 700 - 200 = 500$$

$$\textcircled{6} \quad 800 - 500 = 300$$

$$\textcircled{7} \quad 1000 - 600 = 400$$

$$\textcircled{8} \quad 1500 - 800 = 700$$



4けたの数 00

● 数百のたし算・ひき算



日にち： 月 日

名まえ _____

・ 計算をしましょう。

$$\textcircled{1} \quad 200 + 500 = 700$$

$$\textcircled{2} \quad 600 + 900 = 1500$$

$$\textcircled{3} \quad 300 + 800 = 1100$$

$$\textcircled{4} \quad 900 + 100 = 1000$$

$$\textcircled{5} \quad 700 - 300 = 400$$

$$\textcircled{6} \quad 900 - 400 = 500$$

$$\textcircled{7} \quad 1000 - 900 = 100$$

$$\textcircled{8} \quad 1200 - 600 = 600$$





4けたの数 00

● 数百のたし算・ひき算



日にち： 月 日

名まえ _____

・ 計算をしましょう。

$$\textcircled{1} \quad 500 + 600 = 1100$$

$$\textcircled{2} \quad 400 + 800 = 1200$$

$$\textcircled{3} \quad 500 + 900 = 1400$$

$$\textcircled{4} \quad 600 + 200 = 800$$

$$\textcircled{5} \quad 900 - 200 = 700$$

$$\textcircled{6} \quad 600 - 400 = 200$$

$$\textcircled{7} \quad 1000 - 200 = 800$$

$$\textcircled{8} \quad 1300 - 800 = 500$$



4けたの数 00

◎ 数百のたし算・ひき算



日にち： 月 日

名まえ _____

・ 計算をしましょう。

$$\textcircled{1} \quad 400 + 600 = 1000$$

$$\textcircled{2} \quad 300 + 400 = 700$$

$$\textcircled{3} \quad 800 + 600 = 1400$$

$$\textcircled{4} \quad 900 + 900 = 1800$$

$$\textcircled{5} \quad 700 - 300 = 400$$

$$\textcircled{6} \quad 500 - 400 = 100$$

$$\textcircled{7} \quad 1000 - 700 = 300$$

$$\textcircled{8} \quad 1600 - 900 = 700$$



4けたの数 10

◎ 数百のたし算・ひき算



日にち： 月 日

名まえ _____

・ 計算をしましょう。

$$\textcircled{1} \quad 700 + 400 = 1100$$

$$\textcircled{2} \quad 600 - 100 = 500$$

$$\textcircled{3} \quad 600 + 700 = 1300$$

$$\textcircled{4} \quad 1200 - 800 = 400$$

$$\textcircled{5} \quad 900 + 600 = 1500$$

$$\textcircled{6} \quad 1200 - 700 = 500$$

$$\textcircled{7} \quad 800 + 200 = 1000$$

$$\textcircled{8} \quad 900 - 300 = 600$$



4けたの数 〇〇

◎ 数百のたし算・ひき算



日にち： 月 日

名まえ _____

・ 計算をしましょう。

$$\textcircled{1} \quad 900 + 400 = 1300$$

$$\textcircled{2} \quad 800 - 600 = 200$$

$$\textcircled{3} \quad 1000 - 900 = 100$$

$$\textcircled{4} \quad 400 + 700 = 1100$$

$$\textcircled{5} \quad 900 + 500 = 1400$$

$$\textcircled{6} \quad 900 - 300 = 600$$

$$\textcircled{7} \quad 400 + 800 = 1200$$

$$\textcircled{8} \quad 1300 - 500 = 800$$



4けたの数 00

◎ 数百のたし算・ひき算



日にち： 月 日

名まえ _____

・ 計算をしましょう。

$$\textcircled{1} \quad 300 + 200 = 500$$

$$\textcircled{2} \quad 800 - 400 = 400$$

$$\textcircled{3} \quad 800 + 600 = 1400$$

$$\textcircled{4} \quad 700 + 500 = 1200$$

$$\textcircled{5} \quad 1000 - 500 = 500$$

$$\textcircled{6} \quad 600 - 300 = 300$$

$$\textcircled{7} \quad 900 + 800 = 1700$$

$$\textcircled{8} \quad 1400 - 800 = 600$$





4けたの数 00

● 数百のたし算・ひき算



日にち： 月 日

名まえ _____

・ 計算をしましょう。

$$\textcircled{1} \quad 400 + 600 = 1000$$

$$\textcircled{2} \quad 1300 - 800 = 500$$

$$\textcircled{3} \quad 800 + 700 = 1500$$

$$\textcircled{4} \quad 1000 - 300 = 700$$

$$\textcircled{5} \quad 700 + 400 = 1100$$

$$\textcircled{6} \quad 900 - 700 = 200$$

$$\textcircled{7} \quad 800 + 100 = 900$$

$$\textcircled{8} \quad 500 - 400 = 100$$



4けたの数 00

◎ 数百のたし算・ひき算



日にち： 月 日

名まえ _____

・ 計算をしましょう。

$$\textcircled{1} \quad 400 + 700 = 1100$$

$$\textcircled{2} \quad 1600 - 800 = 800$$

$$\textcircled{3} \quad 500 + 700 = 1200$$

$$\textcircled{4} \quad 800 - 200 = 600$$

$$\textcircled{5} \quad 600 + 400 = 1000$$

$$\textcircled{6} \quad 600 - 300 = 300$$

$$\textcircled{7} \quad 900 + 200 = 1100$$

$$\textcircled{8} \quad 1000 - 500 = 500$$



4けたの数 00

● 数百のたし算・ひき算

15

目指せ80点!



名まえ

・ 計算をしましょう。(各20点)

$$\textcircled{1} \quad 600 + 200 = 800$$

$$\textcircled{2} \quad 700 - 200 = 500$$

$$\textcircled{3} \quad 900 + 200 = 1100$$

$$\textcircled{4} \quad 1600 - 700 = 900$$

$$\textcircled{5} \quad 200 + 800 = 1000$$




4けたの数 00

● 数百のたし算・ひき算

16

目指せ80点!



名まえ

・ 計算をしましょう。(各20点)

$$\textcircled{1} \quad 700 + 600 = 1300$$

$$\textcircled{2} \quad 1400 - 700 = 700$$

$$\textcircled{3} \quad 900 + 800 = 1700$$

$$\textcircled{4} \quad 900 - 700 = 200$$

$$\textcircled{5} \quad 1000 - 600 = 400$$