



# 4けたの数 〇〇

◎ 数百のたし算・ひき算

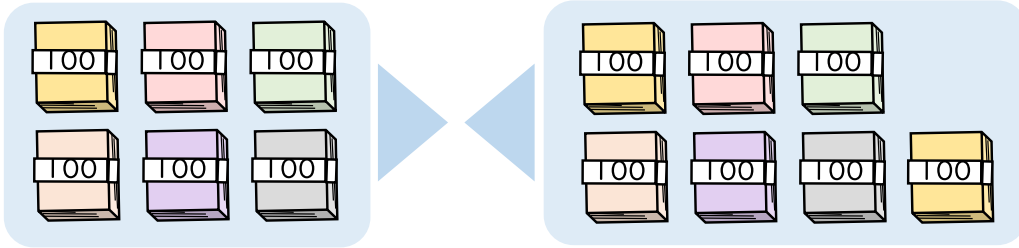


日にち： 月 日

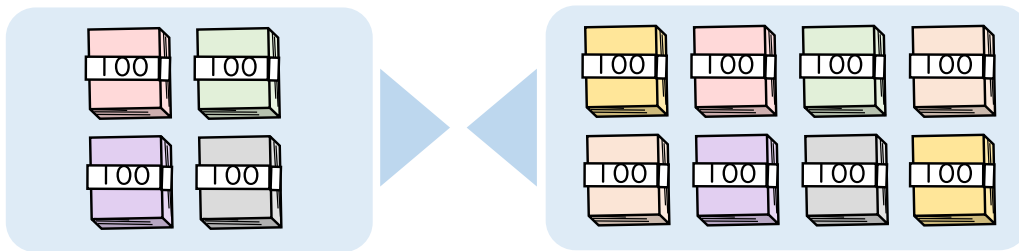
名まえ \_\_\_\_\_

・ たし算をしましょう。(うすい字はなぞりましょう。)

①  $600 + 700 = 1300$

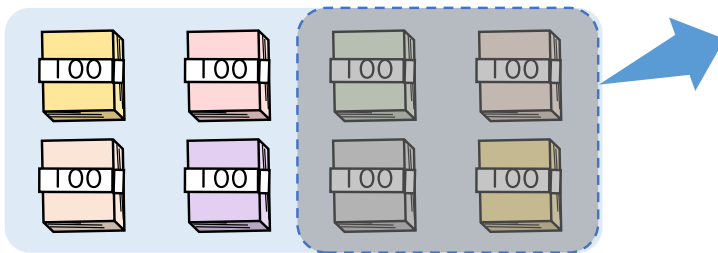


②  $400 + 800 =$

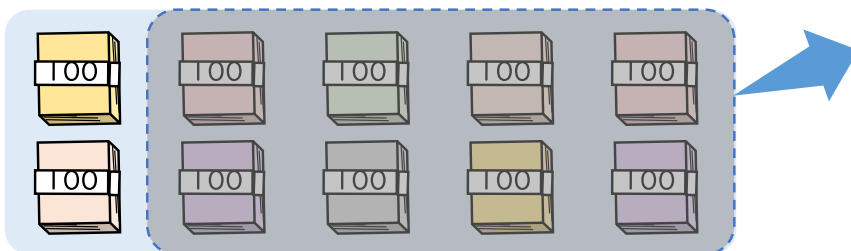


・ ひき算をしましょう。(うすい字はなぞりましょう。)

①  $800 - 400 = 400$



②  $1000 - 800 =$





# 4けたの数 〇〇

◎ 数百のたし算・ひき算

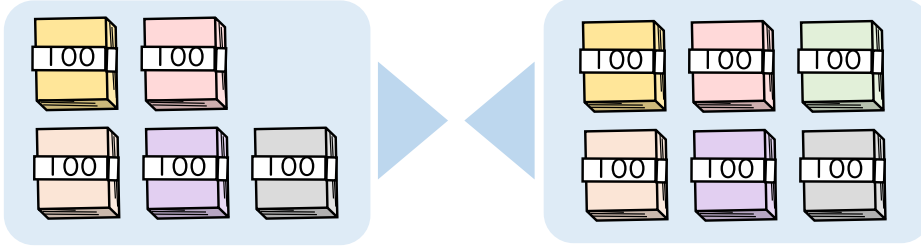


日にち： 月 日

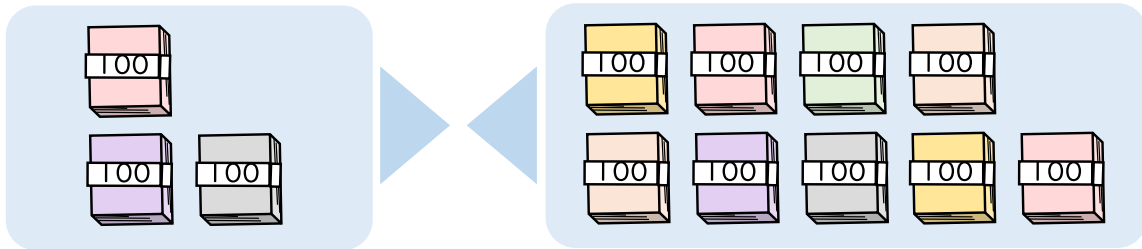
名まえ \_\_\_\_\_

・ たし算をしましょう。(うすい字はなぞりましょう。)

①  $500 + 600 = 1100$

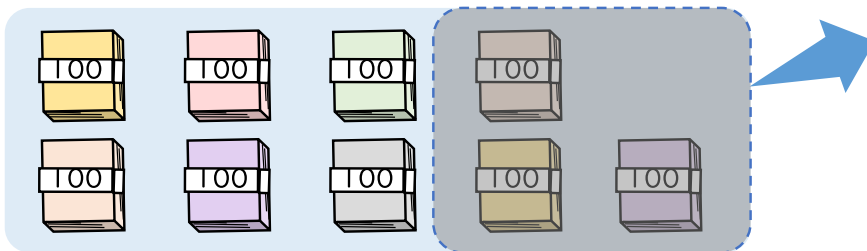


②  $300 + 900 =$

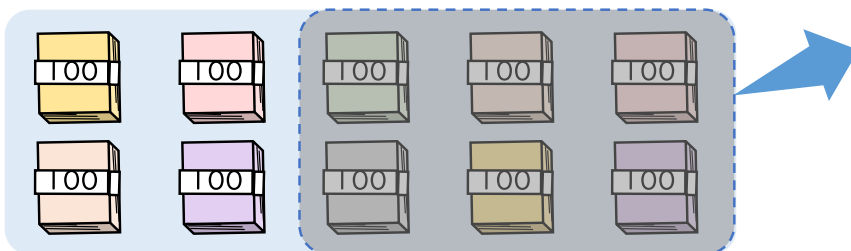


・ ひき算をしましょう。

①  $900 - 300 =$



②  $1000 - 600 =$





# 4けたの数 〇〇

◎ 数百のたし算・ひき算

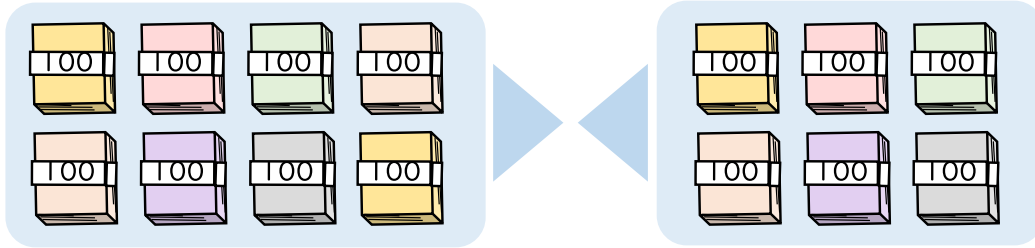


日にち： 月 日

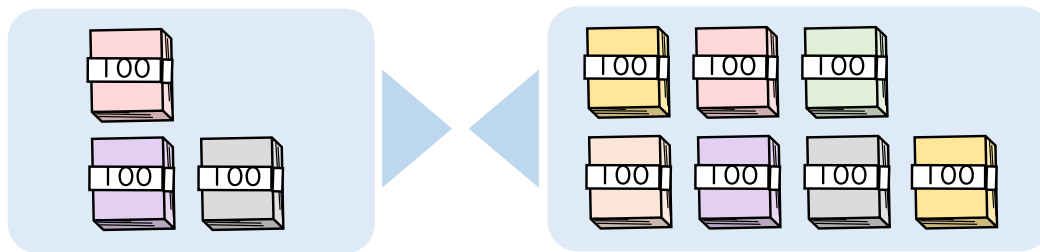
名まえ \_\_\_\_\_

・ たし算をしましょう。

①  $800 + 600 =$

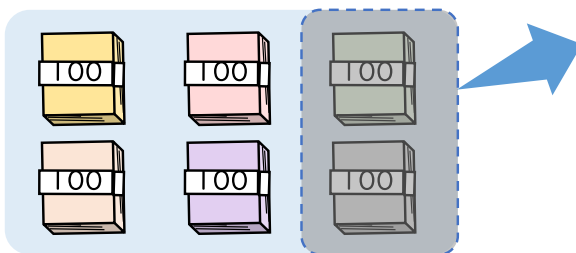


②  $300 + 700 =$

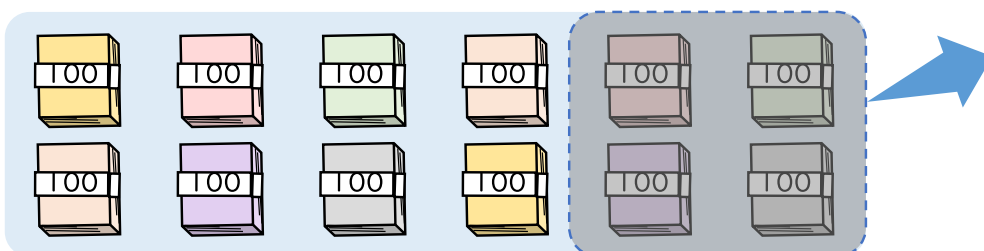


・ ひき算をしましょう。

①  $600 - 200 =$



②  $1200 - 400 =$





# 4けたの数 〇〇

◎ 数百のたし算・ひき算

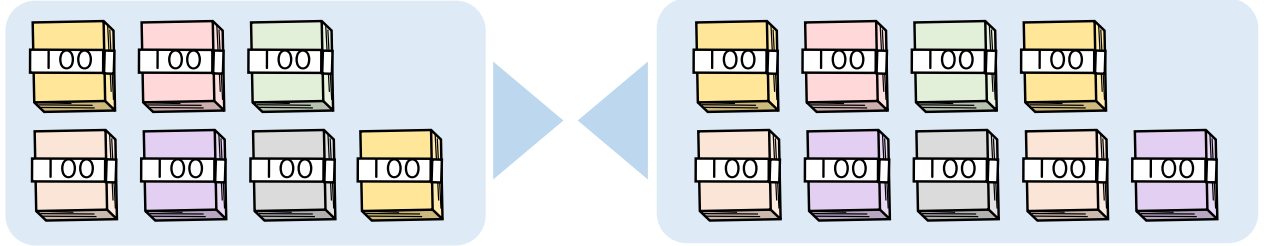


日にち： 月 日

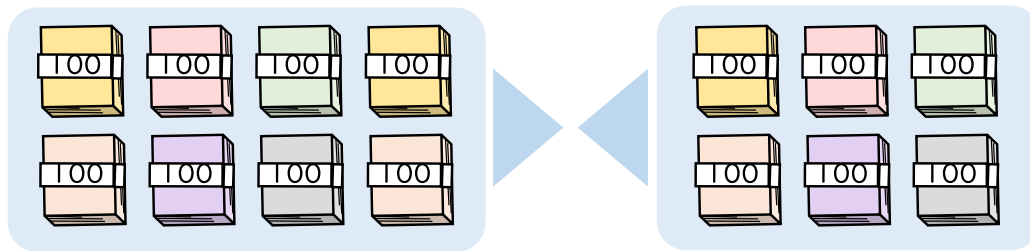
名まえ \_\_\_\_\_

・ たし算をしましょう。

①  $700 + 900 =$




②  $800 + 600 =$

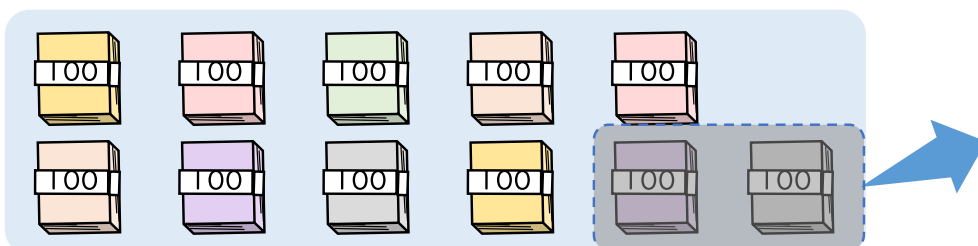


・ ひき算をしましょう。

①  $800 - 100 =$



②  $1100 - 200 =$





## 4けたの数 00

◎ 数百のたし算・ひき算



日にち： 月 日

名まえ \_\_\_\_\_

・ 計算をしましょう。(うすい字はなぞりましょう。)

①  $600 + 300 = 900$

②  $400 + 600 = 1000$

③  $500 + 800 =$

④  $600 + 900 =$

⑤  $800 - 300 = 500$

⑥  $700 - 100 =$

⑦  $1000 - 700 = 300$

⑧  $1300 - 900 =$



## 4けたの数 〇〇

◎ 数百のたし算・ひき算



日にち： 月 日

名まえ \_\_\_\_\_

・ 計算をしましょう。(うすい字はなぞりましょう。)

①  $800 + 600 = 1400$

②  $900 + 200 =$

③  $700 + 100 =$

④  $500 + 800 =$

⑤  $700 - 200 = 500$

⑥  $800 - 500 =$

⑦  $1000 - 600 =$

⑧  $1500 - 800 =$



## 4けたの数 00

◎ 数百のたし算・ひき算



日にち： 月 日

名まえ \_\_\_\_\_

・ 計算をしましょう。

①  $200 + 500 =$

②  $600 + 900 =$

③  $300 + 800 =$

④  $900 + 100 =$

⑤  $700 - 300 =$

⑥  $900 - 400 =$

⑦  $1000 - 900 =$

⑧  $1200 - 600 =$



## 4けたの数 〇〇

◎ 数百のたし算・ひき算



日にち： 月 日

名まえ \_\_\_\_\_

・ 計算をしましょう。

①  $500 + 600 =$

②  $400 + 800 =$

③  $500 + 900 =$

④  $600 + 200 =$

⑤  $900 - 200 =$

⑥  $600 - 400 =$

⑦  $1000 - 200 =$

⑧  $1300 - 800 =$





## 4けたの数 〇〇

◎ 数百のたし算・ひき算



日にち： 月 日

名まえ \_\_\_\_\_

・ 計算をしましょう。

①  $400 + 600 =$

②  $300 + 400 =$

③  $800 + 600 =$

④  $900 + 900 =$

⑤  $700 - 300 =$

⑥  $500 - 400 =$

⑦  $1000 - 700 =$

⑧  $1600 - 900 =$



## 4けたの数 〇〇

◎ 数百のたし算・ひき算



日にち：      月      日

名まえ \_\_\_\_\_

・ 計算をしましょう。

①  $700 + 400 =$

②  $600 - 100 =$

③  $600 + 700 =$

④  $1200 - 800 =$

⑤  $900 + 600 =$

⑥  $1200 - 700 =$

⑦  $800 + 200 =$

⑧  $900 - 300 =$



## 4けたの数 〇〇

◎ 数百のたし算・ひき算



日にち： 月 日

名まえ \_\_\_\_\_

・ 計算をしましょう。

①  $900 + 400 =$

②  $800 - 600 =$

③  $1000 - 900 =$

④  $400 + 700 =$

⑤  $900 + 500 =$

⑥  $900 - 300 =$

⑦  $400 + 800 =$

⑧  $1300 - 500 =$



## 4けたの数 00

◎ 数百のたし算・ひき算



日にち： 月 日

名まえ \_\_\_\_\_

・ 計算をしましょう。

①  $300 + 200 =$

②  $800 - 400 =$

③  $800 + 600 =$

④  $700 + 500 =$

⑤  $1000 - 500 =$

⑥  $600 - 300 =$

⑦  $900 + 800 =$

⑧  $1400 - 800 =$



## 4けたの数 00

◎ 数百のたし算・ひき算

13

日にち： 月 日

名まえ \_\_\_\_\_

・ 計算をしましょう。

①  $400 + 600 =$

②  $1300 - 800 =$

③  $800 + 700 =$

④  $1000 - 300 =$

⑤  $700 + 400 =$

⑥  $900 - 700 =$

⑦  $800 + 100 =$

⑧  $500 - 400 =$



## 4けたの数 00

◎ 数百のたし算・ひき算



日にち： 月 日

名まえ \_\_\_\_\_

・ 計算をしましょう。

①  $400 + 700 =$

②  $1600 - 800 =$

③  $500 + 700 =$

④  $800 - 200 =$

⑤  $600 + 400 =$

⑥  $600 - 300 =$

⑦  $900 + 200 =$

⑧  $1000 - 500 =$



## 4けたの数 00

◎ 数百のたし算・ひき算

15

目指せ80点!



名まえ

---

・ 計算をしましょう。(各20点)

①  $600 + 200 =$

②  $700 - 200 =$

③  $900 + 200 =$

④  $1600 - 700 =$

⑤  $200 + 800 =$




## 4けたの数 00

● 数百のたし算・ひき算

16

目指せ80点!



名まえ

---

・ 計算をしましょう。(各20点)

①  $700 + 600 =$

②  $1400 - 700 =$

③  $900 + 800 =$

④  $900 - 700 =$

⑤  $1000 - 600 =$





# 4けたの数 00

● 数百のたし算・ひき算

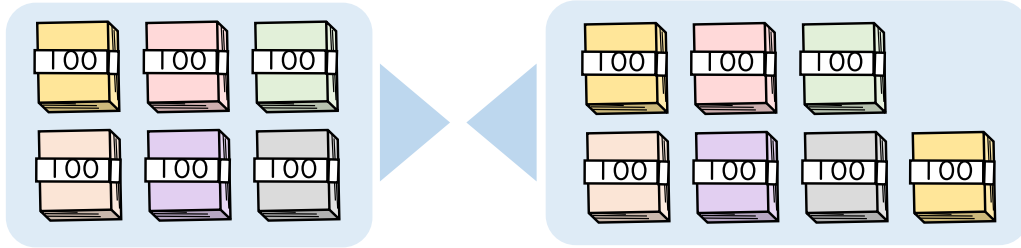


日にち： 月 日

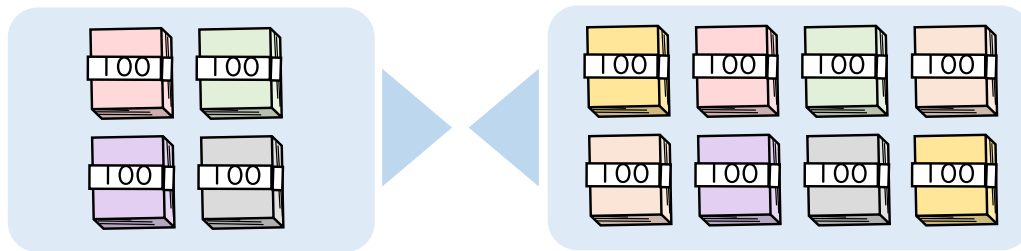
名まえ \_\_\_\_\_

・ たし算をしましょう。(うすい字はなぞりましょう。)

$$\textcircled{1} \quad 600 + 700 = 1300$$

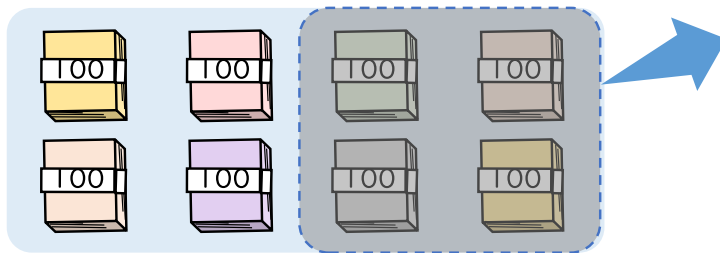


$$\textcircled{2} \quad 400 + 800 = 1200$$



・ ひき算をしましょう。(うすい字はなぞりましょう。)

$$\textcircled{1} \quad 800 - 400 = 400$$



$$\textcircled{2} \quad 1000 - 800 = 200$$





# 4けたの数 00

● 数百のたし算・ひき算

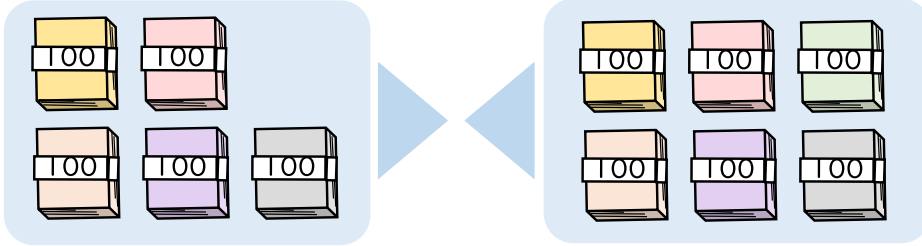


日にち： 月 日

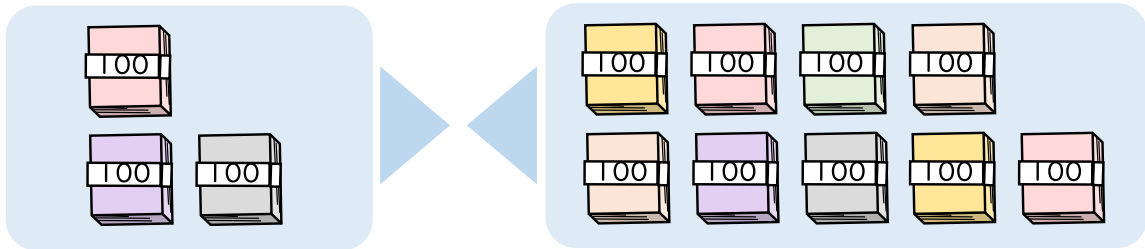
名まえ \_\_\_\_\_

・ たし算をしましょう。(うすい字はなぞりましょう。)

①  $500 + 600 = 1100$

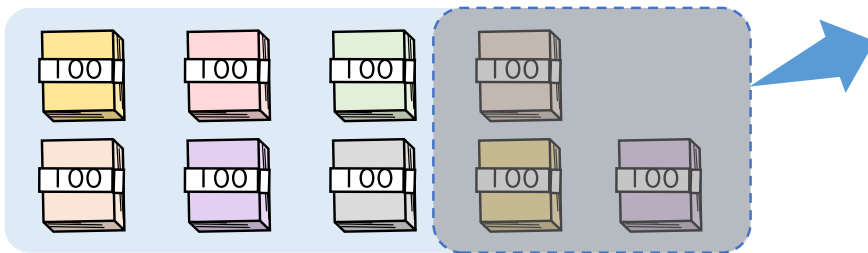


②  $300 + 900 = 1200$

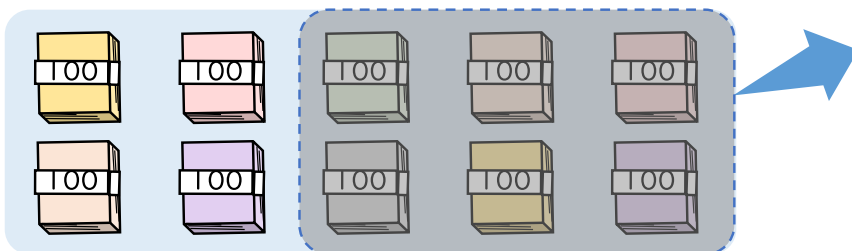


・ ひき算をしましょう。

①  $900 - 300 = 600$



②  $1000 - 600 = 400$





# 4けたの数 〇〇

◎ 数百のたし算・ひき算

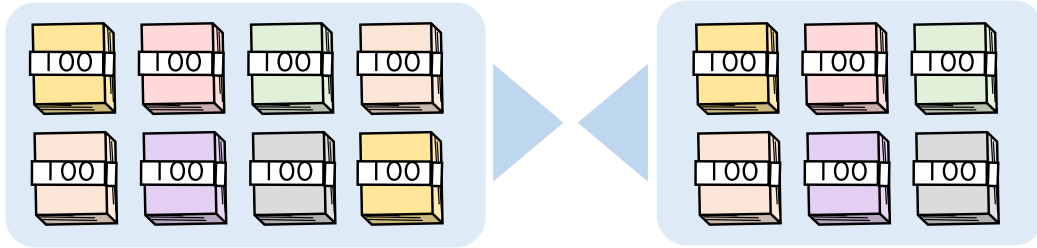


日にち： 月 日

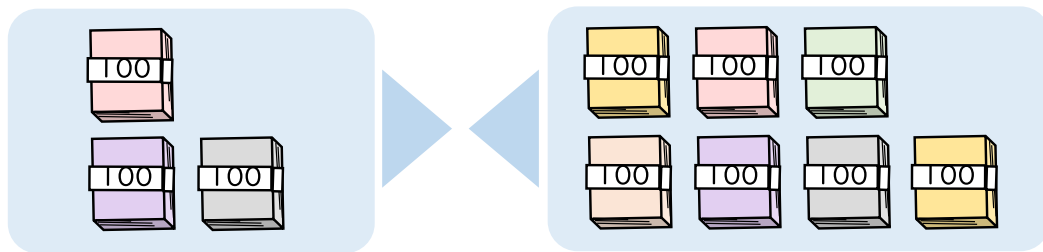
名まえ \_\_\_\_\_

・ たし算をしましょう。

①  $800 + 600 = 1400$

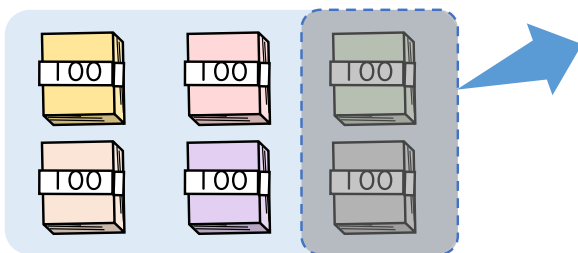


②  $300 + 700 = 1000$

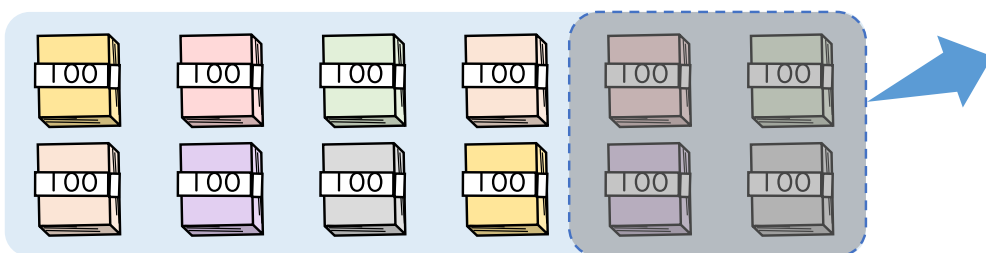


・ ひき算をしましょう。

①  $600 - 200 = 400$



②  $1200 - 400 = 800$





# 4けたの数 00

◎ 数百のたし算・ひき算

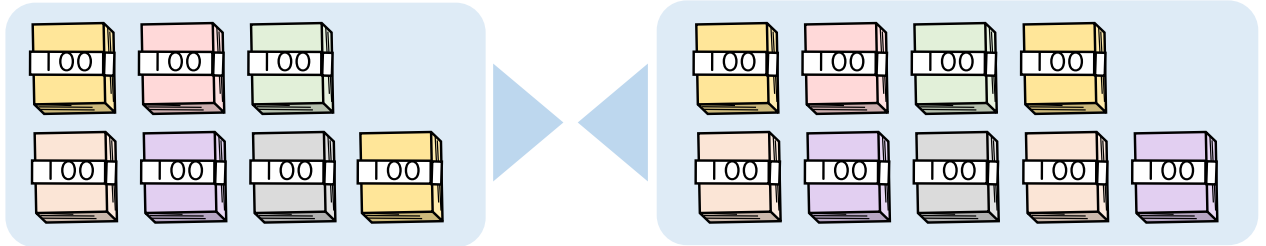


日にち： 月 日

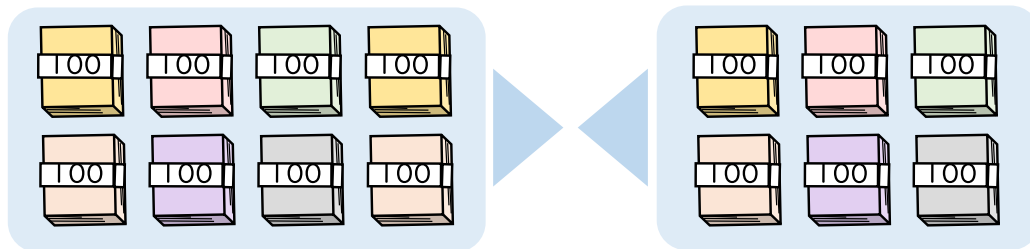
名まえ \_\_\_\_\_

・ たし算をしましょう。

$$\textcircled{1} \quad 700 + 900 = 1600$$

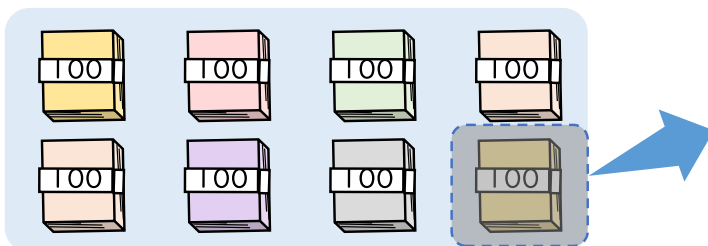


$$\textcircled{2} \quad 800 + 600 = 1400$$

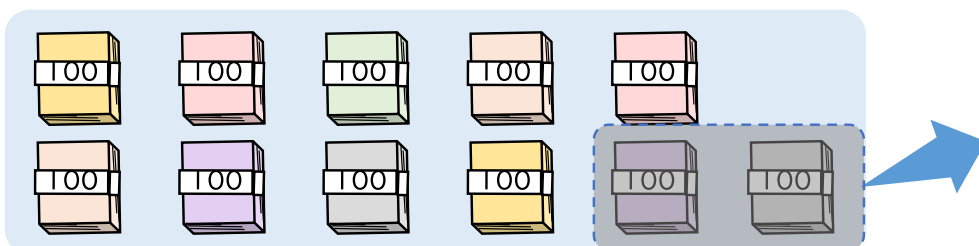


・ ひき算をしましょう。

$$\textcircled{1} \quad 800 - 100 = 700$$



$$\textcircled{2} \quad 1100 - 200 = 900$$





## 4けたの数 〇〇

◎ 数百のたし算・ひき算



日にち： 月 日

名まえ \_\_\_\_\_

・ 計算をしましょう。(うすい字はなぞりましょう。)

$$\textcircled{1} \quad 600 + 300 = 900$$

$$\textcircled{2} \quad 400 + 600 = 1000$$

$$\textcircled{3} \quad 500 + 800 = 1300$$

$$\textcircled{4} \quad 600 + 900 = 1500$$

$$\textcircled{5} \quad 800 - 300 = 500$$

$$\textcircled{6} \quad 700 - 100 = 600$$

$$\textcircled{7} \quad 1000 - 700 = 300$$

$$\textcircled{8} \quad 1300 - 900 = 400$$





## 4けたの数 00

● 数百のたし算・ひき算



日にち： 月 日

名まえ \_\_\_\_\_

・ 計算をしましょう。(うすい字はなぞりましょう。)

$$\textcircled{1} \quad 800 + 600 = 1400$$

$$\textcircled{2} \quad 900 + 200 = 1100$$

$$\textcircled{3} \quad 700 + 100 = 800$$

$$\textcircled{4} \quad 500 + 800 = 1300$$

$$\textcircled{5} \quad 700 - 200 = 500$$

$$\textcircled{6} \quad 800 - 500 = 300$$

$$\textcircled{7} \quad 1000 - 600 = 400$$

$$\textcircled{8} \quad 1500 - 800 = 700$$



## 4けたの数 00

● 数百のたし算・ひき算



日にち： 月 日

名まえ \_\_\_\_\_

・ 計算をしましょう。

$$\textcircled{1} \quad 200 + 500 = 700$$

$$\textcircled{2} \quad 600 + 900 = 1500$$

$$\textcircled{3} \quad 300 + 800 = 1100$$

$$\textcircled{4} \quad 900 + 100 = 1000$$

$$\textcircled{5} \quad 700 - 300 = 400$$

$$\textcircled{6} \quad 900 - 400 = 500$$

$$\textcircled{7} \quad 1000 - 900 = 100$$

$$\textcircled{8} \quad 1200 - 600 = 600$$



## 4けたの数 00

◎ 数百のたし算・ひき算



日にち： 月 日

名まえ \_\_\_\_\_

・ 計算をしましょう。

$$\textcircled{1} \quad 500 + 600 = 1100$$

$$\textcircled{2} \quad 400 + 800 = 1200$$

$$\textcircled{3} \quad 500 + 900 = 1400$$

$$\textcircled{4} \quad 600 + 200 = 800$$

$$\textcircled{5} \quad 900 - 200 = 700$$

$$\textcircled{6} \quad 600 - 400 = 200$$

$$\textcircled{7} \quad 1000 - 200 = 800$$

$$\textcircled{8} \quad 1300 - 800 = 500$$





## 4けたの数 00

● 数百のたし算・ひき算



日にち： 月 日

名まえ \_\_\_\_\_

・ 計算をしましょう。

$$\textcircled{1} \quad 400 + 600 = 1000$$

$$\textcircled{2} \quad 300 + 400 = 700$$

$$\textcircled{3} \quad 800 + 600 = 1400$$

$$\textcircled{4} \quad 900 + 900 = 1800$$

$$\textcircled{5} \quad 700 - 300 = 400$$

$$\textcircled{6} \quad 500 - 400 = 100$$

$$\textcircled{7} \quad 1000 - 700 = 300$$

$$\textcircled{8} \quad 1600 - 900 = 700$$





## 4けたの数 10

◎ 数百のたし算・ひき算



日にち： 月 日

名まえ \_\_\_\_\_

・ 計算をしましょう。

$$\textcircled{1} \quad 700 + 400 = 1100$$

$$\textcircled{2} \quad 600 - 100 = 500$$

$$\textcircled{3} \quad 600 + 700 = 1300$$

$$\textcircled{4} \quad 1200 - 800 = 400$$

$$\textcircled{5} \quad 900 + 600 = 1500$$

$$\textcircled{6} \quad 1200 - 700 = 500$$

$$\textcircled{7} \quad 800 + 200 = 1000$$

$$\textcircled{8} \quad 900 - 300 = 600$$



## 4けたの数 〇〇

◎ 数百のたし算・ひき算



日にち：      月      日

名まえ \_\_\_\_\_

・ 計算をしましょう。

$$\textcircled{1} \quad 900 + 400 = 1300$$

$$\textcircled{2} \quad 800 - 600 = 200$$

$$\textcircled{3} \quad 1000 - 900 = 100$$

$$\textcircled{4} \quad 400 + 700 = 1100$$

$$\textcircled{5} \quad 900 + 500 = 1400$$

$$\textcircled{6} \quad 900 - 300 = 600$$

$$\textcircled{7} \quad 400 + 800 = 1200$$

$$\textcircled{8} \quad 1300 - 500 = 800$$



## 4けたの数 00

◎ 数百のたし算・ひき算

12

日にち： 月 日

名まえ \_\_\_\_\_

・ 計算をしましょう。

$$\textcircled{1} \quad 300 + 200 = 500$$

$$\textcircled{2} \quad 800 - 400 = 400$$

$$\textcircled{3} \quad 800 + 600 = 1400$$

$$\textcircled{4} \quad 700 + 500 = 1200$$

$$\textcircled{5} \quad 1000 - 500 = 500$$

$$\textcircled{6} \quad 600 - 300 = 300$$

$$\textcircled{7} \quad 900 + 800 = 1700$$

$$\textcircled{8} \quad 1400 - 800 = 600$$



## 4けたの数 00

● 数百のたし算・ひき算

13

日にち： 月 日

名まえ \_\_\_\_\_

・ 計算をしましょう。

$$\textcircled{1} \quad 400 + 600 = 1000$$

$$\textcircled{2} \quad 1300 - 800 = 500$$

$$\textcircled{3} \quad 800 + 700 = 1500$$

$$\textcircled{4} \quad 1000 - 300 = 700$$

$$\textcircled{5} \quad 700 + 400 = 1100$$

$$\textcircled{6} \quad 900 - 700 = 200$$

$$\textcircled{7} \quad 800 + 100 = 900$$

$$\textcircled{8} \quad 500 - 400 = 100$$



## 4けたの数 00

◎ 数百のたし算・ひき算



日にち： 月 日

名まえ \_\_\_\_\_

・ 計算をしましょう。

$$\textcircled{1} \quad 400 + 700 = 1100$$

$$\textcircled{2} \quad 1600 - 800 = 800$$

$$\textcircled{3} \quad 500 + 700 = 1200$$

$$\textcircled{4} \quad 800 - 200 = 600$$

$$\textcircled{5} \quad 600 + 400 = 1000$$

$$\textcircled{6} \quad 600 - 300 = 300$$

$$\textcircled{7} \quad 900 + 200 = 1100$$

$$\textcircled{8} \quad 1000 - 500 = 500$$



## 4けたの数 00

● 数百のたし算・ひき算

15

目指せ80点!



名まえ

---

・ 計算をしましょう。(各20点)

$$\textcircled{1} \quad 600 + 200 = 800$$

$$\textcircled{2} \quad 700 - 200 = 500$$

$$\textcircled{3} \quad 900 + 200 = 1100$$

$$\textcircled{4} \quad 1600 - 700 = 900$$

$$\textcircled{5} \quad 200 + 800 = 1000$$



## 4けたの数 00

● 数百のたし算・ひき算

16

目指せ80点!



名まえ

・ 計算をしましょう。(各20点)

$$\textcircled{1} \quad 700 + 600 = 1300$$

$$\textcircled{2} \quad 1400 - 700 = 700$$

$$\textcircled{3} \quad 900 + 800 = 1700$$

$$\textcircled{4} \quad 900 - 700 = 200$$

$$\textcircled{5} \quad 1000 - 600 = 400$$