



# 4けたの数 14

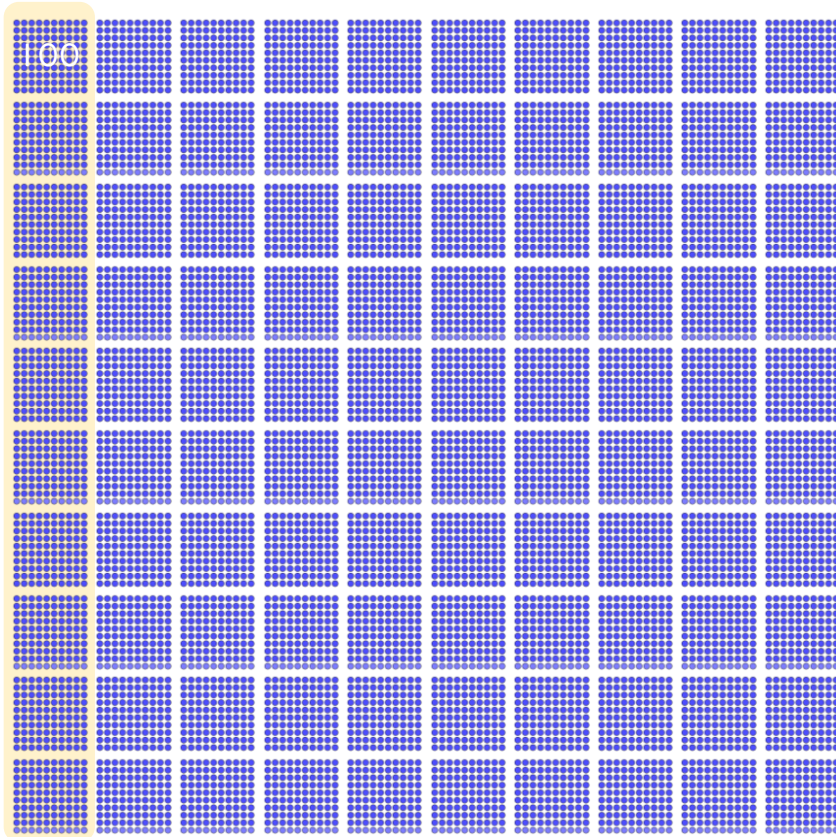
● 一万とは



日にち： 月 日

名まえ \_\_\_\_\_

・ 図を見てこたえましょう。(うすい字はなぞりましょう。)



1000

千を10こあつめた数を

一万 といひ、

10000 と書きます。



10000は、

100を 100 こ

あつめた数です。

① 1000のあつまりは何こありますか

( 10 こ )

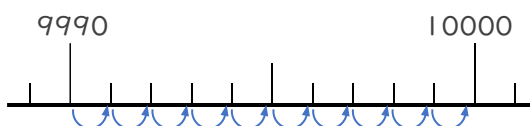
② <sup>ビーズ</sup>●は何こありますか。

(                      こ )

③ 9000は、あといくつで10000になりますか。

( 1000 )

④ 9990は、あといくつで10000になりますか。



( 10 )





# 4けたの数 14

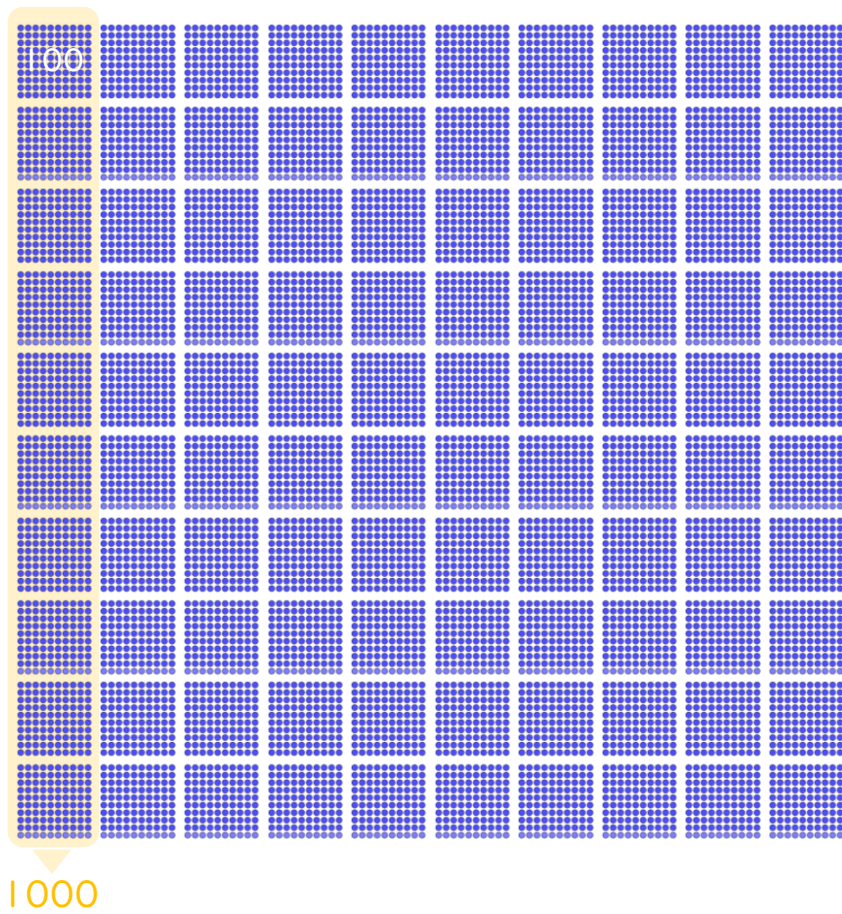
● 一万とは



日にち： 月 日

名まえ \_\_\_\_\_

・ 図を見てこたえましょう。(うすい字はなぞりましょう。)



千を10こあつめた数を

といい、

と書きます。



10000は、

100を  こ

あつめた数です。

① 1000のあつまりは何こありますか

(  こ )

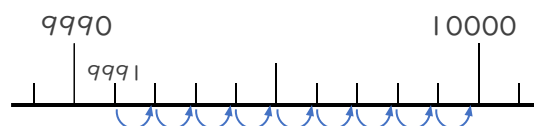
② <sup>ビーズ</sup> ●は何こありますか。

(  こ )

③ 9000は、あといくつで10000になりますか。

(  )

④ 9991は、あといくつで10000になりますか。



(  )





# 4けたの数 14

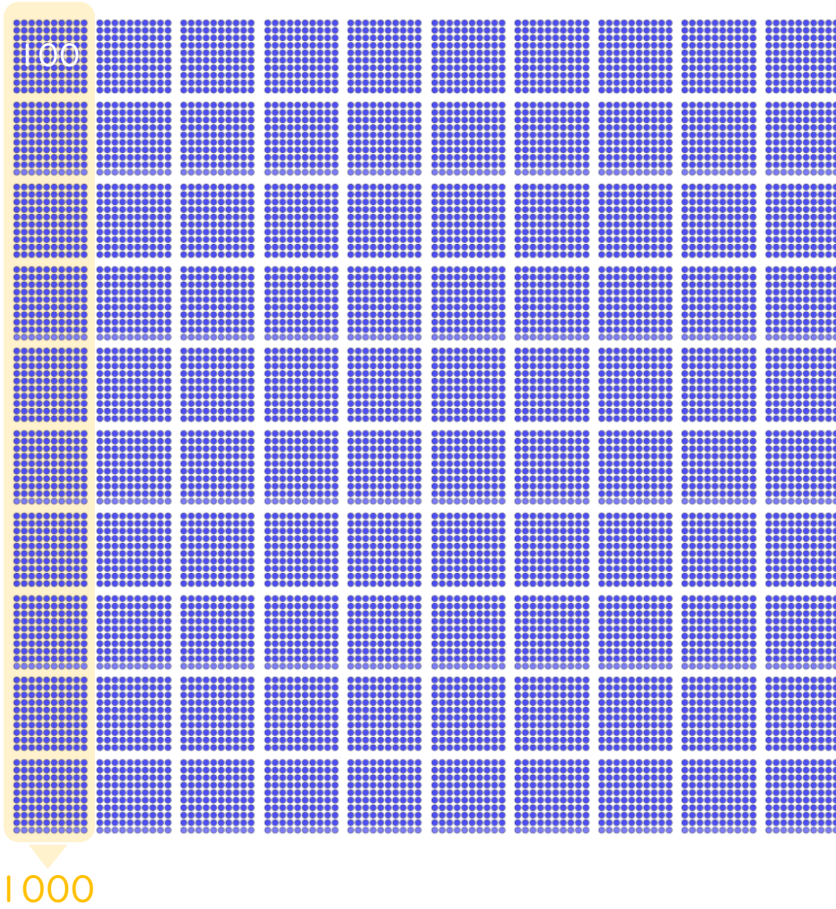
● 一万とは



日にち： 月 日

名まえ \_\_\_\_\_

・ 図を見てこたえましょう。(うすい字はなぞりましょう。)



千を10こあつめた数を

といい、

と書きます。



10000は、

100を

こ

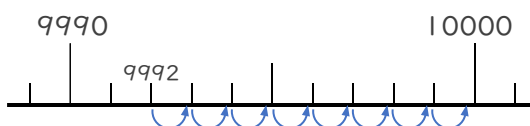
あつめた数です。

① 1000のあつまりは何こありますか

② <sup>ビーズ</sup>●は何こありますか。

③ 9000は、あといくつで10000になりますか。

④ 9992は、あといくつで10000になりますか。





# 4けたの数 14

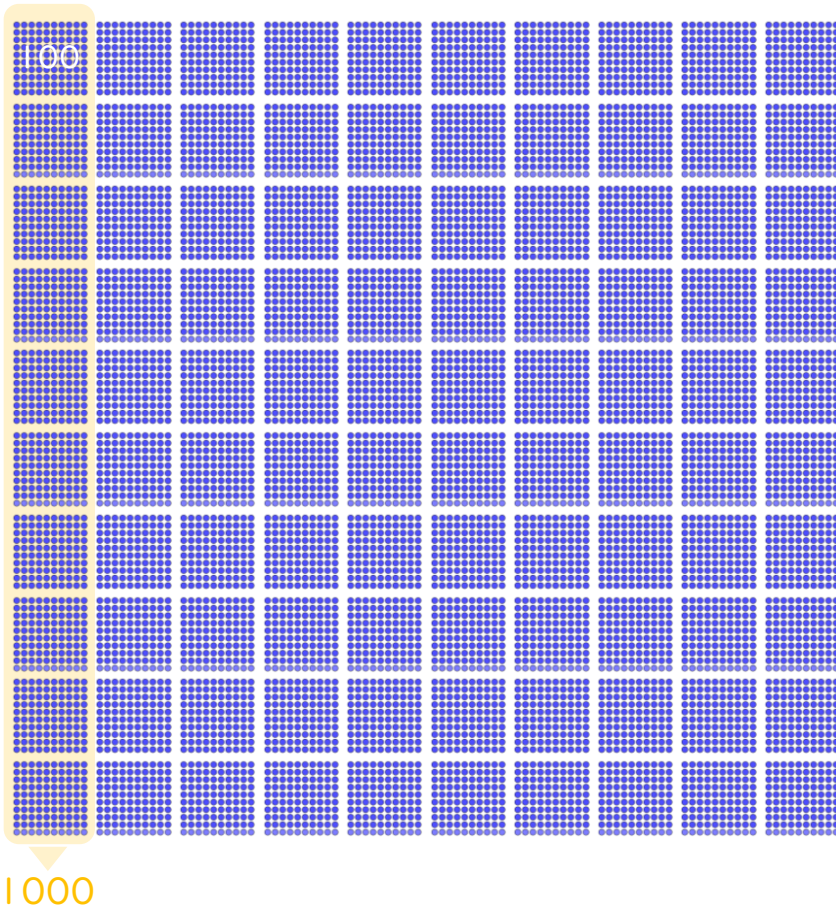
● 一万とは



日にち： 月 日

名まえ \_\_\_\_\_

・ 図を見てこたえましょう。



千を10こあつめた数を

といい、

と書きます。



10000は、

100を  こ

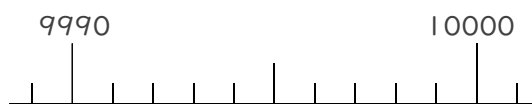
あつめた数です。

① 1000のあつまりは何こありますか

② <sup>ビーズ</sup>●は何こありますか。

③ 9000は、あといくつで10000になりますか。

④ 9990は、あといくつで10000になりますか。





# 4けたの数 14

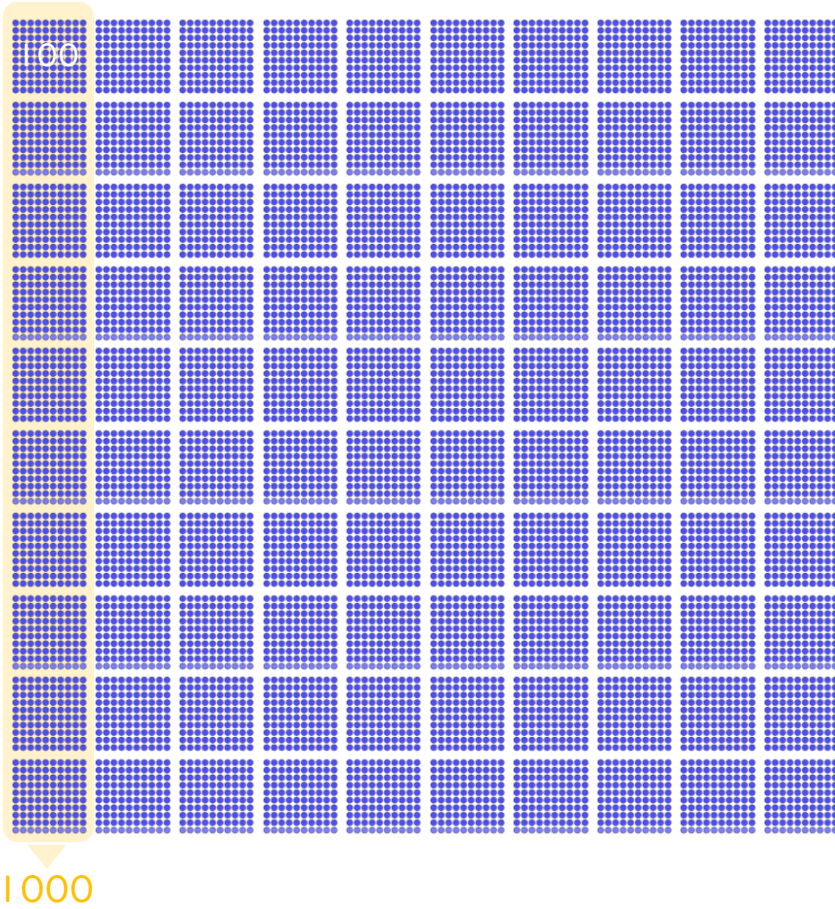
● 一万とは



日にち： 月 日

名まえ \_\_\_\_\_

・ 図を見てこたえましょう。(うすい字はなぞりましょう。)



千を10こあつめた数を

**一万** といい、

**10000** と書きます。



10000は、

100を **100** こ

あつめた数です。

① 1000のあつまりは何こありますか

( **10** こ )

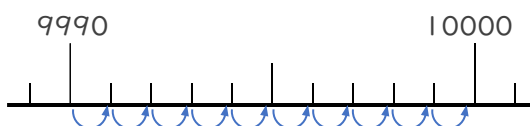
② <sup>ビーズ</sup> ●は何こありますか。

( **10000** こ )

③ 9000は、あといくつで10000になりますか。

( **1000** )

④ 9990は、あといくつで10000になりますか。



( **10** )







# 4けたの数 14

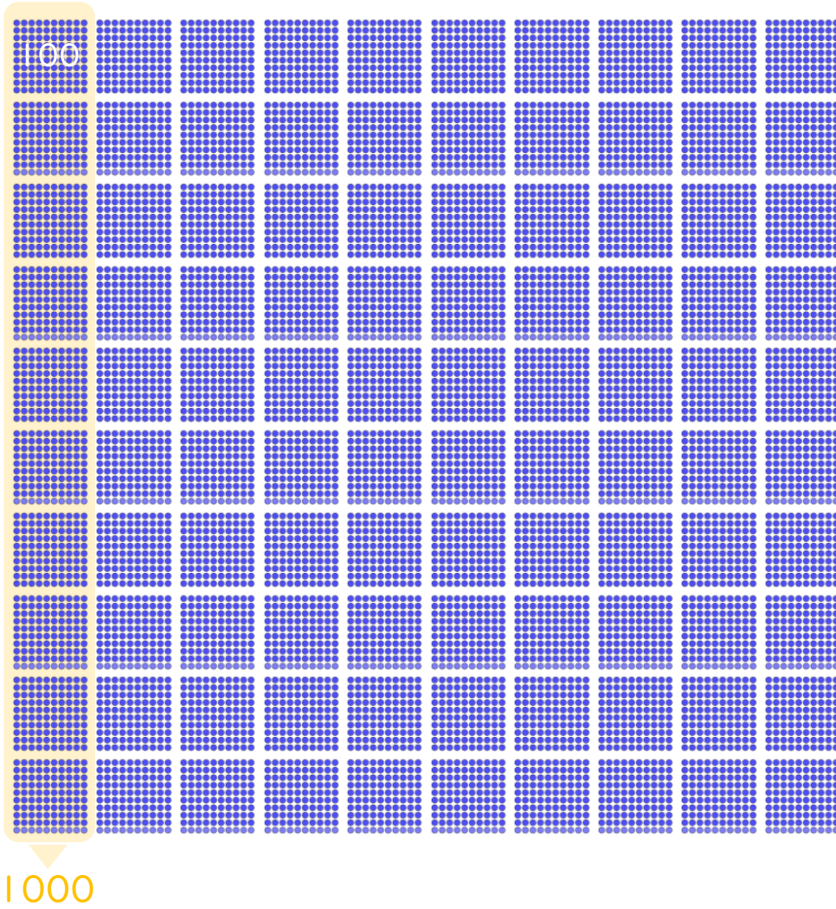
● 一万とは



日にち：            月            日

名まえ \_\_\_\_\_

・ 図を見てこたえましょう。(うすい字はなぞりましょう。)



千を10こあつめた数を

**一万** といい、

**10000** と書きます。



10000は、

100を **100** こ

あつめた数です。

① 1000のあつまりは何こありますか

[ **10** こ ]

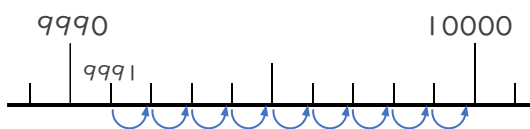
② <sup>ビーズ</sup> ●は何こありますか。

[ **10000** こ ]

③ 9000は、あといくつで10000になりますか。

[ **1000** ]

④ 9991は、あといくつで10000になりますか。



[ **9** ]





# 4けたの数 14

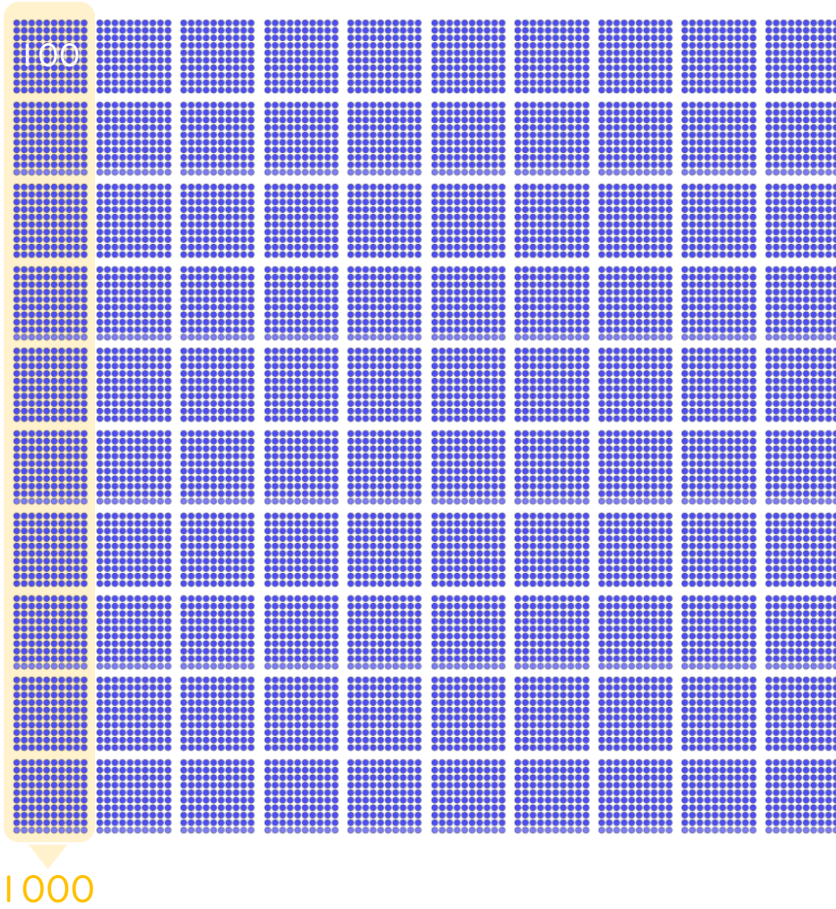
● 一万とは



日にち： 月 日

名まえ \_\_\_\_\_

・ 図を見てこたえましょう。(うすい字はなぞりましょう。)



千を10こあつめた数を

**一万** といい、

**10000** と書きます。



10000は、

100を **100** こ

あつめた数です。

① 1000のあつまりは何こありますか

[ **10** こ ]

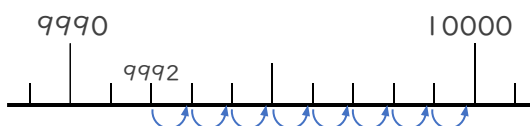
② <sup>ビーズ</sup> ●は何こありますか。

[ **10000** こ ]

③ 9000は、あといくつで10000になりますか。

[ **1000** ]

④ 9992は、あといくつで10000になりますか。



[ **8** ]





# 4けたの数 14

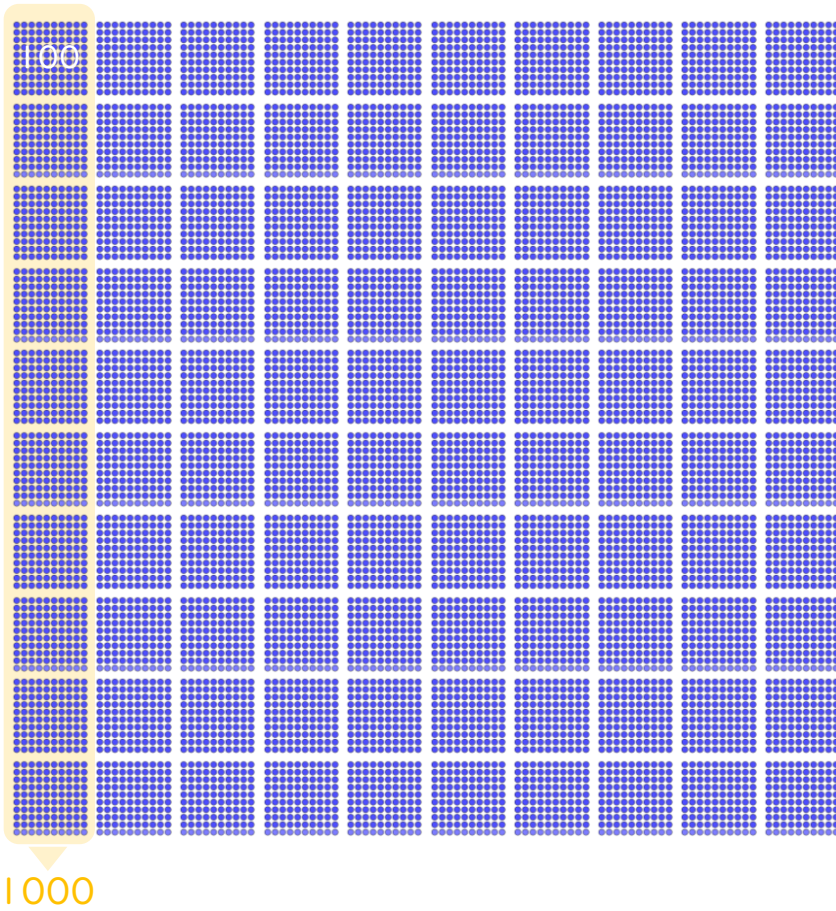
● 一万とは



日にち： 月 日

名まえ \_\_\_\_\_

・ 図を見てこたえましょう。



千を10こあつめた数を

**一万** といい、

**10000** と書きます。



10000は、

100を **100** こ

あつめた数です。

① 1000のあつまりは何こありますか

( **10** こ )

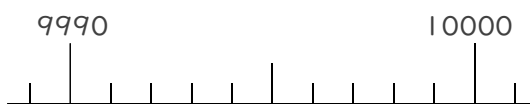
② <sup>ビーズ</sup> ●は何こありますか。

( **10000** こ )

③ 9000は、あといくつで10000になりますか。

( **1000** )

④ 9990は、あといくつで10000になりますか。



( **10** )

