



4けたの数4

●色紙のまい数を
数字であらわそう

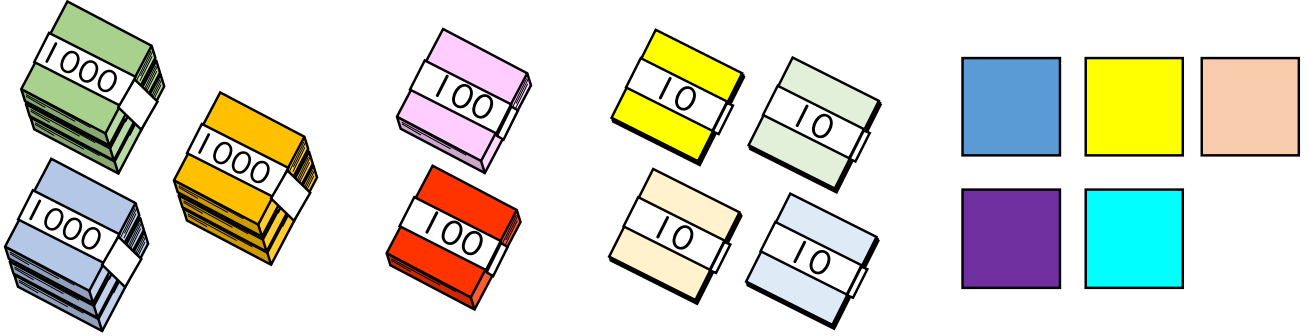


日にち： 月 日

名まえ _____

・色紙の数を 数字で書きましょう。(うすい字はなぞりましょう。)

①



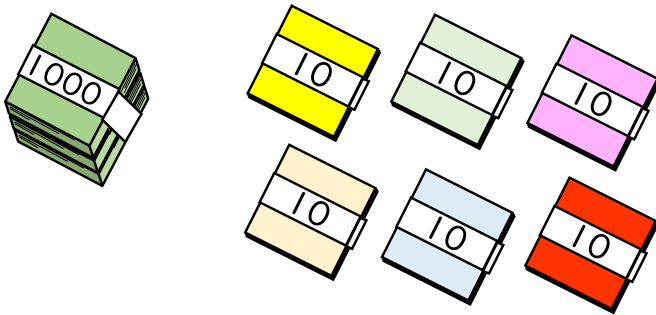
千	百	十	一
3	2	4	5

それぞれのたばの数を
表に入れてみよう!



{ さい }

②



千	百	十	一
1	0	6	0

{ さい }





4けたの数 4

● 色紙のまい数を
数字であらわそう

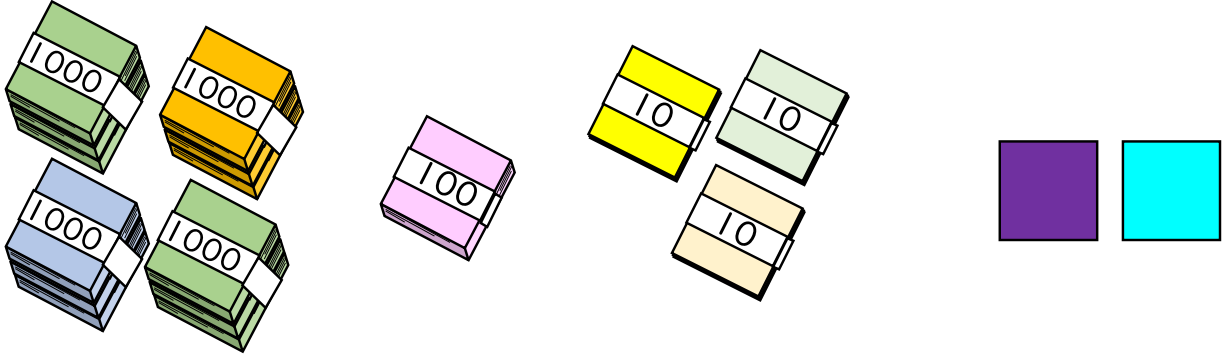


日にち： 月 日

名まえ _____

・ 色紙の 数 を 数字 で 書 き ま し ょ う 。 (うすい字はなぞりましよう。)

①



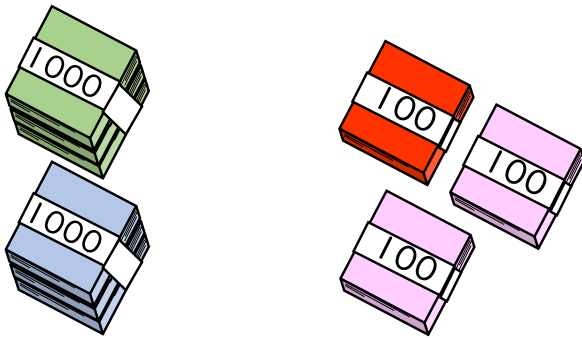
千	百	十	一
4	1	3	2

それぞれの たばの 数を
表に 入れて みよう！



まい

②



千	百	十	一
2	3		

まい





4けたの数 4

● 色紙のまい数を
数字であらわそう


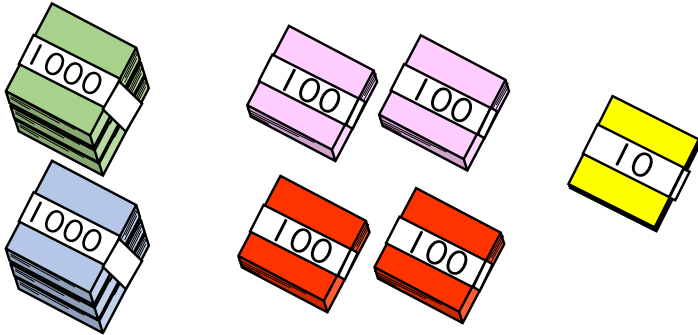


日にち： 月 日

名まえ _____

・ 色紙の 数 を 数字 で 書 き ま し ょ う 。 (うすい字はなぞりましょう。)

①





千	百	十	一
2			

それぞれの たばの 数を
表 に 入 れ て み よ う !



{ まい }

②



千	百	十	一

{ まい }

③ 確認





4けたの数 4

● 色紙のまい数を
数字であらわそう




日にち： 月 日

名まえ _____

・ 色紙の 数 を 数字 で 書 き ま し ょ う 。 (うすい字はなぞりましょう。)

①





千	百	十	一

それぞれの たばの 数を
表に 入れて みよう！



{ まい }

②



千	百	十	一

{ まい }





4けたの数4




◎色紙のまい数を
数字であらわそう

日にち： 月 日

名まえ


・色紙の数を 数字 で書きましょう。 (うすい字はなぞりましょう。)

①




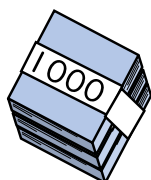
(3 1 3 1 まい)

②



(まい)

③



(まい)





4けたの数 4

● 色紙のまい数を
数字であらわそう


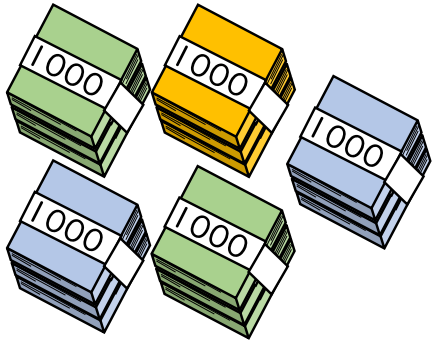


日にち： 月 日


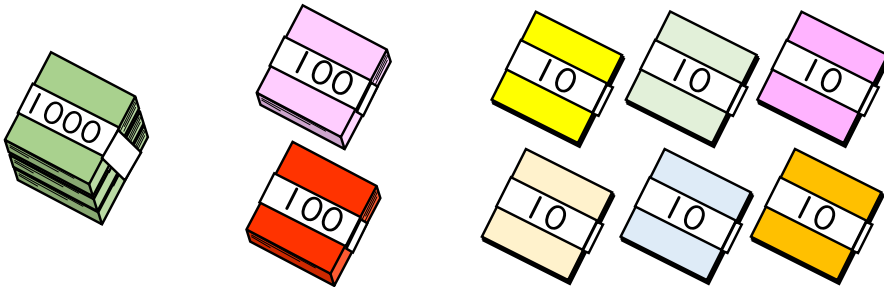
名まえ _____

・ 色紙の 数を 数字で 書きましょう。

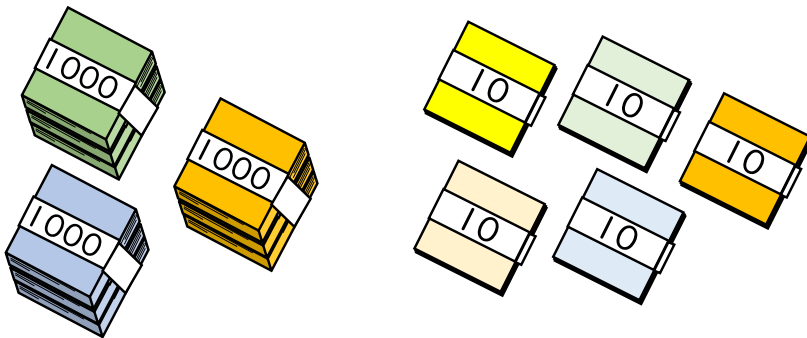
①



②



③





4けたの数4

●色紙のまい数を
数字であらわそう

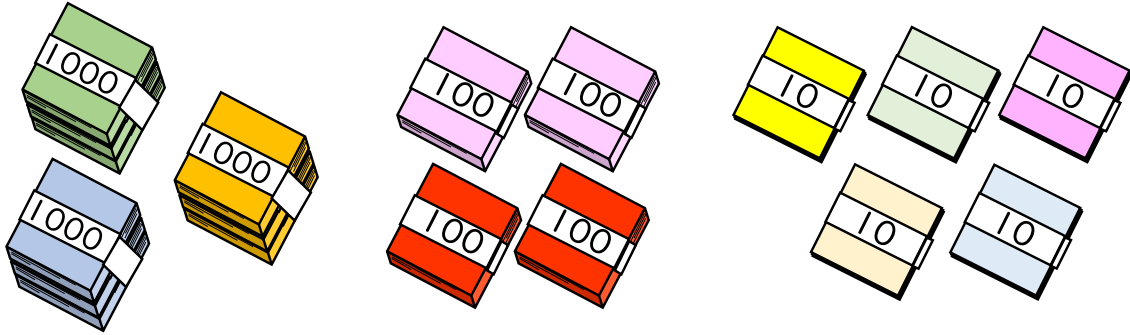


日にち： 月 日

名まえ _____


・色紙の数を 数字で書きましょう。

①



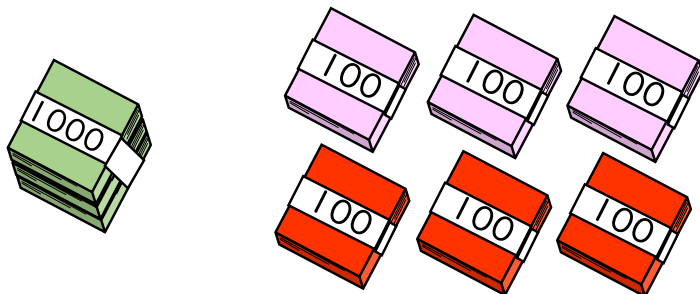
〔 まい 〕

②



〔 まい 〕

③



〔 まい 〕





4けたの数 4

● 色紙のまい数を
数字であらわそう



日にち： 月 日

名まえ _____

・ 色紙の数を 数字で書きましょう。

①

() まい

②

() まい

③

() まい





4けたの数 4

● 色紙のまい数を
数字であらわそう



日にち： 月 日

名まえ _____

・ 色紙の 数を 数字で 書きましょう。

①

Color key: Blue square, Yellow square, Purple square

（ まい ）

②

Color key: Blue square, Yellow square, Purple square

（ まい ）

③

Color key: Blue square, Purple square

（ まい ）





4けたの数 4

●色紙のまい数を
数字であらわそう

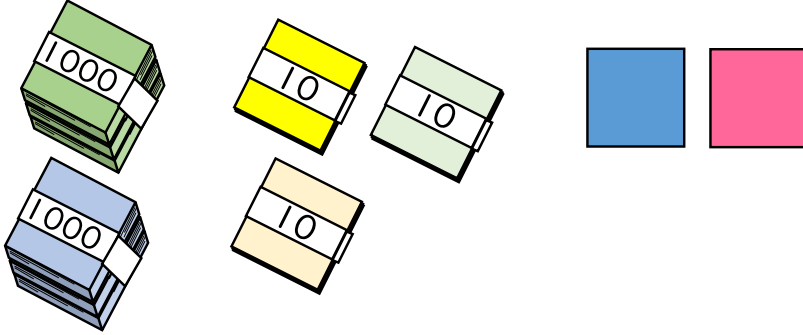


日にち： 月 日

名まえ _____

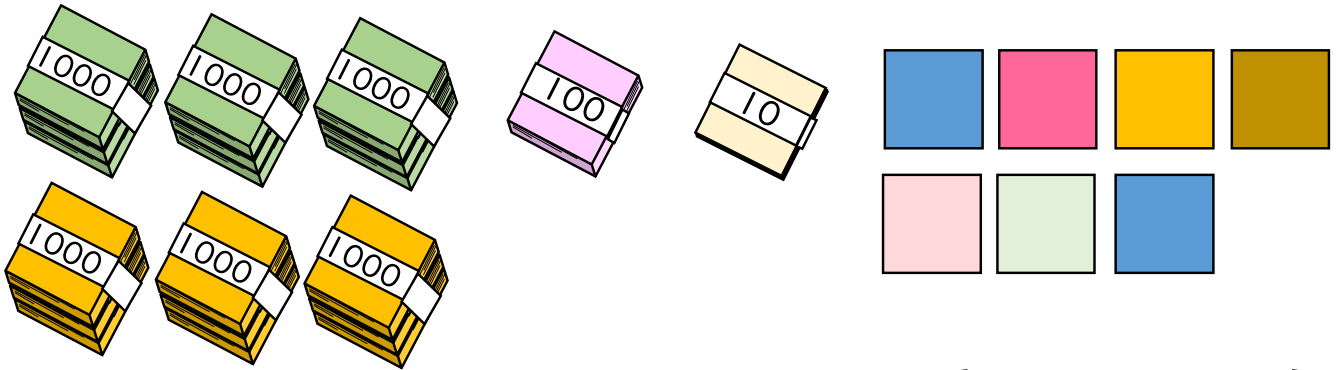
1 色紙の数を 数字で書きましょう。

①



()
まい

②



()
まい

2 数字で書きましょう。

① 四千五十

()

② 二千六百

()

3 漢字で書きましょう。

5087

()





4けたの数4

●色紙のまい数を
数字であらわそう




日にち： 月 日

名まえ _____

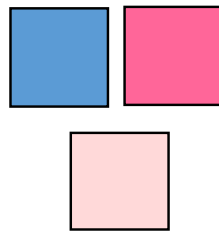

1 色紙の数を 数字で書きましょう。

①



[]
まい

②



[]
まい

2 数字で書きましょう。

① 五千百四十

[]

② 三千二十四

[]

3 漢字で書きましょう。

9600

[]





4けたの数 4

● 色紙のまい数を
数字であらわそう


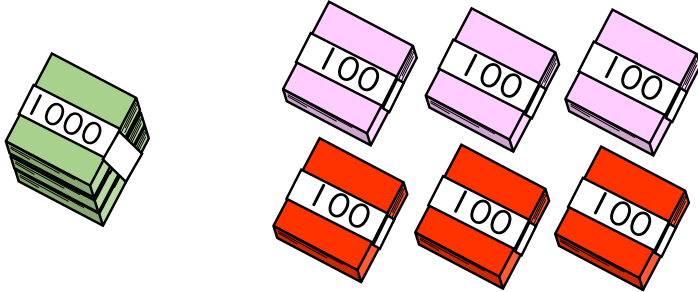


日にち： 月 日

名まえ _____


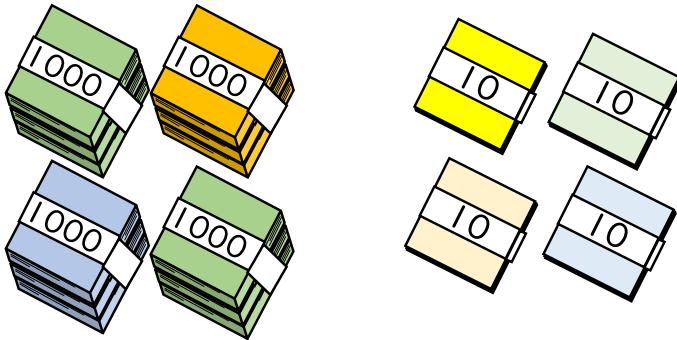
1 色紙の数を数字で書きましょう。

①



() まい

②



() まい

2 数字で書きましょう。

① 五千二百四

② 四千三十七

()

()

3 漢字で書きましょう。

8740

()





4けたの数4

●色紙のまい数を
数字であらわそう


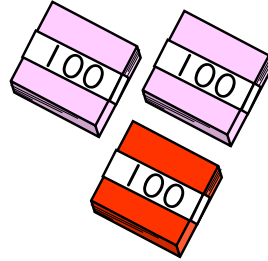



日にち： 月 日

名まえ _____


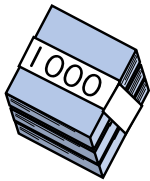
1 色紙の数を 数字で書きましょう。

①



(まい)

②



(まい)

2 数字で書きましょう。

① 五千百

()

② 九千二十四

()

3 漢字で書きましょう。

6806

()





目指せ80点!



4けたの数4

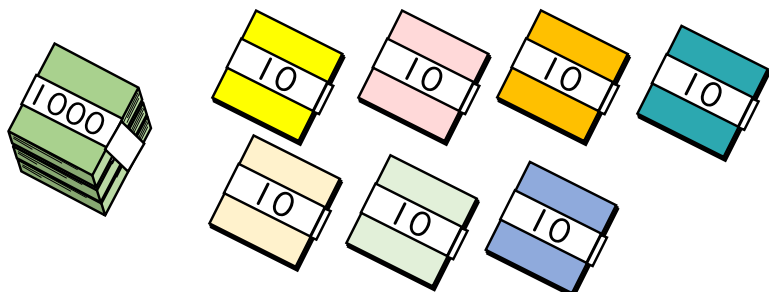
15

● 色紙のまい数を
数字であらわそう

名まえ


1 色紙の数を 数字で 書きましょう。(各20点)

①



(さい)

②



(さい)

2 数字で書きましょう。(各20点)

① 七千三百

② 二千九

()

()

3 漢字で書きましょう。(20点)

3016

()



4けたの数 4

色紙のまい数を
数字であらわそう



目指せ80点!



名まえ _____

1 色紙の数を 数字 で書きましょう。(各20点)

①

()
まい

②

()
まい

2 数字で書きましょう。(各20点)

① 四千五百六十

② 七千三百五

()

()

3 漢字で書きましょう。(20点)

8009

()





4けたの数4

●色紙のまい数を
数字であらわそう

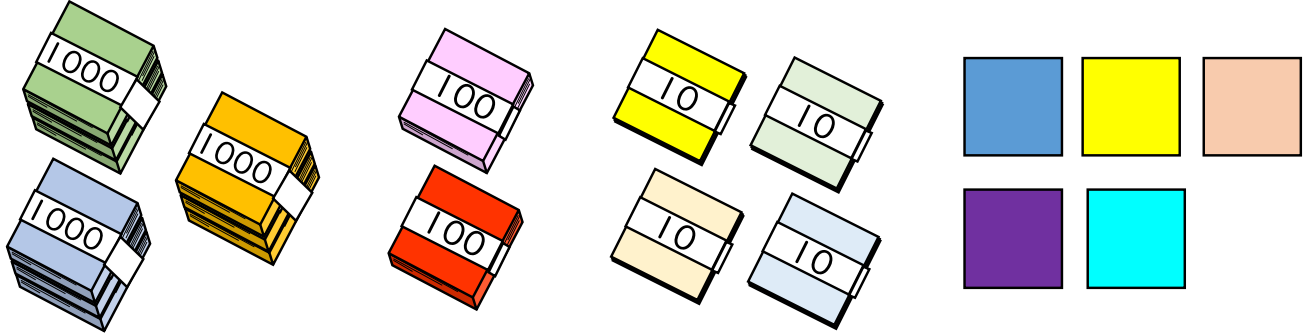


日にち： 月 日

名まえ _____

・色紙の数を 数字 で書きましょう。(うすい字はなぞりましょう。)

①



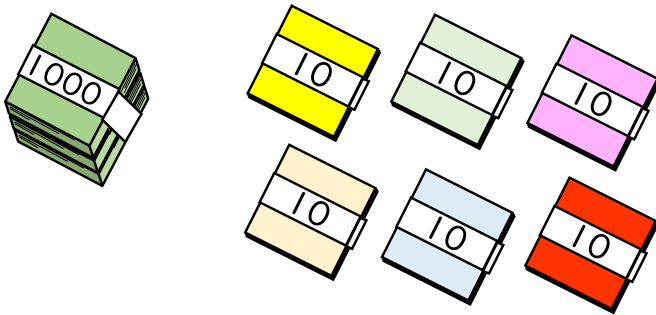
千	百	十	一
3	2	4	5

それぞれのたばの数を
表に入れてみよう!



3245 まい

②



千	百	十	一
1	0	6	0

1060 まい





4けたの数 4

● 色紙のまい数を
数字であらわそう

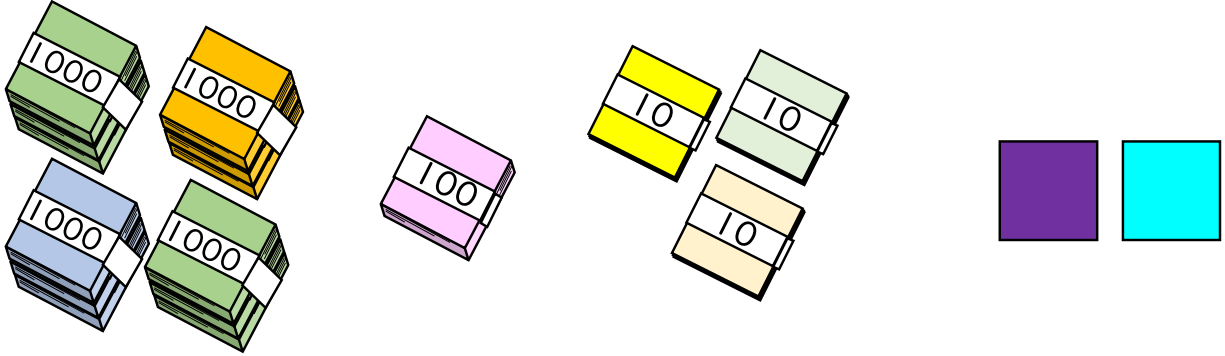


日にち： 月 日

名まえ _____

・ 色紙の 数 を 数字 で 書 き ま し ょ う 。 (うすい字はなぞりましょう。)

①



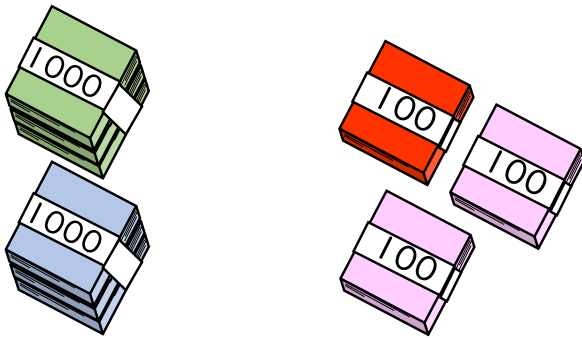
千	百	十	一
4	1	3	2

それぞれの たば の 数 を
表 に 入 れ て み よ う !



4132 まい

②



千	百	十	一
2	3	0	0

2300 まい





4けたの数4

●色紙のまい数を
数字であらわそう




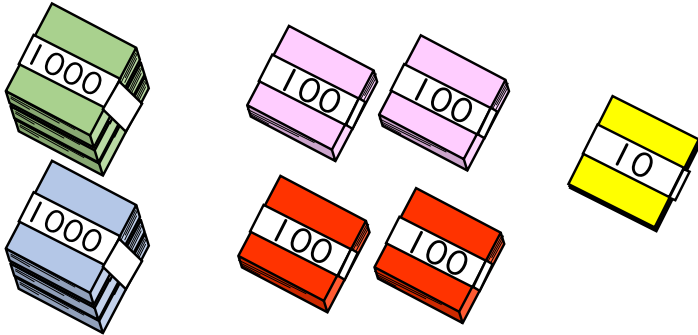
日にち： 月 日

名まえ _____

・色紙の数を 数字で書きましょう。

(うすい字はなぞりましょう。)

①





千	百	十	一
2	4	1	8

それぞれのたばの数を
表に入れてみよう!



2418 まい

②



千	百	十	一
5	0	4	3

5043 まい

③ 確認 答え





4けたの数4

●色紙のまい数を
数字であらわそう




日にち： 月 日

名まえ _____

・色紙の数を 数字で書きましょう。(うすい字はなぞりましょう。)

①





千	百	十	一
6	3	0	1

それぞれのたばの数を
表に入れてみよう!



6301 まい

②



千	百	十	一
3	2	1	4

3214 まい





4けたの数4

●色紙のまい数を
数字であらわそう

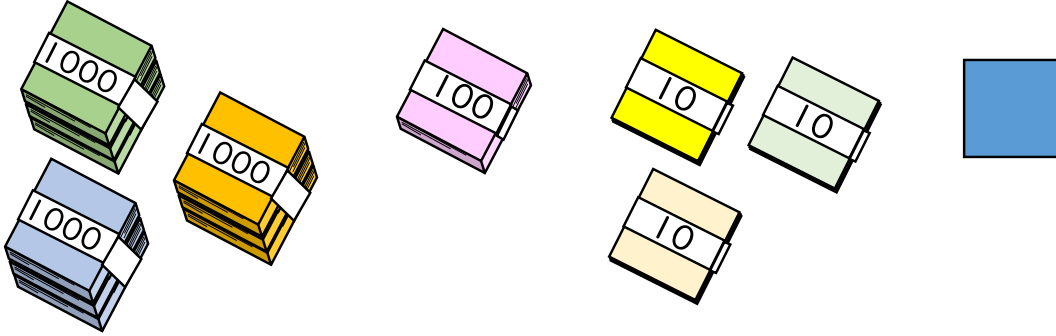


日にち： 月 日

名まえ _____

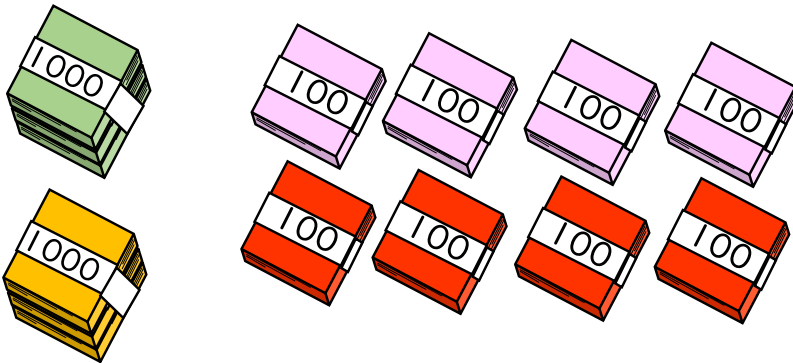
・色紙の数を 数字 で書きましょう。(うすい字はなぞりましょう。)

①




{ 3131 まい }

②



{ 2800 まい }

③



{ 1007 まい }





4けたの数 4

● 色紙のまい数を
数字であらわそう


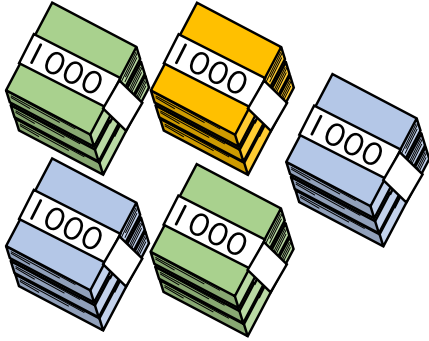


日にち： 月 日

名まえ _____


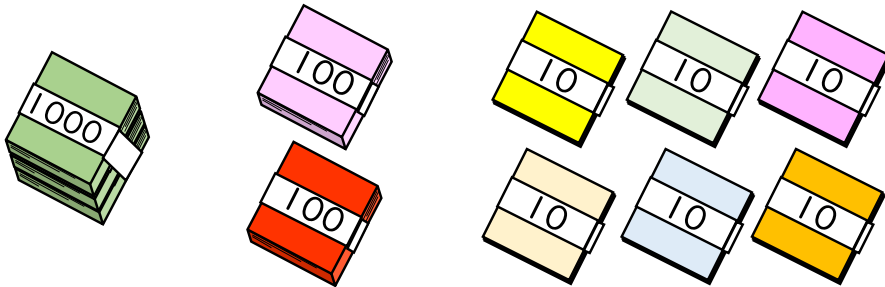
・ 色紙の数を 数字で書きましょう。

①



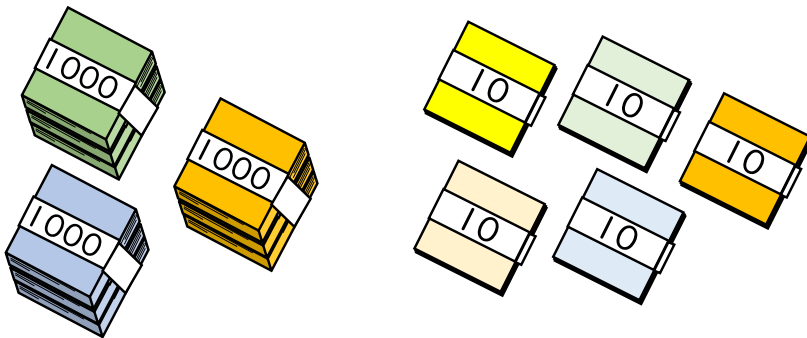
5004 まい

②



1265 まい

③



3050 まい





4けたの数4

●色紙のまい数を
数字であらわそう

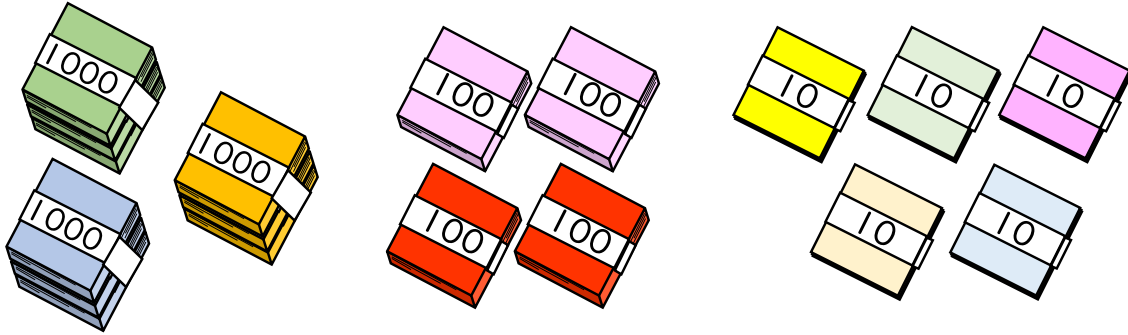


日にち： 月 日

名まえ _____


・色紙の数を 数字で書きましょう。

①



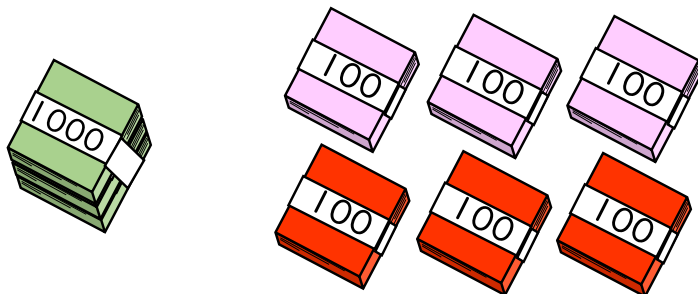
3450 まい

②



6300 まい

③



1602 まい





4けたの数 4

● 色紙のまい数を
数字であらわそう

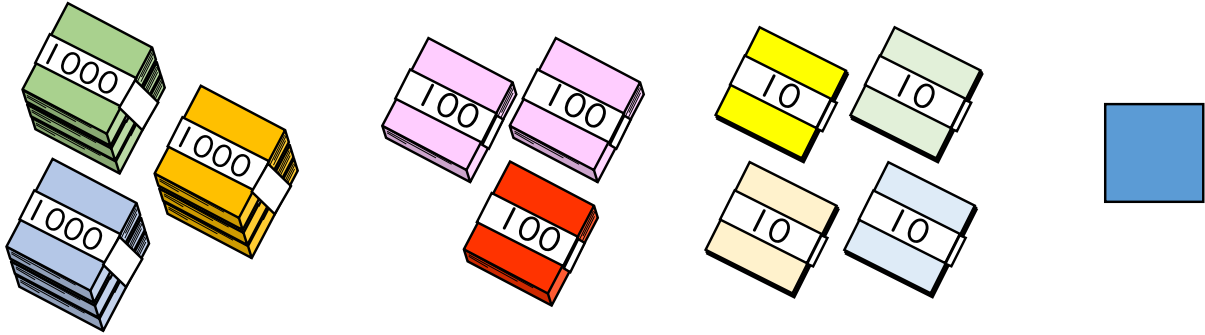


日にち： 月 日

名まえ _____

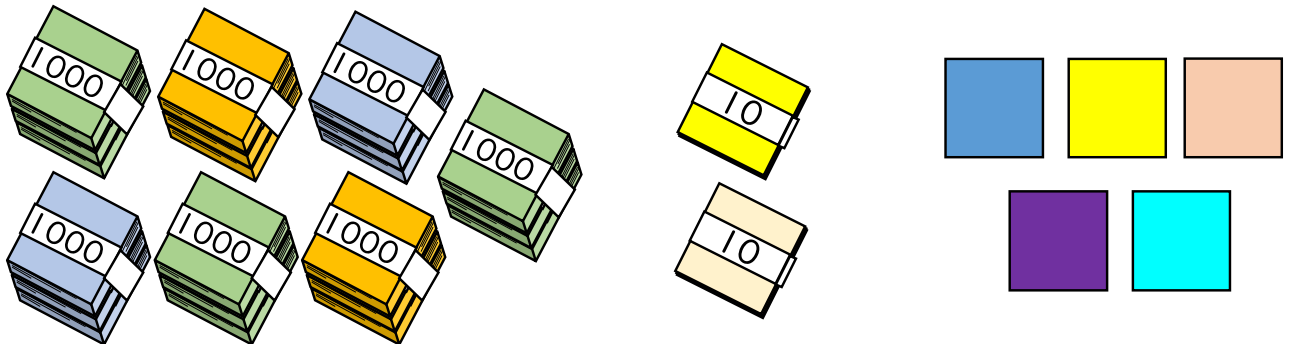
・ 色紙の数を 数字で書きましょう。

①




3341 まい

②



7025 まい

③



2804 まい





4けたの数 4

● 色紙のまい数を
数字であらわそう



日にち： 月 日

名まえ _____

・ 色紙の 数を 数字で書きましょう。

①

1483 まい

②

5310 まい

③

3052 まい





4けたの数4

●色紙のまい数を
数字であらわそう

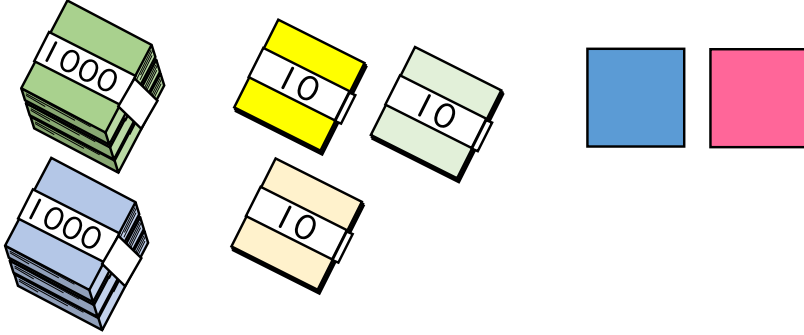


日にち： 月 日

名まえ _____

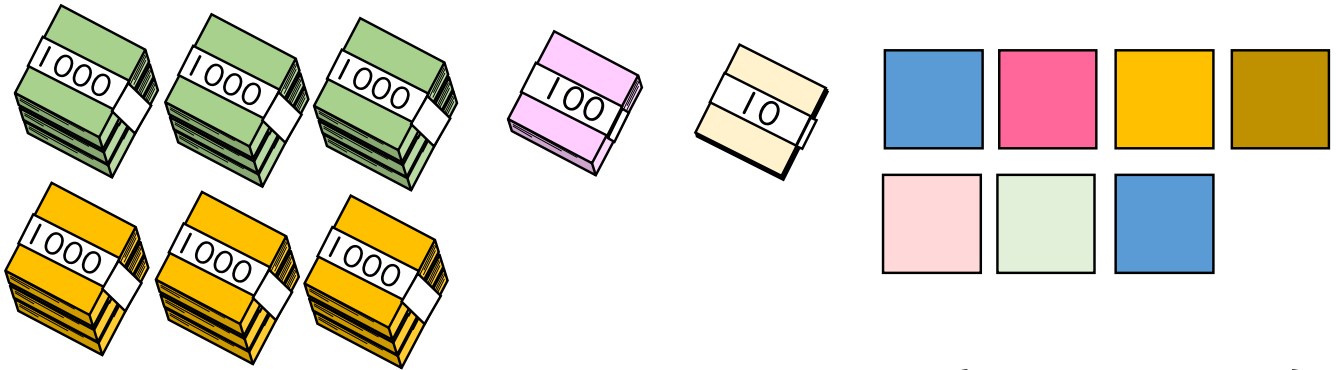
1 色紙の数を 数字で書きましょう。

①



{ 2032 まい }

②



{ 6117 まい }

2 数字で書きましょう。

① 四千五十

{ 4050 }

② 二千六百

{ 2600 }

3 漢字で書きましょう。

5087

{ 五千八十七 }





4けたの数4

●色紙のまい数を
数字であらわそう




日にち： 月 日

名まえ _____

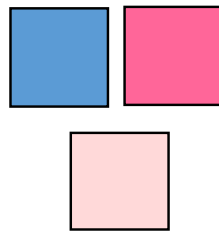

1 色紙の数を 数字で書きましょう。

①



{ 3421 まい }

②



{ 5003 まい }

2 数字で書きましょう。

① 五千百四十

{ 5140 }

② 三千二十四

{ 3024 }

3 漢字で書きましょう。

9600

{ 九千六百 }





4けたの数4

●色紙のまい数を
数字であらわそう

12

日にち： 月 日

名まえ _____

1 色紙の数を 数字で書きましょう。

①

(1465 まい)

②

(3050 まい)

2 数字で書きましょう。

① 九千百

② 八千七十三

(9100)

(8073)

3 漢字で書きましょう。

1205

(千二百五)





4けたの数4

●色紙のまい数を
数字であらわそう


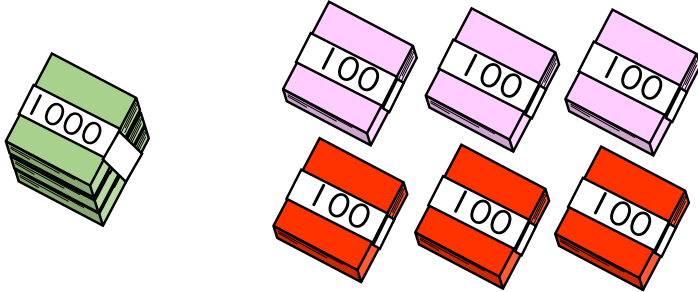


日にち： 月 日

名まえ _____


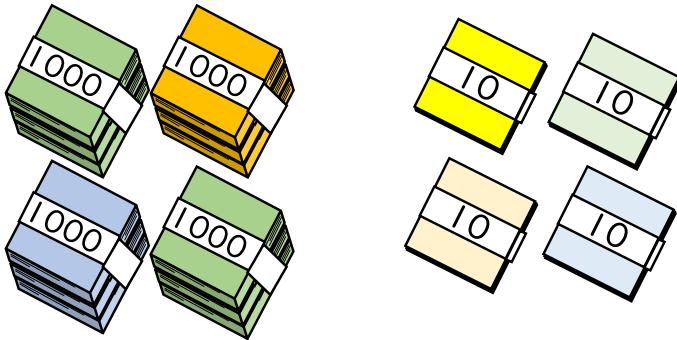
1 色紙の数を数字で書きましょう。

①



{ 1608 まい }

②



{ 4043 まい }

2 数字で書きましょう。

① 五千二百四

② 四千三十七

{ 5204 }

{ 4037 }

3 漢字で書きましょう。

8740

{ 八千七百四十 }





4けたの数 4

● 色紙のまい数を
数字であらわそう


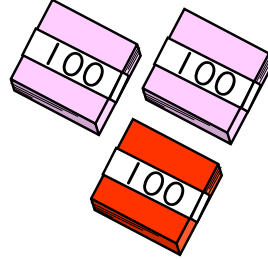



日にち： 月 日

名まえ _____


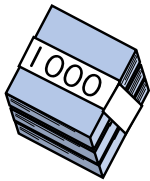
1 色紙の数を 数字で書きましょう。

①



{ 7304 まい }

②



{ 1006 まい }

2 数字で書きましょう。

① 五千百

{ 5100 }

② 九千二十四

{ 9024 }

3 漢字で書きましょう。

6806

{ 六千八百六 }





4けたの数4

色紙のまい数を
数字であらわそう



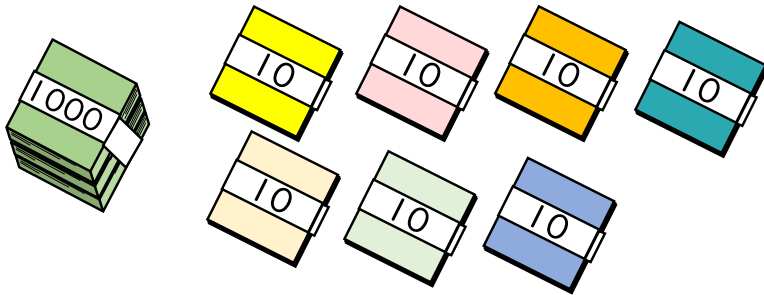
目指せ80点!



名まえ _____


1 色紙の数を 数字で書きましょう。(各20点)

①



{ 1070 まい }

②



{ 5104 まい }

2 数字で書きましょう。(各20点)

① 七千三百

② 二千九

{ 7300 }

{ 2009 }

3 漢字で書きましょう。(20点)

3016

{ 三千十六 }





4けたの数4

●色紙のまい数を
数字であらわそう

16

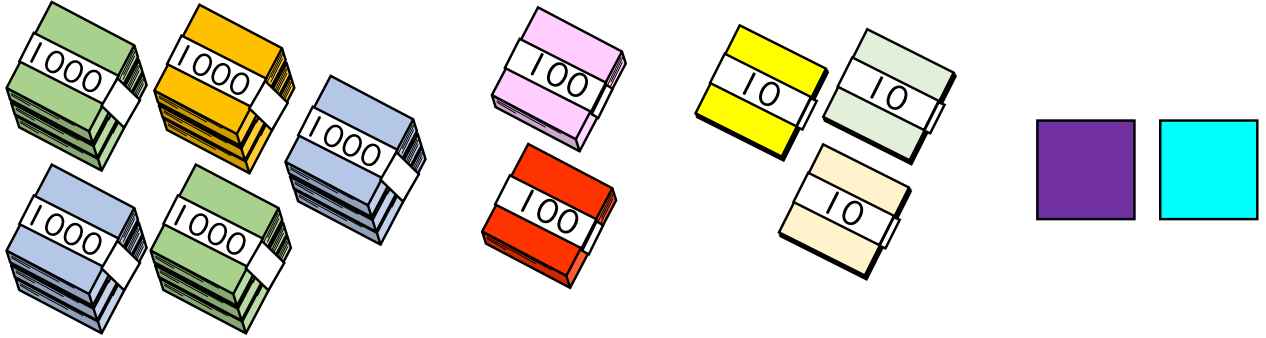
目指せ80点!



名まえ


1 色紙の数を 数字で書きましょう。(各20点)

①



5232 まい

②



6540 まい

2 数字で書きましょう。(各20点)

① 四千五百六十

② 七千三百五

4560

7305

3 漢字で書きましょう。(20点)

8009

八千九

