



4けたの数4

●色紙のまい数を
数字であらわそう

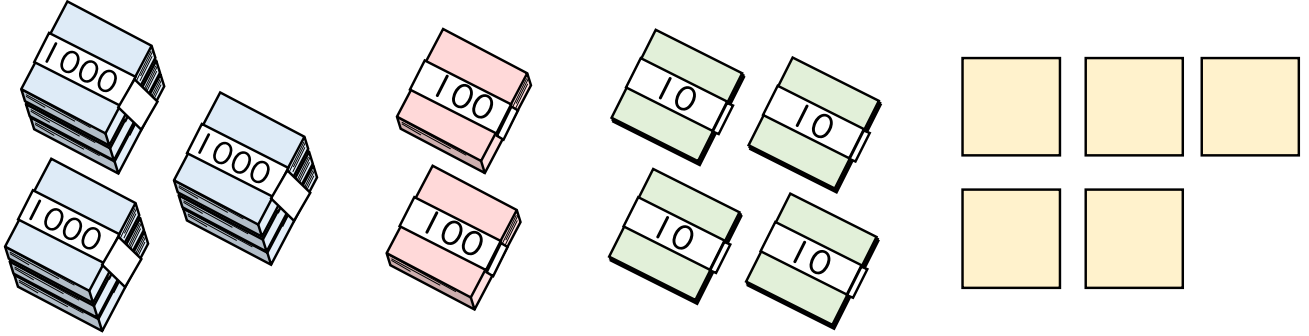


日にち： 月 日

名まえ _____

・色紙の数を 数字 で書きましょう。(うすい字はなぞりましょう。)

①



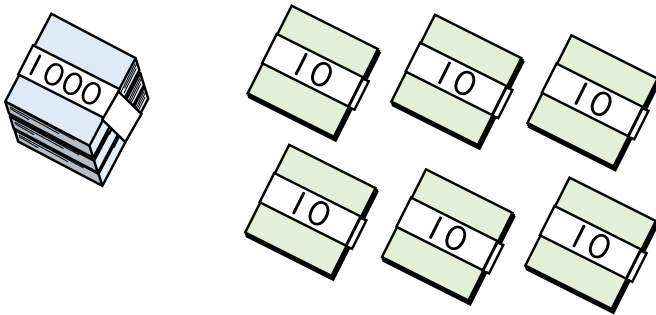
千	百	十	一
3	2	4	5

それぞれのたばの数を
表に入れてみよう!



{ さい }

②



千	百	十	一
1	0	6	0

{ さい }





4けたの数 4

● 色紙のまい数を
数字であらわそう

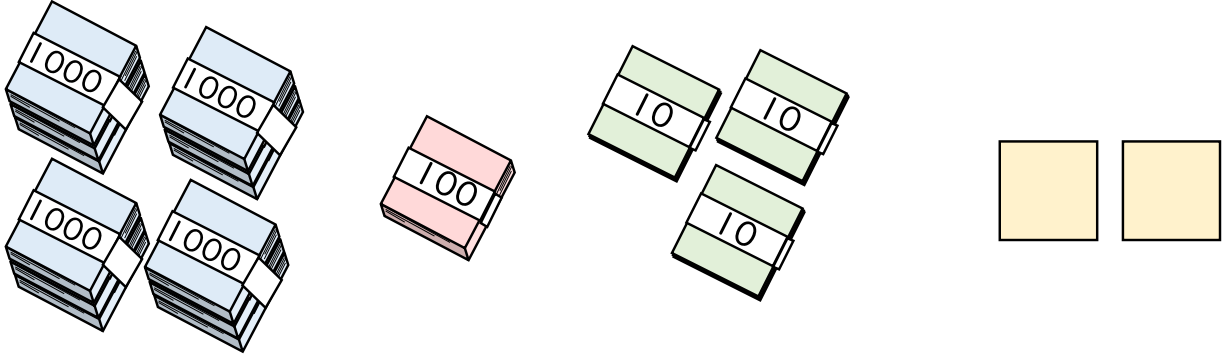


日にち： 月 日

名まえ _____

・ 色紙の数を 数字で書きましょう。(うすい字はなぞりましょう。)

①



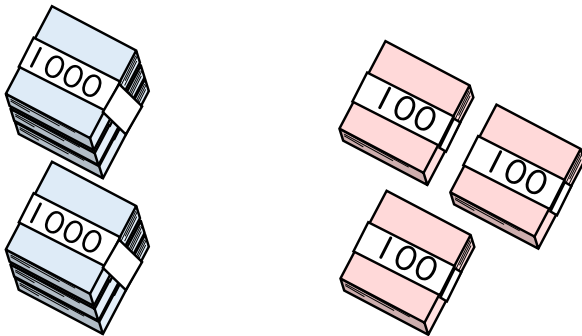
千	百	十	一
4	1	3	2

それぞれのたばの数を
表に入れてみよう!



まい

②



千	百	十	一
2	3		

まい





4けたの数4

●色紙のまい数を
数字であらわそう

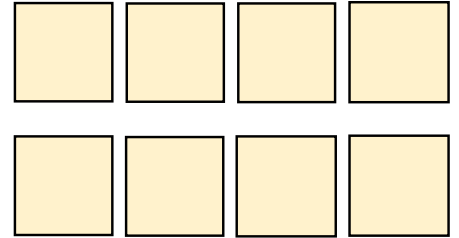



日にち： 月 日

名まえ _____

・色紙の数を 数字 で書きましょう。(うすい字はなぞりましょう。)

①




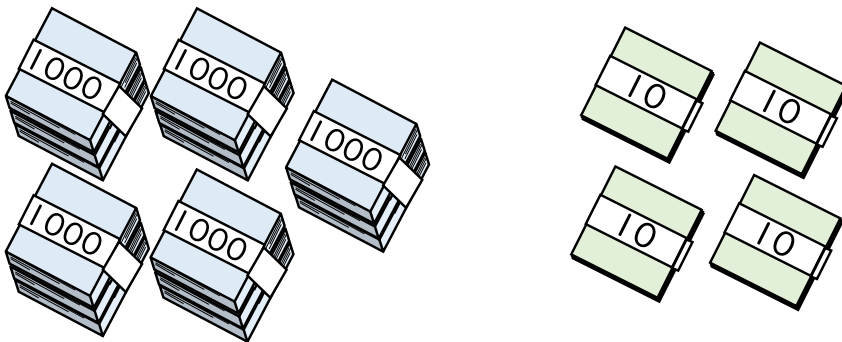
千	百	十	一
2			

それぞれのたばの数を
表に入れてみよう!



{ まい }

②



千	百	十	一

{ まい }

③ 確認





4けたの数 4

● 色紙のまい数を
数字であらわそう




日にち： 月 日

名まえ _____

・ 色紙の数を 数字で書きましょう。

①



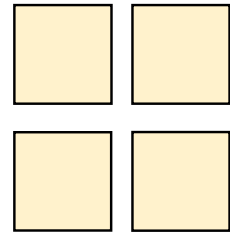
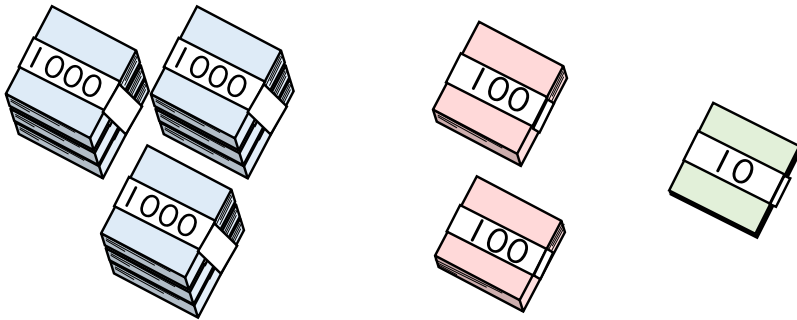
千	百	十	一

それぞれのたばの数を
表に入れてみよう！



{ まい }

②



千	百	十	一

{ まい }





4けたの数4

●色紙のまい数を
数字であらわそう

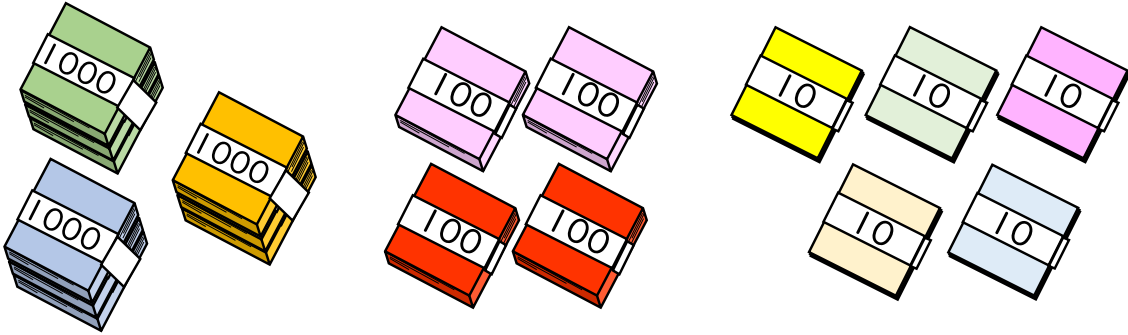


日にち： 月 日

名まえ _____


・色紙の数を 数字で書きましょう。

①



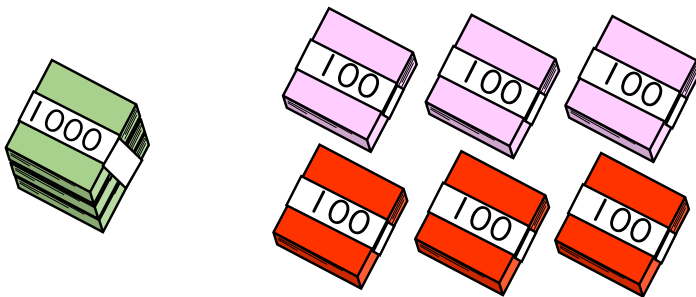
(まい)

②



(まい)

③



(まい)





4けたの数 4

● 色紙のまい数を
数字であらわそう

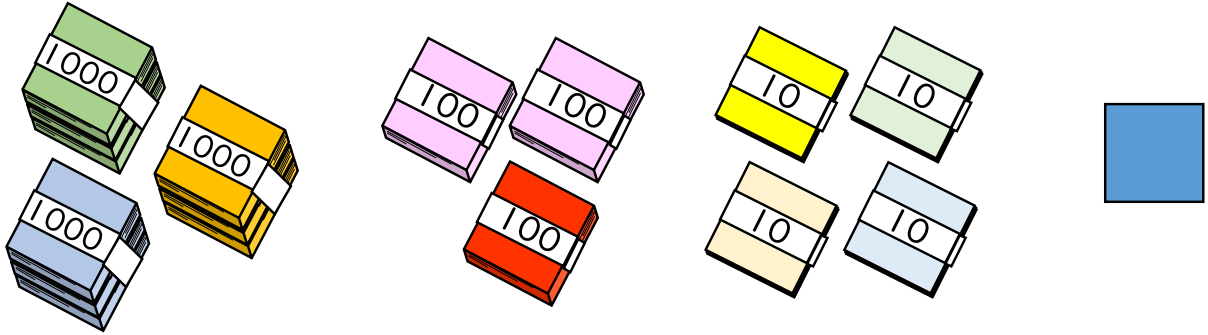


日にち： 月 日

名まえ _____

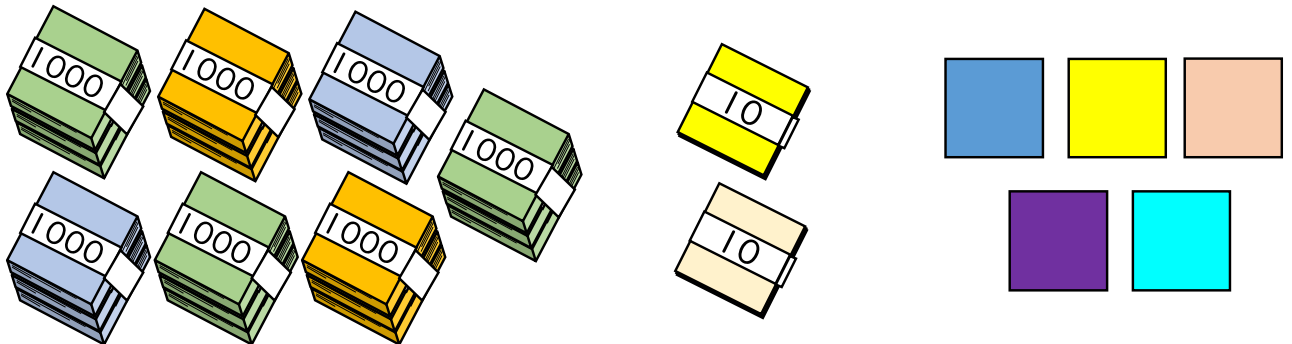
・ 色紙の数を 数字で書きましょう。

①




{ まい }

②



{ まい }

③



{ まい }





4けたの数 4

● 色紙のまい数を
数字であらわそう


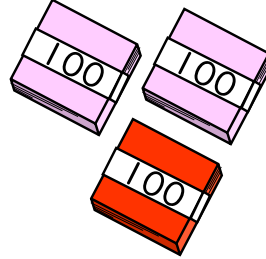



日にち： 月 日

名まえ _____


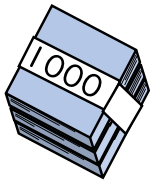
1 色紙の数を 数字で書きましょう。

①



(まい)

②



(まい)

2 数字で書きましょう。

① 五千百

()

② 九千二十四

()

3 漢字で書きましょう。

6806

()





4けたの数4

●色紙のまい数を
数字であらわそう

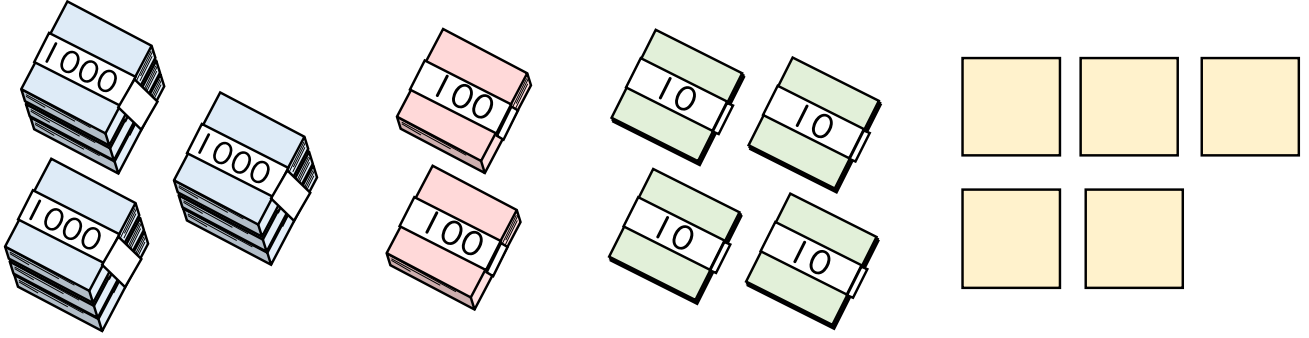


日にち： 月 日

名まえ _____

・色紙の数を 数字 で書きましょう。(うすい字はなぞりましょう。)

①



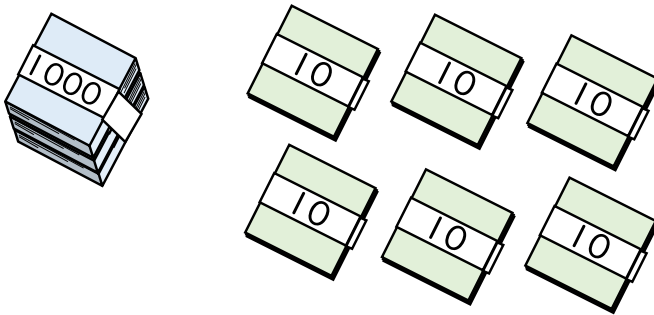
千	百	十	一
3	2	4	5

それぞれのたばの数を
表に入れてみよう!



3245 まい

②



千	百	十	一
1	0	6	0

1060 まい





4けたの数 4

● 色紙のまい数を
数字であらわそう

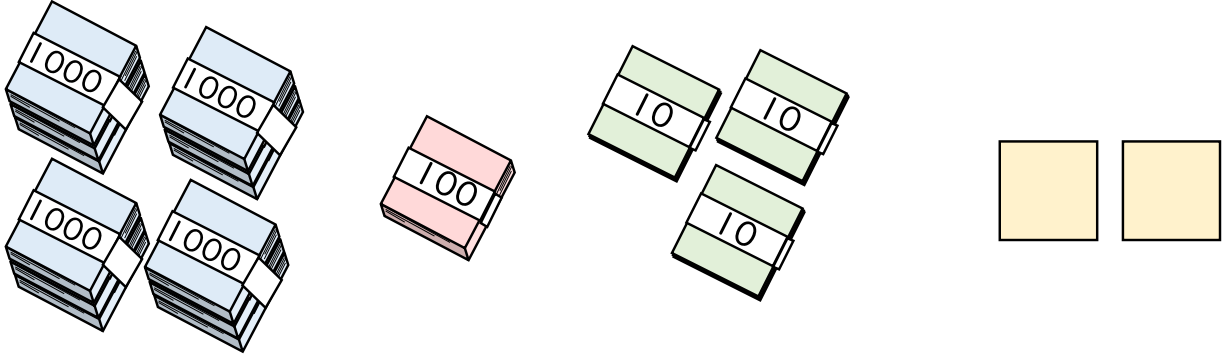


日にち： 月 日

名まえ _____

・ 色紙の数を 数字で書きましょう。(うすい字はなぞりましょう。)

①



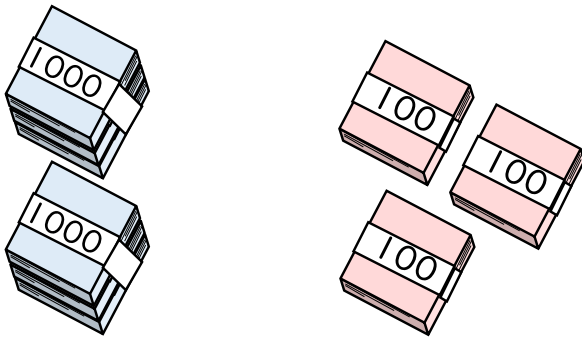
千	百	十	一
4	1	3	2

それぞれのたばの数を
表に入れてみよう!



4132 まい

②



千	百	十	一
2	3	0	0

2300 まい

② 確認 答え





4けたの数 4

● 色紙のまい数を
数字であらわそう

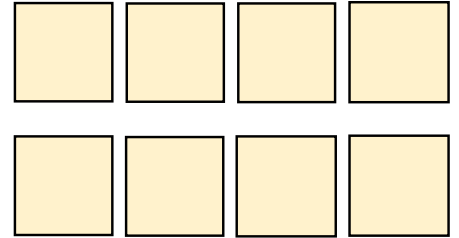



日にち： 月 日

名まえ _____

・ 色紙の数を 数字で書きましょう。(うすい字はなぞりましょう。)

①




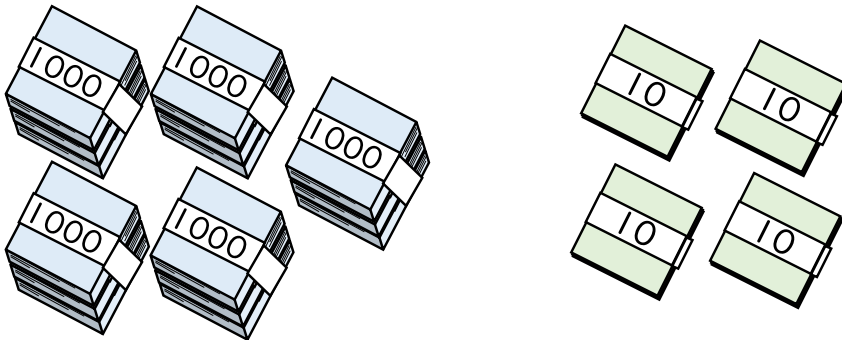
千	百	十	一
2	4	1	8

それぞれの たばの 数を
表に入れてみよう!



2418 まい

②



千	百	十	一
5	0	4	3

5043 まい

③ 確認 答え





4けたの数 4

● 色紙のまい数を
数字であらわそう





日にち： 月 日

名まえ _____

・ 色紙の数を 数字で書きましょう。

①



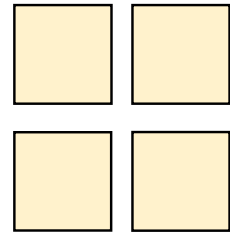
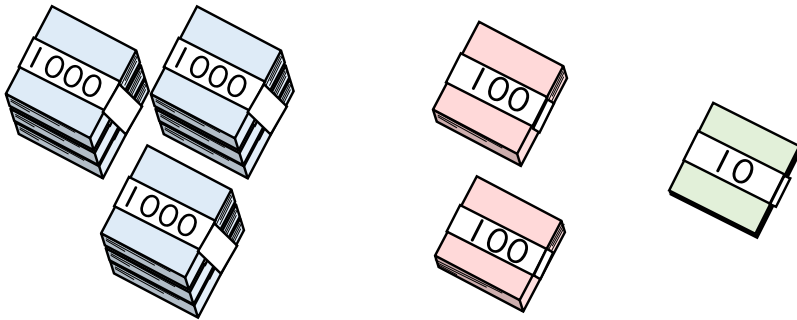
千	百	十	一
6	3	0	1

それぞれのたばの数を
表に入れてみよう！



6301 まい

②



千	百	十	一
3	2	1	4

3214 まい





4けたの数 4

● 色紙のまい数を
数字であらわそう

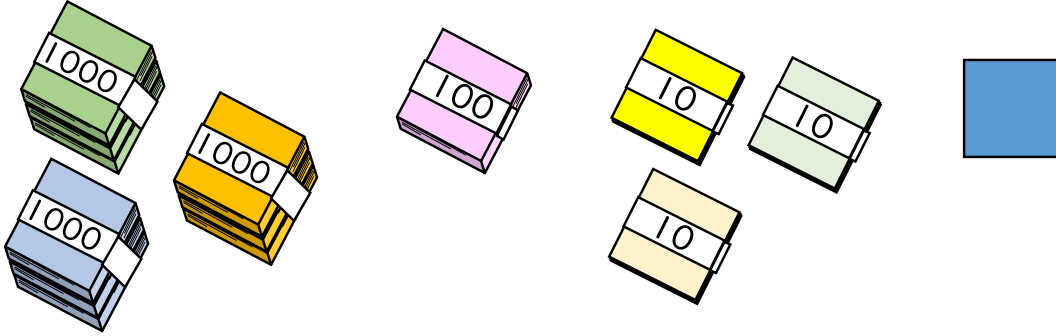


日にち： 月 日

名まえ _____

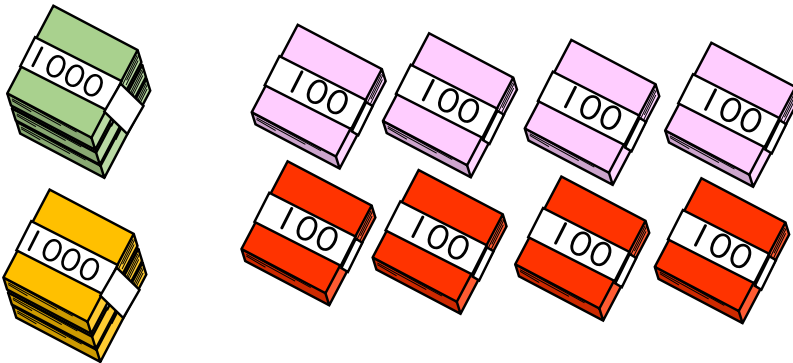
・ 色紙の数を 数字で書きましょう。(うすい字はなぞりましょう。)

①




{ 3131 まい }

②



{ 2800 まい }

③



{ 1007 まい }





4けたの数 4

● 色紙のまい数を
数字であらわそう


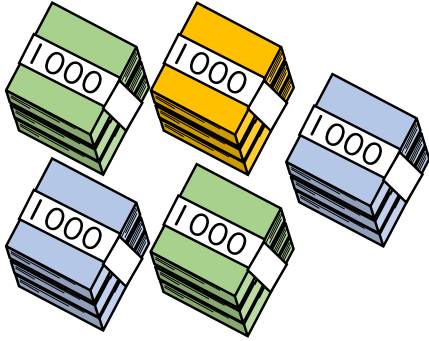


日にち： 月 日

名まえ _____


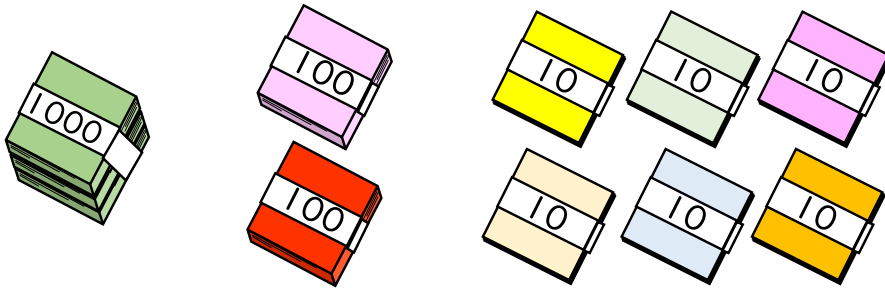
・ 色紙の数を 数字で書きましょう。

①



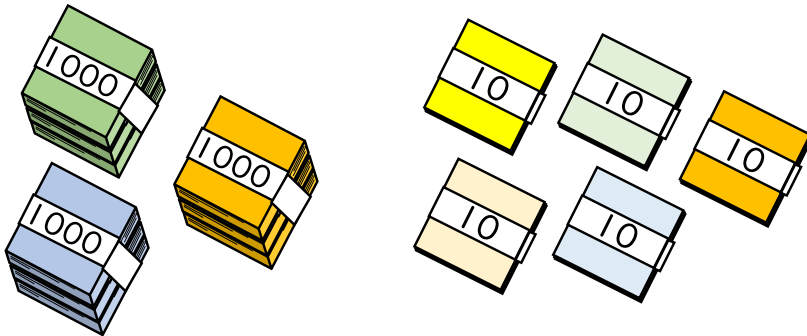
5004 まい

②



1265 まい

③



3050 まい





4けたの数4

●色紙のまい数を
数字であらわそう

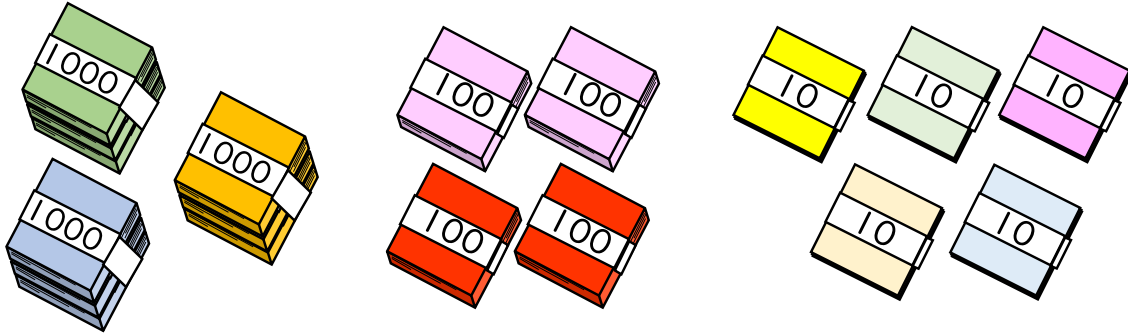


日にち： 月 日

名まえ _____


・色紙の数を 数字で書きましょう。

①




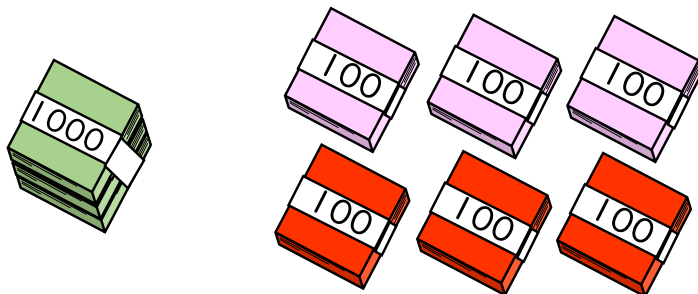
3450 まい

②



6300 まい

③



1602 まい





4けたの数 4

● 色紙のまい数を
数字であらわそう

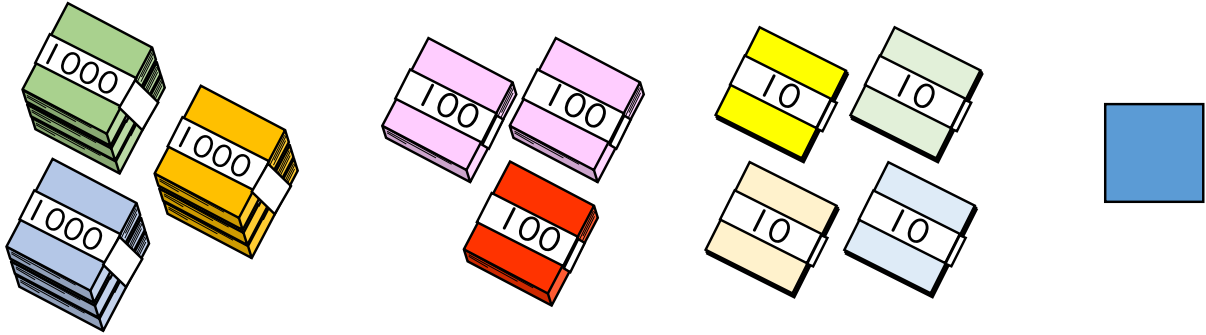


日にち： 月 日

名まえ _____

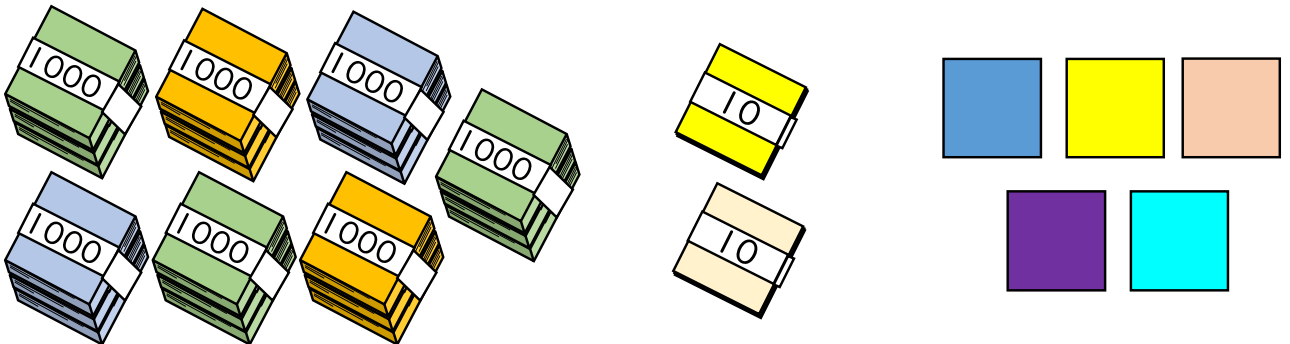
・ 色紙の数を 数字で書きましょう。

①




{ 3341 まい }

②



{ 7025 まい }

③



{ 2804 まい }





4けたの数 4

● 色紙のまい数を
数字であらわそう



日にち： 月 日

名まえ _____

・ 色紙の 数を 数字で 書きましょう。

①

1483 まい

②

5310 まい

③

3052 まい





4けたの数4

●色紙のまい数を
数字であらわそう

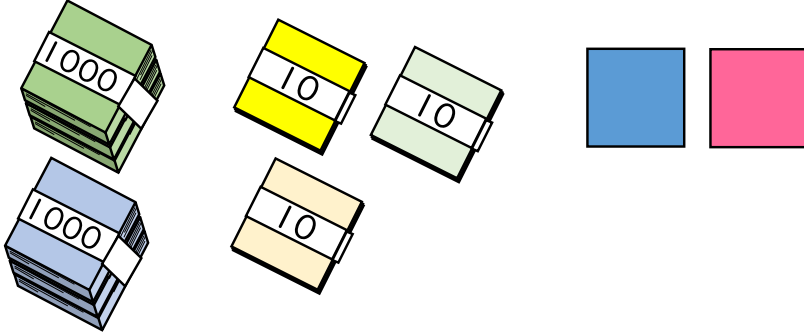


日にち： 月 日

名まえ _____

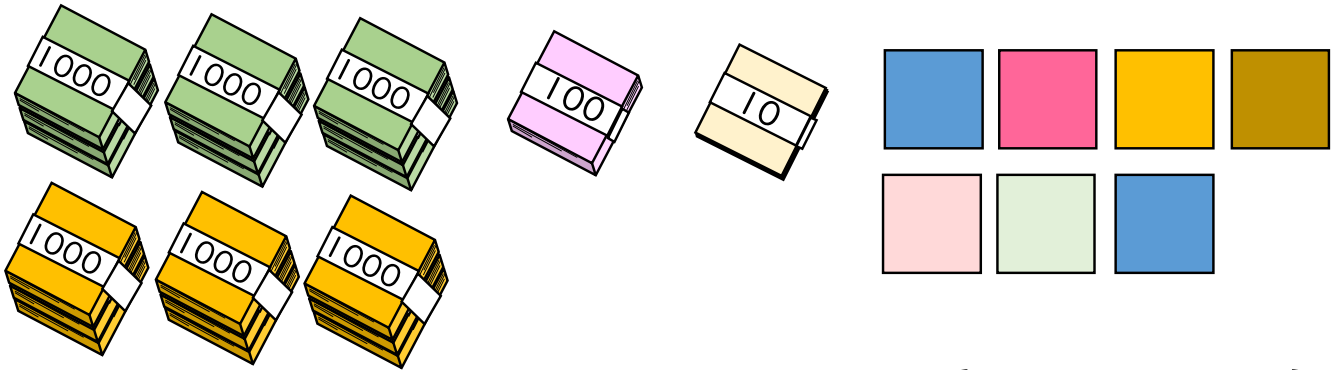
1 色紙の数を 数字で書きましょう。

①



{ 2032 まい }

②



{ 6117 まい }

2 数字で書きましょう。

① 四千五十

{ 4050 }

② 二千六百

{ 2600 }

3 漢字で書きましょう。

5087

{ 五千八十七 }





4けたの数4

●色紙のまい数を
数字であらわそう




日にち： 月 日

名まえ _____

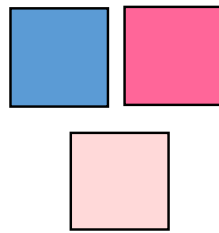

1 色紙の数を 数字で書きましょう。

①



{ 3421 まい }

②



{ 5003 まい }

2 数字で書きましょう。

① 五千百四十

{ 5140 }

② 三千二十四

{ 3024 }

3 漢字で書きましょう。

9600

{ 九千六百 }





4けたの数4

●色紙のまい数を
数字であらわそう

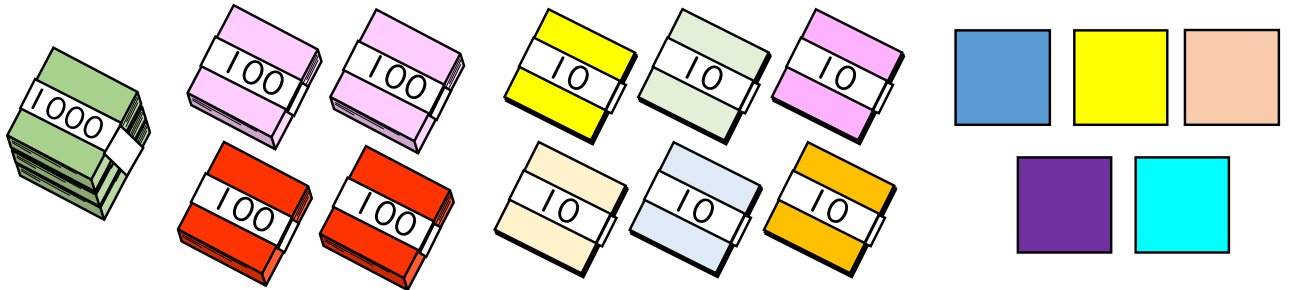
12

日にち： 月 日

名まえ _____

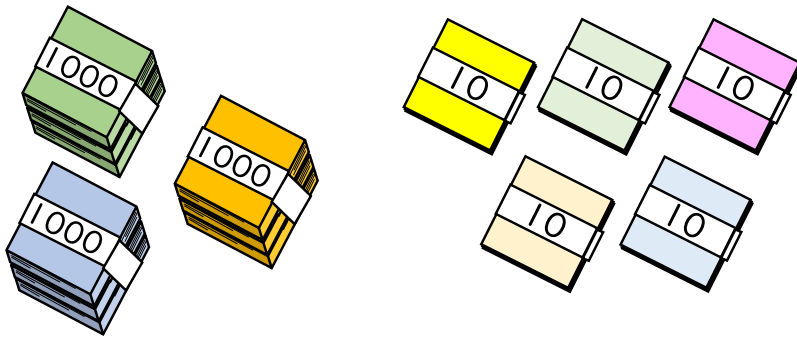
1 色紙の数を 数字で書きましょう。

①



{ 1465 まい }

②



{ 3050 まい }

2 数字で書きましょう。

① 九千百

{ 9100 }

② 八千七十三

{ 8073 }

3 漢字で書きましょう。

1205

{ 千二百五 }





4けたの数 4

● 色紙のまい数を
数字であらわそう


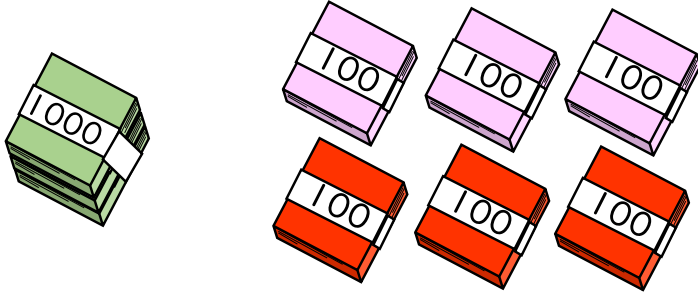


日にち： 月 日

名まえ _____


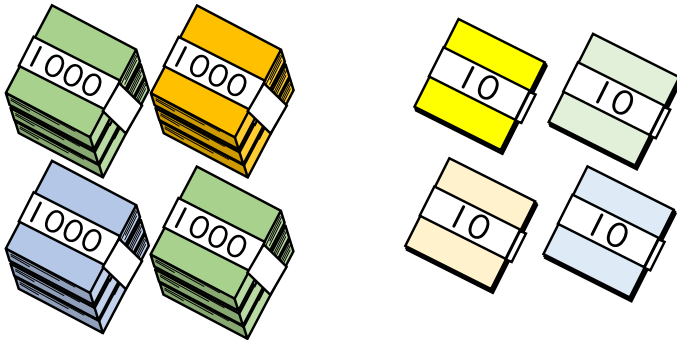
1 色紙の数を数字で書きましょう。

①



{ 1608 まい }

②



{ 4043 まい }

2 数字で書きましょう。

① 五千二百四

{ 5204 }

② 四千三十七

{ 4037 }

3 漢字で書きましょう。

8740

{ 八千七百四十 }





4けたの数4

●色紙のまい数を
数字であらわそう


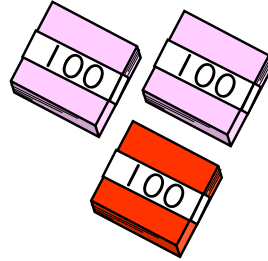



日にち： 月 日

名まえ _____


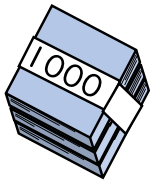
1 色紙の数を 数字で書きましょう。

①



{ 7304 まい }

②



{ 1006 まい }

2 数字で書きましょう。

① 五千百

{ 5100 }

② 九千二十四

{ 9024 }

3 漢字で書きましょう。

6806

{ 六千八百六 }





4けたの数4

色紙のまい数を
数字であらわそう



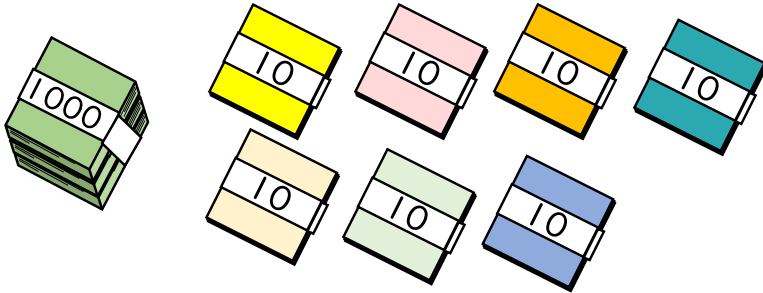
目指せ80点!



名まえ _____


1 色紙の数を 数字で書きましょう。(各20点)

①



{ 1070 まい }

②



{ 5104 まい }

2 数字で書きましょう。(各20点)

① 七千三百

② 二千九

{ 7300 }

{ 2009 }

3 漢字で書きましょう。(20点)

3016

{ 三千十六 }





4けたの数4

色紙のまい数を
数字であらわそう



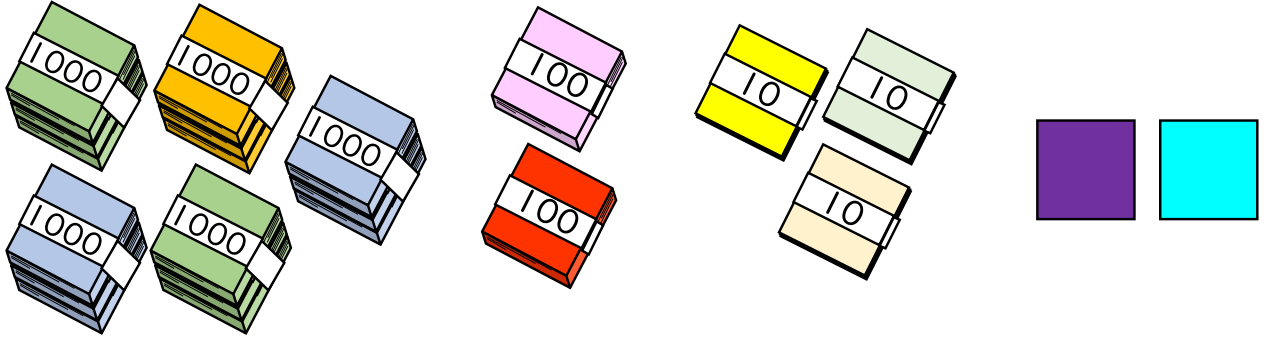
目指せ80点!



名まえ


1 色紙の数を 数字で書きましょう。(各20点)

①



{ 5232 まい }

②



{ 6540 まい }

2 数字で書きましょう。(各20点)

① 四千五百六十

② 七千三百五

{ 4560 }

{ 7305 }

3 漢字で書きましょう。(20点)

8009

{ 八 千 九 }

