



4けたの数9

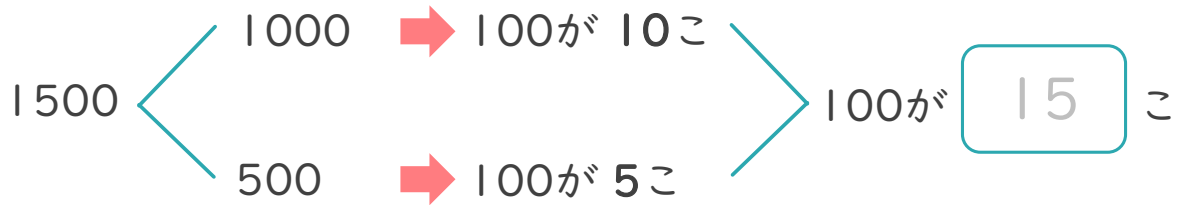
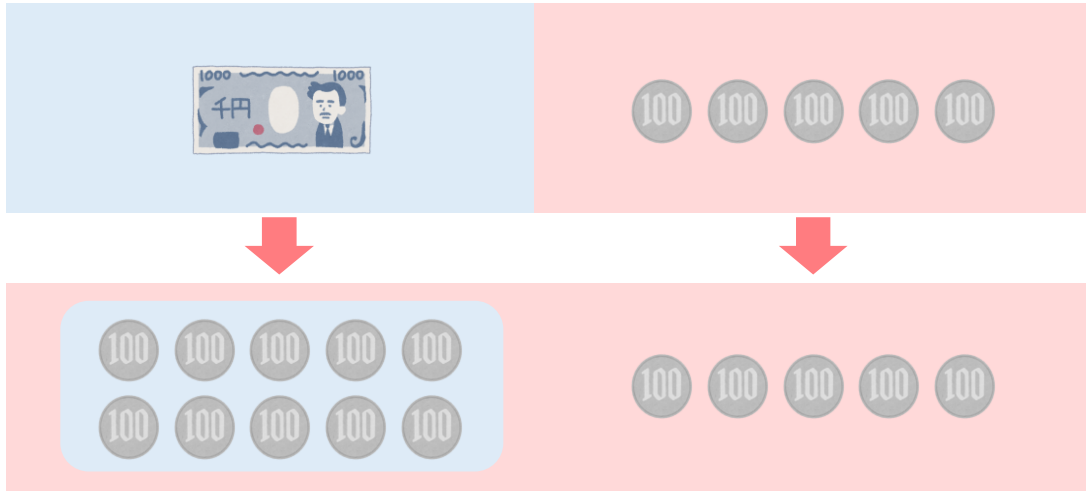
● 百を何こ
あつめた数でしょう



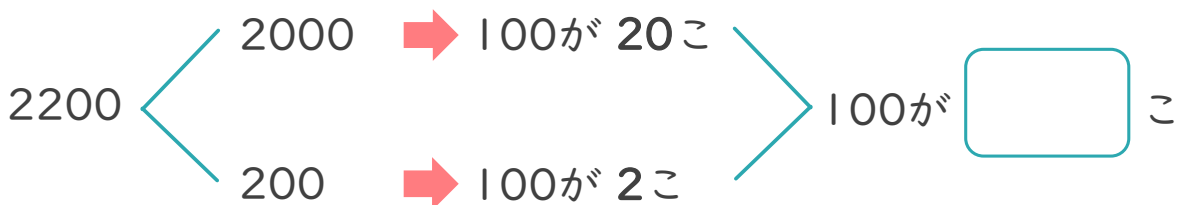
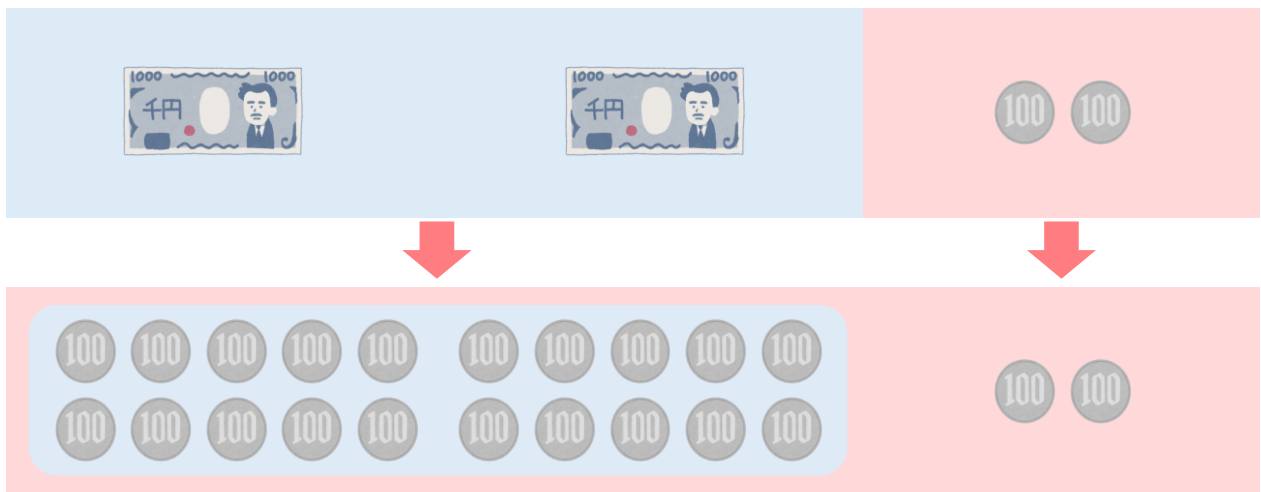
日にち： 月 日

名まえ _____

・ 1500は、100を何こあつめた数ですか。(うすい字はなぞりましょう。)



・ 2200は、100を何こあつめた数ですか。





4けたの数9

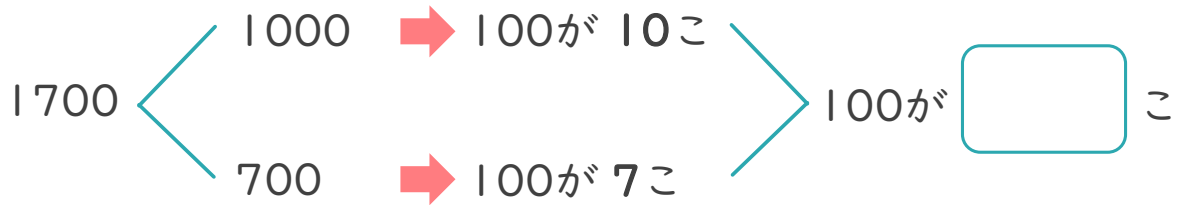
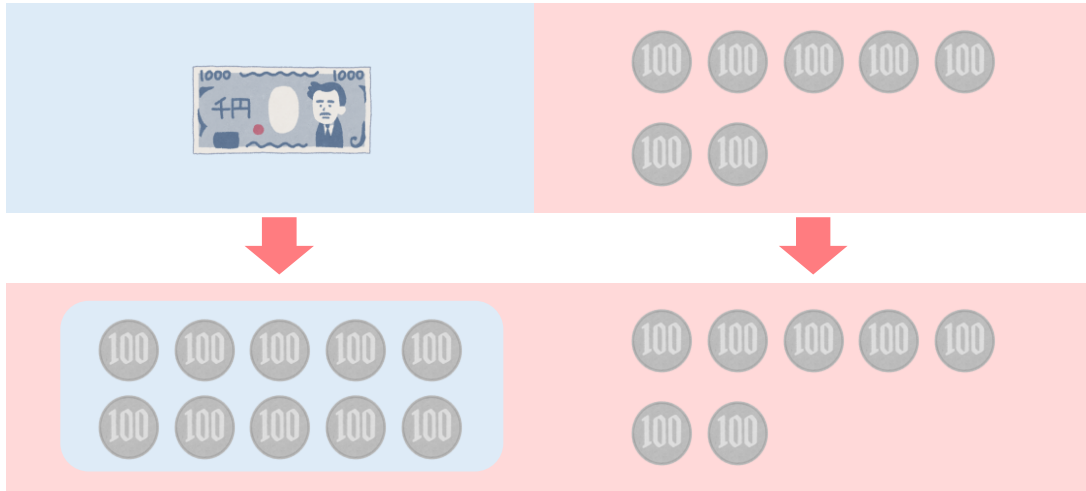
● 百を何こ
あつめた数でしょう



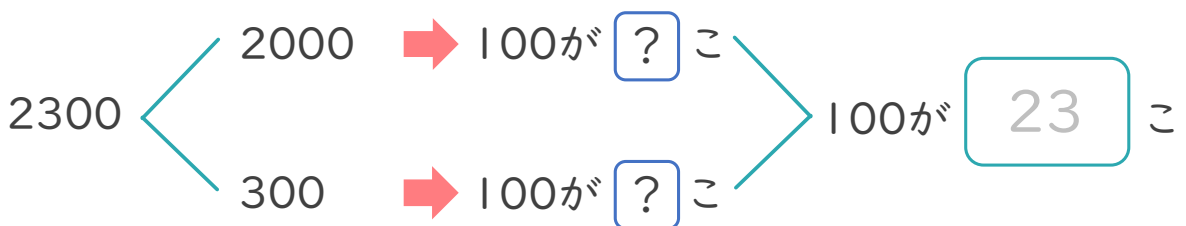
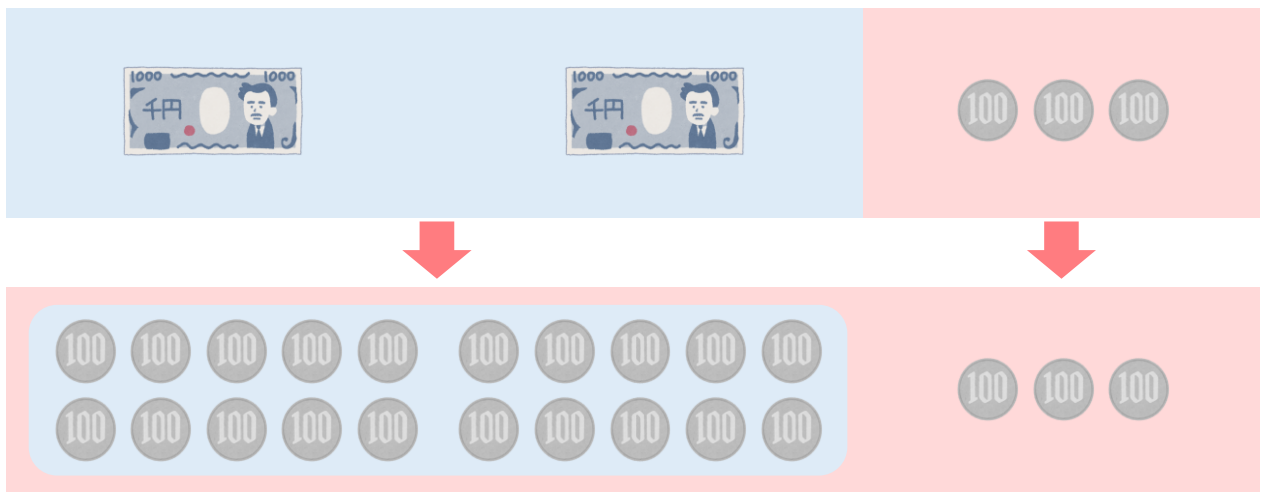
日にち： 月 日

名まえ _____

・ 1700は、100を何こあつめた数ですか。(うすい字はなぞりましょう。)



・ 2300は、100を何こあつめた数ですか。





4けたの数9

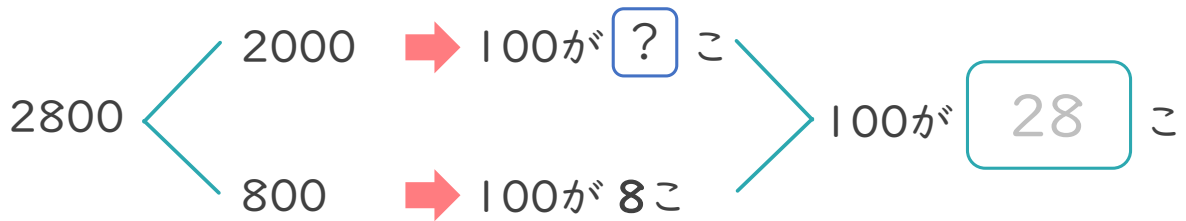
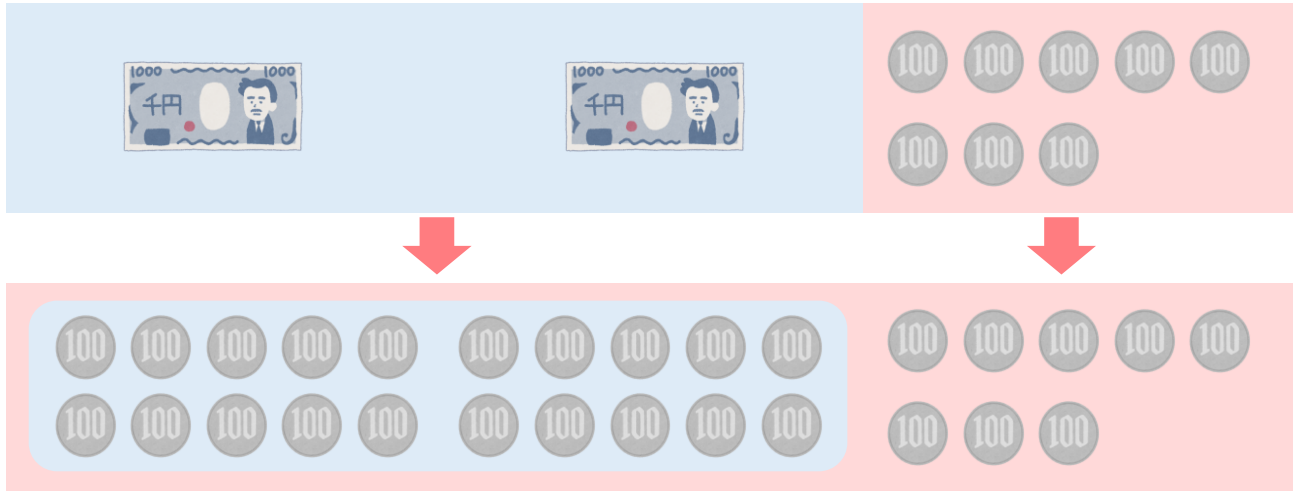
● 百を何こ
あつめた数でしょう



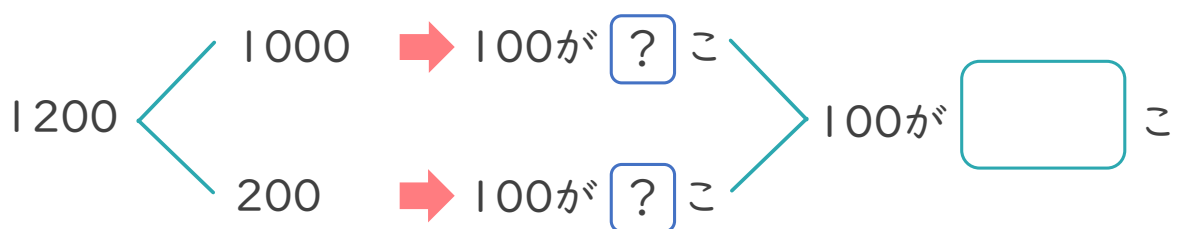
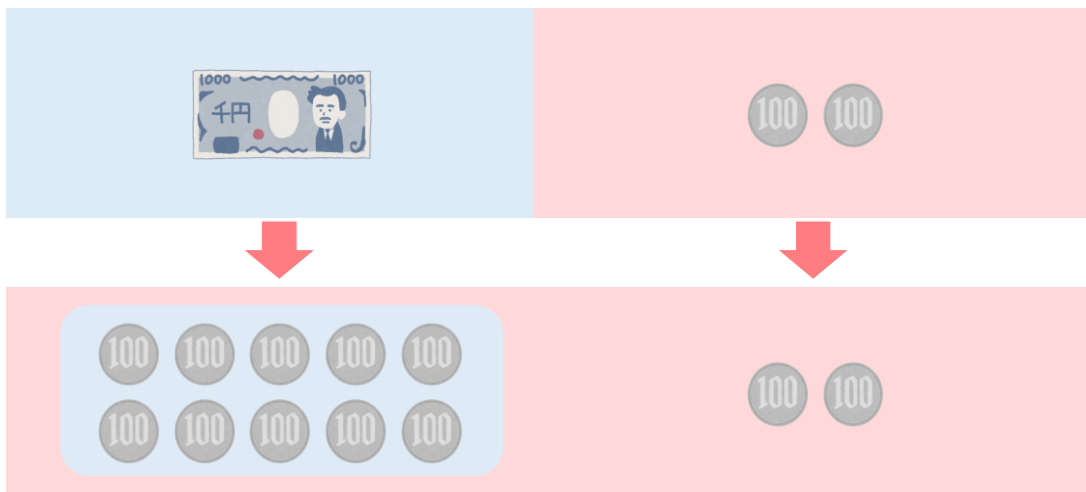
日にち： 月 日

名まえ _____

・ 2800は、100を何こあつめた数ですか。(うすい字はなぞりましょう。)



・ 1200は、100を何こあつめた数ですか。





4けたの数9

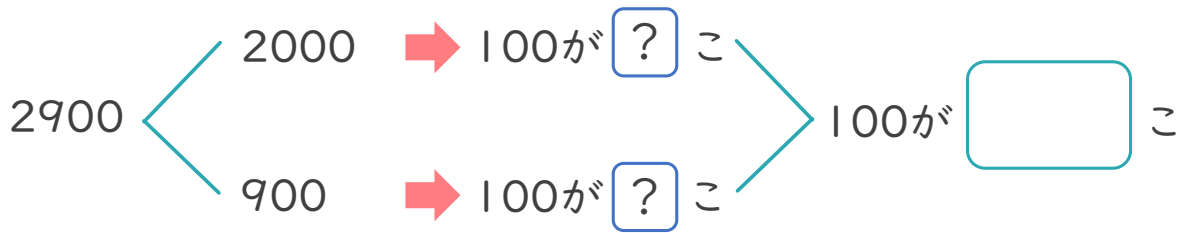
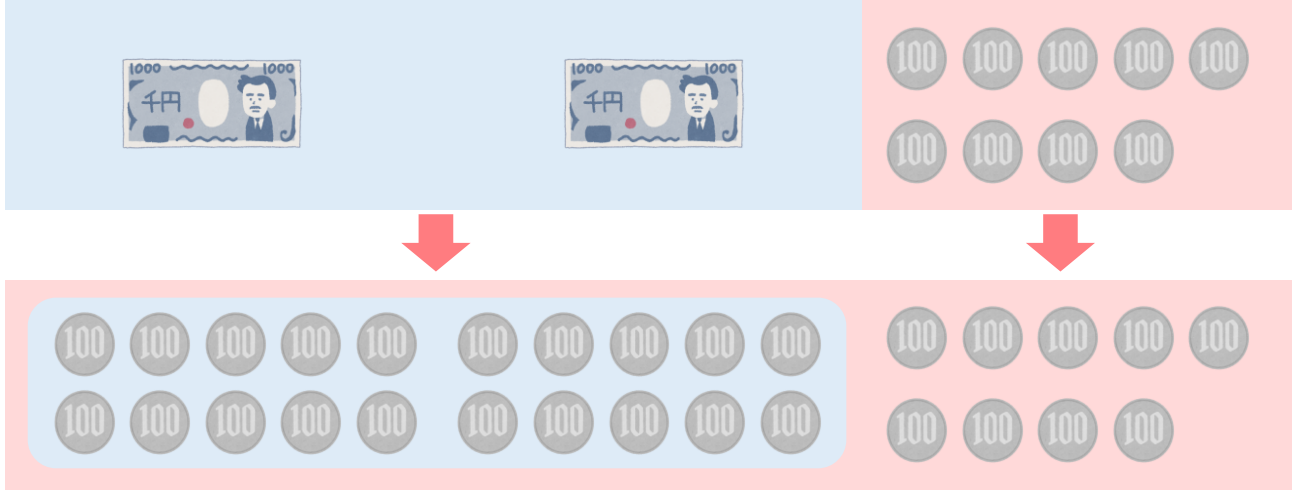
● 百を何こ
あつめた数でしょう



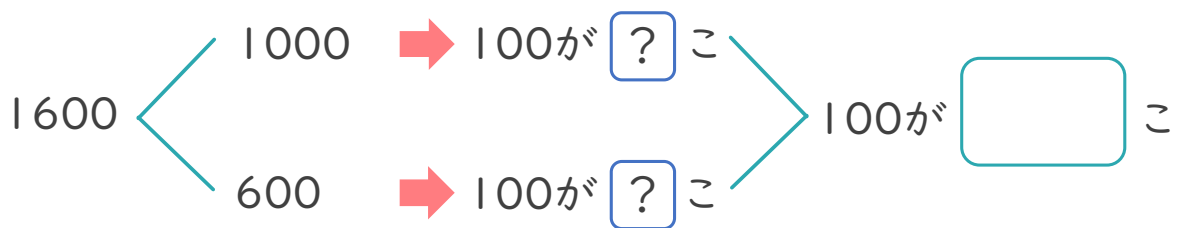
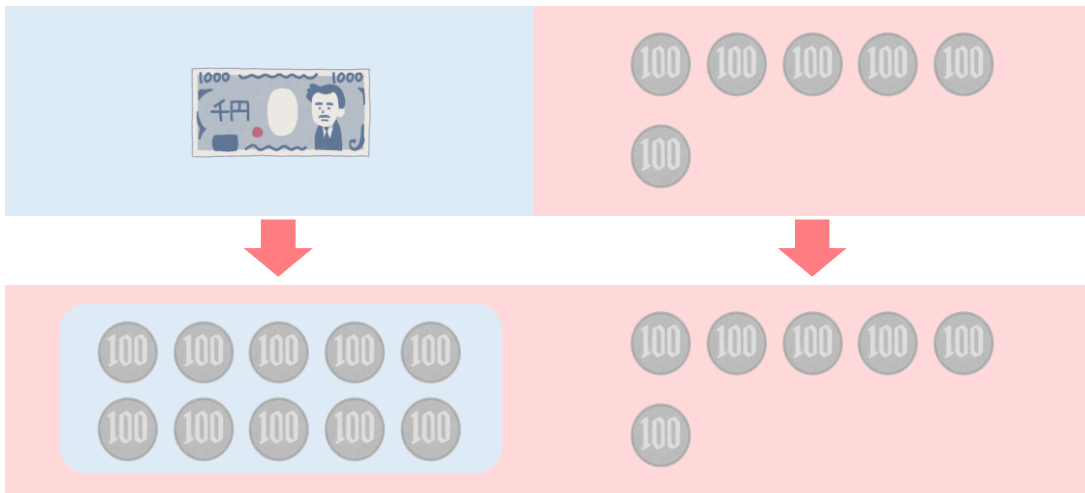
日にち： 月 日

名まえ _____

・ 2900は、100を何こあつめた数ですか。



・ 1600は、100を何こあつめた数ですか。





4けたの数9

● 百を何こ
あつめた数でしょう



日にち： 月 日

名まえ _____

・ つぎの もんだいに 答えましょう。(うすい字は なぞりましょう。)

① 1400は、100を 何こ あつめた 数ですか。

(14 こ)

② 2700は、100を 何こ あつめた 数ですか。

(27 こ)

③ 1300は、100を 何こ あつめた 数ですか。

(こ)

④ 3900は、100を 何こ あつめた 数ですか。

(こ)

⑤ 7600は、100を 何こ あつめた 数ですか。

(こ)

⑥ 4500は、100を 何こ あつめた 数ですか。

(こ)



4けたの数 9

● 百を何こ
あつめた数でしょう



日にち： 月 日

名まえ _____

・ つぎの もんだいに 答えましょう。(うすい字は なぞりましょう。)

① 9600は、100を 何こ あつめた 数ですか。

(96 こ)

② 3000は、100を 何こ あつめた 数ですか。

(こ)

③ 2200は、100を 何こ あつめた 数ですか。

(こ)

④ 1400は、100を 何こ あつめた 数ですか。

(こ)

⑤ 7100は、100を 何こ あつめた 数ですか。

(こ)

⑥ 6800は、100を 何こ あつめた 数ですか。

(こ)



4けたの数 9

● 百を何こ
あつめた数でしょう



日にち： 月 日

名まえ _____

・ つぎの もんだいに 答えましょう。

① 4000は、100を 何こ あつめた 数ですか。

(こ)

② 2400は、100を 何こ あつめた 数ですか。

(こ)

③ 9700は、100を 何こ あつめた 数ですか。

(こ)

④ 5200は、100を 何こ あつめた 数ですか。

(こ)

⑤ 7800は、100を 何こ あつめた 数ですか。

(こ)

⑥ 1600は、100を 何こ あつめた 数ですか。

(こ)



4けたの数 9

● 百を何こ
あつめた数でしょう



日にち： 月 日

名まえ _____

・ つぎの もんだいに 答えましょう。

① 5200は、100を 何こ あつめた 数ですか。

(こ)

② 1000は、100を 何こ あつめた 数ですか。

(こ)

③ 8300は、100を 何こ あつめた 数ですか。

(こ)

④ 6100は、100を 何こ あつめた 数ですか。

(こ)

⑤ 2900は、100を 何こ あつめた 数ですか。

(こ)

⑥ 3400は、100を 何こ あつめた 数ですか。

(こ)



4けたの数 9

● 百を何こ
あつめた数でしょう



日にち： 月 日

名まえ _____

・ つぎの もんだいに 答えましょう。

① 4100は、100を 何こ あつめた 数ですか。

(こ)

② 9500は、100を 何こ あつめた 数ですか。

(こ)

③ 6400は、100を 何こ あつめた 数ですか。

(こ)

④ 8900は、100を 何こ あつめた 数ですか。

(こ)

⑤ 1200は、100を 何こ あつめた 数ですか。

(こ)

⑥ 3800は、100を 何こ あつめた 数ですか。

(こ)



4けたの数9

● 百を何こ
あつめた数でしょう



日にち： 月 日

名まえ _____

・ つぎの もんだいに 答えましょう。

① 1400は、100を 何こ あつめた 数ですか。

(こ)

② 100を 21こ あつめた 数は いくつですか。

()

③ 4300は、100を 何こ あつめた 数ですか。

(こ)

④ 100を 51こ あつめた 数は いくつですか。

()

⑤ 8200は、100を 何こ あつめた 数ですか。

(こ)

⑥ 100を 29こ あつめた 数は いくつですか。

()



4けたの数9

● 百を何こ
あつめた数でしょう



日にち： 月 日

名まえ _____

・ つぎの もんだいに 答えましょう。

① 8000は、100を 何こ あつめた 数ですか。

[こ]

② 100を 12こ あつめた数は いくつですか。

[]

③ 5500は、100を 何こ あつめた 数ですか。

[こ]

④ 100を 38こ あつめた数は いくつですか。

[]

⑤ 4700は、100を 何こ あつめた 数ですか。

[こ]

⑥ 100を 29こ あつめた数は いくつですか。

[]



4けたの数9

● 百を何こ
あつめた数でしょう

12

日にち： 月 日

名まえ _____

・ つぎの もんだいに 答えましょう。

① 3400は、100を 何こ あつめた 数ですか。

(こ)

② 100を 63こ あつめた数は いくつですか。

()

③ 7200は、100を 何こ あつめた 数ですか。

(こ)

④ 100を 81こ あつめた数は いくつですか。

()

⑤ 9700は、100を 何こ あつめた 数ですか。

(こ)

⑥ 100を 46こ あつめた数は いくつですか。

()



4けたの数9

● 百を何こ
あつめた数でしょう

13

日にち： 月 日

名まえ _____

・ つぎの もんだいに 答えましょう。

① 3100は、100を 何こ あつめた 数ですか。

(こ)

② 100を 52こ あつめた数は いくつですか。

()

③ 1400は、100を 何こ あつめた 数ですか。

(こ)

④ 100を 68こ あつめた数は いくつですか。

()

⑤ 2600は、100を 何こ あつめた 数ですか。

(こ)

⑥ 100を 45こ あつめた数は いくつですか。

()



4けたの数9

● 百を何こ
あつめた数でしょう

14

日にち： 月 日

名まえ _____

・ つぎの もんだいに 答えましょう。

① 4900は、100を 何こ あつめた 数ですか。

(こ)

② 100を 23こ あつめた数は いくつですか。

()

③ 9500は、100を 何こ あつめた 数ですか。

(こ)

④ 100を 72こ あつめた数は いくつですか。

()

⑤ 1700は、100を 何こ あつめた 数ですか。

(こ)

⑥ 100を 31こ あつめた数は いくつですか。

()



4けたの数 9

● 百を何こ
あつめた数でしょう

15

目指せ80点!



名まえ

・ つぎの もんだいに 答えましょう。(各20点)

① 2500は、100を 何こ あつめた 数ですか。

(こ)

② 100を 32こ あつめた 数は いくつですか。

()

③ 5400は、100を 何こ あつめた 数ですか。

(こ)

④ 100を 67こ あつめた 数は いくつですか。

()

⑤ 1300は、100を 何こ あつめた 数ですか。

(こ)



4けたの数 9

百を何こ
あつめた数でしょう

16

目指せ80点!



名まえ

・ つぎの もんだいに 答えましょう。(各20点)

① 9100は、100を 何こ あつめた 数ですか。

(こ)

② 100を 18こ あつめた数は いくつですか。

()

③ 8600は、100を 何こ あつめた 数ですか。

(こ)

④ 100を 62こ あつめた数は いくつですか。

()

⑤ 3500は、100を 何こ あつめた 数ですか。

(こ)



4けたの数 9

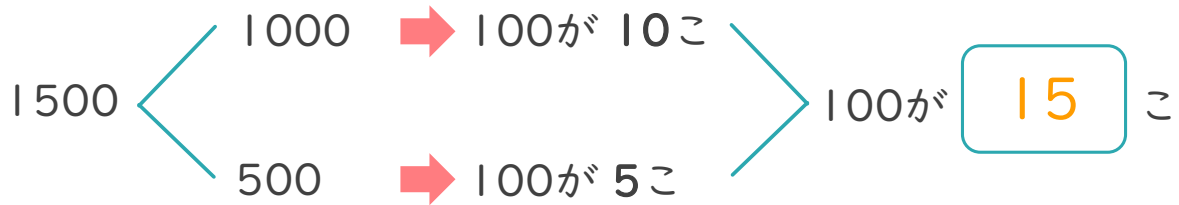
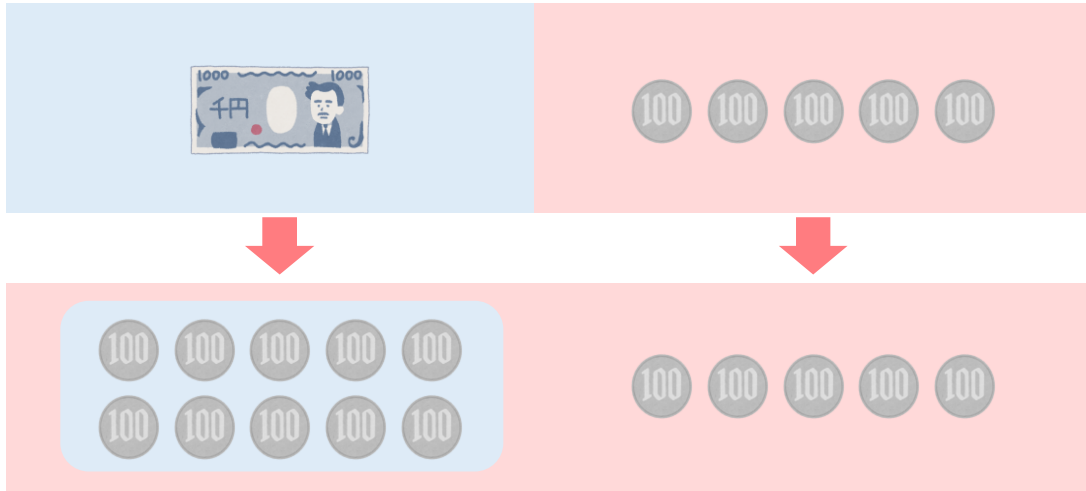
● 百を何こ
あつめた数でしょう



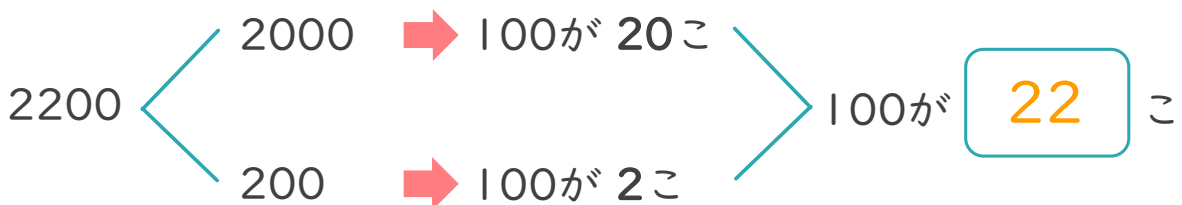
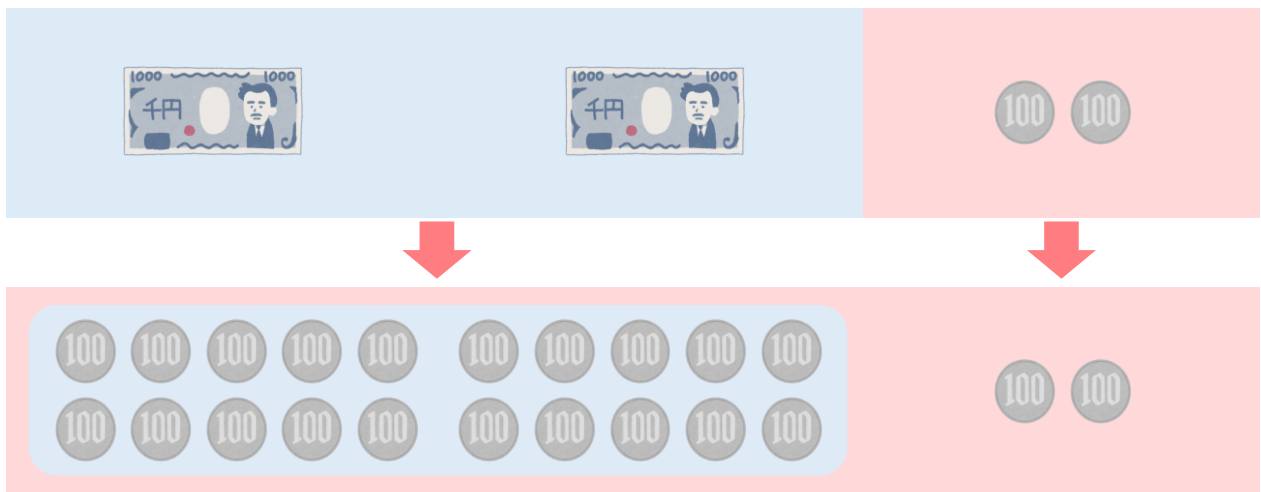
日にち： 月 日

名まえ _____

・ 1500は、100を何こあつめた数ですか。(うすい字はなぞりましょう。)



・ 2200は、100を何こあつめた数ですか。





4けたの数 9

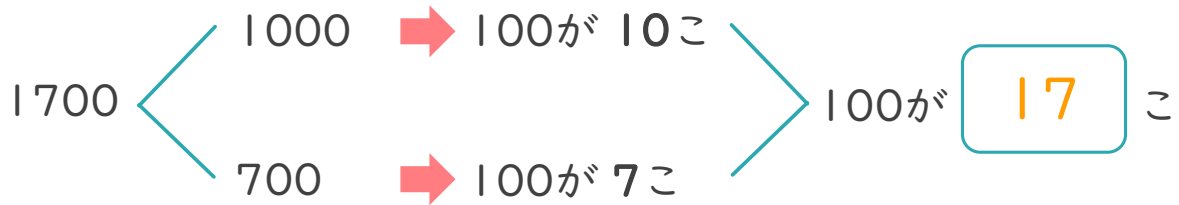
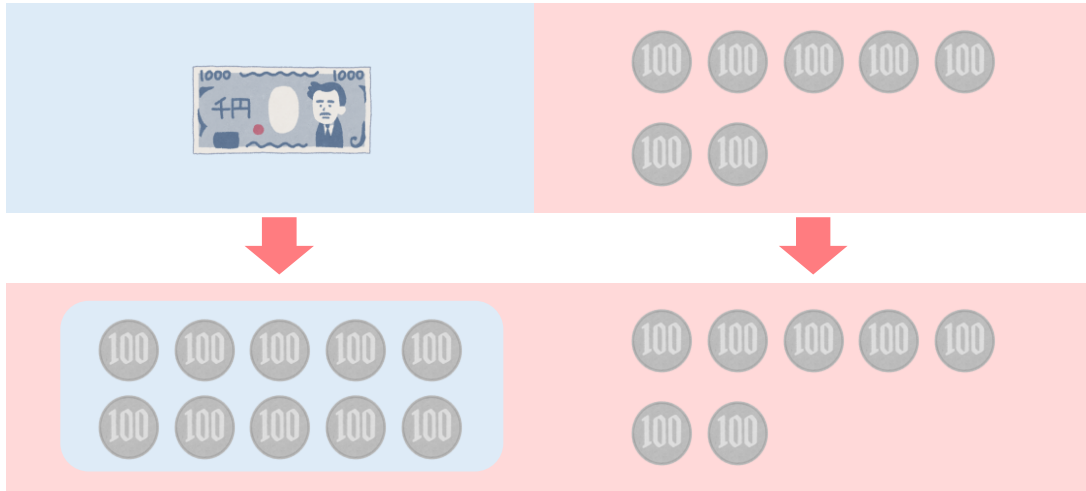
● 百を何こ
あつめた数でしょう



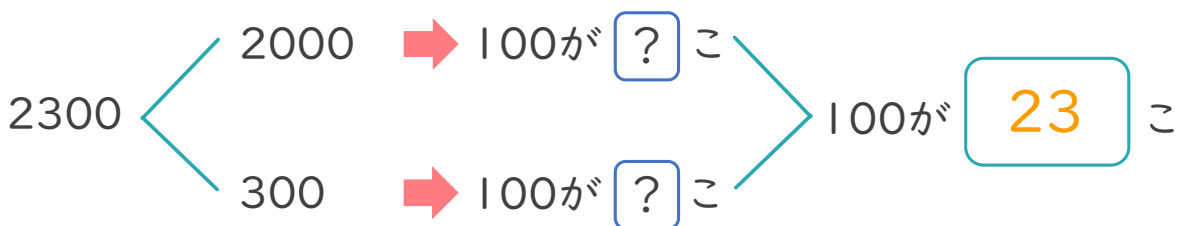
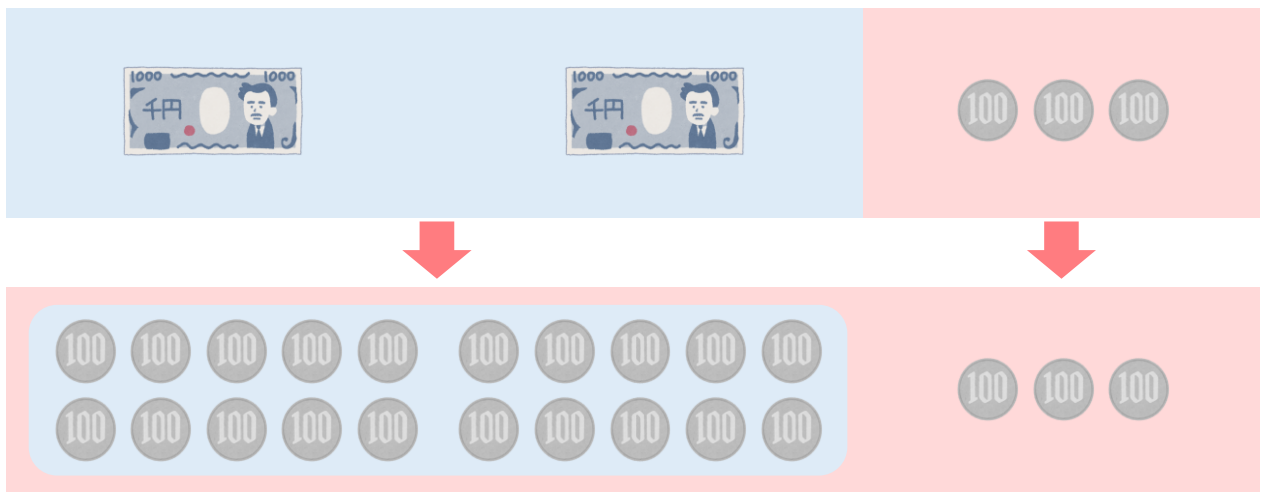
日にち： 月 日

名まえ _____

・ 1700は、100を何こあつめた数ですか。(うすい字はなぞりましょう。)



・ 2300は、100を何こあつめた数ですか。





4けたの数 9

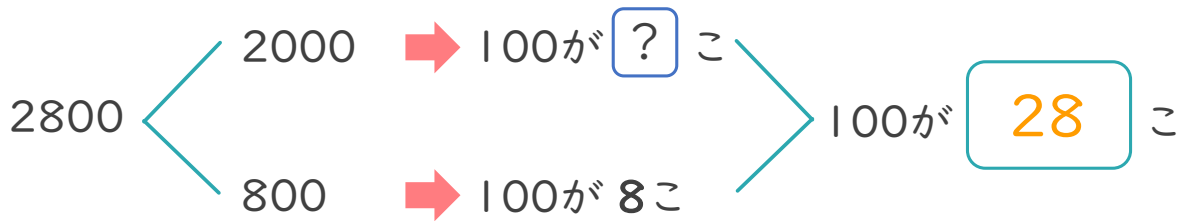
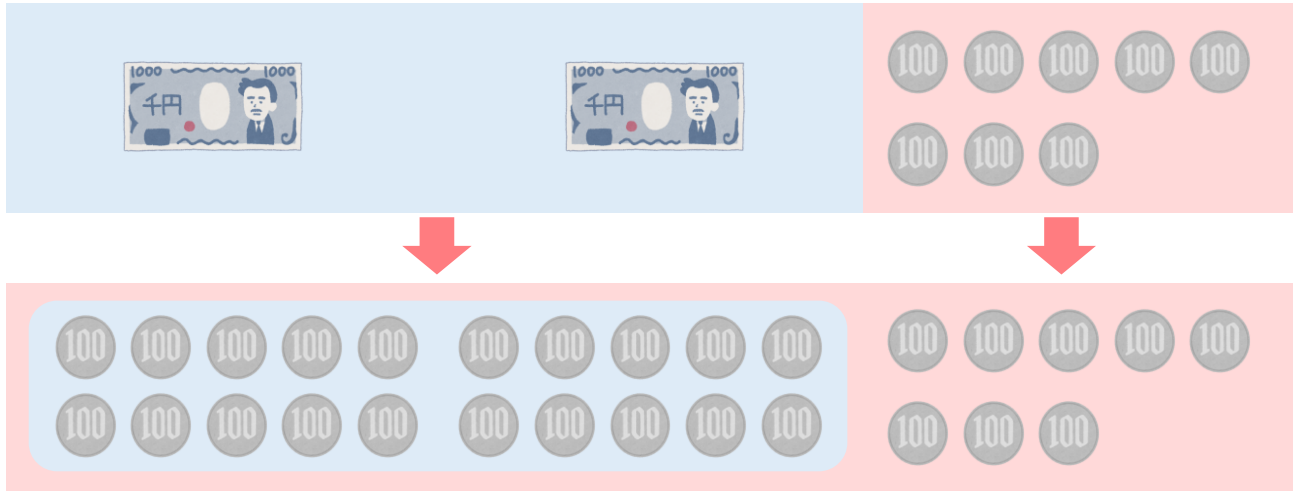
● 百を何こ
あつめた数でしょう



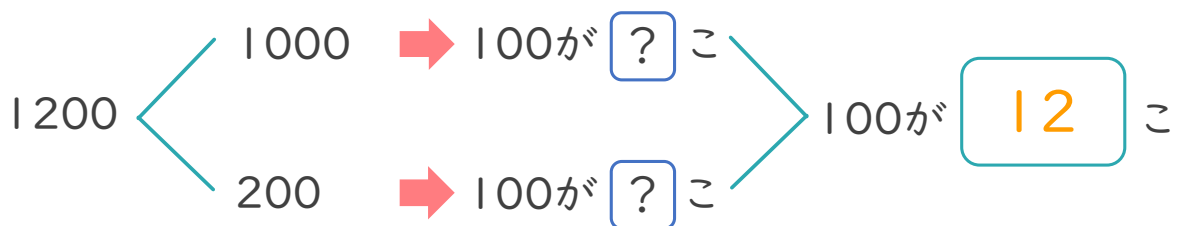
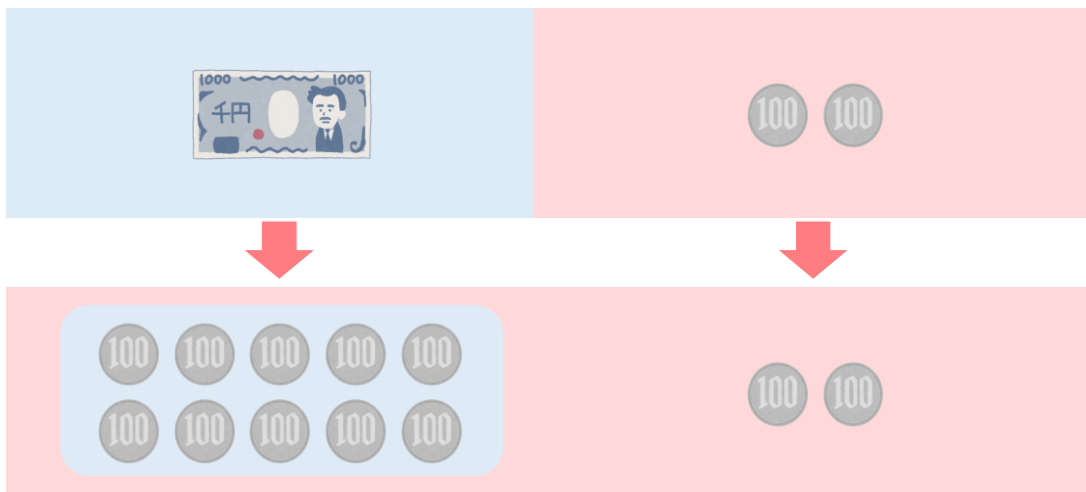
日にち： 月 日

名まえ _____

・ 2800は、100を何こあつめた数ですか。(うすい字はなぞりましょう。)



・ 1200は、100を何こあつめた数ですか。





4けたの数 9

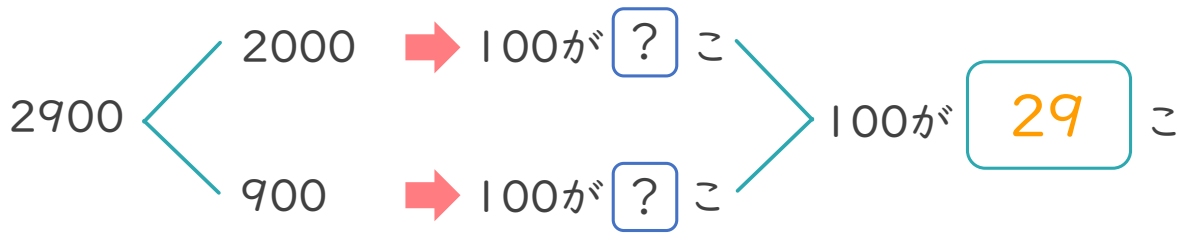
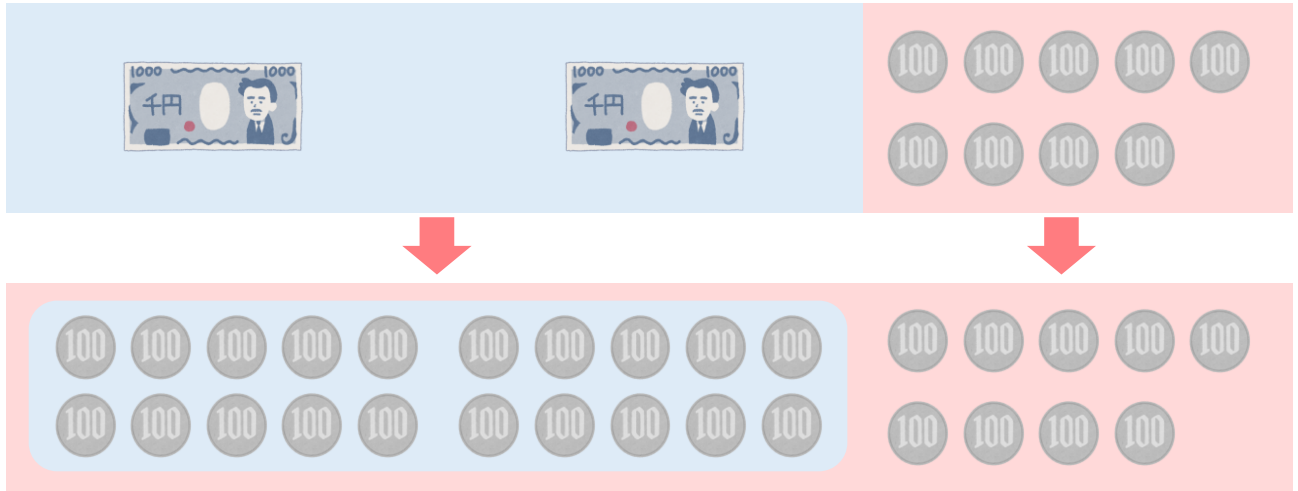
● 百を何こ
あつめた数でしょう



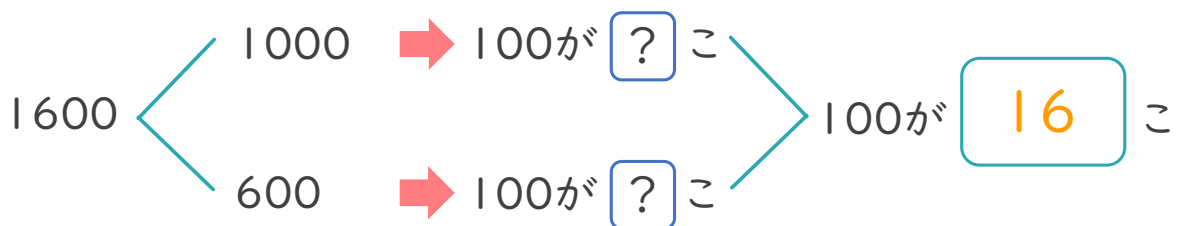
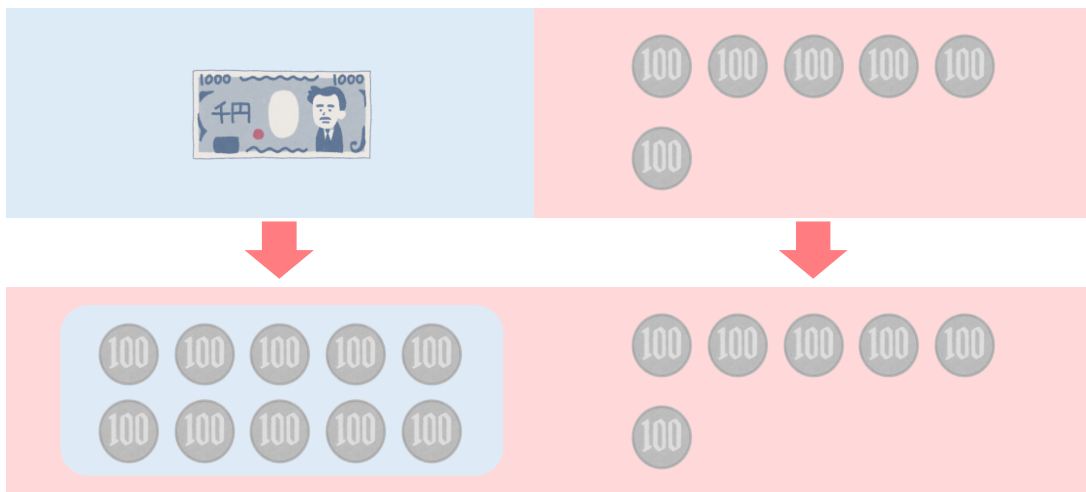
日にち： 月 日

名まえ _____

・ 2900は、100を何こあつめた数ですか。



・ 1600は、100を何こあつめた数ですか。





4けたの数 9

● 百を何こ
あつめた数でしょう



日にち： 月 日

名まえ _____

・ つぎの もんだいに 答えましょう。(うすい字は なぞりましょう。)

① 1400は、100を 何こ あつめた 数ですか。

(14 こ)

② 2700は、100を 何こ あつめた 数ですか。

(27 こ)

③ 1300は、100を 何こ あつめた 数ですか。

(13 こ)

④ 3900は、100を 何こ あつめた 数ですか。

(39 こ)

⑤ 7600は、100を 何こ あつめた 数ですか。

(76 こ)

⑥ 4500は、100を 何こ あつめた 数ですか。

(45 こ)



4けたの数 9

● 百を何こ
あつめた数でしょう



日にち： 月 日

名まえ _____

・ つぎの もんだいに 答えましょう。(うすい字は なぞりましょう。)

① 9600は、100を 何こ あつめた 数ですか。

(96 こ)

② 3000は、100を 何こ あつめた 数ですか。

(30 こ)

③ 2200は、100を 何こ あつめた 数ですか。

(22 こ)

④ 1400は、100を 何こ あつめた 数ですか。

(14 こ)

⑤ 7100は、100を 何こ あつめた 数ですか。

(71 こ)

⑥ 6800は、100を 何こ あつめた 数ですか。

(68 こ)



4けたの数 9

● 百を何こ
あつめた数でしょう



日にち： 月 日

名まえ _____

・ つぎの もんだいに 答えましょう。

① 4000は、100を 何こ あつめた 数ですか。

(40 こ)

② 2400は、100を 何こ あつめた 数ですか。

(24 こ)

③ 9700は、100を 何こ あつめた 数ですか。

(97 こ)

④ 5200は、100を 何こ あつめた 数ですか。

(52 こ)

⑤ 7800は、100を 何こ あつめた 数ですか。

(78 こ)

⑥ 1600は、100を 何こ あつめた 数ですか。

(16 こ)



4けたの数 9

● 百を何こ
あつめた数でしょう



日にち： 月 日

名まえ _____

・ つぎの もんだいに 答えましょう。

① 5200は、100を 何こ あつめた 数ですか。

(52 こ)

② 1000は、100を 何こ あつめた 数ですか。

(10 こ)

③ 8300は、100を 何こ あつめた 数ですか。

(83 こ)

④ 6100は、100を 何こ あつめた 数ですか。

(61 こ)

⑤ 2900は、100を 何こ あつめた 数ですか。

(29 こ)

⑥ 3400は、100を 何こ あつめた 数ですか。

(34 こ)



4けたの数9

● 百を何こ
あつめた数でしょう



日にち： 月 日

名まえ _____

・ つぎの もんだいに 答えましょう。

① 4100は、100を 何こ あつめた 数ですか。

(41 こ)

② 9500は、100を 何こ あつめた 数ですか。

(95 こ)

③ 6400は、100を 何こ あつめた 数ですか。

(64 こ)

④ 8900は、100を 何こ あつめた 数ですか。

(89 こ)

⑤ 1200は、100を 何こ あつめた 数ですか。

(12 こ)

⑥ 3800は、100を 何こ あつめた 数ですか。

(38 こ)



4けたの数9

● 百を何こ
あつめた数でしょう



日にち： 月 日

名まえ _____

・ つぎの もんだいに 答えましょう。

① 1400は、100を 何こ あつめた 数ですか。

(14 こ)

② 100を 21こ あつめた 数は いくつですか。

(2100)

③ 4300は、100を 何こ あつめた 数ですか。

(43 こ)

④ 100を 51こ あつめた 数は いくつですか。

(5100)

⑤ 8200は、100を 何こ あつめた 数ですか。

(82 こ)

⑥ 100を 29こ あつめた 数は いくつですか。

(2900)



4けたの数9

● 百を何こ
あつめた数でしょう



日にち： 月 日

名まえ

・ つぎの もんだいに 答えましょう。

① 8000は、100を 何こ あつめた 数ですか。

(80 こ)

② 100を 12こ あつめた数は いくつですか。

(1200)

③ 5500は、100を 何こ あつめた 数ですか。

(55 こ)

④ 100を 38こ あつめた数は いくつですか。

(3800)

⑤ 4700は、100を 何こ あつめた 数ですか。

(47 こ)

⑥ 100を 29こ あつめた数は いくつですか。

(2900)



4けたの数9

● 百を何こ
あつめた数でしょう

12

日にち： 月 日

名まえ

・ つぎの もんだいに 答えましょう。

① 3400は、100を 何こ あつめた 数ですか。

(34 こ)

② 100を 63こ あつめた数は いくつですか。

(6300)

③ 7200は、100を 何こ あつめた 数ですか。

(72 こ)

④ 100を 81こ あつめた数は いくつですか。

(8100)

⑤ 9700は、100を 何こ あつめた 数ですか。

(97 こ)

⑥ 100を 46こ あつめた数は いくつですか。

(4600)



4けたの数9

● 百を何こ
あつめた数でしょう

13

日にち： 月 日

名まえ _____

・ つぎの もんだいに 答えましょう。

① 3100は、100を 何こ あつめた 数ですか。

(31 こ)

② 100を 52こ あつめた数は いくつですか。

(5200)

③ 1400は、100を 何こ あつめた 数ですか。

(14 こ)

④ 100を 68こ あつめた数は いくつですか。

(6800)

⑤ 2600は、100を 何こ あつめた 数ですか。

(26 こ)

⑥ 100を 45こ あつめた数は いくつですか。

(4500)



4けたの数 9

● 百を何こ
あつめた数でしょう

14

日にち： 月 日

名まえ _____

・ つぎの もんだいに 答えましょう。

① 4900は、100を 何こ あつめた 数ですか。

(49 こ)

② 100を 23こ あつめた数は いくつですか。

(2300)

③ 9500は、100を 何こ あつめた 数ですか。

(95 こ)

④ 100を 72こ あつめた数は いくつですか。

(7200)

⑤ 1700は、100を 何こ あつめた 数ですか。

(17 こ)

⑥ 100を 31こ あつめた数は いくつですか。

(3100)



4けたの数9

● 百を何こ
あつめた数でしょう

15

目指せ80点!



名まえ

・ つぎの もんだいに 答えましょう。(各20点)

① 2500は、100を 何こ あつめた 数ですか。

(25 こ)

② 100を 32こ あつめた 数は いくつですか。

(3200)

③ 5400は、100を 何こ あつめた 数ですか。

(54 こ)

④ 100を 67こ あつめた 数は いくつですか。

(6700)

⑤ 1300は、100を 何こ あつめた 数ですか。

(13 こ)



4けたの数 9

● 百を何こ
あつめた数でしょう

16

目指せ80点!



名まえ

・ つぎの もんだいに 答えましょう。(各20点)

① 9100は、100を 何こ あつめた 数ですか。

(91 こ)

② 100を 18こ あつめた数は いくつですか。

(1800)

③ 8600は、100を 何こ あつめた 数ですか。

(86 こ)

④ 100を 62こ あつめた数は いくつですか。

(6200)

⑤ 3500は、100を 何こ あつめた 数ですか。

(35 こ)