



## 4けたの数 20

- 4つの数字をならべて  
4けたの数をつくろう



日にち： 月 日

名まえ \_\_\_\_\_

- 0 2 4 6 8 の5まいのカードがあります。  
このうち、4まいのカードをならべて4けたの数をつくりま  
(うすい字はなぞりましょう。)



- ① いちばん大きい数を作るにはどのカードをつかえば  
よいですか。つかう4まいのカードに○をつけましょう。



大きいじゆんに4まい  
えらぶよ!



- ② えらんだカードをつかっていちばん大きい数を作りましょう。

大きいじゆんにならべると...



( 8 6 4 2 )





## 4けたの数 20

- 4つの数字をならべて  
4けたの数をつくろう



日にち： 月 日

名まえ \_\_\_\_\_

- 0 2 4 6 8 の5まいのカードがあります。  
このうち、4まいのカードをならべて4けたの数をつくります。  
いちばん大きい4けたの数は何ですか。

(うすい字はなぞりましょう。)




大きいじゆんに4まいならべると...




[ 8 6 4 2 ]

- 0 1 2 5 7 の5まいのカードがあります。  
このうち、4まいのカードをならべて4けたの数をつくります。  
いちばん大きい4けたの数は何ですか。



[ ]



## 4けたの数 20

- 4つの数字をならべて  
4けたの数をつくろう



日にち： 月 日

名まえ \_\_\_\_\_

- 0 3 4 5 7 の5まいのカードがあります。  
このうち、4まいのカードをならべて4けたの数をつくります。  
いちばん大きい4けたの数は何ですか。




大きいじゆんに4まいならべると...



( )

- 2 3 5 8 9 の5まいのカードがあります。  
このうち、4まいのカードをならべて4けたの数をつくります。  
いちばん大きい4けたの数は何ですか。



( )



## 4けたの数 20

- 4つの数字をならべて  
4けたの数をつくろう



日にち： 月 日

名まえ \_\_\_\_\_

- ・ 

0	2	4	6	8
---	---	---	---	---

 の5まいのカードがあります。  
このうち、4まいのカードをならべて4けたの数をつくります。  
(うすい字はなぞりましょう。)



- ① いちばん大きい数を作るにはどのカードをつかえばよいですか。つかう4まいのカードに○をつけましょう。



大きいじゆんに4まいえらぶよ!



- ② えらんだカードをつかっていちばん大きい数を作りましょう。

大きいじゆんにならべると...



〔 8 6 4 2 〕



## 4けたの数 20

● 4つの数字をならべて  
4けたの数をつくろう



日にち： 月 日

名まえ \_\_\_\_\_

- ・ 

1	2	5	7	9
---	---	---	---	---

 の5まいのカードがあります。  
このうち、4まいのカードをならべて4けたの数をつくりま  
(うすい字はなぞりましょう。)



- ① いちばん大きい数を作るにはどのカードをつかえば  
よいですか。つかう4まいのカードに○をつけましょう。



大きいじゆんに4まい  
えらぶよ!



- ② えらんだカードをつかっていちばん大きい数を作りましょう。

大きいじゆんにならべると...



〔 9 7 5 2 〕



## 4けたの数 20

- 4つの数字をならべて  
4けたの数をつくろう



日にち： 月 日

名まえ \_\_\_\_\_

- ・ 

0	2	4	6	8
---	---	---	---	---

 の5まいのカードがあります。  
このうち、4まいのカードをならべて4けたの数をつくります。  
いちばん大きい4けたの数は何ですか。

(うすい字はなぞりましょう。)



大きいじゆんに4まいならべると...




〔 8 6 4 2 〕

- ・ 

0	1	2	5	7
---	---	---	---	---

 の5まいのカードがあります。  
このうち、4まいのカードをならべて4けたの数をつくります。  
いちばん大きい4けたの数は何ですか。



〔 7 5 2 1 〕



## 4けたの数 20

- 4つの数字をならべて  
4けたの数をつくろう



日にち： 月 日

名まえ \_\_\_\_\_

- 0 3 4 5 7 の5まいのカードがあります。  
このうち、4まいのカードをならべて4けたの数をつくりま  
す。  
いちばん大きい4けたの数は何ですか。




大きいじゆんに4まいならべると...



( 7 5 4 3 )

- 2 3 5 8 9 の5まいのカードがあります。  
このうち、4まいのカードをならべて4けたの数をつくりま  
す。  
いちばん大きい4けたの数は何ですか。



( 9 8 5 3 )