



3けたの数 10

● いくつずつ
増えているかな (数直線)

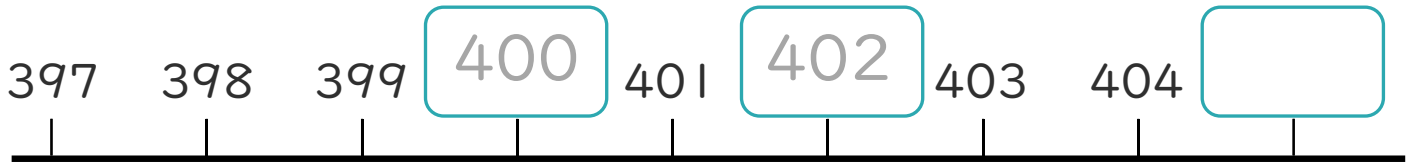


日にち： 月 日

名まえ _____

・ □ にあう数をかきましょう。(うすい字はなぞりましょう。)

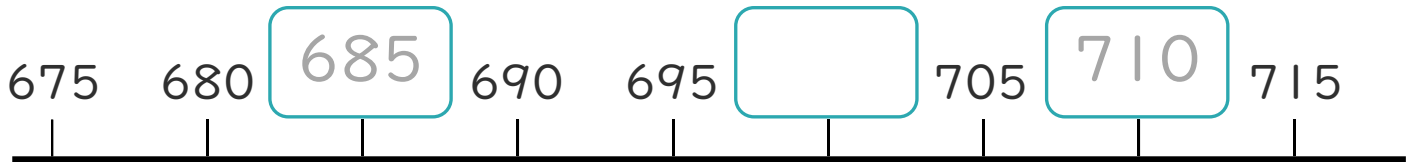
①



1ずつふえているね!



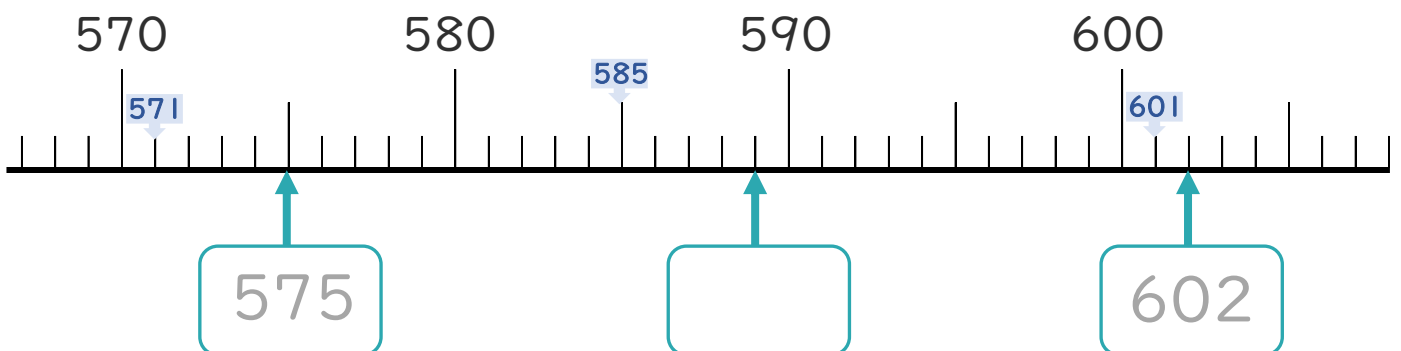
②



5ずつふえているね!



③





3けたの数 10

● いくつずつ
増えているかな (数直線)



日にち： 月 日

名まえ _____

・ □ にあう数をかきましょう。(うすい字はなぞりましょう。)


①



1ずつふえているね!



②



5ずつふえているね!



③

