



# かけ算 I

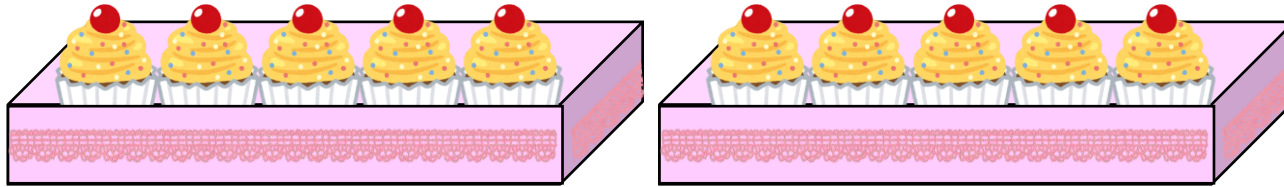
◎ かけ算ってなに？



日にち：            月            日

名まえ \_\_\_\_\_

・下のケーキの数を求めます。（うすい字はなぞりましょう）




① ケーキは1はこに何こずつ入っていますか。 答え： 5こ

② はこは何はこありますか。 答え： 2はこ

③ ぜんぶのケーキの数を求めるかけ算のしきを書きましょう。

しき：  $5 \times 2$

1つ分の数                      いくつ分



1つ分の数 と

いくつ分 が

わかるとぜんぶの

数をもとめるしきを

つくれるよ！

④ ケーキはぜんぶで何こありますか。 答え： 10こ





# かけ算 ①

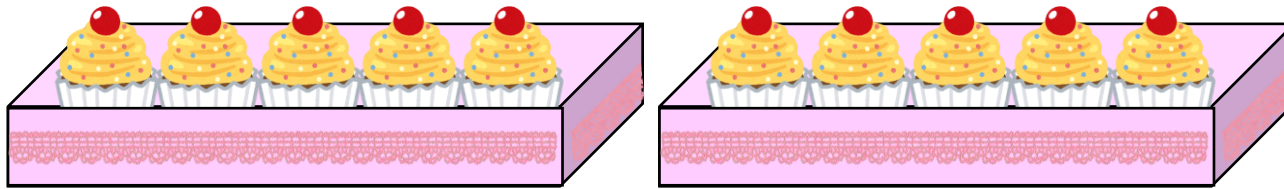
◎ かけ算ってなに？



日にち：            月            日

名まえ \_\_\_\_\_

・ 下の ケーキの 数をもとめます。(うすい字はなぞりましょう)



① ケーキは1はこに何こずつ入っていますか。 答え：5こ


② はこは何はこありますか。 答え：2はこ

③ ぜんぶのケーキの数を求めるかけ算のしきを書きましょう。

しき： $5 \times 2$

かける

1つ分の数                      いくつ分



1つ分の数 と

いくつ分 が

わかるとぜんぶの

数をもとめるしきを

つくれるよ！

④ ケーキはぜんぶで何こありますか。 答え：10こ

