



かけ算 3

● かけ算のしきを作ろう




日にち： 月 日

名まえ _____

・ かけ算のしきに書きましょう。(うすい字はなぞりましょう)

①

3本



の 6つ分

しき： ×

文しょうの中から

と

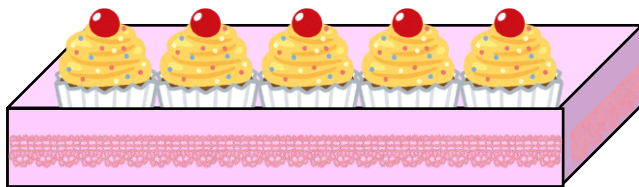
を

みつけよう



②

5こ



の

8つ分のことを

というよ

しき： ×





かけ算 3

● かけ算のしきを作ろう




日にち： 月 日

名まえ _____

・ かけ算のしきに書きましょう。(うすい字はなぞりましょう)

①

3本



の 6つ分

しき： 3×6

文しょうの中から

1つ分の数 と

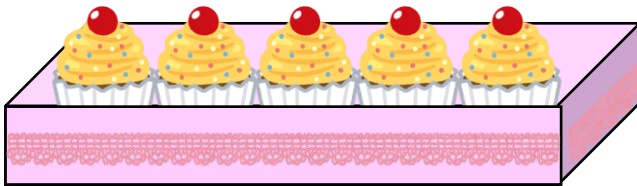
いくつ分 を

みつけよう



②

5こ



の 8ばい

8つ分のことを

8ばい というよ

しき： 5×8

