



かけ算 29



くふうして丸を数えよう



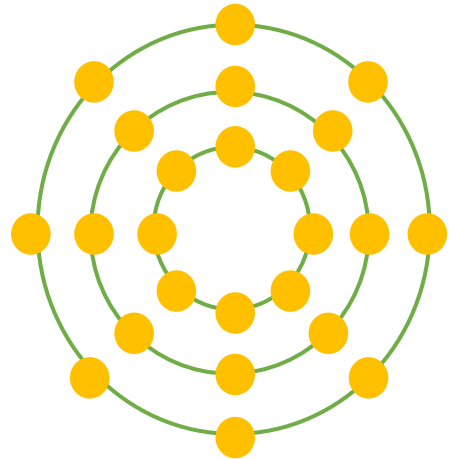
日にち： 月 日

名まえ _____

- はぜんぶで何こありますか。 ● の数をもとめるかけ算のしきを2つ書いて答えましょう。(うすい字はなぞりましょう)



しき： $3 \times 8 = 24$



しき： $8 \times 3 =$

答え： _____



かけ算 29



くふうして丸を数えよう



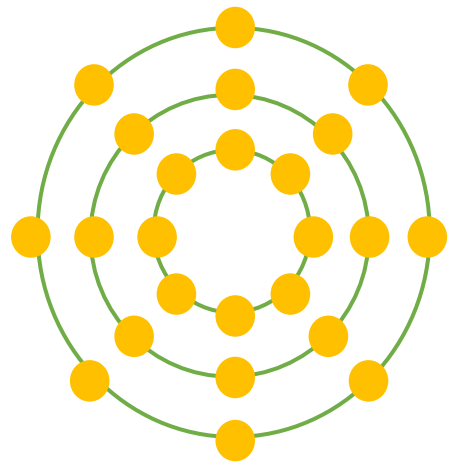
日にち： 月 日

名まえ _____

- はぜんぶで何こありますか。● の数をもとめるかけ算のしきを2つ書いて答えましょう。(うすい字はなぞりましょう)



$$\text{しき： } 3 \times 8 = 24$$



$$\text{しき： } 8 \times 3 = 24$$

答え： 24こ