



計算のくふう⑦

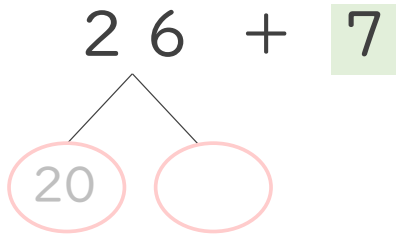
● たし算のくふう
(何十といくつに分ける)



日にち： 月 日

名まえ _____

・ 26 + 7 の計算をしましょう。(うすい字はなぞりましょう。)



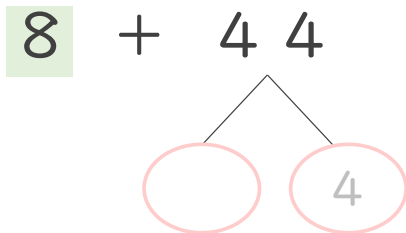
① 26 は 20 と 6

② 6 と 7 で 13

③ 20 と 13 で

答え

・ 8 + 44 の計算をしましょう。(うすい字はなぞりましょう。)



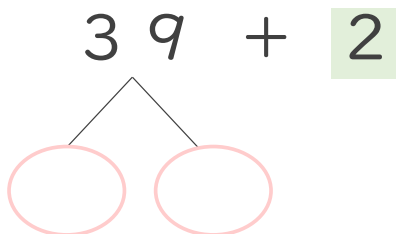
① 44 は 40 と 4

② 8 と 4 で 12

③ 40 と 12 で

答え

・ 39 + 2 の計算をしましょう。(うすい字はなぞりましょう。)



① 39 は 30 と 9

② 9 と 2 で

③ 30 と で

答え



計算のくふう⑦

● たし算のくふう
(何十といくつに分ける)



日にち： 月 日

名まえ _____

- ・ $26 + 7$ の計算をしましょう。(うすい字はなぞりましょう。)

$$\begin{array}{r} 26 + 7 \\ \swarrow \searrow \\ 20 \quad 6 \end{array}$$

① 26 は 20 と 6

② 6 と 7 で 13

③ 20 と 13 で 33

答え

- ・ $8 + 44$ の計算をしましょう。(うすい字はなぞりましょう。)

$$\begin{array}{r} 8 + 44 \\ \swarrow \searrow \\ 40 \quad 4 \end{array}$$

① 44 は 40 と 4

② 8 と 4 で 12

③ 40 と 12 で 52

答え

- ・ $39 + 2$ の計算をしましょう。(うすい字はなぞりましょう。)

$$\begin{array}{r} 39 + 2 \\ \swarrow \searrow \\ 30 \quad 9 \end{array}$$

① 39 は 30 と 9

② 9 と 2 で 11

③ 30 と 11 で 41

答え