



# 計算のくふう⑦

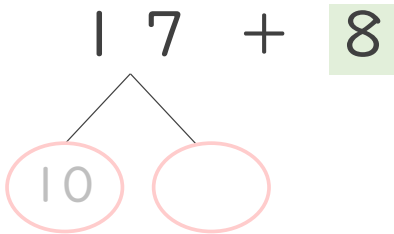
● たし算のくふう  
(何十といくつに分ける)



日にち： 月 日

名まえ \_\_\_\_\_

・  $17 + 8$  の計算をしましょう。(うすい字はなぞりましょう。)



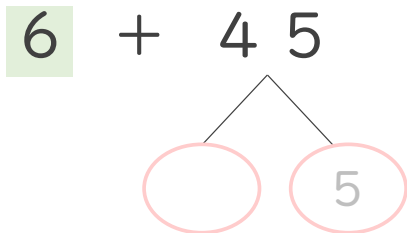
① 17 は 10 と 7

② 7 と 8 で 15

③ 10 と 15 で

答え

・  $6 + 45$  の計算をしましょう。(うすい字はなぞりましょう。)



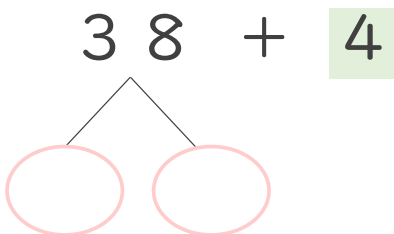
① 45 は 40 と 5

② 6 と 5 で 11

③ 40 と 11 で

答え

・  $38 + 4$  の計算をしましょう。(うすい字はなぞりましょう。)




① 38 は 30 と 8

② 8 と 4 で

③ 30 と  で

答え



## 計算のくふう⑦

◎ たし算のくふう  
(何十といくつに分ける)



日にち： 月 日

名まえ \_\_\_\_\_

- ・  $17 + 8$  の計算をしましょう。(うすい字はなぞりましょう。)

$$\begin{array}{r} 17 + 8 \\ \swarrow \searrow \\ 10 \quad 7 \end{array}$$

①  $17$  は  $10$  と  $7$

②  $7$  と  $8$  で  $15$

③  $10$  と  $15$  で  $25$

答え

- ・  $6 + 45$  の計算をしましょう。(うすい字はなぞりましょう。)

$$\begin{array}{r} 6 + 45 \\ \swarrow \searrow \\ 40 \quad 5 \end{array}$$

①  $45$  は  $40$  と  $5$

②  $6$  と  $5$  で  $11$

③  $40$  と  $11$  で  $51$

答え

- ・  $38 + 4$  の計算をしましょう。(うすい字はなぞりましょう。)

$$\begin{array}{r} 38 + 4 \\ \swarrow \searrow \\ 30 \quad 8 \end{array}$$

①  $38$  は  $30$  と  $8$

②  $8$  と  $4$  で  $12$

③  $30$  と  $12$  で  $42$

答え