



水のかさ 14

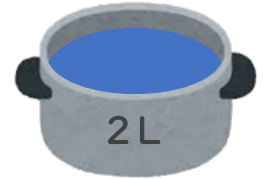
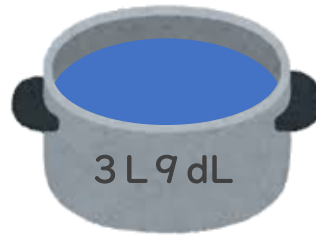
◎ たし算ひき算の
ぶんしょうだい



日にち： 月 日

名まえ _____

- 1 水が 3L9dL 入ったなべと、2L 入ったなべがあります。
つぎのもんだいに ^{こた} 答えましょう。(うすい字はなぞりましょう。)



- ① あわせてどれだけですか。

$$\text{しき： } 3\text{L}9\text{dL} + 2\text{L} = 5\text{L}9\text{dL}$$

^{こた} 答え (5L9dL)

- ② ちがいはどれだけですか。

$$\text{しき： } 3\text{L}9\text{dL} - 2\text{L} = 1\text{L}9\text{dL}$$

^{こた} 答え (1L9dL)

- 2 水が 1L6dL 入ったなべと、2dL 入ったなべがあります。
あわせてどれだけですか。(うすい字はなぞりましょう。)

$$\text{しき： } 1\text{L}6\text{dL} + 2\text{dL} = \quad \text{L} \quad \text{dL}$$

^{こた} 答え (\quad \text{L} \quad \text{dL})



水のかさ 14

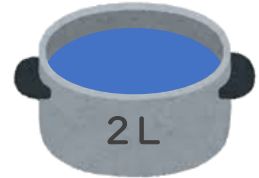
◎ たし算ひき算の
ぶんしょうだい



日にち： 月 日

名まえ _____

- 1 水が 3L9dL 入ったなべと、2L 入ったなべがあります。
つぎのもんだいに ^{こた} 答えましょう。(うすい字はなぞりましょう。)



- ① あわせてどれだけですか。

$$\text{しき： } 3\text{L}9\text{dL} + 2\text{L} = 5\text{L}9\text{dL}$$

^{こた} 答え (5L9dL)

- ② ちがいはどれだけですか。

$$\text{しき： } 3\text{L}9\text{dL} - 2\text{L} = 1\text{L}9\text{dL}$$

^{こた} 答え (1L9dL)

- 2 水が 1L6dL 入ったなべと、2dL 入ったなべがあります。
あわせてどれだけですか。(うすい字はなぞりましょう。)

$$\text{しき： } 1\text{L}6\text{dL} + 2\text{dL} = 1\text{L}8\text{dL}$$

^{こた} 答え (1L8dL)