



## かけ算 25

● かけ算で  
つみきの数をもとめる

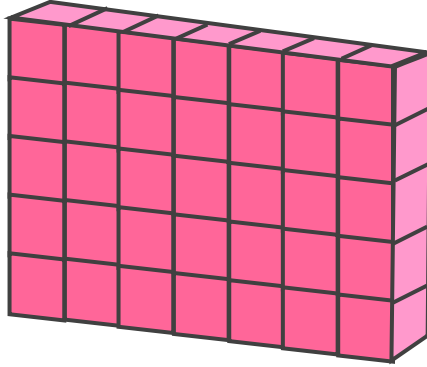


日にち：            月            日

名まえ \_\_\_\_\_


- 下の つみきの 数をもとめる かけ算の しきを 2つ 書きましょう。  
(うすい字はなぞりましょう)

①



しき：( 5 × 7 ) ( 7 × 5 )

②



しき：(            ) (            )





## かけ算 25

● かけ算で  
つみきの数をもとめる

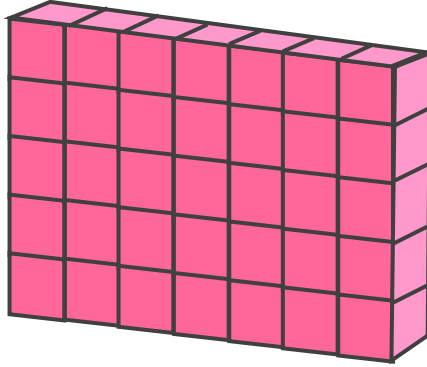


日にち：            月            日

名まえ \_\_\_\_\_


- ・ 下の つみきの 数をもとめる かけ算の しきを 2つ 書きましょう。  
(うすい字はなぞりましょう)

①



しき： ( **5 × 7** ) ( **7 × 5** )

②



しき： ( **4 × 2** ) ( **2 × 4** )

