



計算のくふう⑨

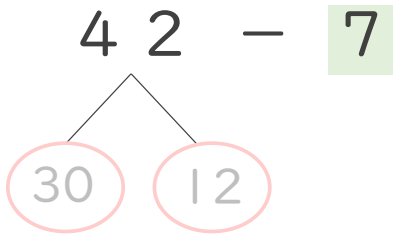
◎ ひき算のくふう
(何十といくつに分ける)



日にち： 月 日

名まえ _____

・ $42 - 7$ の計算をしましょう。(うすい字はなぞりましょう。)

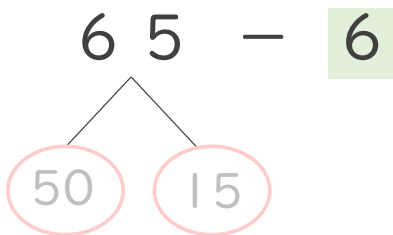


① 42 は 30 と 12

② $12 - 7 = 5$

③ 30 と 5 で 答え
 35

・ $65 - 6$ の計算をしましょう。

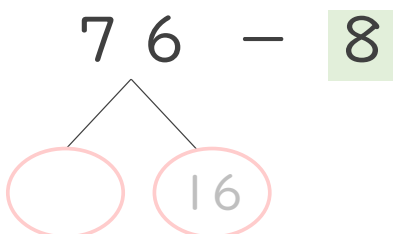


① 65 は 50 と 15

② $15 - 6 = 9$

③ 50 と で 答え

・ $76 - 8$ の計算をしましょう。



① 76 は 60 と 16

② $16 - 8 = \quad$

③ 60 と で 答え





計算のくふう⑨

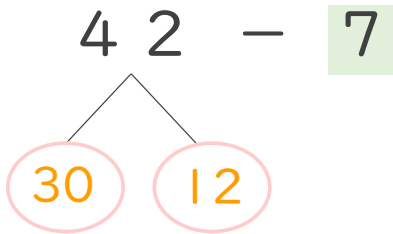
◎ ひき算のくふう
(何十といくつに分ける)



日にち： 月 日

名まえ _____

・ $42 - 7$ の計算をしましょう。(うすい字はなぞりましょう。)

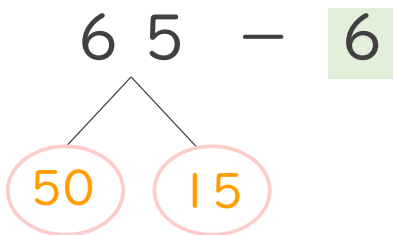


① 42 は 30 と 12

② $12 - 7 = 5$

③ 30 と 5 で 35
答え

・ $65 - 6$ の計算をしましょう。

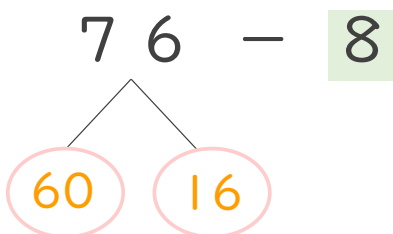


① 65 は 50 と 15

② $15 - 6 = 9$

③ 50 と 9 で 59
答え

・ $76 - 8$ の計算をしましょう。



① 76 は 60 と 16

② $16 - 8 = 8$

③ 60 と 8 で 68
答え

