



# 計算のくふう⑨

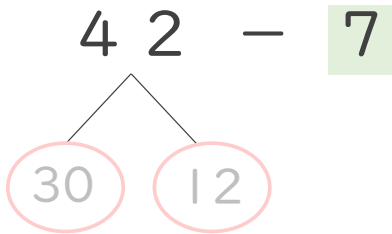
◎ ひき算のくふう  
(何十といくつに分ける)



日にち： 月 日

名まえ \_\_\_\_\_

・  $42 - 7$  の計算をしましょう。(うすい字はなぞりましょう。)

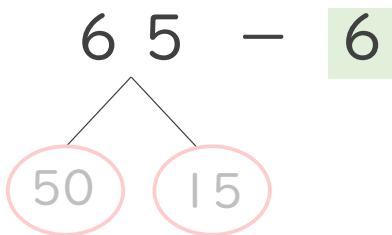


①  $42$  は  $30$  と  $12$

②  $12 - 7 = 5$

③  $30$  と  $5$  で 35 答え

・  $65 - 6$  の計算をしましょう。

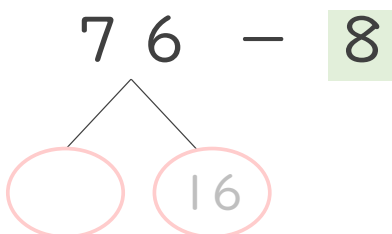


①  $65$  は  $50$  と  $15$

②  $15 - 6 = 9$

③  $50$  と    で    答え

・  $76 - 8$  の計算をしましょう。



①  $76$  は  $60$  と  $16$

②  $16 - 8 =$    

③  $60$  と    で    答え



# 計算のくふう⑨

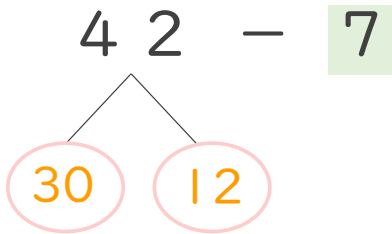
◎ ひき算のくふう  
(何十といくつに分ける)



日にち： 月 日

名まえ \_\_\_\_\_

・  $42 - 7$  の計算をしましょう。(うすい字はなぞりましょう。)

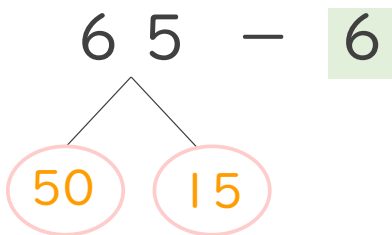


①  $42$  は  $30$  と  $12$

②  $12 - 7 = 5$

③  $30$  と  $5$  で  $35$   
答え

・  $65 - 6$  の計算をしましょう。

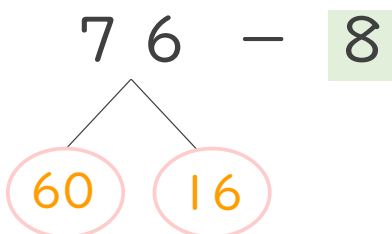


①  $65$  は  $50$  と  $15$

②  $15 - 6 = 9$

③  $50$  と  $9$  で  $59$   
答え

・  $76 - 8$  の計算をしましょう。



①  $76$  は  $60$  と  $16$

②  $16 - 8 = 8$

③  $60$  と  $8$  で  $68$   
答え

